

# KPSS

## LİSE - ÖNLİSANS

### 2024

Tamamı  
Karekod  
ÇÖZÜMLÜ

# 41

## DENEME SINAVI

- Türkçe 11 Deneme
- Matematik 21 Deneme
- Tarih 41 Deneme
- Coğrafya 41 Deneme
- Vatandaşlık 41 Deneme



Karekod  
Çözümü



**KPSS**  
**GENEL KÜLTÜR - GENEL YETENEK**

**41 DENEME SINAVI**

**EDİTÖR**

Turgut MEŞE

**YAZAR**

Komisyon

©

Bu kitabın tüm hakları DATA Yayınları'na aittir.  
Yayıncının izni olmaksızın, kitabın tümünün veya bir kısmının elektronik, mekanik ya da fotokopi yoluyla basımı, çoğaltılması ve dağıtımı yapılamaz.

**BU KİTAP T.C. KÜLTÜR BAKANLIĞI'NIN BANDROLÜ İLE SATILMAKTADIR.**

**SERTİFİKA NO**

40447

**SAYFA TASARIMI**

DATA Dizgi Ekibi

**KAPAK TASARIMI**

DATA Grafik Ekibi

**BASKI VE CİLT**

Data Dijital



**İLETİŞİM**

İvedik Organize Sanayi Matbaacılar Sitesi  
1518 Sok. Mat-Sit İş Merkezi No:2/20  
Yenimahalle / ANKARA  
Tel: 0 312 384 20 33 - 0 505 925 57 81  
Fax: 0312 342 23 58  
web: www.datayayinlari.com  
e-mail: bilgi@datayayinlari.com

**TAKDİM**

KPSS hazırlık sürecinde başarılı olma kararını vermiş adaylara yeni ve çok etkili bir kaynak sunuyoruz. 41 Deneme kitabı genel kültür ve genel yetenek alanlarında en seçkin sorulardan oluşturulmuş ÖSYM'nin son değişikliklerine uygun zengin bir kaynaktır. Orijinal ve sınav formatına yakın soru sıkıntısı elinizdeki bu kitapla sona erecektir. 41 Deneme kitabı Tarih, Coğrafya ve Anayasa bölümlerinin her birinden 41, Türkçeden 11, Matematikten ise 21 deneme sınavı şeklinde dizayn edilmiştir. Matematik denemeleri diğer alanlardan farklı olarak çözümlü sorulardan oluşturulmuştur. Bu tercihimizde, sayısal yeteneği sınırlı olan adaylarımızın mümkün olduğu kadar deneyim kazanması temel amaç olmuştur.

41 Deneme kitabının her bölümü kendi alanında uzman eğitimciler tarafından hazırlanmıştır.

Birleştirilmiş bir deneme serisi olan bu kitap, kendi alanında en etkili, en verimli eserler arasındadır.

Elinizdeki kitap, sınav maratonunda çabalarınızı ve bilgilerinizi başarıya taşımanızı sağlayacaktır.

Kararlarınızı başarıya çevirmesi dileğiyle...

**Tüm adaylarımıza başarılar dileriz.**

**DATA YAYINLARI**

Web: www.datayayinlari.com

e-mail: bilgi@datayayinlari.com

## İÇİNDEKİLER

## TÜRKÇE

1. DENEME SINAVI.....	7
2. DENEME SINAVI.....	14
3. DENEME SINAVI.....	21
4. DENEME SINAVI.....	29
5. DENEME SINAVI.....	36
6. DENEME SINAVI.....	43
7. DENEME SINAVI.....	50
8. DENEME SINAVI.....	57
9. DENEME SINAVI.....	64
10. DENEME SINAVI.....	71
11. DENEME SINAVI.....	78

## MATEMATİK

1. DENEME SINAVI.....	87
2. DENEME SINAVI.....	92
3. DENEME SINAVI.....	96
4. DENEME SINAVI.....	100
5. DENEME SINAVI.....	104
6. DENEME SINAVI.....	108
7. DENEME SINAVI.....	113
8. DENEME SINAVI.....	117
9. DENEME SINAVI.....	121
10. DENEME SINAVI.....	125
11. DENEME SINAVI.....	129
12. DENEME SINAVI.....	134
13. DENEME SINAVI.....	139
14. DENEME SINAVI.....	144
15. DENEME SINAVI.....	148
16. DENEME SINAVI.....	152
17. DENEME SINAVI.....	156
18. DENEME SINAVI.....	160
19. DENEME SINAVI.....	164
20. DENEME SINAVI.....	168
21. DENEME SINAVI.....	172

## TARİH

1. DENEME SINAVI.....	179
2. DENEME SINAVI.....	183
3. DENEME SINAVI.....	187
4. DENEME SINAVI.....	191
5. DENEME SINAVI.....	195
6. DENEME SINAVI.....	199
7. DENEME SINAVI.....	203
8. DENEME SINAVI.....	207
9. DENEME SINAVI.....	211
10. DENEME SINAVI.....	215
11. DENEME SINAVI.....	219
12. DENEME SINAVI.....	223
13. DENEME SINAVI.....	227
14. DENEME SINAVI.....	231
15. DENEME SINAVI.....	235
16. DENEME SINAVI.....	239
17. DENEME SINAVI.....	243
18. DENEME SINAVI.....	247
19. DENEME SINAVI.....	251
20. DENEME SINAVI.....	255
21. DENEME SINAVI.....	259
22. DENEME SINAVI.....	263
23. DENEME SINAVI.....	267
24. DENEME SINAVI.....	271
25. DENEME SINAVI.....	275
26. DENEME SINAVI.....	279
27. DENEME SINAVI.....	283
28. DENEME SINAVI.....	287
29. DENEME SINAVI.....	291
30. DENEME SINAVI.....	295
31. DENEME SINAVI.....	299
32. DENEME SINAVI.....	303
33. DENEME SINAVI.....	307
34. DENEME SINAVI.....	311
35. DENEME SINAVI.....	315
36. DENEME SINAVI.....	319
37. DENEME SINAVI.....	323
38. DENEME SINAVI.....	327
39. DENEME SINAVI.....	331
40. DENEME SINAVI.....	335
41. DENEME SINAVI.....	339

## COĞRAFYA

1. DENEME SINAVI.....	345
2. DENEME SINAVI.....	349
3. DENEME SINAVI.....	352
4. DENEME SINAVI.....	355
5. DENEME SINAVI.....	358
6. DENEME SINAVI.....	361
7. DENEME SINAVI.....	364
8. DENEME SINAVI.....	367
9. DENEME SINAVI.....	371
10. DENEME SINAVI.....	374
11. DENEME SINAVI.....	377
12. DENEME SINAVI.....	380
13. DENEME SINAVI.....	383
14. DENEME SINAVI.....	387
15. DENEME SINAVI.....	390
16. DENEME SINAVI.....	393
17. DENEME SINAVI.....	396
18. DENEME SINAVI.....	399
19. DENEME SINAVI.....	402
20. DENEME SINAVI.....	405
21. DENEME SINAVI.....	408
22. DENEME SINAVI.....	411
23. DENEME SINAVI.....	414
24. DENEME SINAVI.....	417
25. DENEME SINAVI.....	420
26. DENEME SINAVI.....	423
27. DENEME SINAVI.....	426
28. DENEME SINAVI.....	429
29. DENEME SINAVI.....	432
30. DENEME SINAVI.....	436
31. DENEME SINAVI.....	439
32. DENEME SINAVI.....	442
33. DENEME SINAVI.....	445
34. DENEME SINAVI.....	448
35. DENEME SINAVI.....	451
36. DENEME SINAVI.....	454
37. DENEME SINAVI.....	457
38. DENEME SINAVI.....	460
39. DENEME SINAVI.....	463
40. DENEME SINAVI.....	466
41. DENEME SINAVI.....	469

## VATANDAŞLIK

1. DENEME SINAVI.....	475
2. DENEME SINAVI.....	479
3. DENEME SINAVI.....	483
4. DENEME SINAVI.....	486
5. DENEME SINAVI.....	490
6. DENEME SINAVI.....	494
7. DENEME SINAVI.....	498
8. DENEME SINAVI.....	502
9. DENEME SINAVI.....	506
10. DENEME SINAVI.....	510
11. DENEME SINAVI.....	513
12. DENEME SINAVI.....	517
13. DENEME SINAVI.....	521
14. DENEME SINAVI.....	525
15. DENEME SINAVI.....	529
16. DENEME SINAVI.....	533
17. DENEME SINAVI.....	537
18. DENEME SINAVI.....	541
19. DENEME SINAVI.....	545
20. DENEME SINAVI.....	549
21. DENEME SINAVI.....	553
22. DENEME SINAVI.....	557
23. DENEME SINAVI.....	561
24. DENEME SINAVI.....	565
25. DENEME SINAVI.....	569
26. DENEME SINAVI.....	573
27. DENEME SINAVI.....	577
28. DENEME SINAVI.....	581
29. DENEME SINAVI.....	585
30. DENEME SINAVI.....	589
31. DENEME SINAVI.....	593
32. DENEME SINAVI.....	597
33. DENEME SINAVI.....	601
34. DENEME SINAVI.....	605
35. DENEME SINAVI.....	609
36. DENEME SINAVI.....	613
37. DENEME SINAVI.....	617
38. DENEME SINAVI.....	621
39. DENEME SINAVI.....	625
40. DENEME SINAVI.....	629
41. DENEME SINAVI.....	633

DATA KAYITLARI

**TÜRKÇE**

# 1.

# DENEME SINAVI



Çözümler için karekodu okutunuz.

1. Özgürlüklerinin ellerinden alındığını düşünen insanlar, haklarını ---- mücadele vermektedirler. Bu hak arama mücadelesi bazen ---- eylemlerle gerçekleşse de çoğu zaman daha sakin ve ---- protestolara dönüşmektedir.

**Boş bırakılan yerlere aşağıdakilerden hangisi getirilmelidir?**

- A) kazanmak için - şiddetli - radikal
- B) geri almak için - şiddetli - barışçıl
- C) kullanmak için - düşmanca - aşırı
- D) sağlamak için - saldırgan - tutkulu
- E) elde etmek için - kararlı - disiplinli

2. Koebl, çektiği fotoğraflarda ayrıntıları yakalamayı, nesnelerin özelliklerini korumayı başarıyor. Kiminde özgünlüğü, kiminde yapaylığı, basitliği... Bunu, maskelerin düştüğü anda deklanşöre basarak gerçekleştiriyor.

**Bu parçada geçen "maskelerin düştüğü anda deklanşöre basmak" sözüyle anlatılmak istenen aşağıdakilerden hangisidir?**

- A) Doğal görüntüleri yakalamaya çalışmak
- B) Titizliği kendine ilke edinmek
- C) Aceleci olmamak
- D) Kişisel beğenilerini ön plana çıkarmak
- E) İlginç durumları saptamak

3. (I) Kimi okul kitapları, çocuğu şiiirden soğutan örneklerle doludur. (II) Uyak ve ölçüye uydurulmuş bu didaktik söz yığınlarını çarpım cetveli gibi ezberleme zorunlu hâle getirilirse bunlar, iyice sevimsizleşir. (III) Ezberlenen bu tıktırtılı metinler, tek doğru çözümü olan matematik problemlerine dönüşürse çocuk şiiirden soğur. (IV) Bir de şiiiri, yaşamın dışında bir alan olarak görürlerse duygularını "arabesk" biçimde anlatmaktan başka yol bulamayacaklardır. (V) Eğer eğitimde gerekli düzenlemeler yapılmazsa gençler şiiirin, matematik, kimya ve bilgisayar kadar güzel bir uğraş olduğunu hiç anlayamayacaklar.

**Bu parçadaki numaralanmış cümlelerin hangisinde koşul anlamı yoktur?**

- A) I
- B) II
- C) III
- D) IV
- E) V

4. (I) İnsan beyni, tüm vücudumuzu kontrol etmek için gereken sinyalleri yollamakla sorumludur. (II) Beynin üst kısmı, insanın düşünme, karar verme ve problem çözme gibi bilişsel işlevleri yürütürken alt kısmı da otomatik işlevler için görev alır. (III) Beyindeki gri madde, nöronların hücresel gövdelerinden oluşurken beyaz madde ise nöronların aksonlarının kapladığı bölümdür. (IV) Beyin bölümlerinin hasar görmesi durumunda, motor becerileri, duyuşsal işlevler ve bilişsel işlevler gibi farklı alanlarda farklı etkiler görülebilir. (V) Beyin araştırmalarında, manyetik rezonans görüntüleme (MRG) ve elektroensefalogram (EEG) gibi teknikler kullanılır.

**Bu paragrafta numaralanmış cümlelerle ilgili aşağıdakilerden hangisi yanlıştır?**

- A) I. cümlede beyin fonksiyonlarına dair bilgi verilmektedir.
- B) II. cümlede beyin yapısının üst ve alt kısımlarından bahsedilmektedir.
- C) III. cümlede beyin yapılarından olan gri madde ve beyaz madde açıklanmaktadır.
- D) IV. cümlede beyin hasarlarının oluşması durumunda motor becerilerinde farklı etkilerin görülebildiğinden söz edilmektedir.
- E) Beyin araştırmalarında dikkat edilmesi gereken hususlar hakkında bilgi verilmektedir.

# 5.

## DENEME SINAVI



Çözümler için karekodu okutunuz.

1. Son dönemde çevre kirliliği sorununun artmasıyla birlikte, insanların \_\_\_\_\_ değiştirmesi gerektiği daha net bir şekilde ortaya çıkmaktadır. Fakat, bu değişimi gerçekleştirmek, sağlam \_\_\_\_\_ sahip olmakla mümkündür.

**Bu cümlede boş bırakılan yerlere sırasıyla aşağıdakilerden hangileri getirilmelidir?**

- A) alışkanlıklarını – eğitime
- B) alışkanlıklarını – iradeye
- C) davranışlarını – eğitime
- D) davranışlarını – kültüre
- E) yaşantılarını – eğitime

2. Bu kentin ara sokaklarında yürürken ilginç bin bir görüntü çıkar karşınıza. Dünyanın öteki büyük kentlerinde pek rastlayamayacağınız bu zenginliği, ancak yolculuktan önce ev ödevine hazırlanan turistler keşfedebilir.

**Bu parçadaki altı çizili sözle, turistlerin hangi özelliği vurgulanmak istenmiştir?**

- A) Gidip gördüğü yerlerle ilgili karşılaştırmalar yapma
- B) Kentin ana caddelerinin, o kentteki yaşamı yansıtmadığını bilme
- C) Tanınmış yerlerden çok, tanınmamış yerleri gezme
- D) Yola çıkmadan önce gideceği yer hakkında bilgi edinme
- E) Herkesin gördüğünden farklı şeyler görmek için yola çıkma

3. Yapıtlarında anlattıkları okurlarda yaşanmışlık duygusu uyandırıyor o yazar başarıya ulaşmış sayılır.

**Bu cümleyle göre yazarın başarısında önemli olan aşağıdakilerden hangisidir?**

- A) Okur sayısının çok olması
- B) İlginç konular seçmesi
- C) Düş gücüne seslenmesi
- D) Amacın belirlenmesi
- E) Gerçekmiş gibi algılanması

4. (I) Püren, makiliklerde ve kalkerli toprakların güneş gören yerlerinde yetişen, 50 ile 80 cm boyunda, çalı görünümüne sahip bitkidir. (II) Ucu sivri, küçük koyu yeşil, çam iğnesine benzeyen yaprakları vardır. (III) Püren, kışın yapraklarını dökmeyen ama mevsim sonunda bronzlaşır ve bu rengi çiçek açma zamanına kadar korur. (IV) Aykırı bir bitkidir püren, diğerleri kış uykusuna yatarken o uyanır ve kasım sonlarına doğru sanki baharı müjdeliyormuş gibi açık pembe çiçek açar. (V) Çan şeklindeki kokulu çiçeklerinin ucu dört parçalıdır ve bunların da ortasında ince, mor bir uzantı bulunur.

**Bu parçadaki numaralanmış cümlelerin hangisinde öznel bir değerlendirme söz konusudur?**

- A) I
- B) II
- C) III
- D) IV
- E) V



1. Eski Antakya'yı çevreleyen surlar, tarih boyunca pek çok deprem yaşadı.

**Aşağıdakilerden hangisi bu cümledeki altı çizili sözcüğe anlamca en yakındır?**

- A) kuşatan      B) yükselten      C) geliştiren  
D) gösteren      E) bütünleyen

2. Uzmanlardan oluşan bir ekip (grup), küre iklim değişikliğinin hız haritasını çıkardı. Çalışmada, dünyanın dört bir yanından (her yerinden) alınan iklim ve sıcaklık rejimi verileriyle önümüzdeki yüzyıl için hazırlanan iklim modellemeleri kullanıldı. Araştırmacıların elde ettiği sonuçlara (bulgulara) göre ekosistemlerin, iklim değişikliğinin hızını yakalayabilmek (hedefleyebilmek) için yıldı ortalama (aşağı yukarı) 0,42 km yer değiştirmesi gerekiyor.

**Bu parçadaki numaralanmış sözlerden hangisinin yerine, araç içinde verilen söz getirilirse cümlelerin anlamı bozulur?**

- A) I      B) II      C) III      D) IV      E) V

3. Hayatta karşılaşılan engeller, insanın gücünü ölçmek için bir fırsat olarak görülmelidir.

**Aşağıdakilerden hangisi bu cümleyle anlamca aynı doğrultudadır?**

- A) Başarı için yalnızca yeteneğe sahip olmak yeterli değildir, aynı zamanda disiplinli bir çalışma da gereklidir.  
B) Hayatta hiçbir şeyin garanti olmadığına inanmak, insanın risk almasına ve kendini geliştirmesine yardımcı olur.  
C) İnsanlar, hedeflerine ulaşmak için karşılaştıkları zorluklar karşısında cesur olmalı ve pes etmeden mücadele etmelidirler.  
D) Başarısızlık, insanların bir şeyleri daha iyi yapma fırsatını yakalamaları için birer ders niteliğindedir.  
E) İnsanlar, kararlarının sonuçlarına katlanmak zorundadır ve başarısızlıkların sorumluluğunu üstlenmekten kaçınamazlar.

4. (I) Kilo vermeye çalışırken diyetiniz size özel olmalıdır. (II) Başkaları için hazırlanmış diyetler, tek besinden oluşmuş diyetler ya da ünlülerin yaptığı diyetler kilo vermenizi sağlayabilir. (III) Ne var ki bütün diyetlerden sonra fazla kiloların size "yeni arkadaşlarıyla" döndüğünü görürsünüz. (IV) Bu nedenle vücudunuzun ihtiyaçlarına, beslenme alışkanlıklarınıza uygun olarak hazırlanan size özel zayıflama diyetlerini tercih etmelisiniz. (V) Unutulmamalıdır ki yalnızca sizin için hazırlanan diyetler, kilolara karşı açılan savaşta size destek olabilir.

**Diyetleri konu alan bu parçadaki numaralanmış cümlelerin hangisiyle ilgili olarak yapılan açıklama yanlıştır?**

- A) I. cümlede, bir özelliğiyle ilgili uyarıda bulunuyor.  
B) II. cümlede, bir olasılıktan söz ediliyor.  
C) III. cümlede, olumsuz bir sonuçtan söz ediliyor.  
D) IV. cümlede, hangi besinleri içermesi gerektiği belirtiliyor.  
E) V. cümlede, bir türünün başarısından söz ediliyor.



**MATEMATİK**

# 1.

# DENEME SINAVI



Çözümler için karekodu okutunuz.

1.  $1 - \frac{6}{2 - \frac{2}{1 - \frac{3x}{x-5}}} = 4$

olduğuna göre, x kaçtır?

- A) 0 B) 1 C) 2 D) -1 E) -4

2.  $\frac{0,5 : (0,4 - 0,2)}{0,3 \cdot 10^{-2}}$

işleminin sonucu kaçtır?

- A) 0,075 B) 0,75 C) 7,5  
D) 75 E) 750

3.  $\frac{3,6}{0,04} + \frac{14,4}{0,6} - \frac{20}{0,4}$

işleminin sonucu kaçtır?

- A) 54 B) 64 C) 66 D) 72 E) 88

4.  $\sqrt{51 - 10\sqrt{2}} + 1 - 5\sqrt{2}$  işleminin sonucu kaçtır?

- A)  $-10\sqrt{2}$  B)  $5\sqrt{2} + 2$  C)  $10\sqrt{2} - 2$   
D) 0 E) -2

5.  $\frac{3^{x+y}}{9^x} = 27^{x-y}$  olduğuna göre, x ile y arasında-

ki bağıntı aşağıdakilerden hangisidir?

- A)  $x = y$  B)  $3x = 2y$  C)  $x = y + 3$   
D)  $y = -x$  E)  $x = 3 - y$

6. a, b, c ∈ R olmak üzere;  
 $a^2 < a$ ,  $a \cdot b \leq 0$  ve  $\frac{b}{c} \geq 0$

ise, aşağıdakilerden hangisi daima yanlıştır?

- A)  $a + b > 0$  B)  $b + c < 0$  C)  $b \cdot c > 0$   
D)  $a \cdot c = 0$  E)  $a - b \geq 0$

7.  $|1 - |x|| = 3$

denkleminin çözüm kümesi nedir?

- A)  $\{-4, 4\}$  B)  $\{-2, 2\}$  C)  $\{0, 1\}$   
D)  $\{-4, -2, 2, 4\}$  E)  $\{-4, 0, 1, 4\}$

8.  $\frac{12a^3 - 8a^2 + 6a - 3ab + 2b - 4}{2(2a^2 + 1) - b}$

ifadesinin en sade şekli aşağıdakilerden hangisidir?

- A) 3a B)  $3a - 2$  C)  $a - 1$   
D)  $2a + 3$  E)  $2a - 1$

## 10.

## DENEME SINAVI



Çözümler için karekodu okutunuz.

$$1. \frac{53}{35} - \frac{1}{\left(1 - \frac{1}{6}\right)\left(2 + \frac{1}{3}\right)}$$

işleminin sonucu kaçtır?

- A) 1 B) 2 C) 3 D) 4 E) 5

$$2. \frac{0,4}{0,4} + \frac{1,2}{1,2} \text{ işleminin sonucu kaçtır?}$$

- A)  $\frac{207}{110}$  B)  $\frac{197}{100}$  C)  $\frac{203}{132}$  D) 2 E) 1,1

$$3. \left[ - \left[ - \left( - \frac{3}{2} \right)^{-2} \right]^{-1} \right]^2$$

işleminin sonucu kaçtır?

- A)  $\frac{27}{4}$  B)  $\frac{27}{8}$  C)  $\frac{81}{27}$  D)  $\frac{81}{16}$  E)  $\frac{81}{64}$

$$4. \sqrt{4 + \left( \frac{2}{\sqrt{3}-1} - \frac{2}{\sqrt{3}+1} \right) \cdot \sqrt{3}} - 1$$

işleminin sonucu kaçtır?

- A)  $\sqrt{2}$  B)  $\sqrt{3}$  C)  $\sqrt{3} - 1$   
D)  $\sqrt{3} + 1$  E)  $\frac{1}{\sqrt{3}}$

$$5. a^2 \cdot c > 0$$

$$b^3 \cdot c < 0$$

$$a \cdot b > 0$$

olduğuna göre, a, b, c'nin işaretleri sırasıyla aşağıdakilerden hangisidir?

- A) +, +, - B) +, -, + C) -, -, +  
D) -, +, - E) -, +, +

$$6. \frac{A}{3} \left| \frac{B}{4} \right. \quad \frac{B}{1} \left| \frac{C}{2} \right.$$

Yukarıdaki bölme işlemine göre, C'nin A türünden eşiti aşağıdakilerden hangisidir?

- A)  $\frac{A-7}{8}$  B)  $\frac{A-8}{7}$  C)  $\frac{A+7}{8}$   
D)  $\frac{A-5}{8}$  E)  $\frac{A+8}{7}$

$$7. \frac{1-x}{x} : \frac{x^2-7x-8}{16x-2x^2}$$

ifadesinin en sade şekli aşağıdakilerden hangisidir?

- A) x B) -x C) -2x D)  $-\frac{1}{2x}$  E) 1

$$8. |x-2| - |x-3| > 0$$

eşitsizliğin çözüm kümesi aşağıdakilerden hangisidir?

- A) R B)  $\emptyset$  C)  $\left\{ \frac{5}{2} \right\}$   
D)  $\left( \frac{5}{2}, \infty \right)$  E)  $\left( \frac{3}{2}, \frac{5}{2} \right)$

$$9. A = 1 + 3 + 5 + \dots + 2x - 1$$

$$B = 2 + 4 + 6 + \dots + 2x$$

$$\text{ve } A + B = 210$$

olduğuna göre, A kaçtır?

- A) 100 B) 75 C) 68 D) 50 E) 48



Çözümler için karekodu okutunuz.

1.  $\frac{9}{4} \cdot \frac{1-\frac{6}{7}}{2+\frac{5}{8}}$

işleminin sonucu kaçtır?

- A)  $\frac{7}{36}$  B)  $\frac{6}{49}$  C)  $\frac{1}{81}$  D) 4 E) 5

2.  $\frac{4^4 - 5^2}{5^4 - 4^2}$  işleminin sonucu kaçtır?

- A)  $\frac{20}{21}$  B)  $\frac{4}{3}$  C)  $\frac{2}{6}$  D)  $\frac{11}{29}$  E)  $\frac{1}{8}$

3.  $\frac{1}{\sqrt{5}} + \frac{\sqrt{45}}{5}$   
 $\sqrt{20}$

işleminin sonucu kaçtır?

- A)  $\frac{2}{5}$  B)  $\frac{1}{3}$  C)  $\frac{1}{9}$  D)  $\frac{3}{5}$  E)  $\frac{6}{5}$

4.  $\frac{0,1-0,06}{0,04+0,16+0,6}$

işleminin sonucu kaçtır?

- A) 0,6 B) 0,2 C) 0,04 D) 0,05 E) 0,3

5.  $\frac{a+b}{c} < \frac{a+1}{c}, a^2 \cdot c < 0$

eşitsizliklerine göre, aşağıdakilerden hangisi kesinlikle doğrudur?

- A)  $c > 0$  B)  $b < a$  C)  $0 < a$   
D)  $b > 1$  E)  $b < 1$

6. Dört basamaklı 5 doğal sayının yüzler basamağı 2 artırılıp, onlar basamağı 2 azaltılıp, birler basamağı 3 artırılıyor. Ayrıca sayılardan bir tanesinin binler basamağı 1 azaltılıyor.

Buna göre, bu sayıların toplamı nasıl değişir?

- A) 915 artar B) 85 artar C) 85 azalır  
D) 1000 azalır E) 1915 artar

7.  $\frac{1}{3x-1} + \frac{3}{-6x+2} = \frac{1}{4}$

denkleminin çözüm kümesi aşağıdakilerden hangisidir?

- A)  $\left\{-\frac{1}{3}\right\}$  B)  $\left\{-\frac{2}{5}\right\}$  C)  $\left\{\frac{2}{3}\right\}$  D)  $\{1\}$  E)  $\{2\}$

8.  $2^{x-y} = 2^{y-x+3} + 7$

olduğuna göre,  $x - y$  ifadesinin değeri kaçtır?

- A) 3 B) -3 C)  $\sqrt{3}$  D)  $\sqrt{5}$  E) 5

9.  $|x^2 - 1| > 3$

eşitsizliğinin çözüm kümesi aşağıdakilerden hangisidir?

- A)  $\{-2, 2\}$   
B)  $(-2, 2)$   
C)  $(-\infty, -2) \cup (2, +\infty)$   
D)  $(-\infty, -2) \cup (2, 4)$   
E)  $(-\infty, -1) \cup (2, 4)$

10.  $3 < x < 5$

olduğuna göre,  $|x - |x - 6|| + 6$  ifadesinin eşiti aşağıdakilerden hangisidir?

- A) 2x B) -2x C) 2x + 6 D) 3x E) 3x - 12



$$1. \frac{\frac{8}{10}}{1 - \left(\frac{1}{5} - \frac{1}{10}\right)}$$

işleminin sonucu kaçtır?

- A)  $\frac{10}{11}$  B)  $\frac{5}{6}$  C) 3 D)  $\frac{8}{9}$  E) 1

$$2. \frac{1}{0,4} \cdot \frac{0,6 - 0,02}{0,5}$$

işleminin sonucu kaçtır?

- A) 0,6 B) 1 C) 1,8 D) 2 E) 2,9

$$3. \frac{8^2 + 8^3 + 8^4}{4^3 + 4^4 + 4^5}$$

işleminin sonucu kaçtır?

- A)  $\frac{49}{16}$  B)  $\frac{73}{21}$  C)  $\frac{84}{17}$  D)  $\frac{35}{18}$  E)  $\frac{9}{10}$

$$4. \frac{\sqrt{7} - \sqrt{2}}{\sqrt{14} - \sqrt{4}}$$

işleminin sonucu kaçtır?

- A)  $\sqrt{2}$  B)  $\frac{1}{2\sqrt{2}}$  C)  $\frac{\sqrt{2}}{2}$  D)  $-\sqrt{2}$  E)  $\frac{1}{2}$

$$5. \frac{x+3}{4} = \frac{y-2}{5} = \frac{z-4}{3} \text{ ve } x+y+z=99 \text{ ise}$$

x kaçtır?

- A) 29 B) 30 C) 31 D) 32 E) 34

$$6. \frac{2 \cdot 3^{x-1} + 3^x}{3^x - 8 \cdot 3^{x-1}}$$

ifadesinin değeri kaçtır?

- A) 0 B) 1 C) 2 D) -3 E) -1

7. Bir kitaplığın A, B, C ve D raflarında sırasıyla a, b, c ve d sayısı kadar kitap vardır.

$$a < b < c < d$$

$$a + b + c + d = 81$$

olduğuna göre A rafındaki kitap sayısı en çok iken B rafında en çok kaç kitap olur?

- A) 16 B) 17 C) 18 D) 19 E) 20

8. m ve n pozitif tam sayılar olmak üzere,

- $m + n + 2k$  ifadesinin tek
- $m + n \cdot k$  ifadesinin çift olduğu biliniyor.

Buna göre m, n ve k sayılarından hangileri her zaman tektir?

- A) Yalnız m B) Yalnız n C) m ve n  
D) m ve k E) n ve k

9. Altı basamaklı 478x05y sayısı 72 ile bölünebildiğine göre, x.y çarpımı kaçtır?

- A) 30 B) 32 C) 36 D) 40 E) 56

10.  $y < 0 < x$  olmak üzere,

$$\left| \sqrt{x^2} - \sqrt[3]{y^3} \right| + |2y - x| - |3y| = 8$$

denklemini sağlayan x değeri nedir?

- A) 1 B) 2 C) 3 D) 4 E) 5

DATA YARIMLARI

**TARİH**

# 1.

## DENEME SINAVI



Çözümler için karekodu okutunuz.

1. Aşağıdakilerden hangisi Kök Türklere ait yazılı eserler arasında yer almaktadır?

- A) Burgut Yazıtları
- B) Karabalgasun Yazıtları
- C) Divan-ı Lügati't Türk
- D) Şine - Usu Yazıtları
- E) Yenisey Yazıtları

2. Türk İslam devletlerinde kümbet, medrese, ribat ve imarethane gibi çok sayıda mimari eserin inşa edilmesi;

- I. ticaret,
- II. sosyal,
- III. siyasi

alanlarından hangilerine yönelik hizmetlerin yürütüldüğü söylenebilir?

- A) Yalnız I
- B) Yalnız II
- C) I ve II
- D) I ve III
- E) II ve III

3. Osmanlı Devleti'nde görülen;

- I. divanın kaldırılıp yerine nazırlıkların oluşturulması,
- II. halkın yönetime katılması,
- III. padişah portresinin devlet dairelerine asılması

gelişmelerinden hangileri ıslahat amaçlı faaliyetlere örnek olarak gösterilebilir?

- A) Yalnız I
- B) Yalnız II
- C) Yalnız III
- D) I ve III
- E) I, II ve III

4. III. Selim Dönemi'nde Avrupa'nın önemli merkezlerinde daimi elçiliklerin açılması Osmanlı Devleti'nde;

- I. yönetim yapısının değişmesi,
  - II. diplomatik ilişkilerin gelişmesi,
  - III. Batı'daki gelişmelerin yakından takip edilmesi
- durumlarından hangilerine ortam oluşturduğu söylenebilir?

- A) Yalnız I
- B) Yalnız II
- C) Yalnız III
- D) I ve III
- E) II ve III

5. Osmanlı Devleti'nin Avrupa'da Aydınlanma Çağı ile başlayan gelişmeleri takip edememesi aşağıdakilerden hangisine yol açmıştır?

- A) Diplomatik ilişkilerin geri planda kalmasına
- B) Avrupa'daki bilimsel ve teknik gelişmelerden uzak kalmasına
- C) Halkın demokratik taleplerde bulunmasına
- D) Veraset usulünde değişikliğin zorunlu hale gelmesine
- E) Azınlık isyanlarıyla karşılaşmasına

6.

- I. Hanedanın en yaşlı erkek üyesinin padişah seçilmesi
- II. İç isyanların baskı ve şiddete dayalı olarak bastırılması
- III. Yeniçeri isyanlarının padişah değişikliğine yol açması

Yukarıdakilerden hangileri Duraklama Döneminde meydana gelmiştir?

- A) Yalnız I
- B) Yalnız II
- C) Yalnız III
- D) I ve II
- E) I, II ve III



1. Aşağıdakilerden hangisi İslamiyet öncesi Türk devletlerinde katiplik yapan diğer bir deyişle yazışmalardan sorumlu görevliye verilen ad aşağıdakilerden hangisidir?

- A) Yargan B) Tutuk  
C) Bitikçi D) Tamgacı  
E) Baksı

2. Yusuf Has Hacıp Türk dilinde yazılmış ilk siyasetname olan bu eserinde ilmin, karanlığı aydınlatan bir meşale olduğunu söyleyerek âlimlere saygı gösterilmesini istedi. Toplumla faydalı olmanın insanları her iki dünyada mutlu edeceği inancıyla devlet yöneticilerine öğütlerde bulundu.

Hakkında bilgi verilen eser aşağıdakilerden hangisidir?

- A) Kutadgu Bilig  
B) Atabetü'l-Hakayık  
C) Divânü Lûgati't-Türk  
D) Divân-ı Hikmet  
E) Muhakemetü'l-Lugateyn

3. Türkiye Selçuklu Devleti'nin ilk denizasırlı seferi olan Kırım Seferi Selçuklu donanmasının denizasırlı sefer düzenleyebilecek güçte olduğunu göstermiştir.

Bu gelişme aşağıdaki hangi Selçuklu hükümdarı döneminde yaşanmıştır?

- A) II. Kılıç Arslan  
B) I. Alaeddin Keykubat  
C) II. Rükneddin Süleyman Şah  
D) I. İzzeddin Keykavus  
E) I. Gıyaseddin Keyhüsrev

4. Osmanlı Devleti'nde evlilikte alınan vergiye verilen ad aşağıdakilerden hangisidir?

- A) İспенç B) İhtisap  
C) Mücerred D) Bennak  
E) İzn-i sefine

5. Osmanlı sanatında geçen "Müzzehhip" kavramı aşağıdakilerden hangisi ile ilgilidir?

- A) Minyatürde siyasi ve sosyal konuların işlenmesi  
B) Tezhip sanatı ustası  
C) Ciltçilik sanatı ustası  
D) Müzik eğitim merkezi  
E) Güzel yazı yazma ustası

6. Osmanlı Devleti'nin iskan politikasında genelinde konargöçer Türkmenleri tercih etmesi;

- I. bu grupları yerleşik hayata geçirme,  
II. fethedilen yerlerde tarımsal üretimi artırma,  
III. batıya yönelik fetih siyasetini devam ettirme amaçlarından hangileriyle açıklanabilir?

- A) Yalnız I B) Yalnız II C) I ve II  
D) II ve III E) I, II ve III

7. Aşağıdakilerden hangisi Osmanlı Devleti ile Timur Devleti arasında yapılan Ankara Savaşı'nın sonuçları arasında yer almaz?

- A) Bizans bir süre daha siyasi varlığını devam ettirmiştir.  
B) Osmanlı Devleti'nin Balkanlardaki siyasi varlığı sona ermiştir.  
C) Anadolu Türk siyasi birliği bozulmuştur.  
D) Osmanlı Devleti dağılma tehlikesi yaşamıştır.  
E) Anadolu'da sosyal ve ekonomik düzen bozulmuştur





1. İskitlere ait olup İskit hakanın Makedonya kiralı İskender ile yaptığı mücadeleyi anlatan destana verilen ad aşağıdakilerden hangisidir?
  - A) Şu
  - B) Alpertunga
  - C) Türeyiş
  - D) Ergenekon
  - E) Oğuz Kağan
2. İlk uygulamasının Karahanlılarda görüldüğü gulam sisteminde yetiştirilen ordunun yılda dört kez hazineden aldığı maaşa verilen ad aşağıdakilerden hangisidir?
  - A) Meysere
  - B) Cülus
  - C) Münşi
  - D) Bistegani
  - E) Bargâh
3. Miryokefalon Savaşı'nın nedenleri arasında;
  - I. Selçukluların sınırlarını sürekli Bizans aleyhinde genişletmesi,
  - II. Bizans'ın Türkleri Anadolu'dan atmak istemesi,
  - III. Türklerin Anadolu'ya kesin olarak yerleşmek istemesi
 gelişmelerinden hangilerinin yer aldığı söylenebilir?
  - A) Yalnız I
  - B) Yalnız II
  - C) Yalnız III
  - D) I ve II
  - E) I, II ve III
4. Osmanlı Devleti'nde ilk kez I. Murat zamanında kurulan Rumeli Beylerbeyliği'nin merkezi aşağıdakilerden hangisidir?
  - A) Selanik
  - B) Makedonya
  - C) Gümilcine
  - D) Manastır
  - E) Sofya
5. Aşağıdakilerden hangisi Fatih Sultan Mehmet ile Yavuz Sultan Selim dönemlerinin ortak özelliklerinden biridir?
  - A) Tamamen doğuya seferler düzenlenmesi
  - B) Denizlerde hâkimiyet mücadelesi verilmesi
  - C) Halife adının kullanılması
  - D) Anadolu Türk siyasi birliği için mücadele edilmesi
  - E) Memlûklerle iyi geçinilmesi
6. Aşağıdakilerden hangisi Yeniçeri Ocağı ile ilgili bir kavram değildir?
  - A) Börk
  - B) Ulufe
  - C) Tahrir
  - D) Ağa Divânı
  - E) Orta bölük
7. Osmanlı Devleti'nde temel vergi ve toprak sistemi olan çiftthane sistemi ile ilgili aşağıdakilerden hangisi doğru değildir?
  - A) Sistem sayesinde çiftliklerin dağılması, tarlaların bağ bahçe haline getirilmesi sağlanmıştır.
  - B) Devlet, toprak veya reaya üzerinde kontrol sağlamıştır.
  - C) Miri arazi üzerinde uygulana bir sistemdir.
  - D) Toprağını üst üste üç yıl işlemeyenden "çiftbozan" vergisi alınmıştır.
  - E) Çifthane, bir çift öküzle işletilebilen ve bir köylü ailesinin işletiminde olan arazi birimidir.
8. Osmanlı Devleti'nde kültürel alanda ilk Batılılaşma uygulamaları hangi padişah döneminde başlamıştır?
  - A) III. Selim
  - B) III. Murat
  - C) III. Ahmet
  - D) IV. Murat
  - E) I. Mahmut



1. İslamiyet öncesi Türk topluluklarından hangisi Emevilere karşı yaptığı mücadele ile Orta Asya'nın Araplaşmasını engellemiştir?

- A) Karluklar  
B) Türğişler  
C) Avarlar  
D) Peçenekler  
E) Kırgızlar

2. Büyük Selçuklu Devleti fethettikleri topraklarda ikta sistemini uygulayarak ihtiyaç duydukları askerleri yetiştirmiş, fethedilen arazileri komutanlarına bırakmışlardır.

**Buna göre Selçuklularda;**

- I. fetihlerin özendirildiği,  
II. hazineden harcama yapılmadan ordu oluşturulduğu,  
III. gulam sisteminin uygulandığı

**bilgilerinden hangilerine ulaşılabilir?**

- A) Yalnız I  
B) Yalnız II  
C) Yalnız III  
D) I ve II  
E) II ve III

3. Türkiye Selçuklu Devleti'nde arazi defterlerinde tutulan has ve iktaların düzenlenmesinden sorumlu aynı zamanda istihbarat işlerine bakan divana verilen ad aşağıdakilerden hangisidir?

- A) Divan-ı İşraf  
B) Divan-ı İstifa  
C) Divan-ı Arz  
D) Divan-ı Tuğra  
E) Divan-ı Pervane

4. Osmanlı mali sisteminde tımar, bir kısım asker ve memurlara geçim, hizmet veya masraflarına karşılık belirli bölgelerin vergi kaynaklarının tahsil edilmesidir.

**Aşağıdakilerden hangisi bu sistemin özelliklerinden biri değildir?**

- A) Cebelü adı verilen asker beslenmesi  
B) Devlete ait topraklarda uygulanması  
C) Gelirlerinin iltizam yoluyla toplanması  
D) Hazinesin yükünü azaltması  
E) Sistemin uygulandığı toprakların vakfedilmesi ve bağışlanmasının yasak olması

5. Osmanlı, kağıt parayla ilk kez 1840 yılında Sultan Abdülmecit Dönemi'nde tanışmıştır. Para yerine geçen kağıt anlamına gelen "Kaime-i Nakdiye-i Mutebere" adıyla basıldı.

**Bu paranın basılmasında;**

- I. bitmeyen savaşların ağır ekonomik yük getirmesi,  
II. devletin finansal darboğaza girmesi,  
III. mali sıkıntıları azaltma çabası

**nedenlerinden hangilerinin etkili olduğu söylenebilir?**

- A) Yalnız I  
B) Yalnız II  
C) Yalnız III  
D) I ve III  
E) I, II ve III

6. Osmanlı'da yasak edilen bir şeyin kanun gereği elden alınması veya suçlu görülen bir kimsenin malına devlet tarafından el konulması usulüne verilen ad aşağıdakilerden hangisidir?

- A) Reftiye  
B) Vakfetme  
C) Müsadere  
D) Tahrir  
E) Tağşiş



1. Bilge Kağan, yazıtında şöyle konuşmaktadır: “Tanrı gibi gökte olmuş Türk Bilge Kağan’ı, bu zamanda oturdum.” ve “Türk milletinin adı sanı yok olmasın diye babam kağanı, annem hatunu yükseltmiş olan Tanrı, il veren Tanrı”

**Bu konuşmaya bakarak Kök Türklerde;**

- I. egemenlik anlayışının ilahi kaynaklı olduğu,
- II. sosyal devlet anlayışının bulunduğu,
- III. kağanların millete karşı sorumlu olduğu

**bilgilerinden hangilerine ulaşılabilir?**

- A) Yalnız I      B) Yalnız II      C) Yalnız III  
D) I ve II      E) I, II ve III

2. Türk İslam tarihinde yaşanan bazı savaşlarda taraflardan biri devlet haline gelirken diğer devlet ise yıkılma sürecine girmiştir.

**Aşağıdaki savaşlardan hangisi bu duruma örnek olarak gösterilebilir?**

- A) Köseadağ      B) Katvan  
C) Miryokefalon      D) Yassıçemen  
E) Dandanakan

3. Türkiye Selçukluları Dönemi’nde Anadolu’unun ekonomik hayatında önemli bir yere sahip olan ahilik teşkilatının ilke, kural ve öğretilerinin yer aldığı eserlere verilen ad aşağıdakilerden hangisidir?

- A) Ekberlik      B) Fütüvetname  
C) İcazetname      D) Adaletname  
E) Salatnâme

4. Osmanlı Devleti’nin kuruluş yıllarında özellikle Bizans tekfurları (vali) ile “görünüşte dostçe geçinme” anlamına gelen politikasına verilen ad aşağıdakilerden hangisidir?

- A) İstimalet      B) Gaza  
C) İfta      D) Cundi  
E) Müdara

5. Osmanlı Devleti’nin egemenliği altında bulunan topraklar, devletin kuruluşundan XVII. yüzyılın sonlarına kadar artmıştır.

**Buna göre Osmanlı ülkesinde;**

- I. gelir ve giderler miktarının değiştiği,
- II. merkezi otoritenin ülke genelinde güçlü tutulduğu,
- III. sınırların yeniden belirlendiği

**bilgilerinden hangilerine ulaşılabilir?**

- A) Yalnız I      B) Yalnız II      C) Yalnız III  
D) I ve III      E) II ve III

6. Zihniyetiyle, ilim adamlarına gösterdiği sevgi ve fikri özgürlük ile “Bir ayağı Şark’ta bir ayağı Garp’ta olan büyük hükümdar” olarak anılmış padişah aşağıdakilerden hangisidir?

- A) II. Murat  
B) II. Bayezid  
C) Yavuz Sultan Selim  
D) Kanuni Sultan Süleyman  
E) Fatih Sultan Mehmet

7. Aşağıda miri toprakların bölümleri ile ilgili verilen açıklamalardan hangisi doğru değildir?

- A) Malikâne: Devlete önemli hizmetlerde bulunan devlet görevlilerine mülk olarak verilen topraklardır.  
B) Ocaklık: Gelirleri tersane ve kale muhafızlarına ayrılan arazilerdir.  
C) Yurtluk: Sınırların güvenliğini sağlayan askerlere verilen topraklardır.  
D) Mukataa: Gelirleri doğrudan doğruya devlet hazinesine aktarılan arazilerdir.  
E) Paşmaklık: Sosyal kurumların masrafları için ayrılan arazilerdir.



1. Aşağıda verilen Türk boylarından hangisi Talas Savaşı'nda Çinlilere karşı Abbasilere destek vermiştir?

- A) Karluklar  
B) Peçenekler  
C) Avşarlar  
D) Türğişler  
E) Kumanlar

2. 3-4 Temmuz 1187'de yapılan Hittin Savaşı'nda Haçlıları büyük bir yenilgiye uğratmış ve Kudüs'ü fethetmiştir. Bu zafer Avrupa'da büyük bir tepki meydana getirmiş ve İslam dünyası üzerine III. Haçlı Seferi'nin düzenlenmesine neden olmuştur.

Sözü edilen devlet aşağıdakilerden hangisidir?

- A) Memlûkler  
B) İhşidiler  
C) Büyük Selçuklu  
D) Eyyubiler  
E) Tolunoğulları

3. Selçuklu Türkiyesi'nde ilk imar ve şehirleşme faaliyetlerini başlatan Selçuklu sultanı aşağıdakilerden hangisidir?

- A) I. Kılıç Arslan  
B) I. Mesut  
C) I. Alaeddin Keykubat  
D) II. Kılıç Arslan  
E) I. Gıyaseddin Keyhüsrev

4. Osmanlı Devleti'nde kaleme alınan aşağıdaki eserlerden hangisi diplomatik ilişkileri içeren konulara yer vermektedir?

- A) Seyahatname  
B) Sefaretname  
C) Fütüvvetname  
D) Adaletname  
E) Kanunname

5. Osmanlı Devleti'nin kuruluşu ile ilgili bilgi veren kaynakların en eskisi aşağıdaki hangisidir?

- A) İskendername  
B) Hayrabad  
C) Siham-ı Kaza  
D) Tazaruname  
E) Tarih-i Kebir

6. Osmanlı medreselerinde aşağıdaki akademik kariyer basamaklarından hangisi ilk basamağı oluşturmaktadır?

- A) Müderris  
B) Mülazım  
C) Softa  
D) Muid  
E) Danışmend

7. Aşağıdakilerden hangisi Osmanlı Devleti'nin XVII. yüzyılın başlarında karşılaştığı durumlardan biri değildir?

- A) İlk kez devlet idaresinde önemli mevkilere devşirme kökenlilerin getirilmesi getirilmiştir.  
B) Ticaret yollarının değişmesiyle Osmanlı ekonomisinin olumsuz etkilenmesi  
C) Siyasi, sosyal ve ekonomik sorunların iç isyanlara sebep olması  
D) İran ve Avusturya ile uzun süren savaşlar yaşanması  
E) Avrupa'daki siyasi üstünlüğün kaybedilmesi

8. Osmanlı Devleti aşağıdakilerden hangisiyle Avrupa devleti sayılmıştır?

- A) Tanzimat Fermanı  
B) Paris Antlaşması  
C) Kanun-u Esasi'nin ilan edilmesi  
D) Berlin Antlaşması  
E) Londra Boğazlar Sözleşmesi

# COĞRAFYA

DATA YANINLARI

# 5.

## DENEME SINAVI



Çözümler için karekodu okutunuz.

1. Küçükbaş hayvancılığın yaygın olduğu alanlarda halı dokumacılığı yapılır.

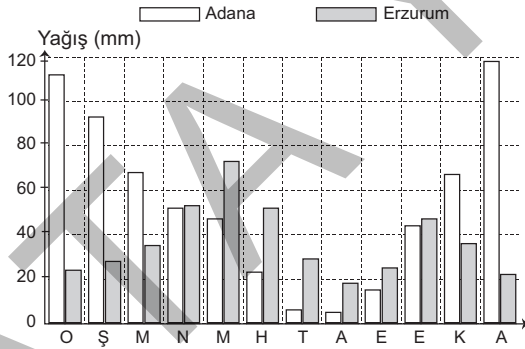
**Buna göre;**

- I. Kayseri
- II. Rize
- III. Uşak

**illerinden hangilerinde halı dokumacılığı gelişmiştir?**

- A) I ve II
- B) Yalnız II
- C) I ve III
- D) Yalnız III
- E) II ve III

2. Aşağıdaki grafikte iki kentin aylara göre yağış miktarları verilmiştir.



**Grafığe bakılarak aşağıdakilerden hangisine ulaşamaz?**

- A) Kentlerin en yağışlı mevsimleri birbirinden farklıdır.
- B) Adana'nın yağış miktarı daha fazladır.
- C) Erzurum'da kar yağışı daha fazladır.
- D) Adana'nın yağış rejimi düzensizdir.
- E) Yaz mevsiminde Erzurum'un yağış miktarı daha fazladır.

3. Son yıllarda Türkiye'deki kırsal nüfus oranında hızlı bir düşüş, kent nüfus oranında ise hızlı bir artış olduğu gözlenmektedir.

**Yukarıdaki duruma yol açan temel etken aşağıdakilerden hangisidir?**

- A) Kırsal kesimden şehirlere göç olması
- B) Kentlerdeki doğum oranının artması
- C) Kırsal kesimde doğum oranının azalması
- D) Kırsal kesimde alt yapı hizmetlerinin yaygınlaşması
- E) Kırsal alanlarda yaşlı nüfus oranının artması

4. Türkiye'de, yağışlı geçen bir yıl içinde aşağıdakilerin hangisinde artış olması beklenmez?

- A) Nadas alanlarında
- B) Meradaki hayvanların süt üretiminde
- C) Otlakların veriminde
- D) Barajların su seviyesinde
- E) Taban suyu seviyelerinde

5. Aşağıdaki illerin hangisinde yıl içinde turizme bağlı olarak nüfus miktarındaki oransal değişim diğerlerinden daha fazladır?

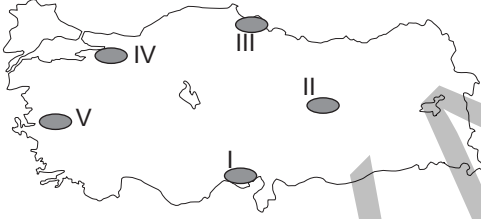
- A) Çanakkale
- B) Muğla
- C) İzmir
- D) Samsun
- E) Kayseri



1. Türkiye fiziki haritasında Konya Ovası ile İç-  
dir Ovası'nın aynı renkte gösterilmesinin ne-  
deni aşağıdakilerden hangisidir?

- A) Bitki örtülerinin benzerlik göstermesi
- B) Aynı yükselti basamağında yer almaları
- C) Toprak özelliklerinin benzerlik göstermesi
- D) Akarsu rejimlerinin benzerlik göstermesi
- E) Denize uzaklık bakımından benzerlik göstermesi

2.



Haritada numaralandırılmış alanların hangisinde, tarımda mevsimlik iş gücü ihtiyacı daha fazladır?

- A) I B) II C) III D) IV E) V

3.

- I. Çanakkale Boğazı
- II. İzmir Körfezi
- III. Edremit Körfezi

Balıklar sıcak ve soğuk denizlere mevsimlere göre göç ederler.

Buna göre yukarıda verilen merkezlerden hangilerinde balıkçılığın daha fazla gelişmesi beklenir?

- A) Yalnız I B) Yalnız II C) I ve II
- D) I ve III E) II ve III

4. Birim tarım toprağının beslemek zorunda olduğu insan sayısına fizyolojik nüfus yoğunluğu denir.

Buna göre, Marmara Bölgesi'nin Çatalca – Kocaeli Bölümü'nde fizyolojik nüfus yoğunluğunun yüksek olması aşağıdakilerden hangisiyle açıklanabilir?

- A) Tarıma dayalı sanayinin gelişmiş olmasıyla
- B) Tarım teknolojisinin gelişmiş olmasıyla
- C) Toplam nüfusun fazla olmasıyla
- D) Diğer bölgelerden tarım ürünü alınmasıyla
- E) Tarımda verimin yüksek olmasıyla

5. Aşağıdakilerden hangisi Türkiye'de genç nüfus oranının fazla olduğunun göstergesidir?

- A) Hizmet sektöründe çalışan nüfusun az olması
- B) Okuryazar oranının fazla olması
- C) Demografik yatırımların fazla olması
- D) Nüfus yoğunluğunun fazla olması
- E) Kentleşmenin fazla olması

6. Orta Karadeniz Bölümü'nde kırsal alanlarda daha çok toplu yerleşmeler görülürken, Doğu Karadeniz Bölümü'nde dağınık yerleşmeler daha fazladır.

Bu durum, Orta Karadeniz Bölümü'nün aşağıdaki özelliklerinden hangisinin bir sonucudur?

- A) Düz arazilerin daha fazla olması
- B) Hayvancılıkla uğraşan nüfusun daha az olması
- C) Su kaynaklarının yetersiz olması
- D) Orman alanlarının daha az olması
- E) Tarımda makine kullanımının daha yaygın olması



1. İç Anadolu ve Güneydoğu Anadolu bölgeleri aşağıdaki özelliklerden hangisi bakımından birbirine daha az benzerdir?

- A) Yer şekilleri
- B) Yaz sıcaklık ortalamaları
- C) Sulamaya duyulan gereksinim
- D) Yaz kuraklığı
- E) Yer altı kaynakları

2. Türkiye'nin bazı yerlerinde nüfusun seyrek olmasında aşağıdakilerden hangisinin etkisi en azdır?

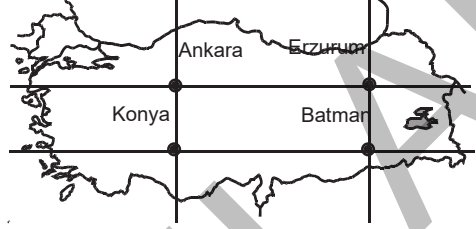
- A) Arazinin engebeli olması
- B) Yağış miktarının az olması
- C) Arazinin verimsiz olması
- D) Yıllık sıcaklık ortalamasının yüksek olması
- E) Ekonomik faaliyetlerinin sınırlı olması

3. Termik santraller, hidroelektrik santrallere göre daha fazla hava kirliliğine neden olur.

Buna göre aşağıdaki yerlerden hangisinde santrallere dayalı hava kirliliğinin daha fazla olması beklenir?

- A) Yatağan
- B) Manavgat
- C) Atatürk
- D) Keban
- E) Hirfanlı

4. Aşağıdaki Türkiye haritasında bazı merkezlerin yakınından geçen enlem ve boylamlar gösterilmiştir.



Bu merkezlerle ilgili aşağıdaki yargılardan hangisine ulaşılamaz?

- A) Ankara ile Konya'nın yerel saatleri aynıdır.
- B) Erzurum'da Güneş Ankara'ya göre daha erken doğar.
- C) Erzurum ve Ankara'nın gece - gündüz süreleri aynıdır.
- D) Erzurum ile Batman'da Güneş yıl boyunca aynı anda doğar.
- E) Konya ile Batman'ın Güneş'in önünden geçiş hızları aynıdır.

5. Aşağıda Türkiye nüfusunun 2010 ve 2022 yılı verilerine göre nüfusun yaş gruplarına göre dağılımı verilmiştir.

Yaş grupları	2010 (%)	2022 (%)
0-14	30	22
15-64	64	68,1
65+	6	9,9

Sadece tablodaki bilgilere bakılarak aşağıdakilerden hangisine kesinlikle ulaşılabılır?

- A) Kırsal nüfus oranı azalmıştır.
- B) Nüfus artış hızı yükselmiştir.
- C) Ortalama yaşama süresi kısalmıştır.
- D) Doğum ve ölüm oranları azalmıştır.
- E) Sanayi sektöründe çalışan nüfus oranı artmıştır.





1. 

Gündüz Süreleri		
	21 Haziran	21 Aralık
I	18 saat 10 dk	5 saat 50 dk
II	9 saat 20 dk	14 saat 40 dk
III	14 saat 40 dk	9 saat 20 dk
IV	12 saat	12 saat
V	10 saat	14 saat

Yukarıda 21 Haziran ve 21 Aralık tarihlerinde gündüz uzunlukları verilen yerlerden hangisinin Türkiye'de bulunduğu söylenebilir?

- A) I B) II C) III D) IV E) V

2. Aşağıdakilerden hangisi Batı Anadolu akarsularının çok alüvyon taşıdıklarına en güçlü kanıttır?

- A) Sık sık taşarak çevrelerindeki ovaları, çamur gölü haline getirmeleri  
 B) Kaynaklarıyla ağızları arasında yükselti farkının fazlalığı  
 C) Geniş bükümler yaparak akmaları  
 D) Bitki örtüsünden yoksun dağlık yörelerden kaynaklanmaları  
 E) Denize döküldükleri yerlerde geniş deltalar oluşturmaları

3. Aşağıdakilerden hangisi Türkiye'nin hem dış alım giderleri hem de dış satım gelirleri içinde önemli payı olan ürünlerdendir?

- A) Beyaz eşya B) Doğal gaz  
 C) Ham petrol D) Çimento  
 E) Tıbbi araç - gereç

4. Aşağıdaki tabloda Türkiye'de üç merkezde yağışın mevsimlere göre dağılışı verilmiştir.

Merkez	İlkbahar %	Yaz %	Sonbahar %	Kış %
I	25	5	20	50
II	40	10	18	32
III	23	20	38	19

Bu merkezler aşağıdakilerden hangisinde doğru olarak verilmiştir?

- |    | I       | II      | III     |
|----|---------|---------|---------|
| A) | Konya   | Trabzon | Antalya |
| B) | Antalya | Konya   | Trabzon |
| C) | Trabzon | Antalya | Konya   |
| D) | Antalya | Trabzon | Konya   |
| E) | Konya   | Antalya | Trabzon |

5. Endüstrinin geliştiği yörelerde göçlere bağlı olarak nüfus hızla artar.

Aşağıdaki illerden hangisinde nüfusun artmasının temel nedeni endüstrinin gelişmesi değildir?

- A) İzmir B) Muğla C) Adana  
 D) Kocaeli E) Bursa

6. Marmara Bölgesi'nde yetiştirilen aşağıdaki ürünlerden hangileri, bölgede çeşitli iklimlerin görüldüğüne kanıttır?

- A) Fındık, tütün, mısır  
 B) Ayçiçeği, şeker pancarı, tütün  
 C) İncir, üzüm, zeytin  
 D) Buğday, zeytin, fındık  
 E) Pamuk, pirinç, zeytin



1. Aşağıdakilerden hangisi Doğu Karadeniz'de heyelan olayının etkili olmasının nedenleri arasında gösterilemez?

- A) Bitki örtüsünün gür olması
- B) Eğimli arazinin fazla olması
- C) Kar erimelerinin olması
- D) Yağış miktarının fazla olması
- E) Suyu tutan killi toprakların bulunması

2. Türkiye'de aynı anda dört mevsim özelliklerinin yaşanması aşağıdaki etmenlerden hangisi ile ilgilidir?

- A) Dağların doğu - batı yönünde uzanması
- B) Asya kıtasında toprakların olması
- C) Orta kuşakta yer alması
- D) Bitki örtüsünün çeşitlilik göstermesi
- E) Yer şekillerinin çeşitlilik göstermesi

3. Aşağıda verilen kentlerden hangileri arasında yerel saat farkı en azdır?

- A) İzmit - Antalya
- B) İzmir - Samsun
- C) Bolu - Trabzon
- D) Kars - Konya
- E) Rize - Hatay

4. Aşağıdaki haritada Türkiye'de etkili olan iklimler gösterilmiştir.



□ Step ▨ Sert Karasal ■ Akdeniz □ Karadeniz

Buna göre aşağıdakilerden hangisi söylenemez?

- A) Türkiye iklim çeşitliliğine sahiptir.
- B) Erzurum Kars Yöresi'nde sert karasal iklim özellikleri görülür.
- C) Türkiye'nin büyük kısmında step iklimi hâkimdir.
- D) Hatay'da ve İzmir'de benzer iklim özellikleri görülür.
- E) Ege Bölgesi'nde yetiştirilen tarım ürünü Akdeniz kıyılarında yetişmez.

5. Türkiye'de bazı yörelerde kadın - erkek oranları farklılık göstermektedir.

Türkiye'de kadın - erkek oranlarının yörelere göre farklılıklar göstermesinde en önemli etken aşağıdakilerden hangisidir?

- A) Doğal nüfus artış hızının farklı olması
- B) İç göçlerin hızlı olması
- C) Sağlık hizmetlerinin farklı olması
- D) Eğitim düzeylerinin farklı olması
- E) Bağımlı nüfus oranlarının farklı olması

# VATANDAŞLIK

DATA YAKINLARI

# 1.

## DENEME SINAVI



Çözümler için karekodu okutunuz.

1. Toplumsal hayatı düzenleyen aşağıdaki kurallardan hangisinin yaptırımı maddidir?

- A) Ahlak kuralları
- B) Din kuralları
- C) Hukuk kuralları
- D) Görgü kuralları
- E) Örf ve adet kuralları

2. I. İptal

- II. Tazminat
- III. Hükümsüzlük
- IV. Sözleşme

Yukarıdakilerden hangileri hukuk kurallarının yaptırımlarından biri değildir?

- A) Yalnız I
- B) Yalnız II
- C) Yalnız III
- D) Yalnız IV
- E) III ve IV

3. Herhangi bir olay hakkında yazılı ve yazısız bir kural olmamasını ifade eden kavram aşağıdakilerden hangisidir?

- A) Hukuk boşluğu
- B) Kanun boşluğu
- C) Kural içi boşluk
- D) Kural dışı boşluk
- E) Açık boşluk

4. I. Kanunlar

- II. Cumhurbaşkanlığı kararnameleri
- III. Yönetmelikler

Yukarıda belirtilen hukuk kaynaklarından hangileri mevzu hukuk kapsamındadır?

- A) Yalnız I
- B) Yalnız II
- C) Yalnız III
- D) I ve II
- E) I, II ve III

5. Normlar hiyerarşisine göre aşağıdakilerden hangisi en üstte yer almaktadır?

- A) Kanun
- B) Yönetmelik
- C) Anayasa
- D) Cumhurbaşkanlığı kararnamesi
- E) Emir ve genelge

6. 1982 Anayasası'na göre aşağıdakilerden hangisi hem hak hem de ödevdir?

- A) Kamu hizmetlerine girme
- B) Vergi
- C) Siyasi faaliyette bulunma
- D) Çalışma
- E) Sosyal güvenlik



1. Borcunu ödemeyen bir kimsenin mallarının devlet tarafından haczedilmesi aşağıdaki yaptırım türlerinden hangisine örnektir?

- A) Ceza
- B) Cebri icra
- C) Tazminat
- D) Hükümsüzlük
- E) İptal

2. Medeni Kanun'a göre aşağıdakilerden hangisi kısıtlanma sebepleri arasında yer almaz?

- A) Akıl hastalığı
- B) Akıl zayıflığı
- C) Alkol veya uyuşturucu madde bağımlılığı
- D) Ağır tehlike arz eden bulaşıcı hastalık
- E) 6 ay süreli özgürlüğü bağlayıcı bir cezaya mahkûm olma

3. Aşağıda verilen anayasa değişikliklerinin hangisiyle Atatürk ilkeleri Anayasa'da yer almaya başlamıştır?

- A) 1921 Anayasası'nda, 1924'te yapılan değişikliklerle
- B) 1924 Anayasası'nda 1928'de yapılan değişikliklerle
- C) 1924 Anayasası'nda 1946'da yapılan değişikliklerle
- D) 1924 Anayasası'nda 1937'de yapılan değişikliklerle
- E) 1961 Anayasası'nın kabulü ile

4. Aşağıdakilerden hangisi maddi anlamda kanun değildir?

- A) Ceza Kanunu
- B) Medeni Kanun
- C) Borçlar Kanunu
- D) Kesin Hesap Kanunu
- E) İş Kanunu

5. Medeni Kanun'a göre evlenme, boşanma gibi şahsa bağlı olan haklar kullanımına göre aşağıdaki haklardan hangisinin kapsamına girmektedir?

- A) Devredilebilen haklar
- B) Devredilemeyen haklar
- C) Değiştirici yenilik doğuran haklar
- D) Bozucu yenilik doğuran haklar
- E) Alelade haklar

6. 657 sayılı Devlet Memurları Kanunu'na tabi kurumlarda çalıştırılan memurlar için tesis edilen kaç tane sınıf vardır?

- A) 9
- B) 10
- C) 11
- D) 12
- E) 13



1. Aşağıdakilerden hangisi hukuk devleti ilkesinin özelliklerinden biri değildir?

- A) Yasama organının hukuka bağlı olması
- B) Devlet faaliyetlerinin öngörülebilir olması
- C) İdarenin mali yönden sorumluluğunun olması
- D) Yargı bağımsızlığı
- E) Eğitimde fırsat eşitliğinin sağlanması

2. Bir ülkede uygulanan yazılı veya yazısız hukuk kurallarının tümüne ne ad verilir?

- A) Müspet hukuk
- B) Tabii hukuk
- C) Mevzu hukuk
- D) İdeal hukuk
- E) Tarihi hukuk

3. • Anayasa  
• Uluslararası antlaşmalar  
• Kanun  
• Olağanüstü hâl Cumhurbaşkanlığı kararnamesi  
• .....  
• Yönetmelik

Normlar hiyerarşisine göre yukarıda boş bırakılan yere aşağıdakilerden hangisi getirilmelidir?

- A) Doktrin
- B) İçtihat
- C) Genelge
- D) Talimat
- E) Cumhurbaşkanlığı kararnamesi

4. Aşağıdaki ülkelerden hangisi yazısız anayasa sistemine sahiptir?

- A) İngiltere
- B) Almanya
- C) İspanya
- D) İtalya
- E) ABD

5. I. Yasama organı çift meclislidir.  
II. Güçler birliği ilkesi geçerlidir.  
III. Temel hak ve hürriyetler anayasal güvenceye bağlanmıştır.

1961 Anayasası ile ilgili yukarıdaki bilgilerden hangileri yanlıştır?

- A) Yalnız I
- B) Yalnız II
- C) Yalnız III
- D) I ve II
- E) II ve III

6. Kovuşturmanın başlamasından hükmün kesinleşmesine kadar geçen süreç içerisinde suç şüphesi altında bulunan kişiye ceza hukukunda ne ad verilir?

- A) Müşteki
- B) Müdafii
- C) Şüpheli
- D) Hükümlü
- E) Sanık



1. Demokratik bir toplumda halk, yöneticileri aşağıdakilerden hangisiyle belirler?

- A) Seçim
- B) Yargı yolu
- C) Kuvvetler ayrılığı
- D) Referandum
- E) Halk vetosu

2. Hukuk düzeninin kişilere tanımış olduğu yetkilere ne ad verilir?

- A) Bağımsızlık
- B) Özgürlük
- C) Demokrasi
- D) Hak
- E) Eşitlik

3. Babanın çocuğu tanıma şekline ilişkin olarak aşağıdakilerden hangisi yanlıştır?

- A) Nüfus memuruna yazılı başvuru ile gerçekleştirilebilir.
- B) Vasiyetnamede yapılacak beyan ile gerçekleştirilebilir.
- C) Mahkemeye yazılı başvuru ile gerçekleştirilebilir.
- D) Resmî senette yapılacak beyan ile gerçekleştirilebilir.
- E) Cumhuriyet Savcılığına yazılı başvuru ile gerçekleştirilebilir.

4. Aşağıdakilerden hangisi temsili demokrasi sisteminin ilkelerinden biri değildir?

- A) Halkın vetosu ve halk teşebbüsü ilkesi
- B) Temsili vekalet ilkesi
- C) Bütün milletin temsili ilkesi
- D) Halk egemenliği ilkesi
- E) Kontrol mekanizması olarak kullanılan parlamentonun feshi ve dilekçe hakkı

5. Aşağıdakilerden hangisi parlamenter sistemin güçlü yanlarından biri değildir?

- A) Parlamenter sistemde tıkanıklıkların çözüm yolu vardır.
- B) Parlamenter sistem istikrarlı hükümetlere yol açar.
- C) Parlamenter sistem esnekler.
- D) Parlamenter sistem kutuplaşmaya yol açmaz.
- E) Parlamenter sistemde devlet başkanının ılımlaştırıcı ve uzlaştırıcı bir etkisi vardır.

6. Aşağıdakilerden hangisi şekli anlamda kanundur?

- A) Bütçe Kanunu
- B) Ceza Kanunu
- C) Ticaret Kanunu
- D) İş Kanunu
- E) Borçlar Kanunu



1. Hukuki işlemin şekil ve içerik bakımından kanuna aykırı olması halinde bu işlemin geçersiz sayılmasına ne ad verilir?

- A) Ceza
- B) Cebri icra
- C) Hükümsüzlük
- D) İptal
- E) Tazminat

2. Velâyetin kapsamına ilişkin olarak aşağıdakilerden hangisi yanlıştır?

- A) Çocuğun dinî eğitimini belirleme hakkı ana ve babaya aittir.
- B) Ana ve baba, velâyetleri çerçevesinde üçüncü kişilere karşı çocuklarının yasal temsilcisidirler.
- C) Çocuk, yasal sebep olmaksızın ana ve babadan alınmaz.
- D) Çocuk, ana ve babasının rızası dışında evi terk edemez.
- E) Ana ve baba, velâyetleri çerçevesinde çocuğu temsilen onun adına vakıf kurabilirler.

3. Aşağıda verilenlerden hangisi sosyal devlet ilkesini gerçekleştirmeye yönelik tedbirlerden değildir?

- A) Planlama
- B) Vergi adaleti
- C) Kamulaştırma ve devletleştirme
- D) Hukukun genel ilkelerine bağlılık
- E) Herkese insan haysiyetine yakışır asgari bir hayat düzeyi sağlamaya yönelik tedbirler

4. Belirli veya belirsiz süreli olarak bir işin ücret karşılığında yapılması için işçi ile işveren arasında yapılan sözleşmeye ne ad verilir?

- A) Hizmet sözleşmesi
- B) Satış sözleşmesi
- C) Toplu iş sözleşmesi
- D) Trampa sözleşmesi
- E) Vekalet sözleşmesi

5. 1982 Anayasası'na göre aşağıdakilerden hangisi sosyal ve ekonomik haklar ve ödevlerden biridir?

- A) Dernek kurma hürriyeti
- B) Konut dokunulmazlığı hakkı
- C) Yerleşme ve seyahat hürriyeti
- D) Konut hakkı
- E) Mülkiyet hakkı

6. 1982 Anayasası'na göre aşağıdakilerden hangisi dernek kurma hürriyeti için söylenemez?

- A) Dernekler yargı kararı neticesinde kapatılır.
- B) Vakıfların kuruluşu ile aynı hükümlere tabidir.
- C) Anayasa'da belirtilen sebeplere bağlı olarak kanunla sınırlandırılabilir.
- D) Derneğin kuruluşu için ilgili bakanlığın izni gereklidir.
- E) Kişi, yasal yollarla kurulmuş olan istediği derneğe üye olabilir.





# DATA ULTRA SERİSİ



İvedik Organize Sanayi Matbaacılar Sitesi  
1518 Sok. Mat-Sit İş Merkezi No.:2/20  
Yenimahalle / ANKARA  
Telefon: 0 312 384 29 95 - Belgegeçer: 0312 342 23 58  
WhatsApp: 0 505 925 57 81  
[www.datayayinlari.com](http://www.datayayinlari.com) | [bilgi@datayayinlari.com](mailto:bilgi@datayayinlari.com)

ISBN 978-625-7753-77-7



9 786257 753777