

DATA
ULTRA
SERİSİ

2024
KPSS

A'dan

COĞRAFYA

Z'ye

TAMAMI ÇÖZÜMLÜ

30

DENEME SINAVI



Çözümler için
karekodu
okutunuz



KPSS
COĞRAFYA 30 DENEME SINAVI

EDİTÖR

Turgut MEŞE

YAZAR

Komisyon

©

Bütün hakları Data Yayınları'na aittir.

Yayıncının ve editörün izni olmaksızın, kitabın tümünün veya bir kısmının elektronik, mekanik ya da fotokopi yoluyla basımı, çoğaltılması ve dağıtımı yapılamaz.

**BU KİTAP T.C. KÜLTÜR VE TURİZM BAKANLIĞININ
BANDROLÜ İLE SATILMAKTADIR.**

Sertifika No

40447

ISBN

978-625-8221-47-3

SAYFA TASARIMI

Data Dizgi Ekibi

KAPAK TASARIMI

Data Grafik Ekibi

BASKI VE CİLT

Data Dijital

Ankara



İvedik Organize Sanayi 1518 Sok.
Matbaacılar Sitesi Mat-Sit İş Merkezi No:2/20
Yenimahalle / ANKARA

Tel: 0 312 384 29 95 – 0 505 925 57 81

Faks: 0 312 342 23 58

İÇİNDEKİLER

DENEME SINAVI 1	5
DENEME SINAVI 2	10
DENEME SINAVI 3	15
DENEME SINAVI 4	20
DENEME SINAVI 5	25
DENEME SINAVI 6	30
DENEME SINAVI 7	35
DENEME SINAVI 8	40
DENEME SINAVI 9	45
DENEME SINAVI 10	50
DENEME SINAVI 11	54
DENEME SINAVI 12	58
DENEME SINAVI 13	62
DENEME SINAVI 14	67
DENEME SINAVI 15	72
DENEME SINAVI 16	77
DENEME SINAVI 17	82

DENEME SINAVI 18	87
DENEME SINAVI 19	92
DENEME SINAVI 20	97
DENEME SINAVI 21	101
DENEME SINAVI 22	106
DENEME SINAVI 23	111
DENEME SINAVI 24	116
DENEME SINAVI 25	121
DENEME SINAVI 26	126
DENEME SINAVI 27	131
DENEME SINAVI 28	136
DENEME SINAVI 29	141
DENEME SINAVI 30	145
CEVAP ANAHTARI	149

DATA YAYINLARI

DENEME SINAVI



Çözümler için
karekodu okutunuz.

1

1. Kırklareli'yle İzmir'in gerçek alanlarıyla iz düşüm alanları arasındaki farkın aynı olmaması, bu iki kent arasında aşağıdakilerin hangisi bakımından farklı olmasıyla açıklanabilir?

- A) Enlem derecesi
B) İklim koşulları
C) Bulunduğu kıta
D) Denize yakınlık
E) Yer şekillerindeki eğim ve engebe

2. K bölgesinde yer şekillerinin oluşumunda en fazla etkili olan dış kuvvetin rüzgârlar olduğu bilinmektedir.

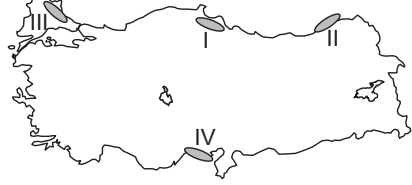
Buna göre K bölgesi ile ilgili;

- I. Günlük sıcaklık farkı fazladır.
II. Toprakta bitki kalıntıları fazladır.
III. Fiziksel ufalanma fazladır.

yukarıdaki yargılardan hangilerine ulaşamaz?

- A) Yalnız I B) Yalnız II C) Yalnız III
D) I ve II E) II ve III

3.



Yukarıda verilen haritada numaralandırılan yerlerin hangilerinde delta ovası bulunmaz?

- A) I ve II B) II ve III C) I ve III
D) II ve IV E) III ve IV

4.

- I. Garig
II. Antropojen bozrık
III. Relikt
IV. Endemik

Yukarıdakilerden hangileri insanların tahribiyle oluşmuş bitki örtüleridir?

- A) I ve II B) II ve III C) I ve III
D) II ve IV E) III ve IV



DENEME SINAVI



Çözümler için
karekodu okutunuz.

2

1. Bir ülkenin coğrafi konumu birçok özelliği etkilemektedir.

Aşağıdakilerden hangisi Türkiye'nin jeopolitik konumundan kaynaklanan olumlu gelişmelerden biri değildir?

- A) Sovyetler Birliği'nin dağılması ile Türk devletlerinin bağımsızlıklarını kazanmaları
B) Rusya ve Hazar Denizi ile Akdeniz ve Avrupa arasındaki petrol ve doğal gaz boru hatlarının önemli bir kısmının Türkiye'den geçmesi
C) Karadeniz Ekonomik İş Birliği Örgütü'ne üye ülkelerle ticaretin gelişmesi
D) Bakü – Tiflis – Kars Demir Yolu Hattı'nın yapılması
E) Mavi Akım Doğal Gaz Boru Hattı'nın açılması

2. Türkiye'de yüksekliği fazla olan yerler geniş alan kaplamaktadır.

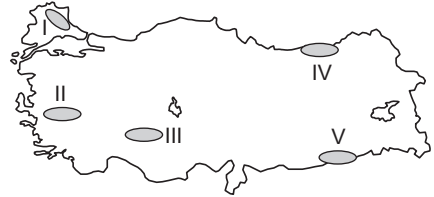
Aşağıdakilerden hangisi bir bölgede yükseltinin fazla olduğunu kesin olarak kanıtlayan özelliklerden biridir?

- A) Bitki örtüsünün çeşitli olması
B) Kimyasal çözünmenin fazla olması
C) Akarsu havzalarının geniş olması
D) Gerçek alan ile iz düşüm alan arasındaki farkın az olması
E) Gerçek sıcaklık ile indirgenmiş sıcaklık arasındaki farkın fazla olması

3. **Aşağıdakilerin hangisinde birlikte verilen coğrafi bölümlerde, çok sayıda doğal gölün bir arada bulunduğu yöreler vardır?**

- A) Güney Marmara – Antalya
B) Ege – İç Batı Anadolu
C) Dicle – Güney Marmara
D) Antalya – Ege
E) İç Batı Anadolu – Dicle

4.



Türkiye'de bazı yörelerde güncel buzullar yer alırken bazı yörelerde Kuaterner'de oluşan buzulların aşındırma ve biriktirme şekilleri görülmektedir.

Yukarıdaki haritada verilen yerlerin hangisinde buzullaşma etkileri görülmektedir?

- A) I B) II C) III D) IV E) V



DENEME SINAVI

3



Çözümler için
karekodu okutunuz.

1. Türkiye'nin aşağıda verilen özelliklerinden hangisi diğer dördünün nedenidir?

- A) Akdeniz ikliminin görülmesi
- B) Batı rüzgârlarının etkili olması
- C) Cephe yağışlarının görülmesi
- D) Dört mevsimin belirgin olması
- E) Orta kuşakta yer alması

2. Türkiye'de en uzun fay hattı olan Kuzey Anadolu Fay Hattı (KAF) üzerinde çok sayıda tektonik ova oluşmuştur.

Aşağıdakilerden hangisi Kuzey Anadolu Fay Hattı üzerinde yer alan ovalardan biri değildir?

- A) Bursa Ovası
- B) Turhal Ovası
- C) Erbaa Ovası
- D) Niksar Ovası
- E) Harran Ovası

3. Pamukkale Travertenleri turizm açısından önemli çekiciliğe sahip olan doğal oluşumlardandır.

Pamukkale Travertenleri'nin oluşumunda hangi olay etkili olmuştur?

- A) Fiziksel çözülmenin fazla olması
- B) Akarsu rejimlerinin düzensiz olması
- C) Bitki örtüsünün tahrip edilmesi
- D) Sularda eriyik halde bulunan kireç taşının çökmesi
- E) Yöredeki kaynak sularının termal tesislerde kullanılması

4.

- I. Nadas alanlarının daralması
- II. Eğimli arazinin fazla olması
- III. Doğal bitki örtüsünün tahrip edilmiş olması

Yukarıda verilenlerden hangileri Türkiye'de toprak erozyonunun şiddetli olmasının nedenlerindedir?

- A) Yalnız I
- B) I ve II
- C) Yalnız II
- D) II ve III
- E) Yalnız III



DENEME SINAVI



Çözümler için
karekodu okutunuz.

4

1. Türkiye'nin matematik konumuyla ilgili olarak aşağıda verilen bilgilerden hangisi yanlıştır?

- A) Türkiye'de çizgisel hız Hatay'da, yer çekimi Sinop'ta en fazladır.
- B) Türkiye 36° - 42° kuzey paralelleri ile 26° - 45° doğu meridyenleri arasında bulunmaktadır.
- C) Türkiye II. ve III. saat dilimleri arasında yer alır.
- D) Türkiye dönenceler dışında olduğu için güneş ışınlarını hiçbir zaman dik açı ile almaz.
- E) Türkiye'nin gerçek alanı ile iz düşüm alanı arasındaki fark azdır.

2. Kuzey Anadolu Dağları'nda,

- Kalıcı kar sınırı
- Orman üst sınırı
- Yerleşme üst sınırı
- Tarım üst sınırının

Toros Dağları'na göre daha alçaktan geçmesinin nedeni hangi özelliğin farklı olmasıdır?

- A) Dağların uzanışının
- B) Bakı etkisinin
- C) Denize göre konumlarının
- D) Toprak özelliklerinin
- E) Buldukları enlemin

3. Kireç taşı ve benzeri suda çözünen kayaların bulunduğu yerlerde oluşan şekillere karstik şekiller denir.

Aşağıdaki yer şekillerinden hangisi karstik aşınım şekillerine verilebilecek örneklerdendir?

- A) Kapadokya Yöresi'nde Peribacaları
- B) Damлатаş Mağarası
- C) Aksaray'daki Mantar Kayalar
- D) Pamukkale Travertenleri
- E) Nemrut Gölü

4.

- I. Eğim fazladır.
- II. Kurak iklim özellikleri görülür.
- III. Bitki örtüsü seyrektrir.
- IV. Besi hayvancılığı yaygındır.

Türkiye'de rüzgâr aşındırma şekillerinin oluştuğu yörelerle ilgili yukarıdaki özelliklerden hangileri ortaktır?

- A) I ve II
- B) I ve III
- C) II ve III
- D) II ve IV
- E) III ve IV



Çözümler için
karekodu okutunuz.

1. Türkiye'de;

- Kuzeye gidildikçe güneş ışınlarının geliş açısının daralması,
- Dağların güney yamacında bitkilerin daha erken olgunlaşması

aşğıdakilerden hangisinin kanıtıdır?

- Etrafının denizlerle çevrili olduğunun
- Kuzey Yarım Küre'de yer aldığıının
- Başlangıç Meridyeninin doğusunda yer aldığıının
- Dağların doğu – batı uzanışlı olduğunun
- Yüksek ve engebeli bir ülke olduğunun

2. Ege Bölgesi'nde horst ve grabenlerin yaygın olması ve bu yapıların kıyıya dik uzanmasının aşğıdakilerden hangisi üzerinde doğrudan etkili olduğu söylenemez?

- Jeotermal kaynakların potansiyelinin fazla olması
- Maki bitkilerinin yayılış alanlarının geniş olması
- Yamaç yağışlarının az olması
- Akarsu rejimlerinin düzensiz olması
- Kıyılarla iç kesimler arasında yol yapım giderinin düşük olması

3. Türkiye'de platolardan genellikle tarım ve hayvancılık etkinliklerinde yararlanır.

- Erzurum – Kars Platosu
- Taşeli Platosu
- Haymana Platosu
- Şanlıurfa Platosu

Yukarıdaki platolardan hangileri tarım etkinliklerinin yaygın olarak yapıldığı platolardan değildir?

- I ve II
- I ve III
- II ve III
- II ve IV
- III ve IV

4. Türkiye'de yaz mevsiminde bazı göllerin su seviyesinde belirgin bir şekilde azalma görülmektedir.

Bu durum aşğıda verilen göllerden hangisinde diğerlerine göre daha belirgindir?

- Van Gölü
- Tuz Gölü
- Çıldır Gölü
- Hazar Gölü
- İznik Gölü



DENEME SINAVI



Çözümler için
karekodu okutunuz.

6

1.



Yukarıdaki haritada verilen yerlerden hangisinde gece uzunluğu yıl boyunca diğerlerine göre fazla değişir?

- A) I B) II C) III D) IV E) V

2. Türkiye'de dağların genellikle doğu – batı doğrultusunda uzanmasının temel nedeni aşağıdakilerden hangisidir?

- A) Fay hatlarının doğu - batı doğrultusunda uzanması
B) Jeosenklinallerde birikmiş olan tortulların esnek yapıda olması
C) Orojenezi oluşturan levhaların kuzey – güney doğrultusunda hareket etmesi
D) Doğu – batı doğrultusunda gidildikçe sıcaklığın azalması
E) Etrafının denizlerle çevrili olması

3. İç Anadolu Bölgesi'nde kapalı havzalar geniş yer kaplar.

Kapalı havzaların oluşmasında yörenin;

- I. çevresine göre çukurda yer alması,
II. bitki örtüsünün seyrek olması,
III. yükseltilerinin fazla olması

özelliklerinden hangileri etkili olmuştur?

- A) Yalnız I
B) I ve II
C) Yalnız II
D) I ve III
E) Yalnız III

4. Aşağıda verilen yerlerin hangisinde sıcak su kaynaklarından jeotermal enerji üretimi yapılmaktadır?

- A) Ankara B) Denizli C) Malatya
D) Trabzon E) Erzincan



DENEME SINAVI

7



Çözümler için
karekodu okutunuz.

1. Sadece Güneş'ten gelen enerjiyle ısınan bir serada, aynı sulama, gübreleme ve toprak koşullarında yetiştirilen bir bitki, aşağıdaki kentlerin hangisinde daha erken olgunlaşır?

- A) Ankara
- B) Tekirdağ
- C) Mersin
- D) Balıkesir
- E) Sinop

2. Akarsuların taşıdığı malzemeyi denizde biriktirmesine delta ovaları denir. Aşağıda Türkiye'nin bazı delta ovaları ve üzerinde oluştukları akarsular verilmiştir.

Bu eşleştirmelerden hangisi yanlıştır?

- A) Çukurova → Seyhan-Ceyhan
- B) Silifke → Manavgat
- C) Balat → Büyük Menderes
- D) Bafra → Kızılırmak
- E) Çarşamba → Yeşilirmak

3. Fiziki haritalarda yer şekilleri renklendirme ile gösterilmektedir. Yükseltisi az olan yerler yeşil renkle, orta yükseklikteki yerler sarı renkle, yüksek yerler kahverengi ile gösterilir.

Türkiye fiziki haritasında aşağıdaki ovalardan hangi ikisi aynı renkle gösterilirler?

- A) Erzurum Ovası – Iğdır Ovası
- B) Konya Ovası – Bursa Ovası
- C) Çukurova – Malatya Ovası
- D) Amik Ovası – Çarşamba Ovası
- E) Yüksekova – Eskişehir Ovası

4. Kyoto Protokolü sera etkisi yapan kirletici gazların atmosfere salınımının sınırlandırılmasını ön görmektedir.

Buna göre, kirletici gazların salınımını azaltmak için enerji üretiminde;

- I. Kömür
- II. Jeotermal enerji
- III. Doğal gaz
- IV. Hidroelektrik enerji

kaynaklarından hangilerinin paylarının artırılması gerekir?

- A) I ve II
- B) I ve III
- C) II ve III
- D) II ve IV
- E) III ve IV



DENEME SINAVI

8



Çözümler için
karekodu okutunuz.

1. Aşağıdakilerden hangisi Türkiye'nin jeopolitik konumunun önemini arttıran özellikler arasında değildir?

- A) Farklı ekonomik özelliklere sahip olan bölgeler arasında yer alması
- B) Önemli enerji taşıma hatlarının güzergâhında yer alması
- C) Çanakkale ve İstanbul boğazlarına sahip olması
- D) Akarsuların rejimlerinin genellikle düzensiz olması
- E) Transit ticaret potansiyelinin fazla olması

2. Türkiye'de bazı kıyılarda falez oluşumları yaygındır.

Aşağıda verilen yörelerin hangisinde falez oluşumlarının yaygın olduğu söylenemez?

- A) Taşeli Yöresi kıyıları
- B) Doğu Karadeniz kıyıları
- C) Gediz Nehri kıyıları
- D) Teke Yöresi kıyıları
- E) Zonguldak kıyıları

3.

- I. Göksu Nehri
- II. Seyhan Nehri
- III. Asi Nehri
- IV. Ceyhan Nehri

Yukarıdaki akarsulardan hangileri Türkiye'nin en büyük delta ovası olan Çukurova'yı oluşturan akarsulardır?

- A) I ve II
- B) I ve III
- C) II ve III
- D) II ve IV
- E) III ve IV

4. Türkiye'de Batı Toroslar, Orta Toroslar ile Ege ve İç Anadolu bölgelerinin güney kesimlerinde karstik kaynaklar yaygındır.

Aşağıda verilenlerden hangisi karstik kaynakların ortak özelliklerinden biridir?

- A) Buldukları arazide eğimin fazla olması
- B) Sularının kireçli olması
- C) Akımlarında mevsimden mevsime değişme olması
- D) Kapalı havzada bulunmaları
- E) Sularının sıcak olması



DENEME SINAVI



Çözümler için
karekodu okutunuz.

9

1.

- I. Ermenistan'la Azerbaycan arasında yaşanan sorunlar
- II. Irak'ta yaşanan iç karışıklıklar
- III. Suriye'deki iç savaş nedeniyle Rusya ile yaşanan sorunlar
- IV. Bosna Hersek sorunu

Yukarıda verilen Türkiye'nin jeopolitik konumu ile ilgili yaşanan sorunlardan hangilerinin Türkiye'nin ekonomisi üzerindeki olumsuz etkileri daha fazladır?

- A) I ve II
- B) I ve III
- C) II ve III
- D) II ve IV
- E) III ve IV

2. Orta Karadeniz Bölümü'nde yükselti ve engebe Doğu ve Batı Karadeniz bölümlerine göre daha azdır.

Aşağıdakilerden hangisi Orta Karadeniz Bölümü'nde yükselti ve engebenin Doğu ve Batı Karadeniz bölümlerine göre az olmasından etkilenen özelliklerden biri değildir?

- A) Dağınık yerleşmelerin daha az olması
- B) Tarım alanlarının daha geniş olması
- C) Denizelliğin etki alanının daha geniş olması
- D) Kıyılarla iç kısımlar arasındaki yol yapım giderlerinin daha az olması
- E) Dağların kıyıya paralel uzanması

3. Türkiye'deki platoların genellikle yüksekte yer almasında aşağıdaki olaylardan hangisi etkili olmuştur?

- A) Üçüncü Jeolojik Zaman'da arazinin toptan yükselmesi
- B) Karstik süreçlerin etkili olması
- C) Dağların doğu – batı doğrultusunda uzanması
- D) Akarsuların derin vadiler oluşturmaması
- E) Kayaçlarda fiziksel (mekanik) çözülmenin fazla olması

4.

- I. Enerji üretimi
- II. Ulaşım
- III. Tarımda sulama
- IV. Turizm ve spor

Türkiye'deki akarsulardan yukarıda verilen alanlarda hangilerinde daha çok yararlanır?

- A) I ve II
- B) I ve III
- C) II ve III
- D) II ve IV
- E) III ve IV



DENEME SINAVI



Çözümler için
karekodu okutunuz.

10

1. Türkiye'de yaz mevsiminde sıcak hava kütleleri, kış mevsiminde soğuk hava kütleleri etkili olmaktadır.

Türkiye iklimi üzerinde farklı hava kütlelerinin etkili olmasında Türkiye'nin hangi özelliği etkili olmaktadır?

- A) Engebelliğin fazla olması
B) Etrafının denizlerle çevrili olması
C) Orta kuşakta yer alması
D) Çeşitli toprak tiplerinin bulunması
E) Dağların doğu batı yönünde uzanması

2. Türkiye'deki fay hatlarının uzanışı ile;

- I. şiddetli depremlerin görüldüğü yerler,
II. jeotermal kaynaklar,
III. karstik araziler,
IV. rüzgâr aşındırma biriktirme şekilleri

özelliklerinden hangilerinin dağılışı arasında bir ilişki vardır?

- A) I ve II
B) I ve III
C) II ve III
D) II ve IV
E) III ve IV

3. Tuz Gölü çevresinden Konya Ovası'nı, Taşeli Yöresi'ni içine alarak Akdeniz'e kadar uzanan bir alanın coğrafi özellikleri ile ilgili olarak hazırlanmış bir proje ödevinde aşağıda verilen bilgilerden hangisine ulaşılmaz?

- A) Yörede kapalı havzalar yer almaktadır.
B) Karstik oluşumlar yaygındır.
C) Bozkır, ağaçlı bozkır, orman ve maki bitkileri yaygındır.
D) Tektonik depremlerin az görüldüğü alanlar yer almaktadır.
E) Kırsal kesimde dağınık yerleşmeler fazladır.

4. Türkiye'de bazı yörelerde yaz mevsiminde akarsuların akımlarının düşük olması bu yörelerin hangi özelliği ile ilgilidir?

- A) Bitki örtüsü
B) Yağış rejimi
C) Toprak özellikleri
D) Yer şekilleri
E) Akarsuların uzunlukları



Çözümler için
karekodu okutunuz.

1.

- I. Sıcaklık ortalamaları
- II. Maden çeşitliliği
- III. Depremlerin etkili olduğu alanlar

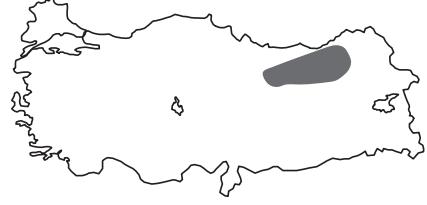
Türkiye'de yüksekliğin çeşitlilik göstermesi yukarıdakilerden hangileri üzerinde etkili değildir?

- A) Yalnız I
- B) I ve II
- C) Yalnız II
- D) I ve III
- E) II ve III

2. Aşağıdaki göllerden hangisi doğal set göllerine örnek gösterilemez?

- A) Tuz Gölü
- B) Tortum Gölü
- C) Mogan Gölü
- D) Büyük Çekmece Gölü
- E) Uzungöl

3.



Haritadaki taralı alanda hangi bitki örtüsü yaygındır?

- A) Alpin çayır
- B) Maki
- C) Bozkır
- D) Savan
- E) Orman

4. Türkiye'de tarım alanında son yıllarda önemli gelişmeler olmuştur.

Aşağıda tarımla ilgili verilen gelişmelerden hangisi doğru değildir?

- A) Sulanan alanlar genişlemektedir.
- B) Dış satımda tarım ürünlerinin payı artmaktadır.
- C) Tarımda makine kullanımı yaygınlaşmaktadır.
- D) Kaliteli tohum kullanımı verimi artırmaktadır.
- E) Nadas alanları azalmaktadır.



Çözümler için
karekodu okutunuz.

1.



Harita üzerinde gösterilen merkezlerle ilgili yapılan yorumlardan hangisi doğru değildir?

- A) Yerel saat farkının fazla olduğu merkezler Hakkâri ve Edirne'dir.
- B) Tan ve grup süresi en kısa Hatay'da yaşanır.
- C) Samsun ve Hatay'da güneş ekinokslarda aynı anda doğar ve aynı anda batar.
- D) Ulusal saat ile yerel saat arasındaki farkın en az olduğu yer Muğla'dır.
- E) Güneş en erken Hakkâri'de doğar, en geç Edirne'de batar.

2. Türkiye'de özel konumun sonucunda birçok iklim bir arada yaşanmaktadır.

Aşağıdakilerden hangisi Türkiye'de farklı iklimlerin görülmesinde etkili olan faktörlerden biri değildir?

- A) Orta kuşakta olması
- B) Bitki örtüsü çeşitliliğinin fazla olması
- C) Üç tarafının denizlerle çevrili olması
- D) Dağların kıyıya göre konum ve uzunlarının farkı olması
- E) Farklı karakterlerdeki basınç merkezleri ve kara kütleleri arasında yer alması

3. Türkiye'nin fiziki özellikleri ile ilgili aşağıda verilen bilgilerden hangisi doğru değildir?

- A) Türkiye'de dağlar genel itibarıyla Doğu - Batı doğrultusunda uzanış göstermektedir.
- B) Türkiye'de yükselti batıdan doğuya doğru artmaktadır.
- C) Türkiye'de ortalama yükseltinin en fazla olduğu bölge Doğu Anadolu, en az olduğu bölge Marmara'dır.
- D) Anadolu farklı jeolojik zamanlarda oluştuğu için maden yatakları ve çeşitliliği bakımından zengindir.
- E) Anadolu'daki dağların büyük çoğunluğu I. Jeolojik Zaman'da oluşmuştur.

4. Türkiye'nin şekillenmesinde en çok etkili olan iç kuvvet III. zamanda meydana gelen dağ oluşumudur.

Aşağıda verilen dağlardan hangisinin oluşumu farklıdır?

- A) Kaçkar Dağları
- B) Bolkar Dağları
- C) Uludağ
- D) Köroğlu Dağları
- E) Küre Dağları

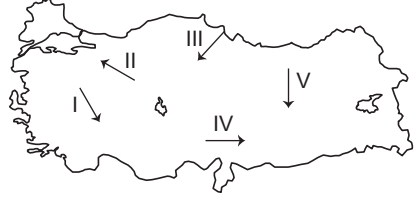


Çözümler için
karekodu okutunuz.

1. Aşağıdaki kent çiftlerinden hangi ikisi arasındaki sıcaklık değerlerinin farklı olması birden fazla nedene bağlıdır?

- A) Antalya - Şanlıurfa
- B) Ankara - Erzurum
- C) Hatay - Elazığ
- D) Muğla - Ordu
- E) İzmir - İstanbul

3.



Yukarıdaki haritada gösterilen oklar yönünde ilerlendiğinde, hangisinde ulaşılan yerde ürün çeşitliliğinin arttığı görülür?

- A) I
- B) II
- C) III
- D) IV
- E) V

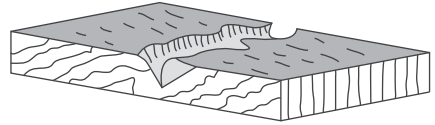
2. Toprak ve iklim özelliklerine göre bazı yörelerimizde belirli meyvelerin üretimi yoğunluk kazanmıştır.

Aşağıda bazı yerler ve bu yerlerde yoğunlaşan meyveler verilmiştir.

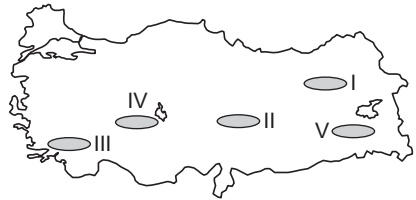
Bu eşleştirmelerden hangisi doğru değildir?

- A) Aydın - İncir
- B) Bursa - Şeftali
- C) Malatya - Kayısı
- D) Çanakkale - Üzüm
- E) Isparta - Elma

4.



Yukarıda çentik vadinin oluşumu gösterilmiştir.



Bu vadinin oluşum şartları düşünülürdüğünde haritadaki numaralı yerlerin hangisinde görülme olasılığı en azdır?

- A) I
- B) II
- C) III
- D) IV
- E) V

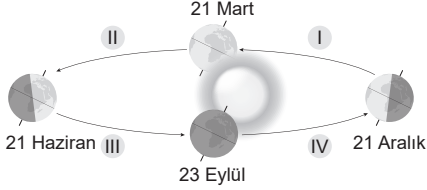
DENEME SINAVI



Çözümler için
karekodu okutunuz.

14

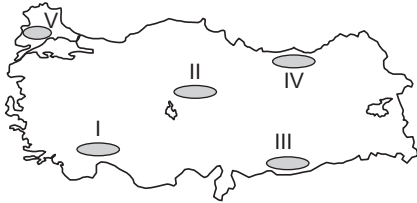
1.



Yukarıda verilen noktalardan hangilerinde, Türkiye'de gündüz süresi gece süresinden daha uzundur?

- A) I ve II B) I ve III C) II ve III
D) IV ve I E) II ve IV

2.



Haritada numaralandırılmış alanlardan hangisinin kaynak sularında kireç oranının daha yüksek olması beklenir?

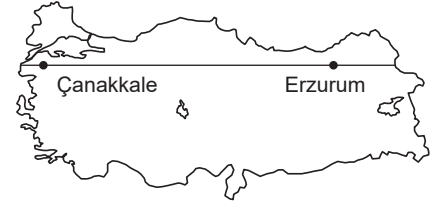
- A) I B) II C) III D) IV E) V

3. Doğu Anadolu Bölgesi'nin Erzurum-Kars Bölümü'nde kışlar uzun ve soğuk geçmektedir. Bölüm içerisinde yer alan Iğdır'da ise soğuğa dayanıksız bir tarım ürünü olan pamuk yetiştirilmektedir.

Bu durumun temel nedeni aşağıdakilerden hangisidir?

- A) Tarım alanlarının verimliliği
B) Pamuklu dokumanın gelişmiş olması
C) Hayvancılıktan elde edilen gelirin az olması
D) Dağlarla çevrili alçak bir alan olması
E) Yağış rejimi

4.



Çanakkale ve Erzurum yaklaşık olarak aynı enlemler üzerindedir.

Buna göre Erzurum'dan Çanakkale'ye doğru giden bir kişi yaptığı gözlemler sonucunda, aşağıdakilerden hangisinin değiştiğini söyleyebilir?

- A) Ekvator'a olan uzaklığı
B) Gündüz süreleri
C) 1 metrelik cisimlerin öğle vakti oluşan gölge boyu
D) Güneş'in batış saati
E) Çizgisel hızı

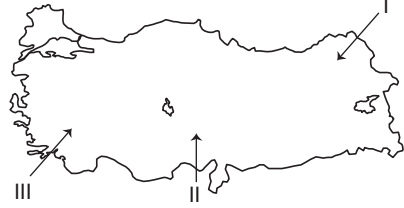


Çözümler için
karekodu okutunuz.

1. Balıkesir ve Aydın'da öğle vakitlerinin aynı anda yaşanması bu iki ilimin hangi özelliğinden kaynaklanır?

- A) Buldukları enlem
- B) Buldukları boylam
- C) Denize göre konumları
- D) Ortalama yükseklikleri
- E) Komşu bölgelerde yer almaları

3.



Yukarıdaki haritada Türkiye'de etkili olan yerel rüzgârlar verildiğinde, bunlar sırasıyla aşağıdakilerden hangisi olur?

- | | I | II | III |
|----|--------|-----------|-----------|
| A) | Kible | Poyraz | Yıldız |
| B) | Yıldız | Keşişleme | Lodos |
| C) | Poyraz | Yıldız | Keşişleme |
| D) | Lodos | Karayel | Poyraz |
| E) | Poyraz | Kible | Lodos |

2. Toprak erozyonu, günümüzde en önemli çevre sorunlarından biridir.

Aşağıdakilerden hangisi, Türkiye'de toprak erozyonunu artıran etkenlerden biri değildir?

- A) Eğimli arazilerinin fazlalığı
- B) Ormanların tahrip edilmesi
- C) Eğimli arazilerde taraçalar yapılması
- D) Meraların tahrip edilmesi
- E) Toprağın dinlenmesi için nadasa bırakılması

4. Akarsular tarafından yarılmış yüksek düzlüklere plato denir.

Aşağıdaki platolardan hangisi oluşum bakımından diğerlerinden farklıdır?

- A) Yazılıkaya
- B) Cihanbeyli
- C) Erzurum - Kars
- D) Uzunyayla
- E) Haymana



Çözümler için
karekodu okutunuz.

1. Aşağıdaki özelliklerden hangisi Türkiye'nin özel konumu ile ilgili değildir?

- A) Önemli enerji taşıma hatlarının geçmesi
- B) Cephe yağışlarının etkili olması
- C) Transit ticaret potansiyelinin yüksek olması
- D) Yükselti ve engebenin kısa mesafelerde değişmesi
- E) Çanakkale ve İstanbul boğazlarına sahip olması

3. Aşağıdaki tarım ürünlerinden hangisinin belirli bir tarım bölgesinde yetiştirildiği söylenemez?

- A) Zeytin
- B) Çay
- C) İncir
- D) Muz
- E) Şeker pancarı

2. Türkiye'de kışın ve ilkbaharda etkili olan, etkili olduğunda havanın ılık ve yağmurlu olmasını sağlayan basınç merkezi aşağıdakilerden hangisidir?

- A) Sibiryada Termik Yüksek Basınç
- B) İzlanda Dinamik Alçak Basınç
- C) Asor Dinamik Yüksek Basınç
- D) Basra Termik Alçak Basınç
- E) Aleut Dinamik Alçak Basınç

4. Aşağıdaki dış kuvvetlerden hangisi ülkemizde en fazla etkilidir?

- A) Dalgalar
- B) Rüzgârlar
- C) Akarsular
- D) Yer altı suları
- E) Akıntılar



DENEME SINAVI



Çözümler için
karekodu okutunuz.

17

1. Aşağıda Türkiye ile ilgili verilen bilgilerden hangisi doğru değildir?

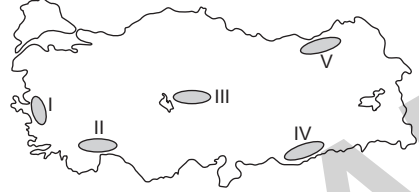
- A) Komşuları içinde İran'dan sonra en geniş alana sahip ülkedir.
- B) Kuzey – güney doğrultusunda genişliği doğu – batı doğrultusundaki genişliğinden fazladır.
- C) En uzun kara sınırı Suriye ile olan sınırdır.
- D) En uzun kıyı çizgisi Ege Denizi'ndeki kıyılarıdır.
- E) En eski sınırı İran ile olan sınırdır.

2. Karstik arazilerin akarsular tarafından derince yarılması ve parçalanması sonucu karstik platolar oluşmaktadır. Taşeli ve Teke platoları ise bu oluşuma örnektir.

Taşeli Platosu'nun oluşumunda aşağıda verilen akarsularımızdan hangisi etkili olmuştur?

- A) Seyhan
- B) Göksu
- C) Dalaman
- D) Asi
- E) Küçük Menderes

3. Türkiye'de yeryüzü şekilleri, bitki örtüsü ve iklim koşulları erozyonun fazla olmasında etkili olmuştur.



Buna göre haritada numaralandırılarak gösterilen alanlardan hangisinde rüzgâr erozyonu daha şiddetlidir?

- A) I ve II
- B) II ve III
- C) I ve IV
- D) II ve V
- E) III ve IV

4.

Merkezler	Gerçek sıcaklık (°C)	İndirgenmiş sıcaklık
I	20	23
II	6	12
III	-2	12
IV	5	14
V	8	18

Yukarıdaki tabloda farklı merkezlerin gerçek ve indirgenmiş sıcaklıkları verilmiştir.

Ulaşım faaliyetleri üzerinde yükseltinin olumsuz etkisini düşünürsek hangi merkezde ulaşım yolu yapım maliyeti en düşük olur?

- A) I
- B) II
- C) III
- D) IV
- E) V

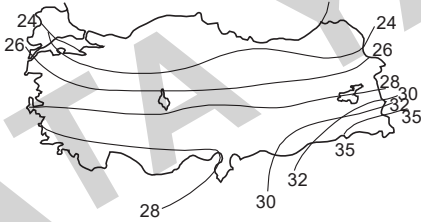


Çözümler için
karekodu okutunuz.

1. 21 Mart günü, güneş A noktasında doğduktan 12 saat sonra B noktasında batmıştır.

Buna göre bu iki merkez için aşağıdakilerden hangisini kesin olarak söyleyebiliriz?

- A) Buldukları enlem derecesi aynıdır.
B) Aynı yarım kürede bulunmaktadırlar.
C) İklim özellikleri aynıdır.
D) Aynı meridyen üzerinde yer almaktadırlar.
E) Özel konumları birbirine benzemektedir.
2. Temmuz ayı indirgenmiş sıcaklık ortalamalarının dağılışı aşağıdaki haritada verilmiştir.

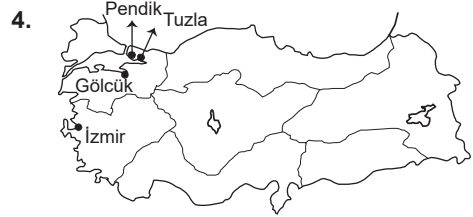


Bu haritadan yararlanarak aşağıdakilerden hangisine ulaşamaz?

- A) Karadeniz Bölgesi sıcaklık farklarının en az olduğu yerdir.
B) En yüksek sıcaklıklar Güneydoğu Anadolu Bölgesi'ndedir.
C) Akdeniz Bölgesi' nin sıcaklık değerleri Güneydoğu Anadolu Bölgesi'nden düşüktür.
D) Sıcaklıklar enleme bağlı olarak kuzeye gidildikçe azalmaktadır.
E) İç bölgelerin sıcaklığı Karadeniz Bölgesi'nin sıcaklığından daha yüksektir.

3. Türkiye iklimi ile ilgili verilen bilgilerden hangisi doğru değildir?

- A) Karadeniz kıyılarında sıcaklık farkının az olmasının nedeni nemliliktir.
B) Doğuya doğru gidildikçe sıcaklığın değişmesinin nedeni yükseldir.
C) Akdeniz, Ege ve Marmara kıyılarında sıcaklık ortalamasının aynı olmasının nedeni enlemdir.
D) Cephesel yağışların daha sık görülmesinin nedeni matematik konum ile ilgilidir.
E) Karadeniz kıyılarının bol yağış almasının nedeni bölgenin kuzeyde yer almasıdır.



Haritada gösterilen yerlerde üretimi yapılan makine endüstrisi kolu aşağıdakilerden hangisidir?

- A) Otomotiv sanayi
B) Uçak sanayi
C) Savunma sanayi
D) Tersane sanayi
E) Demir yolu taşıtları



Çözümler için
karekodu okutunuz.

1. Muğla, Ankara ve Ardahan'da öğle vaktinde gölgenin yıl boyunca kuzeyi göstermesi, kentlerin hangi özelliklerinin sonucudur?

- A) Buldukları boylamın
- B) Buldukları enlemin
- C) Ortalama yüksekliklerinin
- D) Denize göre konumlarının
- E) Yer şekillerinin uzanışının

2. Sularını denize ulaştıran havzalara açık havza, ulaştıramayan havzalara ise kapalı havza denir.

Havzaların açık ya da kapalı olmasında,

- I. Akarsuyun uzunluğu
- II. Akarsuyun akış hızı
- III. Yer şekilleri
- IV. İklim özellikleri

verilenlerden hangileri daha çok etkilidir?

- A) I ve II
- B) II ve III
- C) I ve III
- D) I, II ve III
- E) III ve IV

3.

- I. Boğazların oluşumu
- II. İnsan hayatının başlaması
- III. Linyit, tuz, bor mineralinin oluşması
- IV. Taş kömürünün oluşması

Yukarıda farklı jeolojik zamanlarda oluşan özellikler verilmiştir.

Aşağıdakilerden hangisinde jeolojik zamanların günümüzden geçmişe doğru sıralanışı doğru olarak verilmiştir?

- A) III – II – I – IV
- B) I – III – IV – II
- C) I – III – II – IV
- D) IV – II – III – I
- E) II – I – III – IV

4. Türkiye'de fay kaynaklarının fazla yer tutmasının başlıca nedeni aşağıdakilerden hangisidir?

- A) Arazinin engebeli olması
- B) Ortalama yükseltinin fazla olması
- C) Ilıman kuşakta yer alması
- D) Çeşitli iklim tiplerinin görülmesi
- E) Yer yapısının kırıklı olması



DENEME SINAVI

20



Çözümler için
karekodu okutunuz.

1. Aşağıdakilerden hangisi, Türkiye'nin hem özel konumundan hem de matematik konumundan etkilenir?

- A) Transit ticaret potansiyeli
- B) İklim özellikleri
- C) Kullandığı ulusal saat dilimi
- D) Tarım alanlarının genişliği
- E) Limanların gelişmişliği

2.

- Akdeniz Bölgesi'nde kırmızı renkli topraklar (terra – rossa) yaygındır.
- İç Anadolu Bölgesi'ndeki volkanik arazilerde verimli topraklar oluşmuştur.

Yukarıda verilenler toprak oluşumunda aşağıdakilerden hangisinin etkili olduğunu gösterir?

- A) Ana kaya özelliğinin
- B) Bitki örtüsünün
- C) Yüzey şekillerinin
- D) Akarsu ağının
- E) Tarım etkinlikleri

3. Türkiye'nin en büyük barajları olan Atatürk, Karakaya ve Keban barajları hangi akarsu üzerine yapılmıştır?

- A) Dicle
- B) Fırat
- C) Aras
- D) Kızılırmak
- E) Ceyhan

4. Türkiye'de nüfus artış hızı gelişmiş ülkelere göre yüksektir.

Aşağıdakilerden hangisi Türkiye'de nüfus artış hızının yüksek olmasının olumsuz sonuçlarından değildir?

- A) Tüketici nüfusun artması
- B) Kalkınma için yapılan yatırımların azalması
- C) Kişi başına düşen gelirin azalması
- D) Genç iş gücünün artması
- E) Temel gereksinimlerin karşılanmasında güçlükler yaşanması

5. Türkiye'de nüfusun çoğu kıyı yörelerinde toplanmıştır.

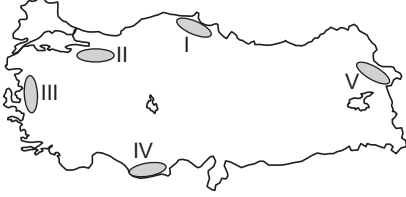
Aşağıdakilerden hangisi kıyılarda nüfusun fazla olmasını diğerleri kadar etkilememiştir?

- A) İklimin elverişli olması
- B) Turizm etkinliklerinin gelişmiş olması
- C) Tarıma elverişli arazilerin bulunması
- D) Maden çıkarımının yaygın olması
- E) İşlek limanların yer alması



Çözümler için
karekodu okutunuz.

1.



Yukarıdaki haritada işaretli yerlerden hangisinde 21 Haziran'da gece süresi en kısadır?

- A) I B) II C) III D) IV E) V

2. Aşağıdakilerden hangisi Türkiye'nin nüfus özellikleri ile ilgili doğru bir bilgi değildir?

- A) Nüfusun yarıdan fazlası şehirlerde yaşar.
B) Kırsal kesimde doğurganlık oranı daha yüksektir.
C) Kıyı ovalarında aritmetik nüfus yoğunluğu yüksektir.
D) Türkiye genç nüfuslu bir ülkedir.
E) İç Anadolu Bölgesi'nde tarımsal nüfus yoğunluğu yüksektir.

3. Aşağıdakilerden hangisi Türkiye'de kentlerde, hızlı göç almanın doğurduğu sonuçlardan biri değildir?

- A) İş gücü açığının artması
B) Erkek nüfus oranının artması
C) Çevre sorunlarının artması
D) Sağlık ve eğitim hizmetlerinde aksamların görülmesi
E) Altyapı sorunlarının artması

4. Gediz ve Büyük Menderes vadilerinde yaz mevsiminde nüfusun artmasında aşağıda verilenlerden hangisinin etkisi en fazladır?

- A) Fabrikalarda üretimin artması
B) Turizm etkinliklerinin artması
C) Yaylacılığın başlaması
D) Tarımda iş gücü gereksiniminin artması
E) Maden işletmelerinin çalışması



DENEME SINAVI



Çözümler için
karekodu okutunuz.

22

1.



- Gece – gündüz süre farkı en fazladır.
- Gece – gündüz sıcaklık farkı en düşüktür.
- Yağış rejimi düzenlidir.

Yukarıdaki özelliklerin tamamı haritada verilen kentlerden hangisine aittir?

- A) Antalya
- B) İzmir
- C) Ankara
- D) Kars
- E) Sinop

2. Türkiye'de çeşitli iklim özellikleri görülür.

Aşağıdakilerden hangisi, Türkiye'de iklim çeşitliliğini etkileyen bir özellik değildir?

- A) Dağların uzanışı
- B) Bitki örtüsünün çeşitliliği
- C) Yükseltilerin çeşitliliği
- D) Denize göre konum
- E) Yer şekillerinin çeşitliliği

3. Isınan havanın yükselmesi ile ilkbaharda öğleden sonra meydana gelen genellikle kısa süreli sağanak şeklinde görülen yağışlara, konveksiyonel (yükselim) yağışları denir.

Halk arasında kırkikindi yağışları adı verilen bu yağışlar hangi bölgede daha fazla görülür?

- A) Akdeniz Bölgesi
- B) Karadeniz Bölgesi
- C) Ege Bölgesi
- D) İç Anadolu Bölgesi
- E) Marmara Bölgesi

4. **Aşağıdakilerden hangisi, Türkiye'nin yüzey şekillerinin özellikleri ile ilgili doğru bir bilgi değildir?**

- A) Kuzeye doğru gidildikçe yükseklik sürekli artar.
- B) Akarsu aşındırma ve biriktirme şekilleri yaygındır.
- C) Dağlar genellikle doğu – batı yönünde uzanır.
- D) Çanakkale ve İstanbul boğazları eski akarsu vadileridir.
- E) Akdeniz Bölgesi'nde karstik ovalar yaygındır.



1.

- I. En uzun gündüz süresinin 21 Haziran'da yaşanması
- II. 21 Mart'ta gece – gündüz sürelerinin eşit olması
- III. 21 Mart'tan sonra gündüzlerin gecelerden uzun olması
- IV. 23 Eylül'de güneşin tam doğudan doğup tam batıdan batması

Türkiye'nin Kuzey Yarım Küre'de yer aldığını açıklamak isteyen bir öğretmen yukarıda verilen özelliklerden hangilerini kanıt olarak kullanabilir?

- A) I ve II
- B) I ve III
- C) II ve III
- D) II ve IV
- E) III ve IV

2. Aşağıdakilerden hangisi üzerinde Türkiye'nin yer şekillerinin etkisi yoktur?

- A) Kısa mesafelerde iklimin değişmesinde
- B) Ege Bölgesi'nde kışların ılık ve yağışlı geçmesinde
- C) Kıyı ile iç kesimler arasındaki iklim farklılığında
- D) Ege kıyılarındaki şelf alanının, Akdeniz kıyılarından geniş olmasında
- E) Kıyı ile iç kesimler arasındaki ulaşım gücünde

3. İç Anadolu Bölgesi'nin kırsalındaki konutlarda yapı malzemesi olarak genelde kerpici; Karadeniz Bölgesi'nde genelde ahşabın; Akdeniz Bölgesi'nde ise genelde taşın kullanıldığı görülmektedir.

Aşağıdakilerden hangisi bu farklılıkların nedenidir?

- A) Çevreden kolayca temin edilmesi
- B) Gelenek ve görenekler
- C) Her konutun işlevinin farklı olması
- D) Yeryüzü şekillerinin farklılığı
- E) Yükselti farklılığı

4. Türkiye'de kentsel nüfus, kırsal nüfustan daha fazladır.

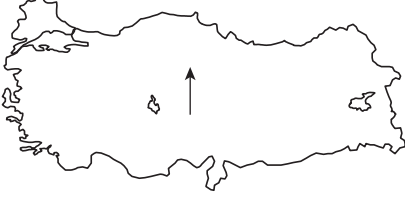
Bu durumun en belirgin olduğu bölgenin Marmara Bölgesi olmasında, aşağıda verilenlerden hangisi daha etkili olmuştur?

- A) Sanayinin gelişmiş olması
- B) Tarım alanlarının verimsiz olması
- C) Eğitimli nüfusun fazla olması
- D) Boğazların bulunması
- E) Doğum oranının yüksek olması



Çözümler için
karekodu okutunuz.

1.



Ülkemizde ok yönünde güneyden kuzeye hareket edilmesi durumunda aşağıdakilerden hangisinin gerçekleşmesi kesin değildir?

- A) Yerel saat değişmez.
- B) Çizgisel hız azalır.
- C) Gündüz süreleri uzar.
- D) Gölge boyları uzar.
- E) Gece-gündüz arasındaki süre farkı artar.

2.



Yukarıda verilen noktaların hangisinde deprem riski daha fazladır?

- A) I B) II C) III D) IV E) V

3. Aşağıdakilerden hangisi içerisinde yer aldığı bölgenin en yağışlı yeri değildir?

- A) Rize çevresi
- B) Antalya çevresi
- C) Menteşe çevresi
- D) Malatya çevresi
- E) Yıldız Dağları

4. Yağışın mevsimlere dağılışı hangisini etkilemez?

- A) Yıllık sıcaklık farkını
- B) Tarım ürünlerinin çeşidini
- C) Antropojen bozkırların yayılışı alanını
- D) Toprak oluşumunu ve özelliklerini
- E) Erozyonun şiddetini



Çözümler için
karekodu okutunuz.

1.



Yukarıdaki haritada İzmir' den Van'a ok yönünde gidecek olan bir kişi, yolun vardığı kentlerde nelerin değişmediğini görebilir?

- A) Toprak tiplerinin
- B) Güneş'in daha erken doğduğunu
- C) İzmir' de yaşanan gece – gündüz süresinin gittiği kentlerde farklı olduğunu
- D) Van' da güneşin İzmir' e göre daha erken battığını
- E) Dağların yükseltisinin arttığını

2.

- I. Delta
- II. Ova
- III. Yalıyar
- IV. Sarkıt – dikit
- V. Vadi

Yukarıda verilenlerden hangisi akarsuların aşındırma yoluyla oluşturduğu yer şekillerinden biridir?

- A) I B) II C) III D) IV E) V

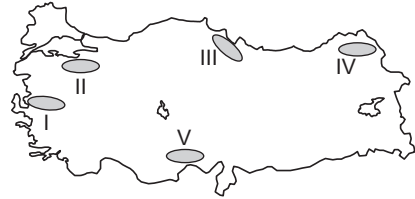
3.

- I. Tortum Gölü
- II. Erçek Gölü
- III. Mogan Gölü
- IV. İznik Gölü
- V. Büyük Çekmece Gölü

Yukarıdaki göller oluşum bakımından gruplandırılırsa hangisi dışarıda yer alır?

- A) I B) II C) III D) IV E) V

4.



Mutlak nem sıcaklıkla doğru orantılıdır.

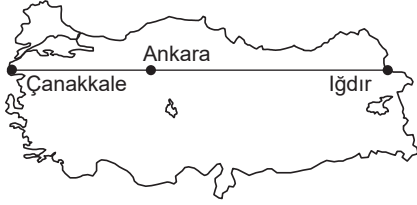
Buna göre işaretlenmiş yerlerin hangisinde yaz mevsiminde mutlak nemin en fazla olması beklenir?

- A) I B) II C) III D) IV E) V



Çözümler için
karekodu okutunuz.

1. Aşağıdaki haritada yaklaşık olarak aynı paralel üzerinde bulunan Çanakkale, Ankara ve Iğdır kentlerinin konumları verilmiştir.



Buna göre Çanakkale, Ankara ve Iğdır'ın hangi özellikleri bakımından daha çok benzerlik gösterdiği söylenebilir?

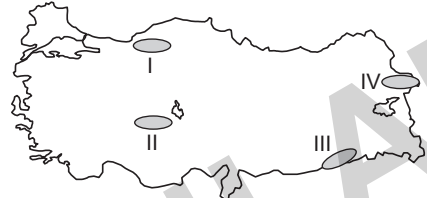
- A) Sıcaklık değerleri
B) Yerel saatleri
C) Nem oranları
D) Gündüz süreleri
E) Yükseklik değerleri

2. Türkiye'de kıyıların oluşumunda çeşitli etkenler rol oynadığı için farklı kıyı tipleri görülmektedir.

Çanakkale ve İstanbul boğazları oluşumlarına göre hangi kıyı grubunda yer alır?

- A) Ria tipi kıyı
B) Dalmaçya tipi kıyı
C) Haliç tipi kıyı
D) Liman tipi kıyı
E) Enine kıyı

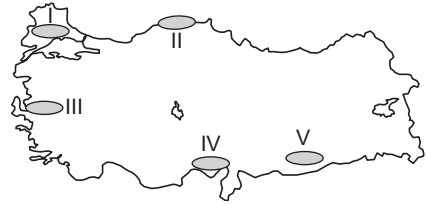
3. Bazı akarsular denize ulaşamaz, göle dökülür, buharlaşma ve sulamayla veya karstik yörelerde kaybolur. Denize ulaşamayan akarsuların havzasına kapalı havza denir.



Haritada verilen yerlerden hangilerinde akarsu havzası kapalı havza özelliğindedir?

- A) I ve II B) I ve III C) II ve III
D) II ve IV E) III ve IV

- 4.



Gelişme döneminde nemlilik, olgunlaşma döneminde sıcak ve kurak hava koşulları isteyen buğday bitkisinin yukarıdaki haritada verilen yerlerden hangisinde yetiştirilmesi daha zordur?

- A) I B) II C) III D) IV E) V



Çözümler için
karekodu okutunuz.

1.

- I. Mısır
- II. Pamuk
- III. Buğday
- IV. Sebze

Türkiye’de bir yörede yaz aylarının yağışlı geçmesi yukarıdaki bitkilerden hangilerinin yetişmesini olumsuz etkiler?

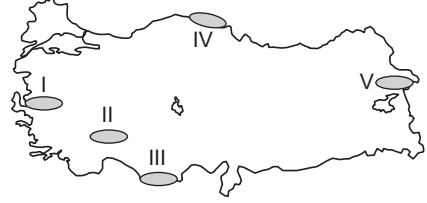
- A) I ve II
- B) I ve III
- C) II ve III
- D) II ve IV
- E) III ve IV

2. Gerçek alan ile izdüşüm alan arasındaki fark yer şekillerinin sade olduğu yerlerde az, engebeli yerlerde fazladır.

Buna göre, aşağıda verilen bölümlerden hangisinde gerçek alan ile izdüşüm alan arasındaki farkın diğerlerinden daha az olduğu söylenebilir?

- A) Doğu Karadeniz Bölümü
- B) Yukarı Fırat Bölümü
- C) Antalya Bölümü
- D) Güney Marmara Bölümü
- E) Yukarı Murat – Van Bölümü

3.



Yukarıdaki haritada verilen yerlerden hangisinde gece – gündüz süreleri arasındaki fark diğerlerinden daha azdır?

- A) I
- B) II
- C) III
- D) IV
- E) V

4. Türkiye’de mısır üretiminde önceleri Karadeniz Bölgesi önde olduğu halde, son yıllarda Akdeniz Bölgesi öne geçmiştir.

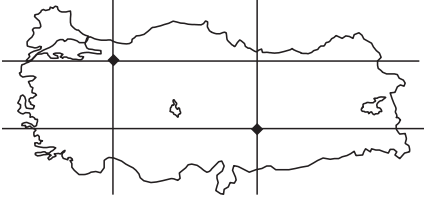
Mısır bitkisinin doğal yetişme koşullarının en uygun olduğu bölge Karadeniz Bölgesi olduğu halde Akdeniz Bölgesi’nde mısır üretimi hangi özelliğe bağlıdır?

- A) Mısır ithalatının artmasına
- B) İklim özelliklerinin değişmesine
- C) Sulama koşullarının sağlanmasına
- D) Halkın tüketim alışkanlıklarının değişmesine
- E) Diğer bölgelerde mısır üretiminin azalmasına



Çözümler için
karekodu okutunuz.

1.



Yukarıdaki haritada işaretlenmiş yerlerin matematik konumları göz önüne alındığında;

- I. yerel saatleri,
- II. gecelerin gündüzlerden uzun olduğu dönem,
- III. gece – gündüz süre farkları,
- IV. öğle vakitlerindeki gölge yönü

özelliklerinden hangileri bakımından farklılık gösterdikleri kesindir?

- A) I ve II
- B) I ve III
- C) II ve III
- D) II ve IV
- E) III ve IV

2. Kışların ılık geçtiği yerler, ısıtma giderleri az olacağı için seracılığa elverişlidir.

İklim koşulları dikkate alındığında aşağıda verilen bölümlerden hangisinin seracılığa en az elverişli olduğu söylenebilir?

- A) Adana Bölümü
- B) Antalya Bölümü
- C) Güney Marmara Bölümü
- D) Kıyı Ege Bölümü
- E) Yukarı Sakarya Bölümü

3.

- I. Üzüm
- II. Turunçgiller
- III. Fındık
- IV. Elma

Türkiye’de yukarıdaki tarım ürünlerinden hangilerinin yetiştirildiği alan diğerlerinden daha dardır?

- A) I ve II
- B) I ve III
- C) II ve III
- D) II ve IV
- E) III ve IV

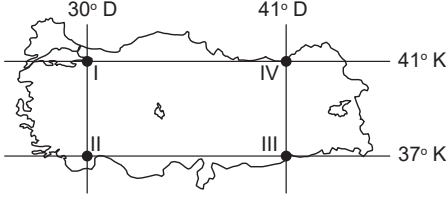
4. Türkiye’de bazı akarsulardan yılın belli dönemlerinde yararlanılamamasına karşı aşağıdakilerden hangisinin yapılması en önemli çözümdür?

- A) Sulama için başka alternatifler bulmak
- B) Kuru tarım yapılan alanları genişletmek
- C) Barajlar yaparak suyu depolamak
- D) Rejimi düzenli akarsuların çevresinde tarım yapmak
- E) Akarsulardan sulama dışında yararlanmak



Çözümler için
karekodu okutunuz.

1.



Yukarıdaki haritada konumları verilen noktalarla ilgili aşağıdaki özelliklerden hangisi doğru değildir?

- A) II ile III numaralı yerlerde gündüz uzunlukları aynıdır.
- B) I ile II numaralı yerlerin yerel saatleri ulusal saat ile aynıdır.
- C) III ile IV numaralı yerlerde öğle vakti aynı anda yaşanır.
- D) I ile IV numaralı yer arasındaki mesafe II ile III numaralı yer arasındaki mesafeye eşittir.
- E) I ile II numaralı yer arasındaki mesafe III ile IV numaralı yer arasındaki mesafeye eşittir.

2. Aşağıdaki yörelerden hangisinde volkanik araziler diğerleri kadar yaygın değildir?

- A) Ürgüp – Göreme Yöresi
- B) Orta Kızılırmak Bölümü
- C) Taşeli Yöresi
- D) Van Gölü çevresi
- E) Kula Yöresi

3. Türkiye’de yükselti ve engebenin fazla olması;

- I. Tarımda makine kullanımını
- II. Hidroelektrik potansiyelini
- III. Ekili dikili alanların oranını
- IV. Kış turizmini

özelliklerinden hangilerini olumsuz etkilemektedir?

- A) I ve II
- B) I ve III
- C) II ve III
- D) II ve IV
- E) III ve IV

4. Karadeniz kıyıları ve Akdeniz kıyıları ile ilgili olarak aşağıda verilen özelliklerden hangisi ortak değildir?

- A) Falez oluşumlarının yaygın olması
- B) Yağış rejimlerinin düzenli olması
- C) Kıyı çizgilerinin Ege kıyılarına göre kısa olması
- D) Kıyıların iç kesimler arasında ulaşımın sağlanmasında köprü ve tünel gibi yapılara daha fazla gereksinim olması
- E) Denizel iklim özelliklerinin dar kıyı şeridinde etkili olması



DENEME SINAVI

30



Çözümler için
karekodu okutunuz.

1. Aşağıdakilerden hangisi Türkiye'nin özel konumu ile açıklanamaz?

- A) İstanbul ve Çanakkale boğazlarına sahip olması
- B) Doğu Anadolu Bölgesi'nin yüksek, dağlık ve engebeli olması
- C) Dört mevsimin bir arada yaşanması
- D) En az yağışı İç Anadolu Bölgesi'nin alması
- E) Erzurum Palandöken'de kış turizminin dağın güney yamaçlarında erken bitip geç başlaması

3. Sularını denize ulaştırmayan akarsulara kapalı havza denir. Türkiye'de kapalı havzaların oluşmasında iklim ve yerşekilleri etkili olmuştur.

Aşağıdakilerden hangisi Türkiye'nin en büyük kapalı havzasıdır?

- A) Van Gölü Kapalı Havzası
- B) Tuz Gölü Kapalı Havzası
- C) Konya Ovası Kapalı Havzası
- D) Aras - Kura Kapalı Havzası
- E) Göller Yöresi Kapalı Havzası

2. Türkiye'nin yıllık ortalama yağış miktarlarını gösteren bir harita incelendiğinde aşağıdaki alanlardan hangisinde yağış miktarının fazla olduğu görülmez?

- A) Menteşe Yöresi'nde
- B) Iğdır Ovası'nda
- C) Antalya Körfezi çevresinde
- D) Kuzey Anadolu kıyılarında
- E) İstirancalar'ın Karadeniz'e bakan yamaçlarında

4.



Türkiye haritası üzerinde işaretli platolardan hangisi en az nüfuslanmıştır?

- A) Çatalca-Kocaeli
- B) Taşeli
- C) Uzunyayla
- D) Gaziantep
- E) Yazılıkaya

DATA ULTRA SERİSİ



İvedik Organize Sanayi Matbaacılar Sitesi
1518 Sok. Mat-Sit İş Merkezi No.:2/20
Yenimahalle / ANKARA
Telefon: 0 312 384 29 95 - Belgegeçer: 0312 342 23 58
WhatsApp: 0 505 925 57 81
www.datayayinlari.com | bilgi@datayayinlari.com

ISBN 978-625-8221-47-3



9 786258 221473