

2024 KPSS

GENEL KÜLTÜR

Coğrafyanın Rotası

TAMAMI ÇÖZÜMLÜ

30

**DENEME
SINAVI**

Yazar
Mehmet Şah VARLI

editör
yayınevi

KPSS
COĞRAFYA 30 DENEME SINAVI

EDİTÖR

Turgut MEŞE

YAZAR

Mehmet Şah VARLI

Bütün hakları Editör Yayınevine aittir.

Yayıncının izni olmaksızın kitabın tümünün veya bir kısmının elektronik, mekânîk yollarla ya da fotokopi yoluyla basımı, çoğaltılması ve dağıtımı yapılamaz.

SERTİFİKA NO

40447

KAPAK TASARIMI

Editör Yayınevi Tasarım Ekibi

SAYFA TASARIMI

Editör Yayınevi Dizgi Ekibi

BASKI VE CİLT

Data Dijital Matbaacılık

ANKARA



İLETİŞİM

İvedik Organize Sanayi Matbaacılar Sitesi

1518 Sok. Mat-Sit İş Merkezi No:2/20

Yenimahalle / ANKARA

Tel: 0 312 384 20 33 - 0 505 925 57 81

Fax: 0312 342 23 58


www.editoryayinevi.com

Kitap hakkında görüş ve önerileriniz için

WhatsApp hattımız: 05422620337



İçindekiler



DENEME SINAVI - 1	7
DENEME SINAVI - 2	11
DENEME SINAVI - 3	15
DENEME SINAVI - 4	19
DENEME SINAVI - 5	23
DENEME SINAVI - 6	27
DENEME SINAVI - 7	31
DENEME SINAVI - 8	35
DENEME SINAVI - 9	39
DENEME SINAVI - 10	43
DENEME SINAVI - 11	47
DENEME SINAVI - 12	51
DENEME SINAVI - 13	55
DENEME SINAVI - 14	59
DENEME SINAVI - 15	63
DENEME SINAVI - 16	67
DENEME SINAVI - 17	72
DENEME SINAVI - 18	76
DENEME SINAVI - 19	80
DENEME SINAVI - 20	85
DENEME SINAVI - 21	91
DENEME SINAVI - 22	96
DENEME SINAVI - 23	101
DENEME SINAVI - 24	106
DENEME SINAVI - 25	112
DENEME SINAVI - 26	117
DENEME SINAVI - 27	122
DENEME SINAVI - 28	128
DENEME SINAVI - 29	133
DENEME SINAVI - 30	139

Deneme Sınavı

1

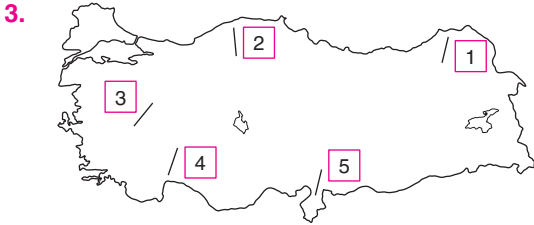
1. Tatilini geçirmek üzere Türkiye'ye gelen bir turist, Türkiye'de kaldığı dönemde gündüz süresinin git-tikçe uzamakla birlikte gece süresine göre daha kısa olduğunu fark etmiştir.

Buna göre turistin hangi tarihler arasında Türki-ye'de olduğu söylenebilir?

- A) 2 Nisan - 23 Nisan
B) 1 Ocak - 12 Şubat
C) 3 Mayıs - 4 Haziran
D) 22 Mart - 29 Mart
E) 2 Ekim - 3 Kasım

2. Aşağıdaki sınır kapılarından hangisi demir yolu bağlantısını sağlamaz?

- A) Kapıkule
B) Canbaz
C) Nusaybin
D) Türkgözü
E) Kapıköy



Yukarıdaki geçit ve tünellerin eşleştirmelerinden hangisi yanlış gösterilmiştir?

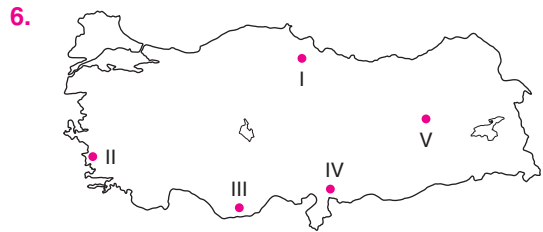
- A) 1. Cankurtaran
B) 2. Ecevit
C) 3. Geyve
D) 4. Çubuk
E) 5. Belen

4. Aşağıdaki göl ve oluşum kökeni eşleştirmelerinden hangisi yanlıştır?

- A) Sapanca - Tektonik
B) Zinav - Heyelen Set
C) Eymir - Alüvyal Set
D) Balık - Volkanik Set
E) Gölçük - Karstik

5. Aşağıda verilen dağlardan hangisi orojenez sonucu oluşmuştur?

- A) Nemrut
B) Bey
C) Karacadağ
D) Erciyes
E) Tendürek



Yukarıdaki harita numaralarıyla gösterilen alanların hangisinde karstik oluşumlar daha yaygındır?

- A) I B) II C) III D) IV E) V

Editor Yayınevi

Deneme Sınavı

3

1. Aşağıdakilerden hangisi Türkiye'nin mutlak (matematik) konumuyla ilgilidir?

- A) Batıdan doğuya gidildikçe sıcaklığın düşmesi.
- B) Aynı anda dört mevsimin yaşanması
- C) Kış mevsiminde Samsun'un Diyarbakır'dan sıcak olması
- D) Antalya'da ortalama sıcaklıkların İzmir'den yüksek olması
- E) Yazın Şanlıurfa'nın Mersin'den sıcak olması

2. I. Belirlenen en yeni sınırimız
II. Büyük bir kısmı Meriç Nehri tarafından belirlenmiş
III. En uzun kara sınırını oluşturur

Türkiye'nin sınır özellikleri dikkate alındığında, yukarıdakilerden hangileri Türkiye - Suriye sınırına aittir?

- A) I ve III
- B) Yalnız III
- C) I ve II
- D) Yalnız I
- E) II ve III

3. • İğne yapraklı ormanların bulunduğu yerde rastlanır.
• Batı Karadeniz'de yaygın olarak rastlanır.
• Mineral bakımından fakir ve aşırı yağıştan dolayı verimsizdir.

Buna göre, özellikleri verilen toprak tipi aşağıdakilerden hangisidir?

- A) Terra - Rossa
- B) Çernozyum
- C) Podzol
- D) Vertisol
- E) Litosol

4. Yıl içindeki akım (debi) ve seviye değişikliklerine Akarsu rejimi denir. Akarsu rejimini etkileyen en önemli etken iklim özellikleridir.

Buna göre ülkemizin iklim özellikleri dikkate alındığında aşağıdaki akarsularımızdan hangisinin rejiminin daha düzenli olduğu söylenebilir?

- A) Bartın
- B) Kızılırmak
- C) Sakarya
- D) Bakırçay
- E) Fırat

5. Aşağıda verilen illerin sınırları düşünüldüğünde hangisinde iklim ve bitki örtüsü farklılığı diğerlerine oranla daha belirgindir?

- A) Şanlıurfa
- B) Aydın
- C) Iğdır
- D) Artvin
- E) Konya

6. Türkiye'de dağlar genellikle doğu batı uzandığı için kuzey ve güney kıyıları bol yağışlıdır.

Buna göre aşağıdaki dağlardan hangisi uzanış yönü farklı olmasına rağmen aynı özelliği gösterir?

- A) Kaçkar
- B) Yunt
- C) Nur
- D) Bozdağlar
- E) Canik

Deneme Sınavı

5

1. Aşağıda Türkiye ile ilgili verilen bilgilerden hangisi göreceli konum sonucudur?

- A) Öğle vaktinde gölge yönünün her zaman kuzeyi göstermesi
- B) Aynı anda dört mevsimin belirgin olarak yaşanması
- C) Güney yamaçlarının kuzey yamaçlarından daha sıcak olması
- D) Kızılcım bitki örtüsünün varlığı
- E) Paralel boylarının Sinop'ta daha kısa olması

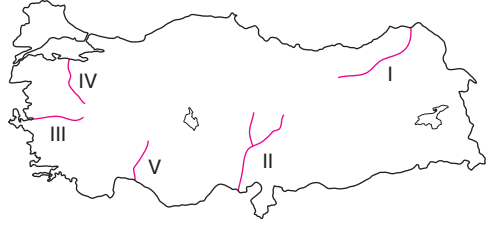
2. Aşağıda verilen sınır kapıları ve bu sınır kapılarından geçiş yapıldığı komşu ülke eşleştirmelerinden hangisi yanlıştır?

- A) İpsala - Yunanistan
- B) Türkgözü - Gürcistan
- C) Gürbulak - Irak
- D) Akçakale - Suriye
- E) Dilucu - İğdir

3. Aşağıda verilen oluşumlardan hangisi volkanizma sonucu oluşmuştur?

- A) Masif arazilerin oluşması
- B) Kuzey Anadolu Dağları'nın oluşumu
- C) İstanbul ve Çanakkale Boğazlarının oluşumu
- D) Egenin horst graben sisteminin oluşumu
- E) Ağrı Dağı'nın oluşumu

- 4.
- Akış hızı en yüksek akarsulardan biridir.
 - Akarsu üzerinde Türkiye'nin gövde yüksekliği en yüksek olan barajı bulunmaktadır.
 - Hidroelektrik potansiyeli yüksektir.
 - Rafting sporu yapılmaktadır.



Özellikleri verilen akarsu haritada kaç numara ile gösterilmiştir?

- A) I
- B) II
- C) III
- D) IV
- E) V

5. Türkiye'de jips (alçı taşı) kayaları ile ilgili araştırma yapacak olan bir grup aşağıda verilen illerden hangisine gitmesi gerekmektedir?

- A) Çankırı
- B) Antalya
- C) Kars
- D) Sivas
- E) Iğdır

6. Aşınma sonucu düzleşen yüzeylerin akarsular tarafından yarılmaları sonucu çevresine göre yüksekte kalmaktadırlar. Bu tür oluşan platolara aşınım platoları denir.

Aşağıda verilen platolardan hangisini buna örnek olarak gösterebiliriz?

- A) Teke
- B) Bozok
- C) Ardahan
- D) Çatalca - Kocaeli
- E) Uzunyayla

Deneme Sınavı

7

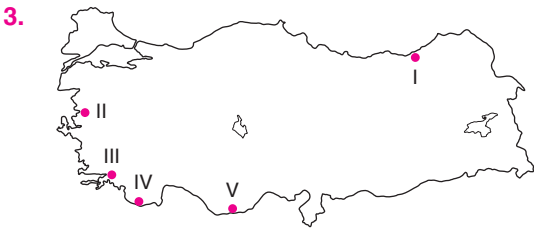


Haritada verilen şehirlerin hangisinde 21 Haziran'da en kısa gündüz yaşanır?

- A) İzmit B) Kars C) Antalya
D) Konya E) Kayseri

2. Türkiye coğrafi konum ve jeopolitik özelliklerinden dolayı çok fazla sorunlarla karşılaşmaktadır. Aşağıdaki verilen sorunlardan hangisi Türkiye'yi doğrudan etkilemez?

- A) Kıta sahanlığı sorunu
B) Batı Trakya Türkleri sorunu
C) Uygur - Sincan sorunu
D) Ermeni tehciri sorunu
E) Adalar sorunu



Haritada gösterilen kıyı tiplerinin hangisi dalmaçya kıyı tipi özelliği gösterir?

- A) I B) II C) III D) IV E) V

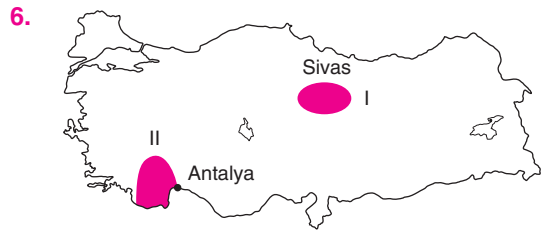
4. Aşağıda verilen ovalardan hangisinde deprem riski en azdır?

- A) Niksar Ovası
B) Tercan Ovası
C) Amik Ovası
D) Ödemiş Ovası
E) Bafra Ovası

5. Aşağıda verilen platolardan hangilerinin birbirine sınırı yoktur?

- A) Yazılıkaya - Uzunyayla
B) Bozok - Haymana
C) Gaziantep - Şanlıurfa
D) Erzurum - Kars
E) Obruk - Cihanbeyli

Editor Yayınevi



Haritada taralı olarak gösterilen alanlarda yaygın olarak görülen kayaç türü aşağıdakilerden hangileridir?

- | I | II |
|--------------|-----------|
| A) Kaya Tuzu | Kalker |
| B) Jips | Kalker |
| C) Bazalt | Tüf |
| D) Jips | Bazalt |
| E) Jips | Kaya Tuzu |

Deneme Sınavı

1. Türkiye'nin kuzey yarım kürede olduğunu kanıtlamak isteyen bir öğrenci aşağıdaki bilgilerden hangisini kullanarak bu amacına ulaşamaz?

- A) Kuzeye gidildikçe tarım ürünü olgunlaşma süresinin uzaması
- B) Kuzeye gidildikçe tan ve gurup süresinin uzaması
- C) Kuzeye gidildikçe denizlerin tuzluluk oranının artması
- D) Kuzeye gidildikçe yer çekiminin artması
- E) Kuzeye gidildikçe yerleşme üst sınırının alçalması

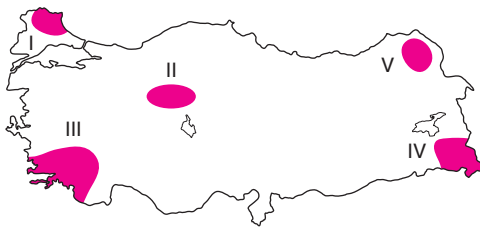
2. I. Taş kömürü yataklarının varlığı
II. Ortalama yükseltinin fazla olması
III. Tethys (tetis) okyanusu tabanında tortulanma yaşanması
IV. Tektonik oluşumların fazla olması
V. Masif (yaşlı) arazilerin varlığı

Türkiye'nin genç oluşumlu bir araziye sahip olduğunu kanıtlamak isteyen bir coğrafya öğretmeni yukarıda verilen bilgilerden hangilerinin kullanarak bu amacına ulaşabilir?

- A) I ve II B) III ve V C) II ve IV
D) II ve III E) II ve V

3. • Buzul aşındırma ve biriktirme şekillerini
• Kayme ve Kelat saraylarını
• Endemik bitkilerden ters laleyi

Türkiye İran sınırında bulunan Esendere sınır kapısını görmek isteyen bir grup araştırmacı aşağıda verilen haritadaki noktalardan hangisine gitmeleri gerekmektedir?



- A) I B) II C) III D) IV E) V

4. I. Yeşilırmak - Çarşamba
II. Gediz - Menemen
III. Bakırçay - Dikili
IV. Seyhan - Ceyhan - Çukurova
V. Büyük Menderes - Selçuk (Kuşadası)

Yukarıda verilen akarsu ve oluşturdıkları delta ovası eşleştirmelerinden hangisi yanlıştır?

- A) I B) II C) III D) IV E) V

5. Türkiye kıyılarını gezen bir araştırmacı grubu aşağıda verilen kıyı tiplerinden hangisini görmesi mümkün değildir?

- A) Ria Kıyı Tipi
B) Limanlı Kıyı Tipi
C) Dalmaçya Kıyı Tipi
D) Skyer (skayer) Kıyı Tipi
E) Enine Kıyı Tipi

6. Ülkemizdeki bitkilerin üçte biri III. zamanda oluşmuş ve dünyanın diğer bölgelerinde görülmeyen endemik bitkileridir.

Aşağıda verilen dağlardan hangisinde bu tür bitkilere daha fazla rastlanır?

- A) Bolkar Dağları
C) Canik Dağları
D) Yalnızçam Dağı
D) Elmadağ
E) Bozdağlar

Deneme Sınavı

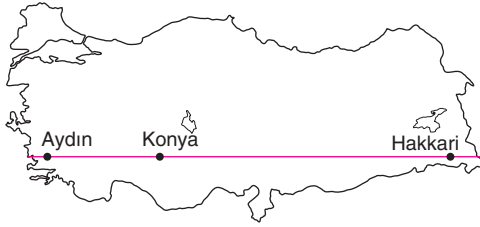
11

1. • Dört mevsimin belirgin olarak görülmesi
• Cephe yağışlarının görülmesi
• Batı rüzgarlarının etkili olması
• Akdeniz ikliminin görülmesi

Verilen özelliklerin Türkiye’de görülmesi hangi özelliğinden dolayıdır?

- A) Kuzey Yarım Küre’de yer alması
B) Yengeç dönencesinin kuzeyinde yer alması
C) Başlangıç meridyeninin doğusunda yer alması
D) Orta kuşakta yer alması
E) Üç tarafının denizlerle çevrili olması

2.



Haritada gösterilen aynı enlem üzerinde bulunan 3 merkez için aşağıdakilerden hangisi söylenemez?

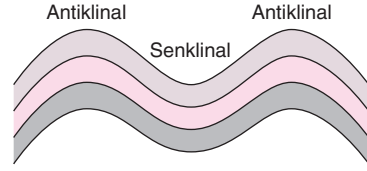
- A) Güneş ışınlarının geliş açısı aynıdır.
B) Sıcaklıkları aynıdır.
C) Çizgisel hızları aynıdır.
D) Tan ve grup süreleri aynıdır.
E) Cisimlerin yıl içindeki gölge boyları aynıdır.

3. Günümüzde Toroslar ve Anadolu Yarımadası yükselirken, Ergene, Çukurova, Akdeniz ve Karadeniz çökmektedir.

Bu hareketliliğin oluşmasındaki temel faktör aşağıdakilerden hangisidir?

- A) Epirojenez
B) Orojenez
C) Seizme
D) Volkanizma
E) Rüzgâr

4.



Aşağıda verilen dağlardan hangisi yukarıdaki oluşuma örnek verilebilir?

- A) Yunt
B) Menteşeler
C) Bozdağlar
D) Madra
E) Binboğa

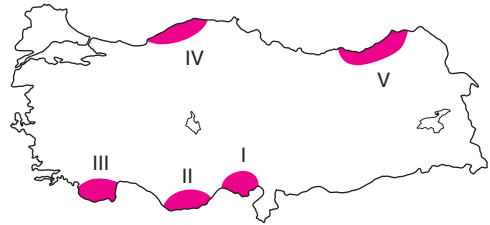
Editor Yayınevi

5. Çözünabilen kayaların çözülmesi ile meydana gelen ve yüksek dağlar arasında bulunan geniş düzlük veya ovalara polye denir.

Aşağıda verilen ovalardan hangisi polyelere örnek gösterilebilir?

- A) İnegöl
B) Pasinler
C) Acıpayam
D) Ladik
E) Harran

6. Dalga aşındırma sonucu meydana gelen dikliklere falez ya da yalıyar denir.



Buna göre aşağıda haritada belirtilen noktalardan hangisinde falez oluşumu yoktur?

- A) I
B) II
C) III
D) IV
E) V

Deneme Sınavı

1. Bir ülkenin coğrafi konumundan dolayı kazanmış olduğu askeri, siyasi, ekonomik gücü dış siyasetinde kullanmasına jeopolitik denir.

- I. Su Kaynakları
- II. Askeri güç
- III. Coğrafi konum
- IV. Ekonomik değerler
- V. İklim

Yukarıda verilen jeopolitik unsurlardan hangileri değişik özelliktedir?

- A) I ve III B) II ve IV C) IV ve V
D) II ve V E) I ve II

2. Türkiye’de aşağıda verilen hangi tarihler aralığında gündüz süresi kısalmasına rağmen gece süresinden daha uzundur?

- A) 10 Nisan - 12 Mart
B) 15 Eylül - 8 Ekim
C) 7 Haziran - 28 Haziran
D) 24 Temmuz - 13 Ağustos
E) 5 Ocak - 21 Şubat

3. Akdeniz ve Karadeniz kıyılarında aşındırma, Ege kıyılarında ise daha çok biriktirme faaliyetlerinin yaşanmasının temel nedeni aşağıdaki-lerden hangisidir?

- A) Dağların yüksekliğinin farklı olması
B) Kayaç yapısının farklı olması
C) Dağların kıyıya uzanışının farklı olması
D) Bitki örtüsünün farklı olması
E) Akdeniz ve Karadeniz kıvrım, Ege de ise dağların kırıklı yapıda olması

4. Kıyıya yakın bir adanın kıyı kordonu ile ana karaya bağlanması sonucu oluşan yarımadalara tombolo veya saplı ada denir.

- I. Sinop (İnceburun)
- II. Terkos
- III. Kapıdağ
- IV. Ölüdeniz
- V. Gökova

Yukarıda verilenlerden hangileri tombolo (saplı ada) özelliği taşımaktadır?

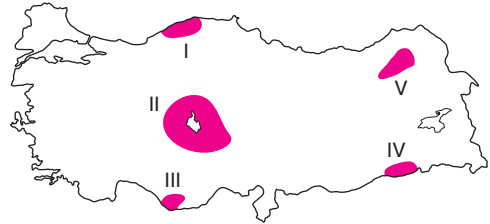
- A) I ve II B) II ve III C) III ve IV
D) I ve V E) I ve III

5. I. Karstik arazilerin yaygın olduğu yerlerde akarsu aşındırmasıyla çevresine göre yüksekte kalan düzlüklere karstik plato denir.
II. Uvalaların genişlemesiyle oluşan geniş düzlüklere polye veya karstik ova denir.

Aşağıda verilenlerden hangileri bu tür oluşumlara örnek verilebilir?

I	II
A) Teke	Ergene
B) Taşeli	Erbaa
C) Teke	Çukurova
D) Taşeli	Elmalı
E) Teke	Sapanca

- 6.



İğne yapraklı ormanların bulunduğu yerde bulunan, mineral bakımından fakir, kül renginde olan toprakları yukarıda işaretli alanlardan hangisinde görmek mümkündür?

- A) I B) II C) III D) IV E) V

Deneme Sınavı

15

1. Aşağıdakilerden hangisi Türkiye'nin kuzey yarım kürede yer almasının sonuçlarından biri değildir?

- A) Güneyden kuzeye gidildikçe güneş ışınlarının geliş açısının daralır.
- B) Güneyden kuzeye gidildikçe paralel boyu kısalır.
- C) Güneyden kuzeye gidildikçe gölge boyu uzar.
- D) Güneyden kuzeye gidildikçe aynı meridyen üzerindeki noktalarda yerel saat değişir.
- E) Güneyden kuzeye gidildikçe kalıcı kar alt sınırı alçalır.

2. Sınır boylarında yer alan şehirlere serhat şehri denir.

Aşağıda verilen şehirlerden hangisi bu özelliği taşımaz?

- A) Kilis
- B) Artvin
- C) Osmaniye
- D) Kırklareli
- E) Van

3. I. Kısa mesafelerde sıcaklığın değişmesinin nedeni yer şekillerinin engebeli olmasıdır.
II. Doğu'dan Batı'ya gidildikçe yükseltinin azalmasına bağlı olarak sıcaklık artar.
III. Karadeniz de yer alan Kaçkar Dağı'nın kuzey yamaçlarının güney yamaçlarından daha sıcak olmasının nedeni bakıdır.
IV. Ege Bölgesi'nde dağlar kıyıya dik uzandığı için denizel iklim alanı geniştir.
V. Hakkâri Bölümü'nde yer şekilleri engebeli olduğu için ulaşım zor ve maliyet yüksektir.

Yukarıda Türkiye'nin yer şekilleri ile ilgili verilen bilgilerden hangisi yanlıştır?

- A) I
- B) II
- C) III
- D) IV
- E) V

4. I. Filyos Çayı: Karabük Demir Çelik fabrikasının su ihtiyacını karşılayan akarsudur.
II. Kızılırmak: Sınırlarımız içinde doğup Karadeniz'e dökülen en uzun akarsudur.
III. Meriç Nehri: Yunanistan ile sınır oluşturan akarsudur.
IV. Ergene Nehri: Türkiye'nin en kirli akarsuyudur.
V. Dicle: Kaynağını yurt içinden alıp yurt dışına dökülen en uzun akarsudur.

Yukarıda Türkiye'deki akarsular ile ilgili verilen bilgilerden hangisi yanlıştır?

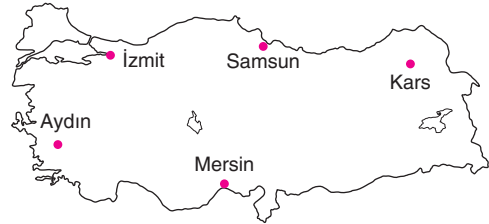
- A) I
- B) II
- C) III
- D) IV
- E) V

Editor Yayınevi

5. Aşağıda verilen ova ve oluşum eşleştirmelerinden hangisi yanlıştır?

- A) Tefenni - Tektonik
- B) Bafra - Delta
- C) Elmalı - Karstik
- D) Erbaa - Tektonik
- E) Menemen - Delta

6.



Türkiye'de çernezyom topraklarını incelemek isteyen bir pedolog haritada gösterilen illerden hangisine gitmesi gerekmektedir?

- A) Samsun
- B) Kars
- C) Mersin
- D) Aydın
- E) İzmit

1. • Hatay'dan Sinop'a gidildikçe;
• Tan ve gurup süresi uzar
• Gece gündüz süre farkı artar
• Yer çekimi artar
• Çizgisel hız azalır
• Alacakaranlık süresi uzar

Yukarıda verilen durumların oluşmasının temel nedeni aşağıdakilerden hangisidir?

- A) Göreceli konum
B) Yükselti
C) Mutlak konum
D) Yerçekilleri
E) Denizellik

2. Türkiye'den bir araştırma grubu Suriye'nin iç karışıklıkları, sosyal kültürel özellikleri, ekonomik durum ile ilgili araştırma yapmak istemektedirler.

Bu araştırma grubunun Suriye'ye kara yolu ile geçmek ancak dönüşlerini ise demir yolu ile sağlamak için aşağıdaki sınır kapılarından hangilerini kullanmaları gerekmektedir?

Kara Yolu	Demir Yolu
A) İpsala	Uzunköprü
B) Hamzabeyli	Kapıkule
C) Sarp	Canbaz
D) Yayladağ	Nusaybin
E) Esendere	Kapıköy

3. Türkiye'de üç tane önemli ana fay hattı bulunmaktadır. Kuzey Anadolu Fay Hattı (KAF), Batı Anadolu Fay Hattı (BAF) ve Doğu Anadolu fay hattı (DAF).

Bu ana fay hatları kaçınıcı jeolojik zamanda oluşmuşlardır?

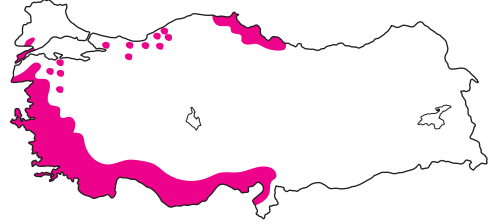
- A) Paleozoik
B) Mezozoik
C) Tersiyer
D) Kuaterner
E) İkel zaman

4. Akarsular ve diğer dış etmenlerin aşındırmasıyla oluşan deniz seviyesine yakın hafif dalgalı geniş düzlüklere peneplen yani yontukdüz denir.

Buna göre Türkiye'de peneplenleşme ye en yakın ve en uzak bölgelerimiz hangileridir?

- A) Marmara - Akdeniz
B) GDA - Ege
C) Marmara - Karadeniz
D) Marmara - Doğu Anadolu
E) GDA - Doğu Anadolu

- 5.



Yukarıdaki haritada dünyada en fazla Türkiye'de görülen bir ağaç türünün dağılışı vermiştir.

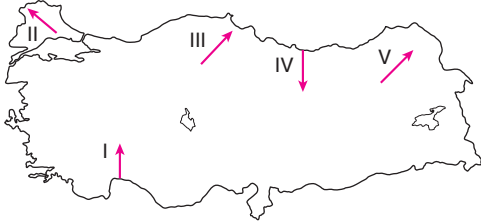
Dağılışı verilen ağaç türü aşağıdakilerden hangisidir?

- A) Karaçam
B) Sarıçam
C) Kızılçam
D) Fıstık çamı
E) Kızılcım

6. Türkiye'nin orta kuşakta yer almasından dolayı görülen, verimi az, kırmızı renkte olan ve daha çok turunçgil, üzüm, zeytin, pamuk ve muz tarımı yapılan toprak türü aşağıda verilen platoların hangisinde yaygın olarak görülmektedir?

- A) Cihanbeyli
B) Çatalca - Kocaeli
C) Teke
D) Haymana
E) Erzurum - Kars

1. • Güneş ışınlarının geliş açısı büyür.
• Paralel boyu uzar.
• Meridyenler arası mesafe artar.
• Çizgisel hız artar.
• Gece - gündüz süre farkı artar.
• Alacakaranlık süresi kısalır.



Yukarıda verilen özelliklerin tamamını kanıtlamak isteyen bir kişinin haritada verilen kaç numaralı ok yönüne gitmesi gerekecektir?

- A) I B) II C) III D) IV E) V

2. Aşağıda verilen tarihlerden hangisinde yaşanan gece süresi Türkiye'nin kuzey yarımkürede olduğunu kanıtlamaz?

- A) 21 Haziran
B) 23 Eylül
C) 21 Aralık
D) 1 Ekim
E) 15 Mayıs

3. Türkiye fiziki haritasında yeşil tonlarının fazla olduğu yerler ile ilgili aşağıdakilerden hangisi söylenemez?

- A) Yükseltisi azdır
B) Gerçek sıcaklık ile indirgenmiş sıcaklık arasındaki fark azdır.
C) Karın yerde kalma süresi kısadır
D) Akarsuların hidroelektrik potansiyeli fazladır
E) Ulaşım kolay ve maliyeti düşüktür

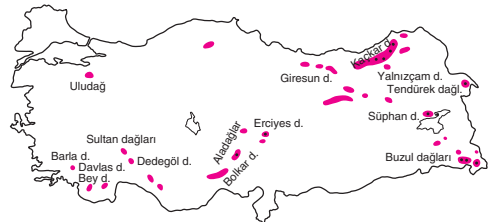
4. Akarsuların taşıdıkları alüvyonları deniz içinde biriktirmesiyle oluşan üçgen şeklindeki düzlüklere delta ovaları denir.

Aşağıda verilen ovalardan hangisi buna örnek gösterilemez?

- A) Bafra B) Dikili C) Ödemiş
D) Silifke E) Balat

Editor Yayınevi

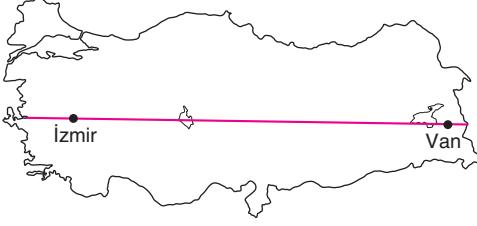
- 5.



Yukarıda verilen haritada Türkiye'de buzullaşmaya uğrayan dağlar verilmiştir. Harita incelendiğinde Ege Bölgesi ve Güneydoğu Anadolu Bölgesi'nde buzullaşmaya uğrayan dağlara rastlanmamaktadır.

Bu durumun ortaya çıkmasındaki temel faktör aşağıdakilerden hangisidir?

- A) Yükseltilerinin az olması
B) Diğer bölgelere göre yüz ölçümlerinin daha küçük olması
C) Yer şekillerinin sade olması
D) Sıcaklık ortalamasının fazla olması
E) İklimlerinin elverişsiz olması



1.

Aynı enlem üzerinde yer alan İzmir ile Van için aşağıda verilen özelliklerden hangisinin aynı olması beklenmez?

- A) Güneş ışınlarının geliş açısı aynıdır.
- B) Tan ve gürup süresi aynıdır.
- C) Sıcaklık aynıdır.
- D) Çizgisel hız aynıdır.
- E) Gece gündüz süresi aynıdır.

2. **Türkiye'nin sınır özellikleri düşünüldüğünde aşağıdaki bilgilerden hangisi yanlış olacaktır?**

- A) Ermenistan ile sınırımızın bir bölümü Aras Nehri oluşturmaktadır.
- B) Nusaybin, Çobanbey ve Islahiye sınır kapıları Suriye ile demiryolu bağlantımızı sağlamaktadır.
- C) 2017 yılında açılan Canbaz sınır kapısı, Gürcistan ile demiryolu bağlantımızı sağlamıştır.
- D) Edirne, Kars, Van, Hatay gibi illerin serhat şehirlerimize örnek verebiliriz.
- E) Komşularımız içinde en uzun sınırımız Suriye, en kısa sınırımız ise Yunanistan iledir.

3. **Kalker (kireç taşı), jips (alçı taşı) ve kaya tuzu gibi suda eriyebilen kayalardan oluşan arazilere karstik arazilerde denir. Bu arazilerde oluşan şekillere ve karstik şekiller denir.**

Buna göre aşağıda verilen platolardan hangilerinde bu tür şekillere daha fazla rastlanır?

- A) Obruk Platosu
- B) Uzunyayla Platosu
- C) Çatalca - Kocaeli Platosu
- D) Teke Platosu
- E) Ardahan Platosu

4. **Türkiye'de etkili olan dış kuvvetlerden biri de rüzgarlardır. Ancak her yerde aynı etkiyi göstermemektedir.**

Bir yerde rüzgarın aşınım ve birikim yapması için o yerin aşağıda verilen özelliklerden hangisine sahip olması gerekmektedir?

- A) Kurak ve yarı kurak bir iklim olması
- B) Bitki örtüsü seyrek yani cılız olması
- C) Kimyasal çözülme fazla olması
- D) Toprak ince taneli olması
- E) Yer şekilleri sade olması

Editor Yayınevi

5. **Aşağıdakilerden hangisi Türkiye akarsularının genel özelliklerinden biri değildir?**

- A) Debileri genelde fazladır
- B) Enerji potansiyelleri fazladır
- C) Denge profiline ulaşmamışlardır
- D) Boyları kısadır
- E) Rejimleri düzensizdir

6. **Aşağıda verilen körfezlerden hangileri sırasıyla en temiz ve en kirli körfezlerimiz arasındadır?**

- A) Kuşadası Körfezi - İzmir Körfezi
- B) Saros Körfezi - İzmit Körfezi
- C) Güllük Körfezi - Gökova Körfezi
- D) Saros Körfezi - İskenderun Körfezi
- E) Saros Körfezi - Mersin Körfezi

Deneme Sınavı

1. • 21 Haziran'da en uzun gündüz
• Tan ve gurup süresi en uzun
• Çizgisel hız en az
• Alacakaranlık süresi en uzun
• Paralel boyu en kısa, derecesi en büyük



İki meridyen arası mesafenin en dar olduğu nokta haritada kaç numara ile gösterilmiştir?

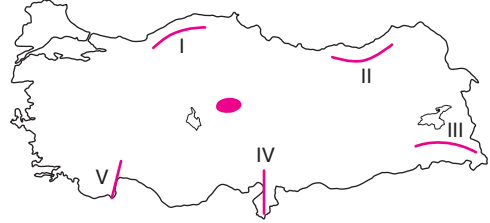
- A) I B) II C) III D) IV E) V

2. • Alican ve Akyaka sınır kapılarımızın bulunduğu komşumuz.
• Sınırın bir bölümü Aras Nehrinin Arpaçay kolu tarafından çizilmiştir.
• Başkenti Erivan'dır.
• Yüzölçümü ve nüfusu Türkiye'den azdır.

Yukarıda verilen özellikler hangi sınır komşumuza aittir?

- A) Gürcistan
B) Nahçıvan
C) Bulgaristan
D) Ermenistan
E) İran

3. Aşağıda verilen haritada orojenez sonucu oluşan bazı dağlarımız gösterilmiştir. Bu dağlardan bazıları kıvrım özelliğini gösterirken, bazıları ise kırıklı özelliğini göstermektedir.



Bu dağlardan hangisi kırılma sonucu oluşan horst sistemine örnek olarak gösterilebilir?

- A) I B) II C) III D) IV E) V

Editor Yayınevi

4. I. Ria kıyı tipi - İstanbul ve Çanakkale boğazları
II. Dalmaçya kıyı tipi - Antalya Kaş çevresi
III. Kalanklı kıyı tipi - Adana ve çevresi
IV. Limanlı kıyı tipi - Büyükçekmece, Küçükçekmece
V. Boyuna kıyı tipi - Ege kıyıları

Yukarıda verilen kıyı tipi ve bulunduğu yer eşleştirmelerinden hangisi yanlıştır?

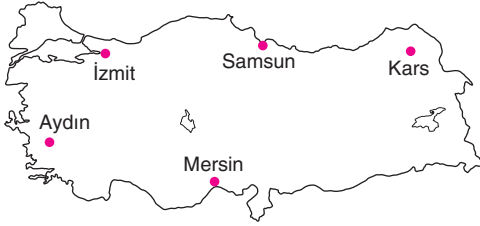
- A) I ve II B) III ve IV C) II ve V
D) III ve V E) IV ve V

5. Kaya tuzu, Kalker (Kireç taşı) ve jips (Alçın taşı) suda eriyebilen kayalardan oluşan arazilere karşılık araziler.

Aşağıda verilen illerden hangisinde kayatuzu daha yaygındır?

- A) Sivas B) Antalya C) Çankırı
D) Mersin E) Ankara

1. • Yerel saati ile ulusal saat farkı en fazla.
• Güneş en geç doğar, en geç batar.
• Başlangıç boylamına en yakın olan.
• Boylam Derecesi en küçük olan.
• Yerel saati en geride olan.



Yukarıda verilen özellikler haritadaki hangi ile aittir?

- A) Aydın B) İzmit C) Mersin
D) Samsun E) Kars

2. • Gündüz süresi daha uzun
• Bir cismin gölge boyu daha uzun
• Güneş ışınlarının geliş açısı daha küçük
• Güneş daha erken doğar.

21 Haziran tarihinde Kayseri'den aşağıda verilen kentlerden hangisine gidilmesi durumunda yukarıda verilen özelliklerin tamamı gerçekleşecektir?

- A) Tekirdağ B) Şırnak C) Aydın
D) Sinop E) Rize

3. Ülkemizde Ege Bölgesi'ndeki dağlar kırılma sonucu yani horst - graben sistemi sonucu oluşmuşlardır.

Buna göre aşağıda verilen grabenlerden hangisi yunt ve bozdağlar arasında bulunmaktadır?

- A) Gediz
B) Bakırçay
C) Edremit
D) Küçük Menderes
E) Büyük Menderes

4.



Haritada numaralı yerlerden hangisinde deprem riski en azdır?

- A) I B) II C) III D) IV E) V

Editör Yayınevi

5. I. Uzunyayla - Tabaka Düzlüğü
II. Ardahan - Aşınım
III. Teke - Karstik
IV. Gaziantep - Volkanik
V. Çatalca - Kocaeli - Aşınım

Yukarıda verilen plato ve oluşum özellikleri düşünüldüğünde hangi eşleştirmelerde yanlışlık yapılmıştır?

- A) I ve II B) II ve III C) III ve IV
D) IV ve V E) II ve IV

6. **Aşağıdan verilen göllerimizden hangisinin çevresinde geven, çoban yastığı, üzerlik, gelincik, yavşan otu, sığır kuyruğu gibi bozkır türleri daha yaygındır?**

- A) Borabay Gölü
B) Seyfe Gölü
C) Çıldır Gölü
D) Köyceğiz Gölü
E) Durusu (Terkos) Gölü

1. Türkiye'nin mutlak konumu ile ilgili aşağıda verilen bilgilerden hangisi yanlıştır?

- A) Aynı enlem üzerinde yer alan Artvin ve Bartın'da alacakaranlık süresi aynıdır.
- B) 21 Haziran tarihinde en uzun gece Hatay'da yaşamaktadır.
- C) Aynı boylam üzerinde yer alan İstanbul ve Muğla'da güneş yıl boyunca aynı anda doğar ve aynı anda batar.
- D) Türkiye yengeç dönencesinin kuzeyinde yer aldığı için güneş ışınları hiçbir zaman dik açı ile düşmez.
- E) Türkiye'de maki, kızılçam, zeytin, turuncgil ve terra rossa gibi özelliklerin görülmesi mutlak konum sonucudur.

2. Türkiye'den yurtdışına giden bir araştırmacı grubu tüm ulaşım yollarını kullanmak istemektedir.

Bu araştırma grubu bütün ulaşım yollarını kullanması için hangi komşumuza gitmesi gerekmektedir?

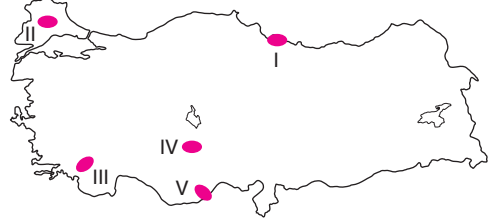
- A) Ermenistan
- B) İran
- C) Nahçıvan
- D) Yunanistan
- E) Irak

3. Birinci jeolojik zamanda oluşmuş deprem riski taşımayan arazilere masif yani yaşlı araziler denir.

Aşağıda verilen yerlerden hangisi masif arazilere örnek gösterilemez?

- A) Daday - Devrekani
- B) Bitlis - Mardin
- C) Yıldız (Istranca)
- D) Erzurum - Kars
- E) Anamur

4. Kaya tuzu, kalker (kireçtaşı), jips (alçıtaşı) gibi kolay eriyebilen kayaların oluşturmuş olduğu arazilere karstik araziler denir. Kalkerli toprakların erimesiyle oluşan düzlüklere polye denir.



Buna göre yukarıda verilen haritada numaralı yerlerden hangisi polyelere örnek gösterilebilir?

- A) I
- B) II
- C) III
- D) IV
- E) V

5. İskenderun limanından yola çıkan bir kişi kıyı şeridini takip ederek İzmir'e kadar ulaşmıştır.

Bu kişi bu seyahati boyunca aşağıda verilen oluşumlardan hangisini görmesi mümkün değildir?

- A) Ria kıyı tipi
- B) Silifke deltası
- C) Dalmaçya kıyı tipi
- D) Balat deltası
- E) Kapıdağ tombolosu

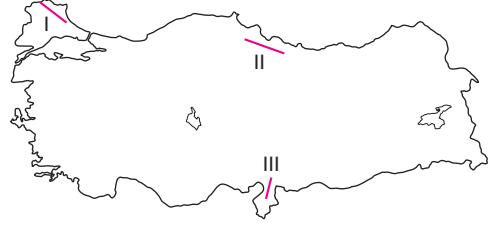
1. I. Balıkesir'den Ardahan'a gidildikçe tarım ürünü olgunlaşma süresinin uzaması.
- II. Batman'dan Sinop'a gidildikçe tan ve gurup süresinin uzaması.
- III. 21 Haziran'da Muğla'dan Artvin'e gidildikçe gündüz süresinin uzaması.
- IV. Akarsuların daha çok doğu-batı yönlü akması.
- V. Kıyılardan iç kesimlere doğru gidildikçe sıcaklık farkının artması

Yukarıda verilen bilgilerden hangileri Türkiye'nin göreceli (özel) konumu sonucu oluşmuştur?

- A) I, III ve V B) III, IV ve V
C) I, II ve IV D) I, IV ve V
E) II, III ve IV

Editor Yayınevi

3.



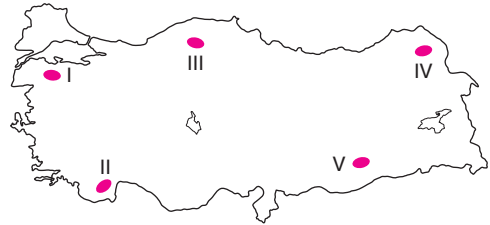
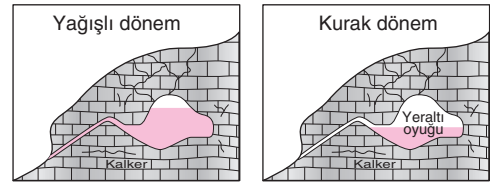
Harita üzerinde gösterilen dağların isimleri aşağıdakilerden hangisinde doğru olarak verilmiştir?

I	II	III
A) Kazdağları	Ilgaz dağları	Aladağlar
B) Yıldız Dağları	Canik Dağları	Nur Dağları
C) Samanlı Dağları	Giresun Dağları	Beydağları
D) Yıldız Dağları	Küre Dağları	Nur Dağları
E) Yunt Dağları	Koroğlu Dağları	Geyik Dağları

2. Aşağıda verilen durumlardan hangisi Türkiye'nin jeopolitik özelliğini arttırmaz?

- A) Doğu ve batı arasında enerji koridoru olması
B) Uranyum, toryum ve bor gibi stratejik kaynaklara sahip olması
C) Doğu Anadolu Bölgesi'nde volkanik göllere sahip olması
D) Genç ve dinamik bir nüfusa sahip olması
E) Geçmiş medeniyetlere ev sahipliği yapmış olur

4.



Yukarıda verilen kaynak türü haritada numaralı yerlerin hangisinde yaygın olarak görülmektedir?

- A) I B) II C) III D) IV E) V



İvedik Organize Sanayi Matbaacılar Sitesi
1518 Sok. Mat-Sit İş Merkezi No.:2/20
Yenimahalle / ANKARA
Telefon: 0 312 384 29 95 - Belgegeçer: 0312 342 23 58
WhatsApp: 0 505 925 57 81
www.datayayinlari.com | bilgi@datayayinlari.com

ISBN 978-605-2805-72-5

