

2024 KPSS

GENEL KÜLTÜR

Coğrafyanın Rotası

TAMAMI ÇÖZÜMLÜ

**SORU
BANKASI**

**Yazar
Mehmet Şah VARLI**

editör
yayınevi

KPSS
COĞRAFYA SORU BANKASI

EDİTÖR

Turgut MEŞE

YAZAR

Mehmet Şah VARLI

Bütün hakları Editör Yayınevine aittir.

Yayıncının izni olmaksızın kitabın tümünün veya bir kısmının elektronik, mekânîk yollarla ya da fotokopi yoluyla basımı, çoğaltılması ve dağıtımı yapılamaz.

SERTİFİKA NO

40447

KAPAK TASARIMI

Editör Yayınevi Tasarım Ekibi

SAYFA TASARIMI

Editör Yayınevi Dizgi Ekibi

BASKI VE CİLT

Data Dijital Matbaacılık

ANKARA



İLETİŞİM

İvedik Organize Sanayi Matbaacılar Sitesi

1518 Sok. Mat-Sit İş Merkezi No:2/20

Yenimahalle / ANKARA

Tel: 0 312 384 20 33 - 0 505 925 57 81

Fax: 0312 342 23 58

www.editoryayinevi.com

Kitap hakkında görüş ve önerileriniz için
WhatsApp hattımız: 05422620337



İçindekiler



Türkiye'nin Coğrafi Konumu	7 - 24
Türkiye'nin Yer Şekilleri	25 - 47
Türkiye İklimi.....	48 - 65
Su - Toprak - Bitki.....	66 - 89
Çevre ve Doğal Afetler	90 - 105
Türkiye'de Nüfus.....	106 - 128
Türkiye'de Yerleşme.....	129 - 140
Türkiye'nin Ekonomik Coğrafyası Tarım.....	141 - 158
Hayvancılık ve Ormancılık.....	159 - 176
Madenler ve Enerji Kaynakları.....	177 - 198
Sanayi - Ticaret - Ulaşım.....	199 - 214
Turizm.....	215 - 229
Bölgesel Kalkınma Projeleri.....	230 - 235
Bölgeler Coğrafyası	235 - 244

Türkiye'nin Coğrafi Konumu

1. I. Batı rüzgarlarının etkili olması
II. Karstik kayaçların bulunması
III. 21 Haziran tarihinde en uzun gündüzün yaşanması
IV. Doğu Anadolu Bölgesi'nde hidroelektrik potansiyelinin fazla olması

Yukarıda verilen özelliklerin mutlak ve göreceli konum ile ilişkilendirildiğinde aşağıdakilerden hangisi doğru olacaktır?

<u>Mutlak Konum</u>	<u>Göreceli Konum</u>
A) I ve II	III ve IV
B) I ve III	II ve IV
C) I ve IV	II ve III
D) II ve III	I ve IV
E) III ve IV	I ve II

2. Bir ülkenin askeri, siyasi, ekonomik ve stratejik özelliğinden dolayı kazanmış olduğu güce, ve bu güçle dış siyasetinin şekillendirmesine jeopolitik denir. Jeopolitik özelliği etkileyen değişen ve değişmeyen olmak üzere iki tane unsur var.

Aşağıda verilen özelliklerden hangisi Türkiye jeopolitiğini etkileyen değişmeyen unsurlarındandır?

- A) Coğrafi konum - Su kaynakları
- B) İklim özellikleri - Ekonomik değerler
- C) Sosyo kültürel değerler - Coğrafi özellik
- D) Su kaynakları - Demografik Nüfus) değerler
- E) Jeolojik ve Jeomorfolojik özellikler - Teknolojik değerler

3. 27°D 31°D



Yukarıda bazı şehirlerin enlem ve boylam dereceleri verilmiştir

Buna göre aşağıdakilerden hangisine ulaşamaz?

- A) Tan ve gurup vaktinin izlenme süresi en uzun Adapazarı'ndadır.
- B) Şanlıurfa'nın yerel saati en ileridedir.
- C) Gece gündüz süre farkı en fazla Adapazarı'ndadır.
- D) Yıl boyunca Adapazarı ve Antalya'da Güneş aynı anda doğar aynı anda batar.
- E) Başlangıç boylamına en yakın olan il İzmir'dir.

4. Aşağıda verilen özelliklerden hangisi Türkiye'de 21 Haziran'da yaşanan olaylar arasında yer almaz?

- A) Güneş ışınlarının en büyük açıyla düşmesi
- B) Güneye gidildikçe gündüz süresinin kısalması
- C) Öğle vakti gölge boyunun en kısa olması
- D) Yaz mevsimi başlangıcı
- E) En sıcak ayın yaşanması

Türkiye'nin Yer Şekilleri

1. Türkiye'nin yer şekillerinin oluşmasında iç ve dış kuvvetler etkili olmuştur. Aşağıdakilerden hangisi diğerlerinden farklıdır?

- A) Orojenez
- B) Yeraltı Suları
- C) Volkanizma
- D) Depremler
- E) Epirojenez

3. Ülkemizin yer şekilleri ilgili genel özellikleri hakkında verilen aşağıdaki bilgilerden hangisi yanlıştır?

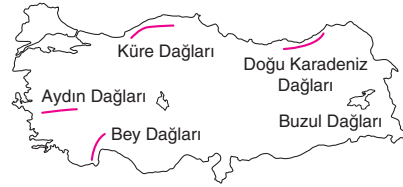
- A) Ege Bölgesi'ndeki dağların tamamı kıyıya dik uzanmaktadır.
- B) En yüksek dağ volkanizma sonucu oluşmuştur.
- C) Akdeniz ve Karadeniz'de dağların kıyıya paralel uzanmasından dolayı ulaşım zor ve maliyetlidir.
- D) Nur (Amanos) Dağları kırıklı bir dağdır.
- E) GDA'daki Karacadağ kalkan volkan özelliğindedir.

Editor Yayınevi

2. Aşağıdaki olaylardan hangisi farklı bir jeolojik zamanda meydana gelmiştir?

- A) Alp Himalaya kıvrım sisteminin gerçekleşmesi
- B) Ana fay kuşaklarının oluşması
- C) Ege'nin horst - graben sisteminin oluşması
- D) Bor, linyit, petrol, doğalgaz ve tuz yataklarının oluşması
- E) İstanbul ve Çanakkale boğazlarının oluşması

4.



Harita gösterilen dağlardan hangisi oluşum bakımından diğerlerinden farklıdır?

- A) Küre Dağları
- B) Doğu Karadeniz Dağları
- C) Aydın dağları
- D) Bey Dağları
- E) Buzul Dağları

1. Gerçek sıcaklık: Bir merkezin bulunduğu yükseltideki sıcaklıdır.

İndirgenmiş sıcaklık: Merkez deniz seviyesinde kabul edilir.

Buna göre aşağıdaki illerden hangisinde gerçek ve indirgenmiş sıcaklık farkı en fazladır?

- A) Konya B) Şırnak
C) Erzurum D) Kayseri
E) İzmir

2. Aşağıdakilerden hangisi enlemin sıcaklık üzerindeki etkisine örnek olarak gösterilebilir?

- A) Antalya'nın kışın Şanlıurfa'dan daha sıcak olması
B) Kışın Kaçkar Dağları'nın Kuzey yamacının Güney yamacından daha sıcak olması
C) Yaz mevsiminde Erzurum'un Ankara'dan daha serin olması
D) Kış mevsiminde Samsun'un Kayseri'den daha sıcak olması
E) Ocak ayında Antalya'nın İzmir'den daha sıcak olması

3. Aşağıdakilerden hangisi üzerinde iklimin etkisinden söz edilemez?

- A) Akdeniz Bölgesi'nde maki bitki örtüsünün varlığı
B) Erzurum Kars Ardahan yöresinde gür çayırların varlığı
C) İç Anadolu ve Güneydoğu Anadolu Bölgesi'nde tahıl tarımının varlığı
D) Ulaşımı Doğu - Batı yönlü gelişmesi
E) Doğuda kış turizminin gelişmesi

4. I. Sibiryaya
II. Basra
III. İzlanda
IV. Asor

Yukarıdakilerden hangileri Türkiye'yi etkileyen yüksek basınç merkezlerindedir?

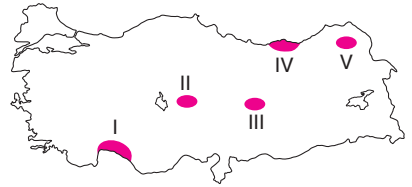
- A) I ve II B) I ve III C) I ve IV
D) III ve IV E) II ve III

5. • Güneybatı yönünden esen sıcak bir rüzgardır.
• Taşkın, sel ve su baskınlarına neden olur.
• Deniz ulaşımını olumsuz etkiler.
• Marmara ve Ege'de soba zehirlenmelerine neden olur.

Yukarıda özellikleri belirtilen rüzgâr aşağıdakilerden hangisidir?

- A) Lodos
B) Poyraz
C) Samyeli (keşişleme)
D) Kible
E) Karayel

- 6.



Haritada numaralı yerlerden hangisinde ocak ayında maksimum nem en fazladır?

- A) I B) II C) III D) IV E) V

1. Türkiye'nin akarsuları ile ilgili aşağıda verilen bilgilerden hangisi yanlıştır?

- A) Akış hızları fazladır.
- B) Aşındırma güçleri fazladır.
- C) Boyları kısadır.
- D) Denge profiline yakındırlar.
- E) Hidroelektrik potansiyelleri fazladır.

4. Aşağıda verilen göllerden hangisi yıl içinde seviyesi en fazla değişir?

- A) Van Gölü
- B) Tuz Gölü
- C) Eğirdir
- D) Sapanca
- E) Abant

2. Yatak eğimi fazla olan akarsularda rafting turizmi gelişmiştir.

Aşağıdaki akarsulardan hangisi rafting turizmine uygun değildir?

- A) Ergene
- B) Manavgat
- C) Dalaman
- D) Çoruh
- E) Fırat

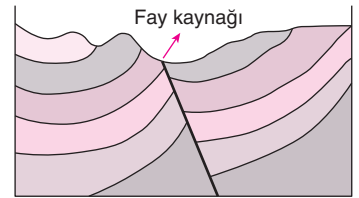
Editor Yayinevi

3. I. Meriç
II. Çoruh
III. Asi
IV. Kura

Yukarıda verilen akarsulardan hangileri kaynağını yurt dışından alıp yurt içine dökülür?

- A) I ve II
- B) II ve III
- C) III ve IV
- D) I ve III
- E) I ve IV

5.



Yukarıda verilen fay kaynağı ile ilgili aşağıdakilerden hangisi yanlıştır?

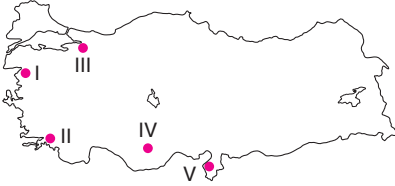
- A) Jeotermal enerji üretilir.
- B) Termal turizme katkı sağlar.
- C) Seraların ısıtılmasında kullanılır.
- D) İklimden etkilenir.
- E) Ege Bölgesi'nde yaygındır.

1. I. Kuraklık
- II. Deprem
- III. Sel
- IV. Tsunami

Yukarıda verilen doğal olaylardan hangileri klimatolojik kökenlidir?

- A) I ve II B) II ve III C) III ve IV
D) I ve III E) I ve IV

2.



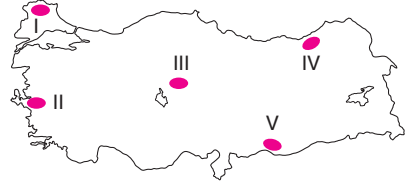
Haritadaki numaralı yerlerden hangisinde deprem riski en azdır?

- A) I B) II C) III D) IV E) V

3. Aşağıda verilen illerimizden hangisinde sel ve taşkın riski daha azdır?

- A) Sivas B) Bartın
C) İzmir D) Hatay
E) Rize

4. • Eğimin fazla olması
- Yağışın fazla olması
- Kar erimelerinin fazla olması.
- Kil ve mil toprakların fazla olması
- Tabakaların eğime paralel uzanması
- Yol yapım çalışmaları

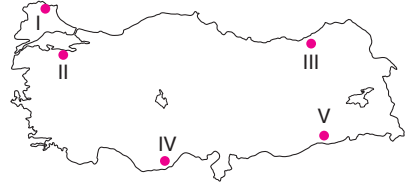


Buna göre haritada gösterilen alanlardan hangisinde heyelan oluşma ihtimali daha yüksektir?

- A) I B) II C) III D) IV E) V

Editor Yayinevi

5. Toprak yüzeyinin akarsular sel suları ve rüzgâr gibi dış kuvvetler tarafından aşındırılarak taşınmasına erozyon denir.



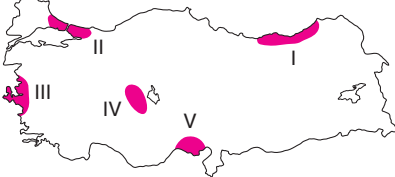
Buna göre haritada gösterilen alanlardan hangisinde erozyon olayı daha fazla görülür?

- A) I B) II C) III D) IV E) V

1. Türkiye'nin nüfusu ile ilgili verilen aşağıdaki bilgilerden hangisi yanlıştır?

- A) Cumhuriyetin ilk sayımı 1927 yılında yapıldı.
- B) 1935'ten 1990'a kadar nüfus sayımları 5 yılda bir yapıldı.
- C) 2007'de adrese dayalı nüfus kayıt sistemine geçildi.
- D) Nüfus miktarı sürekli artmıştır.
- E) Nüfus artış hızı sürekli azalmıştır.

2.



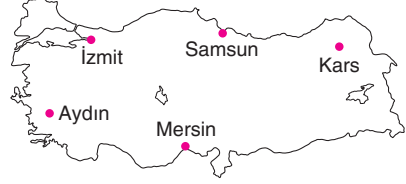
Haritada taralı alanların hangisinde nüfus seyrekdir?

- A) I B) II C) III D) IV E) V

3. Türkiye'de yaşanan göçlerle ilgili aşağıdaki verilen bilgilerden hangisi yanlıştır?

- A) Göç veren yerde kadın oranı artar.
- B) Göçler tarımda makine kullanımı ile azalmıştır.
- C) Göçler doğudan batıya iç kesimlerden kıyılara yapılır.
- D) Göçe en çok genç erkek nüfus katılır.
- E) Göçün temel nedeni ekonomik sıkıntılardır.

4.



Haritada verilen illerden hangisinde doğal nüfus artışı daha fazladır?

- A) Kars B) Samsun
- C) İzmit D) Aydın
- E) Mersin

5. Aşağıdakilerden hangisi zorunlu göçe örnek verilebilir?

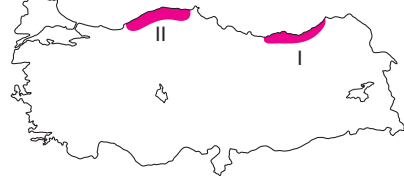
- A) 1980'lerde Ortadoğu'ya yapılan işçi göçleri
- B) Karadeniz'de fındık toplamaya giden işçiler
- C) Türkiye Yunanistan arasındaki nüfus mübadelesi
- D) Ege Akdeniz kıyılarına turizm amaçlı yapılan göçler
- E) Yurt dışında çalışmak için yapılan göçler

Türkiye'de Yerleşme

1. Aşağıda verilen köy altı yerleşmelerinden hangisi devamlı yerleşmelere örnek verilemez?

- A) Ağıl B) Çiftlik
C) Mahalle D) Mezra
E) Divan

3.



Haritada verilen taralı alanlarda yaygın olarak görülen köy altı yerleşmeleri aşağıdakilerden hangisinde doğru olarak verilmiştir?

- | | I | II |
|----|---------|---------|
| A) | Çiftlik | Divan |
| B) | Yayla | Divan |
| C) | Mezra | Yayla |
| D) | Yayla | Mahalle |
| E) | Yayla | Mezra |

Editor Yayınevi

2. • Tarım arazileri içinde ve kenarında kurulmuş evlerdir.
• Bazen tarım bazen hayvancılık ön plandadır.
• Bazı yerlerde her ikisi birden yapılır.
• Başta Trakya olmak üzere Batı Anadolu, Akdeniz ve İç Anadolu'da sıkça rastlanır.

Yukarıda özellikleri verilen köy altı yerleşmesi aşağıdakilerden hangisidir?

- A) Dam B) Divan
C) Kom D) Çiftlik
E) Mezra

4. Aşağıda verilen yerlerin hangisinde yaylacılık faaliyeti daha az gelişmiştir?

- A) Batı Toroslar
B) Erzurum - Kars Platosu
C) Aydın Dağları
D) Kaçkarlar
E) Giresun Dağları

Türkiye'nin Ekonomik Coğrafyası Tarım

1

1. Aşağıdakilerden hangisi intansif tarımın (yoğun, ince) özellikleri arasında yer almaz?

- A) Ürün verimi yüksektir.
- B) İklim koşullarının etkisi azalmıştır.
- C) Gübre kullanımı artmıştır.
- D) Nadas yerine nöbetleşe ekim yapılmaktadır.
- E) Ürün veriminde dalgalanmalar fazladır.

2. Güneydoğu Anadolu Bölgesi'nde sulanabilen alanların artmasıyla aşağıdaki tarım ürünlerinin hangisinin alanı azalmıştır?

- A) Buğday
- B) Mısır
- C) Pamuk
- D) Patates
- E) Soya Fasulyesi

3. Aşağıda verilen tarım ürünlerinden hangisinin üretim alanı dar değildir?

- A) Muz
- B) Üzüm
- C) Çay
- D) Fındık
- E) Keten

4. I. Ergene Bölümü
II. Hakkâri Bölümü
III. Konya Bölümü
IV. Doğu Karadeniz Bölümü

Yukarıda verilen yörelerden hangilerinde makineli tarım gelişmemiştir?

- A) I ve II
- B) II ve III
- C) III ve IV
- D) II ve IV
- E) I ve IV

Editor: Yayınevi

5. I. Kayısı
II. Muz
III. İncir
IV. Pirinç
V. Fındık

Yukarıdaki tarım ürünlerinden hangileri Türkiye'de yetiştirildiği hâlde ihtiyacı karşılamadığından dolayı ithal edilmektedir?

- A) I ve II
- B) III ve IV
- C) III ve V
- D) II ve IV
- E) II ve III

Hayvancılık ve Ormancılık

1. Türkiye’de hayvancılığı geliştirmek için aşağıdakilerden hangisi yapılmalıdır?

- A) Hayvan soylarının ıslah edilmesi
- B) Otlakların ıslah edilmesi
- C) Yem üretiminin artırılması
- D) Besi ve ahır hayvancılığının geliştirilmesi
- E) Hayvan sayısının artırılması

2. Nemli ve yaz yağışlarının fazla olduğu, uzun boylu ot topluluklarının bulunduğu alanlarda yaygın olan hayvancılık türü aşağıdakilerden hangisidir?

- A) Küçükbaş hayvancılık
- B) Arıcılık
- C) Kümes hayvancılığı
- D) Büyükbaş hayvancılık
- E) İpek böcekçiliği

3. Yer şekillerinin sade, bitki örtüsünün bozkır olduğu yerlerde koyun yetiştiriciliği fazladır.

Buna göre aşağıda verilen illerden hangisinde bu faaliyetler daha azdır?

- A) Van B) Trabzon C) Batman
- D) Karaman E) Konya

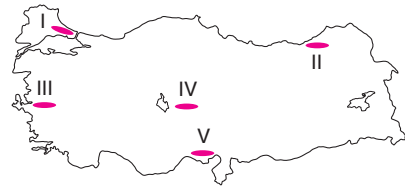
4. • Ülkemizde en fazla beslenen hayvandır.
• İl bazında ilk sırada Van ili yer alır.
• Yer şekillerinin sade ve bitki örtüsünün bozkır olduğu sahalara uyum sağlamıştır.
• Karadeniz’de daha az olmakla beraber ülkemizin her yerinde yetiştirilir.

Yukarıda özelliklerini özellikleri verilen hayvan türü aşağıdakilerden hangisidir?

- A) Tiftik Keçisi
- B) Koyun
- C) Manda
- D) Sığır
- E) Kıl Keçisi

Editor: Yayınevi

5.



Haritada işaretli alanlardan hangisi arıcılık için en uygun yerdir?

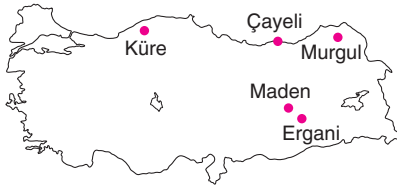
- A) I B) II C) III D) IV E) V

Madenler ve Enerji Kaynakları

1. Bir maden yatağının işletilebilmesi için aşağıdakilerden hangisine gerek yoktur?

- A) Yer altında bulunan maden rezervinin (toplam miktarın) yeterli olması
- B) Kayaç içindeki cevher oranının (tenör) yeterli olması
- C) İhracatı yapılacak kadar fazla olması
- D) İşleme merkezi, kullanım alanları ve ana yollara yakın olması
- E) Gerekli teknoloji ve sermayenin olması gerekir

2.



Haritada çıkarıldığı yerler verilen maden aşağıdakilerden hangisidir?

- A) Demir
- B) Bakır
- C) Krom
- D) Manganez
- E) Boksit

- 3.
- Isıyı emme ve soğutma özelliği taşır.
 - Petrol ve doğalgaz aramalarında sondaj çamurunun hazırlanmasında kullanılır.
 - Alanya, Gazipaşa, Elbistan, Eskişehir ve Muş yörelerinde çıkarılır.
 - İhraç edilir.

Özellikleri verilen maden kaynağı aşağıdakilerden hangisidir?

- A) Fosfat
- B) Feldspat
- C) Asbest (Amyant)
- D) Barit
- E) Perlit

Editor Yayınevi

4. Aşağıda verilen illerin hangisi, o il sınırları içerisinde çıkarılmayan bir maden ile eşleştirilmiştir?

- A) Sivas - Demir
- B) Muğla - Krom
- C) Afyonkarahisar - Mermer
- D) Eskişehir - Bor
- E) Samsun - Fosfat

5. Aşağıda verilen madenlerden hangisinin ihracatımız içindeki payı en yüksektir?

- A) Mermer
- B) Demir
- C) Fosfat
- D) Boksit
- E) Bakır

Sanayi - Ticaret - Ulaşım

1. Aşağıda verilen sanayi kollarından hangisi İç Anadolu Bölgesi'nde daha yaygındır?

- A) Demir - Çelik
- B) Gübre
- C) Tersane
- D) Unlu mamuller
- E) Konserve

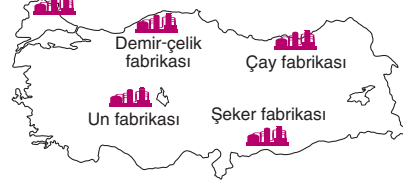
2. Aşağıda verilen şehirlerden hangisi o şehirde bulunmayan bir fabrika ile birlikte verilmiştir?

- A) Kars - Şeker fabrikası
- B) Antalya - Krom işleme
- C) Gaziantep - Pamuklu dokuma
- D) Kars - Süt ve süt ürünleri
- E) Rize - Kâğıt fabrikası

3. Aşağıda verilen sanayi çeşitlerinden hangisinin kuruluş yeri tespit edilirken öncelikle hammaddeye yakınlık baz alınmıştır?

- A) İskenderun Demir - Çelik Fabrikası
- B) Samsun Bakır İşletmeleri
- C) Seydişehir Alüminyum fabrikası
- D) İzmir Aliağa Petrol Rafinerisi
- E) Karabük Demir - Çelik fabrikası

4. Yağ fabrikası



Haritada gösterilen endüstri kuruluşlarından hangisinin yeri yanlış gösterilmiştir?

- A) Yağ fabrikası
- B) Demir - çelik fabrikası
- C) Çay fabrikası
- D) Un fabrikası
- E) Şeker fabrikası

5. İran petrolünün Karayolundan Trabzon limanına gelmesi burada Trabzon limanının hinterlandın gelişmesine katkı sağlamıştır.

İran petrolünün gelmesini kolaylaştıran geçitler aşağıdakilerden hangisinde verilmiştir?

- A) Kop - Zigana
- B) Cankurtaran - Ovit
- C) Kop - Gülek
- D) Ovit - Zigana
- E) Kop - Cankurtaran

Turizm

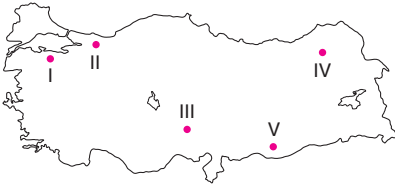
1. Turizmin gelişmesi aşağıdakilerden hangisinin artmasına olanak sağlamaz?

- A) Ülkeye giren döviz miktarında
- B) İstihdam oranında
- C) Milli gelirin artmasında
- D) İhracatın artmasında
- E) Ticaret, ulaşım, gıda gibi sektörlerin artmasında

2. Aşağıda verilen Türkiye'nin turistik değerleri arasında hangisi yeryüzü şekilleri ile ilgili olanlardan biri değildir?

- A) Peribacaları
- B) Travertenler
- C) Mağaralar
- D) Dağlar ve yaylalar
- E) Termal (sıcak) kaynaklar

3.



Türkiye'nin yer şekilleri özelliği düşünüldüğünde haritada verilen yerlerden hangisinde kış turizminin gelişmesi beklenemez?

- A) I B) II C) III D) IV E) V

4. Aşağıda verilen plaj ve bulunduğu yer eşleştirmelerinden hangisi yanlıştır?

- A) Konyaaltı - Antalya
- B) Altinkum - Altinkum (Aydın)
- C) Lara - İzmir
- D) Ölüdeniz - Fethiye (Muğla)
- E) Patara - Antalya

5. I. Çoruh
II. Gediz
III. Manavgat
IV. Sakarya

Yukarıda verilen akarsulardan hangileri rafting turizmine daha elverişlidir?

- A) I ve II B) I ve III C) I ve IV
- D) II ve IV E) II ve III

6. I. Tortum Şelalesi - Erzurum
II. Kapuzbaşı Şelalesi - Kastamonu
III. Manavgat Şelalesi - Antalya
IV. Girlevik Şelalesi - Giresun

Yukarıda verilen ve turistik değeri yüksek olan şelalelerin bulunduğu yer eşleştirmelerinden hangileri yanlıştır?

- A) I ve II B) II ve III C) III ve IV
- D) II ve IV E) I ve IV

1. Aşağıda verilen Bölgesel Kalkınma Projelerinden hangisi uygulanmakta olan bir projedir?

- A) DAP B) GAP
C) DOKAP D) ZBK
E) YHGP

2. Aşağıda verilen illerden hangisi GAP kapsamı dışındadır?

- A) Siirt B) Batman
C) Mardin D) Van
E) Şırnak

3. Aşağıda verilenlerden hangisi GAP'ın özelliklerinden biri değildir?

- A) Bölgenin gelir düzeyi ve hayat standardını yükseltir.
B) Kırsal alanlardaki verimi artırır.
C) İstihdamı artırır.
D) Sulama, enerji, ormancılık gibi faaliyetleri geliştirir.
E) Madene dayalı bir projedir.

4. Aşağıda verilen barajlardan hangisi GAP kapsamı dışında inşa edilmiştir?

- A) Batman Barajı
B) Atatürk Barajı
C) Keban Barajı
D) Karkamış Barajı
E) Kralkızı Barajı

5. Aşağıda verilen illerden hangisi Doğu Anadolu Projesi'ne (DAP) dahil değildir?

- A) Yozgat B) Sivas
C) Ağrı D) Iğdır
E) Tunceli

6. Doğu Anadolu Projesi (DAP) özellikleri arasında aşağıdakilerden hangisi yer almaz?

- A) Meraların ıslahı
B) Hayvan soylarının ıslahı
C) Kış turizmini yaygınlaştırmak
D) İç ticarete hayvancılığın önemini artırmak
E) Taşkın ve erozyonu azaltmak

7. Aşağıda verilen Bölgesel Kalkınma Projelerinden hangisi madene dayalı tek projedir?

- A) GAP B) DAP
C) ZBK D) YHGP
E) KOP

Bölgeler Coğrafyası

1. Aşağıdakilerden hangisi Kuzey Doğu Anadolu Bölgesi'nin iklim özelliklerinden biri değildir?

- A) Karın yerde kalma süresi uzundur.
- B) En fazla yağış yaz mevsiminde düşer.
- C) Sıcaklık farkları fazladır.
- D) Bitki örtüsü uzun boylu gür çayırlardır.
- E) Doğal olayları nadir görülür.

2. • En fazla nüfusa sahip bölüm
• Ticaretin geliştiği bölüm
• Göç alan bir bölüm
• Enerji tüketiminin fazla olduğu bir bölüm

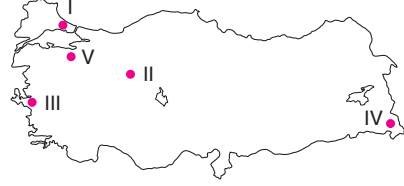
Yukarıda verilen özellikler aşağıdaki bölümlerden hangisine aittir?

- A) Yukarı Murat - Van Bölümü
- B) Yukarı Sakarya Bölümü
- C) Antalya Bölümü
- D) Çatalca - Kocaeli Bölümü
- E) Kıyı Ege Bölümü

3. Aşağıda verilen bölgelerden hangisinin sınırları zamanla değişmesi beğlenmez?

- A) Tarım bölgeleri
- B) Turizm bölgeleri
- C) Dağlık bölgeler
- D) Sanayi bölgeleri
- E) Ticaret bölgeleri

4.



Haritada işaretli yerlerden hangisi seyrek nüfuslu bölgelere örnek verilebilir?

- A) I B) II C) III D) IV E) V

5. Aşağıdakilerden hangisi Türkiye'nin dağlık ve engebeli bölgeleri içerisinde yer almaz?

- A) Antalya Bölümü
- B) Gaziantep - Şanlıurfa
- C) Yukarı Kızılırmak
- D) Doğu Karadeniz
- E) Menteşe

6. Aşağıda verilen yerlerden hangisi Türkiye'nin yoğun nüfuslu bölgeleri içerisinde yer almaz?

- A) Sivas
- B) Bursa
- C) İzmir
- D) Kocaeli - Çatalca
- E) Mersin - Adana - Hatay

2024 KPSS

Coğrafyanın Rotası

TAMAMI ÇÖZÜMLÜ 30 DENEME SINAVI

2024 KPSS

GENEL KÜLTÜR

Coğrafyanın Rotası

TAMAMI ÇÖZÜMLÜ

30

**DENEME
SINAVI**

Yazar
Mehmet Şah VARLI

editör
yayınları

editör
yayınları

İvedik Organize Sanayi Matbaacılar Sitesi

1518 Sok. Mat-Sit İş Merkezi No.:2/20

Yenimahalle / ANKARA

Telefon: 0 312 384 29 95 - Belgegeçer: 0312 342 23 58

WhatsApp: 0 505 925 57 81

www.datayayinlari.com | bilgi@datayayinlari.com

ISBN 978-605-2805-71-8



9 786052 805718