

Sadece

I. DÖNEM

~~2023~~

LGS

TAMAMI
ÇÖZÜMLÜ
fasiküllü

DERS
DERS

DENEME SINAVLARI

Matematik
Türkçe
Fen Bilimleri
T.C. İnkılap Tarihi
Din Kültürü
İngilizce

5 Deneme Sınavı
5 Deneme Sınavı
5 Deneme Sınavı
10 Deneme Sınavı
10 Deneme Sınavı
10 Deneme Sınavı



I. DÖNEM LGS

Matematik

TAMAMI
ÇÖZÜMLÜ

5

DENEME SINAVI



MATEMATİK
TAMAMI ÇÖZÜMLÜ 5 DENEME

EDİTÖR

Turgut MEŞE

YAZAR

Komisyon

©

Tüm hakları Editör Yayınevine aittir. Yayıncının izni olmaksızın, kitabın tümünün veya bir kısmının elektronik, mekanik ya da fotokopi yoluyla basımı, çoğaltılması ve dağıtımı yapılamaz.

BU KİTAP T.C. KÜLTÜR BAKANLIĞININ BANDROLÜ İLE
SATILMAKTADIR.

SERTİFİKA NO

40447

KAPAK TASARIMI

Editör Yayınevi Tasarım Ekibi

SAYFA ASAR MI

Editör Yayınevi Dizgi Ekibi

BASKI VE CİLT

Data Dijital Matbaacılık

ANKARA

İLETİŞİM



İvedik Organize Sanayi Matbaacılar Sitesi

1518 Sok. Mat-Sit İş Merkezi No:2/20

Yenimahalle / ANKARA

Tel: 0 312 384 20 33 - 0 505 925 57 81

Fax: 0312 342 23 58

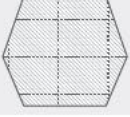
www.editoryayinevi.com

İÇİNDEKİLER

• DENEME SINAVI 1	3
• DENEME SINAVI 2	12
• DENEME SINAVI 3	24
• DENEME SINAVI 4	35
• DENEME SINAVI 5	47

DENEME SINAVI

1



SORULAR

1.

1	69	92	6
7	8	46	2
72	23	5	13

Yukarıda verilen tabloda 184 sayısının çarpanları mavi (M) renge 138 sayısının çarpanları sarı (S) renge boyanıyor. Mavi ve sarı rengin karışımı yeşil (Y) olduğuna göre boyama işlemi sonrası tablonun görünümü aşağıdakilerden hangisidir?

A)

Y	M		S
	M	Y	Y
		Y	

B)

Y	M		Y
	M	Y	Y
	Y		

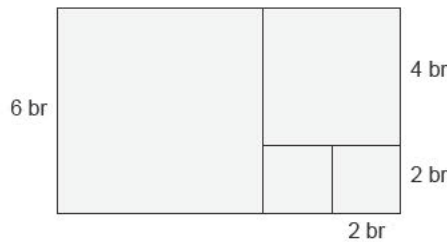
C)

Y		M	S
	M	Y	Y
	Y		

D)

Y		M	S
	M	Y	Y
S	Y		

2. Kenar uzunlukları birer tam sayı olan dikdörtgenler, kenar uzunlukları tam sayı olan kare parçalara ayrılacaktır. Ayırma işlemi en az sayıda kare oluşturmak üzere gerçekleştirilecektir. Aşağıdaki 6×10 birimkarelik bir dikdörtgen için bu bölünme kuralı uygulanmıştır.



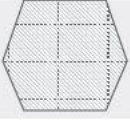
Buna göre aşağıda kenar uzunlukları verilen dikdörtgenlerden hangisinin kurala uygun biçimde bölünmesiyle alanı 16 br^2 olan bir kare elde edilebilir?

A) 7×5

B) 6×11

C) 15×24

D) 12×8



ÇÖZÜMLER

1. Çözüm

184 Çarpanları → 1, 2, 4, 8 23, 46, 92, 184

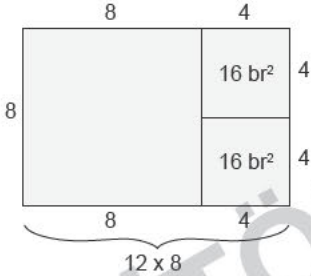
138 Çarpanları → 1, 2, 3, 6 23, 46, 69, 138

1, 2, 23 ve 46 sayılarının bulunduğu kutucuklar yeşil olacaktır.

Y		M	S
	M	Y	Y
	Y		

Doğru cevap C seçeneğidir.

2. Çözüm



Doğru cevap D seçeneğidir.

3. Çözüm

EBOB (8,12) = 4 → Fa

EBOB (30,25) = 5 → Sol

EBOB (18,15) = 3 → Mi

Fa, Sol, Mi

Doğru cevap A seçeneğidir.

4. Çözüm

EKOK (15, 40) = 120

200 cm ile 300 cm arası 120'nin 2 katı 240 cm'dir.

240 cm:

I 12 'ye bölünür, 18'e bölünmez.

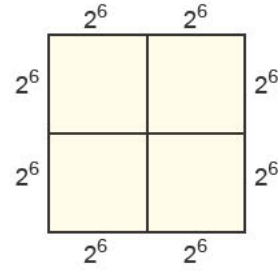
II 20'ye ve 30'a bölünür.

III 60'a bölünür, 25'e bölünmez.

Sadece II'de verilen sabun boşluk kalmadan her iki biçimde dizilebilir.

Doğru cevap A seçeneğidir.

5. Çözüm



Çevre = $8 \cdot 2^6 = 2^3 \cdot 2^6 = 2^9$ cm'dir.

Doğru cevap B seçeneğidir.

6. Çözüm

Şehirler kişi başı alan

$$A \text{ şehri} = \frac{2 \cdot 1 \cdot 10^5}{14 \cdot 10^4} = \frac{3}{2} \text{ km}^2/\text{kişi}$$

$$B \text{ şehri} = \frac{3 \cdot 10^7}{0,3 \cdot 10^6} = 10^2 \text{ m}^2/\text{k} \text{şi}$$

$$C \text{ şehri} = \frac{2 \cdot 7 \cdot 10^5}{9 \cdot 10} = 3 \text{ km}^2/\text{kişi}$$

$$D \text{ şehri} = \frac{7 \cdot 5 \cdot 10^7}{5 \cdot 10^5} = 150 \text{ km}^2/\text{kişi}$$

Doğru cevap C seçeneğidir.

7. Çözüm

Bir tane küçük aralık;

$$\frac{4^3 - 2^2}{4} = \frac{64 - 4}{4} = \frac{60}{4} = 15 \text{ olur.}$$

A'ya kadar 20 aralık vardır.

$$A = 2^2 + 20 \cdot 15$$

$$A = 304 \text{ olur}$$

$$A = 2^4 \cdot 19 \text{ 'dur.}$$

Doğru cevap A seçeneğidir.

8. Çözüm

11 kare yanyana dizilirse çevresi 24 eş kenardan oluşur.

4 kare yan yana dizilirse çevresi 10 eş kenardan oluşur.

24 eş kenar uzunluğunun toplamı 6^{10} ise 10 kenar

$$\text{uzunluğu toplamı} \frac{6^{10}}{24} \cdot 10 = 2^8 \cdot 3^9 \cdot 5 \text{ olur.}$$

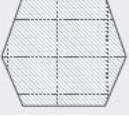
Doğru cevap B seçeneğidir.

9. Çözüm

Ayşe'nin astığı not 150 cm ile 200 cm arasındadır.

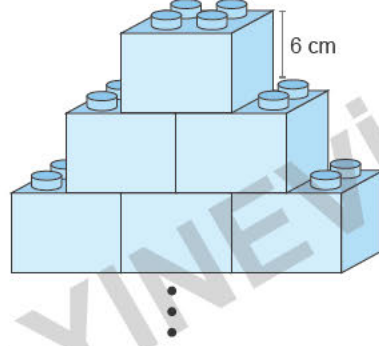
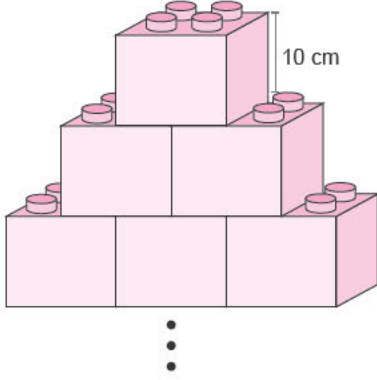
1,5 - 2 metre arasındadır. Seçeneklerde $\sqrt{3}$ sayısı bu aralıktadır.

Doğru cevap C seçeneğidir.



SORULAR

1.



Birbiri ile birleřtirilebilen oyun bloklarından pembe bloklar 10 cm, mavi bloklar 6 cm uzunluğundadır.

Bloklar her satırda bir önceki satırdan 1 tane daha fazla olacak şekilde renklerine göre yerleřtirilmektedir.

Buna göre pembe blokların oluřturduđu yapının boyunun mavi blokların oluřturduđu yapının boyuna eřit olması için toplamda kullanılan blok sayısı en az kaç olmalıdır?

A) 18

B) 21

C) 24

D) 30

2.

Desen Adı	İřleme Sırası	İřleme Süresi
A Deseni	1	2 dakika
B Deseni	2	1,5 dakika
C Deseni	3	0,5 dakika
D Deseni	4	1 dakika

Bir halı makinası hazırladıđı halıya sırasıyla A, B, C ve D desenlerini iřlemekte olup her deseni belli sürede iřleyip bitirerek tekrar bařa dönmektedir.

Makina B desenine bařladıđı andan itibaren 1 saat aralıksız çalıştıđına göre en son tamamladıđı desen ařađıdakilerden hangisidir?

A) A

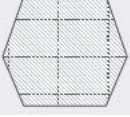
B) B

C) C

D) D

DENEME SINAVI

4



SORULAR

1.

	2	3	4	5	6	7	8	9	10
11	12	13	14	15	16	17	18	19	20
21	22	23	24	25	26	27	28	29	30
31	32	33	34	35	36	37	38	39	40
41	42	43	44	45	46	47	48	49	50
51	52	53	54	55	56	57	58	59	60
61	62	63	64	65	66	67	68	69	70
71	72	73	74	75	76	77	78	79	80
81	82	83	84	85	86	87	88	89	90
91	92	93	94	95	96	97	98	99	100

B angı

	2	3	4	5	6	7	8	9	10
11	12	13	14	15	16	17	18	19	20
21	22	23	24	25	26	27	28	29	30
31	32	33	34	35	36	37	38	39	40
41	42	43	44	45	46	47	48	49	50
51	52	53	54	55	56	57	58	59	60
61	62	63	64	65	66	67	68	69	70
71	72	73	74	75	76	77	78	79	80
81	82	83	84	85	86	87	88	89	90
91	92	93	94	95	96	97	98	99	100

Seçilen Sayı: 2

	2	3	4	5	6	7	8	9	10
11	12	13	14	15	16	17	18	19	20
21	22	23	24	25	26	27	28	29	30
31	32	33	34	35	36	37	38	39	40
41	42	43	44	45	46	47	48	49	50
51	52	53	54	55	56	57	58	59	60
61	62	63	64	65	66	67	68	69	70
71	72	73	74	75	76	77	78	79	80
81	82	83	84	85	86	87	88	89	90
91	92	93	94	95	96	97	98	99	100

Seçilen Sayı: 3

Yukarıda bir sayı seçme işlemine ait başlangıç adımları verilmiştir. Her adımda tabloda elenmemiş sayılardan en küçük olanı seçilerek daire içerisine alınır. Daha sonra daire içerisine alınan sayının tüm katları silinerek adım tamamlanır.

Yukarıdaki adımlar hakkında;

I. Daire içerisine alınan tüm sayılar için katlarını silme işlemi, sayının karesinden başlanarak yapılır.

II. Verilen sistem "Erastoteles Kalburu" adı verilen asal sayı tespit sistemidir.

III. Verilen tablo tamamlandığında tabloda daire içerisine alınmış 25 adet sayı vardır.

ölçüleri veriliyor.

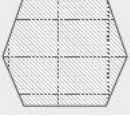
Buna göre verilen bilgilerden hangisi doğrudur?

A) Yalnız II

B) Yalnız III

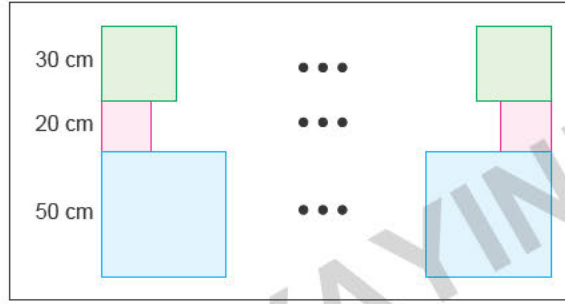
C) I ve II

D) I, II ve III



SORULAR

1. Hakan Bey kenarları 30, 20 ve 50 cm olan kare şekilleri aşağıdaki gibi alt alta dizmiştir. Daha sonra öğrencilerine özdeş olan şekillerin kenarları çıkışacak şekilde sağa doğru bu işlemi devam ettirmelerini istemiştir. Üç şekil aynı hizaya geldiğinde ise etkinlik son bulacaktır.



Buna göre etkinlik son bulduğunda toplam kaç tane şekil kullanılmış olur?

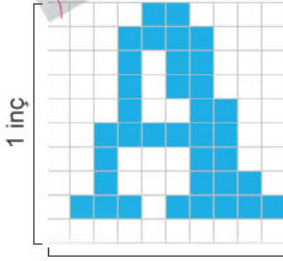
A) 30

B) 31

C) 32

D) 33

2. 1 Piksel



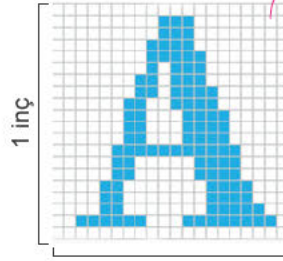
1 inç

10 PPI

1 x 1 inç alana

100 piksel sığar

- 1 Piksel



1 inç


1 inç

20 PPI

1 x 1 inç alana

400 piksel sığar

- 1 Piksel



1 inç

1 inç

100 PPI

1 x 1 inç alana

10^4 piksel sığar

Günlük hayatta kullandığımız teknolojik cihazlarda görüntü oluşmasını sağlayan en küçük birime "piksel" adı verilmektedir. 1 x 1 inç alana sığan piksel sayısı ekran yoğunluğunu belirtmekte olup PPI ile ifade edilir. PPI değeri arttıkça ekrandaki görüntünün keskinliği artmaktadır.

Buna göre 100 PPI yoğunluğa sahip 16 x 20 inç alandaki piksel sayısı, 80 PPI yoğunluğuna sahip 4x5 inç alandaki piksel sayısının kaç katıdır?

A) 20

B) 25

C) 30

D) 35

I. DÖNEM LGS

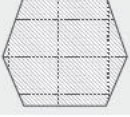
Türkçe

TAMAMI
ÇÖZÜMLÜ

5

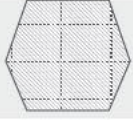
DENEME SINAVI





SORULAR

1. TDK Güncel Sözlük'te "kapatmak" sözcüğünün bazı anlamları şunlardır:
- Kapamak
 - Bir malı değerinden aşağı bir karşılıkla elde etmek
 - Bitirmek, unutturmak, söz edilmesini engellemek
- "Kapatmak" sözcüğü aşağıdakilerin hangisinde yukarıda numaralandırılmış anlamlarından herhangi biriyle kullanılmamıştır?
- Konuyu dallanıp budaklandırmadan kapattı.
 - Son aldığı arsayı ucuza kapattı.
 - RTÜK içeriği uygun olmayan televizyon programlarını kapattı.
 - Çocuk bahçe kapısını ertçe kapattı.
2. Bilişim korsanlığı ----- her gün bir yenisi ekleniyor. Web sitesi çökertenler, resmi kurumların güvenlikli iç ağlarına girenler, kişisel bilgileri ve şifreleri ele geçirip banka hesaplarından para çalanlar, başkalarının bilgisayarlarındaki tüm verilere ----- ile ilgili sayısız haber okuyoruz. Bilişim korsanlarının ulaşabildiği cihazlar maalesef her geçen gün çeşitleniyor. ----- artık bazı tıbbi cihazlar da bu listede yer alıyor.
- Bu parçada boş bırakılan yerlere sırasıyla aşağıdaki sözcüklerden hangileri getirilmelidir?**
- söylentilerine - saldırı yapanlar - Nihayet
 - yalanlarına - sahip olanlar - Sonunda
 - olaylarına - göz koyanlar - Demek ki
 - haberlerine - kolayca ulaşanlar - Öyle ki
3. (I) Einstein'ın bilgi yüklemeye dayanan ezberci eğitimi yüzünden okul ve eğitimle arası hiç iyi olmamıştır. (II) O, öğretmenlerinin gözünde derslere ilgisiz ve tembel bir öğrenciydi. (III) Daha sonra kendisi bu durumu, "Öğrenmemi engelleyen tek şey, aldığım eğitim olmuştur." sözleri ile dile getirecektir. (IV) Bizim ülkemizde de insanlarımızın üretmemesinin, öğrenmemesinin temelinde, uygulanan "öğretme temelli eğitim" vardır.
- Parçadaki numaralandırılmış ümlelerle ilgili olarak aşağıda verilenlerden hangisi yanlıştır?**
- I. cümlede Einstein'ın okulu sevmeme gerekçesi açıklanmıştır.
 - II. cümlede, öğretmenlerinin Einstein hakkındaki düşüncelerine değinilmiştir.
 - III. cümlede, konu ile ilgili olarak Einstein'ın görüşü aktarılmıştır.
 - IV. cümlede, ülkemizdeki insanlar üretmediği için ezberci eğitime geçildiği dile getirilmiştir.
4. Ne zaman yeni bir resme başlasam bir tedirginlik kaplar içimi ve elim ayağım dolaşır. İlk kez fırçayı ele alıyormuşum gibi ayrıntıları atar, konuyu yalınlaştırıp basitleştiririm. Düşünüyorum da bu duygu hiç bırakmadı yakamı yıllardır. Çıraklık gibi ustalık da frenliyor beni. İyi eserler ancak böyle bir çalışmayla çıkıyor.
- Kendisinden bu şekilde söz eden bir ressamın eserlerindeki en belirgin özellik aşağıdakilerden hangisidir?**
- Sade ve öz olma
 - Hayal ürünü olma
 - İlk bakışta anlaşılma
 - Üstünkörü oluşturulma



ÇÖZÜMLER

1. Çözüm

"Kapatmak" sözcüğünün verilen anlamlarından I. D seçeneğinde, II. B seçeneğinde, III. A seçeneğinde örneklendirilmiştir. C seçeneğinde geçen "kapatmak" sözcüğü ise "yayınını yasak etmek, yayınına son vermek" anlamında kullanılmıştır. Doğru cevap C seçeneğidir.

2. Çözüm

Bilişim korsanlığı haberlerine her gün bir yenis ekleniyor. Web sitesi çökertenler, resmi kurumların güvenilirli iç ağlarına girenler, kişisel bilgileri ve şifreleri ele geçirip banka hesaplarından para çalanlar, başkalarının bilgisayarlarındaki tüm verilere kolayca ulaşanlar ile ilgili sayısız haber okuyoruz. Bilişim korsanlarının ulaşabildiği cihazlar maalesef her geçen gün çeşitleniyor. Öyle ki artık bazı tıbbi cihazlar da bu listede yer alıyor.

Boş bırakılan birinci boşluğa bilişim korsanlığı mevcut bir suç olduğundan A ve B'deki sözcükler getirilemez. Son boşluğa ise "bilişim korsanlığındaki uç noktadan bahsettiğinden "Öyle ki" ifadesi getirilmelidir. Doğru cevap D seçeneğidir.

3. Çözüm

"Bizim ülkemizde de insanlarımızın retmemesinin, öğrenmemesinin t meli de, uygulanan 'öğretme temelli eğitim' vard r." cümles nde ülkemizdeki insanlar üretmediğ çin ez b rci eğitime geçilmesi anlamı değil, tam tersine berci eğitime geçildiği için ülkemizdeki insanların üret mediği anlamı vardır. Bu bakımdan IV. cümleyle ilgili yapılan açıklama yanlıştır. Doğru cevap D seçeneğidir.

4. Çözüm

Parçada söz konusu ressamın ayrıntıları atarak konuyu yalınlaştırıp basitleştirdiğinden bahsedilmiştir. Bu bakımdan sözü edilen ressamın eserlerinin sade ve öz bir nitelik taşıdığı söylenebilir. Doğru cevap A seçeneğidir.

5. Çözüm

Empati, bir kişinin kendisini başkasının yerine koymas ıdır. A, C ve D seçeneklerinde öğretmen kendisini sürücü adayının yerine koymamıştır. Ancak B seçeneğinde öğretmen; kendisini sürücü adayının yerine koymuş, onun heyecanlanma sebebinin karar merci olarak yanında kendisinin bulunması olduğunu düşünmüş ve bunu soru yoluyla dile getirmiştir. Doğru cevap B seçeneğidir.

6. Çözüm

İlk özdeyişte "en güzeli" ifadesiyle karşılaştırma, ikinci özdeyişte "adalet" kutup yıldızına ve dördüncü özdeyişte de "umut" uyanan bir insanın rüyasına benzetilerek benzetme, üçüncü özdeyişte de acı ve tatlı sözcükleri bir arada kullanılarak tezat örneklendirilmiştir. Verilen özdeyişlerde kişileştirme örneği bulunmamaktadır. Doğru cevap D seçeneğidir.

7. Çözüm

Parçada çekimli fiil ile sıfat-fiil arasındaki farklılık üzerinde durulmuştur. "Getirecek" sözcüğünün hem çekimli fiil hem de sıfat-fiil olarak görev yaptığı iki farklı cümle verilmiştir.

Açıklamada verilen örneklerden de hareket edilerek sıfat-fiil bulunmayan cümlenin bulunması istenmiştir. Seçeneklere baktığımızda A'da "Dönülmez (akşam)", B'de "işleyen (demir)", C'de "aça (ç ekl r)" sıfat-fiil görevinde olan sözcüklerd diyebiliriz. D seçeneğinde ise sıfat-fiil değil, isim fiil (yürüyüşe) kullanılmıştır. Doğru cevap D seçeneğidir.

8. Çözüm

III v IV cümlelerin öge dizilişi doğru verilmiştir.

I. cümlenin ögelerine ayrılışı;

"Beyaz Gemi" kitabı kendine has bir üslupla
özne zarf tamlayıcısı

kaleme alınmıştır
yüklem

II. cümlenin ögelerine ayrılışı;

"Bu kitap, masalla gerçeği birleştiren bir eserdir."
özne yüklem

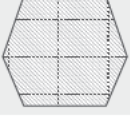
şeklinde olmalıdır. Bu nedenle I ve II. cümlelerin öge dizilişi yanlıştır. Doğru cevap A seçeneğidir.

9. Çözüm

Yaz mevsimindeki etkinliklerden futbol ve su topu takımıyla, diğerleri ise bireysel olarak yapılır. Yaz etkinlikleri içinde takım oyunlarının toplam oranı %34'tür. Kış mevsiminde ise bu oran %64'tür. Dolayısıyla yaz mevsiminde takım oyunlarına ilginin arttığı söylenemez. Doğru cevap B seçeneğidir.

10. Çözüm

Birinci cümlede Güneş'in olmaması durumunda Dünya'nın çıplak bir kaya gibi ıssız, çorak, karanlık ve donmuş bir gezegen olacağından söz edilmiştir. İkinci cümlede ise eski toplumların birçoğunun, Güneş'in bu gücünün farkına varıp ona taptığı ifade edilmiştir. Bu iki cümle C seçeneğinde doğru bir biçimde birleştirilmiştir. Doğru cevap C seçeneğidir.



SORULAR

1.

- I. Büyük adımlar atmaktan korkmayın, uçurumu küçük adımlarla geçemezsiniz.
- II. İnsan acı duyabiliyorsa canlıdır, başkasının acısını duyabiliyorsa insandır.
- III. Gel, gel, gel ne olursan ol yine gel, / Bizim dergâhımız ümitsizlik dergâhı değildir, / Yüz bin kere tövbeni bozmuş olsan da yine gel.

Aşağıdaki kelimelerin hangisi verilen sözlerden herhangi biriyle ilişkilendirilemez?

- A) Hoşgörü B) Duygudaşlık
C) Cesaret D) Tecrübe

2.

- I. Ben gördüm güneşin doğarken battığını, Esrarlı bir bakışın gönlü kaptığını.
- II. Durgunca bir deniz sahilleri öper Söner ufuklarda sevdalı bir kemer.
- III. Söz dediğin keskin bir kılıçtır kimi zaman, Kılıç değil bir sözdür savaşları başlatan.

Numaralanmış dizelerdeki söz sanatları aşağıdakilerin hangisinde doğru olarak sıralanmıştır?

	I	II	III
A)	Abartma	Kişileştirme	Konuşturma
B)	Tezat	Kişileştirme	Benzetme
C)	Benzetme	Tezat	Konuşturma
D)	Tezat	Benzetme	Kişileştirme

3. Sedat, henüz yedi yaşında olmasına rağmen babasıyla beraber bahçeye iner, kendisini aşan ----- . Biz ona bu yaramazlıkları yapmak için çok büyüdün, abi oldun dedikçe şımarır, söz dinlemez -----; ne var ki büyümek ona hep bir düş gibi gelirdi. Ailesini usandırdıkça usandırır, annesinin ve babasının sözlerine ----- . O daha küçüktü çünkü. Ama sadece işine geldiğinde. Hele kardeşinin dünyaya gelmesi onu iyice huysuzlaştırıyor, alıngan bir hâl almasına sebep oluyordu.

Aşağıdaki deyimlerden hangisi u m tinde boş bırakılan yerlerden herhangi birine getirilemez?

- A) bir k lağı da girip diğerinden çıkardı
B) kulak asmazdı
C) boyundan büyük işlere kalkışırdı
D) ele avuca sığmazdı

4. NBA'nın efsane ismi, uzun yıllar Michael Jordan'la birlikte Los Angeles Lakers formasını terleten -kimilerine göre Michael Jordan'la birlikte tarihin en iyi basketbol oyuncusu olan- Kobe Bryant, Kaliforniya'da geçirdiği bir helikopter kazası sonucunda hayatını kaybetti.

Bu cümleye göre aşağıdakilerden hangisi kesinlikle söylenebilir?

- A) Kobe Bryant, Michael Jordan'dan sonra NBA'nın en iyi oyuncusudur.
B) Kobe Bryant ve Michael Jordan uzun bir süre birlikte aynı takımda oynamışlardır.
C) Kobe Bryant, farklı spor dallarında adını duyurmuş efsane bir isimdir.
D) Kobe Bryant, tarihin en iyi oyuncularından biriyle birlikte geçirdiği kazada vefat etmiştir.

16.



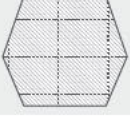
Grafikten hareketle aşağıdakilerden hangisine ulaşılabılır?

- Türkiye'nin yıllık çikolata ithalat-ihracat hacminin en fazla olduğu yıl 2014'tür.
- Türkiye'nin 2011-2015 yılları arasında en fazla çikolata ihracatı yaptığı ülkeler güneydeki ülkelerdir.
- 2011-2015 yılları arasında tam bir milyar dolarlık çikolata ihracatı yapılmıştır.
- Irak'a yapılan çikolata ihracatı diğer ülkelere yapılan ihracatın toplamından fazladır.

17. ---- Aslında değişmeyi başaramayan her hareketi bekleyen son da budur. Bugün, köye yeniden dönülebilir mi gibi bir soru akla gelebilir ve buna "Mümkündür." diye de cevap verilebilir. Ancak böyle bir dönüş, öncekinin hatalarını tekrarlamak üzere yeni bir denemeye girişmek için olmaz. Köy, tekrar roman konusu yapılacaksa bu dönüş mutlaka yeni bir başlangıcın habercisi olmalıdır.

Bu parçanın başına aşağıdakilerden hangisi getirilmelidir?

- Köylüyü son derece ilkel, bilgisiz ve basit bir varlık olarak görme, bu anlayışın yol açtığı bir sonuçtur.
- Köy konusu romana, edebiyat dışı bazı faktörlerin bir sonucu olarak girmiştir.
- Köy romanlarında dikkatle üzerinde durulması gereken noktalardan biri de "köyün gerçeğe uygun" yazıldığı iddiasıdır.
- Köyün, hep aynı teknik ve anlayışla işlenmesinden başka, şehirleşme ve sanayileşme yönündeki gelişmeler de köy romanının sonunu hazırlamıştır.



SORULAR

1. Aşağıdakilerin hangisinde altı çizili sözcük yay
ayraç içinde verilen anlama uygun kullanılmı-
mıştır?
- A) Babası vefat edince ailesine o bakıyordu.
(Tedavi etmek için ilgilenmek)
- B) Şermin'in aklı gitti bu anda sinemadaki filme.
(Çok beğenmek, bayılmak)
- C) Ben inek için oymalarımı bıraktım, dikiş maki-
nesini tamir etmedim, mektebi astım. (Gitmek
zorunda olunan bir yere özürsüz gitmemek)
- D) Güneş renksiz bulutlar altında batıyordu. (Dün-
ya'nın dönüşü dolayısıyla Güneş, Ay ve yıldız
ufkun altına inmek)
2. (I) "He gün ayn sa tte gelsen daha iyi olur." dedi
tilki. (II) Örneğin öğleden sonra dörtte gelecek-
sen ben saat üçte mutlu olmaya başladım. (III)
Dakikalar ilerledikçe içimdeki heyecan artar. (IV)
Saat dört oldu mu içim kıpır kıpır olur ve ufaktan
meraklanırım, mutluluğun değerini anlamaya baş-
larım. (V) Ama sen herhangi bir anda çıkıp gelersen
yüreğim saat kaçta senin için çarpacağını bilmez...
Yukarıdaki numaralandırılmış cümleler için
aşağıdakilerden hangisi söylenemez?
- A) I. cümlede karşıt anlamlısı bulunan sözcüğe
yer verilmiştir.
- B) II. cümlede sesteşi bulunan sözcük kullanılmış-
tır.
- C) III. cümlede sevinç sözcüğünün eş anlamlısı
bulunur.
- D) IV ve V. cümlelerde eş anlamlıları bulunan söz-
cükler geçmektedir.
3. Bir hastanın hastalığına gereken önemi vermesi,
doktorun ancak kendini o hasta ile birlikte hasta
bilmesi ile sağlanabilir.
**Bu cümleyi dile getiren kişi için aşağıdakiler-
den hangisi kesin olarak söylenebilir?**
- A) Hastaların, hastanelerde birileri olmadan kala-
mayacağını düşünmektedir.
- B) Hastane çalışanlarından şikâyetçidir.
- C) Hastanın hastalığını ciddiye almasının doktor-
ların hastalarla empati ku ma arı i e mümkün
olduğunu düşünm ktedir.
- D) Doktorl rın ha t ların şikâyetlerini tam olarak
tesp ed bilmeleri için kendilerini o hasta-
nın hastalığına yakalanmış gibi düşünmeleri
gerektiğini söylemektedir.
4. Hayat, yönetilmesi gereken en önemli konulardan
bir tanesidir. Peki ya biz bu kadar önemli olan bir
konu üzerinde ne kadar duruyoruz? Hayat nasıl
gidiyor sorusunu "Hayat her günkü monotonlu-
ğuyla devam ediyor." diyerek geçiştiriyoruz. Mutlu
olmak istiyorsak saatlerimizi, günlerimizi dolu dolu
geçirmeliyiz. Bunu yapabilmek için de mutlaka
hayatımızın direksiyonunda biz olmalıyız.
**Bu parçanın son cümlesinde anlatılmak iste-
nen aşağıdakilerden hangisidir?**
- A) Hayatın zorlukları yerine, güzel taraflarını gör-
mek gerekir.
- B) İnsan, kendi hayatına yön verebildikçe mutlu
yaşar.
- C) Çalışmadan geçirilen günler, insanı mutsuz-
luğa iter.
- D) Hayatın sıkıcı olması birçok insanın önemli bir
sorundur.

I. DÖNEM LGS

Fen Bilimleri

TAMAMI
ÇÖZÜMLÜ

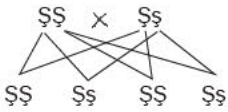
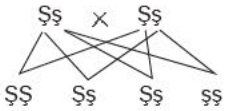
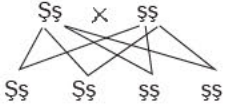
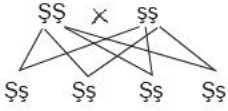
5

DENEME SINAVI



13. Çözüm

Bezelyelerde şişkin olma geni boğumlu olma genine baskındır.



1. çaprazlamada her iki bezelye saf döl olup oluşan bezelyelerin hepsi melez şişkindir (Ss).

2. çaprazlamada melez şişkin bezelye ile saf boğumlu bezelye çaprazlanmıştır. Oluşan bezelyelerin yarısı melez şişkin (Ss), yarısı ise saf boğumludur (ss).

3. çaprazlamada melez şişkin bezelyeler çaprazlanmıştır. Çaprazlama sonucu % 25 saf şişkin (SS), % 50 melez şişkin (Ss), %25 saf boğumlu (ss) bezelyeler oluşur.

4. çaprazlamada saf şişkin ve melez şişkin bezelyeler çaprazlanmıştır. Çaprazlama sonucunda % 50 saf şişkin (SS), % 50 melez şişkin (Ss) bezelyeler oluşur.

Doğru cevap C seçeneğidir.

14. Çözüm

Çevre etkisiyle genleri iş yış in de işmesine modif kasyon denir. Ortanca çiçeğ asid k top akta yetişirse kırmızı, bazik toprakta yetirise mav çiçek açar. Yazın insanların bronzlaşması da mod kasyon örneğidir. Ortanca çiçeğinin genetik yapısında bir de şiklik olmaz. Doğru cevap D seçeneğidir.

15. Çözüm

Bezelyelerde uzun boy geni kısa boy genine baskındır. 1. grafikte bezelyeler çaprazlandığında % 50 uzun, %50 kısa boylu bezelye oluştuğuna göre çaprazlanan bezelyelerden biri saf kısa (uu) diğeri de melez uzun boy (Uu) genotipine sahiptir. Çaprazlanan bezelyeler uu x Uu şeklindedir.

2. grafikte % 100 uzun boylu bezelyeler olduğuna göre çaprazlanan bezelyelerden biri mutlaka saf uzun boylu olmalıdır. 2. grafikte UU x UU, UUx Uu, UU x uu şeklinde olabilir.

3. grafikte % 100 kısa boylu bezelyeler olduğuna göre çaprazlanan bezelyeler uu x uu genotipine sahiptir.

4. grafikte % 75 uzun, %25 kısa boylu bezelyeler olduğuna göre çaprazlanan bezelyeler melez uzun boyludur. Bezelyelerin genotipi Uu x Uu şeklinde olmalıdır.

Doğru cevap D seçeneğidir.

16. Çözüm

Her iki harita incelendiğinde; Akdeniz ikliminin görüldüğü yerlerde havanın güneşli olduğu görülmektedir (A doğru).

Orta Karadeniz ve Doğu Anadolu Karasal iklimin görüldüğü yerlerde hava durumunun yağışlı olduğu görülmektedir (B doğru).

Ülkemiz farklı iklim tiplerine sahip olduğu için aynı anda farklı hava olayları görülebilir (D doğru).

Türkiye'nin iklim tipleri haritasını incelediğimizde en fazla geniş alana sahip iklim tipinin karasal iklim olduğu görülmektedir. Doğru cevap C seçeneğidir.

17. Çözüm

Sıcaklığın etkisiyle buharlaşan su, su buharı yani gaz haline geçer. Su buharı ise soğuk hava ile karşılaştığında yoğunlaşarak tekrar sıvı hale döner.

2.düzenekteki metal çubuk 1.düzenekteki bulutun görevini gerçekleştirmez (I. yanlış).

2.düzenekte su buharının yoğunlaşarak sıvıya dönüşmesi yani yağmur oluşumu anlatmıştır. Bu olay her iklim tipinde her zaman görülmeye (II. yanlış).

1.düzenekteki damlalar daha fazla bekletilirse oluşan bulut yoğunlaşarak su damlları oluşabilir (II. doğru).

Her iki olayda sıcaklık farkından dolayı gerçekleşir (IV doğru). Doğru cevap B seçeneğidir.

18. Çözüm

Pompanın duvara yapışmasının sebebi açık hava basıncı ile açıklanır. Kar ayakkabılarının geniş tabanlı olması katı basıncı ile ilgilidir. Doğru cevap D seçeneğidir.

19. Çözüm

Elementleri proton sayısına göre sıralayan bilim insanı Henry Moseley'dir.

Elementleri benzer fiziksel özelliklerine göre sıralayan bilim insanı Lothar Meyer'dir.

Elementleri atom ağırlıklarına göre sıralayan bilim insanı Dimitri Mendeleev'dir.

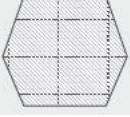
Bilim insanlarının periyodik cetvel ile ilgili yaptığı çalışmalar doğru eşleştirilmiştir.

Doğru cevap C seçeneğidir.

20. Çözüm

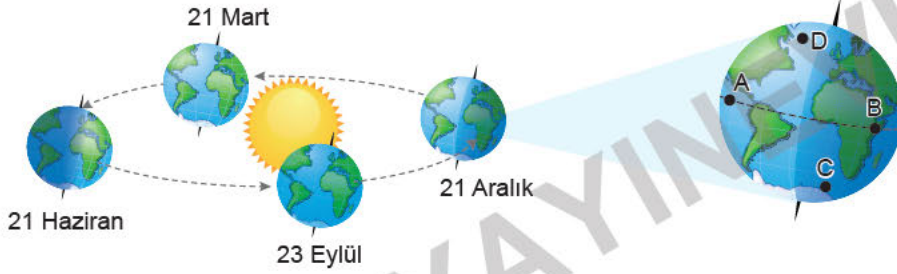
Periyodik cetvelde yatay satırlara periyot, dikey sütunlara grup denir. 1 ve 2, 3, 5 ve 6 aynı grupta yer alır. 2 ve 4, 6 ve 7 aynı periyotta yer alır. 3, 5 ve 6 numaralı elementler soygaz olup diğer elementlerle bileşik oluşturmazlar. Periyodik cetvelde aynı periyotta soldan sağa doğru gidildikçe atom numarası artar. 2'nin atom numarası 4'ün atom numarasından küçüktür. Doğru cevap B seçeneğidir.

Cevap Anahtarı	1	2	3	4	5	6	7	8	9	10	11	12	13	14	15	16	17	18	19	20
	D	B	A	D	C	D	B	C	A	D	D	B	C	D	D	C	B	D	C	B

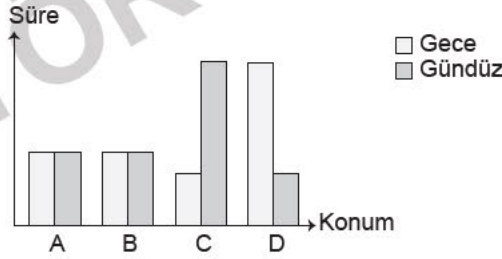


SORULAR

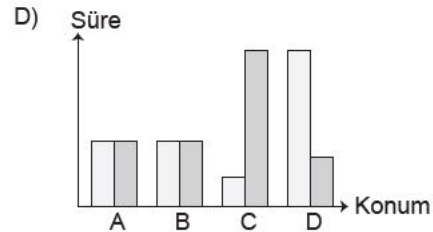
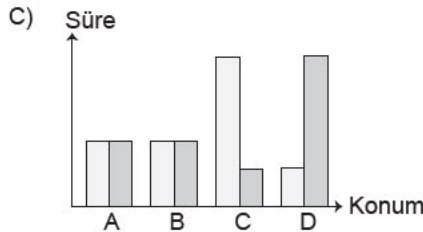
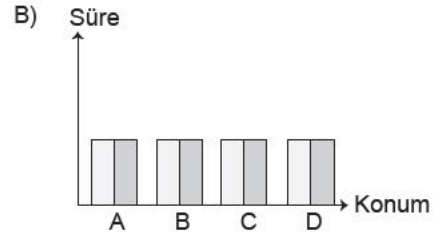
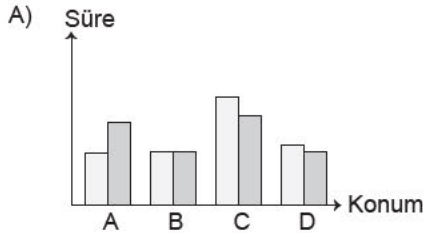
1. Dünya'nın Güneş etrafındaki dolanımı ve eksen eğikliği nedeniyle 21 Mart, 21 Haziran, 23 Eylül ve 21 Aralık gibi mevsim geçişlerinin yaşandığı tarihler oluşur. Örneğin 21 Aralık'ta Güney Yarım Küre'de yaz mevsimi başlarken Kuzey Yarım Küre'de ise kış mevsimi başlar. Bu tarihte Güney Yarım Küre'de en uzun gündüz ve en kısa gece yaşanırken, Kuzey Yarım Küre'de ise en uzun gece en kısa gündüz yaşanır.

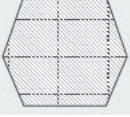


Bir araştırmacı yerküre üzerinde belirlediği A, B, C ve D noktalarında 21 Aralık'taki gece ve gündüz süreleri ile ilgili görseli hazırlamış, bu tarihteki gece ve gündüz sürelerini gösteren grafiği şu şekilde oluşturmuştur.



Buna göre 21 Haziran tarihi için hazırlanan grafikte A, B, C ve D noktalarının gece ve gündüz sürelerini gösteren grafik aşağıdakilerden hangisi olabilir?





SORULAR

1. Karbondioksit ve metan gibi gazlar Dünya'nın etrafını saran ozon tabakasının incelmesine neden olur. Bu incelme sonucunda Dünya'da küresel iklim değişiklikleri görülür.

Buna göre küresel iklim değişikliğinin oluşmasına;

- I. Dünyaya ulaşan Güneş ışınlarının daha fazla olması ve gündüzleri yeryüzünün aşırı ısınması
- II. Çiğ, sel ve taşkın gibi doğa olaylarında artışların olması
- III. Buzulların erimesi sonucu kutup bölgelerindeki canlıların nesillerinin tehlike altında kalması

verilenlerden hangileri sebep olarak gösterilebilir?

- A) Yalnız III B) I, II ve III C) II ve III D) Yalnız I

2.

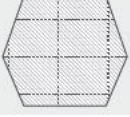


Sabah saatleri

Karalar sulardan daha hızlı ısınır ve daha hızlı soğur. Sabah saatlerinde Güneş'in doğmasıyla karalar sıcak, sular ise soğuk olur. Bu durumda oluşan basınç farkı rüzgarın oluşmasını sağlar.

Yukarıda verilen bilgiye göre sabah saatlerinde alçak basınç alanı, yüksek basınç alanı ve rüzgarın yönü neresidir?

	Yüksek basınç	Alçak basınç	Rüzgarın yönü
A)	Deniz	Sahil	Sahilden denize
B)	Deniz	Sahil	Denizden sahile
C)	Sahil	Deniz	Denizden sahile
D)	Sahil	Deniz	Sahilden denize



SORULAR

1.

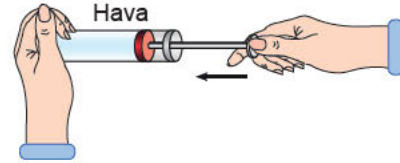
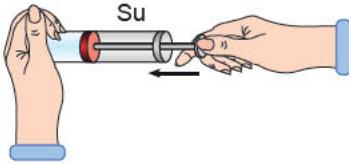


Yukarıda verilen a ve b bezelyelerinin tohum renklerini gösteren karakter çaprazlaması sonuçları I, II, III ve IV numaralı bezelyeler oluşuyor.

a bezelyesinin fenotipinin S olduğu bilindiğine göre a bezelyesinin gen tipini bulmak için yapılan işlemlerden hangisi sonucunda genotipi kesinlikle doğru olarak bulunmuş olur?

- A) Çekinik saf bezelye ile a bezelyesi çaprazlandığında oluşan bezelyelerin hepsi aynı fenotipe sahipse a bezelyesinin genotipi SS'dir.
- B) Melez bir bezelye ile a bezelyesi çaprazlanırsa oluşan bezelyelerin hepsi melez ise a bezelyesi Ss'dir.
- C) Baskın saf karakterdeki bir bezelye ile a bezelyesi çaprazlanırsa oluşan bezelyelerin fenotipleri aynı ise a bezelyesi SS'dir.
- D) Aynı fenotipteki bezelye ile a bezelyesinin çaprazlanma sonucunda iki farklı fenotipte bezelye oluşuyorsa a bezelyesinin genotipi Ss'dir.

2. Sevgi iki tane şırınga alır. Bu şırıngalardan bir tanesinin içine su doldurur. Diğ erinin içi ise boş kalır. Aşağıdaki gibi bir eliyle şırınganın pistonundan bastırırken diğ er eliyle şırınganın ucunu kapatır. Bu işlemi iki şırınga içinde ayrı ayrı yapar.



Sevgi sadece yapmış olduğu deneyle aşağıdakilerden hangisini ispatlar?

- A) Sıkıştırılan maddelerin şırıngaların uç noktalarına basınç uygulamadığını
- B) Yüzey alanının azalması ile basıncın arttığını
- C) Sıvı ve gazların üzerlerine etki eden basıncı aynen iletmediğini
- D) Yoğunluk arttıkça sıvı basıncının da arttığını

I. DÖNEM LGS

T.C. İnkılap Tarihi
ve Atatürkçülük

TAMAMI
ÇÖZÜMLÜ

10

DENEME
SINAVI



T.C. İNKILAP TARİHİ VE ATATÜRKÇÜLÜK
TAMAMI ÇÖZÜMLÜ 10 DENEME

EDİTÖR

Turgut MEŞE

YAZAR

Komisyon

©

Tüm hakları Editör Yayınevine aittir. Yayıncının izni olmaksızın, kitabın tümünün veya bir kısmının elektronik, mekanik ya da fotokopi yoluyla basımı, çoğaltılması ve dağıtımı yapılamaz.

BU KİTAP T.C. KÜLTÜR BAKANLIĞININ BANDROLÜ İLE SATILMAKTADIR.

SERTİFİKA NO

40447

KAPAK TASARIMI

Editör Yayınevi Tasarım Ekibi

SAYFA TASARIMI

Editör Yayınevi Dizgi Ekibi

BASKI VE CİLT

Data Dijital Matbaacılık

ANKARA

İLETİŞİM



İvedik Organize Sanayi Matbaacılar Sitesi

1518 Sok. Mat-Sit İş Merkezi No:2/20

Yenimahalle / ANKARA

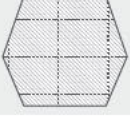
Tel: 0 312 384 20 33 - 0 505 925 57 81

Fax: 0312 342 23 58

www.editoryayinevi.com

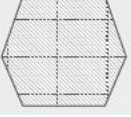
İÇİNDEKİLER

• DENEME SINAVI 1	3
• DENEME SINAVI 2	7
• DENEME SINAVI 3	11
• DENEME SINAVI 4	15
• DENEME SINAVI 5	19
• DENEME SINAVI 6	23
• DENEME SINAVI 7	27
• DENEME SINAVI 8	31
• DENEME SINAVI 9	35
• DENEME SINAVI 10	39



SORULAR

1. XV. yüzyıldan itibaren gerçekleşen Coğrafi Keşifler'in sonucunda Avrupa'ya bol miktarda altın ve gümüş madeni taşındı. Bu sayede Avrupa'daki devletlerin birçoğu zenginleşti ve sermaye birikimi elde ettiler. Zenginleşen Avrupa'da bilim ve sanat alanında Rönesans, din alanında ise reform hareketleri gerçekleşti. Rönesans, Avrupa'da bilimsel gelişmelerin temelini atarken reform hareketi ise bilime verilen değeri ön plana çıkararak dinin etkisinde olmayan, özgür bir araştırma ortamının oluşmasına katkıda bulundu. Oluşan özgür ortam sayesinde her konuda akla öncelik tanıyan Aydınlanma Çağı yaşandı. 1789 tarihinde yaşanan Fransız İhtilali, tüm dünyada eşitlik, adalet, bağımsızlık ve milliyetçilik düşüncelerinin doğmasına ve yayılmasına ortam hazırladı. Bu düşünceler imparatorlukların dağılmasına neden oldu. İngiltere'de başlayan sanayileşme Avrupa ülkelerine hızla yayıldı. Sanayileşen ülkelerin hammaddeleri ve yeni pazarlar bulmak önemli bir ihtiyaç ve sorun haline geldi. Bu ihtiyaç sömürgecilik başlatırken İngiltere Hindistan ve Uzak Doğu'da geniş sömürgeler elde etti.
- Buna göre aşağıdaki yargılardan hangisine ulaşamaz?**
- A) Güçlü bir Avrupa'nın doğuşunda XV. yüzyıldan itibaren başlayan ekonomik, kültürel, sosyal ve siyasi alandaki gelişmeler etkili olmuştur.
- B) Özgür araştırma ortamı Avrupa'da deney ve gözleme dayanan bilimin önünü açmıştır.
- C) Avrupa'da siyasi ve ekonomik alanda yaşanan gelişmeler tüm dünyaya olumlu ve olumsuz etkiler bırakmıştır.
- D) Osmanlı Devleti Avrupa'daki gelişmelere ayak uyduramamıştır.
2. Sanayisini yeni tekniklerle güçlendirip çağa uygun hale getiremeyen ve Avrupa ile rekabet edemeyen Osmanlı Devleti'nde yerli sanayi gelişemedi. Ayrıca kapitülasyonlar nedeniyle pazarlarını Avrupa mallarına karşı koruyamadı. Zamanla Osmanlı Devleti Batılı devletlerden borç almak zorunda kaldı. Verimli kullanılmayan bu borçlar ve borçlarının faizleri ödenemeyince 1881'de Düyun-ı Umumiye İdaresi adını taşıyan kuruluş oluşturuldu. Osmanlı Devleti'nin elirinin büyük kısmı, yabancıların alacakları emel bu kuruluşun denetimine verildi.
- Bu durum Osmanlı açısı ile değerlendirildiğinde aşağıdaki hangi sonucu ortaya çıkardığı söylenemez?**
- A) Osmanlı ekonomik bağımsızlığını kaybetmiştir.
- B) Devletin vergi kaynakları yabancıların eline geçmiştir.
- C) Osmanlı toprakları Batılı devletlerin açık pazarı haline gelmiştir.
- D) Zirai üretim ekonomideki önceliğini kaybetmiştir.



SORULAR

1. Fransız İhtilali, Sanayi İnkılabı ve kapitülasyonlar Osmanlı Devleti'ni olumsuz etkilemiş ve bu sürede Avrupa'ya göre her bakımdan geride kalmıştı. Osmanlı bu durumdan kurtulmak için Tanzimat ve Islahat Fermanı'nı ardından I. ve II. Meşrutiyet'i ilan etmiş, ancak istenilen sonuca ulaşamamıştır. Öte yandan devlet sürekli toprak kaybına uğramış tahta çıkan her padişah sorunlara kalıcı çözümler getirmeyen yenilikler yapmış ancak arkası kesilmeyen savaşlar devletin dağılmasını önleyememiştir.

Verilen metne gelebilecek en uygun beylikler aşağıdakilerden hangisidir?

- A) Osmanlı Aydınları
B) Osmanlı'yı Kurtarma Çabaları
C) Osmanlı'da Fikir Akımları
D) Osmanlı'da Siyasal Yaşam

2.

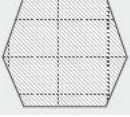
- Namık Kemal'in eserleri Mustafa Kemal'in vatan, millet ve hürriyet hakkındaki fikirlerinin gelişmesinde etkili olmuştur.
- Batılılaşma konusunda Tevfik Fikret'ten etkilenmiştir.
- Türk milliyetçiliği, millî kültür, millî birlik ve beraberlik ile ilgili düşüncelerinin şekillenmesinde Mehmet Emin Yurdakul'dan etkilidir.
- Türkçülük akımının öncüsü Ziya Gökalp'in Mustafa Kemal'in düşünce ve uygulamaları üzerinde önemli etkisi olmuştur.

Buna göre Mustafa Kemal ile ilgili;

- I. Türk azarlarının etkisinde kaldığı,
II. çağdaş ve millî fikirler edindiği,
III. Batılı yazarlardan yararlandığı,
IV. çağdaş Türkiye'yi kurma çalışmalarında edindiği bu fikirlerin kendisine ilham kaynağı olduğu

durumlarından hangileri söylenebilir?

- A) I ve II
B) II ve III
C) I, II ve III
D) I, III ve IV



SORULAR

1. II. Mahmut'tan itibaren Osmanlı ülkesinde Avrupa'da yetişen aydın bir sınıf ortaya çıkmıştır. Bu sınıf devletteki nüfuzunu Tanzimat ve Islahat fermanlarıyla daha da güçlendirmiştir. Bu sınıfın temel amacı her dönemde kişiye göre şekillenen devlet anlayışını değiştirmek olmuştur.

Buna göre Osmanlı aydınları ile ilgili aşağıdakilerden hangisi söylenebilir?

- A) Osmanlı ülkesine millî bilinci yerleştirmeye çalışmışlardır.
B) Devletteki gelenekçi yapıyı sürdürmüşlerdir.
C) Egemenlik anlayışını değiştirmek istemişlerdir.
D) Toplumdaki ikilikleri kaldırmaya çalışmışlardır.

2. 1876'da ilan edilen Kanun-i Esasi ile Türk tarihinde ilk defa anayasal düzene geçilmiş oldu. Bu yeni dönem, Osmanlı tarihinde Meşrutiyet Dönemi olarak adlandırılır. Padişahın tek kişi egemenliğine dayalı yönetimini kabul eden fakat onun halk adına denetlenmesi gerektiğini savunan bu yeni düşüncenin öncüleri Genç Osmanlılar olmuştur. Devlet, artık padişahın kişisel isteklerine göre değil anayasadaki kurallara göre yönetilecektir.

Buna göre Genç Osmanlılar Osmanlı Devleti'nin hangi bakımdan gelişmesine katkıda bulunmuşlardır?

- A) İktisadi
B) Teokrasi
C) Demokrasi
D) Millî

3. İtalyanlar Eylül 1911'de ham madde ve pazar elde etmek için Osmanlı'nın Kuzey Afrika'daki son toprak parçası olan Trablusgarp'a asker çıkardı. Osmanlı Devleti bölgeye karadan ve denizden müdahalede bulunabilecek bir güce sahip değildi. Bu durum nedeniyle başta Mustafa Kemal olmak üzere bir grup genç subay gönüllü olarak Trablusgarp'a gitti. Bölgeye gelen bu gönüllü subaylar yerli halkı teşkilatlandırarak İtalyanlara karşı Trablusgarp'ı savundular.

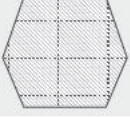
Buna göre gönüllü subaylar n a aşağıdaki hangi amaç doğrultusunda savaştığı söylenemez?

- A) Sömürgeciğe karşı
B) Ekonomik kazanç elde etme
C) Ülke toprağını koruma
D) Vatanseverlik

4. Savaşın Avrupa kıtasında yayılma belirtileri üzerine zor durumda kalacak olan Almanya, Osmanlı Devleti'nin ittifak önerisini yeniden gözden geçirdi. Olası bir dünya savaşında Osmanlı Devleti, bulunduğu coğrafi konumundan dolayı önemli bir rol üstlenebilirdi. Osmanlı Devleti kendi yanlarında savaşa girerse hem Osmanlı Devleti'nin insan gücünden faydalanacak hem de yeni cepheler açarak savaşın alanını genişleteceklerdi. Osmanlı padişahının halife unvanından da yararlanmak istiyorlardı. Halifenin yapacağı "cihat" çağrısı sonucunda İngiliz ve Fransız sömürgelerindeki milyonlarca Müslümanın bu çağrıya uyup ayaklanacağını hesaplıyorlardı.

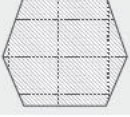
Buna göre Almanya Osmanlı'yı savaşa çekmekle aşağıdakilerden hangisini amaçladığı söylenemez?

- A) Savaş yükünü hafifletmek
B) Osmanlı'nın ekonomik gücünden faydalanmak
C) Halifenin dini gücünü kullanarak rakiplerini zayıflatmak
D) İtilaf Devletlerini daha fazla cephede savaşmasını sağlamak



SORULAR

1. Osmanlı Devleti'nin 20. yüzyılın başlarında, savaşlarda aldığı yenilgiler toprak kayıplarını da beraberinde getirdi. Özellikle Balkan Savaşları sonrasında kaybedilen topraklarda büyük kitleler hâlinde Türkler bırakıldı. Bu topraklarda kalan Türkler, gördükleri baskılar karşısında Anadolu'ya göç etmek zorunda kaldılar. Göçün getirmiş olduğu karmaşa ve savaşlar; ülkedeki asayişin ortadan kalkmasına, temel gıda maddelerinde pahalılığa, toplumsal barışın bozulmasına ve yönetime duyulan güvenin azalmasına yol açtı. Özellikle İstanbul ve İzmir gibi büyük şehirlerde göçlerle birlikte yaşanan nüfus artışı; konut, beslenme, sağlık, işsizlik ve güvenlik gibi sorunları da beraberinde getirdi. Osmanlı Devleti'nin şeker, un gibi gündelik yaşamda önemli olan tarım ürünlerini ithal eder duruma gelmesi; ülkede sosyal dayanışmanın zayıflamasına, birlik ve beraberliğin bozulmasına ortam oluşturdu.
- Metinde Osmanlı Devleti'nin 20. yüzyılda aşağıdaki hangi alanda sorun yaşadığından söz edilmemiştir?**
- A) Sosyal B) Askeri
C) Ekonomi D) Eğitim
2. Osmanlı Devleti devletini dağılmaktan kurtarmak amacıyla bütün ülke ve halkı için geçerli olan Tanzimat Fermanı'nı ilan etti. Fermanla;
- Yargılama yasalara uygun, açık ve adil hale getirildi.
 - Herkesin gelire göre vergi alınmaya başlandı.
 - Devletin kişilerin mallarına el koyması usulü olan müsadere sistemi kaldırıldı.
 - Kanun önünde din, dil, ırk farkı ketmeksizin herkes eşit sayıldı.
- Tanzimat Fermanı'nın getirdiği bu aşağıdaki kavramlardan hangisi ilişkilendirilemez?**
- A) Mutlak yetki B) Sosyal adalet
C) Hukuk üstünlüğü D) Özel mülkiyet
3. Mustafa Kemal Manastır Askeri İdadisi'nde öğrenim hayatına devam ederken yabancı dil bilmenin önemini farkına varmış, istediği düzeyde görmediği Fransızcasını geliştirmek için tatillerde gittiği Selanik'te dersler almıştı. Fransızca sayesinde Fransız aydınlarının fikirlerini daha iyi kavrayacak Fransız İhtilali'ni incelemiş ayrıca tarih öğretmeninden kapsamlı tarih dersi öğrenmiştir.
- Buna göre Mustafa Kemal okul yıllarında daha çok hangi alana ilgi duymuştur?**
- A) Edebiyat B) Batı kültürü
C) Askerlik D) Siyaset



SORULAR

1. Aşağıdaki tabloda Moskova Antlaşması'nın bazı maddeleri ile bu maddelere ait yorumlar eşleştirilmiştir. Bu eşleştirmelerden hangisi yanlıştır?

Moskova Antlaşması Maddeleri	
A) Misakımillî Sovyet Rusya tarafından tanınacaktır.	→ Yeni Türk Devleti resmen anılmıştır.
B) Osmanlı Devleti ve Çarlık Rusya Devleti arasında imzalanan antlaşmalar geçersiz sayılacaktır.	→ Tarihi belgelere bağlı kalmıştır.
C) Sovyet Rusya kapitülasyonların kaldırıldığını kabul edecektir.	→ Yen de letin ekonomik bağımsızlığı ovye Rusya tarafından tanınmıştır.
D) Anlaşma taraflarından birinin tanımadığı bir antlaşmayı diğeri de tanımayacaktır.	Uluslararası alanda iş birliğine gidilmiştir.

2. Mustafa Kema Amasya Görüşmeleri'nden sonra Sivas'ta Temsil Kurulu üyeleri ve komutanlarla toplantılar yaptı. Bu toplantılar sonucunda Temsil Kurulunun çalışmalarını Ankara'dan yürütmesine karar verildi. Ankara, Millî Mücadele'nin merkezi seçildi. Çünkü İstanbul'da açılacak olan Meclis-i Mebusan'ın çalışmaları daha yakından izlenebilecekti. Ankara'dan demir yolu ulaşımı ile farklı yerlerle bağlantı kolayca sağlanıyordu. Ayrıca Yunanlılarla savaşılan Batı Cephesi'ne yakın olup Mondros'a göre işgal bölgeleri içerisinde yer almadığından haberleşme imkânına da sahipti.

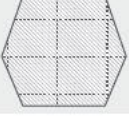
Buna göre Ankara'nın Temsil Heyeti'nin merkezi olarak seçilmesinde aşağıdakilerden hangisinin dikkate alındığı söylenemez?

- A) Coğrafi konumu
B) Nüfus ve kültürel yapısı
C) İstanbul'a yakınlığı
D) Haberleşme ve ulaşım imkânı

3. İstanbul Hükûmeti Sevr Barış Antlaşması'nı imzalıktan sonra Mustafa Kemal: "Tam bağımsızlık bizim bugün üzerimize aldığımız görevin ruhudur. Haysiyet ve şerefiyle yaşamak isteyen bir milletiz. Bunu elde etmeden barış ve huzura kavuşacağımız kanısında değiliz. Eğer millet buna razı olsaydı, iki yıldan beri süren bu savaşa hiç gerek kalmazdı." demiştir.

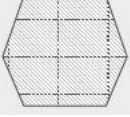
Mustafa Kemal'in bu sözünden aşağıdaki yargılardan hangisi çıkarılamaz?

- A) Huzur ve barışa kavuşmanın yolu tam bağımsız olmaktan geçer.
B) Üzerimize aldığımız görev gereği savaşımaya ve kan akıtmaya gerek yoktur.
C) Ülkede verilen mücadelelerin amacı bağımsız yaşamak içindir.
D) Türk milletinin başka milletlerin egemenliği altında yaşamaya rızası yoktur.



SORULAR

1. Almanya için olası bir dünya savaşında Osmanlı Devleti, bulunduğu coğrafi konumundan dolayı önemli bir rol üstlenebilirdi. İtilaf Devletleri'nin güçleri bölünmeli ve cepheler genişlemeliydi. Böylece Almanya'nın İtilaf Devletleri çemberi içindeki yükü de hafifleyecekti. Bu nedenle sanayisi için kendisine hayat alanı olarak Osmanlı topraklarını seçen Almanya Osmanlı Devleti ile yakın ilişkiler kurup İngiltere'nin sömürgeleriyle olan bağlantısı için büyük tehlike olan Berlin-Bağdat demir yolu projesini Osmanlı'ya kabul ettirmişti.
- Buna göre aşağıdaki yargılardan hangisine ulaşamaz?**
- A) Almanya kendi çıkarları doğrultusunda Osmanlı ile yakın ilişkiler kurmuşur.
- B) Osmanlı toprakları bu yüklevler arasında rekabet altına düşmüştür.
- C) Sanayisi gelişmiş ülkeler arasında sömürge rekabeti yaşamaktadır.
- D) Osmanlı Devleti topraklarını korumak için ittifak arayışlarına girişmiştir.
2. Amasya Genelgesi'nin yayınlanmasından sonra İngilizler İstanbul Hükümeti üzerindeki baskıları arttırdılar ve Mustafa Kemal'in mutlaka geri çağrılmasını, gerekirse görevine ve yetkilerine son verilmesini istediler. Bunun üzerine İstanbul Hükümeti sorumlusu Damat Ferit Paşa'nın emriyle İçişleri Bakanı Ali Kemal, Mustafa Kemal'e görevden alındığını ve İstanbul'a geri dönmesi gerektiğini bildirdi. 3 Temmuz'da Erzurum'a geçerek vakit kazanmak isteyen Mustafa Kemal "Ben sadece padişah'tan emir alırım" diye karşılık verdi. 8 Temmuz sabahı Sultan Vahrettin, Mustafa Kemal'in görevine son verdiğini belirten bir bildiri yayımladı. Bu gelişme üzerine Mustafa Kemal 8-9 Temmuz 1918'de askerlik görevinden ayrılarak sine-i millete döndü.
- Yukarıdaki paragrafta yer alan "sine-i millete döndü." ifadesi ile aşağıdakilerden hangisi anlatılmak istenmiştir?**
- A) Halkın arasına karışarak mevcut otoriteye karşı çıkması
- B) Halkın padişaha bağlılığını artırması
- C) Siyasi faaliyetleri sonlandırması
- D) İşgal güçleriyle iş birliği yapması
3. Mondros Ateşkes Antlaşması'ndan sonra başlayan yabancı işgallerine ve azınlık isyanlarına karşı Türk halkı, Müdafaa-i Hukuk cemiyetleri ve Kuva-yı Milliye birlikleri kurarak mücadele etmiştir.
- Türk halkının böyle bir yola başvurmasında;**
- I. İstanbul Hükümeti'nin işgaller karşısında sessiz kalması,
- II. ordunun dağıtılmış olması,
- III. Anadolu topraklarının işgal edilmesi
- gelişmelerinden hangilerinin etkili olduğu söylenebilir?**
- A) Yalnız I B) Yalnız II C) I ve II D) I, II ve III



SORULAR

1. Milli Mücadele'nin hazırlık dönemi Mustafa Kemal ve arkadaşları açısından oldukça sancılı geçmiştir. İşgalci devletler sadece ülkeyi işgal etmekle yetinmiyor ülkede yürüttükleri faaliyetlerle halkı birbirine düşürmeye ve halkın direniş gücünü kırmaya çalışıyorlardı. Buna rağmen başarılı bir şekilde yürütülen mücadele karşısında İtilaf Devletleri 16 Mart 1920'de İstanbul'u resmen işgal edip Mebusan Meclisini dağıtmıştır. Halkın meclissiz kalamayacağına inanan Mustafa Kemal milli iradeyi gerçekleştirmek için hemen harekete geçmiştir.

Buna göre Mustafa Kemal milli iradeyi gerçekleştirmek için aşağıdaki adımlardan hangisini atmıştır?

- A) Saltanatı kaldırarak İstanbul Hükümeti'nin varlığını sona erdirmiştir
- B) Temsil Heyeti'ni davasız olarak Ankara'ya taşıma kararı almıştır.
- C) Anayasa'da olağanüstü yetkilere sahip bir meclis açmıştır
- D) İstanbul Hükümeti ile tüm yazışmaları askıya almıştır.

2. Sömürge arayışında olan İtalya, Osmanlı'nın Kuzey Afrika'daki son toprağı olan Trablusgarp'ı işgal etmiştir. Bu durum üzerine Mustafa Kemal'in de içinde bulunduğu bir grup subay yurt toprağıını savunmak için savaşa gönüllü olarak katılmıştır. Trablusgarp'ta halkı ortak hedef etrafında toplayan Mustafa Kemal yerel bir ordu kurarak Derne ve Tobruk'ta önemli başarılar elde etmiş ve İtalyanları durdurmayı başarmıştır.

Bu parçada Mustafa Kemal'in hangi özelliğine değinilmemiştir?

- A) Birleştiriciliğine
- B) İleri görüşlülüğü
- C) Teşkilatçılığına
- D) Vatanseverliğine

3. Milli Mücadele yıllarında düzenlenen Maarif Kongresi ile eğitim sistemimizin temelleri atılmıştır. Bu kongreye katılan Mustafa Kemal'e göre eğitim sistemimiz:

- Türk kültürüne dayanmalıdır.
- Yabancı düşüncelerin tesirinden uzak olmalı, taklitçi olmamalıdır.
- İçinde bulunan dönemin koşullarına göre şekillendirilmelidir.

Buna göre eğitim sistemimiz;

- I. çağdaş,
II. milli,
III. geleneksel

özelliklerden hangilerine sahip olmalıdır?

- A) Yanız I B) I ve II
C) II ve III D) I, II ve III

I. DÖNEM LGS

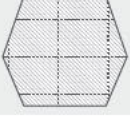
**Din Kültürü ve
Ahlak Bilgisi**

**TAMAMI
ÇÖZÜMLÜ**

10

**DENEME
SINAVI**





SORULAR

1. İsrâ okuduğu bir dergide aşağıdaki bilgi afişiyle karşılaşmıştır.

Allah'ın her şeyi yerli yerince, bir ölçü ve düzene göre yarattığını hayvanlar aleminde de görürüz. Milyonlarca hayvan türünden sadece arı bile evrendeki mükemmel işleyişe örnek olarak yeter. Kilometrelerce uzakta çiçekleri dolaşarak kovanına çiçek özünü getiren arılar, aralarında iş bölümü yaparak çalışırlar. Kovan içindeki nem dengesini sabit tutmak, birbirine yol tarif etmek ve yön tayin edebilmek için birçok özelliğe sahiptirler. Arılara bu özellikleri Allah tarafından verilmiştir. Bu durum, "bal arısı" anlamına gelen Nahl suresinde şöyle vurgulanmaktadır:

"Rabbin bal arısına: 'Dağlarda, ağaçlarda ve hazırlanmış kovanlarda yuva edin; sonra her çeşit üründen ye, sonra da Rabbinin işleme için gösterdiği yollardan yürü.' diye vahyetti. Karınlarından insanlara şifa olan çeşitli renklerde bal çıkar. Düşünen bir millet için bunda ibret vardır."

(Nahl suresi, 68-69. ayetler)



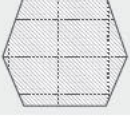
BAL ARISI

Buna göre İsrâ'nın okumuş olduğu bilgi afişinden hareketle aşağıdaki yargılardan hangisine ulaşamaz?

- A) Allah'ın her şeyi bir düzen içerisinde yarattığını çevremizde görmek mümkündür.
B) Arılar kendilerine verilen görevleri yerine getirebilmek için birçok özelliklerle donatılmıştır.
C) Yüce Allah, arılardan elde edilen balı insanların çokça tüketmesi gerektiğini belirtmiştir.
D) Arılar bal yapma serüvenini birçok aşama katederek gerçekleştirir.
2. Fiziksel yasalar maddenin oluşumu, yapısı, hareketi, değişimi ve maddeler arası ilişkiler ile ilgili yasalardır. Bu yasalar; deney, gözlem ve araştırmalar sonucu ortaya konulmuştur. Fiziksel yasalar sayesinde Allah'ın evrene koyduğu düzen insanlar tarafından daha iyi anlaşılabilir olur.

Yukarıda verilen bilgilerden hareketle aşağıdaki ifadelerden hangisi fiziksel yasaya örnek gösterilemez?

- A) Isıtılan metallerin genleşmesi
B) Yeşil yapraklı bitkilerin fotosentez yapması
C) Mevsimlerin art arda oluşması
D) Metallerin elektrik akımını iletmesi



SORULAR

1.

BİYOLOJİK YASALAR

- Biyolojik yasalar deney, gözlem ve araştırmalar sonucu keşfedilir. Canlıların doğması, gelişmesi ve üremesi gibi olaylar biyolojik yasalar kapsamında değerlendirilir.
- Hayvanların yapısı, beslenmesi ve gelişmesi yaşadıkları bölgeye göre farklılık gösterir. Bitkiler de çeşitli özelliklerle donatılmıştır. Her biri kendine uygun iklimde yetişir. Canlıların yaşaması için gerekli olan oksijen, bitkilerin fotosentez yapmasıyla karşılanır.
- Biyolojik yasalar doğadaki mükemmel düzen ve dengenin bir göstergesidir. Doğadaki dengenin bozulması canlılara zarar verir. Dolayısıyla doğaya ve canlılara zarar vermemeli, biyolojik dengeyi korumalıyız.
- Yüce Allah bitki, hayvan ve insanların yapı ve işlevlerini biyolojik yasalara bağlı kılmıştır.



Yukarıda verilen bilgi afişinden hareketle aşağıdaki ayetlerden hangisi bu konuya örnek gösterilemez?

- A) "Yeryüzüne bakmazlar mı? Orada her güzel çiftten nice bitkiler yetiştirdik." (Şuara suresi, 7.ayet)
- B) "Hep birlikte Allah'ın ipine (Kur'an'a) sınımsız sarılın. Parçalanıp bölünmeyin. Allah'ın size olan nimetlerini hatırlayın..." (Âl-i İmran suresi, 103.ayet)
- C) "Allah her canlıyı sudan yarattı. İşte bunlardan kimi karın üstüne sürünür, kimi de ayağı üstünde yürür..." (Nur suresi, 45.ayet)
- D) "O, insanı alaktan (embriyodan) yarattı." (Alak suresi, 2.ayet)

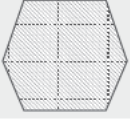
2. Dünya'nın ortalama sıcaklığının canlıların yaşamasına uygun derecede olmasının kendiliğinden oluştuğunu söylemek için akılsız olmak gerekir. Aynı şekilde gezegenlerle yıldızların aralarındaki mesafenin hiçbir zaman birbirlerine çarpmayacak derecede uzak mesafede olmasının da kendiliğinden oluştuğunu söylemek için deli olmak gerekir. Aslında bütün bunlar evrenin bir yaratıcısının olduğunun açık delillerinden sadece birkaçıdır.

Bu parçaya göre;

- I. Evren ve içindekiler büyük patlama sonucu oluşmuştur.
- II. Evrenin işleyişinde mükemmel bir düzen vardır.
- III. Evrendeki her şey bir ölçüye göre yaratılmıştır.

yukarıda verilen yargılardan hangilerine ulaşılabilir?

- A) Yalnız I B) I ve II C) II ve III D) I, II ve III



ÇÖZÜMLER

1. Çözüm

Canlıların doğması, büyümesi ve gelişmesi gibi olaylar biyolojik yasalar kapsamında değerlendirilir. Dolayısıyla A, C ve D seçeneklerinde verilen ayetler biyolojik yasalar ile ilişkilendirilebilir. Ancak B seçeneğinde verilen ayet Kur'an-ı Kerim'de bildirilen emirlere uyulması gerektiği ile ilgilidir. Doğru cevap B seçeneğidir.

2. Çözüm

Parçada verilen somut örnekler II ve III. öncüllerin doğruluğunu gösterirken, I. öncüde yer alan ifade ise yanlıştır. Çünkü evren büyük patlama sonucunda değil Allah'ın yaratmasıyla oluşmuştur. Doğru cevap C seçeneğidir.

3. Çözüm

Ayetin konusu evrendeki düzenle ilgilidir. Evrende güneş, ay ve yıldızlar gibi varlıkların işleyişiyle ilgili olan yasa fiziksel yasadır. Fiziksel yasalar; maddenin oluşumu, hareketi, değişimi ve yapısı ile ilgili olan ve bilimsel olarak da kanıtlanmış yasalardır. Bu yasalar evrenseldir ve deney yöntemi kullanılarak sonuca ulaşırlar. Doğru cevap B seçeneğidir.

4. Çözüm

Toplumsal yasalar; toplumsal oluşum, değişim ve gelişim gibi konularla ilgili yasalardır. Olaylar arasındaki sebep sonuç ilişkilerini ortaya koyan yasalardır. Parçanın genelinde de toplumsal olaylardan söz edilmektedir. Doğru cevap A seçeneğidir.

5. Çözüm

A seçeneğinde Helal kazanç ile verilebilecek küçük bir sadakanın bile Allah'ın hoşnutluğunu kazanmada büyük etkisi olduğundan bahsedilmiştir. B seçeneğinde insana ölüm gelmeden önce sadaka verip iyiler arasında olması gerektiğine değinilmiştir. C seçeneğinde ise insanın namazı dosdoğru kılması, zekât vermesi gerektiğinden bahsedilir. D seçeneğinde ise sadakanın sağlıklıyken fakirlik endişesi ve zenginlik duygusu ile hareket ederek verilmesi gerektiği vurgulanmıştır. Doğru cevap C seçeneğidir.

6. Çözüm

Ayette Yüce Allah sadakanın gizli verilmesini, fakirlere verilmesini ve verilen sadakaların günahlarımızın bağışlanması için kefaret olduğunu belirtmiştir. Ancak ayette sadaka verilen kişilerin incitilmemesi ve onurlarının korunması gerektiğine değinilmemiştir. Doğru cevap D seçeneğidir.

7. Çözüm

Belirtilen ayet ve kavram eşleştirmelerinden I. öncüde verilen ayet ecel, II. öncüde verilen ayet emek, III. öncüde verilen ayet irade, IV. öncüde verilen ayet tevekkül kavramı ile ilişkilendirilir. Dolayısıyla I. öncüde verilen eşleştirme yanlıştır. Doğru cevap A seçeneğidir.

8. Çözüm

Vakıflar toplumda yardımlaşma ve dayanışmanın artmasını sağlayan kurumlardır. Zenginlerden aldıkları bağışlarla ihtiyaca göre okul, hastane, cami ve aşevi gibi sosyal kurumları inşa ederler. İnşa edilen bu sosyal kurumlar ihtiyaç sahibi insanlara ihtiyaçlarını karşılamalarını sağlar. Vakıf geleneği toplumumuzda yüzlerce yıldır devam eden bir gelenektir. Günümüzde varlığını devam ettiren vakıflar yardımlaşma ve dayanışmanın en güzel örneklerindedir. Doğru cevap D seçeneğidir.

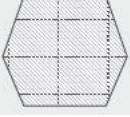
9. Çözüm

Burak Öğretmen'in tahtaya yansıttığı görselde Hz. Musa (a.s.) ile ilgili bilgiler vermiştir. Ancak verilen bilgilerden 4 ve 6 numaralı ifadeler Hz. Musa ile ilgili doğru olmayan bilgilerdir. Çünkü Hz. Musa (a.s.), Firavun'un sarayında büyümüştür ve kendisine ilahi kitap olarak Tevrat gönderilmiştir. Doğru cevap D seçeneğidir.

10. Çözüm

Parçada verilen bilgilerden hareketle hurafeler dinin aslı değildir. Masal, efsane ve rivayetleri oluşturanlar insanlar olduğu için hurafeler insan ürünüdür. Aynı zamanda oluşturulan batıl inançlar dinin doğru anlaşılmasına engel olur. Ancak dinin korunmasının batıl inançları öğrenmeyle mümkün olacağına dair bir bilgiye parçada yer verilmemiştir. Doğru cevap C seçeneğidir.

Cevap Anahtarı	1	2	3	4	5	6	7	8	9	10
	B	C	B	A	C	D	A	D	D	C



SORULAR

1.

BİR OSMANLI GELENEĞİ: SADAKA TAŞI

Osmanlı Devleti'nde sosyal hayattaki dengenin sağlanabilmesi için konulan sadaka taşları yardım eden ile yardım alanın birbirini görmeden buluşmasını sağlıyordu.

Osmanlı'da uygulanan sadaka taşları genellikle 2 metre yüksekliğinde olup şehirlerde, kasabalarda, cami ve hastane yanı gibi yerlere kurulurdu. Herkesin ulaşmasının kolay olduğu fakat sadaka veren ve sadaka alanın görünmemesi için تنها yerlere konulurdu. İhtiyaç sahipleri ihtiyaçları kadarını alıp diğer parayı başka ihtiyaç sahiplerine bırakırdı.



Yukarıda verilen bilgi afişi dikkate alındığında "Sadaka Taşı" uygulaması ile aşağıdakilerden hangisinin önemine vurgu yapılmıştır?

- A) Yardımlama ve paylaşmanın
B) İslam dininde koruma altına alınan ilkelerin
C) Kur'an-ı Kerim'in ana konularının
D) İslam dininin temel kaynaklarının

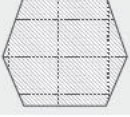
2. Toplumun sağlıklı bir şekilde varlığını sürdürebilmesi için uyması gereken yasalara toplumsal yasalar denir. Allah evrendeki düzen için fiziksel ve biyolojik yasalar koyduğu gibi toplumların düzeni için de toplumsal yasalar koymuştur. Sevgi, kardeşlik, doğruluk, adalet, kul hakkı gibi ilkeler toplumsal yasaların temelini oluşturur. Toplumun barış ve huzuru bu ilkelere olan bağlılıkla sağlanır.

Buna göre;

- I. "Andolsun ki biz her ümmete, 'Allah'a kulluk edin, sahte tanrılardan uzak durun.' diyen bir elçi gönderdik..." (Nahl suresi, 36. ayet)
II. "Ey iman edenler! Mallarınızı aranızda haksızlıkla yemeyin. Ancak kendi rızanızla yaptığınız ticaretle yemeniz helaldir..." (Nisa suresi, 29. ayet)
III. "... Eğer hükmedecek olursan aralarında adaletle hükmet. Çünkü Allah adil davrananları sever." (Maide suresi, 42. ayet)

yukarıda verilen ayetlerden hangileri parça ile aynı doğrultudadır?

- A) Yalnız II
B) I ve II
C) II ve III
D) I, II ve III



SORULAR

1.



ÖNCE İŞ GÜVENLİĞİ

Çalışanları iş kazaları ve ihmalsizliğe karşı koruyalım. Canın korunması bireyin can güvenliğinin sağlanması ile mümkündür. Bireyin can güvenliğini tehlikeye düşüren iş kazalarının önlenmesi için işçilerin tam donanımlı ekipmanlara sahip olması gereklidir. Tedbirler alınıp dikkatli çalışılmalıdır.

Verilen bilgilendirme afişi ile ilgili;

- I. İslam dinin temel gayelerinden canın korunması kapsamındadır.
- II. İhmalsizliğin yaşanmaması belirtilmiştir.
- III. Mevcut uyarıları dikkate almayanların cezalandırılacağı ifade edilmiştir.

yukarıdaki ifadelerin hangileri söylenebilir?

- A) Yalnız I B) Yalnız III C) I ve II D) I, II ve III

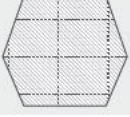
2. Dinin korunmasında dikkat edilmesi gereken bir diğer konu dinin tahriflerden uzak tutulmasıdır. Tahrif; sap-tırma, çarpıtma, değiştirme, bozma, bozulma anlamına gelir. Dinin korunması Allah'ın çizdiği sınırlar içerisinde kalarak dinin emir ve yasaklarını uygulamakla mümkündür.

Buna göre;

- I. "Sevdiğiniz şeylerden Allah yolunda harcamadıkça, gerçek iyiliğe asla erişemezsiniz..." (Âl-i İmran suresi, 92. ayet)
- II. "...O halde sen de dini Allah'a has kılarak (ihlas ile) kulluk et." (Zümer suresi, 2. ayet)
- III. "...Eğer hükmedecek olursan aralarında adaletle hükmet. Çünkü Allah adil davrananları sever." (Maide suresi, 42. ayet)

yukarıda verilen ayetlerden hangileri parçayı destekler niteliktedir?

- A) Yalnız I B) Yalnız II C) I ve III D) II ve III



SORULAR

1.

FİLLİ SU SAATİ

İb'nu-l Cezeri bundan 800 yıl önce 13. yüzyılın ilk dönemlerinde İspanya'dan Orta Asya'ya kadar uzanan bir su saati icat etti. Dönemin koşulları dikkate alındığında sınırlı materyal ve mükemmel bir beceriyle oluşturulan su saatinin, kullanışlılığının yanında ihtişamı da dikkat çekmektedir. Saatte kullanılan unsurlar ve hayvan figürleri ülkeleri ve ticaret yapısını simgelemektedir. Diyarbakır Kralı için yapılan bu su saati İb'nu-l Cezeri'nin büyük çalışma ve uğraşları sonucunda meydana gelmiştir. Büyük bir çaba ve uğraşları sonucunda İb'nu-l Cezeri hem mühendislik harikası hem de kültür harikası filli su saatini icat etti. Filleri su saati her yarım saatte bir zamanı söyleyerek İslam dünyasının zenginliğini ve bilgi birikimini gözler önüne sermiştir.



Bilgi afişi dikkate alındığında İbnu'l Cezeri ile ilgili;

- I. Zamanın koşullarına göre büyük bir başarı elde etmiştir.
- II. Büyük uğraşlar sonucunda emeğinin karşılığını mükemmel bir icat çıkararak almıştır.
- III. Başarısızlığının sonucunda tevekkül ederek Allah'a olan teslimiyetini göstermiştir.

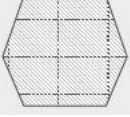
yukarıda verilen ifadelerden hangileri söylenebilir?

- A) Yalnız II B) I ve II C) II ve III D) I,II ve III

2. Hz. Yusuf (a.s.) uğradığı iftira sonrasında hapse atılmıştı. Ancak o, gördüğü rüyasının gereği olarak bir gün hapisten çıkacak ve Mısır'a yönetici olacaktı. Hz. Yusuf (a.s.) hapisteki iki arkadaşının rüyalarını yorumlamış ve dedikleri çıkmıştı. Onun bu özelliğini duyan Mısır kralı, gördüğü bir rüyayı ona yorumlattı. Sonrasında suçsuzluğu da ortaya çıkınca Hz. Yusuf (a.s.) hapisten çıktı ve Mısır'a aziz oldu.

Parçada aşağıdaki mucizelerden hangisine değinilmiştir?

- A) İftiradan kurtulması B) Geleceği bilmesi
C) Rüyaları yorumlaması D) Ölülerini diriltmesi



SORULAR

1.



Yukarıda verilen afişlerin ortak teması aşağıdakilerden hangisidir?

A) Aklın korunması

B) Malın korunması

C) Neslin korunması

D) Dinin korunması

2.

“Bir zamanlar Yusuf, babasına ‘Babacığım! Rüyamda on bir yıldızın, Güneş ve Ay’ın bana secde ettiklerini gördüm.’ demişti. Babası: Ey oğulcuğum! Rüyanı kardeşlerine anlatma, yoksa sana bir tuzak kurarlar. Çünkü şeytan, insanın apaçık düşmanıdır.”

(Yusuf suresi, 4-5. ayetler)

Ayetlere göre;

I. Şeytan, cinler içerisinde ateşten yaratılmış bir varlıktır.

II. Hz. Yusuf (a.s.) rüya tabirlerini çok iyi öğrenmiştir.

III. Babası kardeşlerinin Hz. Yusuf’a kötülük yapmalarından endişe duymuştur.

yukarıdaki yargılardan hangilerine ulaşamaz?

A) I ve II

B) I ve III

C) II ve III

D) Yalnız I

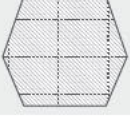
3.

I. “Kendileri ile huzur bulasınız diye sizin için türünüzden eşler yaratması ve aranızda bir sevgi ve merhamet var etmesi de O’nun (varlığının ve kudretinin) delillerindedir...” (Rum suresi, 21.ayet)

II. “Ey inananlar! İçki, kumar, putlar ve fal okları şüphesiz şeytan işi pisliklerdir, bunlardan kaçının ki saadete eresiniz.”(Maide suresi, 90. ayet)

Yukarıda verilen ayetler sırasıyla İslam dininin temel gayelerinden hangileri ile ilgilidir?

	I	II
A)	Canın korunması	Malın korunması
B)	Aklın korunması	Dinin korunması
C)	Malın korunması	Aklın korunması
D)	Neslin korunması	Aklın korunması



SORULAR

1.



FITIR SADAKASI (FİTRE)

- Fıtır sadakası, mübarek ramazan ayının sonunda gücü yeten her Müslümanın ödemekle yükümlü olduğu bir sadakadır.
- İslam fıkhına göre evin reisi hükmündeki şahıs ailesinden sayılan küçük büyük herkesin fıtır sadakasını vermekle yükümlüdür.

- Fıtır sadakasının bayram namazına kadar verilmesi gerekir. Böylece bu sadaka sayesinde ihtiyaç sahipleri de bayram coşkusuna ortak edilmiş olur.
- Modern dönem İslam alimlerinin genel görüşüne göre fıtır sadakasının türü insanların tükettiği şeylerdir. Fakat fıtır sadakasında bu şeylerin yerine miktarı kadar parasının da verilmesi caizdir.
- Ülkemizde kişi başına verilmesi gereken fıtır sadakası 2023 yılına göre en az 70 Türk lirasıdır.



Yukarıda verilen bilgi afişinden hareketle aşağıdaki sorulardan hangisinin cevabına ulaşamaz?

- A) Fıtır sadakasının miktarı ne kadardır?
- B) Fıtır sadakası ne zaman verilmelidir?
- C) Fıtır sadakasının dini hükmü nedir?
- D) Fıtır sadakası hangi tür mallardan verilmelidir?

2. "Gerçekten insan için çalışmasının karşılığında başka bir şey yoktur. Ve çalışması da ileride görülecektir. Sonra ona çalışmasının karşılığı tastamam verilecektir."

(Necm suresi, 39-41. ayetler)

Aşağıdaki atasözlerinden hangisi bu ayetle çelişmektedir?

- A) Ne ekersen onu biçersin.
- B) Emeksiz yemek olmaz.
- C) Armut piş ağzıma düş.
- D) İşleyen demir ışıldar.

I. DÖNEM LGS

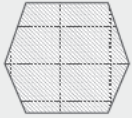
İngilizce

TAMAMI
ÇÖZÜMLÜ

10

DENEME
SINAVI





SORULAR

1. The researcher, Prof. Carlson, asked 100 teenagers about their favourite weekend activities. The chart below shows the results of his study.

Favourite Weekend Activities	Number of teenagers
play computer games	39
go to the movies	21
go to concerts	18
do shopping in malls	17
do sports	5

Which of the following can we say according to the results?

- A) Going to the movies is the most popular weekend activity among teens.
- B) Most of the teens like doing sports more than playing computer games.
- C) Nearly half of the teenagers prefer playing computer games at the weekends.
- D) Nearly the same number of teens like going to concerts and doing shopping in malls.

2. **Sandy:** What are you doing this weekend?

Martha: Oh, I'm free. Why do you ask?

Sandy: I'm planning a costume party for the Sunday night but it is a secret for now.

Martha: Of course. I promise I won't tell it to anybody.

Sandy: Thanks. I know that I can always count on you.

Complete the dialogue with the best question.

- A) Can you back me up?
- B) Would you like to join my party?
- C) How about telling to everyone?
- D) Do you have a plan that day?

- 3.

Importance of Friendship For Clara

Some people come into our lives and we like them more than others. They are special for us. We sometimes argue, but most of the time we get on well with each other. We never tell lies because trust is very important for us. That's why we always count on each other. I have two great buddies. They are Wendy and Emily. We are very close. I always support them, and I know that they back me up all the time. We have the same hobbies and interests, so we like spending time together.

According to the text above,

- A) Clara never shares her secrets with her friends
- B) Clara and her buddies have lots of things in common
- C) Clara doesn't trust Wendy and Emily because they're liars
- D) if Clara needs help, Wendy and Emily won't be there for her

4. **Barbara:** Have you got a plan on Friday night?

Chase: No, nothing much. Why?

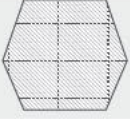
Barbara: I have two tickets for a jazz concert at the city hall. Do you want to go with me?

Chase: Jazz concert? Sorry, but I don't like jazz. I prefer rap and hip-hop. Why do you ask Melanie? It is her favourite music type.

Barbara: OK. You are right. I'll invite her.

According to the conversation above,

- A) Chase will go to the jazz concert with Barbara
- B) both Barbara and Melanie like listening to jazz music
- C) Chase and Barbara have something in common about music
- D) Melanie and Chase want to go to the jazz concert together



SORULAR

1.

*Dear Mike,
Thank you for the nice invitation. I will definitely join the art exhibition, but I can't attend the party of it. I'm sorry for that. I have an important meeting tomorrow morning. I hope you will have a great time.
See you later.
Sincerely,
Nancy*

Which sentence is correct according to the letter above?

- A) Mike is the sender and he refuses the invitation.
- B) Nancy apologizes and gives a reason for not joining the after party.
- C) Mike makes an excuse for refusing the invitation.
- D) Nancy accepts to join the after party of art exhibition.

2. Imagine you studied hard all week and finished your exams yesterday. You want to have some fun, so you are throwing a party at the weekend. You should write a note and invite your friends to the party.

Which one shouldn't you mention in the note?

- A) The reason of the party
- B) The date, time and place of the party
- C) The needs for the party preparations
- D) The entertainment plans for the party

3. **Christina:** I want to do something fun. How about a slumber party tonight?

Jessica: Oh, that sounds awesome. But we don't have much time for the party arrangements.

Christina: Don't worry. My mom can prepare some food and beverages for us. I am going out to buy some DVDs and board games.

Jessica: Great. I can arrange music if you want. I like dancing at parties.

Christina: Why not? I'm sure the party will be a lot of fun.

According to the conversation above, what can we say?

- A) Christina wants to organize a slumber party for fun.
- B) Jessica thinks having a slumber party is a bad idea.
- C) Christina's mom is busy with all the party preparations.
- D) Jessica won't attend the slumber party.

4. **Sasha:** Hello, Jessy. How are you?

Jessy: Fine, thanks. Listen, Sasha. I have two tickets for a concert tonight. Do you fancy going with me?

Sasha: I'd love to, but whose concert is it?

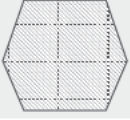
Jessy: It is a concert of the symphony orchestra.

Sasha:

Jessy: Really? I supposed you like this kind of music. No matter. I'll go alone.

Fill in the blank with the appropriate option.

- A) That sounds fun. I'll be there.
- B) Why not? What time does it start?
- C) Sure. I think it will be exciting.
- D) Sorry, but I don't like classical music.



ÇÖZÜMLER

1. Çözüm

Nancy, Mike'a yazdığı mektupta resim sergisine kesinlikle katılacağını fakat "after party"ye (asıl davetten sonraki partiye) katılmayacağını belirtiyor. Bunun için üzgün olduğunu ifade ediyor ve yarın sabah önemli bir toplantısı olduğunu söyleyerek de özür diliyor ve etkinliğe katılmamasına ilişkin bir sebep gösteriyor. Seçenekleri değerlendirdiğimizde buna ilişkin ifadelerin B seçeneğinde verildiğini görüyoruz. Doğru cevap B seçeneğidir.

2. Çözüm

Soruda "Bütün hafta çok ders çalıştın ve dün sınavlarını bitirdin. Biraz eğlenmek istiyorsun, bu yüzden hafta sonu parti vereceksin. Bir not yazmalı ve arkadaşlarını partiye davet etmelisin." deniliyor. Buna göre notta hangisinden bahsetmemen gerektiği soruluyor. Partinin sebebi, tarihi, saati ve yeri, parti için eğlence planları notta yer verilmesi gereken bilgilerdir. Ancak parti hazırlıkları için gerekli ihtiyaçlar bunlardan biri değildir. Doğru cevap C seçeneğidir.

3. Çözüm

Diyalogda Christina, Jessica'ya eğlenceli bir şeyler yapmak istediğini söylüyor ve pijama partisi yapma önerisinde bulunuyor. Dolayısıyla "Christina eğlence için pijama partisi düzenlemek istiyor." ifadesi söyleyebileceğimiz uygun ifadedir. Doğru cevap A seçeneğidir.

4. Çözüm

Kendisini konsere davet eden Jessy'e Sasha konserin kimin olduğunu soruyor. Jessy'nin senfoni orkestrasının bir konseri olduğunu söylemesi üzerine boşluğa gelecek Sasha'nın ifadesi sonrası Jessy "Gerçekten mi? Senin bu tür müziği sevdiğini sanıyordum. Sorun değil. Yalnız gideceğim." karşılığını veriyor. Jessy'nin son konuşmasından Sasha'nın Jessy'nin davetini reddettiği sonucuna ulaşıyoruz. Bu durumda diyalogun "Üzgünüm, fakat klasik müziği sevmiyorum." ifadesi ile tamamlanması uygun olur. Doğru cevap D seçeneğidir.

5. Çözüm

Sandra, John'a gönderdiği elektronik postada vereceği kostüm partisine John'u davet etmektedir. John'un ihtiyacı olan tek şeyin kostüm olduğunu söylemekte ve kendisinin müzik ve içecekleri ayarlayacağını, annesinin ise onlar için atıştırmalıklar hazırlayacağını ifade etmektedir. Bu durumda "Sandra bir parti veriyor ve partiye John'u davet ediyor." ifadesi doğrudur. Doğru cevap B seçeneğidir.

6. Çözüm

Amanda'nın hafta sonu planlarının yer aldığı tabloya baktığımızda hem cumartesi hem de pazar günü ev işlerinde annesine yardım edeceğini görüyoruz. Dolayısıyla "Annesiyle evde bazı ev işleri yapacak." ifadesini tabloya göre söyleyebiliriz. Doğru cevap B seçeneğidir.

7. Çözüm

Karşılıklı konuşmada Kimmy, Carla'ya havanın çok güzel olduğunu söyleyerek birlikte piknik yapma teklifinde bulunuyor. Ancak Carla teklif için teşekkür ederek ailesi ile bir planı olduğunu söyleyip bu teklifi reddediyor. Demek ki boşluğa "Carla teklifi reddediyor ve sebep gösteriyor" ifadesinin getirilmesi gerekir. Doğru cevap D seçeneğidir.

8. Çözüm

Metinde Chris hafta içi günlük rutininden bahsediyor. Öğleden sonra saat 4'ten 6'ya kadar okul sonrası aktivitelerini takip ettiğini söylüyor. Film kulübü ve müzik kulübüne katıldığını ve kulüplerde zaman geçirmeyi sevdiğini çünkü film izlemenin ve müzik dinlemenin hobileri olduğundan bahsediyor. Bu ifadelerden yola çıkarak "O, okul sonrası aktivitelerini ilgi alanlarına göre seçmiyor." ifadesinin metne göre söylenemeyecek bir ifade olduğunu anlıyoruz. Doğru cevap B seçeneğidir.

9. Çözüm

Soruya göre Profesör Dickens son araştırmasında 100 gence müzik tercihlerini soruyor. Araştırmasının bazı sonuçlarına göre;

- Çoğu genç hip hop ve heavy metal dinlemeyi tercih ediyor, fakat en çok tercih edilen rock.
- Rapi tercih eden gençlerin sayısı popu tercih edenlerin iki katıdır.
- Klasik müzik gençler arasında en az tercih edilen müzik türüdür.
- Hip hop gençler arasında ikinci popüler müzik türüdür.

Bu bilgilere göre A seçeneğinde verilen değerlerin yer aldığı grafik yukarıdaki şartları sağlamaktadır. Doğru cevap A seçeneğidir.

10. Çözüm

Alfred Luke ile birlikte harika zaman geçirdiklerini çünkü çok fazla ortak noktalarının olduğunu söylüyor. Her zaman aynı şeyleri yapıyorlar. Ayrıca birbirlerine karşı daima dürüstler. Maggie ise Claire'in kendisi için özel olduğunu çünkü tüm sırlarını onunla paylaşabildiğini söylüyor. Claire'in her zaman ona arka çıktığını bildiğini ifade ediyor. Bu bilgilerden yola çıkarak "Maggie Claire'e güvenebilir çünkü o, Maggie'nin sözlerini saklı tutar." ifadesini söyleyebileceğimizi anlıyoruz. Doğru cevap C seçeneğidir.

Answer Key

1

B

2

C

3

A

4

D

5

B

6

B

7

D

8

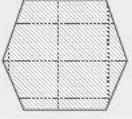
B

9

A

10

C



SORULAR

1.



Hi, all. My name is Larry. I'm an eighth grader at a middle school. I'm a hardworking student at school. I usually get high grades from my exams. I think I'm successful thanks to my reading habit.

Also, I believe that reading books helps me improve my general knowledge, and language communication skill. I like reading books in my leisure time. Detective and sci-fi books are my favourites. I find them so interesting and exciting. However, I can't stand biographical and travel books. I think they're boring.

Read the text about Larry. Which of the following is not correct for him?

- A) He thinks his reading habit helps him about his school subjects.
- B) He prefers reading science fiction books to biographical books.
- C) He enjoys learning new places while reading travel books.
- D) He finds reading books as a beneficial activity in his life.

2. **Eddie:** What are you doing tonight? Would you like to come over? We can play video games together.

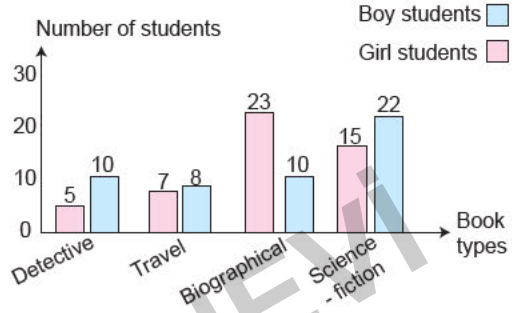
Bill:

Eddie: No matter. Another time, maybe.

Find the sentence that completes the dialogue.

- A) I'd love to, but I have a lot of homework.
- B) Sounds great! I'll be there for sure.
- C) Sure, I don't have any plans for this evening.
- D) Yeah. I am not going to do anything.

3. Mr. Bentley is a teacher at a middle school. Last week, he asked 50 boy and 50 girl students what kind of books they like. Here are the results:



Which of the following is not correct according to the results?

- A) The same number of boy students like reading biographical and detective books.
- B) Detective books are the least preferred book type among girl students.
- C) Many girl and boy students like travel books more than science fiction books.
- D) Most of the girl students like reading about the lives of famous people.

4. **Emily:** Are you doing anything at the weekend?

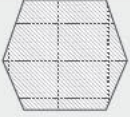
Olivia: No, nothing much. Why do you ask?

Emily: I have two tickets for an art exhibition on Sunday. Do you want to come with me?

Olivia: Oh, that would be great, but I can't make it. My cousin, Sarah, is going to give a party to celebrate her new age on that day.

Choose the appropriate option for the blank.

- A) I must arrange a surprise birthday party for her.
- B) I want to exhibit my paintings in an art gallery.
- C) I must help her with the party preparations.
- D) I prefer joining science exhibitions to art exhibitions.



SORULAR

1.

SUNSET RESTAURANT	
MENU	
Soup	Main Course
Yoghurt Soup	Cheeseburger
Fish Soup	Meatball
Potato Soup	Chicken with mushrooms
Tomato Soup	Fish and chips
Dessert	Beverage
Rice pudding	Coffee
Apple pie	Tea
Ice cream	Lemonade
Cookies	Apple juice

Betty, Steve and Jessica went to Sunset Restaurant to have dinner together yesterday.

- Betty doesn't eat fast food and she likes sea food. She prefers milky desserts and cold drinks after meals.
- Steve likes vegetable soup and meat dishes. Also, he prefers fruit-containing drinks.
- Jessica never has vegetable soup. She likes food made from red meat more than food made from white meat. She prefers to drink something cold.

What can we say according to the information and the menu above?

- A) Steve ordered fish soup and chicken with mushrooms, and also he drank tea.
- B) Betty and Steve ordered tomato soup and ate cheeseburger with apple juice.
- C) Jessica ordered yoghurt soup and meatballs, and also she drank lemonade.
- D) Both Jessica and Betty ordered fish and chips with coffee, and also they had ice cream.





2.

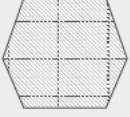
Hello, everybody! I'm Cynthia. I'm really fond of making and tasting cookies. Every day, I share my favourite cookie recipes with people in my blog. Today, I want to give you the recipe of vanilla sugar cookies. If you're ready, let's start! First, put 3 cups of flour and 1/4 teaspoon of salt in a bowl. Second, mix 200 grams of butter and 1 cup of sugar and then add 1 egg and 2 teaspoons of vanilla. Mix for a couple minutes more. Next, add the flour and salt mixture. After that, roll dough into small balls. Place them on a baking sheet, spacing 2 cms apart. Finally, heat the oven and bake the cookies at 350 °C for 14 minutes. Serve cool.

Enjoy your tasty cookies!



Which of the following is the correct step after adding the flour and salt mixture?

- A) 
- B) 
- C) 
- D) 



SORULAR

1. Sharen and Patrick are siblings. They like listening to music in their leisure time. This table below shows what they think about the types of music.

(✓ → Sharen, ✓ → Patrick)	Fun	Boring	Unbearable	Ridiculous	Exciting
Rap	✓		✓		✓
Classical			✓		✓
Techno	✓		✓	✓	
Pop		✓		✓	
Opera		✓	✓	✓	

Which of the followings cannot be correct according to the table above?

- A) They have different opinions about classical and techno music.
 B) Rap is their favourite music type because they think it's fun and exciting.
 C) They don't prefer listening to pop and opera because they find them boring.
 D) Sharen never listens to techno music, but Patrick likes it.

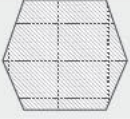
- 2.

	Tony	Kelly	Jeff	Maria
making a phone call	sometimes	often	often	sometimes
speaking face to face	rarely	sometimes	hardly ever	rarely
texting a message	sometimes	sometimes	sometimes	hardly ever
sending an e-mail	hardly ever	rarely	sometimes	rarely
using social networks	always	usually	always	usually

The table above is about the frequencies of using some communication ways by Tony, Kelly, Jeff and Maria.

According to the table above, which one cannot be correct?

- A) All of them like face to face communication the most, so they rarely use other communication ways.
 B) Most of them use making phone calls more than texting messages.
 C) Sending e-mails is the least preferred way of communication among them except Jeff.
 D) They both use online communication and they find social networks the best way of communication.



SORULAR

1.



Sending e-mails is one of the best communication ways for me when I want to share homework with my friends.



I think using social networks is the best way of communication, so I use these networks most of the time. They are also very fun.



Maybe you can think writing letters is an old-fashioned way for communication, but I enjoy using it to get in touch with my friends in different countries.

Dylan is preparing a poster for his homework, but he forgot to write the title of this poster.

Which one can be a good title for his poster?

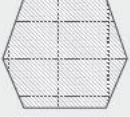
- A) Old-fashioned Ways of Communication
- B) Technological Developments in Communication
- C) Ways of Communication
- D) Effective Communication Skills

2. Claire and Simon are siblings. You see their eating habits in the table below.

	Claire	Simon
The food they are crazy about.	vegetable pizza	meatball
The food they never eat.	hamburger	sushi
The drink they prefer.	lemonade	tea
The food they like.	grilled chicken	spaghetti

Which of the following can we say according to the table above?

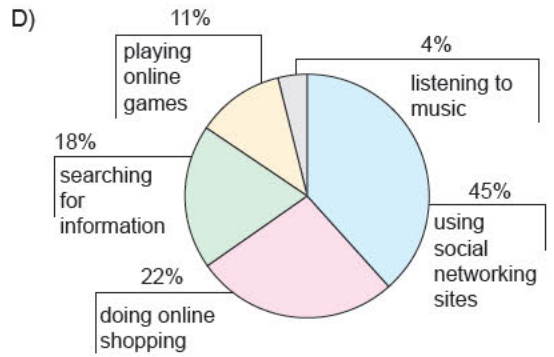
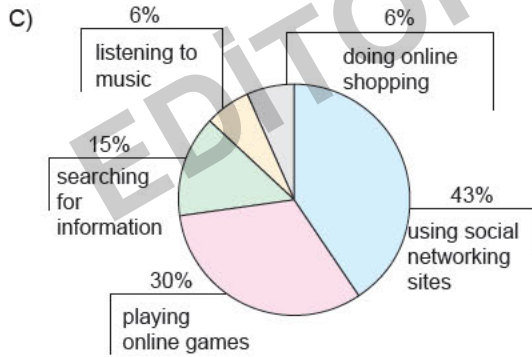
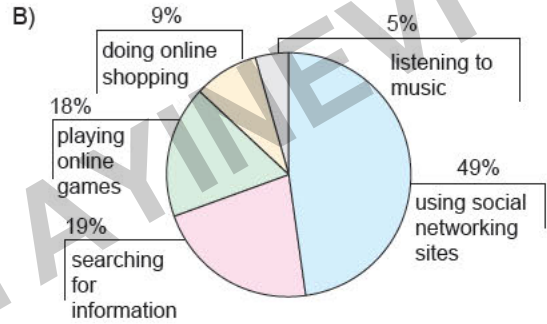
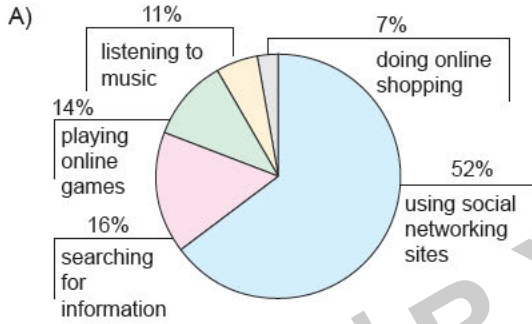
- A) Simon doesn't like seafood and he drinks hot beverages.
- B) Both of them prefer eating fast food and drinking cold things.
- C) Claire likes eating grilled chicken more than vegetable pizza.
- D) Claire eats only vegetable dishes, but Simon prefers meat dishes.

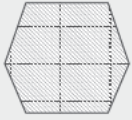


SORULAR

1. A recent research shows that the usage of the Internet is increasing. It says that the aim of the Internet connection varies person to person. The least usage is listening to music. People mostly use the Internet to share photos and videos on social networking sites. Less than 20% of the people browse the Internet to read information. The rate of people playing online games is twice as many as those doing online shopping.

According to the information above, which of the following graph shows the results of the research?





SORULAR

1. Sheila is a twenty one - year - old university student. The chart below shows her free time activities and the frequency of these activities.

Free Time Activities	Frequency of These Activities
listening to music	every evening
going to the movies	at the weekends
reading a book	five times a week
playing tennis	on Saturdays and Sundays
surfing the Internet	on weekdays
going hiking	on Sundays
doing shopping	twice a week

We can understand from the chart above that

- A) she spends more time on going to the movies than surfing the Internet
- B) listening to music is the activity that she does in her free time the most
- C) she spends most of her free time on reading a book and going hiking
- D) she likes playing tennis more than doing shopping

2.

HOW TO USE OR HOW NOT TO USE A MOBILE PHONE

Mobile phones are very popular among teens. They always use them to keep in touch with their friends. They can call and text each other whenever and whoever they like. However, most teens don't know how to use their mobile phones appropriately. In the modern world, the need to communicate is a hot topic, but you have to respect the others as well. You shouldn't disturb the others while talking on the phone. Unfortunately, most teens don't realize that they are disturbing the others. You have to speak politely on the phone. Some teens send and receive text messages at the cinema during a movie. This is so rude. You cannot use your mobile phone while the others are watching a movie. While walking on the street, you shouldn't look at your mobile too much. You may just hit someone and harm them. What is more, you may also put yourself in danger. You may have a car accident if you look at your phone too much. Don't listen to music loudly with your mobile. You may want to listen to music, but you have to respect the others. Don't forget that they might not want to listen to the songs which you are fond of. In a public place, we have to pay more attention. We just don't want to disturb the people around us.

According to the text above, most teens

- A) don't prefer using mobile phones to keep in touch with their friends
- B) notice that they are disturbing the others while talking on the phone
- C) don't know how to use a mobile phone properly and politely
- D) know that the other people might like the music they love



İvedik Organize Sanayi 1518 Sok. Matbaacılar Sitesi
Mat-Sit İş Merkezi No.:2/20 Yenimahalle / ANKARA
Telefon: 0 312 384 20 33 Belgegeçer: 0312 342 23 58
WhatsApp: 0 505 925 57 81
www.editoryayinevi.com | bilgi@editoryayinevi.com

ISBN 978-605-280-223-6



9 786052 802236