

YENİLENDİK



2. SINIF



TAMAMI ÇÖZÜMLÜ

6 DENEME SINAVI

I. DÖNEM I-II. DÖNEM

3

+

3

FASİKÜLLÜ

SIRALI DENEME



2.SINIF



1.

DENEME SINAVI

I. DÖNEM



Tel: 0 312 384 20 33 - 0 505 925 57 81

www.editoryayinevi.com | bilgi@editoryayinevi.com

HAYAT BİLGİSİ

1.



Buğra

Ben çok iyi basketbol oynarım.



Cengiz

Ben okçuluk sporunda iyiyim.

Bu durum ile ilgili olarak aşağıdakilerden hangisi söylenebilir?

- A) Buğra ve Cengiz'in yetenekleri aynıdır.
- B) Buğra ve Cengiz farklı yeteneklere sahiptir.
- C) Buğra ve Cengiz'in özellikleri birbirine benzemektedir.

2.



Aysun

Eyvah! Sulu boyalarımı evde unutmuşum.

Aysun'un konuşmasına göre aşağıdakilerden hangisini söyleyemeyiz?

- A) Aysun, ders programını kontrol etmemiştir.
- B) Aysun, sorumluluklarını bilen bir öğrencidir.
- C) Aysun'un bugün görsel sanatlar dersi vardır.

3. Okulun ve sınıfın eşyalarını dikkatli ve temiz kullanmazsak

Yukarıdaki cümlede boş bırakılan yer, aşağıdakilerden hangisi ile tamamlanabilir?

- A) devletin bütçesine zarar vermiş oluruz.
- B) öğretmenimiz bize teşekkür eder.
- C) arkadaşlarımız bizi çok sever.

4.



Yukarıdaki sınıf ile ilgili aşağıdaki yorumlardan hangisi yapılabılır?

- A) Kararlar çoğunluğun isteğine göre alınmaktadır.
- B) Öğrencilerin ihtiyaçları önemli değildir.
- C) Karar alma sürecine öğretmen de katılmıştır.

TÜRKÇE




1.

te	re	pe	çel	ren	çe
----	----	----	-----	-----	----

Karışık hâlde verilmiş bu hecelerden aşağıdaki kelimelerin hangisi **oluşturulamaz**?

- A) reçel B) rende C) peçete

2.

		
1	2	3

Numaralanmış kelimeler sözlük sırasına göre nasıl dizilmelidir?

- A) 1 - 3 - 2 B) 2 - 3 - 1
C) 3 - 2 - 1

3. Aşağıda görselleri verilen varlık adlarından hangisinin hece sayısı daha fazladır?



4. Hangi cümlede yazım yanlışı **yoktur**?

- A) Türkler, kahraman bir millettir.
B) Türkiye Büyük Millet meclisi 23 Nisan 1920'de açıldı.
C) Mustafa Kemal paşaya bakıyor.

5. 1. Oyuncular arasından bir ebe seçilir.
2. Diğer çocuklar ebeyi, nesneye yaklaştığında "sıcak" nesneden uzaklaştığında ise "soğuk" diyerek yönlendirirler.
3. Görevi nesneyi bulmak olan ebe, oyun alanının dışına çıkartılıp seçilen nesne saklanır.

Anlatılan oyunun oluş sırası aşağıdakilerden hangisidir?

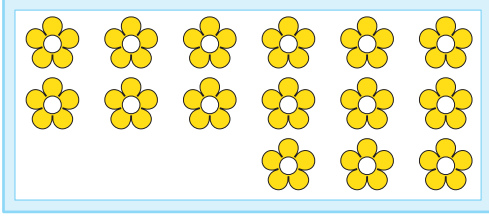
- A) 1 - 2 - 3 B) 3 - 2 - 1
C) 1 - 3 - 2

6. Hangi seçenekteki kavramlar arasında diğerlerinden farklı bir ilişki vardır?

- A) Yurt - Vatan
B) Sık - Seyrek
C) Doğru - Eğri

MATEMATİK

1.



Yukarıda gösterilen resimde kaç tane çiçek vardır?

- A) 12 B) 15 C) 18

2.

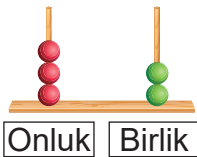


Mert

Ben bugün 23 sayfa kitap okudum.

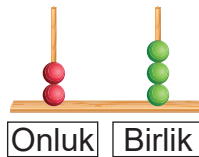
Mert'in okuduğu sayfa sayısını gösteren sayı aşağıdakilerden hangisidir?

A)



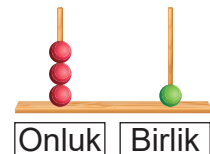
Onluk Birlik

B)




Onluk Birlik

C)



Onluk Birlik

3.




Kelebek Mumi üzerinde 5 yazan çiçeğe konuyor. Mumi üzerinde ileriye doğru beşer ritmik sayı yazan çiçeklerin hepsine konacaktır.

Buna göre Mumi'nin konduğu çiçekteki "?" kaçtır?

- A) 20 B) 25 C) 30

4.




Zeynep yukarıda gösterilen kutucuklara kaç kalp daha çizerse toplam kalp sayısı 2 düzine olur?

- A) 3 B) 4 C) 5

İNGİLİZCE

1.



What is this?

Yukarıdaki sorunun cevabı görsele göre hangisidir?

- A) This is a radio.
- B) This is a television.
- C) This is the Internet.

2.



Nancy

How are you?

.....



Bruce

Diyalogdaki boşluğa gelecek uygun cümle hangisidir?

- A) I'm okay.
- B) This is Nancy.
- C) Thank you.

3.



Görselde anlatılmak istenen nedir?

- A) Stand up.
- B) Paint the ball.
- C) Cut the paper.

4.

c o t r d o

Harfleri karışık verilen kelimeyi karşılayan görsel aşağıdakilerden hangisidir?

A)



B)



C)



2.SINIF

2.

DENEME SINAVI

I. DÖNEM



Tel: 0 312 384 20 33 - 0 505 925 57 81

www.editoryayinevi.com | bilgi@editoryayinevi.com

HAYAT BİLGİSİ

1. Sınıfımızı temiz tutmalı, çöplerimizi çöp kutusuna atmalıyız.
2. Bahçede oynamamalıyız.
3. Parmak kaldırarak ve söz alarak konuşmalıyız.

Yukarıda verilenlerden hangileri yalnızca sınıf kuralları ile ilgilidir?

- A) Yalnız 1 B) 1 ve 2 C) 1 ve 3

2.



Ayşe

Arkadaşlarımla yaptığım çalışmalar bana duygusu kazandırdı.

Ayşe'nin yukarıdaki cümlesi hangiyle tamamlanamaz?

- A) sorumluluk B) mutsuzluk
C) güven

3. Aşağıdakilerden hangisi sınıfta ortak kullanılan eşyalar arasında yer alır?

- A) Gözlük - Sıra
B) Diş fırçası - Yazı tahtası
C) Bilgisayar - Kitaplık

4. Aysun'un çarşamba günü matematik ve görsel sanatlar dersi vardır.

Buna göre Aysun, çarşamba günü çantasına aşağıdaki araç gereçlerden hangisini koymalıdır?

- A)

Çarşamba	Flüt
	Resim defteri
- B)

Çarşamba	Cetvel
	Müzik defteri
- C)

Çarşamba	Cetvel
	Resim defteri

5.



Benim adım Fatma ilkokul 2. sınıfa gidiyorum. Voleybol oynamayı çok severim.


Verilen bilgiler aşağıdakilerden hangisine ait olabilir?

- A) B)
- C)

TÜRKÇE


1. “Müslümanların ibadet etmek için toplandıkları yer” anlamını karşılayan sözcüğün görseli aşağıdakilerden hangisidir?

A)



Saray

B)



Cami

C)



Kale

2. Aşağıdaki cümlelerin hangisinde zıt anlamlı sözcükler bir arada kullanılmıştır?

- A) Güzel güzel oyunlar oynadılar.
 B) Varış çizgisinden bitiş çizgisine kadar hiç durmadı.
 C) Ayakkabısını eski bir dolaba koymak istemiyordu.

3. İlke: Alfabemizdeki ilk harf a, son harf ise z'dir.

Cengiz: Alfabemizdeki 3. harf c'dir.

Selim: Alfabemizde 29 harf vardır.

Yukarıdaki öğrencilerden kaç tanesi doğru bilgi vermiştir?

- A) 1 B) 2 C) 3

4. “Kırmızı araba çok hızlı gidiyordu.” cümlesindeki altı çizili sözcüğün eş anlamlısı aşağıdakilerin hangisinde vardır?

- A) Ona ağır yükler vermeyin.
 B) Yola süratli bir şekilde girmişti.
 C) Kaplumbağa yavaş bir şekilde ilerler.

5.

Mustafa, 1881 (bin sekiz yüz seksen bir) yılında doğdu ()
 Mustafa ()'nin doğduğu yer Selanik ()tir ()

Yukarıdaki metinde “()” ile belirtilen yerlere hangi noktalama işaretleri getirilmelidir?

- A) (.) (') (') (.) B) (,) (') (') (!)
 C) (.) (!) (') (.)

MATEMATİK

1.



İki günde kitabımın 58 sayfasını okudum.


Selim kaç sayfa daha okursa kitabın okunan sayfa sayısı sadece 7 onluktan oluşan bir doğal sayıya eşit olur?

A) 12

B) 13

C) 14

2.



Elindeki armutları tabaklara belli kurallara göre yerleştiren Tuba'nın oluşturduğu sayı örüntüsü aşağıdakilerden hangisidir?

A) 1 - 4 - 6 - 10 - 13 - 16

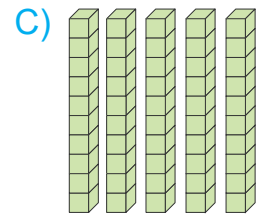
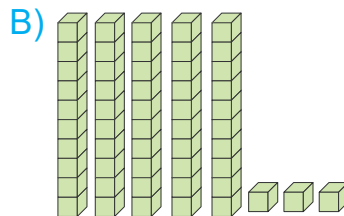
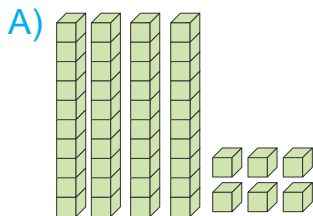
B) 1 - 4 - 7 - 10 - 13 - 16

C) 1 - 3 - 5 - 7 - 9 - 12

3.

$$\begin{array}{r} 34 \\ + 16 \\ \hline \square \end{array}$$

İşlem sonucunun onluk ve birlik taban bloklarıyla gösterilmiş hâli aşağıdakilerden hangisidir?



İNGİLİZCE

1.



This is microphone.

Boşluğa hangisi gelmelidir?

- A) an B) a C) the

2. Karnı acıkan Mike ve Ali aşağıdaki mekânlardan hangisine gitmelidir?

- A) Cinema B) Restaurant
C) Office

3.



Görsele göre boşluğa hangisi gelmelidir?

- A) Good bye.
B) Good afternoon.
C) Good night.

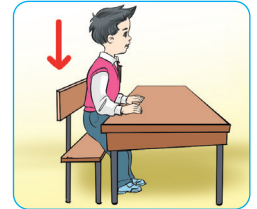
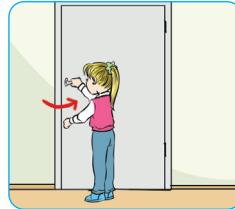
4.



Görsele göre boşluğa hangisi gelmelidir?

- A) Turn right.
B) Stop.
C) Turn left.

5.



Verilen görseller seçeneklerdeki ifadelerle eşleştirildiğinde hangisi dışarıda kalır?

- A) Stand up!
B) Sit down!
C) Open the door.

2.SINIF

3.

DENEME SINAVI

I. DÖNEM




Tel: 0 312 384 20 33 - 0 505 925 57 81

www.editoryayinevi.com | bilgi@editoryayinevi.com

HAYAT BİLGİSİ

1.



Yukarıdaki soyağacına göre;

- Ali, Ceren'in babasıdır.
- ☆ Ceren, Nazlı ve Fatih'in annesidir.
- Mert'in annesi Ceren'dir.

hangi sembollerle gösterilenler doğrudur?

- A) Yalnız ☆ ve ☆
- B) ve ☆
- C) ☆ ve

2. Aşağıdaki çocuklardan hangisi bir ihtiyacını belirtmiştir?

- A) Nazlı: Anne, kırmızı oyuncak bebeği alalım mı?
- B) Aslı: Baba, ayakkabım su alıyor. Yenisini alalım mı?
- C) Sümeyye: Abi, sinemaya gidelim mi?




3. Karakaya ailesinin bir ay boyunca yaptığı harcamalar aşağıdaki tabloda verilmiştir.

Kira	★ ★ ★ ★ ★ ★ ★ ★
Elektrik	★ ★
Su	★
Doğal gaz	★ ★ ★ ★
Mutfak	★ ★ ★
Eğlence	★
Giyecek	★ ★

Tabloya göre aşağıdaki yorumlardan hangisi **yapılamaz**?

- A) Doğal gaz ve mutfak giderleri aynıdır.
- B) En çok harcama kiraya yapılmıştır.
- C) Suya yapılan harcama giyeceğe yapılan harcamadan azdır.

4. Aşağıdaki görsellerden hangisi sağlıklı büyümek ve gelişmek için sürekli **yapılmamalıdır**?

- A) 
- B) 
- C) 


TÜRKÇE

1. Bazı sözcüklerin anlamları aşağıda verilmiştir.

- Ağır yük kaldırmaya ve taşımaya yarayan araç
- Kara yolunda ilerleyen ve yolcu taşıyan, motorlu büyük taşıt

Buna göre aşağıdaki görsellerden hangisi verilen sözcüklerin anlamlarıyla ilgili **değildir**?

A)



Otobüs

B)



Feribot

C)



Vinç

2. Aşağıdaki cümlelerin hangisinde yazım yanlışı **yapılmamıştır**?

- A) Eve aldığım kuşun adını yosun koyduk.
- B) Misafirlerimiz bu akşam Antalya'dan gelecek.
- C) Çakmağın gazı bitince kirbit kullandık.

3.

Mutsuz ve dalgındım. Birinci sınıfta çizdiğim elma ağacını yeniden çizdim. Ağacın rengini sinirli sinirli yeniden boyadım. Yapraklarını boyamak için yeşil boyaya elimi uzattım. Sonra "Amaaaaan! "Ben mutsuzum, ağacım da mutsuz oluversin." dedim. Ağacın tamamını kahverengi boyayla boyadım. Oh, nasıl da rahatlamıştım.

Bu metinde geçen olayı anlatan varlık aşağıdakilerden hangisidir?


- A) Çocuk
- B) Ağaç
- C) Boya kalemleri

4. "Bugün en neşeli günüm." cümlesindeki "neşeli" sözcüğünün yerine hangisi getirilirse cümlenin anlamı **değişmez**?

- A) hüzünlü
- B) sevinçli
- C) buruk

MATEMATİK

1.



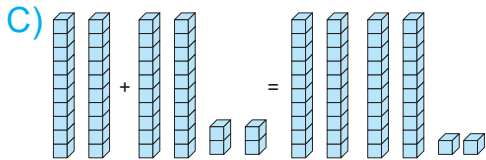
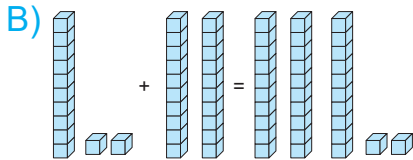
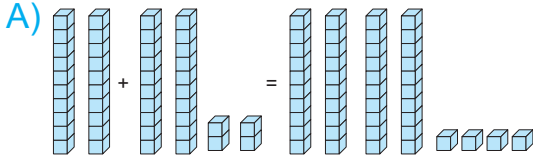
Tırtılın üzerinde yazan sayılar bir örüntü oluşturmaktadır.

Soru işareti “?” yerine hangi sayı yazılmalıdır?

- A) 33 B) 31 C) 23

2. Ağaçları çok seven Nil bir düzine ağaç olan bahçesine 2 deste daha ağaç dikmiştir.

Buna göre Nil'in bahçesindeki toplam ağaç sayısı aşağıdakilerden hangisi ile bulunur?



3. Aşağıdaki işlemlerden hangisi **hatalı** yapılmıştır?

- A)
$$\begin{array}{r} 73 \\ 19 \\ \hline 64 \end{array}$$
 B)
$$\begin{array}{r} 66 \\ 29 \\ \hline 37 \end{array}$$
 C)
$$\begin{array}{r} 81 \\ 29 \\ \hline 52 \end{array}$$

4.

$$\begin{array}{r} 85 \\ 43 \\ \hline \end{array}$$

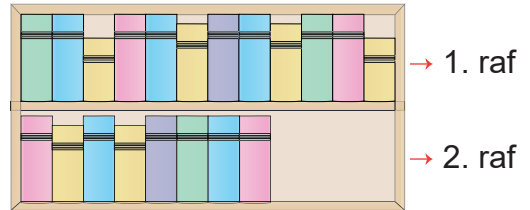
...

Ela yukarıda verilen eksilen ve çıkan sayılarını en yakın onluğa yuvarladıktan sonra işlemi yapıyor.

Ela'nın bulduğu doğru sonuç kaçtır?

- A) 42 B) 50 C) 60

5.



1. ve 2. raftaki toplam kitap sayısı aşağıdaki işlemlerden hangisinin sonucuna eşittir?

- A) 24 - 18 B) 44 - 34 C) 35 - 15

İNGİLİZCE

1.

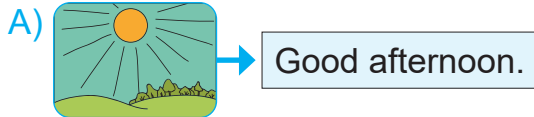


... doctor is in ... office.

Boşluklara sırasıyla gelebilecek uygun ifadeler hangi seçenekte verilmiştir?

- A) A / an B) A / a C) An / a

2. Aşağıdaki ifadelerden hangisi verilen görsel ile **yanlış** eşleştirilmiştir?



3.




Olivia:

Brian: I'm nine years old.

Olivia Brian'a hangi seçenekteki soruyu sormuştur?

- A) How are you?
B) How old are you?
C) How many candles are there?

4.



How many balloons are there?

Yukarıdaki sorunun cevabı görsel göre nedir?

- A) Four. B) Three. C) Two.

2.SINIF

4.

DENEME SINAVI

I-II. DÖNEM



Tel: 0 312 384 20 33 - 0 505 925 57 81

www.editoryayinevi.com | bilgi@editoryayinevi.com

HAYAT BİLGİSİ

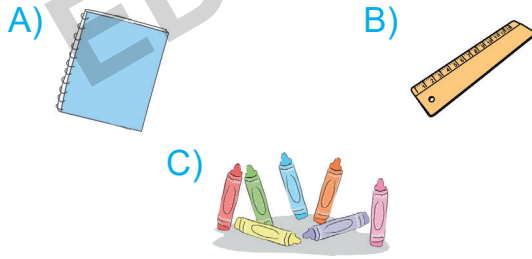
1. Her birey sahip olduğu özellikler yönünden birbirinden farklılık gösterir.

Aşağıdaki özelliklerden hangisi bireylerin sahip oldukları farklılıklardan biri **değildir**?

- A) Güzel resim yapmak
B) İyi futbol oynamak
C) Yemek yiyebilmek

2. Ders programına bakan İlke o gün görsel sanatlar dersinin olduğunu görüyor.

Buna göre İlke aşağıdakilerden hangisini çantasına koymalıdır?



3. Aşağıdakilerden hangisi dini bir bayram **değildir**?

- A) Zafer Bayramı
B) Ramazan Bayramı
C) Kurban Bayramı

4. Aşağıda bir lokantaya gidip sipariş veren üç arkadaşın menüsü verilmiştir.

Bu menülerden hangisi daha sağlıklıdır?

- A) **Gökhan**
- Pizza
 - Cola
 - Çorba
- B) **Murat**
- Çorba
 - Ayran
 - Izgara Tavuk
- C) **Mahmut**
- Hamburger
 - Gazoz
 - Patates Kızartması

5. Elektrikli ev aletleri çalışırken kabloları ile oynamamalıyız.
 Cep telefonu ile uzun süre konuşabiliriz.
 Oyun konsolu ile oynarken beden sağlığımız için dik oturmalıyız.

Yukarıda verilen ifadelerden hangileri doğrudur?

- A) , ve B) ve
C) Yalnız

TÜRKÇE

1.

1. ağız
2. yoğurdu
3. üfleyerek
4. yanan


Sütten -----
----- yer.

Anlamli ve kurallı bir cümle oluşturmak için numaralanmış sözcükler yukarıdaki boşluklara hangi sırayla yerleştirilmelidir?

- A) 1 - 4 - 2 - 3
- B) 4 - 2 - 1 - 3
- C) 2 - 4 - 3 - 1

2.

Yazı - Yirmi -  - Yumuşak

Bu sözcükler alfabetik olarak sıralandığına göre “” olan yere aşağıdakilerden hangisi getirilmelidir?

- A) Yörük
- B) Yeni
- C) Yün

3. Aşağıdaki cümlelerden hangisi bir soru cümlesi **değildir?**

- A) Sizce teknoloji yararlı bir şey midir
- B) Okulların açılması seni mutlu ediyor mu
- C) Yalnız kaldığımda canım çok sıkılıyor

4. Her toplumun kendine özgü değerleri vardır. Türk toplumunun en önemli değerlerinden biri saygıdır. Türk insanı bayrağına, büyüklerine, çevresine saygı gösterir. Çünkü toplumumuz saygı göstermenin önemini bilir.

Bu metne verilebilecek **en uygun başlık aşağıdakilerden hangisidir?**

- A) Toplum
- B) Türk Milleti
- C) Saygı

MATEMATİK

1.



Yukarıda basamak değerleri verilen iki sayının toplamı kaçtır?

- A) 85 B) 95 C) 96

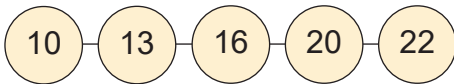
2.

Kap	Aldığı Su Miktarı
Kova	49 fincan su
Su bardağı	3 fincan su
Sürahi	12 fincan su

Yukarıda verilen tabloya göre 1 sürahi ve 1 kovayı doldurmak için kaç fincan su gerekir?

- A) 51 B) 58 C) 61

3.



Yukarıda verilen örüntüde hangi sayı örüntüyü bozmaktadır?

- A) 20 B) 16 C) 10

4.

Sude	Emir	Ela
8	11	10

Yukarıda üç arkadaşın yaşları verilmiştir.

Buna göre en küçük ile en büyük arkadaşların yaşlarının toplamı kaçtır?

- A) 21 B) 19 C) 18

5.

	•	• Çember
	•	• Kare
	•	• Üçgen

Yukarıda verilen şekillerin isimleri ile eşleştirilmesi hangi seçenekte doğru verilmiştir?

A)

B)

C)

İNGİLİZCE

1.




This is

Yukarıdaki görsele göre boşluğa hangisi gelmelidir?


- A) a horse
- B) a gorilla
- C) a zebra

2.

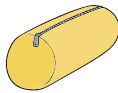


Aşağıdakilerden hangisi görsellerde verilen nesnelerin baş harfiyle başlar?

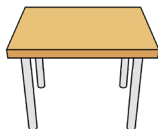
A)



B)



C)



3.



Sue, kendisine yardım eden Jane'e karşı bir ifade kullanmıştır.

Jane'in bu ifadeye karşılık olarak ne söylemesi beklenir?

- A) You're welcome.
- B) Excuse me.
- C) I'm sorry.

4.



How many books are there on the table?

Yukarıdaki sorunun cevabı görsele göre hangisidir?

- A) There are seven books.
- B) There are five books.
- C) There are six books.

2.SINIF

5.

DENEME SINAVI

I-II. DÖNEM




Tel: 0 312 384 20 33 - 0 505 925 57 81

www.editoryayinevi.com | bilgi@editoryayinevi.com

HAYAT BİLGİSİ

1.



Görselde verilen hayvanların en önemli ihtiyacı aşağıdakilerden hangisidir?

- A) Su B) Orman C) Çiçek

2.

- Özge, her sabah okula geç gelir.
- Özcan, okulda öğretmenini dikkatle dinler.
- Serdar, planladığı saatten geç yatar.

Hangi öğrencinin davranışı doğrudur?

- A) Özge B) Özcan C) Serdar

3.



Görseldeki kişiye nezaket ifadelerinden hangisini kullanmalıyız?

- A) Hoş geldin B) Hoşçakal
C) İyi geceler

4. Ev adresimizde bulunması gereken bilgiler nelerdir?

- A) Mahalle adı, sokak adı, muhtarın adı
B) Mahalle adı, cadde/sokak adı, kapı numarası, apartman adı, kat, daire numarası
C) Sokak adı, apartman numarası ve adı, kat, anne adı

5.

Tuvaletleri ve lavaboları kullandıktan sonra temiz bırakmalıyız.

Ortak kullanım alanlarını temiz bırakmaya özen göstermeliyiz.

Yalnızca tuvaletten önce ellerimizi yıkamalıyız.

Yukarıdaki renklerle belirtilen bilgilerden hangisi yanlıştır?

- A) B) C)

6. Hayvanlar ve bitkiler canlı varlıklardır. Canlı varlıkların hayatlarını sürdürebilmeleri için bazı ortak ihtiyaçları vardır.

Buna göre aşağıdakilerden hangisi canlıların ortak ihtiyaçlarından biri değildir?

- A) Hava B) Güneş C) Giyinme

TÜRKÇE

1. Ak bulutlar gökyüzünde süzülüyor.

Altı çizili sözcüğün eş anlamlısını hangi öğrenci doğru söylemiştir?

A)



Beyaz

Aylin

B)



Siyah

Ayşe

C)



Berrak

Serhat

2.

Karşidan baktım bir taş
Yürüyor yavaş yavaş
Yanına gittim
Dört ayak bir baş

Bu bilmeceye hangi hayvan tanımlanmıştır?

- A) Akrep B) Kaplumbağa
C) Salyangoz

3. Aşağıdaki cümlelerde altı çizili sözcüklerden hangisinin yazımı yanlıştır?

A)

Uludağ'a kayağa gittik.

B)

Sibel'in ayağı kırılmış.

C)

Zafer Bayramında doğmuş.




4.

- Orada okul alışverişimizi yaptık.
- Alışveriş merkezinden çıkınca da bir lokantada yemek yedik.
- Geçen hafta ailece alışveriş merkezine gittik.

Numaralanmış cümleler oluş sırasına göre nasıl sıralanmalıdır?

- A) 1 - 2 - 3
B) 3 - 1 - 2
C) 2 - 3 - 1

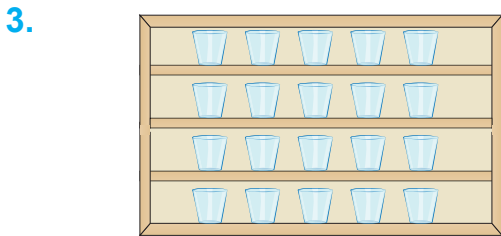
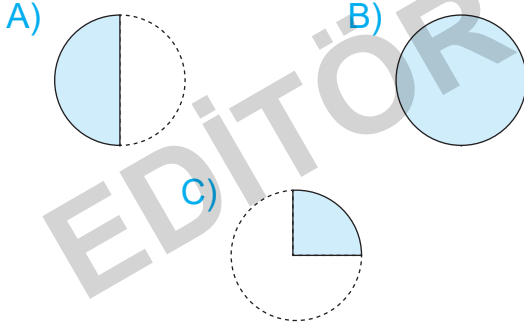
MATEMATİK

1.  Yandaki şeklin üç köşesi vardır.
 Yandaki şeklin köşesi yoktur.
 Yandaki şeklin dört köşesi vardır.

Yukarıda verilen bilgilerden kaç tanesi doğrudur?

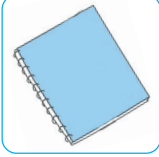

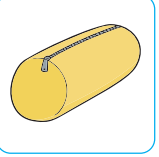
- A) 3 B) 2 C) 1

2. Aşağıdakilerden hangisi yarım-
dır?



Verilen bardak sayılarının toplamını hangi işlemle bulabiliriz?

- A) 5×3 B) $5 + 4$ C) 5×4

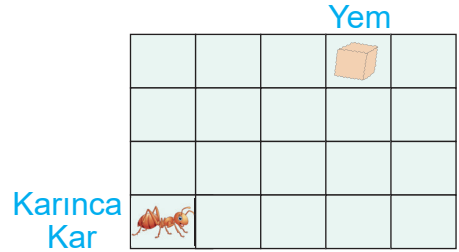
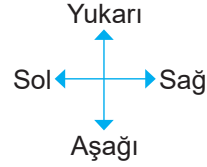
4.  17 TL  8 TL  21 TL

Didem yukarıda fiyatları verilen ürünlerden birer tane alıyor.

Buna göre Didem kaç TL ödeme yapar?

- A) 46 B) 47 C) 48

5.



Karınca Kar, yeme ulaşmak için aşağıdaki yollardan hangisini kullanmalıdır?

- A) 3 kare aşağıya, 3 kare sağa gitmelidir.
 B) 4 kare sağa, 3 kare yukarıya gitmelidir.
 C) 3 kare sağa, 3 kare yukarıya gitmelidir.

İNGİLİZCE

1.



This is a

Yukarıdaki görsele göre boşluğa hangisi gelmelidir?

- A) cake B) café C) hotel

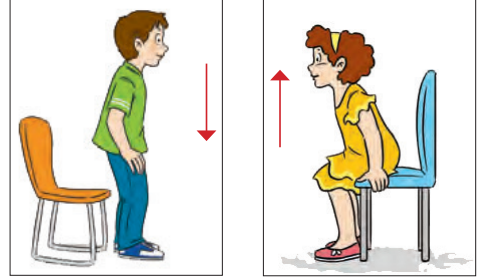
2.



Boşluğa hangisi gelmelidir?

- A) What is your name?
B) Do you dance?
C) How are you?

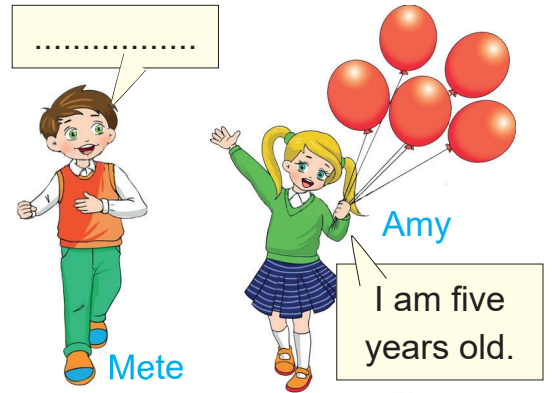
3.



Görseller sırasıyla neleri ifade etmektedir?

- A) Sit down. / Stand up.
B) Sit down. / Walk.
C) Stand up. / Sit down.

4.



Konuşma balonundaki boşluk hangisi ile doldurulmalıdır?

- A) How many balloons are there?
B) How old are you?
C) How are you?

2.SINIF

6.

DENEME SINAVI

I-II. DÖNEM



Tel: 0 312 384 20 33 - 0 505 925 57 81

www.editoryayinevi.com | bilgi@editoryayinevi.com

HAYAT BİLGİSİ

1. Arkadaşım Levent uzun boylu, siyah saçlı, kahverengi gözlüdü. Bizimle aynı mahallede oturan Levent; sevimli, iyi kalpli, yardımsever ve cesur bir kişidir.

Parçada kaç tane fiziksel özellik sayılmıştır?

- A) 2 B) 3 C) 4

2. Planlı bir öğrencinin aşağıdakilerden hangisini yapması **be-
lenmez**?

- A) Sabah olunca zamanında kalkar.
B) Evden çıkmadan önce çantasını kontrol eder.
C) Derste kullanması gereken araç-gereçleri çantasına koymaz.

3. Atatürk "**Kemal**" adını aşağıdaki okulların hangisinde almıştır?

- A) Şemsi Efendi İlkokulunda
B) Selanik Askeri Rüştiyesinde
C) İstanbul Harp Akademisinde

4. Aşağıdaki öğrencilerden hangisinin verdiği bilgi **yanlıştır**?

A)



Gamze

Dünya'nın kendi eksenini etrafında dönmesi ile mevsimler oluşur.

B)



Ahmet

Dünya'nın şekli yuvarlaktır ve iki türlü hareketi vardır.

C)



Vedat

Dünya, Güneş'in etrafındaki dolanımını bir yılda tamamlar.

5. Deniz Öğretmen ve öğrencileri kullanılmış evsel yağların, boş pillerin ve kullanılmış kağıtların biriktirilmesi için ayrı çöp kutuları oluşturulmasını okul idaresinden ister.

Deniz Öğretmen ve öğrencileri için aşağıdakilerden hangisi söylenebilir?

- A) Okulun temizliğine önem vermezler.
B) Atıkları değerlendirirler.
C) Başarılı olmak isterler.

TÜRKÇE

1. Şek - er - le - me - ci - ler

Te - miz - le - yi - ci - ler

Ba - kı - cı - lar

Hem - şir - e - ler

Sembollerle gösterilen sözcüklerin hangileri hecelerine doğru ayrılmıştır?

A) ve

B) ve

C) ve

2.



Sude

Marketten soğan, patlıcan ve maydanoz aldın. Öyle değilmi?

Sude'nin konuşmasının yazımındaki yanlışlık neden kaynaklanmaktadır?

A) "Mi" soru ekini ayrı yazmamasından kaynaklanıyor.

B) "Sovan" kelimesini "soğan" şeklinde yazmasından kaynaklanıyor.

C) "Patlıcan" kelimesini "patlıcan" şeklinde yazmasından kaynaklanıyor.

3. Selim; annesi () babası () iki kar-

1 2

deşi ve dedesi ile birlikte köyde yaşamaktadır () Evleri tek katlı ve

3

bahçelidir.

Numaralandırılan yerlerden hangisine virgül getirilemez?

A) 1

B) 2

C) 3

4.



Bu araçla ilgili hangi seçenekte verilenlerin hepsi doğrudur?


A) Aracın Adı	Helikopter
Hareket Ettiği Yer	Kara
Yaptığı İş	Yük taşır.

B) Aracın Adı	Uçak
Hareket Ettiği Yer	Hava
Yaptığı İş	Yolcu taşır.

C) Aracın Adı	Uçak
Hareket Ettiği Yer	Deniz
Yaptığı İş	Yolcu taşır.

İNGİLİZCE

1.



.....



.....



.....

Görsellere göre boşluklara sırasıyla hangi seçenekte verilen kelimeler gelmelidir?

- A) lemon - laptop - radio
 B) lemon - television - Internet
 C) orange - Internet - microphone

2.



.....



.....



.....

Görsellere göre boşluklara sırasıyla hangi ifadeler gelmelidir?

- A) Good afternoon. - Good night. - Good morning.
 B) Good morning. - Good night. - Good afternoon.
 C) Good night. - Good afternoon. - Good morning.


3.

- Open the door.
- Close the door.

Hangi seçenekte verilen görseller yukarıdaki cümlelere uygundur?

- A) A boy is shown opening a window on the left, and on the right, a boy is shown closing the same window. A double-headed arrow connects the two images.
- B) A girl is shown turning a light switch on on the left, and on the right, she is shown turning the same light switch off. A double-headed arrow connects the two images.
- C) A girl is shown opening a door on the left, and on the right, she is shown closing the same door. A double-headed arrow connects the two images.

4.

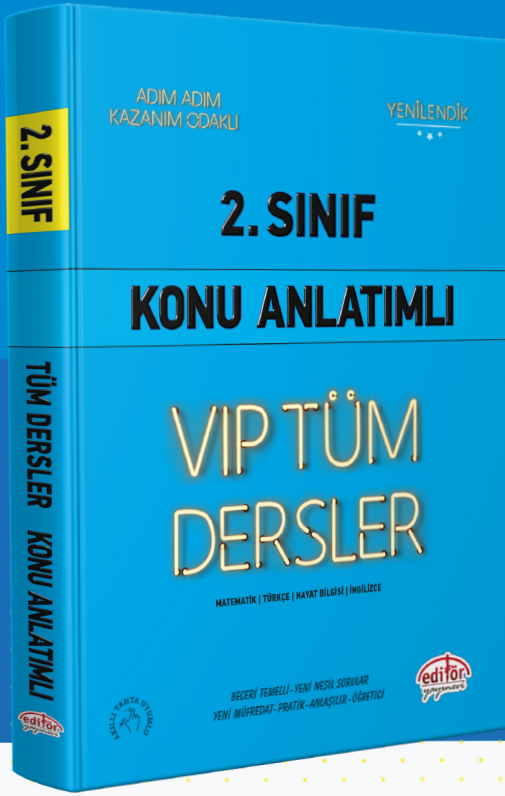


Yukarıdaki görseli ifade eden uygun seçenek hangisidir?

- A) Five pencils and two pencil cases.
 B) Six crayons and two schoolbags.
 C) Seven pens and three tables.

EDITÖR YAYINEVİ

ÜCRETSİZ
İÇERİK İÇİN



İvedik Organize Sanayi - Matbaacılar Sitesi
1518 Sok. Mat-Sit İş Merkezi No:2/20
Yenimahalle / ANKARA
Tel: 0 312 384 20 33 - 0 505 925 57 81
Faks: 0312 342 23 58
www.editoryayinevi.com | bilgi@editoryayinevi.com

ISBN 978-605-280-464-3



9 786052 804643