

2.SINIF

BİLSEM

Bilim ve Sanat Merkezleri
Öğrenci Seçme Sınavı

Tamamı Çözümlü
Fasiküllü

5

Deneme
Sınavı



Şekil Yeteneği

Sözel Yetenek

Sayısal Yetenek

Görsel Hafıza

BNV Testine Uygun



BİLSEM DENEME SINAVI

EDİTÖR

Turgut MEŞE

YAZAR

Komisyon

Bütün hakları Editör Yayınevine aittir.

Yayıncının izni olmaksızın kitabın tümünün veya bir kısmının elektronik, mekanik ya da fotokopi yoluyla basımı, çoğaltılması ve dağıtımı yapılamaz.

Sertifika No:

40447

KAPAK TASARIMI

Editör Yayınevi Dizgi Ekibi

SAYFA TASARIMI

Editör Yayınevi Tasarım Ekibi

BASKI VE CİLT

Özbaran Matbaacılık
ANKARA



İLETİŞİM

İvedik Organize Sanayi Matbaacılar Sitesi

1518 Sok. Mat-Sit İş Merkezi No:2/20

Yenimahalle / ANKARA

Tel: 0 312 384 20 33 - 0 505 925 57 81

Fax: 0312 342 23 58

www.editoryayinevi.com

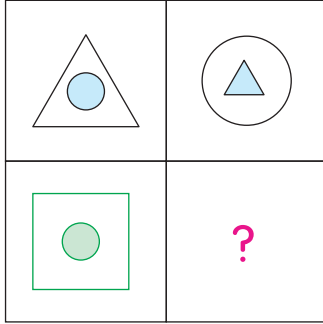
BİLSEM







Deneme
Sınavı

1

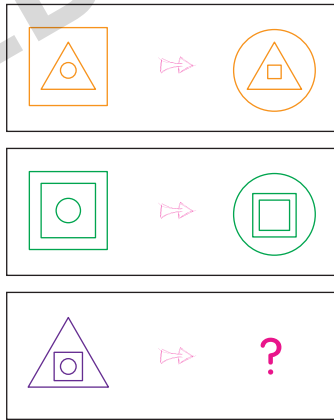








1



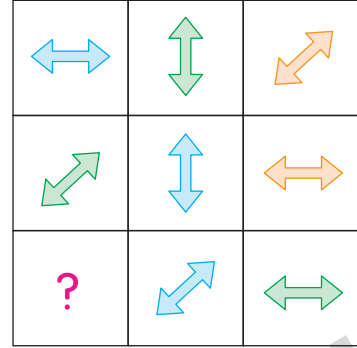
- A)  B)  C) 
- D)  E)  F) 







2



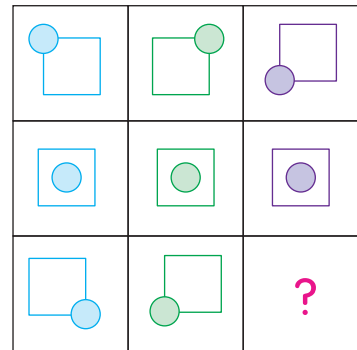
- A)  B)  C) 
- D)  E)  F) 







3




- A)  B)  C) 
- D)  E)  F) 

4



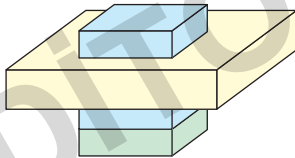
- A)  B)  C) 
- D)  E)  F) 

29




- A)
- B)
- C)
- D)
- E)
- F)

30



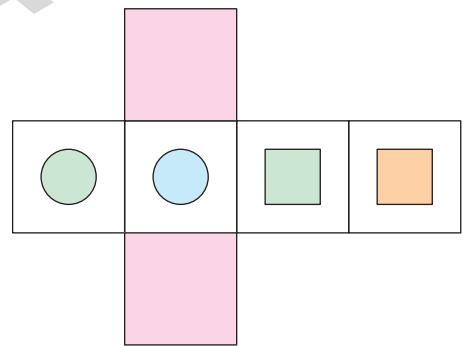
- A)
- B)
- C)
- D)
- E)
- F)

31



- A)
- B)
- C)
- D)
- E)
- F)

32



- A)
- B)
- C)
- D)
- E)
- F)

BİLSEM

Deneme
Sınavı

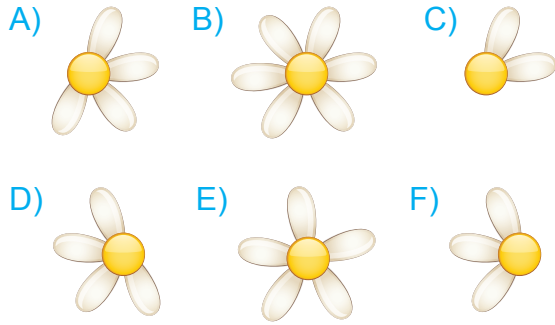
2



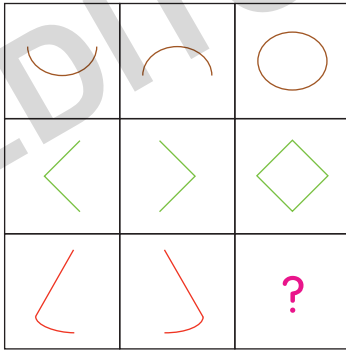
1



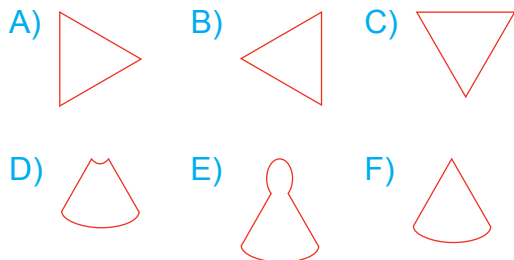
Yukarıda “?” ile gösterilen yere aşağıdakilerden hangisi gelmelidir?



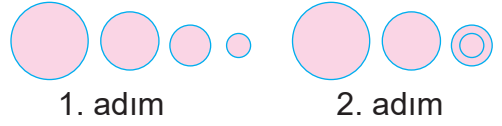
2



Yukarıda verilenlere göre “?” ile gösterilen yere hangi şekil gelmelidir?

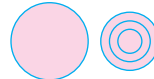


3



1. adım

2. adım

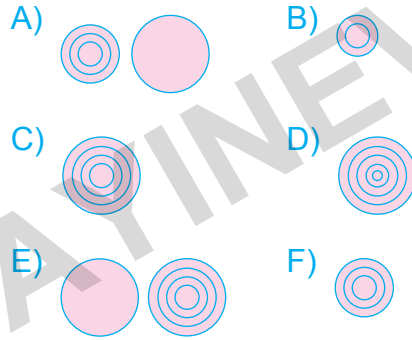


3. adım

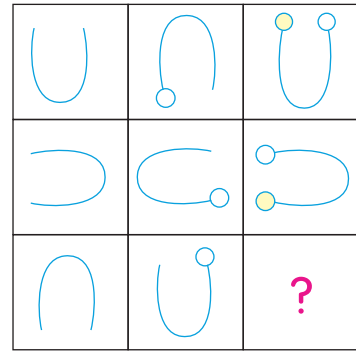
?

4. adım

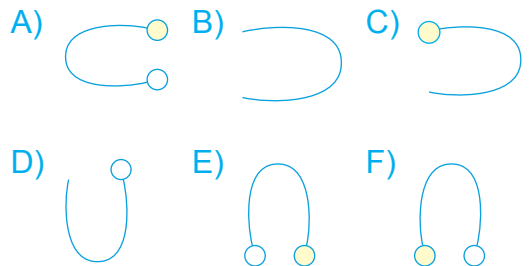
Yukarıdaki örüntünün “?” ile gösterilen 4. adımını aşağıdakilerden hangisidir?




4




Yukarıda verilenlere göre “?” ile gösterilen yere hangisi gelmelidir?



37



Yukarıdaki görseller arasındaki ilişki-
lendirmeye göre “?” yerine hangi görsel
gelmelidir?



38

1 Köfte	2 Limonata	3 Pizza
4 Ayran	5 Makarna	6 Gazoz

Yukarıda verilen tabloda kaç numaralı
sözcüklerin ortak özelliği bulunur?

- A) 1 - 4 - 5 B) 2 - 3 - 5
C) 1 - 3 - 5 D) 1 - 5 - 6
E) 3 - 5 - 6 F) 3 - 4 - 5

39

1 Ördek	2 Papağan	3 Serçe
4 Deve kuşu	5 Martı	6 Penguen

Yukarıda numaralandırılmış sözcükler-
den bazılarının ortak özelliği bulunmak-
tadır.

Buna göre sözcüklerden hangileri ile
bir grup oluşturulabilir?

- A) 1 - 5 - 6 B) 2 - 3 - 4 C) 1 - 3 - 5
D) 1 - 3 - 5 E) 3 - 4 - 5 F) 1 - 4 - 6

40

Sözcükler	Şekilli Eşleştirme (Karışık hâlde)
EKİM	■◆★●
İVME	▲■★●
KİME	●▲■★

Yukarıda verilen sözcükler şifrelenmiş
karşılıklarıyla doğru eşleştirildiğinde
“MEVKİ” sözcüğünün şifrelenmiş kar-
şılığı aşağıdakilerden hangisi olur?

- A) ★◆■●▲ B) ★■◆▲●
C) ★▲■◆● D) ★●▲◆■
E) ★●◆▲■ F) ★●■▲◆

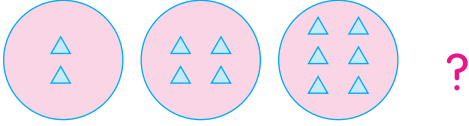
BİLSEM

Deneme
Sınavı

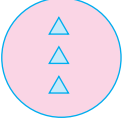


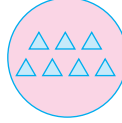

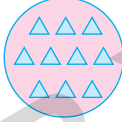
3



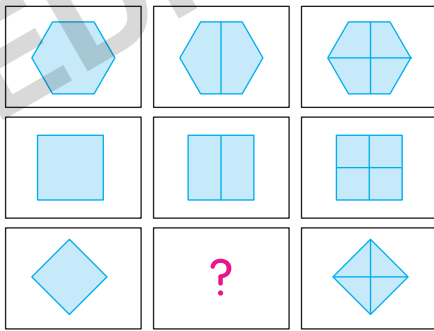
1









Yukarıda verilenlere göre “?” ile gösterilen yere aşağıdakilerden hangisi gelmelidir?

- A)  B) 
- C)  D) 
- E)  F) 


2









Yukarıda verilenlere göre “?” ile gösterilen yere hangisi gelmelidir?

- A)  B)  C) 
- D)  E)  F) 

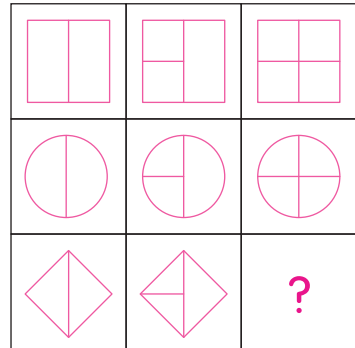
3









Yukarıda verilenlere göre “?” ile gösterilen yere aşağıdakilerden hangisi gelmelidir?

- A)  B)  C) 
- D)  E)  F) 

4



Yukarıda verilenlere göre “?” ile gösterilen yere aşağıdakilerden hangisi gelmelidir?

- A)  B)  C) 
- D)  E)  F) 

38

9	5	7
4	8	6
6	6	6
3	7	?

Yukarıda verilenlere göre “?” gösterilen yere hangi sayı gelmelidir?

- A) 4 B) 5 C) 7
D) 8 E) 9 F) 10

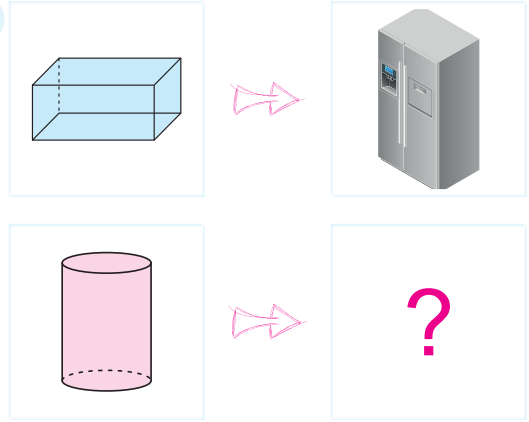
39

1	6		3	5
5	4	3	?	2
	3	4	1	5
6		1	2	4
4	1	5		6
3	6	2		1

Yukarıdaki verilen sudokuda “?” yerine kaç yazılmalıdır?

- A) 1 B) 2 C) 3
D) 4 E) 5 F) 6

40



Yukarıdaki görseller arasındaki ilişkiyi tanımlamaya göre “?” ile gösterilen yere hangisi gelmelidir?

- A)  B) 
C)  D) 
E)  F) 

41

Saniye → Dakika → Saat

Yukarıdaki sözcükler arasındaki ilişkinin benzeri hangi seçenekteki sözcükler arasında da vardır?

- A) Ordu - Birlik - Asker
B) Okyanus - Deniz - Göl
C) Yirmi beş - On beş - beş
D) Şehir - Bölge - Ülke
E) Sözcük - Harf - Cümle
F) Rakam - Matematik - Sayı

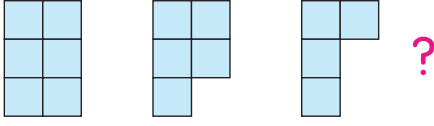
BİLSEM

**Deneme
Sınavı**

4

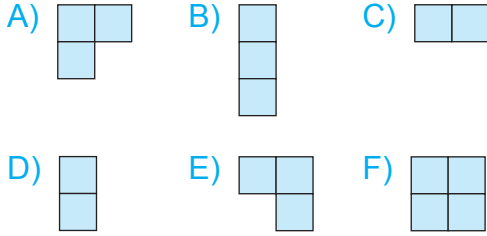


1

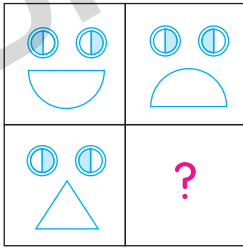


Yukarıdaki şekiller belli bir kurala göre dizilmiştir.

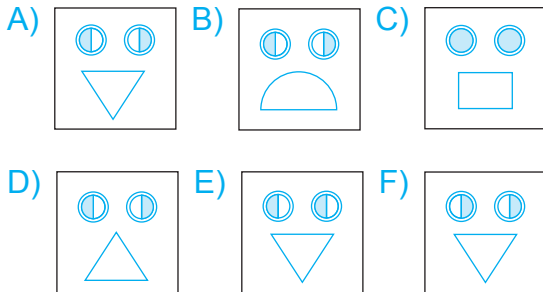
Buna göre “?” ile gösterilen yere hangi şekil gelmelidir?



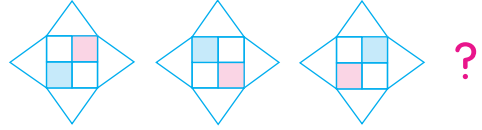
2



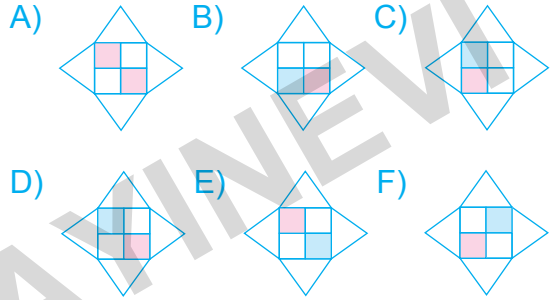
Yukarıda verilenlere göre “?” ile gösterilen yere hangisi gelmelidir?



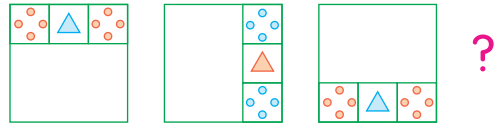
3



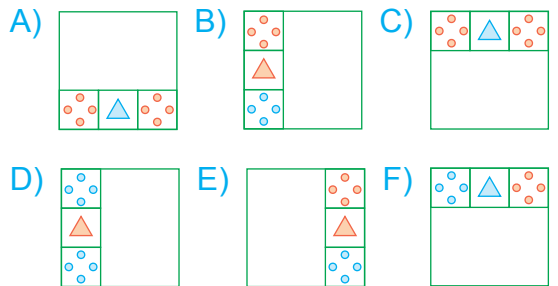
Yukarıdaki şekiller belli bir kurala göre sonlu bir şekil dizisi oluşturulmaktadır. Buna göre “?” yerine hangi şekil gelmelidir?



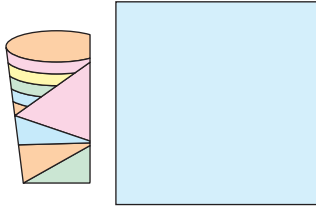
4



Yukarıda verilenlere göre “?” yerine hangi şekil getirilmelidir?

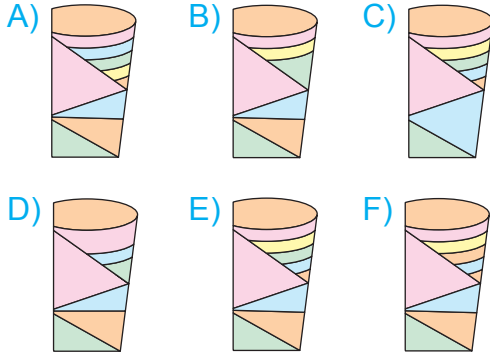


20

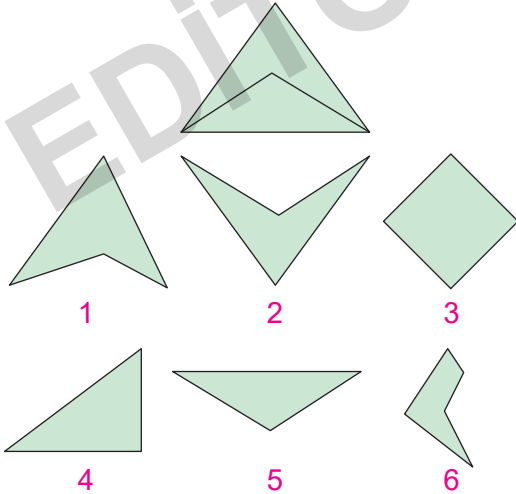


Ayna

Yukarıdaki şeklin aynadaki yansıması hangi seçenekte doğru verilmiştir?



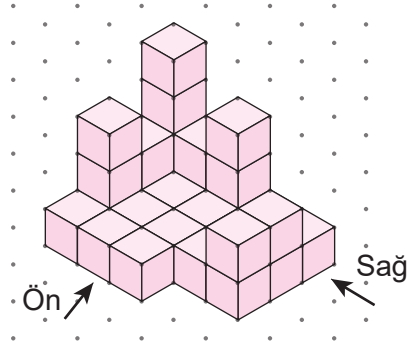
21



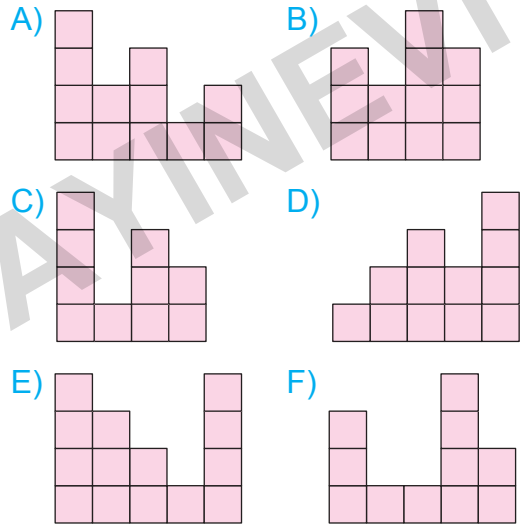
Yukarıda verilen şekli elde edebilmek için numaralandırılmış şekillerden hangileri birleştirilmelidir?

- A) 1 ve 4 B) 2 ve 5 C) 3 ve 6
D) 2 ve 4 E) 1 ve 5 F) 1 ve 3

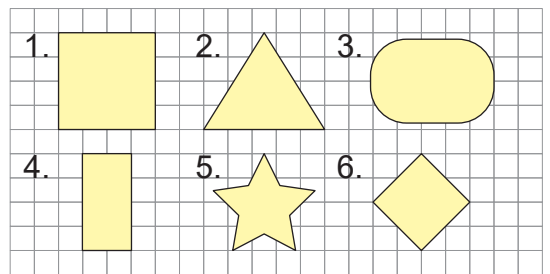
22



Yukarıda izometrik kâğıda çizimi yapılmış olan birbirinden bağımsız birim küplerden oluşan yapının önden görünümü aşağıdakilerden hangisidir?



23



Aşağıdaki şekillerden hangisi en fazla simetri doğrusuna sahiptir?

- A) 1 B) 2 C) 3
D) 4 E) 5 F) 6

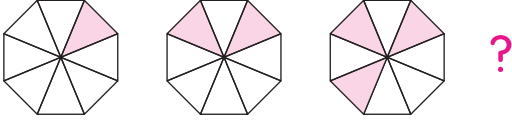
BİLSEM

**Deneme
Sınavı**

5

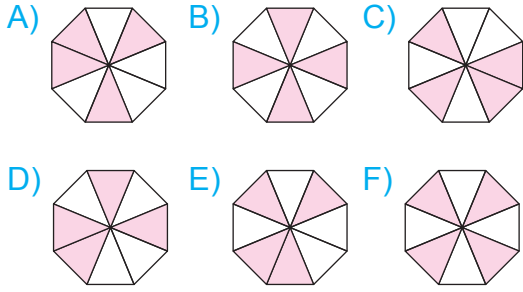


1




Yukarıda verilen şekiller bir kurala göre sonlu bir şekil dizisi oluşturmaktadır.

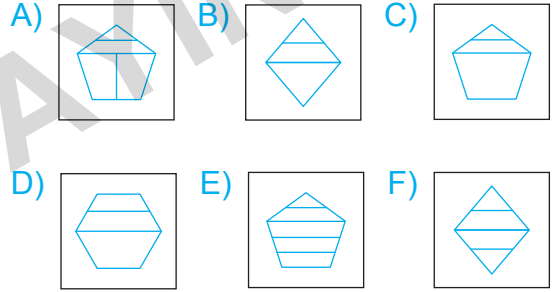
Buna göre “?” ile gösterilen yere hangi şekil gelmelidir?




3



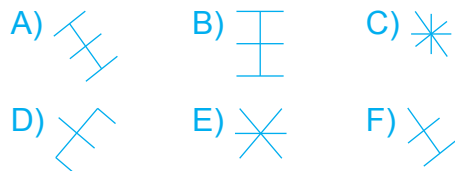
Yukarıda verilenlere göre “?” ile gösterilen yere aşağıdakilerden hangisi getirilmelidir?



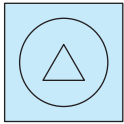
4



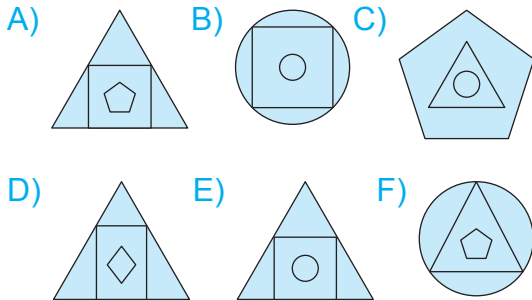
Yukarıda verilenlere göre “?” yerine aşağıdakilerden hangisi gelmelidir?




2



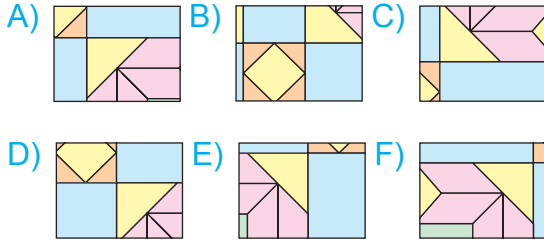
Yandaki şekille hangi seçenekteki şekil arasında ilişki kurulabilir?



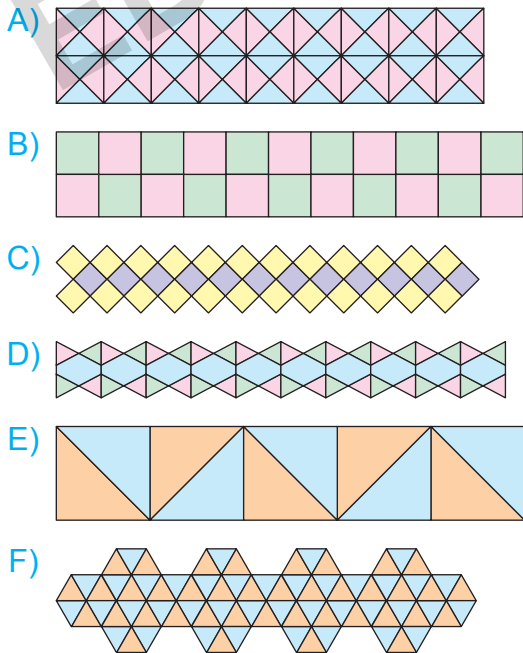
28



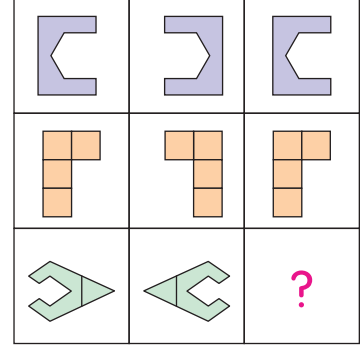
Yukarıdaki şekli tamamlamak için “?” ile gösterilen yere hangi parça getirilmelidir?



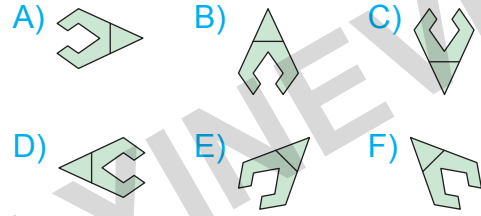
29 Aşağıdaki süslemelerden hangisi eş şekillerle oluşturulmamıştır?



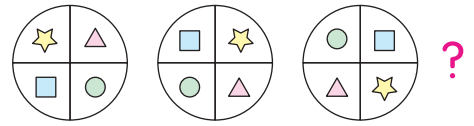
30



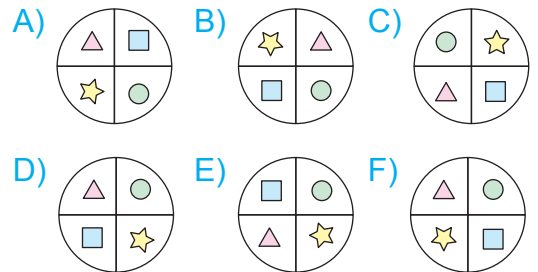
Yukarıda verilenlere göre “?” ile gösterilen yere aşağıdakilerden hangisi getirilmelidir?



31



Yukarıdaki örüntünün devam ettirilmesi için “?” yerine aşağıdakilerden hangisi getirilmelidir?

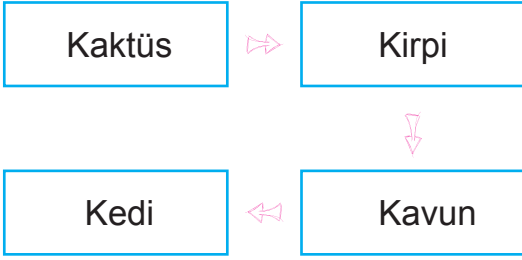


BİLSEM

**Deneme
Sınavı
Çözümleri**



40



Kelimelerin hepsinin baş harfleri aynıdır. O hâlde “?” yerine gelecek olan kelime “K” harfi ile başlamalıdır.

Doğru cevap E seçeneğidir.

41

Şubat	↔	Mart
İlkbahar	↔	Yaz
Perşembe	↔	Cuma

Şubattan sonra mart ayı, ilkbahardan sonra yaz mevsimi ve perşembeden sonra cuma günü gelir.

Doğru cevap E seçeneğidir.

42

- A) E Ş E K → EŞEK (Doğru)
- B) M A Ş A → MAŞA (Doğru)
- C) M E Ş E → MEŞE (Doğru)
- D) K A Ş E → KAŞE (Doğru)
- E) Ş A K E → ŞAKE (Yanlış)
- F) Ş E M A → ŞEMA (Doğru)

Doğru cevap E seçeneğidir.

43

Öğretmen	↔	Okul
Avukat	↔	Adliye sarayı
Doktor	↔	Hastane

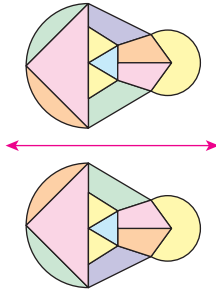
Öğretmen okulda çalışır. Avukat adliye-
de çalışır. Doktor hastanede çalışır.

Doğru cevap C seçeneğidir.

çanın E seçeneğinde verildiğini görürüz. Ancak B seçeneğinde verilen şekil, öncülde verilen şeklin parçalarından biri değildir.

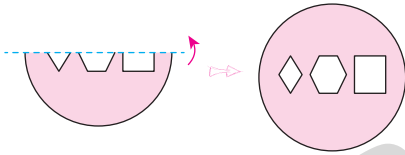
Doğru cevap B seçeneğidir.

16



Doğru cevap A seçeneğidir.

17



Doğru cevap C seçeneğidir.

18

A) Sol en alttaki ayçiçeği eksiktir.



B) Sağ en alttaki ayçiçeğinin yanındaki yapraklar eksiktir.



C) En üstte ortadaki ayçiçeği eksiktir.



D) Saksının yerde yanında bulunan otlar eksiktir.



E) Sol tarafta ortada bulunan ayçiçeği eksiktir.



F) Çiçeğin tam gölgesi verilmiştir.



Doğru cevap F seçeneğidir.

19 Küpün farklı yönlerden verilen görünüşlerine göre;

3	-	5	} yüzleri karşılıklıdır.
2	-	6	
1	-	4	

Buna göre küpün "?" ile gösterilen yüzüne 1 sayısı gelmelidir.

Doğru cevap A seçeneğidir.

EDITÖR YAYINEVİ

BİLSEM KONU KİTAPLARI

1. Sınıf BİLSEM Konu Anlatımlı
2. Sınıf BİLSEM Konu Anlatımlı
3. Sınıf BİLSEM Konu Anlatımlı
4. Sınıf BİLSEM Konu Anlatımlı

BİLSEM SORU KİTAPLARI

1. Sınıf BİLSEM Tamamı Çözümlü Soru Bankası
2. Sınıf BİLSEM Tamamı Çözümlü Soru Bankası
3. Sınıf BİLSEM Tamamı Çözümlü Soru Bankası
4. Sınıf BİLSEM Tamamı Çözümlü Soru Bankası

BİLSEM ŞEKİL YETENEĞİ KİTAPLARI

1. Sınıf BİLSEM Tamamı Çözümlü Şekil Yeteneği
2. Sınıf BİLSEM Tamamı Çözümlü Şekil Yeteneği
3. Sınıf BİLSEM Tamamı Çözümlü Şekil Yeteneği
4. Sınıf BİLSEM Tamamı Çözümlü Şekil Yeteneği

BİLSEM DENEME SINAVI KİTAPLARI

1. Sınıf BİLSEM Tamamı Çözümlü 5 Deneme Sınavı
2. Sınıf BİLSEM Tamamı Çözümlü 5 Deneme Sınavı
3. Sınıf BİLSEM Tamamı Çözümlü 5 Deneme Sınavı
4. Sınıf BİLSEM Tamamı Çözümlü 5 Deneme Sınavı



Tüm BİLSEM kitaplarının içeriklerini görmek için karekodu okutunuz.



İvedik Organize Sanayi 1518 Sok. Matbaacılar Sitesi
Mat-Sit İş Merkezi No.:2/20 Yenimahalle / ANKARA
Telefon: 0 312 384 20 33 Belgegeçer: 0312 342 23 58
WhatsApp: 0 505 925 57 81
www.editoryayinevi.com | bilgi@editoryayinevi.com

ISBN 978-605-280-480-3

