

2.SINIF

Bilim ve Sanat Merkezleri Öğrenci Seçme Sınavı

BİLSEM

Tamamı Çözümlü
SORU BANKASI



Şekil Yeteneği

Sözel Yetenek



Sayısal Yetenek

Görsel Hafıza



BNV Testine Uygun



BİLSEM ÇÖZÜMLÜ SORU BANKASI

EDİTÖR

Turgut MEŞE

YAZAR

Komisyon

Bütün hakları Editör Yayınevine aittir. Yayıncının izni olmaksızın kitabın tümünün veya bir kısmının elektronik, mekanik ya da fotokopi yoluyla basımı, çoğaltılması ve dağıtımını yapılamaz.

Sertifika No:

40447

KAPAK TASARIMI

Editör Yayınevi Dizgi Ekibi

SAYFA TASARIMI

Editör Yayınevi Tasarım Ekibi

BASKI VE CİLT

Özgür Web
Matbaacılık ANKARA



İLETİŞİM

İvedik Organize Sanayi Matbaacılar Sitesi

1518 Sok. Mat-Sit İş Merkezi No:2/20

Yenimahalle / ANKARA

Tel: 0 312 384 20 33 - 0 505 925 57 81

Fax: 0312 342 23 58

www.editoryayinevi.com

ÖN SÖZ

Geleceğin Parlayan Yıldızları,

Bu kitap Milli Eğitim Bakanlığının yaptığı BİLSEM sınavına uygun olarak hazırlanmıştır. Derslerde daha başarılı ve aktif olmanızı sağlayan birçok özelliğe sahiptir. Bakanlık tarafından her yıl yapılan "Bilim ve Sanat Merkezlerine Öğrenci Seçme Sınavı"na (BİLSEM) hazırlanmak için gerekli olan tüm bilgi ve yöntemleri bu kitapta bulacaksınız. Bilginin yanı sıra mukayese, muhakeme ve yorum yeteneği kazanacaksınız.

Eğlenceli ve görsel içeriğiyle sizlere neşeli bir çalışma imkânı sunan bu kitap, geleceğe yönelik hayallerinizin ve ideallerinizin ilk basamağı olacak.

Editör Yayınevi, ilkokuldan üniversiteye, eğitim hayatınızın her aşamasında yanınızda olacaktır.

Editör Yayınevi
www.editoryayinevi.com

İÇİNDEKİLER

🔒 ŞEKİL YETENEĞİ SORULARI

KURALLI ŞEKİLLER (MATRİS)	7
TEST 1.....	7
TEST 2.....	11
DESEN TAMAMLAMA.....	15
TEST 3.....	15
TEST 4.....	19
SERİ TAMAMLAMA (ÖRÜNTÜ).....	23
TEST 5.....	23
TEST 6.....	27
YANSIMA - SİMETRİ	31
TEST 7.....	31
TEST 8.....	35
GÖLGE EŞLEŞTİRME	39
TEST 9.....	39
BENZEME - BENZEMEME.....	42
TEST 10.....	42
TEST 11.....	45
KUŞ BAKIŞI (ÜSTTEN GÖRÜNÜM) - GÖRÜNÜM 48	
TEST 12.....	48
KÜPÜN AÇINIMI VE KÜP SAYMA.....	51
TEST 13.....	51
DÖNDÜRÜLEN ŞEKİLLER.....	54
TEST 14.....	54
KATLAMA - KESME - AÇMA	57
TEST 15.....	57
ŞEKİLLERİ GRUPLAMA.....	60
TEST 16.....	60
BÜTÜNÜ OLUŞTURMA.....	63
TEST 17.....	63
ŞEKLE AİT PARÇAYI BULMA	66
TEST 18.....	66
SÜSLEME.....	69
TEST 19.....	69

🔒 SÖZEL YETENEK SORULARI

GÖRSEL BENZEŞİM	75
TEST 1.....	75
TEST 2.....	78
KAVRAM İLİŞKİLENDİRME	81
TEST 3.....	81
SÖZEL BENZEŞİM.....	83
TEST 4.....	83
SÖZEL ŞİFRELEME.....	85
TEST 5.....	85

🔒 SAYISAL YETENEK SORULARI

MATRİS MANTIK	91
TEST 1.....	91
SUDOKU.....	94
TEST 2.....	94
ŞİFRELEME.....	97
TEST 3.....	97
ZEKA SORULARI	99
TEST 4.....	99

ŞEKİL YETENEĞİ ÇÖZÜMLERİ

KURALLI ŞEKİLLER (MATRİS)	104
TEST 1 ÇÖZÜMLERİ	104
TEST 2 ÇÖZÜMLERİ.....	107
DESEN TAMAMLAMA	110
TEST 3 ÇÖZÜMLERİ.....	110
TEST 4 ÇÖZÜMLERİ.....	112
SERİ TAMAMLAMA (ÖRÜNTÜ)	114
TEST 5 ÇÖZÜMLERİ.....	114
TEST 6 ÇÖZÜMLERİ.....	116
YANSIMA - SİMETRİ	119
TEST 7 ÇÖZÜMLERİ	119
TEST 8 ÇÖZÜMLERİ.....	121
TEST 9 ÇÖZÜMLERİ.....	124
BENZEME - BENZEMEME	126
TEST 10 ÇÖZÜMLERİ	126
TEST 11 ÇÖZÜMLERİ.....	128
TEST 12 ÇÖZÜMLERİ	131
KÜPÜN AÇINIMI VE KÜP SAYMA	133
TEST 13 ÇÖZÜMLERİ	133
DÖNDÜRÜLEN ŞEKİLLER	136
TEST 14 ÇÖZÜMLERİ	136
KATLAMA - KESME - AÇMA	139
TEST 15 ÇÖZÜMLERİ	139
ŞEKİLLERİ GRUPLAMA	141
TEST 16 ÇÖZÜMLERİ	141
BÜTÜNÜ OLUŞTURMA	143
TEST 17 ÇÖZÜMLERİ	143
ŞEKLE AİT PARÇAYI BULMA	145
TEST 18 ÇÖZÜMLERİ	145
SÜSLEME	147
TEST 19 ÇÖZÜMLERİ	147

SÖZEL YETENEK ÇÖZÜMLERİ

GÖRSEL BENZEŞİM	151
TEST 1 ÇÖZÜMLERİ	151
TEST 2 ÇÖZÜMLERİ.....	153
KAVRAM İLİŞKİLENDİRME	155
TEST 3 ÇÖZÜMLERİ.....	155
SÖZEL BENZEŞİM	157
TEST 4 ÇÖZÜMLERİ.....	157
SÖZEL ŞİFRELEME	159
TEST 5 ÇÖZÜMLERİ.....	159

SAYISAL YETENEK ÇÖZÜMLERİ

MATRİS MANTIK	162
TEST 1 ÇÖZÜMLERİ	162
SUDOKU	165
TEST 2 ÇÖZÜMLERİ.....	165
ŞİFRELEME	168
TEST 3 ÇÖZÜMLERİ.....	168
ZEKA SORULARI	171
TEST 4 ÇÖZÜMLERİ.....	171
CEVAP ANAHTARI	175

ŞEKİL YETENEĞİ

EDITÖR YAKINERİ

Sayın öğretmenlerimiz, değerli velilerimiz ve sevgili öğrencilerimiz! BİLSEM sınavında çıkabilecek sorulara ve soru tarzlarına daha fazla yer verebilmek için bazı sorularımızı dört seçenekli olarak oluşturduk.

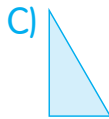

EDİTÖR YAYINEVİ

KURALLI ŞEKİLLER (MATRİS)

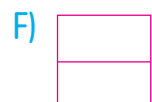
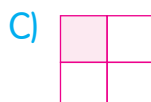



TEST 1

1.



2.

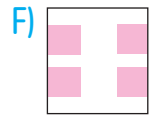
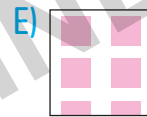
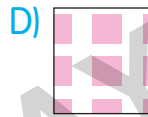
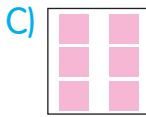
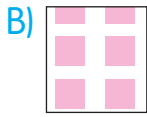
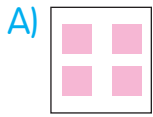



DESEN TAMAMLAMA

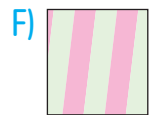
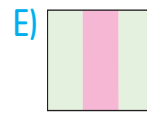


TEST 3

1.



2.

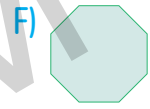
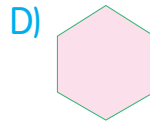
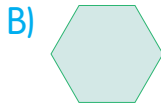
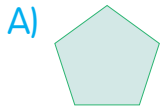
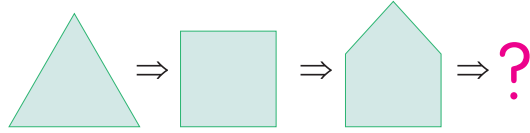


SERİ TAMAMLAMA (ÖRÜNTÜ)

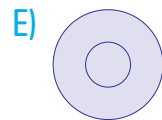
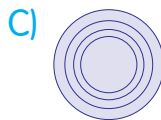
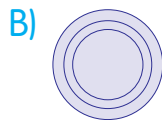
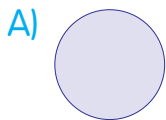
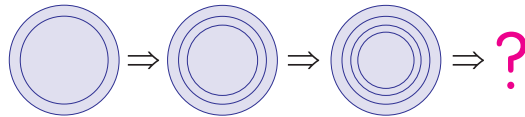


TEST 5

1.



2.

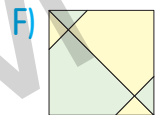
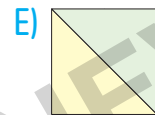
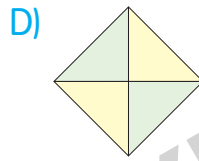
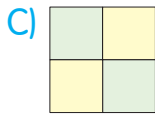
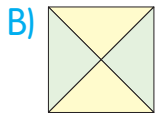
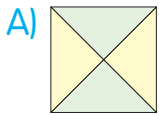
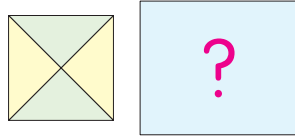


YANSIMA - SİMETRİ

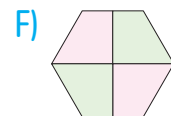
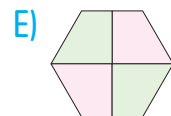
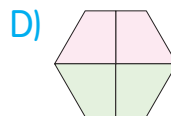
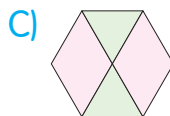
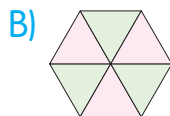
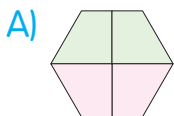
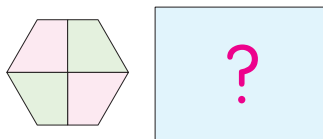


🔒 TEST 7


1.



2.

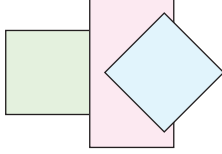


GÖLGE EŞLEŞTİRME

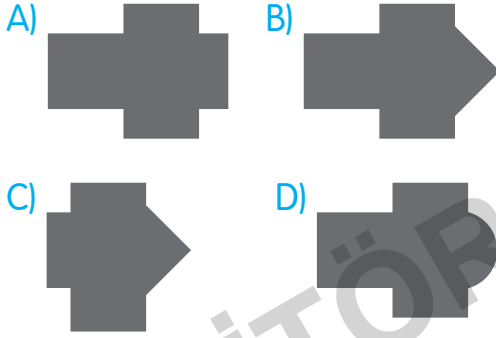


TEST 9

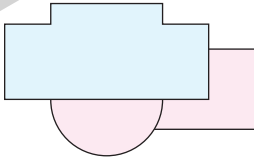
1.



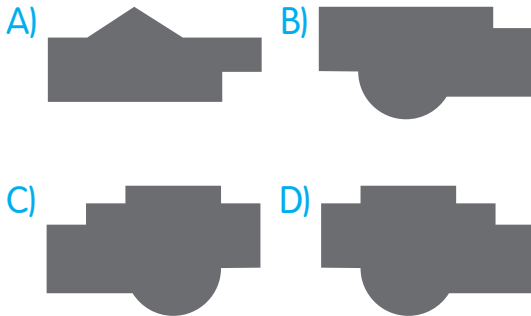
Aşağıdakilerden hangisi yukarıda verilen şeklin gölgesidir?



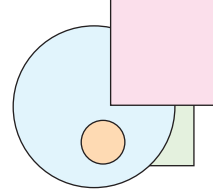
2.



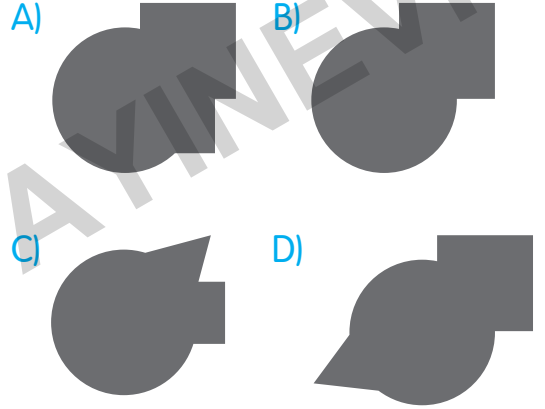
Aşağıdakilerden hangisi yukarıda verilen şeklin gölgesidir?



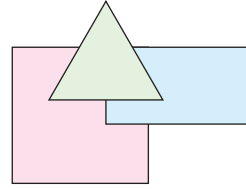
3.



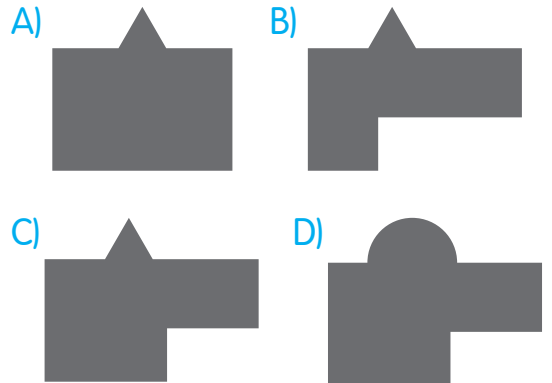
Aşağıdakilerden hangisi yukarıda verilen şeklin gölgesidir?



4.



Aşağıdakilerden hangisi yukarıda verilen şeklin gölgesidir?

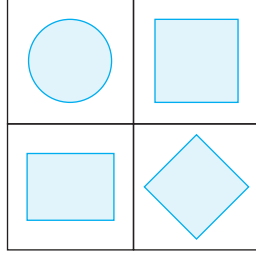


BENZEME - BENZEMEME




TEST 10

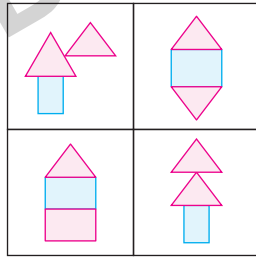
1.



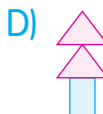
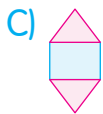
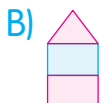
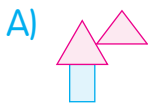
Yukarıda gösterilen şekillerden hangisi diğerlerine benzememektedir?



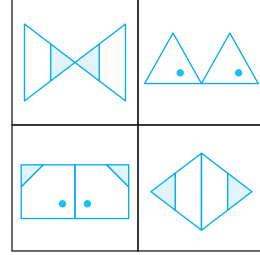
2.



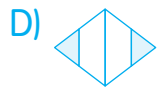
Yukarıda gösterilen şekillerden hangisi diğerlerine benzememektedir?



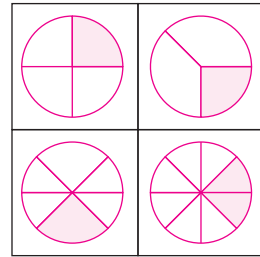
3.



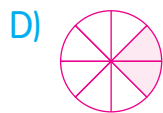
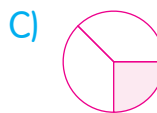
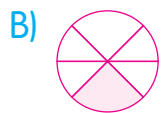
Yukarıda gösterilen şekillerden hangisi diğerlerine benzememektedir?



4.

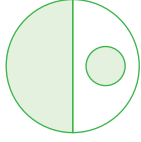


Yukarıda gösterilen şekillerden hangisi diğerlerine benzememektedir?



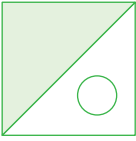
TEST 11

1.

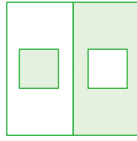


Yukarıdaki şekil aşağıdakilerden hangisine benzemektedir?

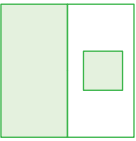
A)



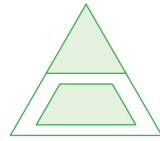
B)



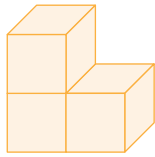
C)



D)

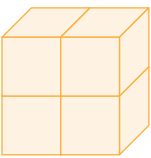


2.

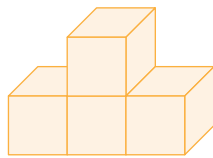


Yukarıdaki şekil aşağıdakilerden hangisine benzemektedir?

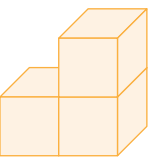
A)



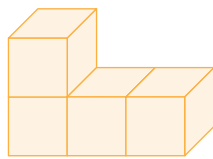
B)



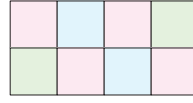
C)



D)

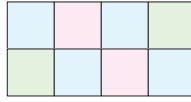


3.

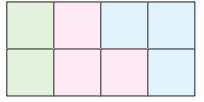


Yukarıdaki şekil aşağıdakilerden hangisine benzemektedir?

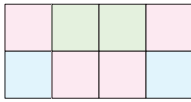
A)



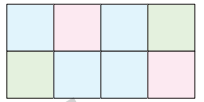
B)



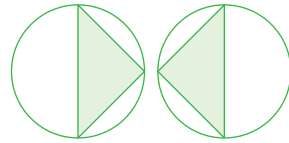
C)



D)

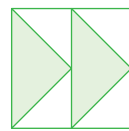


4.

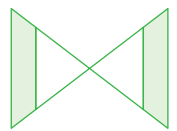


Yukarıdaki şekil aşağıdakilerden hangisine benzemektedir?

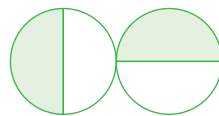
A)



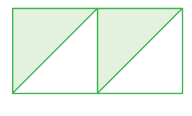
B)



C)



D)

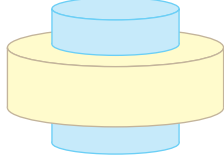


KUŞ BAKIŞI (ÜSTTEN GÖRÜNÜM) - GÖRÜNÜM

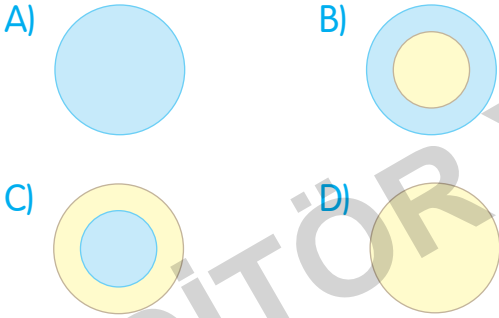


TEST 12

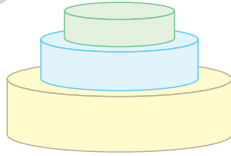
1.



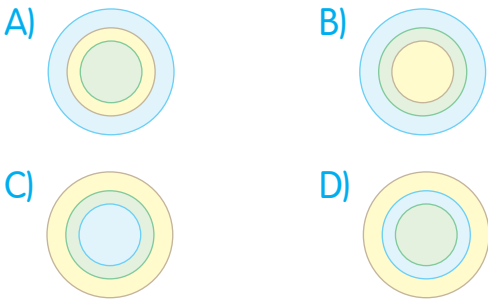
Yukarıda gösterilen şeklin kuş bakışı görünümü aşağıdakilerden hangisidir?



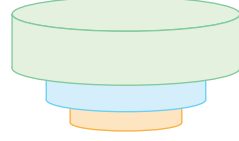
2.



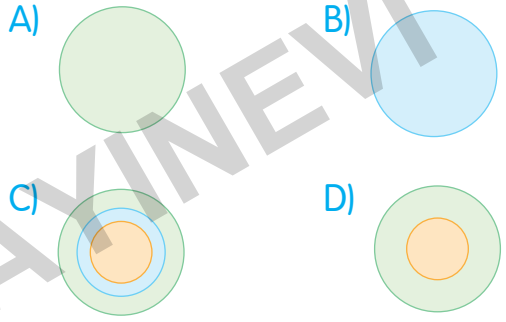
Yukarıda gösterilen şeklin kuş bakışı görünümü aşağıdakilerden hangisidir?



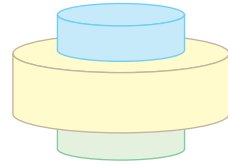
3.



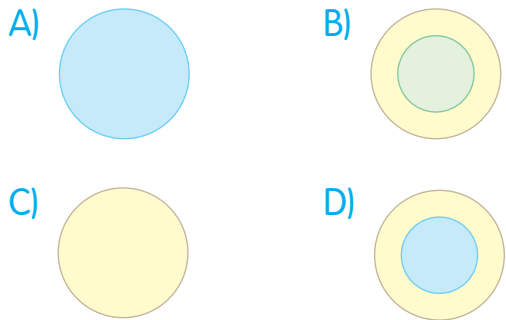
Yukarıda gösterilen şeklin kuş bakışı görünümü aşağıdakilerden hangisidir?




4.



Yukarıda gösterilen şeklin kuş bakışı görünümü aşağıdakilerden hangisidir?

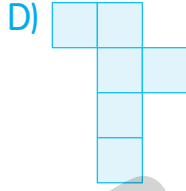
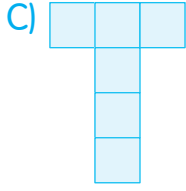
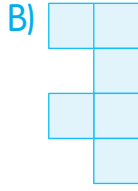
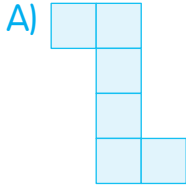


KÜPÜN AÇINIMI VE KÜP SAYMA

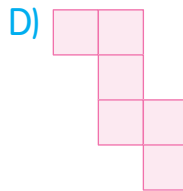
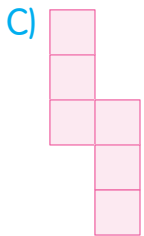
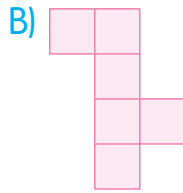
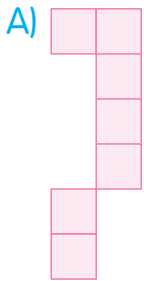


TEST 13

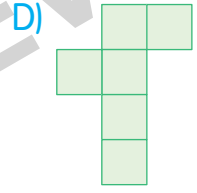
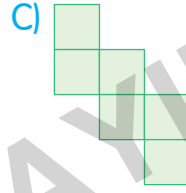
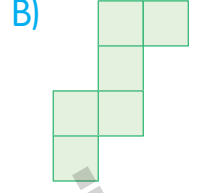
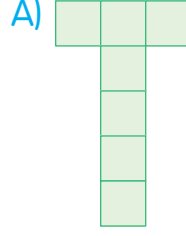
1. Aşağıdaki şekillerden hangisi küpün açılımı **değildir**?



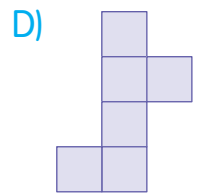
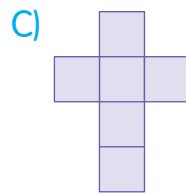
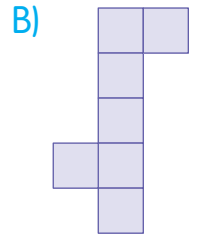
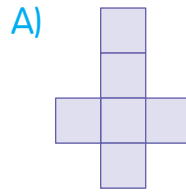
2. Aşağıdakilerden hangisi küpün açılımı **değildir**?



3. Aşağıdakilerden hangisi küpün açılımı **değildir**?



4. Aşağıdakilerden hangisi küpün açılımı **değildir**?

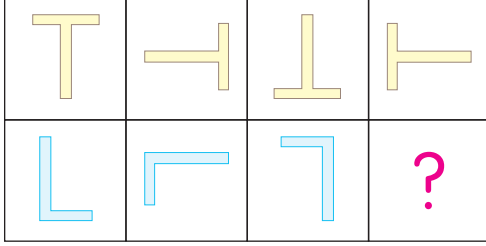


DÖNDÜRÜLEN ŞEKİLLER



TEST 14


1.



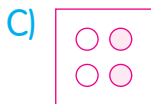
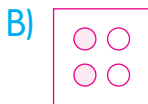
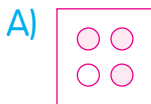
Yukarıda verilenlere göre "?" yerine aşağıdakilerden hangisi gelmelidir?



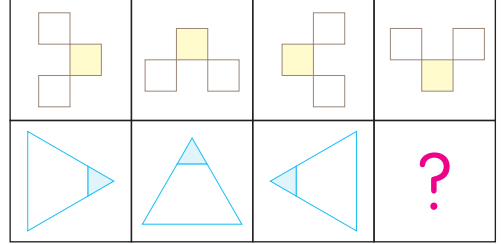
2.



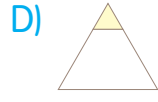
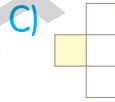
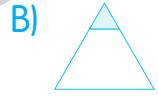
Yukarıda verilenlere göre "?" yerine aşağıdakilerden hangisi gelmelidir?




3.



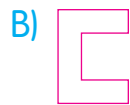
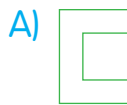
Yukarıda verilenlere göre "?" yerine aşağıdakilerden hangisi gelmelidir?



4.



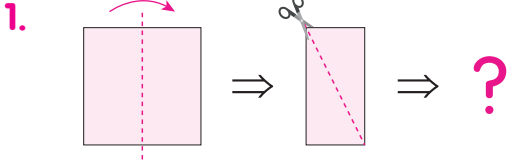
Yukarıda verilenlere göre "?" yerine aşağıdakilerden hangisi gelmelidir?



KATLAMA - KESME - AÇMA

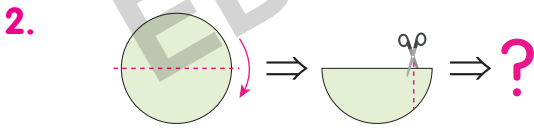
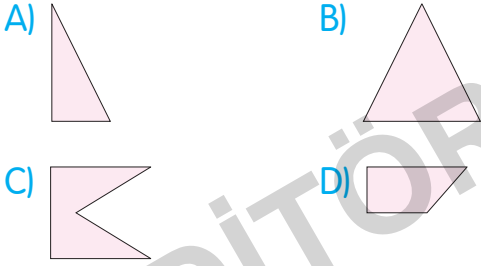


TEST 15



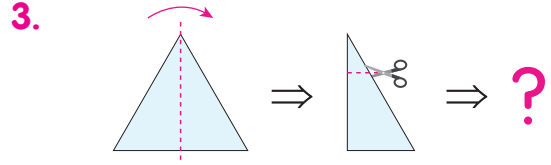
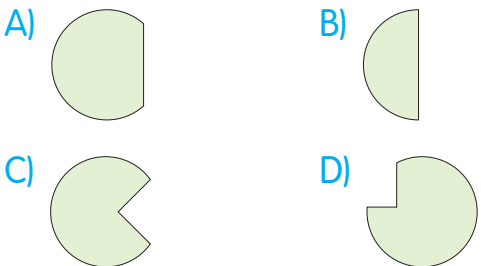
Yukarıda gösterilen kâğıt ikiye katlanıp kesilip tekrar açılıyor.

Kağıdın son hâli aşağıdakilerden hangisi olur?



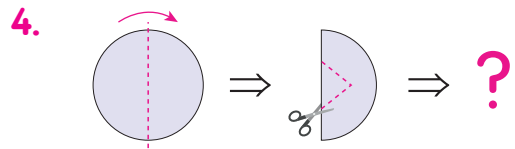
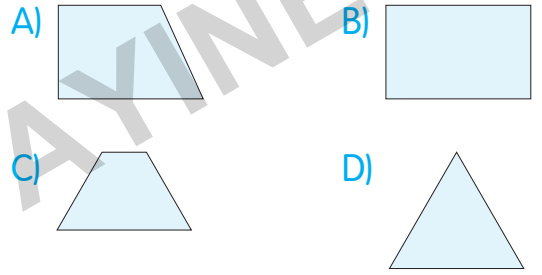
Yukarıda gösterilen kâğıt ikiye katlanıp kesilip tekrar açılıyor.

Kağıdın son hâli aşağıdakilerden hangisi olur?



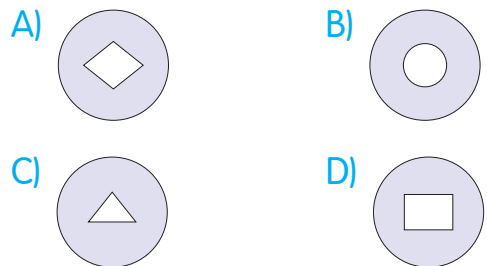
Yukarıda gösterilen kâğıt ikiye katlanıp kesilip tekrar açılıyor.

Kağıdın son hâli aşağıdakilerden hangisi olur?



Yukarıda gösterilen kâğıt ikiye katlanıp kesilip tekrar açılıyor.

Kağıdın son hâli aşağıdakilerden hangisi olur?

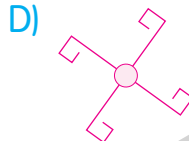
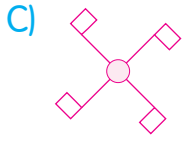
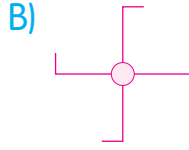
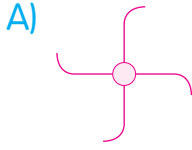


ŞEKİLLERİ GRUPLAMA

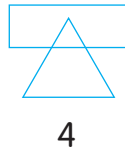
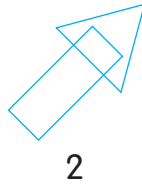
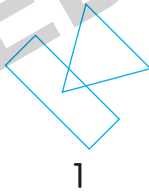


TEST 16

1. Aşağıdaki şekiller belli bir kurala göre gruplandırılırsa hangi seçenekteki şekil grup dışında kalır?



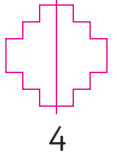
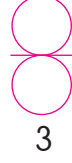
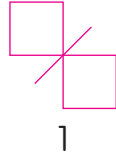
2.



Yukarıdaki şekiller belli bir kurala göre gruplandırılınca kaç numaralı şekil grup dışında kalır?

A) 1 B) 2 C) 3 D) 4


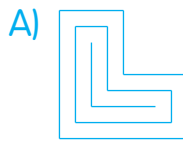
3.



Yukarıdaki şekiller belli bir özelliğe göre gruplandırılırsa hangisi gruplamanın dışında kalır?

A) 1 B) 2 C) 3 D) 4

4. Aşağıda verilen şekillerden bir tanesi, bir yönüyle diğerlerinden farklıdır. Buna göre farklı olan şekil aşağıdakilerden hangisidir?




BÜTÜNÜ OLUŞTURMA

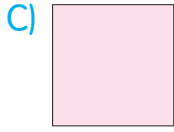

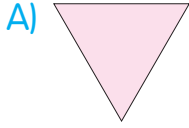


TEST 17

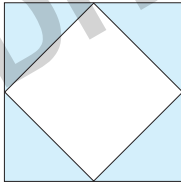
1.



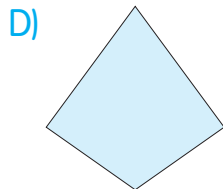
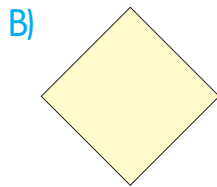
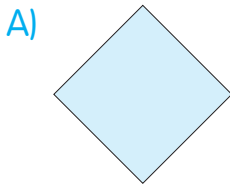
Yukarıda verilen şekli tamamlayan parça aşağıdakilerden hangisidir?



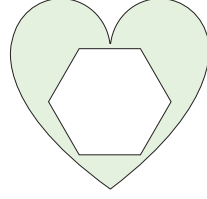
2.



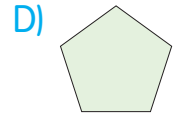
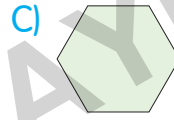
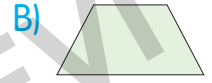
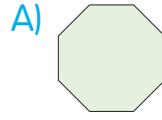
Yukarıda verilen şekli tamamlayan parça aşağıdakilerden hangisidir?



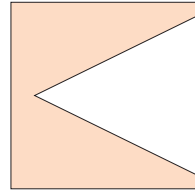
3.



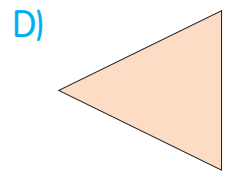
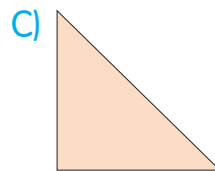
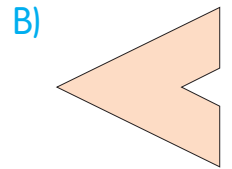
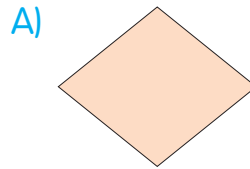
Yukarıda verilen şekli tamamlayan parça aşağıdakilerden hangisidir?



4.



Yukarıda verilen şekli tamamlayan parça aşağıdakilerden hangisidir?

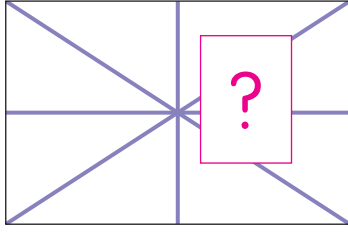


ŞEKLE AİT PARÇAYI BULMA

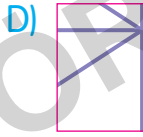
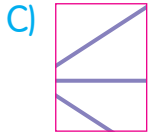
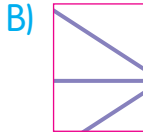
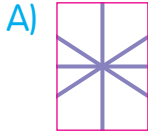


TEST 18

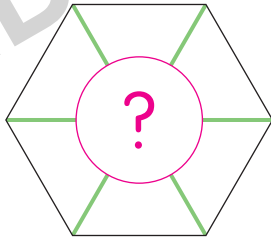
1.



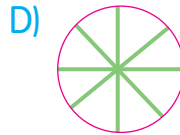
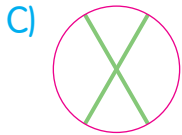
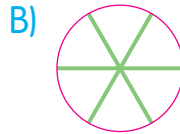
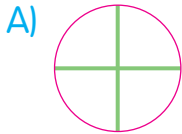
Yukarıda "?" ile gösterilen yere aşağıdakilerden hangisi gelmelidir?




2.



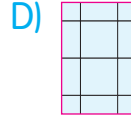
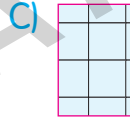
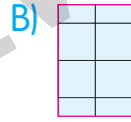
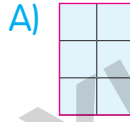
Yukarıda "?" ile gösterilen yere aşağıdakilerden hangisi gelmelidir?



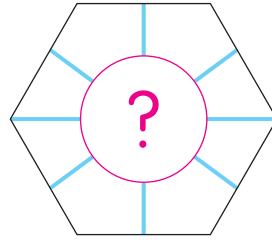
3.



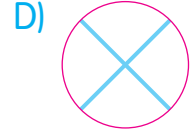
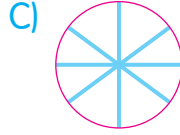
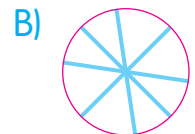
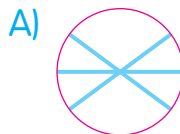
Yukarıda "?" ile gösterilen yere aşağıdakilerden hangisi gelmelidir?



4.




Yukarıda "?" ile gösterilen yere aşağıdakilerden hangisi gelmelidir?


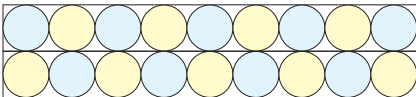




SÜSLEME

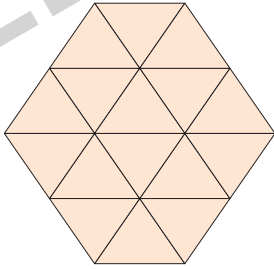


TEST 19


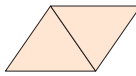
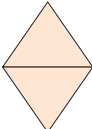
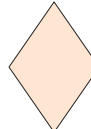
1. Aşağıdaki süslemelerden hangisi  şekli ile elde edilmiştir?

- A) 
- B) 
- C) 
- D) 

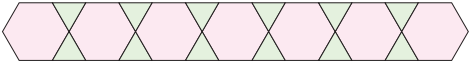
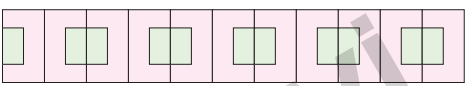

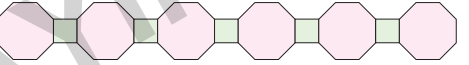
2.



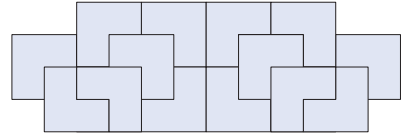
Yukarıdaki süslemenin en küçük birimi aşağıdakilerden hangisidir?

- A) 
- B) 
- C) 
- D) 





3. Aşağıdaki süslemelerden hangisi sadece bir şekil kullanılarak elde edilmiştir?

- A) 
- B) 
- C) 
- D) 

4.



Yukarıdaki süslemeyi oluşturan en küçük parça aşağıdakilerden hangisidir?

- A) 
- B) 
- C) 
- D) 


SÖZEL YETENEK

EDITÖR M. AYDIN

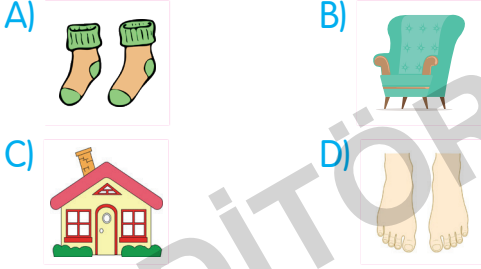
GÖRSEL BENZEŞİM

TEST 1

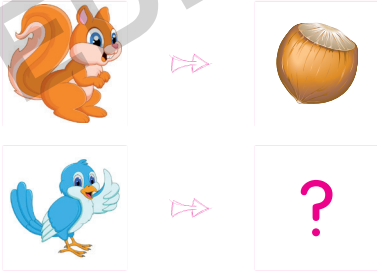
1.



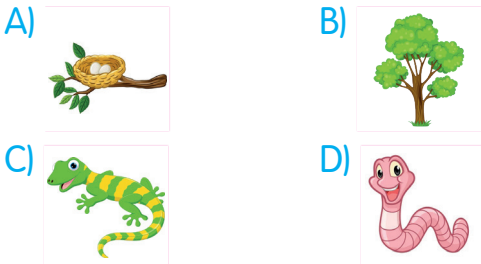
Yukarıdaki ilişkiye göre "?" ile gösterilen yere aşağıdaki görsellerden hangisi getirilmelidir?



2.



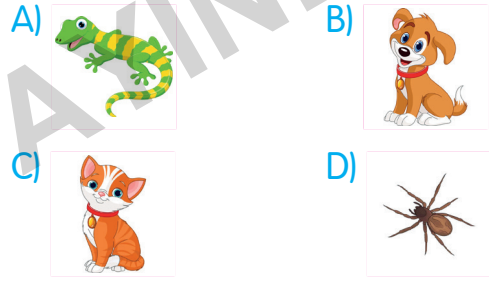
Yukarıdaki ilişkiye göre "?" ile gösterilen yere aşağıdaki görsellerden hangisi getirilmelidir?




3.



Yukarıdaki ilişkiye göre "?" ile gösterilen yere aşağıdaki görsellerden hangisi getirilmelidir?



4.



Yukarıdaki ilişkiye göre "?" ile gösterilen yere aşağıdaki görsellerden hangisi getirilmelidir?



KAVRAM İLİŞKİLENDİRME



TEST 3

1. Hangi seçenekteki kavramlar arasında diğerlerinden farklı bir ilişki vardır?
A) Gül - Çiçek
B) Haziran - Yaz
C) Karpuz - Meyve
D) Serçe - Kuş
2. Hangi seçenekteki kavramlar arasında diğerlerinden farklı bir ilişki vardır?
A) Burun - Koklamak
B) Dil - Tatmak
C) Göz - Görmek
D) Kalp - Atmak
3. Hangi seçenekteki kavramlar arasında diğerlerinden farklı bir ilişki vardır?
A) Dolap - Tahta
B) Bardak - Cam
C) Ayakkabı - Deri
D) Elbise - Terzi
4. Hangi seçenekteki kavramlar arasında diğerlerinden farklı bir ilişki vardır?
A) Tavuk - Cıvıvı
B) İnek - Dana
C) Köpek Balığı - Hamsi
D) At - Tay
5. Hangi seçenekteki kavramlar arasında diğerlerinden farklı bir ilişki vardır?
A) Ak - Kara
B) Acı - Tatlı
C) Sevgi - Nefret
D) Mutlu - Mutsuz
6. Hangi seçenekteki kavramlar arasında diğerlerinden farklı bir ilişki vardır?
A) Pilot - Hostes
B) Öğretmen - Öğrenci
C) Doktor - Hasta
D) Şoför - Yolcu

SÖZEL BENZEŞİM

TEST 4

1. Bisiklet ⇨ Binmek

Paraşüt ⇨ ?

Yukarıdaki ilişkiye göre "?" ile gösterilen yere aşağıdaki görsellerden hangisi getirilmelidir?

A) Sürmek B) Atlamak

C) Uçmak D) Binmek

2. Balık ⇨ Akvaryum

Kuş ⇨ ?

Yukarıdaki ilişkiye göre "?" ile gösterilen yere aşağıdaki görsellerden hangisi getirilmelidir?

A) Kafes B) Deniz

C) Uçmak D) Güvercin

3. Kol ⇨ Dirsek

Bacak ⇨ ?

Yukarıdaki ilişkiye göre "?" ile gösterilen yere aşağıdaki görsellerden hangisi getirilmelidir?

A) Ayak B) Diz

C) El D) Eklem

4. Mikrofon ⇨ Ağız

Dürbün ⇨ ?

Yukarıdaki ilişkiye göre "?" ile gösterilen yere aşağıdaki görsellerden hangisi getirilmelidir?

A) Bakmak B) Söylemek

C) Göz D) Gözlük

5. Halhal ⇨ Ayak bileği

Yüzük ⇨ ?

Yukarıdaki ilişkiye göre "?" ile gösterilen yere aşağıdaki görsellerden hangisi getirilmelidir?

A) Parmak B) El

C) Takmak D) Kolye

6. Bisiklet ⇨ Bisiklet Yolu

Tren ⇨ ?

Yukarıdaki ilişkiye göre "?" ile gösterilen yere aşağıdaki görsellerden hangisi getirilmelidir?

A) Hava Yolu B) Kara Yolu

C) Ray D) Deniz Yolu

SÖZEL ŞİFRELEME

TEST 5

1.

TAVUK





Yukarıdaki sözcüğün sayısal karşılığı aşağıdakilerden hangisidir?

- A) 15372 B) 20504
C) 38973 D) 55042

2.

HER ŞEY

Yukarıdaki sözcüğün geometrik şekillerle şifrelenmiş karşılığı aşağıdakilerden hangisidir?

- A) 
B) 
C) 
D) 

3.

EYLÜL

Yukarıdaki sözcüğün sayısal karşılığı aşağıdakilerden hangisidir?

- A) 30246 B) 54313
C) 89501 D) 92935

4.

Üzüm Mekân Nakış ?

Yukarıdaki kurala göre boş bırakılan kutucuğa hangi sözcük getirilmelidir?

- A) Karışık B) Nane
C) Kaçış D) Şemsiye

5.

Alarm Altıncı Alaca ?

Yukarıdaki kurala göre boş bırakılan kutucuğa hangi sözcük getirilmelidir?

- A) Acele B) Acılı
C) Altın D) Araba

6.

Mazot Pilot Metot ?

Yukarıdaki kurala göre boş bırakılan kutucuğa hangi sözcük getirilmelidir?

- A) Etek B) Robot
C) Tarak D) Matara

SAYISAL YETENEK

EDITÖR YAYINEVİ

MATRİS MANTIK



TEST 1

1.

15	8	9
5	12	?
20	20	20

Yukarıda verilenlere göre "?" yerine kaç yazılmalıdır?

A) 9

B) 11

C) 13

D) 15

2.

2	3	5
3	2	5
2	3	?

Yukarıda verilenlere göre "?" yerine kaç yazılmalıdır?

A) 5

B) 3

C) 5

D) 2

3.

8	9	11
15	16	18
2	15	?

Yukarıda verilenlere göre "?" yerine kaç yazılabilir?

A) 5

B) 10

C) 16

D) 17

4.

4	8	9
4	8	9
4	8	?

Yukarıda verilenlere göre "?" yerine kaç yazılmalıdır?

A) 9

B) 9

C) 8

D) 9

SUDOKU



TEST 2

1.

3	2	1	4
1	4	3	2
4	3	2	
2	1	4	?

Yukarıda gösterilen sudokuda "?" yerine kaç gelmelidir?

A) 1

B) 2

C) 3

D) 4

2.

10	20	30	40
30	?	10	20
20	30	40	10
40	10	20	30

Yukarıda gösterilen sudokuda "?" yerine kaç gelmelidir?

A) 10

B) 20

C) 30

D) 40

3.

5	10	15	20
15	20	5	10
10	15	?	5
20	5	10	15

Yukarıda gösterilen sudokuda "?" yerine kaç gelmelidir?

A) 5

B) 10

C) 15

D) 20

4.

6	4	2	8
2	8	6	4
8	6	?	2
4	2	8	6

Yukarıda gösterilen sudokuda "?" yerine kaç gelmelidir?

A) 1

B) 2

C) 3

D) 4

ŞİFRELEME

TEST 3

1. "KALABALIK" kelimesinin şifresi aşağıdakilerden hangisi olabilir?

- A) ★ ▲ ○ ▲ ■ ▲ ○ ★
B) ▲ ★ ○ ▲ ■ ★ ◆ ★ ▲
C) ★ ○ ▲ ○ ■ ★ ○ ★ ★
D) ○ ▲ ■ ★ ○ ★ ○ ■ ▲

2. "ELEK" kelimesinin şifresi aşağıdakilerden hangisi olabilir?

- A) ▲ ■ ○ ▲
B) 3 2 5 5
C) ○ ■ ○ ▲
D) 1 2 5 1

3. "ELMA" kelimesinin şifresi

☾ ◆ ■ ▲ olduğuna göre ELMAS kelimesindeki S harfinin karşılığı aşağıdakilerden hangisi olabilir?

- A) ◆ B) ■ C) ★ D) ▲

4.

$$\begin{array}{r} 4 \text{ } \text{○} \text{ } \text{■} \\ + \text{ } \text{▲} \text{ } 3 \text{ } 2 \\ \hline 8 \text{ } 8 \text{ } 5 \end{array}$$

Yukarıdaki işleme göre

○ + ■ + ▲ işleminin sonucu kaçta eşittir?

- A) 15 B) 14 C) 13 D) 12

5.

$$\begin{array}{r} 5 \text{ } \text{■} \text{ } \text{★} \\ - \text{ } \text{○} \text{ } 2 \text{ } 1 \\ \hline 1 \text{ } 5 \text{ } 7 \end{array}$$

Yukarıdaki işleme göre

■ + ★ + ○ işleminin sonucu kaçta eşittir?

- A) 19 B) 15 C) 13 D) 11

6.



Aşağıdaki şifrelerden hangisi yukarıdaki görselin şifresi olabilir?

- A) ABBCCDBA
B) BAADABCC
C) ACCBCABB
D) ACCBAACB

ZEKA SORULARI

TEST 4

1.

10	8	6
5	4	3
5	4	?

Yukarıda verilen "?" yerine kaç yazılmalıdır?

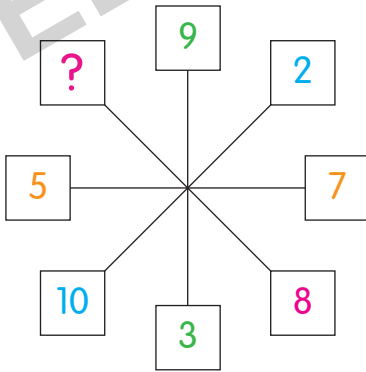
A) 6

B) 3

C) 6

D) 3

2.



Yukarıda verilen "?" yerine kaç yazılmalıdır?

A) 4

B) 5

C) 4

D) 6

3.

2	4	6	8
3	6	9	12
4	8	12	16
5	10	?	20

Yukarıda verilen "?" yerine kaç yazılmalıdır?

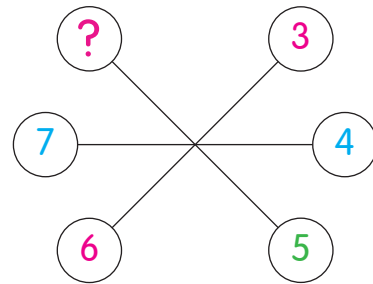
A) 10

B) 20

C) 15

D) 20

4.



Yukarıda verilen "?" yerine kaç yazılmalıdır?

A) 3

B) 6

C) 7

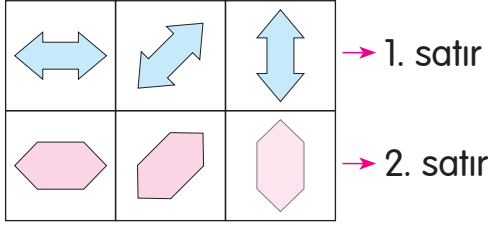
D) 8

ÇÖZÜMLER

EDITÖR M. Y. İNEVİ

TEST 2 ÇÖZÜMLERİ

Çözüm 1:

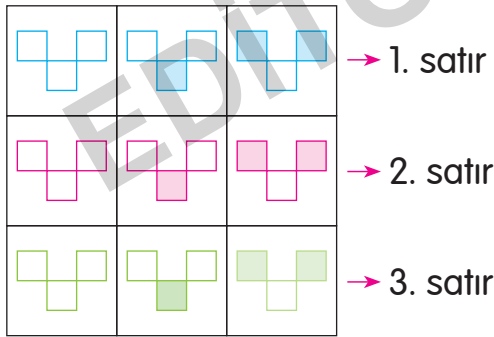


1. satırdaki şekillerin rengi mavi,
2. satırdaki şekillerin rengi pembe dir.
Sütunlardaki şekillerin duruşu ve yönü aynıdır.

? = "" olmalıdır.

Doğru cevap F seçeneğidir.

Çözüm 2:



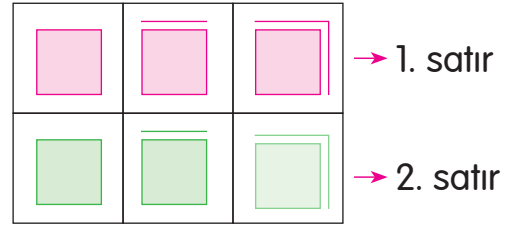
1. satırdaki şekillerin rengi mavi,
2. satırdaki şekillerin rengi pembe,
3. satırdaki şekillerin rengi yeşildir.

Sütunlardaki şekillerin aynı parçaları boyanmıştır. 3. sütundaki şekillerin üst iki köşesi boyanmıştır.

? = "" olmalıdır.

Doğru cevap E seçeneğidir.

Çözüm 3:



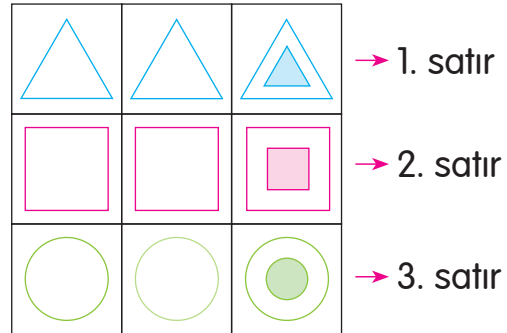
1. satırdaki şekiller pembe,
2. satırdaki şekiller yeşildir.

Satırın başında boyalı alan kareye önce üst kenar, daha sonra sağ yan kenar çizilmiştir.

? = "" olmalıdır.

Doğru cevap E seçeneğidir.

Çözüm 4:



1. satırdaki şekiller mavi,
2. satırdaki şekiller pembe,
3. satırdaki şekiller ise yeşildir.

Satırlarda bulunan ilk iki şekil birbirinin aynısıdır.

? = "" olmalıdır.

Doğru cevap D seçeneğidir.

TEST 2 ÇÖZÜMLERİ**Çözüm 1:**

Penguenler buzullarda yaşar. O hâlde seçenekler arasından denizde yaşayan bir canlıyı seçmemiz gerekir. Ahıtapot denizde yaşar.

Doğru cevap A seçeneğidir.

Çözüm 2:

Tırtıl büyüdüğünde kelebeğe dönüşür. Buna göre soru işareti yerine tavuk resmi gelmelidir. Çünkü civciv büyüdüğünde tavuğa dönüşecektir.

Doğru cevap C seçeneğidir.

Çözüm 3:

Bina ile ev aynı işlevi görür. İkisi de barınak olarak kullanılır. Ancak bina, evden kapasite olarak daha büyüktür. O hâlde soru işareti yerine taksiden daha büyük bir taşıma aracı gelmelidir. Otobüs, kapasite olarak taksiden daha büyüktür ve taksiyle aynı işlevi görür.

Doğru cevap C seçeneğidir.

Çözüm 4:

Havlu ve küvet, banyoda kullanılan eşyalardır. Çaydanlık ise mutfakta kullanılan araç - gereçlerden biridir. O hâlde demliğin yanındaki soru işareti yerine mutfakta kullanılan bir araç gelmelidir. Seçeneklere bakarsak tabak da mutfaktaki araç - gereçlerden biridir.

Doğru cevap B seçeneğidir.

Çözüm 5:

Hortum, itfaiyecilerin kullandığı araç - gereçlerdendir. Buna göre soru işareti yerine enjektör kullanan bir personel getirilmelidir. Enjektörü hemşireler ve doktorlar kullanır.

Doğru cevap D seçeneğidir.

Çözüm 6:

Direksiyon, arabanın hareket etmesini sağlayan bir parçasıdır. Buna göre soru işareti yerine kayığın hareket etmesini sağlayan bir parça getirilmelidir. Kayık, kayık kürekleri ile hareket ettirilir.

Doğru cevap B seçeneğidir.

EDITÖR YAYINEVİ

BİLSEM KONU KİTAPLARI

1. Sınıf BİLSEM Konu Anlatımlı
2. Sınıf BİLSEM Konu Anlatımlı
3. Sınıf BİLSEM Konu Anlatımlı
4. Sınıf BİLSEM Konu Anlatımlı

BİLSEM SORU KİTAPLARI

1. Sınıf BİLSEM Tamamı Çözümlü Soru Bankası
2. Sınıf BİLSEM Tamamı Çözümlü Soru Bankası
3. Sınıf BİLSEM Tamamı Çözümlü Soru Bankası
4. Sınıf BİLSEM Tamamı Çözümlü Soru Bankası

BİLSEM ŞEKİL YETENEĞİ KİTAPLARI

1. Sınıf BİLSEM Tamamı Çözümlü Şekil Yeteneği
2. Sınıf BİLSEM Tamamı Çözümlü Şekil Yeteneği
3. Sınıf BİLSEM Tamamı Çözümlü Şekil Yeteneği
4. Sınıf BİLSEM Tamamı Çözümlü Şekil Yeteneği

BİLSEM DENEME SINAVI KİTAPLARI

1. Sınıf BİLSEM Tamamı Çözümlü 5 Deneme Sınavı
2. Sınıf BİLSEM Tamamı Çözümlü 5 Deneme Sınavı
3. Sınıf BİLSEM Tamamı Çözümlü 5 Deneme Sınavı
4. Sınıf BİLSEM Tamamı Çözümlü 5 Deneme Sınavı



Tüm BİLSEM kitaplarının içeriklerini görmek için
karekodu okutunuz.



İvedik Organize Sanayi 1518 Sok. Matbaacılar Sitesi
Mat-Sit İş Merkezi No.:2/20 Yenimahalle / ANKARA
Telefon: 0 312 384 20 33 Belgegeçer: 0312 342 23 58
WhatsApp: 0 505 925 57 81
www.editoryayinevi.com | bilgi@editoryayinevi.com

ISBN 978-605-280-460-5



9 786052 804605