

**2. SINIF**

**BİLSEM**

**Bilim ve Sanat Merkezleri Öğrenci Seçme Sınavı**

**Fasiküllü  
TAMAMI ÇÖZÜMLÜ**

**3**

**DENEME SINAVI**



Bilim ve Sanat Merkezleri  
Öğrenci Seçme Sınavı

**BİLSEM**

MARKAJ YAYINLARI

1.

**DENEME**

Eğitimde Yakın  
**Markaj**  
yayınları

# BİLSEM DENEME SINAVLARI

## EDİTÖR

Turgut MEŞE

## YAZAR

Komasyon

Bütün hakları Markaj Yayınlarına aittir. Yayıncının izni olmaksızın kitabın tümünün veya bir kısmının elektronik, mekanik ya da fotokopi yoluyla basımı, çoğaltılması ve dağıtımı yapılamaz.

## Sertifika No:

40447

## KAPAK TASARIMI

Markaj Dizgi Ekibi

## SAYFA TASARIMI

Markaj Tasarım Ekibi

## BASKI VE CİLT

Özgür Web Matbaacılık  
ANKARA



## İLETİŞİM

İvedik Organize Sanayi Matbaacılar Sitesi

1518 Sok. Mat-Sit İş Merkezi No:2/20

Yenimahalle / ANKARA

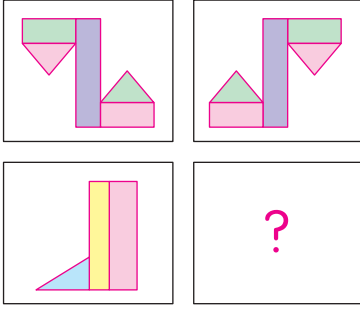
Tel: 0 312 384 20 33 - 0 505 925 57 81

WhatsApp: 0312 342 23 58

[www.markajyayinlari.com](http://www.markajyayinlari.com)

[markajyayinlari@gmail.com](mailto:markajyayinlari@gmail.com)

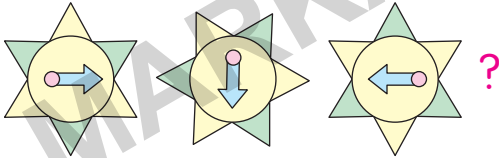
5



Yukarıda verilenlere göre “?” ile gösterilen yere aşağıdakilerden hangisi gelmelidir?

- A) B) C) D) E) F)

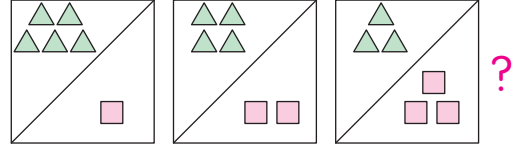
6



Yukarıda “?” ile gösterilen yere aşağıdakilerden hangisi gelmelidir?

- A) B) C) D) E) F)


7



Yukarıda “?” ile gösterilen yere aşağıdakilerden hangisi gelmelidir?

- A) B) C) D) E) F)

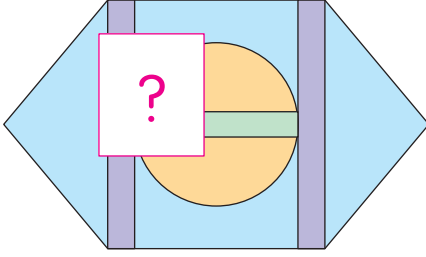
8



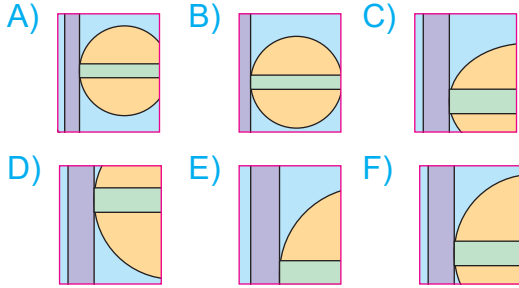
Yukarıda verilenlere göre “?” ile gösterilen yere aşağıdakilerden hangisi getirilmelidir?

- A) B) C) D) E) F)

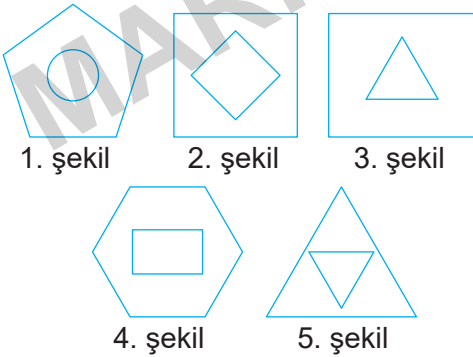
16



Yukarıda “?” ile gösterilen yere hangi parça getirilerek şekil tamamlanmalıdır?



17

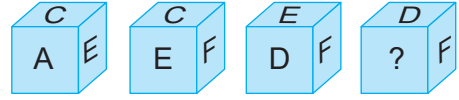


Yukarıda verilen şekillerden iki tanesi benzer özelliklere sahiptir.

Buna göre benzer özelliklere sahip olan şekiller hangi seçenekte doğru verilmiştir?

- A) 2 ve 4    B) 3 ve 4    C) 1 ve 3  
D) 2 ve 5    E) 2 ve 3    F) 4 ve 5

18

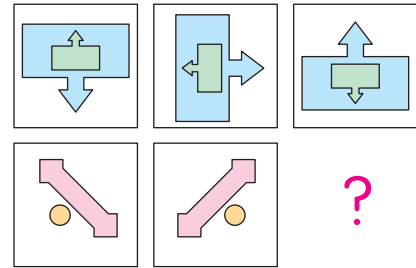


Yukarıda verilen 1. şekil, 2. şekil ve 3. şekil küp şeklinin farklı konumlardaki görünümüdür. Küpün üzerinde A, B, C, D, E, F harfleri bulunmaktadır.

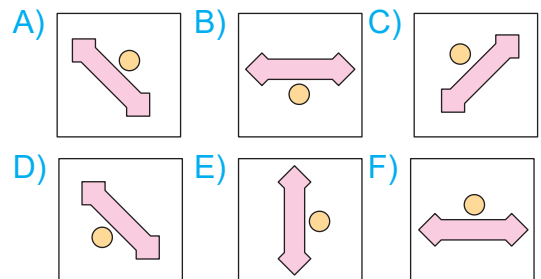
Buna göre küpün son konumundaki görünümünde “?” yerine hangi harf gelmelidir?

- A) E    B) A    C) D  
D) C    E) F    F) B

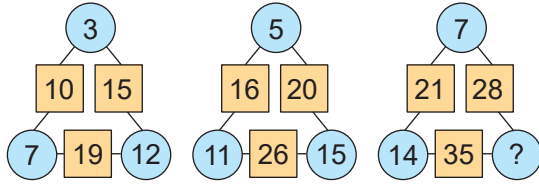
19



Yukarıda verilenlere göre “?” ile gösterilen yere aşağıdakilerden hangisi gelmelidir?




35



Yukarıdaki sayılar belli bir kurala göre yerleştirilmiştir. Buna göre “?” ile gösterilen yere hangi sayı getirilmelidir?

- A) 21      B) 19      C) 15  
D) 13      E) 11      F) 8

36



Yukarıdaki şekli tamamlayan parça hangi seçenekte doğru verilmiştir?

- A) B)   
C) D)   
E) F)

37, 38 ve 39. soruları aşağıdaki tabloya göre cevaplayınız.

B  = E	E  = H	K  = M
C  = D	AB = C	MK = N

37

$$K \blacktriangledown K = ?$$

Yukarıdaki işlemin sonucu aşağıdakilerden hangisidir?

- A) E      B) H      C) N  
D) M      E) D      F) C

38

$$AB \bullet = ?$$

Yukarıdaki işlemin sonucu aşağıdakilerden hangisidir?

- A) D      B) C      C) E  
D) M      E) N      F) H

39

$$B \text{ = ?$$

Yukarıdaki işlemin sonucu aşağıdakilerden hangisidir?

- A) E      B) H      C) N  
D) C      E) M      F) D

Bilim ve Sanat Merkezleri  
Öğrenci Seçme Sınavı


**BİLSEM**

**2.**

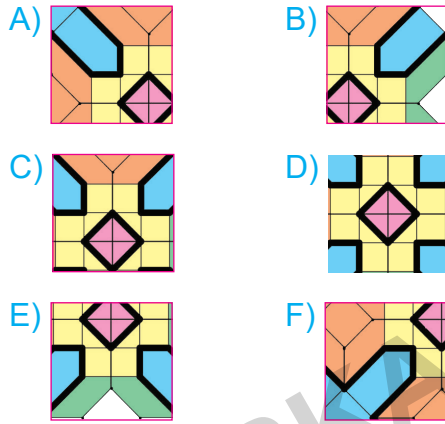
**DENEME**

Eğitimde Yakın  
**Markaj**  
yayınları

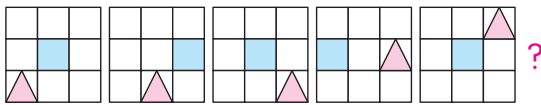
5



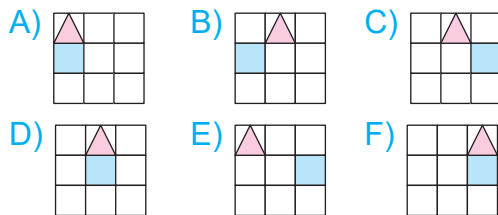
Yukarıdaki deseni tamamlamak için “?” ile gösterilen yere hangi parça getirilmelidir?



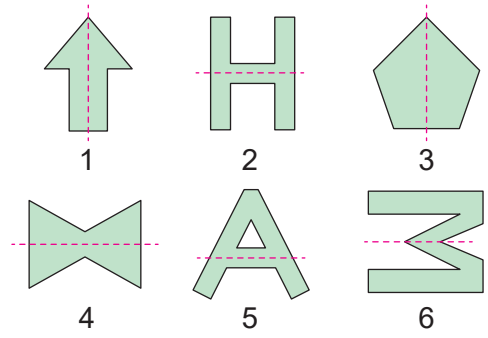
6



Yukarıda verilenlere göre “?” ile gösterilen yere aşağıdakilerden hangisi getirilmelidir?



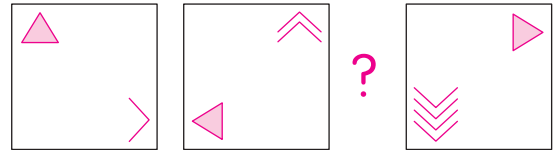
7



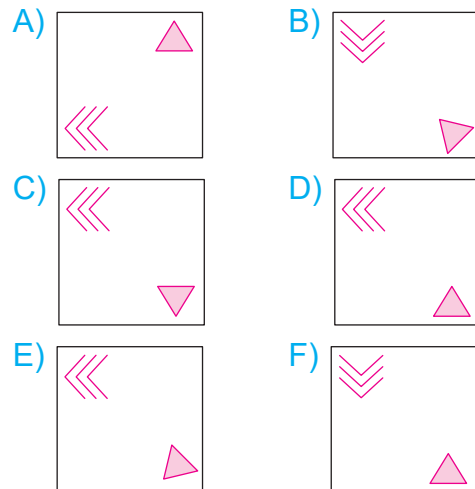
Yukarıdaki şekiller belli bir özellik yönüyle gruplandığında hangi şekil bu grubun dışında kalır?

- A) 1      B) 2      C) 3  
D) 4      E) 5      F) 6

8

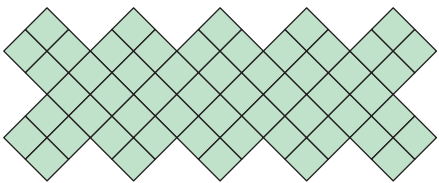
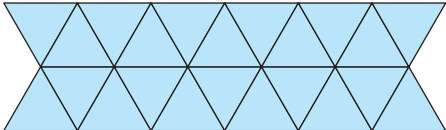
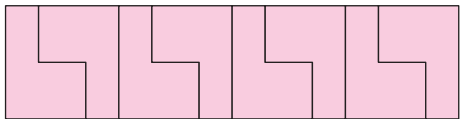
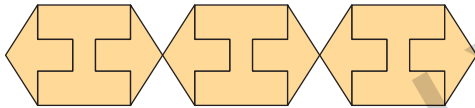




Yukarıda verilenlere göre “?” ile gösterilen yere aşağıdakilerden hangisi getirilmelidir?

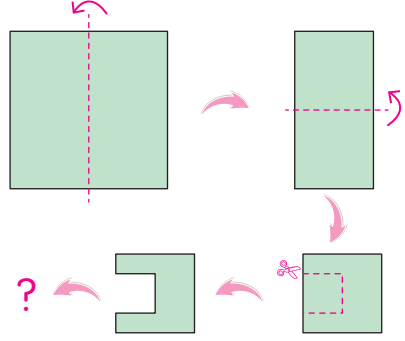




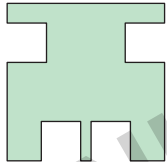
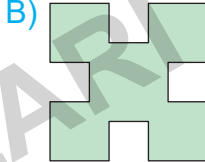
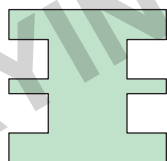
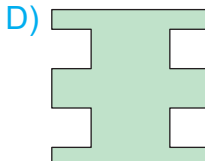
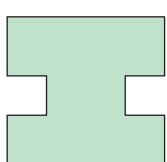
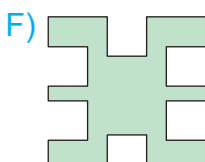
25 Aşağıdaki süslemelerden hangisi tek şekil kullanılarak elde edilmemiştir?

- A) 
- B) 
- C) 
- D) 
- E) 
- F) 

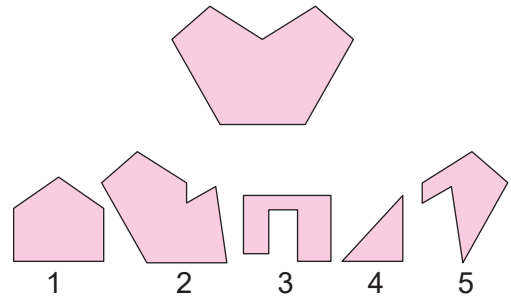
26



Yukarıda verilen kare biçimindeki kağıdın "?" ile gösterilen yerdeki tamamen açılmış halinin görünümü nasıl olur?

- A) 
- B) 
- C) 
- D) 
- E) 
- F) 

27



Yukarıdaki şekli elde etmek için numaralandırılmış şekillerden hangi ikisini birleştirmeliyiz?

- A) 1 ve 4                      B) 2 ve 4
- C) 3 ve 5                      D) 2 ve 5
- E) 1 ve 3                      F) 4 ve 5

45

Gömlek - Örnek - Resim - Eşya - ?

Yukarıdaki kelime dizilimine göre “?” ile gösterilen yere hangi kelime gelmelidir?

- A) Akraba                      B) Koltuk  
C) Şemsiye                    D) Yalı  
E) Sandık                      F) Elbise


46

Sözcükler	Sayısal Eşleştirme (Karışık şekilde)
İSTEK	73495, 49596, 37492
SİTEM	
TEMEL	
İstenen Sözcük	
KİLİTLİ	

Yukarıda her sözcük bir sayı ile şifrelenmiştir. Buna göre istenen sözcüğün şifresi aşağıdakilerden hangisidir?

- A) 7363592                      B) 3262762  
C) 4969369                      D) 2363463  
E) 3749523                      F) 5363792

47



Yukarıdaki sudoku oyununda “?” ile gösterilen yere hangi meyve görseli gelmelidir?

- A)                       B)   
C)                       D)   
E)                       F) 

Bilim ve Sanat Merkezleri  
Öğrenci Seçme Sınavı

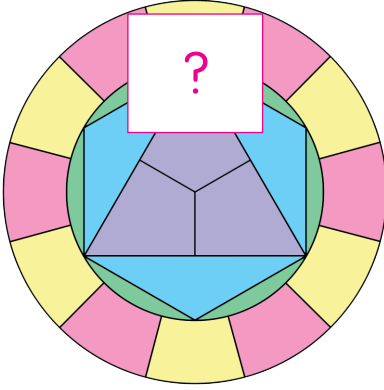
**BİLSEM**

**3.**

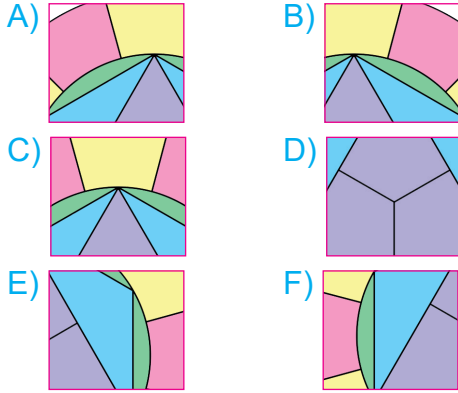
**DENEME**

Eğitimde Yakın  
**Markaj**  
yayınları


5



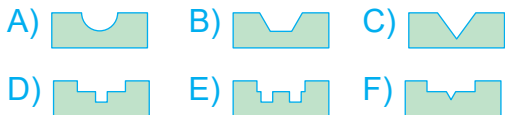
Yukarıdaki şekilde “?” ile gösterilen eksik parça hangi seçenekte verilmiştir?



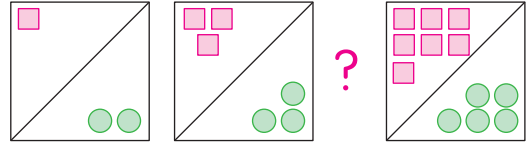
6



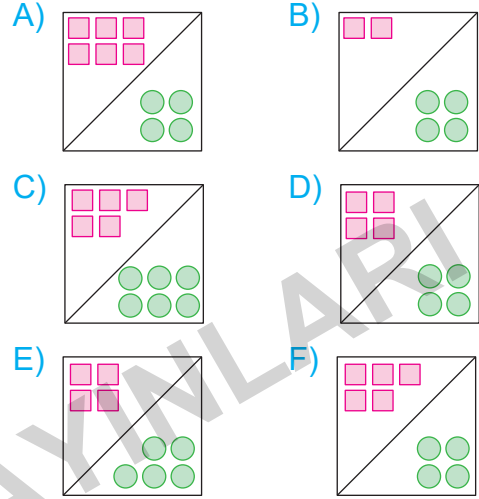
Yukarıda verilenlere göre “?” ile gösterilen yere aşağıdakilerden hangisi getirilmelidir?



7



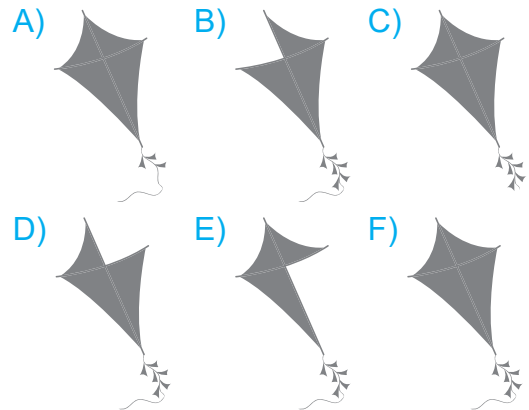
Yukarıda verilenlere göre “?” ile gösterilen yere aşağıdakilerden hangisi gelmelidir?



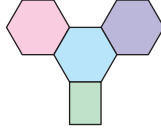
8



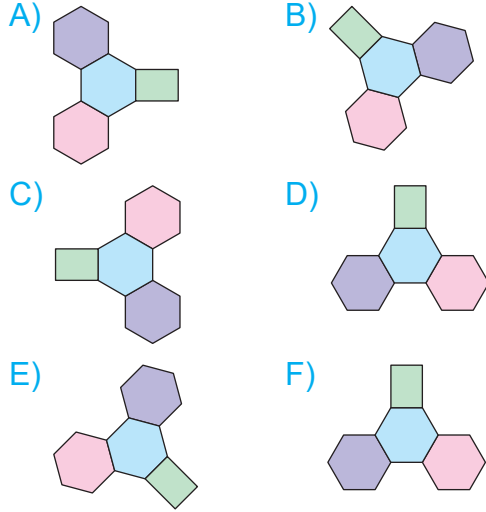
Yukarıdaki uçurtmanın gölgesi hangi seçenekte verilmiştir?



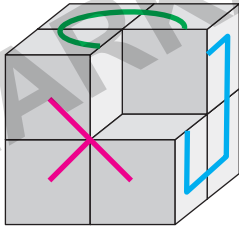
24



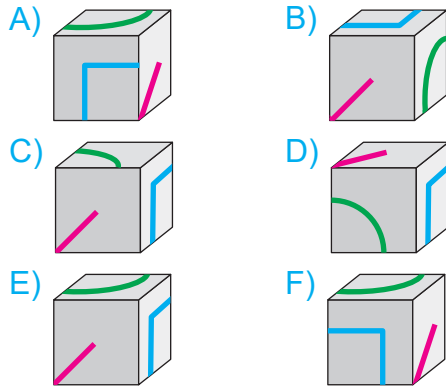
Aşağıdakilerden hangisi yukarıdaki şekilden farklıdır?



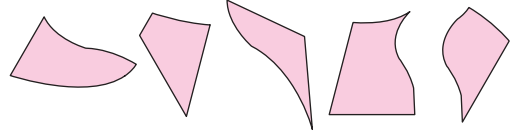
25



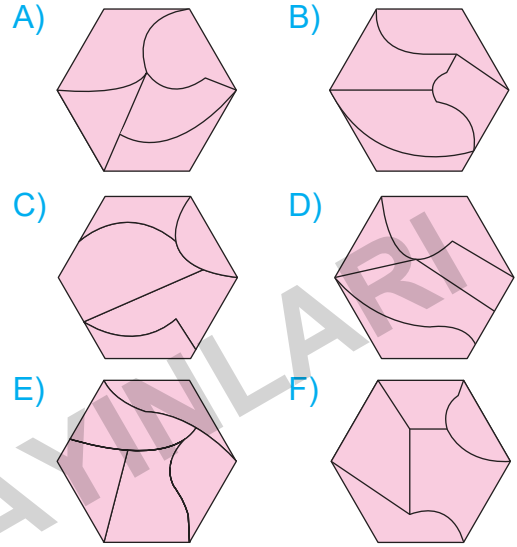
Yukarıda eş küplerden oluşan yapıyı bütüne tamamlayacak eksik küp parçası hangisidir?



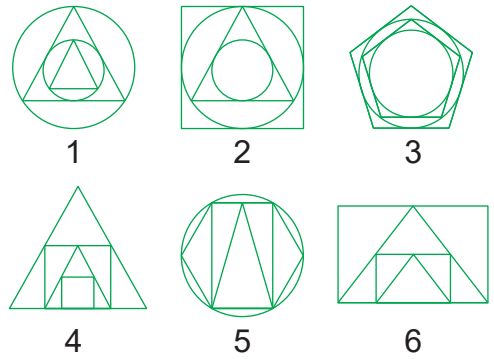
26



Yukarıda verilen parçaların birleştirilmesiyle aşağıdaki şekillerden hangisi oluşturulabilir?



27



Yukarıda verilen şekiller bir kurala göre gruplandırılırsa hangi ikisi bu grubun dışında kalır?

- A) 2 ve 4                      B) 1 ve 3  
C) 4 ve 6                      D) 3 ve 5  
E) 1 ve 6                      F) 2 ve 5

36

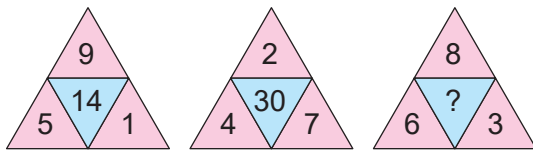
2	6	10	14	18
5	9	13	17	21
8	▲	16	20	24
11	15	19	23	■
14	18	22	26	30

Yukarıdaki tabloda sayılar soldan sağa bir kurala, yukarıdan aşağıya başka bir kurala göre yazılmıştır.

Buna göre ▲ + ■ işleminin sonucu kaçtır?

- A) 25      B) 28      C) 31  
D) 34      E) 36      F) 39

37



Yukarıdaki sayılar belli bir kurala göre yerleştirilmiştir. Buna göre “?” ile gösterilen yere hangi sayı gelmelidir?

- A) 17      B) 19      C) 21  
D) 22      E) 24      F) 26

38

1	3	5	A	9	11
B	9	1	11	C	5
5	1	11	3	7	D
9	E	7	1	F	3
3	7	9	5	G	H
11	I	3	J	1	7

Yukarıdaki sudoku oyununda harflerle gösterilen yerlerden hangi ikisine aynı sayılar gelir?

- A) B - D      B) D - J      C) F - G  
D) I - J      E) A - E      F) H - J

39

$\bullet \times \bullet = 16$
$\blacksquare \div \bullet = 8$
$\blacksquare + \blacktriangle - \bullet = 35$

Yukarıdakilere göre “ $2 \bullet + \blacksquare - \blacktriangle$ ” işleminin sonucu kaçtır?

- A) 28      B) 30      C) 32  
D) 33      E) 36      F) 38

Bilim ve Sanat Merkezleri  
Öğrenci Seçme Sınavı

# BİLSEM

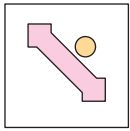
1, 2, 3.  
DENEME  
ÇÖZÜMLERİ

Eğitimde Yakın  
**Markaj**  
yayınları

- 18 Küpün verilen üç farklı konumuna göre A ile E; E ile F ve D ile F yan yana gelen yüzlerdir. Yan yana gelen yüzler karşılıklı olamaz. Bu durumda A ile F; C ile D ve B ile E karşılıklı gelen yüzlerdir. Dolayısıyla “?” ile gösterilen yere E'nin karşısında, A ve F ile yan yana bulunan B gelmelidir.

Doğru cevap F seçeneğidir.

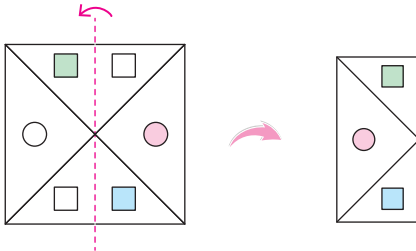
- 19 Birinci satırda iç içe bulunan şekiller her adımda ↺ yönünde yarım tur döndürülmüştür. Aynı durum ikinci satırda yan yana bulunan şekiller için de geçerli olduğundan “?” yerine;



şekli gelmelidir.

Doğru cevap A seçeneğidir.

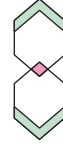
20



Şeffaf kağıt ↺ yönünde ortadan ikiye katlandığında aynı biçimdeki şekillerin renkli olanları renksiz olanlarının üzerine gelerek onları kapatır.

Doğru cevap E seçeneğidir.

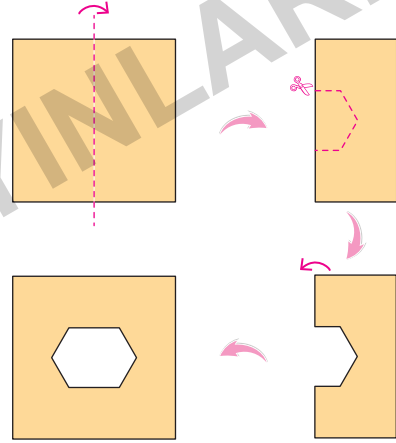
- 21 Verilen süsleme yukarıdan aşağıya doğru ve yan yana



leştirilmesiyle oluşturulmuştur. Dolayısıyla bu süslemenin en küçük birimidir.

Doğru cevap A seçeneğidir.

22



Doğru cevap D seçeneğidir.

- 23 Verilen şeklin ilk satırında her dört kutucukta 3 rakamı sabit olarak verilmiştir. Sonra yukarıdan aşağıya doğru 1. sütunda sayıların birer fazlası, 2. sütunda ikişer fazlası, 3. sütunda üçer fazlası ve 4. sütunda dörder fazlası alınmıştır.


Buna göre “?” yerine “15” sayısı yazılmalıdır.

Doğru cevap D seçeneğidir.



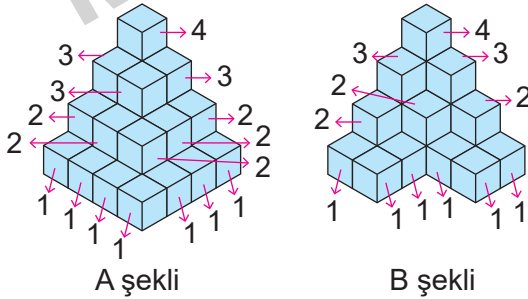
- 13 Her satırda birinci ve ikinci kutucuklarda bulunan şekiller üçüncü kutucukta boyutları değiştirilmeden üst üste getirilmiştir. Üst üste gelen renkli kısımların bulunduğu alanlar renksiz hâle getirilmiştir.

Buna göre; ? =



Doğru cevap F seçeneğidir.

- 14 Birbirinden bağımsız 1 birim küplerden oluşan A ve B şekillerinde bulunan küp sayılarına baktığımızda;

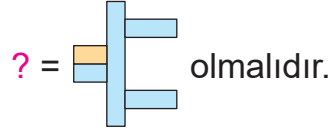


A şeklinde 30 birim küp bulunurken B şeklinde 22 birim küp bulunmaktadır. Bu durumda A ve B şekillerinde eşit sayıda birim küp olması için A şeklinden 8 birim küp eksiltilmelidir.

Doğru cevap C seçeneğidir.

- 15 Şekiller her adımda ↻ yönünde yarım tur döndürülerek örüntü oluşturulmuştur.



Buna göre;









Doğru cevap B seçeneğidir.

- 16 Kuş bakışı görünümü verilen şeklin normal görünümü en içten dışa doğru “pembe - beyaz - mavi - turuncu - beyaz - yeşil - beyaz” eşit aralıklı iç içe geçmiş halkalardan oluşmalıdır. Buna uygun şekil F seçeneğinde verilmiştir.

Doğru cevap F seçeneğidir.

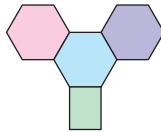


Doğru cevap E seçeneğidir.

- 23 A)  Helikopterin kuyruğundaki pervane eksiktir.
- B)  Helikopterin ana pervane yapraklarından biri eksiktir.
- C)  Helikopterin tam gölgesi verilmiştir.
- D)  Helikopterin sağ konma kızıağı eksiktir.
- E)  Helikopterin ana pervanesinin yapraklarından iki tanesi eksiktir.
- F)  Helikopterin sol konma kızıağı eksiktir.

Doğru cevap C seçeneğidir.

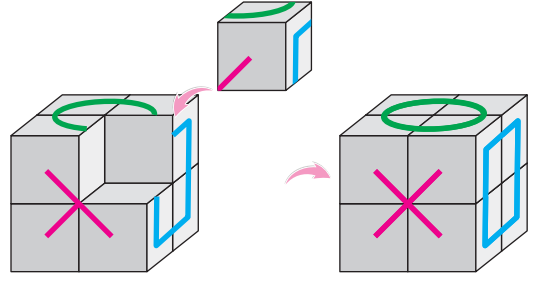
24



Yukarıda verilen şeklin döndürülmesi sonucu B seçeneğindeki şekil hariç diğer tüm şekiller elde edilebilir.

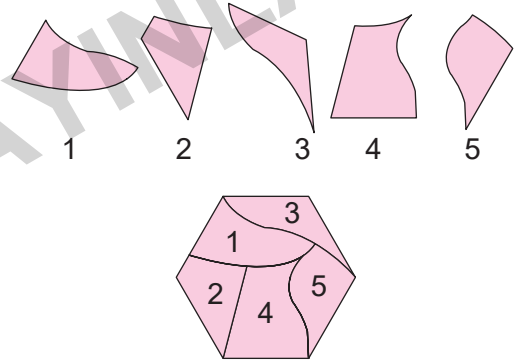
Doğru cevap B seçeneğidir.

25



Doğru cevap E seçeneğidir.

26



Doğru cevap E seçeneğidir.

- 27 1, 3, 4 ve 6 numaralı şekiller iç içe farklı iki şekil kullanılarak oluşturulmuştur. Ancak 2 ve 5 numaralı şekiller ikiden daha fazla farklı şekil kullanılarak oluşturulmuştur. Dolayısıyla 2 ve 5 numaralı şekiller yapılacak gruplandırmanın dışında kalırlar.

Doğru cevap F seçeneğidir.

MARKAJ YAYINLARI

## BİLSEM SORU KİTAPLARI

1. Sınıf BİLSEM Tamamı Çözümlü Soru Bankası
2. Sınıf BİLSEM Tamamı Çözümlü Soru Bankası
3. Sınıf BİLSEM Tamamı Çözümlü Soru Bankası
4. Sınıf BİLSEM Tamamı Çözümlü Soru Bankası

## BİLSEM ŞEKİL YETENEĞİ KİTAPLARI

1. Sınıf BİLSEM Tamamı Çözümlü Şekil Yeteneği
2. Sınıf BİLSEM Tamamı Çözümlü Şekil Yeteneği
3. Sınıf BİLSEM Tamamı Çözümlü Şekil Yeteneği
4. Sınıf BİLSEM Tamamı Çözümlü Şekil Yeteneği

## BİLSEM DENEME SINAVI KİTAPLARI

1. Sınıf BİLSEM Tamamı Çözümlü 5 Deneme Sınavı
2. Sınıf BİLSEM Tamamı Çözümlü 5 Deneme Sınavı
3. Sınıf BİLSEM Tamamı Çözümlü 5 Deneme Sınavı
4. Sınıf BİLSEM Tamamı Çözümlü 5 Deneme Sınavı



Tüm BİLSEM kitaplarının içeriklerini görmek için karekodu okutunuz.

