

# BİLSEM

Bilim ve Sanat Merkezleri Öğrenci Seçme Sınavı

2. SINIF

ŞEKİL  
YETENEĞİ

TAMAMI ÇÖZÜMLÜ



Eğitimde Yakın  
**Markaj**  
yayınları

## BİLSEM ŞEKİL YETENEĞİ

### EDİTÖR

Turgut MEŞE

### YAZAR

Komisyon

Bütün hakları Markaj Yayınlarına aittir.  
Yayıncının izni olmaksızın kitabın tümünün veya bir kısmının elektronik,  
mekanik yollarla ya da fotokopi yoluyla basımı, çoğaltılması ve dağıtımı yapılamaz.

### SERTİFİKA NO.

40447

### KAPAK TASARIMI

Markaj Yayınları Tasarım Ekibi

### SAYFA TASARIMI

Markaj Yayınları Dizgi Ekibi

### BASKI VE CİLT

Özgür WEB Matbaacılık

ANKARA



İvedik Organize Sanayi Matbaacılar Sitesi  
1518 Sok. Mat-Sit İş Merkezi No.: 2/20  
Yenimahalle / ANKARA

Tel: 0 312 384 20 33 - 0 505 099 24 84  
WhatsApp: 0 505 099 24 84  
www.markajyayinlari.com  
markajyayinlari@gmail.com

## İÇİNDEKİLER

## ŞEKİL YETENEĞİ SORULARI

TEST 1 .....	7
TEST 2.....	12
TEST 3.....	17
TEST 4.....	22
TEST 5.....	27
TEST 6.....	32
TEST 7.....	37
TEST 8.....	42
TEST 9.....	47
TEST 10 .....	52
TEST 11.....	57
TEST 12 .....	62
TEST 13 .....	67
TEST 14 .....	72
TEST 15 .....	77
TEST 16 .....	82


## ŞEKİL YETENEĞİ ÇÖZÜMLERİ

TEST 1 .....	89
TEST 2 .....	94
TEST - 3.....	99
TEST 4.....	104
TEST 5.....	109
TEST 6.....	114
TEST 7.....	119
TEST 8.....	124
TEST 9.....	129
TEST 10 .....	134
TEST 11.....	139
TEST 12 .....	144
TEST 13 .....	148
TEST 14 .....	152
TEST 15 .....	157
TEST 16 .....	162
CEVAP ANAHTARI.....	167

# ŞEKİL YETENEĐİ SORULARI

MARINOL YAYINLARI


5.



Yukarıda gösterilen "?" yerine aşağıdakilerden hangisi gelmelidir?

- A) B) C) D)


6.



Yukarıda gösterilen "?" yerine aşağıdakilerden hangisi gelmelidir?

- A) B) C) D)

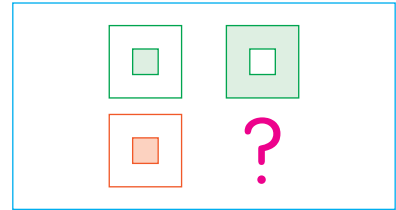
7.



Yukarıda gösterilen "?" yerine aşağıdakilerden hangisi gelmelidir?

- A) B) C) D)


8.



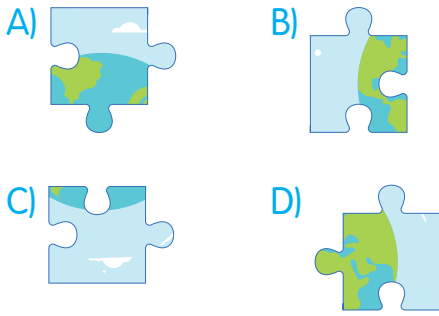
Yukarıda gösterilen "?" yerine aşağıdakilerden hangisi gelmelidir?

- A) B) C) D)


13.



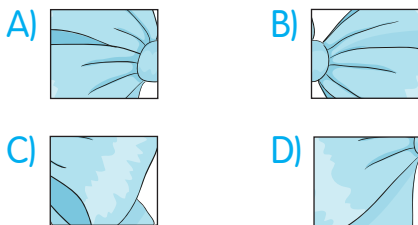
Yukarıdaki "?" yerine aşağıdakilerden hangisi gelmelidir?




14.



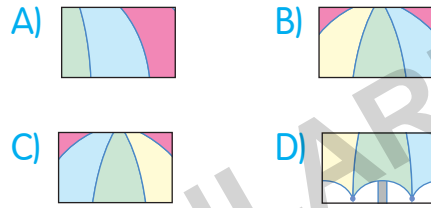
Yukarıdaki "?" yerine aşağıdakilerden hangisi gelmelidir?




15.



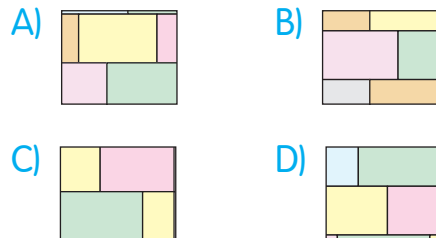
Yukarıdaki "?" yerine aşağıdakilerden hangisi gelmelidir?



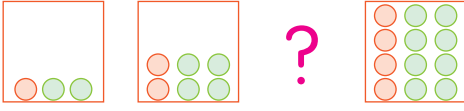
16.



Yukarıdaki "?" yerine aşağıdakilerden hangisi gelmelidir?

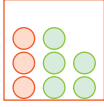


5.

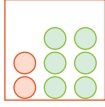


Yukarıda verilenlere göre "?" yerine aşağıdakilerden hangisi gelmelidir?

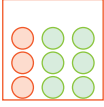
A)



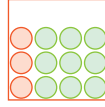
B)



C)



D)




7.



Yukarıda verilenlere göre "?" yerine aşağıdakilerden hangisi gelmelidir?


A)



B)



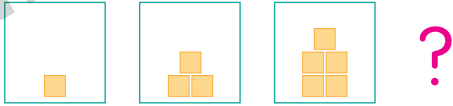
C)



D)

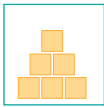


6.

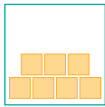


Yukarıda verilenlere göre "?" yerine aşağıdakilerden hangisi gelmelidir?

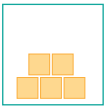
A)



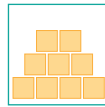
B)



C)



D)

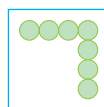


8.

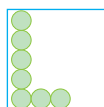


Yukarıda verilenlere göre "?" yerine aşağıdakilerden hangisi gelmelidir?

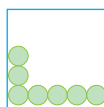
A)



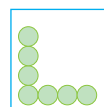
B)



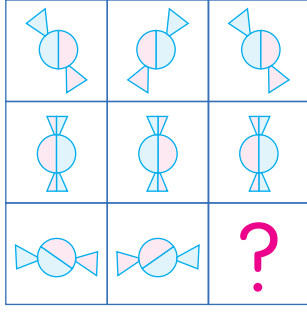
C)



D)



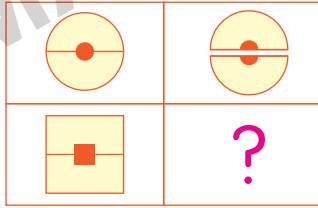
5.



Yukarıda "?" ile gösterilen yere aşağıdakilerden hangisi getirilmelidir?

- A)
- B)
- C)
- D)

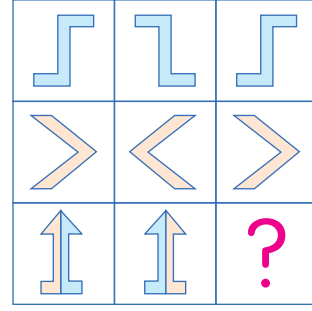
6.



Yukarıda "?" ile gösterilen yere aşağıdakilerden hangisi getirilmelidir?

- A)
- B)
- C)
- D)

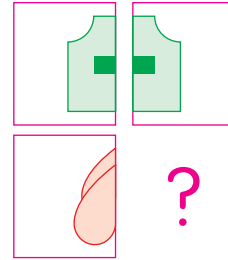
7.



Yukarıda "?" ile gösterilen yere aşağıdakilerden hangisi getirilmelidir?

- A)
- B)
- C)
- D)

8.




Yukarıda "?" ile gösterilen yere aşağıdakilerden hangisi getirilmelidir?

- A)
- B)
- C)
- D)



5.



Yukarıda verilen üzümün gölgesi aşağıdakilerden hangisidir?

A)



B)



C)



D)



6.



Yukarıda verilen elmanın gölgesi aşağıdakilerden hangisidir?


A)



B)



C)



D)



7.



Yukarıda verilen zeytinin gölgesi aşağıdakilerden hangisidir?

A)



B)



C)



D)



8.



Yukarıda verilen armudun gölgesi aşağıdakilerden hangisidir?

A)



B)



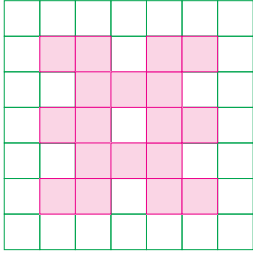
C)



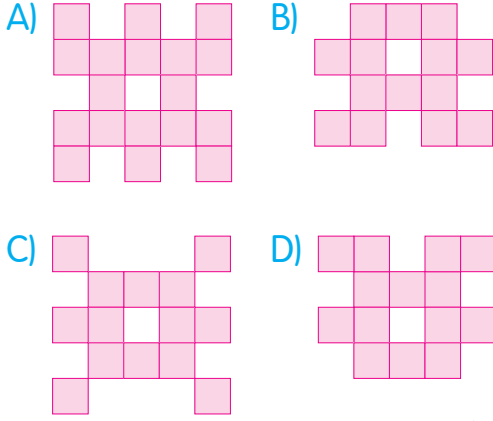
D)



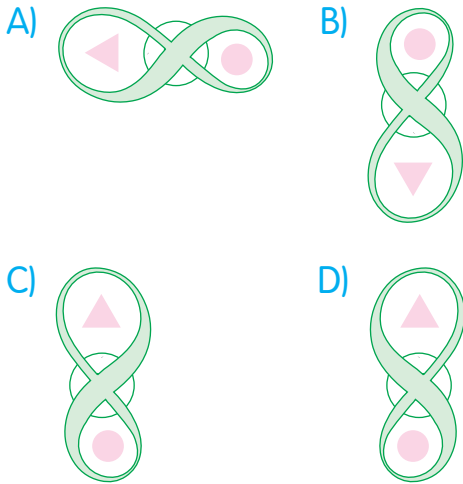
5.




Yukarıdaki şekille eş olan şekil aşağıdakilerden hangisidir?



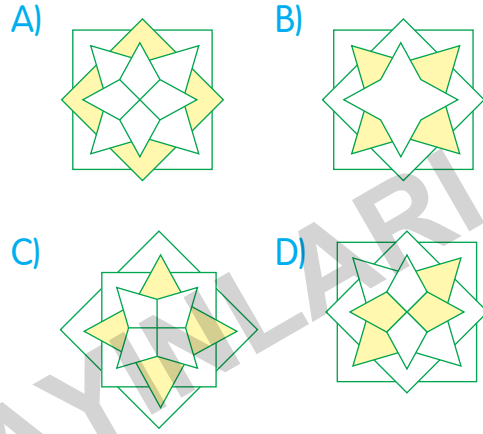
6. Aşağıdaki şekillerden hangisi diğerlerinden farklıdır?



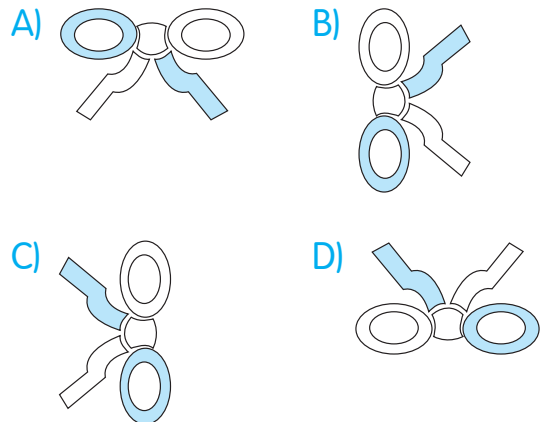
7.



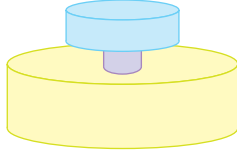
Yukarıdaki şekle eş olan şekil aşağıdakilerden hangisidir?



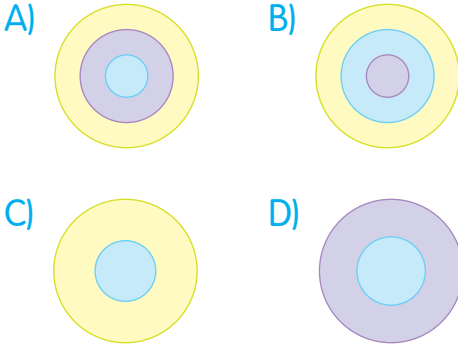
8. Aşağıdaki şekillerden hangisi diğerlerinden farklıdır?



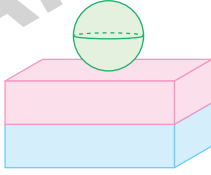
5.



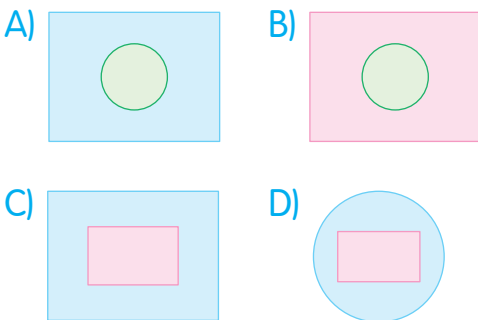
Yukarıda verilen yapının kuş bakışı görünümü aşağıdakilerden hangisidir?



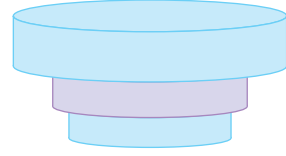
6.



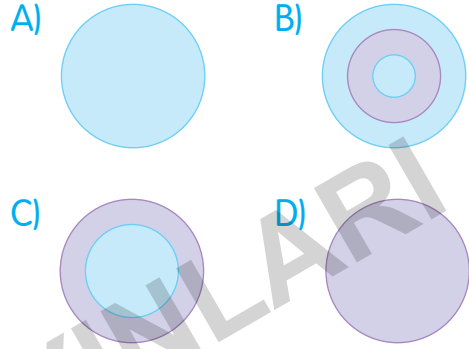
Yukarıda verilen yapının kuş bakışı görünümü aşağıdakilerden hangisidir?



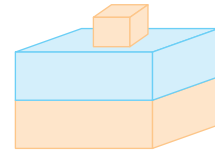
7.



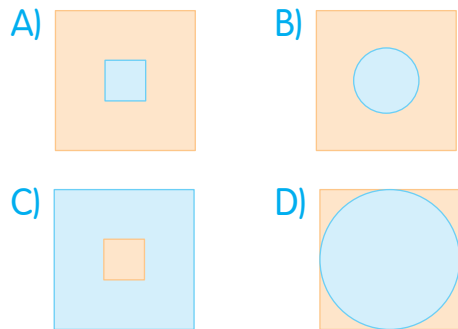
Yukarıda verilen yapının kuş bakışı görünümü aşağıdakilerden hangisidir?



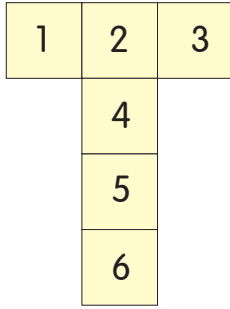
8.



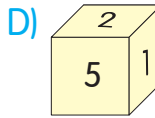
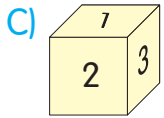
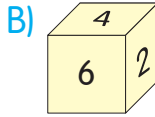
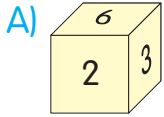
Yukarıda verilen yapının kuş bakışı görünümü aşağıdakilerden hangisidir?



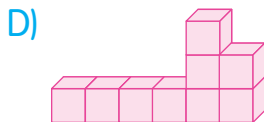
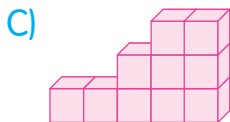
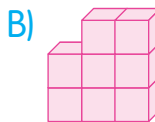
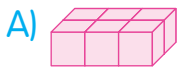
5.



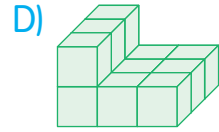
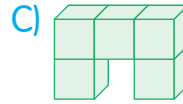
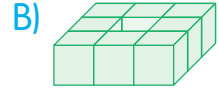
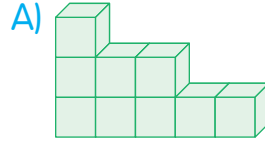
Yukarıda verilen küp açınımları aşağıdaki küplerden hangisine ait olabilir?



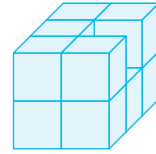
6. Aşağıdaki yapılardan hangisi oluşturulurken daha fazla küp kullanılmıştır?



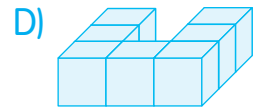
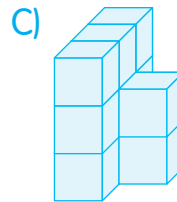
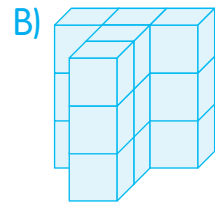
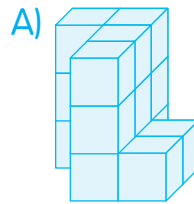
7. Aşağıdaki yapılardan hangisi oluşturulurken daha az küp kullanılmıştır?



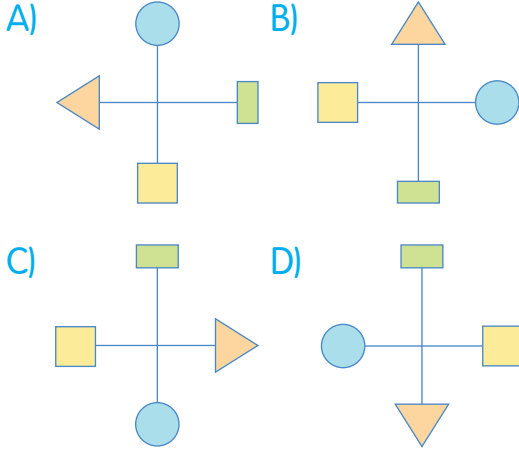
8.



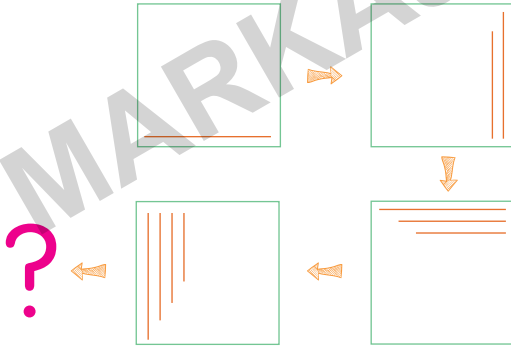
Yukarıdaki yapıyı oluşturmak için kullanılan küp sayısı aşağıdaki yapılardan hangisinin oluşturulmasında kullanılan küp sayısına eşittir?



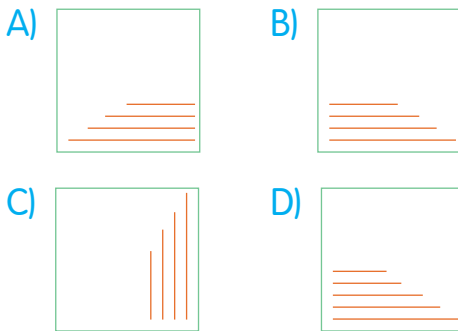
5. Aşağıdaki şekillerden hangisi bir yönüyle diğerlerinden farklıdır?



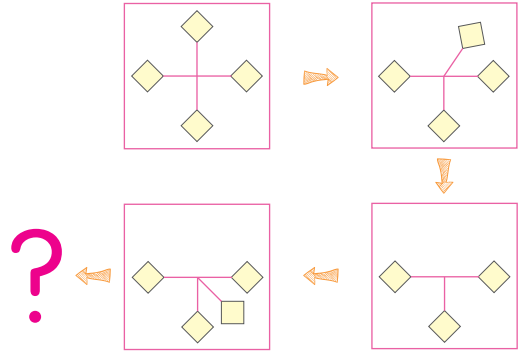
6.



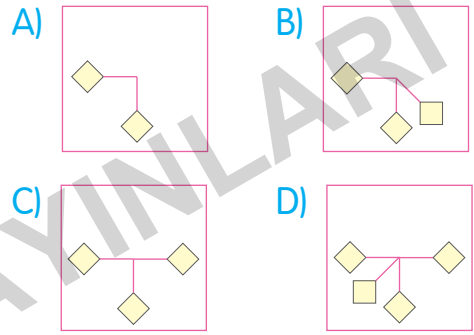
Soru işareti yerine aşağıdaki şekillerden hangisi gelmelidir?



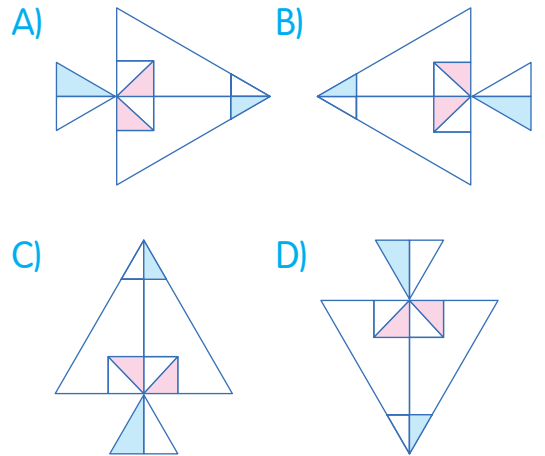
7.



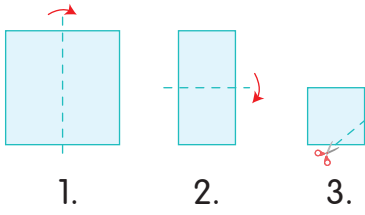
Soru işareti yerine aşağıdaki şekillerden hangisi gelmelidir?



8. Aşağıdaki şekillerden hangisi bir yönüyle diğerlerinden farklıdır?

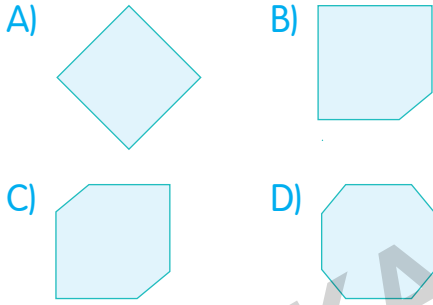


3.

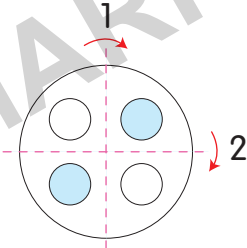


Yukarıda verilen kâğıt 1 ve 2. şekillerde gösterilen ok yönlerinde belirtilen kesikli çizgiler üzerinden katlanıyor.

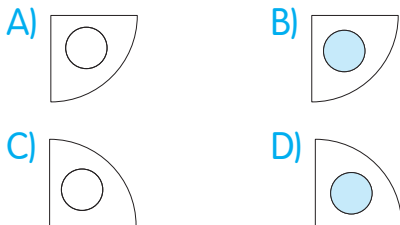
Kâğıt 3. şekilde belirtilen kesikli çizgiler üzerinden kesilip geri açılırsa son görünümü nasıl olur?



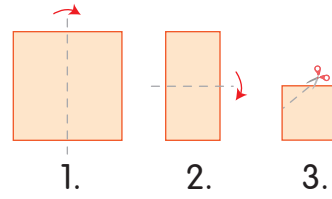
4.



Yukarıda verilen daire şeklindeki şeffaf kâğıt önce 1 daha sonra 2 yönünde katlanıyor. Buna göre kağıdın son hâli aşağıdakilerden hangisidir?

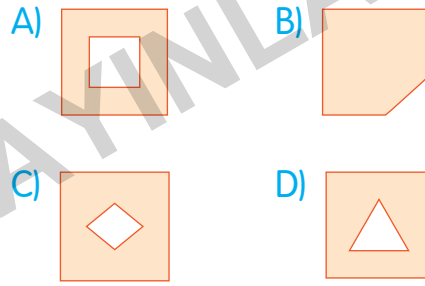


5.

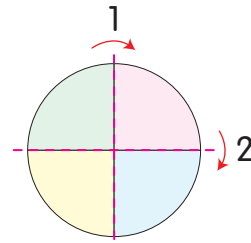


Yukarıda verilen kâğıt 1 ve 2. şekillerde gösterilen ok yönlerinde belirtilen kesikli çizgiler üzerinden katlanıyor.

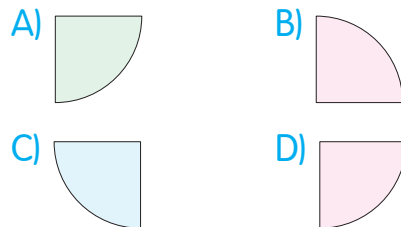
Kâğıt 3. şekilde belirtilen kesikli çizgiler üzerinden kesilip geri açılırsa son görünümü nasıl olur?



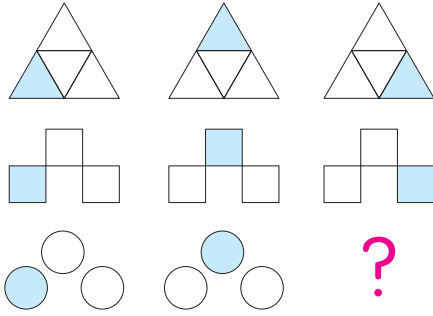
6.



Yukarıda verilen daire şeklindeki kâğıt önce 1 daha sonra 2 yönünde katlanıyor. Buna göre kağıdın son hâli aşağıdakilerden hangisidir?

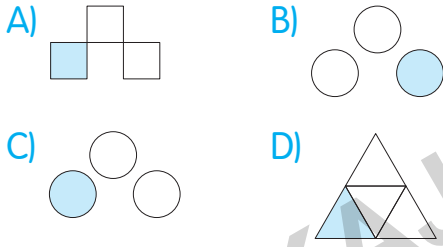


5.

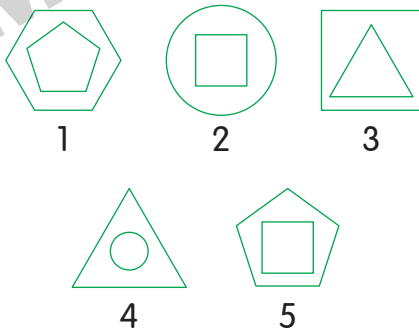


Yukarıda her satırda bulunan şekiller ortak bir özellikleri bakımından kendi arasında gruplandırılmıştır.

Buna göre "?" yerine aşağıdakilerden hangisi gelmelidir?



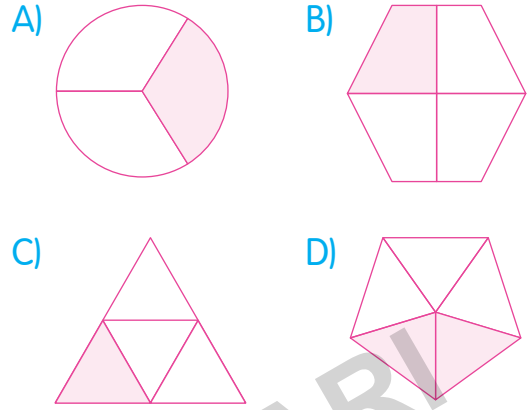
6.



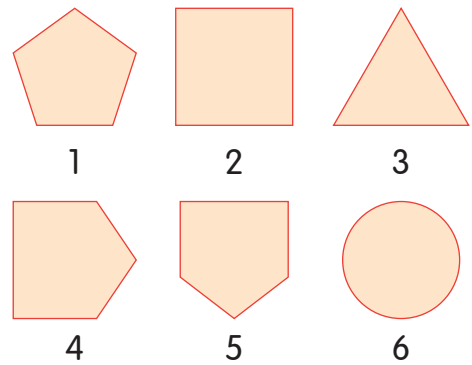
Yukarıda verilenlerden hangileri ortak bir özellik bakımından aynı grupta yer alır?

- A) 1 - 2 - 3      B) 3 - 4 - 5  
C) 1 - 3 - 4      D) 1 - 3 - 5

7. Aşağıdaki şekilleri ortak bir özellik yönüyle gruplandırarak olursak hangisi dışarıda kalır?




8.



Yukarıdaki şekilleri ortak bir özellik yönüyle gruplandırmak istediğimizde hangi üçü grup oluşturur?

- A) 1 - 2 - 6      B) 1 - 4 - 5  
C) 2 - 3 - 5      D) 3 - 5 - 6

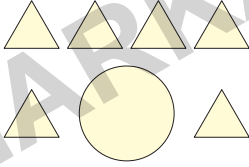
5.



Yukarıdaki şekilde kaç tane dikdörtgen vardır?

- A) 8 B) 9 C) 10 D) 11

6.



Yukarıdaki şekillerin tamamı kullanılarak aşağıdaki şekillerden hangisi oluşturulabilir?

- A) B) C) D)

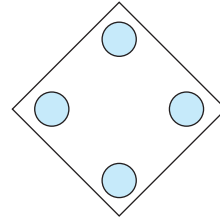
7.



Yukarıdaki şekiller birleştirilerek aşağıdaki şekillerden hangisi oluşturulamaz?

- A) B) C) D)

8.

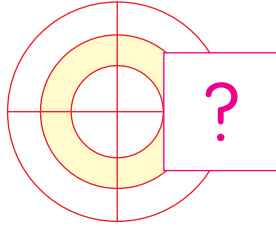


Yukarıdaki şekil belli yerlerinden bir doğru boyunca kesilirse aşağıdaki şekillerden hangisi oluşmaz?

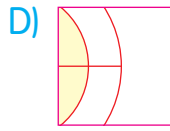
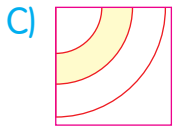
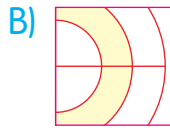
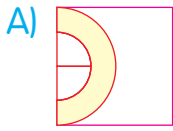
- A) B) C) D)




5.



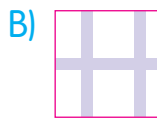

Yukarıda verilen şekle göre "?" yerine aşağıdakilerden hangisi gelmelidir?




6.



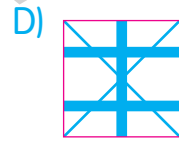
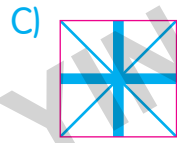
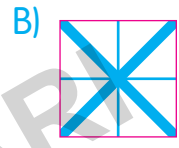
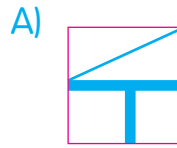
Yukarıda verilen şekle göre "?" yerine aşağıdakilerden hangisi gelmelidir?



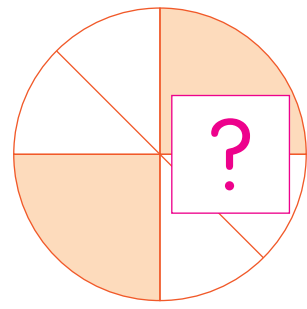
7.



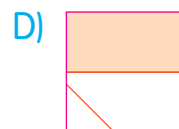
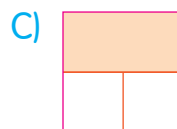
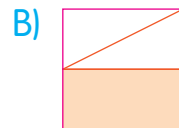
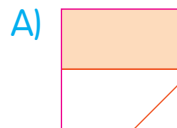
Yukarıda verilen şekle göre "?" yerine aşağıdakilerden hangisi gelmelidir?




8.







Yukarıda verilen şekle göre "?" yerine aşağıdakilerden hangisi gelmelidir?



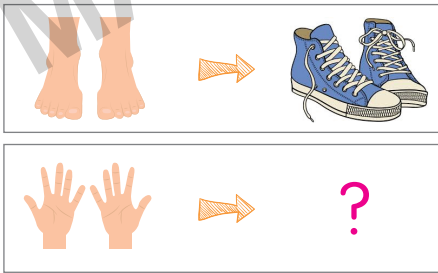
5.







Yukarıda gösterilen "?" yerine aşağıdakilerden hangisi gelmelidir?

- A)  B)   
 C)  D) 


6.







Yukarıda gösterilen "?" yerine aşağıdakilerden hangisi gelmelidir?

- A)  B)   
 C)  D) 

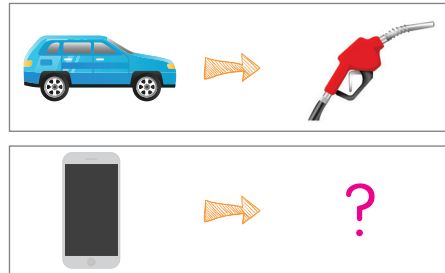
7.







Yukarıda gösterilen "?" yerine aşağıdakilerden hangisi gelmelidir?

- A)  B)   
 C)  D) 

8.



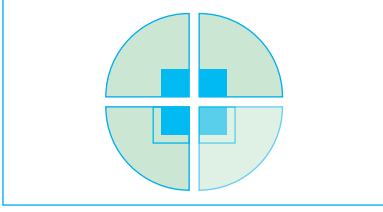
Yukarıda gösterilen "?" yerine aşağıdakilerden hangisi gelmelidir?

- A)  B)   
 C)  D) 

# ŞEKİL YETENEĐİ ÇÖZÜMLERİ

MARINER YAYINLARI

## Çözüm 5:

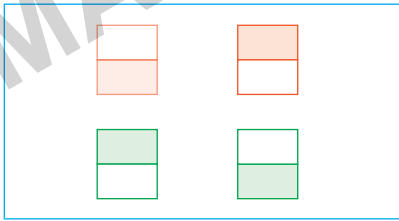


Şeklin üst iki parçasında mavi renkteki karelerin çevresinde çizgi yokken sol alt parçasındaki mavi karenin çevresinde çizgi bulunmaktadır. Buna göre "?" yerine sol alt parçanın simetriği gelmelidir.

? =  olmalıdır.

Doğru cevap B seçeneğidir.

## Çözüm 6:

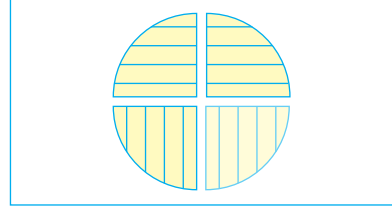


Alt satırda bulunan şekillerin renkli ve renksiz kısımları yer değiştirmiştir. Buna göre üst satırda bulunan şekillerin de renkli ve renksiz kısımları yer değiştirecektir.

? =  olmalıdır.

Doğru cevap A seçeneğidir.

## Çözüm 7:

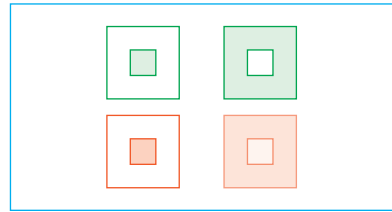


Şeklin üst kısmındaki parçalar yatay çizgili iken alt kısmındaki parçalar dikey çizgili olmalı ve daireye tamamlanmalıdır.

? =  olmalıdır.

Doğru cevap A seçeneğidir.

## Çözüm 8:



Üst satırda bulunan şekillerde renkli ve renksiz kısımlar yer değiştirmiştir. Alt satırda da şekillerin renkli ve renksiz kısımları yer değiştirmelidir.

? =  olmalıdır.

Doğru cevap C seçeneğidir.

## Çözüm 17:

- A)  Aslanın kuyruğunun bir kısmı eksiktir.
- B)  Aslanın kulakları eksiktir.
- C)  Aslanın tam gölgesi verilmiştir.
- D)  Aslanın sağ arka ayağı eksiktir.





Doğru cevap C seçeneğidir.

## Çözüm 18:

- A)  Masanın altı farklıdır.
- B)  Sandalyelerin kolları eksiktir.
- C)  Sandalyelerin altındaki yatay çubuklar eksiktir.
- D)  Resmin tam gölgesi verilmiştir.


Doğru cevap D seçeneğidir.

## Çözüm 19:

- A)  Penguenin gagası eksiktir.
- B)  Penguenin tam gölgesi verilmiştir.
- C)  Penguenin sol ayağı eksiktir.
- D)  Penguenin kuyruğu eksiktir.

Doğru cevap B seçeneğidir.

## Çözüm 20:

- A)  Kamyonun tam gölgesi verilmiştir.
- B)  Kamyonun ön tekerleği eksiktir.
- C)  Kamyonun arka iki tekerleği eksiktir.
- D)  Kamyonun orta tekerleği eksiktir.

Doğru cevap A seçeneğidir.

## BİLSEM KONU KİTAPLARI

1. Sınıf BİLSEM Konu Anlatımlı
2. Sınıf BİLSEM Konu Anlatımlı
3. Sınıf BİLSEM Konu Anlatımlı
4. Sınıf BİLSEM Konu Anlatımlı

## BİLSEM SORU KİTAPLARI

1. Sınıf BİLSEM Tamamı Çözümlü Soru Bankası
2. Sınıf BİLSEM Tamamı Çözümlü Soru Bankası
3. Sınıf BİLSEM Tamamı Çözümlü Soru Bankası
4. Sınıf BİLSEM Tamamı Çözümlü Soru Bankası

## BİLSEM ŞEKİL YETENEĞİ KİTAPLARI

1. Sınıf BİLSEM Tamamı Çözümlü Şekil Yeteneği
2. Sınıf BİLSEM Tamamı Çözümlü Şekil Yeteneği
3. Sınıf BİLSEM Tamamı Çözümlü Şekil Yeteneği
4. Sınıf BİLSEM Tamamı Çözümlü Şekil Yeteneği

## BİLSEM DENEME SINAVI KİTAPLARI

1. Sınıf BİLSEM Tamamı Çözümlü 5 Deneme Sınavı
2. Sınıf BİLSEM Tamamı Çözümlü 5 Deneme Sınavı
3. Sınıf BİLSEM Tamamı Çözümlü 5 Deneme Sınavı
4. Sınıf BİLSEM Tamamı Çözümlü 5 Deneme Sınavı



Tüm BİLSEM kitaplarının içeriklerini görmek için karekodu okutunuz.



Editör Yayınevi markasıdır.

İvedik Organize Sanayi 1518 Sok. Matbaacılar Sitesi  
Mat-Sit İş Merkezi No:2/20 Yenimahalle / ANKARA  
Tel: 0 312 384 20 33 Faks: 0312 342 23 58  
WhatsApp: 0 505 925 57 81

[www.markajyayinlari.com](http://www.markajyayinlari.com) | [markajyayinlari@gmail.com](mailto:markajyayinlari@gmail.com)

ISBN 978-625-7815-66-6



9 786257 815666