

YENİLENDİK



3. SINIF



TAMAMI ÇÖZÜMLÜ

6 DENEME
SINAVI

I. DÖNEM I-II. DÖNEM

3

+

3

FASİKÜLLÜ

SIRALI DENEME



1. DENEME SINAVI

HAYAT BİLGİSİ

1.



Yukarıdaki görselde Esra, İbrahim'in oyuncak arabasını kırmış ve bu durumu önemsememiştir.

Esra'nın İbrahim'e karşı gerçekleştirdiği bu davranış için hangisi söylenemez?

- A) Esra olumsuz bir davranış sergilemiştir.
- B) İbrahim bu davranış sebebiyle üzülmüştür.
- C) Esra bu davranışından pişman olmuştur.

2. Okulun bireye katkıları arasında aşağıdakilerden hangisi yoktur?

- A) Bireyi topluma hazırlar.
- B) Bireyin öz güveninin azalmasına neden olur.
- C) Bireyin bilgilenmesini sağlar.

3.



Yukarıdaki mesleği yapan bir kişi için aşağıdakilerden hangisi söylenemez?

- A) Suçluları yakalar.
- B) Toplumun huzur ve güvenliğini sağlar.
- C) İnsanları tedavi eder.

4. Okuldaki kaynakların etkili ve verimli kullanımına dair aşağıdakilerden hangisi yanlıştır?

- A) Soğuk havalarda kapı ve pencereleri gereksiz yere açmamalıyız.
- B) Gereksiz yanan lambaları kapatmalıyız.
- C) Musluklar daima açık kalmalıdır.

14.



Yavuz ve arkadaşları okul bahçesinde top oynarken çöplerin etrafa atıldığını fark ettiler. Bahçedeki çöp kutularının yetersiz olduğunu gördüler. Hep birlikte okul idaresinden bahçeye bırakmak için çöp kutuları istemeye karar verdiler.

Yavuz ve arkadaşları bu isteklerini hangi yolla okul idaresinden istemezler?

- A) Dilekçe yazarak
- B) Öğretmenlerine söyleyerek
- C) Ailelerine söyleyerek

15. Aşağıdakilerden hangisi yardımlaşma ve dayanışmayı anlatan atasözlerinden biri değildir?

- A) Bir elin nesi var, iki elin sesi var.
- B) Birlikten kuvvet doğar.
- C) Bugünün işini yarına bırakma.

TÜRKÇE

1. “İnce” sözcüğü, aşağıdaki cümlelerin hangisinde “zayıf” anlamında kullanılmıştır?

- A) İnce bir örtü örtmüşlerdi.
- B) Bu depo ince bir temizlik istiyor.
- C) Esmer, kuru, ince bir çocuktü.

2. “İleri - Geri” sözcükleri arasındaki anlam ilişkisi aşağıdakilerin hangisinde vardır?

- A) Ağır - Hafif
- B) Uslu - Akıllı
- C) Cümle - Tümce

3.

İÇİNDEKİLER

1. TEMA: BESLENME

Her Gün Kalsiyum Al!	5
Kuru Yemiş	7
Hangi Sebzelerde Lif Var?	10

2. TEMA: KİTAP

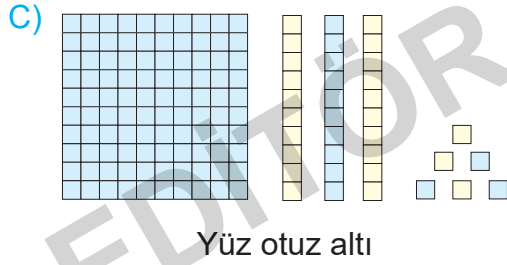
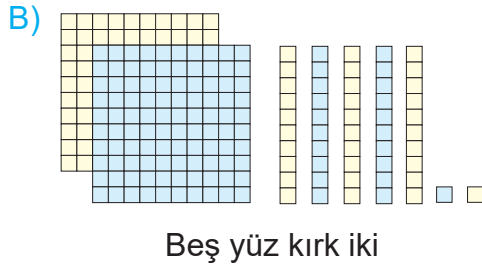

En Çok Okunan Kitaplar	12
Sabahattin Ali'den Bir Şiir	14

Yukarıda verilen “İçindekiler” bölümünden hangisine ulaşılabilir?

- A) Kitap 16 sayfadır.
- B) “En Çok Okunan Kitaplar” metni 12. sayfadan başlar.
- C) Her iki temada da eşit sayıda başlık vardır.

MATEMATİK

1. Aşağıda verilen modellemelerden hangisinin okunuşu **hatalıdır**?



2.

273

Yukarıda gösterilen üç basamaklı sayıdaki 2 rakamının basamak değeri kaçtır?

- A) 2 B) 20 C) 200

3. “XIX” sayısından önce gelen sayı kaçtır?

- A) XX B) XXII C) XVIII

4.

146 - 246 - 346 - ○ - 546
315 - 325 - 335 - △ - 355
402 - 403 - 404 - □ - 406

Yukarıda gösterilen ileriye ritmik sayılarda ○, △ ve □ sembollerinin değerleri kaçtır?

	○	△	□
A)	446	340	405
B)	446	345	405
C)	456	345	400


5. 784 sayısının en yakın onluğa yuvarlanmış hâli aşağıdakilerden hangisidir?

- A) 790 B) 785 C) 780

FEN BİLİMLERİ

1. “Dünya’mızın yuvarlak olduğunu ilk ileri süren ancak ispatlayamayan bilim insanı

Boşluğa gelmesi gereken bilim insanı aşağıdakilerden hangisidir?



Pisagor



Aristo



Macellan

2. Aşağıdakilerden hangisi Dünya’nın küreye benzediğini gösteren olaylardan biri **değildir**?

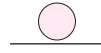
- A) Dünya’nın katmanlardan oluşması
B) Çanakkale’den havalanan uçağın sürekli batıya giderek yeniden Çanakkale’ye ulaşması
C) Ay tutulmasında Dünya’nın gölgesinin Ay yüzeyine düşmesi

3. Eslem akşam ödevlerini bitirdikten sonra televizyon izlemeye karar vermiştir. Televizyonu izlerken televizyona çok yakın oturduğu ve televizyonun sesini çok açtığı için annesi onu uyarmıştır.

Eslem’e;

– “Kızım bu şekilde televizyon izlersen hem hem de zarar görür.” demiştir.

Buna göre \triangle ve \circ yerine yazılacak duyu organları hangi seçenekte verilmiştir?



- | | | |
|----|------|-------|
| A) | Göz | Burun |
| B) | Deri | Kulak |
| C) | Göz | Kulak |

4. Aşağıdakilerden hangisinde farklı türde bir hareket çeşidi vardır?

- A) Kale direğine çarpan topun hareketi
B) Havaalanına inmekte olan uçak
C) İstasyona yaklaşan trenin hareketi

2. DENEME SINAVI

HAYAT BİLGİSİ

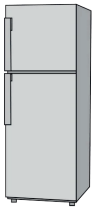
1. Okullarda eğitim-öğretim faaliyetleri dışında çeşitli sosyal, kültürel ve eğitimsel etkinlikler düzenlenir.

Aşağıdakilerden hangisi bu etkinliklerin öğrenciye sağladığı faydalardan **değildir**?

- A) Öz güvenimiz artar.
B) Sorumluluklarımızı daha kolay yerine getiririz.
C) İnsanlarla ilişki kurmakta zorlanı-
rız.

2. Aşağıdakilerden hangisi evde kullandığımız teknolojik ürünlerden biri **değildir**?


A)



B)



C)



3. Kroki ile ilgili aşağıdaki öğrencilerden **yanlış** bilgi vermiştir?

A)



Aysun

Kroki bir yere yukarıdan bakılıyor-
muş gibi çizilir.

B)



Bilge

Kroki çizerken
cetvelden
faydalanılabilir.

C)



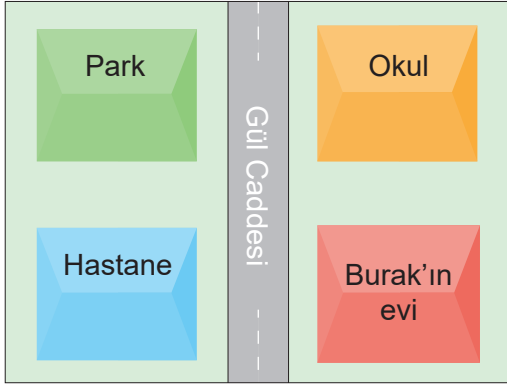
Selim

Krokide sınıfın
yeri gösterilemez.

4. Aşağıdaki atasözlerinden hangisi yardımlaşma ile ilgilidir?

- A) Ayağını yorganına göre uzat.
B) El el ile, değirmen yel ile.
C) Üzüm üzüme baka baka kararır.

14.



Krokiye göre aşağıdaki bilgilerden hangisine ulaşamaz?

- A) Hastanenin çaprazında park vardır.
- B) Hastane ile Burak'ın evi arasında Gül Caddesi vardır.
- C) Okul, Burak'ın evinin yukarisindedir.

15. Davranışlarımız, bizi ve çevremizdekileri olumlu veya olumsuz bir şekilde etkileyebilir. Olumlu davranışlarımız arkadaşlarımız ile iyi ilişkiler kurmamızı sağlar.

Aşağıdakilerden hangisi olumlu bir davranış değildir?

- A) Arkadaşlarımızla okul araç ve gereçlerimizi paylaşmak
- B) Arkadaşlarımızla alay etmek
- C) Arkadaşlarımıza yardım etmek

TÜRKÇE

1. Kumaştan veya deriden yapılan, üstünde cepleri bulunan; gömlek, hırka vb. üzerine giyilen kısa, hafif giysi.

Yukarıda tanımı verilen nesne aşağıdakilerden hangisidir?

A)



B)



C)



2. "Yerler ıslak olduğu için içeri giremedik." cümlesindeki "ıslak" sözcüğünün zıt anlamlısı aşağıdakilerden hangisidir?

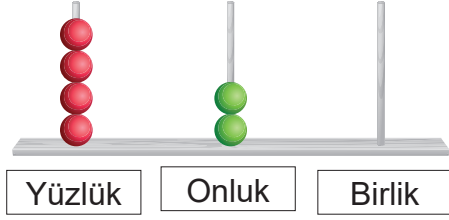
- A) Kuru
- B) Kaygan
- C) Nemli

3. Aşağıdaki cümlelerin hangisinin sonuna "?" konulmalıdır?

- A) Ali, dün bir tabak yemek yedi
- B) Sen de üzüldün mü onun hâline
- C) Bugün yağmur yağdı bence

MATEMATİK

1.



Yukarıdaki abaküste gösterilen sayının okunuşu aşağıdakilerden hangisidir?

- A) Dört yüz yirmi bir
- B) Dört yüz yirmi
- C) Dört yüz iki

2.



$$50 + 20 = 70$$

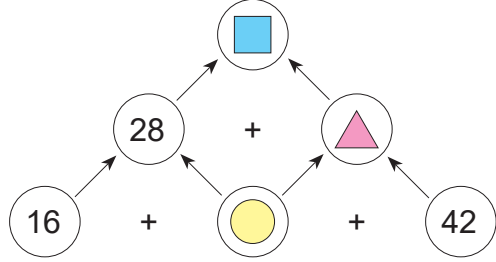
$$8 + 1 = 9$$

$$70 + 9 = 79$$

Arda aşağıda verilen işlemlerden hangisini zihninden yapmaktadır?

- A) $59 + 21$
- B) $51 + 18$
- C) $58 + 21$

3.



Yukarıda verilen işlemler aşağıdan yukarıya doğru yapılacaktır.

Buna göre "■" kaçtır?

- A) 78
- B) 82
- C) 92

4.

$$\begin{array}{r} \square \\ 283 \\ - \\ \hline 376 \end{array}$$

Yukarıda verilen çıkarma işleminde boş kutucuktaki sayı kaçtır?

- A) 649
- B) 659
- C) 559

5.

$$351 > 200$$

$$75 < 69$$

$$156 = 156$$

$$801 > 799$$

$$315 = 513$$

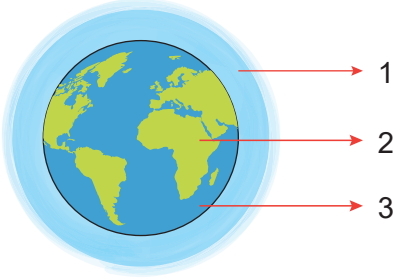
$$602 < 500$$

Yukarıda gösterilen karşılaştırmalardan kaç tanesi doğrudur?

- A) 6
- B) 5
- C) 3

FEN BİLİMLERİ

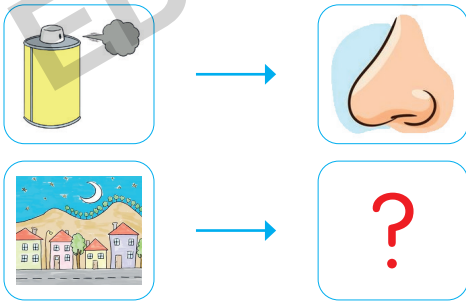
1.






Yukarıda numaralandırılmış katmanlar hangi seçenekte doğru verilmiştir?

- A) 1. Su Katmanı, 2. Hava Katmanı, 3. Kara Katmanı
 B) 1. Hava Katmanı, 2. Kara Katmanı, 3. Su Katmanı
 C) 1. Kara Katmanı, 2. Su Katmanı, 3. Hava Katmanı

2.



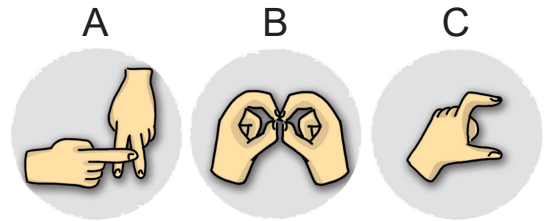
Soru işareti (?) yerine aşağıdakilerden hangisi gelmelidir?

- A)  B) 
 C) 

3. Aşağıda duyu organlarımızla ilgili verilen bilgilerden hangisi yanlıştır?

- A) Kulağımız işitmemizi sağlayan duyu organımızdır.
 B) Burnumuz sadece koku almaya yarar.
 C) Vücudumuzda en büyük yüzeye sahip olan duyu organımız deridir.

4. İşitme duygusu olmayan insanlar işaret dili yardımıyla iletişim kurarlar. İşaret dili alfabesinde her harfin, sayının ve kavramın belirli işaretlerle karşılığı vardır. Bazı harflerin işaretle gösterimi şeklindeki gibidir.



Örnekteki harfler gibi alfabedeki bütün harfler, sayılar ve kavramlar el ile parmakların aldığı biçim ve hareket yönüyle anlatılır.

Buna göre işaret dili ile iletişim kuran insanlar aşağıdaki duyu organlarından hangisini en fazla kullanır?

- A) Kulak B) Göz C) Burun

3. DENEME SINAVI

HAYAT BİLGİSİ

1.



Arkadaşım Talha defterimin sayfalarını kopartmış. Ona çok sinirliyim.

Tahir aşağıdakilerden hangisini yaparsa **yanlış** davranış sergilemiş olur?

- A) Talha'nın defterinin sayfalarını kopartırsa
- B) Sakinleşmeye çalışırsa
- C) Talha ile kavga etmezse

2. Aşağıda verilen bilgilerden hangisi **yanlıştır**?

- A) Kroki, bir yere yukarıdan bakıyormuş gibi çizilir.
- B) Kroki, belli bir ölçeğe göre çizilir.
- C) Kroki çizerken kare, üçgen ve daire gibi geometrik şekillerden faydalanılabilir.

3.



Cengiz

Benim seçtiğim eğitici kulübün amacı ülkemizin tabii ve tarihi güzelliklerini tanıtmaktır.

Cengiz hangi eğitici kulübü seçmiştir?

- A) Kültür ve Edebiyat Kulübü
- B) Bilim, Fen ve Teknoloji Kulübü
- C) Gezi, Tanıtma ve Turizm Kulübü

4.



Yukarıdaki görsele göre aşağıdaki yorumlardan hangisi **yapılamaz**?

- A) Aile bireyleri arasında anlaşmazlık yaşanmaktadır.
- B) Aile bireyleri birbirlerine yardım etmektedir.
- C) Aile bireyleri üzerine düşen sorumlulukları yerine getirmektedir.

14. Aşağıdaki alışveriş listelerinin hangisinde temel ihtiyaçlara öncelik verilmiştir?

A)



B)



C)



15. Aşağıdaki yiyeceklerden hangisini çölyak hastaları dikkatli tüketmelidir?

A)



B)



C)



TÜRKÇE

1. “Yüzmek” sözcüğü, aşağıdakilerin hangisinde “Kol, bacak gibi organların hareketleriyle su içinde ilerlemek” anlamında kullanılmıştır?

- A) Kitaplar toz içinde yüzüyor.
 B) Tahta suda yüzüyordu.
 C) Emine denizde yüzüyor.

2. Hangi seçenekteki sözcükler arasında, diğerlerinden farklı bir anlam ilişkisi vardır?

- A) İhtiyar - Yaşlı
 B) Hekim - Doktor
 C) Cesur - Korkak

3. Dağlar() taşlar() akarsular çağlar boyu insanların kalplerinin derinliklerinde sakladığı gizli bir arzuyu anlatır() edebiyat arzusu()

Boşluklara gelmesi gereken noktalama işaretleri sırasıyla hangileridir?

- A) (,) (,) (.) (?) B) (,) (,) (:) (.)
 C) (,) (;) (:) (!)

MATEMATİK

1. 3 yüzlük, 0 birlikten, 4 onluktan oluşan sayının okunuşu aşağıdakilerden hangisidir?

- A) Üç yüz kırk
B) Üç yüz dört
C) Üç yüz bir

2.



128 TL



255 TL



236 TL

Nuri yukarıda fiyatları verilen ürünlerden birer tane alıyor.

Buna göre Nuri toplam kaç TL ödeme yapar?

- A) 529 B) 619 C) 633

3. Aşağıdaki sayılardan hangisi en yakın yüzlüğe yuvarlandığında 800 **olmaz**?

- A) 799 B) 851 C) 845

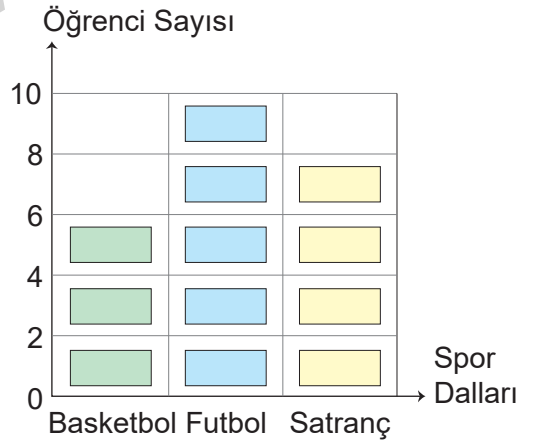
4.

$$\begin{aligned} 20 + 30 &= 50 \\ 4 + 3 &= 7 \\ 50 + 7 &= 57 \end{aligned}$$

Yukarıda zihinden yapılmış olan işlem aşağıdakilerden hangisidir?

- A) $55 + 33$ B) $24 + 33$
C) $22 + 30$

5. Grafik: Öğrencilerin En Çok Sevdikleri Spor Dalları



(Her şekil 2 öğrenciyi göstermektedir.)

Buna göre aşağıdaki ifadelerden hangisi **yanlıştır**?

- A) Bu sınıfta en çok futbol sporu sevilmektedir.
B) Bu sınıfta toplam 24 öğrenci vardır.
C) Bu sınıfta satrancı seven 16 öğrenci vardır.

FEN BİLİMLERİ

1.



Bir astronot araştırma yapması için uzaya gönderilmiştir. Uzay mekiğinde çektiği Dünya'nın fotoğrafını ise araştırma merkezine göndermiştir.

Astronotun fotoğrafında Dünya'nın şekli nasıl görülür?

- A) Dünya'nın şekli kareye benzerdir.
- B) Dünya'nın şekli küreye benzerdir.
- C) Dünya'nın şekli dikdörtgene benzerdir.

2.

Kokulu	• •	Yay
Sert	• •	Deodorant
Esnek	• •	Tabak

Yukarıdaki maddelerin özellikleri hangi seçenekte doğru eşleştirilmiştir?

- A) B) C)

3.

- Canlılar için gerekli gazların karışımı Dünya'nın★..... tabakasında bulunur.
- Yağmur, kar, dolu gibi olaylar Dünya'nın●..... tabakasında görülür.
- Dünya yüzeyinin dörtte birini kaplayan▲..... tabakasıdır.

Yukarıda Dünya'yı oluşturan tabakalarla ilgili bilgiler verilmiştir.

Buna göre ★, ● ve ▲ kısımlara aşağıdakilerden hangisi gelmelidir?

	★	●	▲
A)	Hava	Su	Kara
B)	Kara	Hava	Su
C)	Hava	Hava	Kara

4. Süngerin yumuşak olduğunu ile hissederiz. Düdük sesini ile duyarız.




Noktalı yerlere sırasıyla hangi duyu organlarının adı yazılmalıdır?

- A) göz - deri
- B) dil - kulak
- C) deri - kulak

5. Dünya'nın şekli aşağıdaki meyvelerden hangisine benzer?

- A) B) C)

14. Aşağıda verilen maddeler ve bu maddeleri niteleyen özellikler hangisinde doğru olarak verilmiştir?

- A) 
Oyun hamuru
- B) 
Ampul
- C) 
Porselen tabak
- Renkli
Yumuşak
Sert
Kokulu
Kırılgan
Esnek

15. Aşağıdakilerden hangisi **yanlış** bir bilgi vermiştir?

- A) 
Nuray
- B) 
Mustafa
- C) 
Kemal
- Deri, vücudumuzdaki zararlı maddelerin bir kısmını ter yoluyla dışarı atar.
Kulağımız, nefes alırken solunan havanın nemlenmesini ve ısınmasını sağlar.
Çevredeki varlıkların fiziksel özelliklerini gözlerimiz ile görürüz.

İNGİLİZCE


1.



Sally'nin konuşmasındaki boşluğa hangi kelime gelmelidir?

- A) What B) How C) Nice

2.



Arthur:

Michelle: Sixteen.

Yukarıdaki görsele göre Michelle, Arthur'un hangi sorusuna cevap vermiştir?

- A) How many blocks are there?
B) Have you got a lorry and a robot?
C) How many robots are there?

4. DENEME SINAVI

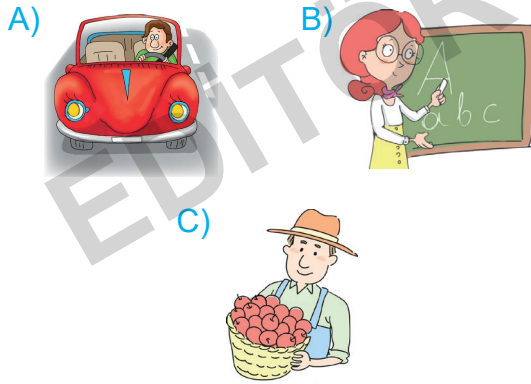
HAYAT BİLGİSİ

1. **Aslan:** Arkadaşım Seyhan kimseyle alay etmez, herkesi olduğu gibi kabul eder. Bu nedenle Seyhan, sınıfta çok sevilen birisidir.

Aslan, Seyhan'ın hangi özelliğinden bahsetmiştir?

- A) Kötümser B) Çalışkan
C) Hoşgörülü

2. Aşağıdakilerden hangisi insanların besin ihtiyacı sonucunda ortaya çıkmış bir meslektir?



3. • Market alışverişi yapmak
• Oyuncakları toplamak
• Çamaşır yıkamak

Yukarıdakilerden kaç tanesi 3. sınıf öğrencisinin evdeki sorumlulukları arasında yer alır?

- A) 1 B) 2 C) 3



Emir yolda yürürken kavşağa geldiğinde yayalar için kırmızı ışığın yanıldığını gördü.

Bu durumda Emir'in aşağıdakilerden hangisini yapması doğru olur?

- A) Geçiş hakkı kendisinde olduğu için yoluna devam etmelidir.
B) Yol boşsa koşarak karşıya geçmelidir.
C) Durup yayalar için yeşil ışığın yanmasını beklemelidir.

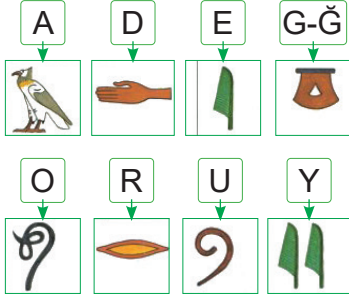


Yukarıdaki meyvelerden kaç tanesi kış meyvesidir?




- A) 3 B) 2 C) 1

TÜRKÇE

1. Aşağıda Mısır alfabesindeki şekiller alfabemizdeki karşılıkları ile verilmiştir.



“YANLIŞ” kelimesinin zıt anlamlısı yukarıdaki harflerle nasıl yazılır?

- A) 
- B) 
- C) 

2. Kokar burcu burcu güller,
Öter dallarda bülbüller.
Açar menekşeler, sümbüller,
Ne güzeldir Türkiye'miz.

Bu dörtlüğün ana duygusu aşağıdakilerden hangisidir?

- A) Tarihî değerler
B) Memleket sevgisi
C) İyilik

3. “Ay” sözcüğü, aşağıdakilerin hangisinde farklı bir anlamda kullanılmıştır?


- A) Bir yılda on iki ay vardır.
B) Geçen ay, faturayı yatırmayı unutmuş.
C) Ay; gökyüzünün incisidir, nazar boncuğudur.

4. Aşağıdakilerden hangisinde konuşma kurallarına uyulmamıştır?

- A) Zeynep konuşmacı olarak katıldığı bir seminerde beden dilini etkili bir şekilde kullanmıştır. Ayrıca kelimeleri doğru bir şekilde kullanmaya da dikkat etmiştir.
B) Selim, sınıf arkadaşlarına “Teknoloji” başlığı ile ilgili bilgiler vermiştir. Selim arkadaşlarıyla bilgilerini paylaşırken sık sık uzun cümleler kurmuştur. Bazen de konu dışına çıkmış ve arkadaşlarının kafasının karışmasına sebep olmuştur.
C) Kerem iş yerindeki arkadaşlarıyla şirketin kalkınma planını paylaşmıştır. Mikrofonun bozuk olduğunu son anda fark etmiştir. Bu nedenle ses tonunu arka tarafta oturan arkadaşlarının duyabileceği şekilde ayarlamıştır.

MATEMATİK

1.



Yukarıdaki her bir şekil, içinde yazan rakamı temsil etmektedir.

Buna göre çözümlemesi

“5 yüzlük + 2 onluk + 4 birlik” olan sayı aşağıdakilerden hangisidir?

- A)
- B)
- C)

2. Aşağıdaki bölme işlemlerinden hangisinin sonucu **yanlıştır**?

- A) $30 \div 10 = 3$
- B) $48 \div 4 = 16$
- C) $28 \div 7 = 4$

3.



Özge

$$80 + 30 = 110$$


$$4 + 2 = 6$$

$$110 + 6 = 116$$

Özge, hangi işlemi zihninden yapmaktadır?

- A) $84 + 36$
- B) $82 + 82$
- C) $84 + 32$

4. **Grafik:** Öğrencilerin Giydiği Ayakkabıların Şekil Grafiği



(Her şekil 6 öğrenciyi temsil etmektedir.)

Yukarıda bir sınıftaki öğrencilerin giydiği ayakkabıların şekil grafiği verilmiştir.

Buna göre aşağıdakilerden hangisi doğrudur?

- A) Sınıftaki öğrenciler en çok bot giyinmektedir.
- B) Babet giyinen öğrencilerin sayısı $3 \times 6 = 12$ kişidir.
- C) Spor ayakkabı giyinenlerin sayısı $4 \times 6 = 24$ kişidir.

5. Ahmet'in 49 tane bilyesi vardır. Arkadaşlarına beşer bilye dağıtınca kendisine 4 bilye kalıyor.

Buna göre Ahmet'in kaç arkadaşı vardır?

- A) 8 B) 9 C) 10

FEN BİLİMLERİ

1.



Suna

Dünya'nın şekli küreye benzer.



İpek

Dünya üstten ve alttan biraz basık, yanlardan şişkindir.



Serdar

Dünya'nın kendisine özgü şekline "geoit" denir.

Yukarıdaki öğrencilerden hangileri doğru bilgi vermiştir?

- A) Suna ve İpek
B) Serdar ve Suna
C) Suna, İpek ve Serdar

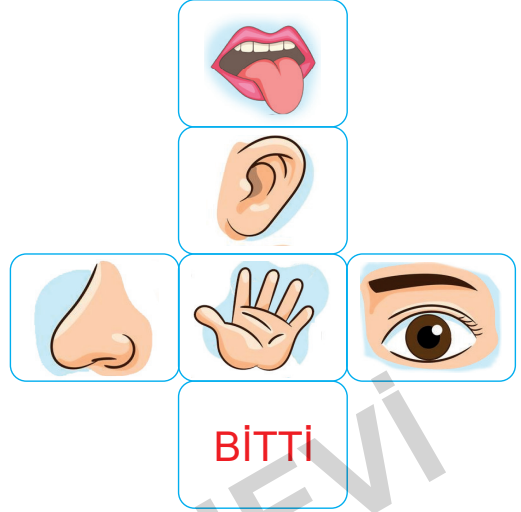
2.

- I. Kulaklarımızı darbelere karşı korumalıyız.
II. Burnumuzu yabancı maddeler ile karıştırmamalıyız.
III. Kitap okurken ışığın çok fazla olmasına özen göstermeliyiz.

Duyu organlarımızın sağlığına yönelik yukarıda verilen açıklamalardan hangileri doğrudur?

- A) I ve III B) II ve III C) I ve II

3.



Ali beş duyu organıyla ilgili küp oyunu hazırlıyor. Küpün yüzeylerine şekildeki gibi duyu organlarının resimlerini yerleştiriyor ve bir yüzeyine de "BİTTİ" yazıyor.

Küpü atan kişi küpün üst yüzeyinde bulunan duyu organına ait örnekler verecektir. Küpün BİTTİ yazan yüzü geldiğinde oyun sonlanacaktır.

Ali'nin arkadaşları küpü attıklarında verdikleri örnekler şunlardır:

Samet: Yemeğin acı olduğunu algılarız.

SümeYra: Gökkuşağının renklerini fark ederiz.

Ayla: Parfüm kokusunu algılarız.

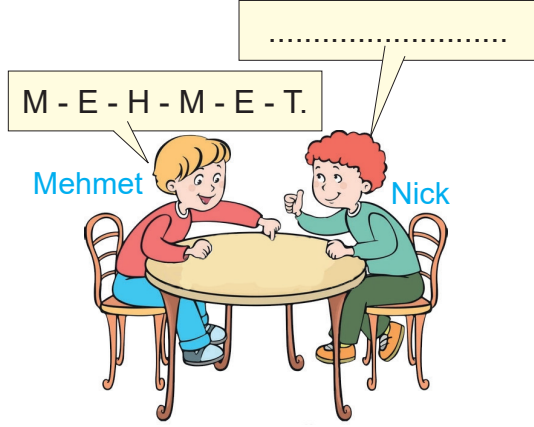
Cemal: BİTTİ.

Buna göre Ali'nin arkadaşları küpü attıklarında hangi duyu organıyla ilgili örnek **vermemiştir?**

- A) Göz B) Burun C) Deri

İNGİLİZCE


1.



Boşluğa aşağıdakilerden hangisi gelmelidir?

- A) What is your name?
- B) Spell your name, please.
- C) My name is Mehmet.

2.



Mia: This is my family. Emily is my ... and Steve is my Tom is

Görsele göre boşluklara sırasıyla hangi seçenekte verilenler getirilmelidir?

- A) mother - father - brother
- B) grandpa - father - brother
- C) father - mother - brother

3.



Görselleri yansıtan mekân isimleri sırasıyla hangi seçenekte doğru olarak verilmiştir?

- A) hospital / school / bank
- B) bank / hospital / school
- C) bank / school / hospital

4. Chloe: Hi! Where is the post office?

Darren: I'm sorry.

Boşluğa hangi ifade getirilmelidir?

- A) It's over here.
- B) In the park.
- C) I don't know.

5.



Verilen fare görseline göre boşluğa hangi soru gelmelidir?

- A) Is it tall?
- B) Is it big?
- C) Is it small?

5. DENEME SINAVI

HAYAT BİLGİSİ

1. • Milli şairimizdir.
• Halterde rekor kırarak dünya şampiyonu olan sporcumuzdur.
• İstiklâl Marşı'mızın yazarıdır.

Aşağıda verilen kişiler ile yukarıdaki bilgileri eşleştirdiğimizde hangisi dışarıda kalır?

- A) Mehmet Akif Ersoy
B) Naim Süleymanoğlu
C) Engin Arık

2.

	Alışveriş yaparken reklamların etkisinde kalmamalıyız.
	Aldığımız ürünlerin ambalajlarını kontrol etmeliyiz.
	Aldığımız ürünlerin fiyatlarına bakmamalıyız.

Yukarıda verilen ifadelerden doğru olanların başına "D", yanlış olanların başına "Y" yazıldığında cevap aşağıdakilerden hangisi olur?

- A)

D
D
Y

 B)

D
D
D


 C)

Y
D
Y

3. Aşağıdaki çocuklardan hangisi kişisel bakımını yaparken yanlış davranmıştır?

- A) Azra: Dişlerimi fırçalarken musluğu kapatırım.
B) Aslı: Temizlik malzemelerini bolca kullanırım.
C) Zeynep: Temizlik araç ve gereçlerini özenli kullanırım.

4.



Oyun araçlarının kullanımına dikkat edilerek göresele göre aşağıdakilerden hangisi söylenemez?

- A) İkisi de oyun araçlarını güvenli kullanmaktadır.
B) Elif gerekli ekipmanları takarak meydana gelecek bir kazaya karşı kendini korumuştur.
C) Emrah hiçbir ekipman kullanmadığı için kazalarda yara alabilir.

TÜRKÇE

1. Düzyazılarda genellikle satır başlarıyla birbirlerinden ayrılan bölümlerin her biri.

Yukarıda hangi sözcüğün sözlük anlamı verilmiştir?

- A) Cümle
B) Metin
C) Paragraf

2. Göğüs kafesimizin içinde () göğüs kemiğinin hemen altında yer alan ve özel bir kastan oluşan organımıza () kalp () denir ()

Bu cümlede yay ayraç () içindeki boşluklara, hangi noktalama işaretleri sırasıyla getirilmelidir?

- A) (!) (") (") (.)
B) (,) (") (") (.)
C) (,) (,) (,) (!)

3. I. Civan sabah erkenden kalktı ve amcasını aradı.
II. Onu çok seven amcası da hemen Civanlara gitti ve onu alıp parka götürdü.
III. Amcasına kendisini parka götürmesini söyledi.

Bu cümleler oluş sırasına göre hangi seçenekte doğru sıralanmıştır?

- A) I - III - II
B) II - I - III
C) III - II - I

4.



Gelmek



Gitmek

Yukarıda verilen anlam ilişkisi aşağıdakilerden hangisinde yoktur?

- A) Gece - Gündüz
B) Soğuk - Sıcak
C) Mutlu - Neşeli

5.

En verimli yağmur alın teridir.
Cenap Şahabettin

Bu özdeyişe ilgili bir metin yazarsak metnin ana düşüncesi ne olur?

- A) Oyunun önemi
B) Çalışmanın önemi
C) Yağmurun önemi

6.

Her yerin cennet yurdum
Seni daima koruyacağım.
Dünyalara değişmem senin
Bir karış toprağını.

Yukarıdaki şiire konulabilecek en uygun başlık hangisidir?

- A) Yurt Sevgisi
B) Toprağın Korunması
C) Cennet ve Dünya

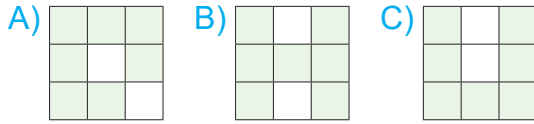
MATEMATİK

1.

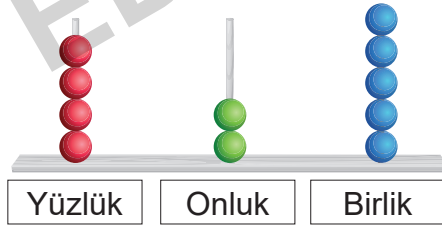
35	28	36
41	32	44
39	43	38

Yukarıdaki kutucuklarda 40'a yuvarlanan sayılar boyanacaktır.

Buna göre kutucukların boyalı görünümünü aşağıdakilerden hangisidir?



2.



Sevim yukarıdaki abaküste bulunan her bir çubuktan birer boncuk alıyor.

Buna göre kalan boncukların oluşturduğu sayının okunuşu aşağıdakilerden hangisidir?

- A) Dört yüz yirmi beş
B) Üç yüz yirmi dört
C) Üç yüz on dört

3.

$$\begin{array}{r} 40 \quad | \quad 7 \\ \hline \quad \quad | \quad A \\ \hline \quad \quad | \quad B \end{array}$$

Yukarıdaki bölme işleminde $A + B$ toplamı kaçtır?

- A) 10 B) 11 C) 12

4.



Ben 9 yaşındayım.
Dedemin yaşı benim yaşımdan 7 katıdır.

Mustafa

Buna göre Mustafa ile dedesinin yaşları toplamı kaçtır?

- A) 72 B) 70 C) 63

5.



Yıldızların üzerinde bulunan sayılar kullanılarak yazılabilecek üç basamaklı en büyük çift sayı ile üç basamaklı en küçük çift sayı arasındaki fark kaçtır?

- A) 495 B) 220 C) 180

FEN BİLİMLERİ

1.




Samet

Gaz hâlindeki maddeler küçük deliklerden çıkabilir.

Aşağıdakilerden hangisi Samet'in açıklamasına uygun bir örnektir?

- A) Kartonun sallayınca havanın yüzümüze çarpması
- B) İğne batırılan balonun havada dönmesi
- C) Dökülen kolonyanın kokusunun odaya yayılması

2.



Pisagor



Macellan



Biruni



Kristof Kolomb

Yukarıdakilerden kaç tanesi Dünya'nın şeklinin belirlenmesine yönelik çalışmalar yapmıştır?

- A) 2
- B) 3
- C) 4

3. Emre canlıların ortak özellikleri ile ilgili aşağıdaki görselleri hazırlamıştır.



Çekirdekten bir süre sonra ayçiçeği oluşuyor.




Yeni doğan panda bir süre sonra anne olur ve yavrusunu sütle besler.

Buna göre canlılarla ilgili görseller dikkate alındığında aşağıdaki ifadelerden hangisi söylenemez?

- A) Bu canlılar büyür, gelişir, çoğalır ve ölürler.
- B) Pandalar büyüyüp gelişene kadar anne bakımına ihtiyaç duyar.
- C) Tohumlar uygun şartlarda çimlenir, büyür ve çiçek açar.

4. Aşağıdaki görsellerden hangisinin şeklini daha az bir kuvvet uygulayarak değiştirebiliriz?



İNGİLİZCE

1. Aşağıdaki görsellerden hangisi verilen ifade ile **uyuşmamaktadır**?



Good evening.



Good afternoon.



Good night.

2.



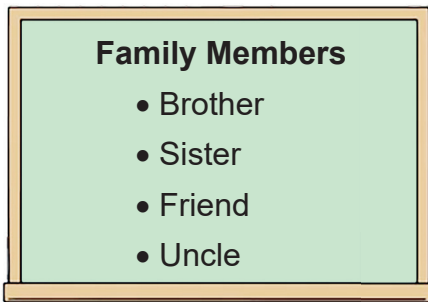
Yukarıdaki görseller uygun öneri cümleleri ile eşleştirildiğinde hangi öneri cümlesi dışarıda kalır?

A) Let's cook.

B) Let's study.

C) Let's swim.

3.



Yukarıdaki listede olmaması gereken sözcük hangi seçenekte verilmiştir?

A) Uncle

B) Brother

C) Friend

4.



I'm young.
I am tall and thin.

Özellikleri verilen kişi hangisidir?

A)



B)



C)



6. DENEME SINAVI

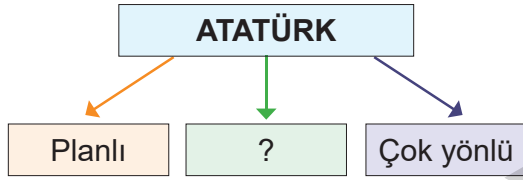
HAYAT BİLGİSİ

1. **Nazlı:** Annem evde dün aniden bayılınca ben de hemen Acil Çağrı Merkezi'ni aradım.

Nazlı aşağıdaki numaralardan hangisini aramıştır?

- A) 175 B) 112 C) 186

2.



Atatürk'ün kişilik özelliklerini yukarıdaki şemaya yazmak isteyen birisi aşağıdakilerden hangisini yazmaz?

- A) Tembel
B) Kararlı
C) İleri görüşlü

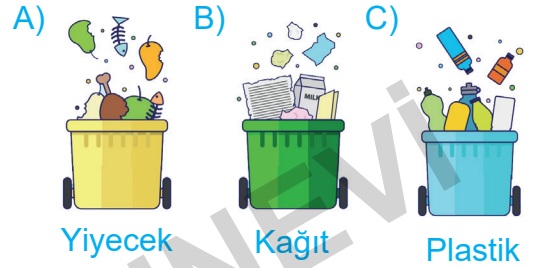
3. İhtiyaçlarımızı sözlü olarak belirtirken nezaket ifadeleri kullanmalıyız.

Aşağıdakilerden hangisi nezaket ifadesi değildir?

- A) Lütfen
B) Rica ederim
C) Defol

4. Atıkların yeniden değerlendirilmesine geri dönüşüm denir.

Aşağıdakilerden hangisinin geri dönüşümü yoktur?



5. **Aşağıdakilerden hangisi cumhuriyetin ilanından sonra yapılan değişikliklerden biri değildir?**

- A) Kadınlara seçme ve seçilme hakkı tanındı.
B) Basında bazı kısıtlamalar yapıldı.
C) Takvim, saat ve ölçüler yeniden düzenlendi.

6. **Aşağıdaki kişilerden hangisi çevrenin korunması ile ilgili sivil toplum kuruluşlarından biri değildir?**



TÜRKÇE

1. Aşağıdaki cümlelerde yer alan altı çizili sözcüklerden hangisinin eş seslisi **yoktur**?

- A) Yüz ayrı yerde okul yaptırmışlar.
 B) Ben o panayıra katılmamıştım.
 C) On yıl sonra ilk kez buluşmuştuk.

2. Aşağıdaki cümlelerin hangisinde bir sözcük, zıt anlamıyla birlikte kullanılmıştır?

- A) Akıllı uslu duran çocuk birden ağlamaya başladı.
 B) Zengin fakir herkes buraya akın etti.
 C) Ak ellerini beyaz saçlarına götürdü.

3. Caretta caretalar, sırt tarafı kırmızımsı kahverengi olan ve denizde yaşayan bir deniz kaplumbağası türüdür.

Bu cümleden “caretta caretalar” ile ilgili aşağıdaki bilgilerden hangisine **ulaşamaz**?

- A) Nerede yaşadıklarına
 B) Fiziksel bazı özelliklerine
 C) Nasıl beslendiklerine

4. () Nereye gidiyorsun?

() Ayçiçeği tarlasına gidiyorum.

Yukarıda () ile gösterilen yerlere hangi noktalama işareti getirilir?

- A) İki nokta (:)
 B) Konuşma çizgisi (–)
 C) Soru işareti (?)

5. Bugün benim bayramım,
Okuluma kavuştum.

Ayrılık sona erdi,
Çiçeklere karıştım.

Yukarıdaki şiirde şairin hangi duygusu sona ermiştir?

- A) Özlem B) Sevgi C) Kıskançlık

6. I. ----- okuldan geldi.

II. ----- ellerini yıkadı.

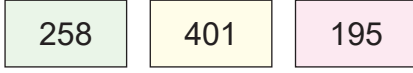
III. ----- sofraya oturdu.

Anlamli bir bütünlük oluşturmak için cümlelerde boş bırakılan yerlere sırasıyla hangileri getirilmelidir?

- | | I | II | III |
|----|------|------------|------------|
| A) | Önce | Sonra | Daha sonra |
| B) | Önce | Daha sonra | Sonra |
| C) | Önce | Sonuçta | Sonra |

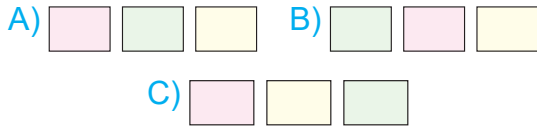
MATEMATİK

1.

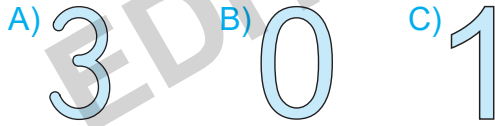


Efsa yukarıdaki sayıları en yakın yüz-
lûğe yuvarladıktan sonra kartları kü-
çükten büyüğe doğru sıralıyor.

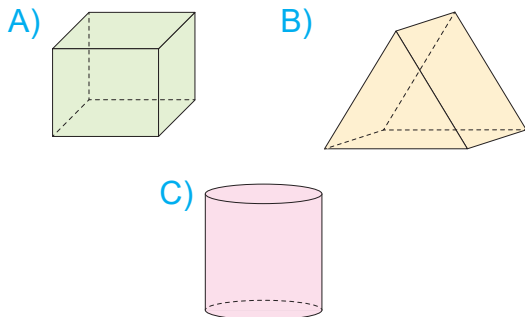
Buna göre Efa'nın yaptığı sıralama
aşağıdakilerden hangisidir?



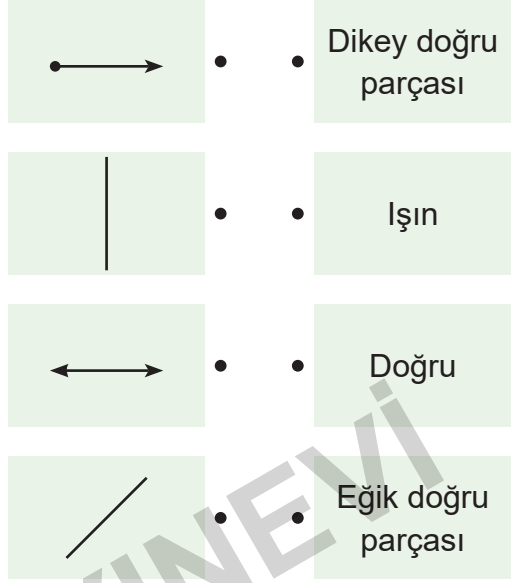
2. Aşağıdaki sayılardan hangisinin bir-
den fazla simetri doğrusu vardır?



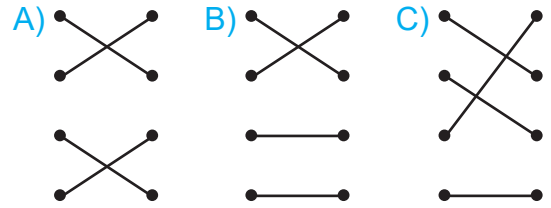
3. Aşağıdaki geometrik cisimlerinden
hangisinin ayrıtı **yoktur**?



4.



Yukarıda verilen şekiller isimleriyle
eşleştirilirse görünüm aşağıdaki-
lerden hangisi gibi olur?




5. Irmak, marketten yarım litrelik 8 kutu
süt, 1 litrelik 6 kutu ayran, 2 litrelik 3
kutu meyve suyu alıyor.

Aldıkları içecekler toplam kaç litre-
dir?



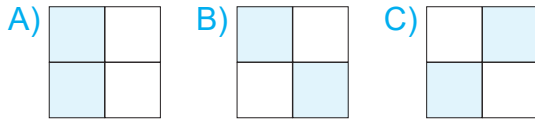
FEN BİLİMLERİ

1.

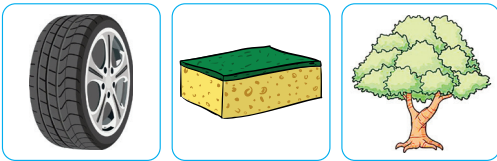


Yukarıdaki tabloda suda yaşayan canlıların bulunduğu kutucuklar taranacaktır.

Buna göre tablonun görüntüsü nasıl olur?



2.



Yukarıda verilen maddeler için;

- I. Üçü de esnektir.
 - II. Üçü de kırılımandır.
 - III. Üçünün de yüzeyleri pürüzlüdür.
- ifadelerinden hangileri doğrudur?

A) Yalnız I B) Yalnız III C) II ve III

3. Aşağıdaki mesleklerden hangisi kulağın iyi işitmesiyle yakından ilgilidir?

A)



B)



C)



4. Bahar ve yaz aylarında geceleri uçarken yanıp sönen ışıkları ile tanınan ateş böcekleri ılıman iklim bölgelerinde çiçekler veya küçük bitkiler üzerinde bulunur. Işık saçan organları karın bölümünün son kısmında bulunur.

Buna göre ateş böcekleri ile ilgili verilenlerden hangisi doğrudur?

- A) Yapay ışık kaynağıdır.
- B) Işık kaynağı değildir.
- C) Doğal ışık kaynağıdır.

İNGİLİZCE

1.



Görsele göre sorunun cevabı hangisi olmalıdır?

- A) I'm eight years old.
- B) I'm nine years old.
- C) I'm ten years old.


2.



Diyalogdaki boşluğa hangi soru cümlesi yazılmalıdır?

- A) Who is she?
- B) Who is he?
- C) Who are you?

3.




1. The rabbit is

2. The turtle is

Görsele göre boşluklara gelecek uygun kelimeler hangi seçenekte verilmiştir?

- A) 1. big 2. small
- B) 1. fat 2. slim
- C) 1. fast 2. slow

4.



Görsellere göre Danny aşağıdaki-lerden hangisini söyler?

- A) Danny: I love pigeons, but I dislike whales.
- B) Danny: I like ladybirds, but I dislike sharks.
- C) Danny: I love bees, but I dislike dolphins.

ÜCRETSİZ
İÇERİK İÇİN



İvedik Organize Sanayi Matbaacılar Sitesi
1518 Sok. Mat-Sit İş Merkezi No:2/20
Yenimahalle / ANKARA
Tel: 0 312 384 20 33 - 0 505 925 57 81
Faks: 0312 342 23 58
www.editoryayinevi.com | bilgi@editoryayinevi.com

ISBN 978-605-280-465-0



9 786052 180465 0