



İlköğretim ve Ortaöğretim Bursluluk Sınavı (İOKBS)

BURSLULUK SINAVI



Fasiküllü

DENEME SINAVI



5. SINIF

İLKÖĞRETİM KURUMLARI BURSLULUK SINAVI HAZIRLIK KİTABI

EDİTÖR

Turgut MEŞE

YAZAR

Komisyon

©

Bütün hakları Data Yayınları'na aittir.

Yayınevinin izni olmaksızın, kitabın tümünün veya bir kısmının elektronik, mekanik yollarla ya da fotokopi yoluyla basımı, çoğaltılması ve dağıtımı yapılamaz.

BU KİTAP T.C. KÜLTÜR VE TURİZM BAKANLIĞININ
BANDROLÜ İLE SATILMAKTADIR.

ISBN NO

978-605-7701-76-3

SERTİFİKA NO

40447

SAYFA TASARIMI

Data Dizgi Ekibi

KAPAK TASARIMI

Data Grafik Tasarım Ekibi

BASKI VE CİLT

Data Dijital Matbaacılık
ANKARA



İvedik Organize Sanayi Matbaacılar Sitesi

1518 Sok. Mat-Sit İş Merkezi No:2/20

Yenimahalle / ANKARA

Tel: 0 312 384 29 95 - 0 505 925 57 81

Fax: 0312 342 23 58

Web: www.datayayinlari.com

e-mail: bilgi@datayayinlari.com

SINAV İÇİN ÖNEMLİ AÇIKLAMA!

DERSLER VE SORU DAĞILIMI

Ders Adı	Soru Sayısı
TÜRKÇE	25
MATEMATİK	25
FEN BİLİMLERİ	25
SOSYAL BİLGİLER	20
DİN KÜLTÜRÜ	5
TOPLAM SORU SAYISI	100
SINAV SÜRESİ	120 Dakika

DERSLERİN AĞIRLIK KATSAYILARI

Ders Adı	Ağırlık Katsayısı
TÜRKÇE	3
MATEMATİK	3
FEN BİLİMLERİ	3
SOSYAL BİLGİLER VE DİN KÜL.	3
TOPLAM	12

Her test için yanlış cevap sayısının üçte biri, doğru cevap sayısından çıkarılarak geçerli cevaplara karşılık gelen ham puanlar bulunur.



BURSLULUK SINAVI

1.

DENEME SINAVI



1. “Ağır” sözcüğü aşağıdaki cümlelerin hangisinde farklı bir anlamda kullanılmıştır?

- A) Bu ağır kasayı da götürün.
- B) Ağır yük taşımaktan bıktım.
- C) Demir ağır bir madendir.
- D) İşlerini ağırdan alıyordu.

2. Aşağıdaki cümlelerin hangisinde yansıma bir sözcük kullanılmıştır?

- A) Filmin sonuna doğru gözyaşlarını tutamadı.
- B) Acı bir fren sesiyle irkildi annem.
- C) Parlak bir güneş belirdi bulutların arasından.
- D) Topraktan yükselen buğu, çalılardan çitirtıları arasında insana bir ferahlık veriyor.

3. Aşağıdaki altı çizili sözcüklerden hangisi somut anlamlı iken soyut anlam kazanmıştır?

- A) İnsan bu kadar taş kalpli olur mu?
- B) Çok zeki bir çocuktü.
- C) Bahçede çeşit çeşit gül vardı.
- D) Benim de hayallerim vardı.

4. Bilgi: Yapım eki almış sözcüklere türemiş sözcükler denir.

Örnek:

Buna göre aşağıdaki seçeneklerden hangisi bu duruma örnek olarak verilebilir?

- A) gelinlik, kalemlik, koşucu, dalgıç
- B) geldi, gitti, koştu, uyudu
- C) sev, bak, iç, ye
- D) sıra, masa, kalem, ağaç

5. Aşağıdakilerden hangisinde türemiş bir kelime kullanılmamıştır?

- A) Araba buzlu yollardan gitti.
- B) Kitabı, kitaplıktaki yerine koy.
- C) Öğrenciler dışarıda top oynuyorlar.
- D) Babamı çok ama çok seviyorum.

6. Türk-İslam bilimi kendinden önce gelen Yunan ve Hint bilim geleneklerini devralarak özümsemiş, yeni sentezlerle bilimin gelişmesine hizmet etmiştir.

Metinde yer alan altı çizili kelimedede bulunan ses olayı aşağıdaki cümlelerin hangisinde de vardır?

- A) Yabancı romanlar büyük bir özenle Türkçeye çevrildi.
- B) Gösterdiği ilgi karşısında kayıtsız kalamamıştı.
- C) Onu ne kadar sevdiğimi her hareketimle hissettiriyorum.
- D) Beni neden hiçbiriniz anlamıyorsunuz?

7. Kullanacağımız üslup ne kadar güzel olursa karşımızdaki insanı o kadar iyi ikna edebiliriz.

Aşağıdaki cümlelerden hangisi yukarıdaki cümle ile aynı doğrultudadır?

- A) Tatlı tatlı yiyip, tatlı tatlı konuşalım.
- B) Bal tutan parmağını yalar.
- C) Tatlı söz yılanı deliğinden çıkarır.
- D) Söz gümüşse sükût altındır.

8.

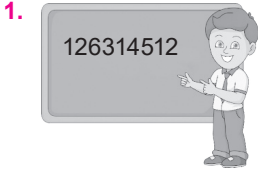
- I. stresten
- II. dur
- III. önemliyse
- IV. uzak
- V. sağlığın

Yukarıdaki sözcüklerle anlamlı ve kurallı bir cümle kurulmak istense sıralama nasıl olur?

- A) II – I – III – IV – V
- B) V – III – I – IV – II
- C) IV – III – I – II – V
- D) I – III – II – V – IV

9. Aşağıdaki cümlelerin hangisinde şart anlamı vardır?

- A) Zamanında gidersek otobüse yetişebiliriz.
- B) Kış geldiği için köyüne döndü.
- C) Yıllardır aynı işte çalışıyor.
- D) Her akşam kitap okuyup öyle uyurum.



Öğretmen tahtaya bir sayı yazmış ve bazı öğrencilere aşağıdaki görevleri vermiştir.

Ali, rakamlar toplamını hesapla

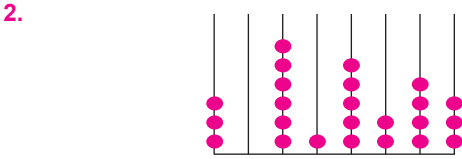
Ahmet, çift rakamları topla

Sami, tek rakamları topla

İrem, bölük sayısının karesini bul

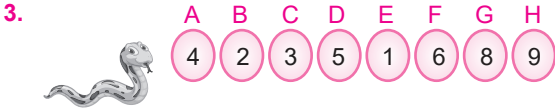
Hangi ikisinin bulduğu sayılar arasında iki fark vardır?

- A) Ali ile Ahmet B) İrem ile Sami
C) Ahmet ile Sami D) Ali ile İrem



Yukarıdaki abaküste verilen sayının rakamları toplamı kaçtır?

- A) 21 B) 22 C) 23 D) 24



Şekildeki yılan üzerinde sayı yazan deliklerin her birine bir kez girip çıkmıştır.

Yılan bunu aşağıdaki sıralamalardan hangisine göre yaparsa elde edilen sayı 8 basamaklı en küçük çift sayı olur?

- A) E - C - H - B - A - F - G - D
B) E - B - C - A - D - F - H - G
C) E - C - D - H - B - A - F - G
D) E - C - D - H - B - A - F - G

4. $585 + 15 = 600$
 $600 + 300 = 900$

Aylin yukarıda hangi toplama işlemini zihinden yapmıştır?

- A) $585 + 315$ B) $585 + 415$
C) $485 + 315$ D) $385 + 215$

5.

	A	B	C	D	E
	+	3	8	3	2
		6	5	9	4

Yukarıdaki toplama işlemine göre 5 basamaklı ABCDE sayısı kaçtır?

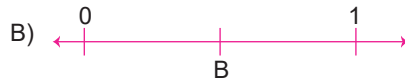
- A) 17256 B) 17258
C) 18268 D) 19267

6. Bir kazandaki su 1 saat boyunca kaynatılınca ağırlığının $\frac{3}{5}$ 'ni kaybediyor.

Buna göre 1 saat sonunda 9 litre eksilen su başlangıçta kaç litredir?

- A) 11 B) 13 C) 15 D) 17

7. Eşit bölmelere ayrılan sayı doğrusunda $\frac{1}{3}$ birim kesri aşağıdakilerin hangisinde doğru olarak gösterilmiştir?



8. Zülfiye bir pastanın $\frac{1}{6}$ 'sını yemiş, arkadaşı Canan da Zülfiye'nin yediği pastanın dörtte biri kadarını yemiştir.

Bu bilgilere göre Zülfiye, Canan'dan ne kadar fazla pasta yemiştir?

- A) $\frac{1}{2}$ B) $\frac{1}{4}$ C) $\frac{1}{6}$ D) $\frac{1}{8}$


1. Güneş ile ilgili,

- I. Güneş'in uzaya verdiği ısı enerjisi Güneş'in merkezinde üretilmektedir.
- II. Güneş'in yapısında bulunan hidrojen yüksek sıcaklık altında birleşerek helyum atomlarını oluşturur. Bu olaya çekirdek tepkimesi denir.
- III. Güneş de Dünya gibi katmanlardan oluşur.

İfadelerinden hangileri doğrudur?

- A) Yalnız I B) I ve II
C) II ve III D) I, II ve III

2.



Yukarıda numaralandırılan gök cisimlerinin adları sırasıyla aşağıdakilerden hangisinde doğru olarak verilmiştir?

- A) Ay – Dünya – Güneş
B) Güneş – Ay – Dünya
C) Dünya – Güneş – Ay
D) Dünya – Ay – Güneş

3. Aşağıdakilerden hangisi Dünya'nın şeklinin küre olduğunu kanıtlayan bir olaydır?

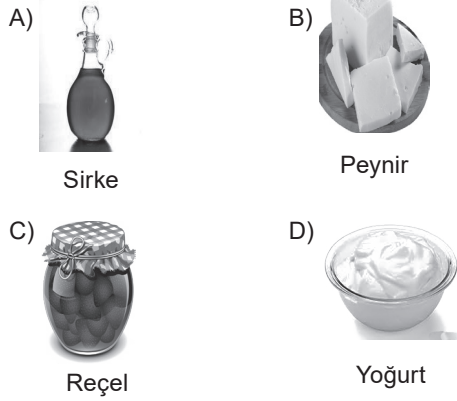
- A) Bir noktadan kalkan uçağın hep aynı yöne doğru hareket ettiğinde tekrar aynı noktaya gelmesi
B) Yeryüzüne düşen Güneş ışınlarının ortamın sıcaklığını artırması
C) Dünya'nın Güneş etrafında dolanması
D) Gökyüzünün renginin mavi olması

4. Bakterilerle ilgili aşağıda verilenlerden hangisi yanlıştır?

- A) Mikroskop olmadan görülemezler.
B) Ölü bitki, hayvan ve yiyecek atıklarını çürütürük toprağa karışmalarını sağlarlar.
C) Uzun mesafelere taşınabilirler.
D) Tüm çeşitleri canlılara zarar verir.

5. Mikroskopik canlıların bir kısmı ilaç üretiminde kullanılır. Bunun yanında birçok besin maddesinin üretiminde de mikroskopik canlılardan yararlanır.

Aşağıdakilerden hangisinin yapımında mikroskopik canlılar kullanılmaz?



6.

- I. Mantar
- II. Bakteri
- III. Mikroskopik canlılar

Yukarıdaki canlı gruplarından hangilerinin bazı türleri diğer canlılarda hastalık yapar?

- A) II ve III B) I ve II
C) Yalnız II D) I, II ve III

7. Mikroskopik bazı canlılar besinlerimizin ekşimesine ve küflenmesine neden olur.

Yiyecek ve içeceklerimiz aşağıdaki ortamların hangisinde diğerlerinden daha fazla bozulur?

- A) Ağzı kapalı bir kaptaki ve soğuk ortamda
B) Ağzı açık bir kaptaki ve sıcak ortamda
C) Ağzı kapalı bir kaptaki ve karanlık ortamda
D) Ağzı açık bir kaptaki ve soğuk ortamda

1. Bazı olaylar sadece ortaya çıktıkları yeri değil daha geniş alanları etkileyebilir. Örneğin, Suriye’de yaşanan savaş bu duruma örnek olarak verilebilir.

Aşağıdaki seçeneklerden hangisi verilen bu duruma örnektir?

- A) Suriye halkının büyük bir çoğunluğunun farklı ülkelere göç etmiş olması
B) Birçok insanın hayatını kaybetmiş olması
C) Suriye’de öğrencilerin okula gidememesi
D) Ülkede açlık sorununun yaşanması

2. Sosyal bilgiler dersinde yaşamımıza yön veren bazı değer ve beceriler kazanırız. Doğru karar vermek, sorunları çözerken kendimizi karışımızdaki kişilerin yerine koymak bunlardan bazılarıdır. Hem tarihimizi hem de ülkemizle birlikte dünyadaki kültürleri tanıma fırsatı da buluruz. Hem ülkemizde hem de farklı ülkelerde yaşamış önemli insanların yaptıklarından haberdar oluruz.

Buna göre aşağıdakilerden hangisi sosyal bilgiler dersinin bireye sağladığı faydalardan biri değildir?

- A) Empati yeteneği kazandırır.
B) Dünyada var olan farklı değerleri öğretir.
C) Hayatımıza yön veren yeni yetenekler kazandırır.
D) Farklı kültürlerle ön yargı ile yaklaşmamızı sağlar.

3. Anadolu uygarlıklarından olan; Lidyalılar, Frigler ve Urartuların kralları geniş yetkilere sahipti. Ancak Hititlerde ise krallar geniş yetkilere sahip olsalar da “Pankuş” denilen bir meclis tarafından denetlenmekteydi.

Buna göre aşağıdakilerden hangisine ulaşılabilir?

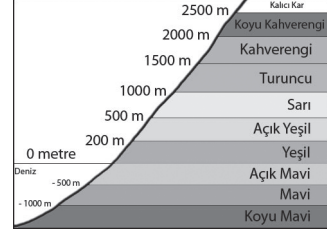
- A) Anadolu uygarlıkları arasında yoğun bir şekilde ticaret yapılmaktadır.
B) Lidyalılar, Frigler ve Urartular aynı soydan gelmektedir.
C) Hititlerde kralın yetkileri sınırsız değildir.
D) Hititler belirli bir zümre tarafından yönetilmektedir.

4. • Ürgüp ve Göreme’de bulunur.
• Çevresindeki yanardağlardan püsküren lavlardan dolayı oluşmuştur.
• İnsanlar bu soğumuş lavların içine evler yapmışlardır.

Yukarıda özellikleri verilen doğal varlık aşağıdakilerden hangisidir?

- A) Kapadokya
B) Saklıkent
C) Van Gölü
D) Hasankeyf

- 5.



Murat, Adana’da 5–A sınıfına giden bir öğrencidir. Adana ilinin deniz seviyesinden yüksekliğinin 23 metre olduğunu öğrenmiştir.

Zeynep, Konya’da 5–C sınıfına giden bir öğrencidir. Konya ili merkezinin deniz seviyesinden 1016 metre yüksek olduğunu öğrenmiştir.

Bu iki öğrenci yaşadıkları yerlerle ilgili bir fiziki harita çizerken hangi renkleri daha fazla kullanmalıdır?

	Murat	Zeynep
A)	Mavi	Kahverengi
B)	Yeşil	Turuncu
C)	Sarı	Kahverengi
D)	Açık Yeşil	Mavi

6. Çığ; eğimli yamaçlarda tutunamayan kar kütlelerinin yuvarlanarak büyümesiyle meydana gelir. Bu afet eğimin ve kar yağışının fazla olduğu yerlerde görülür.

Buna göre çığın yoğun olarak görüldüğü bölge aşağıdakilerden hangisidir?

- A) Doğu Anadolu
B) Ege
C) Marmara
D) İç Anadolu

7. Geçmişte bilgiye ulaşmak günümüzdeki kadar kolay değildi, epey zamanımızı alıyordu. Bilgiye ulaşmak için kitaplara, dergilere ve ansiklopedilere başvurmak gerekiyordu. İnternetle birlikte saniyeler içinde bilgiye ulaşabilmekteyiz. Bilgi edinmek istediğimiz konu ile ilgili arama motoruna birkaç kelime yazmamız yeterli. Yaptığımız aramanın sonucunda yüz binlerce, bazen milyonlarca bilgi bize sunulmaktadır.

Yukarıdaki açıklamada internetin aşağıdaki özelliklerinden hangisine vurgu yapılmaktadır?

- A) Zamanın eğlenceli geçmesini sağlamasına
B) Bilgiye kolay ve hızlı ulaşmayı sağlamasına
C) Oyun oynamayı kolaylaştırmasına
D) Çocukların sosyal nitelikler kazanmasını sağlamasına



BURSLULUK SINAVI

2.

DENEME SINAVI



1. I. Öfkeli ailenin ateşi dinmedi.
II. Adam bardak kırar gibi kalp kırıyordu.
III. Üzerinde yırtık pırtık bir elbise vardı.
IV. Sınavdan sonra aklı başına geldi.
Yukarıda numaralanmış cümlelerin hangisinde mecaz anlam yoktur?
A) I B) II C) III D) IV
2. "İyi – kötü" kelimeleri arasındaki anlam ilişkisi aşağıdakilerden hangisinde **yoktur**?
A) gece – gündüz B) kısa – uzun
C) yalan – yanlış D) siyah – beyaz
3. Aşağıdaki cümlelerin hangisinde altı çizili sözcük soyutken somut anlam kazanmıştır?
A) Toplantıda çok heyecanlanmıştı.
B) Valizine birkaç parça da mutluluk koydu.
C) Keskin fikirlerinin olduğunu bilmiyordum.
D) Büyüklerine karşı çok saygılıydı.
4. Aşağıdaki cümlelerin hangisinde birleşik kelime vardır?
A) Boğulmak üzere olan çocuğa cankurtaran yetişti.
B) Saçındaki toka çok güzeldi.
C) Kızlar genellikle pembe rengi sever.
D) Yıllardır Ankara'da tek başına kalıyor.
5. Aşağıdaki seçeneklerin hangisinde yer alan kelimelerin tamamı türemiştir?
A) et – sucuk – yumurta – tava
B) kapıcı – gelinlik – durak – vatandaş
C) mutluluk – sevgi – güz – gül
D) kalemlik – silgi – sıra – masa
6. Şiddet ve kötü söz, girdiği her yeri kirletir, çirkin gösterir.
Yukarıdaki cümle ile aşağıdaki cümlelerden hangisi yakın anlamlıdır?
A) Başkalarını değil sadece kendimizi düşünmeliyiz.
B) Başkalarının kusurlarını görmezden gelmeliyiz.
C) Güzel söz her yeri aydınlatır, çirkinlikleri örter.
D) Arkadaşlarımızla kavga etmek kötü bir davranıştır.
7. I. başlar
II. her şey
III. bir
IV. sevmekle
V. insanı
Yukarıdaki sözcüklerle kurallı bir cümle oluşturmak istense sıralama nasıl olur?
A) II – III – V – IV – I B) II – III – IV – I – V
C) III – II – I – IV – V D) I – II – III – IV – V
8. Sevgi, insanı birliğe; bencillik de yalnızlığa götürür.
Aşağıdaki cümlelerden hangisi yukarıdaki cümleyle ters düşer?
A) Sevgi kardeşlik ve dayanışmayı güçlendirir.
B) İnsanlar sevgi sayesinde birliğe ulaşır.
C) Bencil insanların sosyal çevresi geniş olur.
D) Bencil insan aynı zamanda yalnızdır.
9. Aşağıdaki cümlelerin hangisinde benzetme anlamı vardır?
A) Dünyalar kadar ödevim var.
B) Doğum gününde ona pasta yaptırmış.
C) Korkudan gözleri fal taşı gibi açıldı.
D) İsteddiği elbise alınmayınca kıyameti kopardı.

1.

542918349

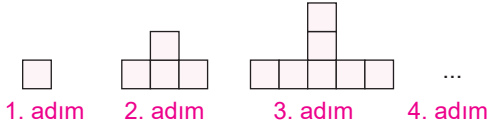
Bir basamak ayrıştırma makinesinde, yukarıdaki sayı için 1 rakamının basamak değeri aşağıdakilerden hangisidir?

- A) 10000 B) 1000
C) 100 D) 10

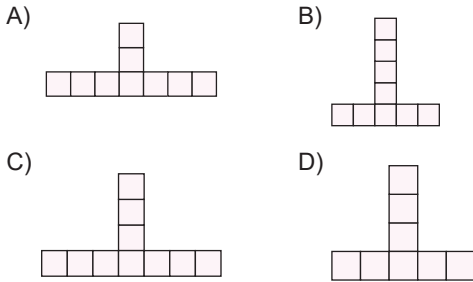
2. Sayılar ile ilgili aşağıda verilen cümlelerden hangisi yanlıştır?

- A) 0 hem rakam hem de sayıdır.
B) 0 bir doğal sayıdır.
C) 0 bir sayma sayısıdır.
D) İki basamaklı en küçük doğal sayı 10'dur.

3.



Yukarıdaki örüntü için 4. adım aşağıdakilerden hangisidir?



4.

Kalem	5 TL
Silgi	2 TL
Defter	6 TL
Çanta	49 TL

Okul hazırlığı yapan Gizem 3 kalem, 2 silgi, 8 defter ve 1 çanta almıştır.

Buna göre Gizem kırtasiyeye ne kadar öder?

- A) 115 B) 116
C) 118 D) 120

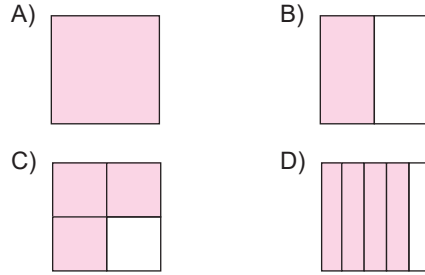
5.

$$1 + 2 + 3 + \dots + 21$$

Yukarıdaki ardışık sayıların toplamı kaçtır?

- A) 215 B) 220 C) 225 D) 231

6. $\frac{16}{20}$ kesrine denk olan kesir aşağıdakilerden hangisidir?



7. Bir davetteki misafirlerin $\frac{1}{3}$ 'ü çocuk, kalanların $\frac{3}{4}$ 'ü ise kadındır.

Bu davetten kadınların ne kadarı ayrılırsa çocuklar tüm misafirlerin yarısı olur?

- A) $\frac{1}{2}$ B) $\frac{1}{3}$ C) $\frac{1}{4}$ D) $\frac{2}{3}$

8. $\frac{2}{3} + \frac{1}{3} + \frac{4}{5} + \frac{1}{5}$ işleminin sonucu kaçtır?

- A) 2 B) $\frac{2}{5}$ C) 3 D) $\frac{4}{3}$

9. $\frac{K}{18} + \frac{2}{9} + \frac{9}{18} = 1$ olduğuna göre K doğal sayısı kaçtır?

- A) 2 B) 3 C) 4 D) 5

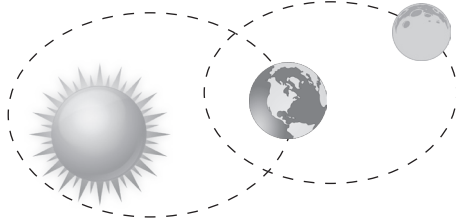
10. 284,976 ondalıklı sayısında 7 rakamının bulunduğu basamak aşağıdakilerden hangisidir?

- A) Birler Basamağı
B) Onda Birler Basamağı
C) Yüzde Birler Basamağı
D) Binde Birler Basamağı

1. Ay ve Dünya kendi eksenleri etrafında aşağıdakilerden hangisi gibi döner?

	Dünya	Ay
A)		
B)		
C)		
D)		

2.



Yukarıda verilen modele göre ,

- I. Güneş, Dünya ve Ay'ın şekilleri birbirine benzer.
- II. Güneş, Dünya ve Ay'dan daha büyüktür.
- III. Ay, Dünya'dan küçüktür.

İfadelerinden hangileri doğrudur?

- A) Yalnız I B) I ve II
C) II ve III D) I, II ve III

3.



Murat

Ay'ın evreleri düzenli olarak değişen bir doğa olayıdır.



Songül

Ay, Dünya'nın etrafında dolanırken Güneş alan yüzeyinin büyüklüğü değişir.



Sevgi

Ay'ın değişik şekillerde görünmesi, Dünya'nın etrafında dolmasından kaynaklanır.

Yukarıdaki öğrencilerden hangilerinin verdiği bilgiler doğrudur?


- A) Murat, Songül ve Sevgi B) Murat ve Sevgi
C) Sevgi ve Songül D) Yalnız Songül

4. Ay kabuğunun üzerinde taş ve tozdan oluşan bir tabaka bulunur. Bu tabakaya ...?... adı verilir.

Yukarıdaki cümlede “?” yerine aşağıdakilerden hangisi gelmelidir?

- A) ay denizi B) ay dağları
C) krater D) regolit

5.



Koyun

Keçi

Patates

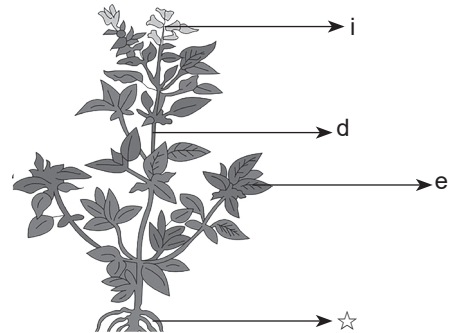
Tavşan

İbrahim, arkadaşlarına canlıları anlatmak için sınıfa canlıların resimleri olan kartları getirmiştir. Sonra sınıfa “Bu canlılardan hangisi besin ihtiyacını dışarıdan karşılamaz?” sorusunu yöneltmiştir.

Buna göre hangi arkadaşı doğru cevabı vermiştir?

- A) Gülten: Keçi B) Tuba: Patates
C) Türkan: Koyun D) Gamze: Tavşan

6.



Yukarıdaki görselde bitkinin bölümleri yanındaki sembollerle gösterilmiştir.

Buna göre verilen bilgilerden hangisi yanlıştır?

- A) i → Bitkinin üreme organıdır.
B) e → Bitkide besin üretiminde görevlidir.
C) d → Bitkide tozlaşmada görevlidir.
D) ☆ → Topraktan su ve mineralleri alır.

1. Çocuk haklarının korunması için Birleşmiş Milletler Çocuklara Yardım Fonu (UNICEF) kurulmuştur. UNICEF'in amacı dünyanın her yerinde herhangi bir ayırım yapmadan çocuklara yardım etmektir. UNICEF, zaman zaman yayınladığı raporlarla çocukların yaşadıkları zorlukları tüm dünyaya duyurmaktadır.

Buna göre UNICEF aşağıdakilerden hangisini gerçekleştirme için kurulmamıştır?

- A) Çocukların haklarını korumak
- B) Ayırım yapmadan dünyadaki tüm çocuklara yardım etmek
- C) Savaşların çıkmasını önleyerek barışı sağlamak
- D) Çocukların yaşadıkları zorlukları rapor haline getirmek

2. Bir grupta yer alarak bazı haklar elde ederiz. Buna ailemizden örnek verebiliriz. Ailemizde çocuk olarak, haklarımızdan biri eğitim alabilmemiz için ihtiyaçlarımızın karşılanmasıdır. Yer aldığımız gruplardaki rollerimizin gereklerini yerine getirmek sorumluluk olarak isimlendirilir. Sonuç olarak rollerimize uygun davrandığımızda o rolle ilgili sorumluluklarımızı da yerine getirmiş oluruz. Sorumluluklarımızı yerine getirerek başarılı ve mutlu bireylerin olduğu bir toplumun oluşmasına katkıda bulunabiliriz.

Buna göre;

- I. Hak ve sorumluluk birbirinin tamamlayıcısıdır.
- II. Sorumlulukların yerine getirilmesi toplumda huzuru sağlar.
- III. Her insan toplum içerisinde tek bir role sahiptir.

yukarıdaki yargılardan hangilerine ulaşamaz?

- A) I ve II
- B) Yalnız III
- C) II ve III
- D) Yalnız I

3. Bir topluma ve millete kimlik kazandıran, diğer uluslarla arasındaki farkı belirlemeye yarayan, tarih boyunca meydana gelen ve kuşaktan kuşağa aktarılan her türlü duygu, düşünce, din, dil, sanat gibi o millete ait maddi ve manevi değerlerin bütününe kültür denir. Günlük hayatımızda uzun süredir birçok kültürel unsur yaşamaktadır. Yiyeceklerimiz, geleneklerimiz, kıyafetlerimiz vb. kültürümüze ait olup bazıları değişerek bazıları da değişmeden günümüze kadar ulaşmıştır.

Buna göre aşağıdaki kültürel unsurlarımızdan hangisi daha az değişime uğrayarak günümüze kadar gelmiştir?

- A) Giysilerimiz
- B) Yemeklerimiz
- C) Yapı kültürümüz
- D) El sanatlarımız

4. (.....) Süleymaniye Camii tarihi eserlerimiz arasında yer almaktadır.

(.....) Mevlana Türbesi, Konya ilimizde bulunmaktadır.

(.....) Marmara Bölgesi'nde bulunan Erzurum, kış sporları yapılan bir ilimizdir.

(.....) Pamukkale ve Peribacaları tarihi eserlerimize örneklerdir.

Yukarıda verilen bilgilerden doğru olanların başına "D", yanlış olanların başına "Y" yazdığımızda doğru seçenek aşağıdakilerden hangisi olur?

- A) D, D, Y, Y
- B) D, D, Y, D
- C) D, Y, D, Y
- D) D, Y, D, D

5. Doğal çevrede meydana gelen değişimlerden bazıları doğal yolla gerçekleşirken, bazıları da beşeri etkilerle ortaya çıkmaktadır. Bir yeri yaşam alanı olarak seçen insanlar o yerdeki doğal kaynakları kullanır. İnsanlar bunu yaparken bazen çevreye zarar vererek doğal dengeyi bozarlar. Doğal dengenin bozulmasıyla da çevre sorunları ortaya çıkar.

Buna göre aşağıdakilerden hangisi beşeri etkilerle ortaya çıkan ve doğal dengeyi bozan sorunlar arasında yer almaz?

- A) Hava kirliliği
- B) Su kirliliği
- C) Toprak kirliliği
- D) Çiğ düşmesi

6. Bir bilişim uzmanı internet kullanıcılarına şu tavsiyede bulunmaktadır. Bir tek internet sitesinden alınan bilgiyle yetinilmemelidir. Elde edilen bilgi, farklı internet sitelerindeki bilgilerle ve kitap, ansiklopedi gibi kaynaklarla karşılaştırılmalıdır.

Buna göre bilişim uzmanının internet kullanıcılarının bu şekilde davranmalarını istemesinin nedeni aşağıdakilerden hangisidir?

- A) Doğru bilgiye ulaşılmasını sağlamak
- B) İnternet kullanımını azaltmak
- C) Belirli konuların incelenmesini sağlamak
- D) Zaman kaybını önlemeye çalışmak



BURSLULUK SINAVI

3.

DENEME SINAVI



1. “Sözcük–kelime” arasındaki anlam ilişkisi aşağıdaki-lerden hangisinde yoktur?

- A) öykü – hikâye B) söylemek – susmak
C) fayda – yarar D) güçlü – kuvvetli

2. Aşağıdaki cümlelerin hangisinde özelden genele doğru bir sıralama vardır?

- A) Diktiğimiz küçük ağaçlardan dev bir orman oluşmuş.
B) Kırmızı kalemimi okulda unutmuşum.
C) Haftaya cuma günü sinemaya gideceğiz.
D) Arkadaşımın çok güzel bir sesi var.

3. Aşağıdaki altı çizili sözcüklerden hangisi yan anlamıyla kullanılmamıştır?

- A) Dağın sırtlarında geziniyorlardı.
B) Kapının kolunu çıkardı.
C) Masanın üstündekileri yere döktü.
D) Yeni aldığı ayakkabının burnu kırılmıştı.

4.



Bir yorgunluk kahvesi
yapsan da beraber
içsek.



O zaman orta şekerli
güzel bir kahve yapayım
sana.

Yukarıdaki konuşmada altı çizili sözcüklerin yapı bakımından çeşitleri sırasıyla hangisinde doğru verilmiştir?

- A) türemiş – basit – türemiş – basit
B) basit – türemiş – birleşik – basit
C) türemiş – türemiş – birleşik – basit
D) birleşik – türemiş – birleşik – basit

5. Aşağıdaki altı çizili sözcüklerden hangisi birden fazla yapım eki almıştır?

- A) Kitaplıktaki tüm kitapları okumuş.
B) Arkadaşının hediye ettiği kalemliği çok beğendi.
C) Birdenbire neden durgunlaştın?
D) Yazarın yeni yapıtı çok tutuldu.

6. Aşağıdaki altı çizili sözcüklerden hangisine ünlü ile başlayan bir ek geldiğinde herhangi bir ses olayı olmaz?

- A) Yurt, bir halkın üzerinde yaşadığı toprak parçasıdır.
B) “Kurt ile Kuzu” masalını ilgiyle dinlerdi.
C) Taşan süt her tarafı batırıyordu.
D) Dert babası gibiydi.

7. (1) Sosyal yönün gelişmişse yazar olamazsın. (2) Bu uğraşı benimsemişsen sosyal yanında bir eksiklik var demektir. (3) Böyle bir eksiklik insanlarla iletişim kurmanı zorlaştırır. (4) Sen de oturursun tek başına masaya ve iğneyle kuyu kazmaya başlarsın.

Bu parçadaki numaralanmış cümlelerle ilgili olarak aşağıda verilenlerden hangisi yanlıştır?

- A) 1. cümlede, bir koşuldan söz edilmektedir.
B) 2. cümlede, bir çıkarım yapılmaktadır.
C) 3. cümlede, 2. cümlede belirtilenlere bağlı olarak bir sonuca varılmaktadır.
D) 4. cümlede, bir amaç belirtilmektedir.

8. Sevdiğini elde edemezsen elde ettiğini sevmeye çalış.
Yukarıdaki cümle ile aşağıdakilerden hangisi yakın anlamlıdır?

- A) Herkesi insan olduğu için çok sevmeliyiz.
B) İnsan, elinde olan şeylerin kıymetini bilmelidir.
C) Sevginin açamayacağı kapı yoktur.
D) Çok çalışmalı, hep daha fazlasını istemelidir.

9. Aşağıdaki seçeneklerin hangisinde bir tanım yapılmıştır?

- A) Şiir, duygu ve düşüncelerin kafiyeli bir şekilde bir araya getirilmesine denir.
B) Özellikle roman türünde kitaplar okurum.
C) Hikâyeler, romanlara göre daha kısa yazılardır.
D) Masallarda olağanüstü olaylar anlatılır.

10. Aşağıdaki cümlelerin hangisinde kişi cümleye kendi duygularını katmıştır?

- A) Bu kitap 100 sayfadan oluşuyor.
B) Kitap 2015'te basıldı.
C) Kitap o kadar güzeldi ki çok etkilendim.
D) Kitabın kapağında küçük bir çocuk resmi vardı.

1. İki yüz milyon üç bin iki şeklinde okunuşu verilen sayı aşağıdakilerden hangisidir?

- A) 203 303 002
B) 230 030 002
C) 203 003 002
D) 200 003 002

2. Türkiye'de bilgisayar kullanıcılarının sayısı 19 614 587'dir.

Yukarıdaki notu yazan Arif, iki basamağın yerini karıştırmıştır.

Sonuç asıl olması gerekenden 29 997 000 eksik olduğuna göre hangi rakamların yeri değişmiştir?

- A) 5 ile 1 B) 9 ile 6
C) 1 ile 4 D) 7 ile 4

3. $\textcircled{3} \rightarrow \textcircled{7} \rightarrow \textcircled{4}$
 $\textcircled{5} \rightarrow \textcircled{11} \rightarrow \textcircled{6}$
 $\textcircled{8} \rightarrow \textcircled{15} \rightarrow \textcircled{?}$

Yukarıda verilen örüntüye göre "?" yerine gelmesi gereken sayı kaçtır?

- A) 4 B) 5 C) 6 D) 7

4.
$$\begin{array}{r} a \ 3 \ 4 \ 8 \ 4 \\ 1 \ 8 \ 3 \ b \ 5 \\ + \ 2 \ c \ 3 \ 2 \ d \\ \hline 6 \ 8 \ 1 \ 5 \ 0 \end{array}$$

Yukarıdaki toplama işleminde verilmeyen a, b, c ve d sayıları aşağıdakilerden hangisinde doğru verilmiştir?

- | | <u>a</u> | <u>b</u> | <u>c</u> | <u>d</u> |
|------|----------|----------|----------|----------|
| A) 1 | 2 | 3 | 4 | |
| B) 2 | 4 | 6 | 1 | |
| C) 8 | 4 | 3 | 1 | |
| D) 1 | 3 | 4 | 5 | |

5. İki doğal sayının farkı 5624'tür. Eksileni 140, çıkarıcı 25 arttırsak yeni fark kaç olur?

- A) 5730 B) 5735 C) 5739 D) 5740

6. Bir lokantada satılan içeceklerin $\frac{3}{8}$ 'i ayrandır.

Satılan ayran miktarı 45 adet olduğuna göre bu lokantada kaç tane içecek satılmıştır?

- A) 110 B) 120 C) 130 D) 140

7.

A	B	C
$\frac{1}{2}$	$\frac{3}{2}$	$\frac{5}{6}$

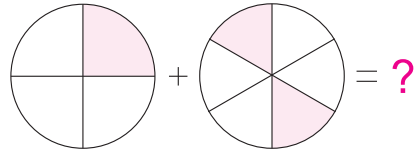
Yukarıdaki kesirlerin **küçükten büyüğe doğru sıralanışı** aşağıdakilerden hangisidir?

- A) $A < C < B$ B) $C < B < A$
C) $B < A < C$ D) $B < C < A$

8. $\frac{1}{2} + \frac{3}{4} + \frac{7}{3}$ işleminin sonucu kaçtır?

- A) $\frac{7}{12}$ B) $\frac{23}{12}$ C) $\frac{33}{12}$ D) $\frac{43}{12}$

9.



Yukarıdaki modele göre toplama işleminin sonucu kaçtır?

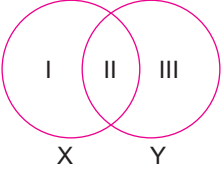
- A) $\frac{7}{12}$ B) $\frac{3}{5}$ C) $\frac{12}{25}$ D) $\frac{3}{9}$

10.

I: $\frac{3}{4} = 0,75$ II: $\frac{2}{5} = 2,5$
III: $4\frac{1}{2} = 4,02$ IV: $3\frac{1}{2} = 3,5$

Yukarıda verilen eşleştirmelerden kaç tanesi doğrudur?

- A) 1 B) 2 C) 3 D) 4

1.  Fen Bilimleri öğretmeni tahtaya yandaki şemayı çizmiştir. “Şemada I numaralı kısma sadece X ile ilgili özellikler, III numaralı kısma sadece Y ile ilgili özellikler yazılırken II numaralı kısma da hem X hem de Y ile ilgili ortak özellikler yazılacaktır.” şeklinde açıklama yaptıktan sonra şemada numaralandırılan bu kısımlara;

- I. Atmosferi olmadığı için hava olayları gözlenmez.
II. Küre şeklindedir.
III. Dev bir gaz ve toz bulutundan meydana gelir.
bilgilerini yazmıştır.

Verdiği bu bilgiler doğrultusunda X ve Y ile gösterilen gök cisimlerinin ne olabileceğini soran öğretmene öğrencileri şu cevapları vermiştir.

	X	Y
Eda	Ay	Dünya
Ela	Dünya	Güneş
Ersin	Ay	Güneş
Eray	Güneş	Ay

Buna göre hangi öğrencinin verdiği cevabın her iki si de doğrudur?

- A) Eda B) Ela C) Ersin D) Eray

2. Çiğdem, sınıf tahtasına;

- I. Ay, Dünya'dan daha büyüktür.
II. Ay, sadece Dünya etrafında döner.
III. Ay, Güneş'in uydusudur.

bilgilerini yazıyor. Eren Öğretmen Çiğdem'e bazı bilgilerin hatalı olduğunu söylüyor.

Çiğdem hangi bilgileri düzeltirse öğretmenden tam not alır?

- A) Yalnız II B) Yalnız III
C) I ve II D) I, II ve III

3.

- (....) Ay'ın çapı, Dünya'nın çapından küçüktür.
- (.....) Ay sadece kendi eksenini etrafında döner.
- (.....) Ay, bir ışık kaynağıdır.

Yukarıda verilen ifadelerden doğru ise “D”, yanlış ise “Y” şeklinde kodlanması yapılacaktır.

Buna göre uygun kodlama sırasıyla aşağıdakilerden hangisidir?

- A) D, D, D B) D, Y, Y
C) Y, D, Y D) Y, Y, D

4. Akşam yemeğinde sofraya mantar getiren annesine “Ben mantar yemem çünkü zehirlidir.” diyen Aslı annesinin “Hayır bu zehirli mantarlardan değil.” demesiyle yemeğini yemiştir.

Buna göre Aslı'nın annesinin pişirdiği mantar aşağıda verilenlerden hangisidir?

- A) Kültür mantarı
B) Maya mantarı
C) Küf mantarı
D) Parazit mantarı

5. I. Omurgalıdır
II. Yavrularını sütle besler
III. Vücutları kıllarla kaplıdır

Verilen özelliklere sahip canlı aşağıdakilerden hangisi olabilir?

- A) Sazan B) Kartal
C) Kertenkele D) Keçi


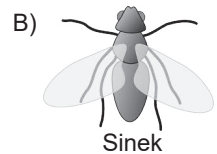
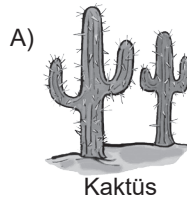
6. “Güneş ışığı + ? + Su → Besin + Oksijen”

Eda Öğretmen tahtaya yukarıda verilen olayı yazarak öğrencilerinden yorum yapmalarını istemiştir.

Buna göre hangi yorum yanlıştır?

- A) Güneş ışığı kullanılır.
B) Gece de gerçekleşir.
C) Besin ve oksijen üretilir.
D) “?” yerine karbondioksit yazılmalıdır.

7. Aşağıdaki canlılardan hangisi yaşadıkları ortam bakımından farklı sınıfta yer alır?



1. Aşağıda verilenlerden hangisi etkin ve sosyal bir vatandaşın özelliklerinden biri değildir?

- A) İstek ve yeteneklerinin farkındadır.
- B) Ülke ve dünya sorunlarına karşı duyarsız değildir.
- C) Karşılaştığı sorunları çözme becerisi gelişmiştir.
- D) Her zaman kendi haklarını ön planda tutmaktadır.

2. Plan; bir işin ve bir eserin gerçekleştirilmesi için uyulması tasarlanan düzendir.

Aşağıdakilerden hangisi planın faydalarından biri değildir?

- A) Düzenli çalışma becerisi kazandırır.
- B) Zamanın tasarruflu kullanılmasını sağlar.
- C) İşlerin birikmesine neden olur.
- D) Sevdiklerimize daha çok vakit ayırmamızı sağlar.

3. Anadolu tarih öncesi devirlerden itibaren insanların gelip yerleştikleri bir yer olmuştur. Anadolu iklimiyle, yer-yüzü şekilleriyle, tarım ve hayvancılık gibi ekonomik faaliyetlere elverişliydi. Asya ve Avrupa kıtaları arasında yer aldığından çok fazla göç alıyordu. Bu özellikleriyle dünyanın en eski şehirlerinden olan Çatalhöyük (Konya) ve en eski tapınaklarından olan Göbeklitepe (Şanlıurfa) Anadolu'da bulunuyor.

Buna göre insanların Anadolu'ya en eski tarihlerden beri yerleşmelerinin nedenleri arasında aşağıdakilerden hangisi yer almaz?

- A) İnsanların yaşayışlarına uygun olması
- B) Göç yolları üzerinde olması
- C) İklim şartlarının uygun olması
- D) Demokratik yönetimlerin olması

4. Yemeklerimiz, önemli kültürel değerlerimiz arasında yer almaktadır. Hayvancılıkla uğraşan yörelerde yemekler daha çok et ağırlıklı olurken, tarımla uğraşan yörelerde ise daha çok sebze ağırlıklı yemekler tüketilmektedir.

Buna göre aşağıdaki sonuçlardan hangisine ulaşılabilir?

- A) Kültürel değerler tüm yörelerde aynıdır.
- B) Kültürel değerler insanları birbirine yakınlaştırmaktadır.
- C) Ekonomik faaliyetler kültürel öğelerin yöreler arasında farklılaşmasına neden olmaktadır.
- D) Kültürel farklılıklar doğal karşılanmalıdır.

5. Toprak kirliliği; insanlar tarafından toprağın içine ya da üzerine bırakılan veya başka şekillerle toprağa karışan zararlı maddeler nedeniyle toprağın yapısının bozulmasıdır. Sudan toprağa karışan maddeler, havadan toprağa gelen maddeler, tarım alanlarında kullanılan ilaç ve gübrelere kaynaklanan kimyasal maddeler, çöpler ve atıklar çevre kirliliğine neden olur.

Buna göre aşağıdakilerden hangisine ulaşamaz?

- A) İnsanoğlu doğanın dengesini bozmaktadır.
- B) Toprak kirliliği üzerinde birçok faktör etkili olmaktadır.
- C) Toprağın yapısının bozulmasında zararlı maddelerin etkisi vardır.
- D) İnsanların doğal denge üzerinde hiçbir etkisi yoktur.

6.



Yukarıdaki haritada verilen iller ile ilgili aşağıdakilerden hangisi yanlıştır?

- A) Manisa ilimizde Akdeniz iklimi görülmektedir.
- B) Ordu ilimizin bitki örtüsü ormandır.
- C) Nevşehir ilimizin iklimi karasal iklimdir.
- D) Van ilimiz fiziki haritada yeşil renkle gösterilir.

7. Araştırma konusunda ortaya konulan eserde geçen bilgilerin güvenilir olmasının ve kaynakları oluşturan kişilerin emeklerine saygı duyulmasının sağlanması için kaynakça belirtilmelidir. Kaynakların belirtilmesi, yapılan araştırmanın bilimsel ve güvenilir olduğunu gösterir.

Oluşturulan eserin kaynakça bölümünde aşağıdaki bilgilerden hangisi yer almaz?

- A) Yazarın adı soyadı
- B) Yazarın doğum tarihi
- C) Kitabın basıldığı yer
- D) Kitabın basıldığı yıl



BURSLULUK SINAVI

4.

DENEME SINAVI



1. "Aşağı yukarı yarım saatlik yolumuz kalmıştı."

Aşağıdaki cümlelerin hangisinde bu cümledeki altı çizili sözle anlam bakımından aynı doğrultuda olan bir ikileme kullanılmıştır?

- A) Çocuk hemen hemen on yaşlarındaydı.
B) Çamurlu yolda bata çıka ilerledik.
C) Gece gündüz demeden ders çalışıyor.
D) Eften püften sebeplerle kavga çıktı.

2. Aşağıdaki cümlelerin hangisinde altı çizili sözcük gerçek anlamda kullanılmıştır?

- A) Arkadaşım öfkesinden neredeyse patlayacaktı.
B) Onu aklımdan bir türlü silemiyorum.
C) Kapının anahtarını yeni yaptırdık.
D) Durduk yere yine kalbimi kırdı.

3. Aşağıdakilerden hangisinde "bakmak" sözcüğü "beslemek, geçindirmek" anlamında kullanılmıştır?

- A) Evin bütün işleri bana bakıyor.
B) Yemeğin tadına bakabilir misiniz?
C) Zaman çok değerli, onu boş geçirmemeye bak.
D) Üç çocuklu bir aileye bakıyordu.

4. Aşağıdaki altı çizili sözcüklerden hangisi yapı bakımından diğerlerinden farklıdır?

- A) İmzalanan ateşkesle barış sağlandı.
B) Çocuğu okuldan bugün de sen aliver.
C) Biraz uzakta market var.
D) Adım adım sona doğru yaklaşıyordum.

5.



Yukarıdaki kelimelerden hangisi yapı bakımından basittir?

- A) evli B) yazı C) anı D) adı

6. "Bir yılan gibi kıvrıla kıvrıla giden bir yoldan köye vardık."

Bu cümlede altı çizili sözcüklerde görülen ses olayları aşağıdakilerden hangisinde doğru verilmiştir?

- A) Ünlü düşmesi – Ünsüz türemesi
B) Ünlü düşmesi – Ünsüz yumuşaması
C) Ünsüz benzeşmesi – Ünlü türemesi
D) Ünsüz türemesi – Ünlü türemesi

7. Aşağıdaki cümlelerin hangisinde neden–sonuç ilişkisi vardır?

- A) Babasından izin alabilmek için günlerdir uğraşılıyor.
B) Sonbaharda buraya tekrar gelmeyi düşünüyorum.
C) Ağaçların dalları fırtınadan kırılmış.
D) Kazanmak için gece gündüz çalışıyor.

8. Aşağıdaki cümlelerin hangisinde "küçümseme" anlamı vardır?

- A) Bugün geleceğini sanıyordum ama gelmedi.
B) Çalışacakmış da sınıfında birinci olacaktı.
C) Deftere yazı yazmayı çok sevmiyorum.
D) Bugün akşam yemeğinde börek varmış.

9.

- I. Yanıldığıma mı yansam, haklı çıktığına mı?
II. Bu renkten hoşlanacağını tahmin edebiliyorum.
III. O kitap satış rekorları kıracak.
IV. Çiçekleri geniş bir saksıya koydu.

Yukarıdaki cümlelerin hangisinde bir "kararsızlık" söz konusudur?

- A) I B) II C) III D) IV

10. Aşağıdaki cümlelerin hangisinde yorum yapılmıştır?

- A) Dünyanın en güzel plajı Antakya'da bulunuyor.
B) Türkiye'nin başkenti Ankara'dır.
C) Yeni okulumda birçok arkadaşım oldu.
D) Yarın akşam TV'de yabancı bir film olacakmış.

1. Öğretmeni Suna'dan tahtaya 9 basamaklı bir sayı yazmasını ister. Ancak yazacağı bir sayının rakamlarının birbirinden farklı ve her bir bölümündeki rakamların toplamının da eşit olmasını ister.

Suna bu sayıyı yazarken her bir bölükteki rakamların toplamını en az kaç seçebilir?

- A) 12 B) 13 C) 14 D) 15

2. "Otuz altı milyon" kaç bölüklü bir sayıdır?

- A) 2 B) 3 C) 4 D) 5

3. 5, 11, 17, 24, 29, 35

Yukarıdaki örüntüyü bozan sayı aşağıdakilerden hangisidir?

- A) 11 B) 17 C) 24 D) 35

4.
$$\begin{array}{r} 368A \\ - 8B9 \\ \hline C836 \end{array}$$

Yukarıda verilen çıkarma işlemine göre A+B+C kaçtır?

- A) 10 B) 11 C) 12 D) 13

5. Aşağıda bir çarpma işleminin zihinden yapılmasının işlem basamakları verilmiştir.

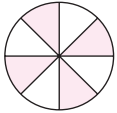
$$29 \times 10 = 290$$

$$290 - 29 = 261$$

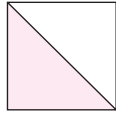
Buna göre, bu işlem aşağıdakilerden hangisidir?

- A) 29×11 B) 29×10 C) 29×9 D) 29×8

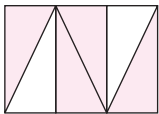
- 6.



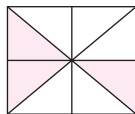
①



②



③



④

Yukarıda verilen kesirlerden hangileri birbirine denktir?

- A) 1 – 2 B) 2 – 3
C) 3 – 4 D) 2 – 4

7. 350 çekirge, 3500 buğday başağı olan bir tarlaya saldırdı.

350 çekirgenin her biri 5 buğday başağındaki buğdayların $\frac{1}{2}$ 'sini yiyip tarladan çıkarsa, tarlada kalan

sağlam buğday taneleri en baştakilerin ne kadarı olur?

- A) $\frac{1}{4}$ B) $\frac{1}{2}$ C) $\frac{2}{3}$ D) $\frac{3}{4}$

8.
$$A = \frac{7}{3} - \frac{2}{6}$$

$$B = 5 + \frac{1}{8}$$

ise A+B toplamı kaçtır?

- A) $\frac{40}{8}$ B) $7 \frac{1}{8}$
C) $6 \frac{1}{8}$ D) $3 \frac{1}{8}$

9. Şule bir plan yaparak 40 günlük zamanın $\frac{3}{5}$ 'ini tatilde, $\frac{1}{8}$ 'ini çalışarak ve geri kalan zamanını kitap okuyarak geçirmiştir.

Şule kaç gününü kitap okumaya ayırmıştır?

- A) 11 B) 12 C) 13 D) 14

Alış	Satış
178,72 TL	178,81 TL

Yandaki tabloda bir kuyumcuda altının alış ve satış fiyatları verilmiştir.

Bu kuyumcu 2 gram altın alan bir müşteriden kaç TL kâr etmiştir? (Satış – Alış = Kâr)

- A) 0,16 B) 0,18 C) 0,21 D) ,23

1. ● Bir noktadan harekete başlayan bir uçağın aynı yönde ilerleyerek başladığı noktaya geri dönmesi
- Güneş'in batarken yavaş yavaş kaybolması
- Dünya'nın Ay üzerine düşen gölgesi
- Güneş ve Ay'ın gökyüzünde hemen hemen aynı büyüklükte görülmesi

Yukarıda verilen ifadelerden kaç tanesi Dünya'nın küre olduğuna örnek verilebilir?

- A) 1 B) 2 C) 3 D) 4

2. **Ay ile ilgili;**

- I. Ay yaşam için elverişli değildir. Yağmur, kar, bulut ve rüzgar yoktur.
- II. Ay'ın Dünya etrafında dönmesi sonucunda ay, farklı şekillerde görülür.
- III. Ay'ın yüzeyi toz gibi bir tabakayla kaplıdır.

İfadelerinden hangileri doğrudur?

- A) Yalnız I B) I ve II
C) II ve III D) I, II ve III

3. AyK..... ve son dördün evrelerinde yarım daire şeklinde görülür. Dünya'ya en yakın olan gök cismiL..... dir.

Yukarıdaki cümlelerde K ve L yerine aşağıdakilerden hangisi gelmelidir?

K	L
A) İlk dördün	Ay
B) Yeni ay	Ay
C) İlk dördün	Güneş
D) Yeni ay	Güneş

4. **Aşağıdakilerden hangisi memelilere örnek verilemez?**

- A) Deve B) Kurt
C) Penguen D) Geyik

5. **Aşağıdakilerden hangisi memeli hayvanların ortak özelliklerinden değildir?**

- A) Omurgalı olma
B) Yavrularını süt ile besleme
C) Doğurarak çoğalma
D) Ot ile beslenme

6.



Sınıfa getirdiği kurbağa hakkında bilgi veren Eren Öğretmen'in aşağıda verdiği bilgilerden hangisi yanlıştır?

- A) Başkalaşım geçirir.
B) Soğukkanlı canlılardır.
C) Yavru kurbağa solungaç solunumu yapar.
D) Yavru bakımı görülür.

7. **Havadaki karbondioksit oranının artmasına aşağıdakilerden hangisi sebep olmaz?**

- A) Yeşil bitkilerin besin yapması
B) Yeşil bitkilerin solunum yapması
C) Fosil yakıtlarının yanması
D) Hayvanların solunum yapması

8.

- Pürüzlü yüzeylerde daha büyüktür.
● Temas gerektiren bir kuvvettir.
● Cisimlerin hareketlerini engelleyici etkisi vardır.

Yukarıda verilen açıklamalar aşağıdakilerden hangisine aittir?

- A) Kaldırma kuvveti
B) Sürtünme kuvveti
C) Yer çekimi kuvveti
D) Manyetik kuvvetler

9.

Hareket yönü



Uçmakta olan bir uçağa etki eden kuvvetler ile ilgili aşağıdakilerden hangisi doğrudur?

- A) Yerçekimi kuvveti uçağın uçmasına katkı sağlar.
B) Hava direnci hızını azaltır.
C) Sürtünme kuvvetini azaltır.
D) Motor kuvveti ile hareketini engelleyici yönde etki eder.

1. Sosyal Bilgiler Öğretmeni Ahmet Bey öğrencilerine derste şu açıklamayı yapmıştır: “Hepimiz toplum içerisinde yaşıyoruz. Birey olarak yaşamımızı sürdürmek, temel ihtiyaçlarımızı karşılamak için iş bölümü ve iş birliği yaparız. Davranışlarımızı içinde yaşadığımız toplumun ya da grubun kurallarına göre düzenlemek zorundayız. Toplumu oluşturan önemli unsurların başında bireyler, gruplar ve kurumlar gelir. Bizler de bu unsurların içinde yer alırız.

Ahmet Öğretmen’in açıklamasına göre aşağıdakilerden hangisine ulaşamaz?

- A) Bireyler toplumdaki bağımsız bir şekilde yaşayamaz.
- B) İhtiyaçlarımızı karşılamak için ortak çalışmalıyız.
- C) Yaşadığımız yerde var olan kurallar davranışlarımızı belirler.
- D) Bireyler toplum içinde var olan önemli bir unsur değildir.

2. Dünyadaki bütün çocuklar din, dil, ırk, renk ve cinsiyet ayrımı yapılmaksızın aynı haklara sahiptir. 20 Kasım 1989’da Birleşmiş Milletler Çocuk Hakları Sözleşmesi kabul edilerek çocuk hakları güvence altına alınmıştır. Her yıl 20 Kasım günü tüm dünyada “Çocuk Hakları Günü” olarak kutlanmaktadır. Devletler bu sözleşmede belirtilen hakları çocuklara tanımakla yükümlüdür. Bu sözleşme 1990 yılında ülkemiz tarafından da imzalanmıştır.

Yukarıda verilen paragrafta “Dünyadaki bütün çocuklar din, dil, ırk, renk ve cinsiyet ayrımı yapılmaksızın” ifadesiyle aşağıdakilerden hangisine değinilmiştir?

- A) Ayrımcılık
- B) Fırsatçılık
- C) Irkçılık
- D) Eşitlik

3. Ramazan ve Kurban bayramlarında ailemizle, akrabalarımızla, komşularımızla ve arkadaşlarımızla bir araya geliriz. Dini bayramlarda pek çok geleneği yerine getiririz. Büyüklerimizi ziyaret eder büyüklerimizin ellerini öperiz. Misafirlere ikramlarda bulunuruz. Dargın olduklarımızla barışıyoruz. Milletçe kutladığımız bayramlar, kültürel değerlerimizden biridir. İnsanları bir araya getiren bayramlar birlik ve beraberliğimizi güçlendirir. Dostluk ilişkilerini geliştirir, hoşgörüyü ve yardımlaşmayı artırır.

Buna göre dini bayramların topluma sağladığı yararlar arasında aşağıdakilerden hangisi yer almaz?

- A) Milli birlik ve beraberliği sağlaması
- B) Din ve inancın yayılmasını durdurması
- C) Hoşgörü ve yardımlaşma duygusunu geliştirmesi
- D) Dostluk ilişkilerinin gelişmesini sağlaması

4. Zeybek, tek kişinin ya da bir grubun oynadığı halk oyunudur. Gruba oynandığında oyuncular çember şeklinde dizilir. Kollar omuz hizasında eller başla aynı hizada olacak şekilde iki yana açılır. Büyük adımlar ve ağır hareketlerle oynanır. Arada yere doğru eğilip bir dizin yere vurulması, bu oyunun belirgin hareketlerindedir.

Yukarıda açıklaması yapılan zeybek oyunu aşağıdaki bölgelerden hangisi ile özdeşleşmiştir?

- A) İç Anadolu
- B) Karadeniz
- C) Marmara
- D) Ege

5. Ormanlar birçok yararına rağmen her geçen gün azalmaktadır. Bunun en önemli nedeni nüfus artışına bağlı olarak orman ürünlerine olan talebin artmasıdır. Çeşitli nedenlerle çıkan orman yangınları da orman alanlarının azalmasına neden olur. Tarla açma çalışmaları, çarpık konut ve tesis yapımı da ormanlara zarar vermektedir.

Buna göre;

- I. İnsan faaliyetleri ormanların azalmasında etkilidir.
- II. Nüfusun artışı ormanların azalmasına neden olmaktadır.
- III. Orman yangınları daha çok yaz aylarında meydana gelmektedir.

yukarıdaki yargılardan hangilerine ulaşılabilir?

- A) I ve II
- B) Yalnız III
- C) Yalnız II
- D) I, II ve III



BURSLULUK SINAVI

5.

DENEME SINAVI



1. Aşağıdaki cümlelerde altı çizili sözcüklerden hangisinin sesteşi yoktur?

- A) Keçileri alıp kıra götürdüm.
- B) Ağacın dalını rüzgâr kırmıştı.
- C) Hiç durmadan toprağı kazıyordu.
- D) Okulun duvarını pembeye boyadı.

2. Aşağıdaki cümlelerin hangisinde terim anlamlı bir sözcük kullanılmamıştır?

- A) Müzik dersinde notaları öğrendik.
- B) Defterime çok güzel şiirler yazdım.
- C) Tuncay hızlı adımlarla okula gidiyordu.
- D) Tiyatro üç perdeden oluşuyor.

3. Kirazları yeni almasına rağmen hepsi geçmişti. Yukarıdaki cümlede geçen "geçmek" fiili hangi anlamda kullanılmıştır?

- A) Aşmak, geride bırakmak
- B) Tükenmek, bitmek
- C) Herhangi bir durum, soya çekim yoluyla birinde görünmek
- D) Çok bekletilmekten çürümeye yüz tutmak

4. Aşağıdaki cümlelerin hangisinin yüklemi birleşik bir sözcüktür?

- A) Arda, gelen büyük teklifi reddetmiş.
- B) Karşıdan karşıya geçerken çok korktum.
- C) Dedesi Kurtuluş Savaşı'na katılmış.
- D) Son olaylardan sonra çok üzüldüm.

5. Aşağıdaki cümlelerden hangisinin yüklemi basit bir sözcüktür?

- A) Kardeşi sınava hazırlanıyormuş.
- B) Hastanın durumu her geçen gün ağırlaşıyordu.
- C) Kaybettiği mutluluğu saatlerce aradı.
- D) Parkta ailemle biraz gezindik.

6. Aşağıdaki altı çizili sözcüklerin hangisinde bir ses olayı yoktur?

- A) Ağaçtan düştüğü için kolu kırıldı.
- B) Simitçi elindeki simitleri satmaya çalışıyordu.
- C) Kulağım ağrıdığı için okula gidemedim.
- D) Bilgisayar kursuna gitmeyi düşünüyorum.

7. "Günlerim çok güzel geçiyordu ama" Yukarıdaki cümle aşağıdakilerden hangisiyle tamamlanabilir?

- A) bugün çok mutluyum
- B) bugün başıma kötü bir olay geldi
- C) bugün bana güzel bir hediye verdiler
- D) bugün her zamankinden neşeliyim

8.

- I. tek
- II. çarpınmaktır
- III. yüzmeyi
- IV. yolu
- V. öğrenmenin

Yukarıdaki sözcüklerle anlamlı ve kurallı bir cümle oluşturulduğunda sıralama nasıl olur?

- A) I – II – III – IV – V
- B) III – V – I – IV – II
- C) V – IV – III – II – I
- D) II – I – III – IV – V

9. Aşağıdaki cümlelerin hangisinde benzetme yapılmıştır?

- A) Okulun servisi kaza yapmış.
- B) Adam tilki gibi kurnazdı.
- C) Arabalar çok hızlı gidiyordu.
- D) Arda, güzel bir gol attı.

10. "Annesi, Serkan'ın doğum gününde pasta yapacaktı ancak"

Yukarıdaki cümle aşağıdakilerden hangisiyle tamamlanamaz?

- A) hastalandı
- B) işi çıktı
- C) güzel bir pasta yaptı
- D) unuttu

1. 476 928 321

Yukarıda bir depodan çıkarılan üç torba patates ve bu torbaların üzerinde depoda buldukları raf numaraları gösterilmiştir.

Buna göre bu torbaların üzerindeki raf numaraları kullanılarak yazılabilecek en büyük dokuz basamaklı sayı kaçtır?

- A) 476 928 321 B) 928 321 476
C) 928 476 321 D) 321 928 476

2.

- I. 200 000 sayısı 5 basamaklıdır.
II. 425 809 sayısındaki 4'ün basamak değeri 400 000'dir.
III. 111 111 111 sayısı 9 basamaklı en küçük doğal sayıdır.

Yukarıdaki ifadelerden hangileri yanlıştır?

- A) Yalnız I B) II ve III
C) I ve III D) I, II ve III

3. 2, 3, 5, 8, 12, 17

Yukarıdaki örüntünün kuralı ile aynı kurala sahip olan örüntü hangi seçenekte verilmiştir?

- A) 4, 8, 16, 32, 64, 128
B) 3, 7, 11, 15, 19, 23
C) 5, 6, 8, 11, 15, 20
D) 1, 2, 3, 4, 5, 6

4. 6300:9=A

7200:8=B

5600:7=C

Yukarıdaki bölme işlemlerinin sonucu aşağıdakilerden hangisinde doğru verilmiştir?

- | A | B | C |
|--------|------|-----|
| A) 700 | 9000 | 800 |
| B) 700 | 900 | 800 |
| C) 70 | 900 | 80 |
| D) 700 | 9000 | 80 |

5. 2896 – 2247 işleminin sonucunu her iki sayıyı da en yakın yüzlüğe yuvarlayarak tahmin eden Cemre sonucu kaç bulmuş olur?

- A) 500 B) 600
C) 700 D) 800

6. Kasım ve Saim isimli iki kardeş 5 dönümlük bir tarlaya birlikte buğday ekiyorlar. Saim tarlanın $\frac{3}{5}$ 'ini ekliyor. Sa-

im'in ektiği kısımda hasatın verimi 1'e 5'tir. Kasım'ın ektiği kısımda ise 1'e 10 olmuştur.

Buna göre Kasım'ın elindeki buğdayın Saim'in elindeki buğdaya oranı aşağıdakilerden hangisidir?

- A) $\frac{4}{3}$ B) $\frac{3}{5}$ C) $\frac{2}{5}$ D) $\frac{3}{4}$

7. Ayşe elindeki 250 sayfalık kitabın önce $\frac{3}{5}$ 'ini daha sonra $\frac{1}{5}$ 'ini okumuştur.

Ayşe'nin geriye okuması gereken kaç sayfası kalmıştır?

- A) 25 B) 50 C) 75 D) 90

8. $\left(5\frac{3}{7} - 2\frac{1}{5}\right) + \frac{4}{35}$

Yukarıdaki işlemin sonucunu aşağıdaki hangi kesir ile toplarsak bir tam sayı oluşur?

- A) $\frac{23}{35}$ B) $3\frac{11}{35}$ C) $\frac{112}{30}$ D) $\frac{119}{35}$

9. Halam bir torbadaki cevizlerin $\frac{6}{10}$ 'unu bana verdi.

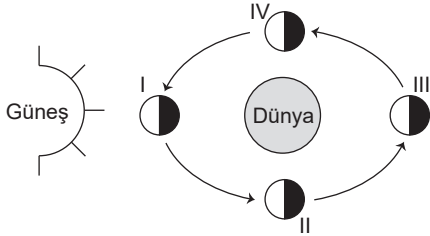
Halamın bana verdiği cevizlerin sayısı 30 olduğuna göre başlangıçta torbada kaç ceviz vardır?

- A) 60 B) 80 C) 90 D) 50

1. Ay, hangi evredeyken Dünya'dan görünmez?

- A) İlk dördün B) Son dördün
C) Dolunay D) Yeni ay

2.



Yukarıdaki görselde II numara Ay'ın hangi evresidir?

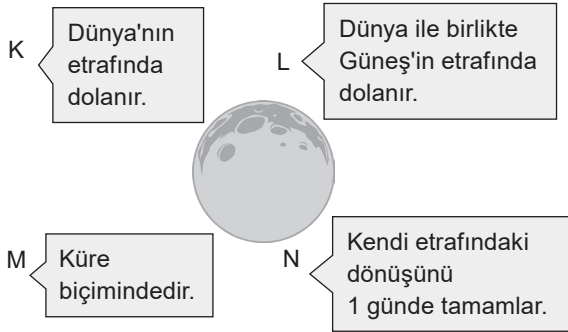
- A) Son dördün B) İlk dördün
C) Dolunay D) Yeni ay

3. I. Güneş, dönme hareketi yapmaz.
II. Ay, Güneş etrafında dolanma hareketini 29 günde tamamlar.
III. Dünya'nın, kendi etrafında dönmesi ile gece ve gündüz oluşur.

Yukarıda verilen ifadelerden hangileri doğrudur?

- A) Yalnız III B) I ve II
C) I ve III D) II ve III

4.



Ay ile ilgili yukarıda verilen bilgilerden kaç tanesi doğrudur?

- A) 1 B) 2 C) 3 D) 4

5. Bazı bitkiler besinleri köklerinde depolar.

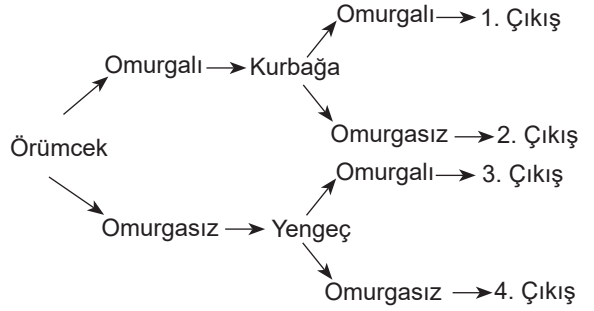
Buna göre aşağıdakilerden hangisi bu duruma örnek olamaz?

- A) Şalgam B) Havuç C) Turp D) Elma

6. Aşağıdaki bitkilerden hangisi diğerlerinden farklıdır?

- A) Eğrelti otu B) Kara yosunu
C) Su yosunu D) Armut

7.



Diyagramda verilen canlıları omurgalı ve omurgasız olmalarına göre sınıflandırarak ilerlersek hangi çıkışa ulaşırız?

- A) 1. Çıkış B) 2. Çıkış
C) 3. Çıkış D) 4. Çıkış

8.

Canlı	Üreme şekli	Yavru bakımı
Yengeç	Yumurta ile	Yok
Örümcek	Tohum ile	Var
Koyun	Doğurarak	Yok
Kurbağa	Yumurta ile	Var

Yukarıdaki tabloda aşağıdakilerden hangisi doğru verilmiştir?

- A) Örümceğin üreme şekli
B) Koyunun yavru bakımı
C) Yengecin üreme şekli
D) Kurbağanın yavru bakımı

9. 90 N'luk bir cisim dinamometreye asıldığında, dinamometre 3 bölme uzuyor.

Buna göre, dinamometreye 150 N'luk cisim asılırsa dinamometre kaç bölme uzar?

- A) 5 B) 6 C) 7 D) 8

10. Duran bir cismi hareket ettiren, hareket halindeki bir cismi durduran, cisimlerin şeklinde değişiklik yapabilen etkiye denir.

Verilen cümlelerde boş bırakılan yere gelmesi gereken uygun kavram aşağıdakilerden hangisidir?

- A) ağırlık B) kuvvet
C) basınç D) kütle

1. Birey olarak yaşamımız boyunca birçok grup içerisinde yer alırız. Bu grupların bazılarında katılmamız bizim isteğimiz dışında olurken, bazı gruplara katılmak ise kendi tercihimizle olur.

Aşağıda verilen gruplardan hangisi kendi isteğimizle oluşturduğumuz gruplar arasında yer almaz?

- A) 5-A sınıfı öğrencileri
B) Mahalle arkadaşları
C) Sinemaya giden arkadaşlar
D) Saklambaç oynayan arkadaşlar

2. Ali Bey bir okulda sosyal bilgiler öğretmenidir. Ali Bey arkadaşlarıyla yaptıkları halı saha maçında kaleye geçmektedir. Ayrıca Ali Bey anne babasının iki çocuğundan en büyüğüdür. İki çocuğu olan Ali Bey çocukları çok sevmektedir.

Yukarıdaki bilgilere göre Ali Bey kaç farklı rol üstlenmektedir?

- A) 2 B) 4 C) 5 D) 6

3. **Aşağıdakilerden hangisi sivil toplum kuruluşlarının özelliklerinden biri değildir?**

- A) Üyeleri devlet tarafından seçilir.
B) Masrafları, çalışmalara destek veren üyelerin bağışlarıyla karşılanır.
C) Çalışmalarını devletin koyduğu yasalar çerçevesinde yaparlar.
D) Çalışanları hizmetleri karşılığında herhangi bir gelirden elde etmezler.

4. Hititler önemli gördükleri olayları anal (yıllık) denilen kil tabletlere yazarlardı. Bunlar Hititlerin tarih kitaplarıydı. Hititler son derece becerikli mühendislerdi. Taştan inşa ettikleri barajlardan günümüze kadar ulaşanlar bulunmaktadır. Çorum yakınlarındaki başkentleri Hattuşaş'a bağlı saraylar ve tapınaklar inşa etmişlerdir.

Buna göre Hititler ile ilgili olarak aşağıdakilerden hangisine ulaşılamaz?

- A) Mimari alanda gelişmemişlerdir.
B) Yazıyı kullanmışlardır.
C) Tarımı geliştirmek için çalışmalar yapmışlardır.
D) Tarih yazıcılığını başlatmışlardır.

5. Bu bölgede yer şekillerinin engebeli ve iklimin sert olmasından dolayı nüfus azdır. İnsanlar genellikle verimli topraklarla kaplı ve iklimin daha elverişli olduğu ovalarda yaşar. Ulaşımın zor olması, sanayi ve ticaretin gelişmesini engellemiştir. Van, bu bölgede bulunan yoğun nüfuslu illerden biridir. Bu ilde hayvancılık, sanayi ve ticaret gelişmiştir.

Yukarıda hakkında bilgi verilen bölge aşağıdakilerden hangisidir?

- A) Güneydoğu Anadolu Bölgesi
B) Ege Bölgesi
C) Karadeniz Bölgesi
D) Doğu Anadolu Bölgesi

6. (.....) İklim, insanların yaşam biçimini etkiler.
(.....) İklim, beslenme, barınma ve giyinme ihtiyaçlarını belirler.
(.....) İklim, yer altı kaynaklarının oluşumunu etkilemektedir.
(.....) İklim insan faaliyetleri üzerinde etkili değildir.

Yukarıdaki etkinliği yaparken doğru olanların başına "D", yanlış olanların başına "Y" yazıldığında doğru seçenek aşağıdakilerden hangisi olur?

- A) Y, D, Y, D B) D, D, Y, Y
C) Y, Y, D, D D) D, Y, D, D



Tüm Bursluluk kitaplarına
ulaşmak için
karekodu okutunuz.



İvedik Organize Sanayi Matbaacılar Sitesi
1518 Sok. Mat-Sit İş Merkezi No.:2/20
Yenimahalle / ANKARA
Telefon: 0 312 384 29 95 - Belgegeçer: 0312 342 23 58
WhatsApp: 0 505 925 57 81
www.datayayinlari.com | bilgi@datayayinlari.com

ISBN 978-605-7701-76-3



9 786057 701763