

YENİLENDİK



# 6. SINIF



TAMAMI ÇÖZÜMLÜ

# 6 DENEME SINAVI

I. DÖNEM

I-II. DÖNEM

3

+

3

FASİKÜLLÜ

SIRALI DENEME



1. "Saymak" sözcüğü aşağıdaki seçeneklerin hangisinde mecaz anlamıyla kullanılmıştır?

- A) Küçükleri sevmek, büyükleri saymak gerekir.
- B) Birden yüze kadar saymayı öğrenmiş.
- C) Elmaları saymak çok zamanımı aldı.
- D) Paketteki şekerleri tek tek saymış.

2. "Sevgi, dünyadaki en güzel şeydir. Sevginin gücüne inanan her insan, mutlu ve huzurludur. Ancak sevgilerin en güzeli; hiç karşılık beklemeden saf bir şekilde sevmektir. Her canlıyı koşulsuz sevmeliyiz."

Aşağıdakilerden hangisi böyle söyleyen bir kişinin kuracağı cümle olamaz?

- A) Bize faydası dokunan insanları daha çok sevmeliyiz.
- B) Menfaat beklemeden herkesi sevmeliyiz.
- C) Sevginin açamayacağı kapı yoktur.
- D) Mutlu olmak istiyorsak sevmeyi bilmeliyiz.

3. İnsan yetiştirmek güç bir iştir. Söz gelimi, bir çocuğu besleyip, büyütüp onu işe yarar bir duruma getirmek hem para hem de emek ister. Sonunda çocuk yetişir yetişmesine ama onu yetiştiren de bir hayli zahmet çeker, yorulur.

Altı çizili deyim cümleye kattığı anlam aşağıdakilerden hangisidir?

- A) Güçlülükle karşılaşmak
- B) Sıkıntıları görmezden gelmek
- C) Emeğinin karşılığını almak
- D) Özenli çalışmak

4 ve 5. soruları aşağıdaki metne göre yanıtlayınız.

Ülkemizde kan bağışları nerede yapılır?

Her yıl binlerce insan, bir kazada ya da hastalıkda kan

bulamadığı için hayatını kaybetmektedir. Kan bağışının, kan bekliyen binlerce insanın hayatını kurtarmasının yanın-

da, bağış yapan kişinin sağlığına da yararları olduğunu biliyor musunuz?

Buna karşılık ülkemizde yapılan kan bağış miktarı insanların ihtiyaçlarını karşılayabilir mi?

Kan bağış yaşam için yapılan bir armağandır. Ülke-

mizde her yıl 2 milyona yakın kişi kana ihtiyaç duyar. Kan ihtiyacı çoğunlukla hastaların yakınlarından ve acil durumlarda sağlanabilmektedir. 18 ve 65 yaş arası sağlıklı, bulaşıcı hastalığı ya da riski olmayan, 50 kilogramın üzerin-

deki her insan kan bağışlayabilir.

Yılda üç kez kan bağış yapılabilir. Sağlıklı kişilerin yılda en az iki kez kan bağış yapmasıyla ülkenin kan ihtiyacı karşılanabilmektedir. Ancak düzenli olarak kan bağışlayan kişi sayısı çok azdır.

4. Yukarıdaki metinde geçen "İhtiyaçlarını karşılayabilmek" söz grubu ile anlatılmak istenen aşağıdakilerden hangisidir?

- A) Yardımcı olmak, fayda sağlamak
- B) Elde etmek
- C) Gerektiği kadar bulundurmak
- D) Yetmek, yeterli olmak

5. Yukarıdaki metinde altı çizili olarak verilen sözcüklerden hangilerinde telaffuz kusuru vardır?

- A) I ve II
- B) II ve III
- C) II ve IV
- D) I ve IV

1. Bir apartmanda iki tane asansör bulunmaktadır.



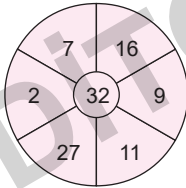
Asansörlerde meydana gelen teknik bir sorun yüzünden asansörlerden biri 3 ve 3'ün pozitif doğal sayı katlarında, diğeri de 5 ve 5'in pozitif doğal sayı katlarında durmamaktadır.

Bu arızaya rağmen apartmanın her katında en az bir asansör durmaktadır.

**Zeren bu apartmanın en üst katında olduğuna göre ve asansörle çıkabildiğine göre Zeren'in bulunduğu kat numarası kaç olabilir?**

- A) 30 B) 21 C) 18 D) 12

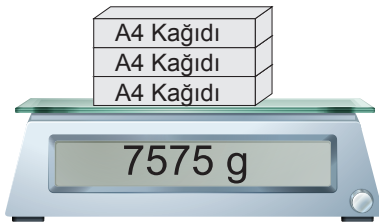
2.



**Yukarıda verilen 32 sayısı etrafındaki sayılardan kaç tanesi ile aralarında asaldır?**

- A) 5 B) 2 C) 4 D) 6

3. Aşağıdaki hassas terazinin üzerinde ayrı ayrı ambalajlanmış özdeş 3 paket A4 kâğıdın ağırlığı gösterilmiştir.



Tartılan paketlerin her birinde 500 tane A4 kâğıdı vardır.

**Bir paketin ambalaj kütlesi 25 gram olduğuna göre 1 adet A4 kâğıdı kaç gramdır?**

- A) 3 B) 4 C) 5 D) 6

4. Bir sinema salonunda öğrenci bileti 7 TL, tam bilet 11 TL'dir.

**8 öğrenci ve 4 tam biletin alındığı bir grubun yapması gereken ödeme ne kadardır?**

- A) 90 B) 100 C) 120 D) 140

5. Elif Hanım dört basamaklı kredi kartı şifresinin son basamağındaki rakamı unutuyor.

**Elif Hanım'ın şifresi 280A şeklinde 9'a bölünebilen bir sayı olduğuna göre, aşağıdakilerden hangisi bu şifrenin doğru yazılmış halidir?**

- A) 2809 B) 2803 C) 2808 D) 2802

6. Dört basamaklı 32ef sayısı hem 4 ile hem de 5 ile kalan-sız bölünebilmektedir.

**Buna göre e + f nin alabileceği en büyük değer aşağıdakilerden hangisidir?**

- A) 2 B) 4 C) 8 D) 12

1. Belirli bir yerde bir arada yaşayan ve temel ihtiyaçlarını karşılamak için iş birliği yapan insanların tümüne toplum denir. İnsanlar tek başlarına hayatlarını sürdürmezler. Mutlaka birbirlerine ihtiyaçları vardır. Toplumu oluşturan tüm insanların sağlıklı ve mutlu bir şekilde yaşayabilmeleri için mutlaka birbirlerine yardım etmeleri ve ortak çıkarlarını korumaları gerekir. İnsanlar yardımlaşma ve dayanışmaya gereken önemi vermelidir. Yaşamak için yardımlaşma ve dayanışma şarttır.

**Verilen parçadan çıkarılabilecek en kapsamlı yargı aşağıdakilerden hangisidir?**

- A) Toplum içerisinde insanlar iş birliği yapar.
- B) Yardımlaşma ve dayanışma toplumda huzur, mutluluk ve güvenliğin artmasını sağlar.
- C) İş birliği içinde olan insanlar kesinlikle birbirlerine muhtaçtır.
- D) Toplum içerisindeki insanlar sürekli olmasa da yardımlaşma ve dayanışma içerisinde olmalıdır.

2. Benim adım Melisa. Annem polis, babam öğretmendir. Bir akşam babam ve annemle birlikte dedemlere yemeğe gittik. Yemekten sonra babaannem bana şunları söyledi: "Yavrum, bizim zamanımızda ben ev işleriyle uğraşıp çocuklara bakıyordum, deden ise bir işte çalışıp para kazanıyordu. Geçimimizi bu şekilde sağlıyorduk. Ancak günümüzde öyle mi şimdi erkeklerle birlikte kadınlar da çalışıyor. Kadınların iş hayatına girmesiyle de evdeki sorumluluklar eşler arasında paylaşıyor. Erkekler mutfığa girip yemek yaparken kadınlar da çalışıp para kazanabiliyor."

**Buna göre aşağıdaki yargılardan hangisi söylenebilir?**

- A) Kadınlar iş hayatına girince annelik rolünü yerine getirememişlerdir.
- B) Annenin sadece annelik rolünü yerine getirmesi gerekir.
- C) Zamanla rollerde değişiklik olmuştur.
- D) Günümüzde kadın çalışmak zorundadır.

3. Bir kimse veya bir olayla ilgili yeterli bilgi edinmeden geliştirilen tutumlara ön yargı adı verilir. İnsanlar bazen başka düşüncelere, insanlara veya olaylara karşı ön yargılı olabilmektedir. Ön yargılı bireyler genelde bir durum ya da kişi hakkında olumlu veya olumsuz düşüncelere sahiptir.

**Aşağıdakilerden hangisi ön yargılı bir bireyin davranışına örnek olarak gösterilemez?**

- A) Selin, yemek yemediği zaman ailesi üzüldüğü diye Selin'in yemeğini bitirmesi
- B) Ahmet'in, arkadaşına "Eminim ki bu sınavdan kötü not alacaksın." demesi
- C) Tamer'in tuttuğu takımın maç öncesinde kupayı kesin olarak alacağını söylemesi
- D) Elif'in "Bu arabayı Hasan Usta'dan başka kimse tamir edemez." demesi

4.



Teknolojinin hızla geliştiği günümüzde vatandaşlar yaşadıkları sorunları ilgili kurum ve kuruluşlara iletilsinler diye ülkemizde bazı telefon hatları kurulmuştur. Bunlardan biri de alo gıda hattıdır.

**Aşağıdakilerden hangisi bu hattın amaçları ile ilgili doğru bir ifade değildir?**

- A) Gıda güvenilirliğinin sağlanmasına yönelik Sağlık Bakanlığınca yapılan çalışmalara vatandaşların da katılımını sağlamak
- B) Gıda güvenliği konusunda yetkili birimlere kolay bir şekilde ulaşılabilmesini sağlamak
- C) Tüketicilerin gıda güvenliği ile ilgili her türlü sorunlarını çözmek
- D) Tüketicilerden gelen ihbar ve şikâyetler karşısında tüketiciye en kısa zamanda dönüş yapmak ve sonucun takibini sağlamak

1. "Doldurmak" kelimesi aşağıdaki cümlelerin hangisinde "yayıp kaplamak" anlamında kullanılmıştır?

- A) Bardağıma çay doldurdu.
- B) Abim, çiftesini doldurup ateşledi.
- C) Evimizi pis bir koku doldurmuş.
- D) Otuzunu daha yeni doldurmuş.

2.

- 1. sanır
- 2. aç tavuk
- 3. buğday
- 4. kendini
- 5. ambarında

Yukarıdaki numaralanmış kelimelerle anlamlı ve kurallı bir cümle oluşturulduğunda sıralama aşağıdakilerden hangisi olur?

- A) 2 - 3 - 5 - 1 - 4
- B) 2 - 4 - 3 - 5 - 1
- C) 4 - 5 - 2 - 3 - 1
- D) 3 - 4 - 5 - 2 - 1

3. Elleri çok çalışmaktan yara bağlamış.

Aşağıdaki seçeneklerden hangisinde "el" sözcüğü yukarıda verilen cümledeki anlamından farklı bir anlamıyla kullanılmıştır?

- A) Dünkü oyunda elim iki yerinden kırıldı.
- B) Elindeki çamaşır suyu ile bütün gün temizlik yaptı.
- C) Yemekten sonra elimizi yıkadık.
- D) Eller ne derse desin, ben bildiğimi yaparım.

4. Aşağıdaki cümlelerin hangisinde deyim kullanımı yanlıştır?

- A) Öyle farklı fikirlerde insanlar oradaydı ki hepsi de birbiriyle kafa dengiydi.
- B) Kabuğuna çekilmiş, hiç kimseyle görüşmek istemiyormuş.
- C) Sorular üzerinde çok düşündük, uzun süre kafa patlattık.
- D) Bugün çok sevinçliyim, kabıma sığamıyorum.

5.

TEMA Vakfı yaz mevsiminde havaların ısınmasıyla birlikte artan orman yangını riskine dikkat çekti. Türkiye'de 16-23 Temmuz 2018 tarihleri arasında 33 ilde 90'dan fazla orman yangını çıktığına vurgu yapan TEMA Vakfı, yangınların büyük kısmının insan kaynaklı olduğunun altını çizdi.

23.07.2018

Antalya'nın Aksu ilçesindeki Yurtpınar Mahallesi'ne bağlı Kurşunlu mevkiinde dün öğle saatlerinde yangın çıktı. Çevrede oturanların ihbarı üzerine yangının başladığı noktaya itfaiye ekipleri sevk edildi. Yaklaşık dokuz saat süren yangında seralar, ağaçlar ve bazı evlerle birlikte 50 hektarlık alan küle döndü. Yangının çıkış sebebinin insan kaynaklı olduğu düşünülüyor.

Gazete haberlerine göre aşağıdakilerden hangisi söylenebilir?

- A) Orman yangınlarının çıkışında tek ve en önemli neden olarak sıcaklığın artması görülmektedir.
- B) Sıcak hava dalgalarına maruz kalan ülkelerde her yıl mutlaka yangın çıkmaktadır.
- C) İnsanlar ormanların veya bazı alanların yanmasında etken olabilmektedir.
- D) Sulak alanların azlığı, orman yangınlarının çıkmasının en önemli sebebi olmaktadır.

6. (I) Muhabbet kuşları, papağan türleri içerisinde yer alan, evcil bir kuş türüdür. (II) Genellikle sarı ve yeşil tüy rengine sahiptirler. (III) Ömürleri yaklaşık on beş yıldır. (IV) İnsan sesini taklit edebilecek kadar zeki bir kuş türüdür.

Bu metinde numaralanmış cümlelerin hangisinde öznel bir yargı kullanılmıştır?

- A) I
- B) II
- C) III
- D) IV

7. Aramızda yirmi beş bin kilometre

Sen kıştasın, ben yazdayım

Sen bir yanında dünyanın

Ben öte yanında

Yine de bırakmıyor ellerimi yokluğun.

Bu şiirin ana duygusu aşağıdakilerden hangisidir?

- A) Vatan sevgisi
- B) Özlem
- C) Cesaret
- D) Umutsuzluk

1. İYİ GÜNLER DİLERİZ

Üzerinde "İYİ GÜNLER DİLERİZ" yazan yukarıdaki led tabela şu şekilde çalışmaktadır.

- Her saniyede bir İYİ
- Her 6 saniyede bir GÜNLER
- Her 9 saniyede bir DİLERİZ

kelimeleri yanıp sönmektedir.

Buna göre kapalı durumda olan tabelanın açıldıktan 945 saniye sonraki görünümü aşağıdakilerden hangisidir?

- A) 

	GÜNLER	DİLERİZ
--	--------	---------
- B) 

İYİ		DİLERİZ
-----	--	---------
- C) 

İYİ	GÜNLER	
-----	--------	--
- D) 

İYİ	GÜNLER	DİLERİZ
-----	--------	---------

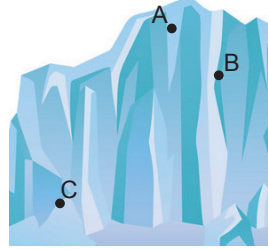
2.



Yukarıda verilen sayı doğrusunda A, B ve C birer tam sayı olduğuna göre aşağıdakilerden hangisi yanlıştır?

- A) A'nın en büyük değeri - 3
- B) B'nin en küçük değeri - 3
- C) B'nin en büyük değeri + 5
- D) C'nin en küçük değeri + 7
3. Bir havaalanına her 15 dakikada üç uçak inmektedir. Buna göre bu havaalanına 3 saatte kaç uçak iner?
- A) 12      B) 16      C) 24      D) 36
4.  $A = \{+4\text{'ten küçük tam sayılar}\}$   
 $B = \{-6\text{'dan büyük tam sayılar}\}$   
 olmak üzere  $A \cap B$  kümesi kaç elemanlıdır?
- A) 9      B) 10      C) 11      D) 12

5.



Sıcaklık değerleri aşağı in-  
dikçe artmaktadır. Aynı anda  
A, B, C noktalarında sıcaklık  
değerleri ölçülmüştür.

Aşağıdakilerden hangisi  
bu değerler olamaz?

	A noktası	B noktası	C noktası
A)	-35	-27	-4
B)	-48	-34	-13
C)	-56	-27	-35
D)	-30	-17	-6

6. 6/A sınıfında bulunan öğrencilerin bazılarının seçtiği seçmeli ders ve öğrenci isimleri aşağıda verilmiştir.

Dersler İsim	Resim (R)	Zekâ Oyunları (Z)	Drama (D)	Müzik (M)
Selen	✓	✗	✗	✓
Ayşe	✗	✗	✗	✓
Ahmet	✓	✓	✓	✗
Suna	✗	✓	✓	✗
Erkan	✓	✗	✗	✗
Onur	✗	✓	✓	✓
Zara	✓	✗	✓	✗
Ramazan	✗	✗	✗	✓

✓ : Dersi seçen      ✗ : Dersi seçmeyen

şeklinde ifade edilmiştir.

Resim dersini seçen öğrencilerin oluşturduğu küme R, Zekâ oyunlarını seçen öğrencilerin oluşturduğu küme Z, Drama dersini seçen öğrencilerin oluşturduğu küme D ve Müzik dersini seçen öğrencilerin oluşturduğu küme M, seçmeli ders seçen öğrenciler kümesi RUMUZ ise; aşağıdaki ifadelerden hangisi yanlıştır?

- A)  $s(D) = 4$       B)  $s(RUMUZ) = 8$
- C)  $s(R \cap D) = 3$       D)  $Suna \in Z \cap D$



1. Berkay Bey, evli ve iki çocuk sahibidir. Okulda öğrencilerine ders anlatırken aynı zamanda onların ülkelerine faydalı bireyler olarak yetişmelerine katkı sağlar. Berkay Bey aynı zamanda okul dışında arta kalan zamanlarında roman yazmaktadır. Ev işlerinde iş bölümü yapan Berkay Bey; ailesiyle beraber evinde sevgi ve saygının ön planda olduğu, fikirlere değer verilen, fırsat buldukça sohbet edilen bir ortam oluşturmuştur.

**Metne göre aşağıdakilerin hangisinde Berkay Bey'in üstlendiği roller bir arada verilmiştir?**

- A) Apartman yöneticisi / baba / öğretmen / amca
- B) Çocuk / baba / öğretmen / usta
- C) Eş / baba / öğretmen / yazar
- D) Eş / baba / müdür / gazeteci

2. Başkalarıyla iyi iletişim kurabilmek için kişilere olumlu yaklaşmalı ve nazik davranmalıyız. Karşımızdaki kişileri dikkatle dinlemek, onlarla empati kurmak olumlu iletişim kurmamıza yardımcı olabilir. Karşımızdaki kişi bizden ne kadar farklı olursa olsun iyi iletişim kurabilmek için ona saygı duymalı, söylediklerini can kulağıyla dinlemeli, mimik ve jestlerine dikkat etmeliyiz.

**Toplumda fertler arasında olumlu ilişki ve iletişim kurmak için aşağıdakilerden hangisinin yapılması yanlış olur?**

- A) Ön yargılı olmak
- B) Düşüncelerine önem vermek
- C) Hoşgörülü yaklaşmak
- D) Eleştirilere açık olmak

3. Kültürü meydana getiren unsurlardan biri de tarihtir. Tarih sayesinde bir milletin oluşturduğu ortak kültür mirası geçmişten günümüze aktarılabilir. Örneğin, Çanakkale ve Kurtuluş savaşları hakkında bilgi sahibi olan bireyler; savaş esnasında insanların omuz omuza vererek mücadeleye ettiklerini, el birliğiyle ülkelerini kurtarmak uğruna can vermekten çekinmediklerini de öğrenirler.

**Buna göre aşağıdakilerden hangisi tarihin faydaları arasında yer almaz?**

- A) Millî kimlik bilincinin kazanılmasını sağlar.
- B) Bireylerin duygu ve düşüncelerini paylaştığı iletişim aracıdır.
- C) Toplumsal birlikteliğin oluşmasında etkilidir.
- D) Bireylere yaşadığı toplumun geçmişini öğretip kendi milletini tanımasını sağlar.

4. Aşağıdakilerden hangisi yardımlaşma ve dayanışmaya örnek davranışlar arasında yer almaz?

- A) Melis'in, arkadaşı Meryem'in matematik dersinde çok iyi not alacağına kesin gözüyle bakması
- B) Çetin Bey'in aile bireyleri içerisinde saygı, sevgi, anlayış ve paylaşma gibi değerlerin yaşandığı bir ortam oluşturması
- C) Hacer Hanım'ın aşure gününde komşularına aşure dağıtması
- D) Ramazan Amca'nın elma bahçesindeki meyvelerin komşular tarafından imece usulüyle toplanması

5. Sasaniler İpek Yolu üzerindeki ticareti engelleyince Kök Türk Kağanı İstemi Yabgu Sasani hükümdarı ile anlaşmak istemiştir. Ancak Sasani hükümdarı İstemi Yabgu'nun teklifini kabul etmemesi üzerine İstemi Yabgu Bizans ile siyasi ve ticari bir antlaşma imzalamıştır.

**Bu durum;**

- I. Kök Türkler'in Bizans hakimiyetine girdiği,
- II. İpek Yolu'nun önemini kaybettiği,
- III. Ekonomik çıkarların dış politikaya yön verdiği

**gelişmelerinden hangilerini kanıtlar niteliktedir?**

- A) I ve II
- B) Yalnız I
- C) II ve III
- D) Yalnız III

6.



Cindy

I always have breakfast before I go to school. I like eating vegetables at breakfast. I usually have tomatoes and cucumbers. They are really healthy.

Read the speech bubble. What can we say about Cindy?

- A) She can't have breakfast every day.
- B) She prefers vegetables for breakfast.
- C) Vegetables are not delicious for her.
- D) She likes eating a fruit salad for breakfast.

8.



city



countryside

The city is .....than the countryside.

Fill in the blank according to the pictures above.

- A) cheaper
- B) more relaxing
- C) quieter
- D) noisier

7.



Look at the picture above. What are they doing?

- A) They are feeding the street dogs.
- B) They are waiting in the line.
- C) They are walking in the street.
- D) They are going to the cinema.

9. The weather conditions affect all kids. They usually like spring and summer because .....

Fill in the blank with the correct sentence.

- A) they can make a snowman
- B) they can see heavily raining
- C) they can see yellowed leaves
- D) they can have a picnic

10. Andy: What is the weather like in Erzurum in January?

Burak: It is ..... and the temperature is around  $-14^{\circ}\text{C}$ .

Choose the best option to complete the dialogue.

- A) snowy and freezing
- B) sunny and warm
- C) rainy and windy
- D) cloudy and cool



1. "Kırmak" sözcüğü aşağıdakilerin hangisinde "etkisini, gücünü azaltmak" anlamında kullanılmıştır?
- A) Bisküvileri ikiye kırıp yiyordu.  
B) Yağmur soğuk havayı kırdı.  
C) Satıcı, ayakkabının fiyatını kırınca hemen alıverdim.  
D) Hastalık, tavukları kırdı.

2. "Varlık ancak yoklukta görülebilir; noksanlar, olgunluk aynasında belirir."

**Yukarıdaki cümlede altı çizili sözcükler arasındaki anlam ilişkisi, aşağıdaki seçeneklerin hangisinde vardır?**

- A) Sevinssem mi üzülsem mi bilemedim.  
B) Gülmemek, gülmekten daha zordur.  
C) Geçen yaz, tatile gidemedik.  
D) Varlıklar, canlı ve cansız olarak ikiye ayrılır.

3. (1) Necip Fazıl Kısakürek 1904 yılında İstanbul'da doğmuştur. (2) Yirmi dört yaşındayken "Kaldırımlar" adlı şiir kitabını çıkarmıştır. (3) 1934 yılına kadar sadece şiir yazmıştır. (4) O dönemde şiir dünyasının en etkili isimlerinden biri olmuştur.

**Numaralanmış cümlelerin hangisinde öznel bir yargı vardır?**

- A) 1 B) 2 C) 3 D) 4

4. Babamla baraj gölüne, balık tutmaya gitmiştik. Babam bir yandan bana balık tutmanın inceliklerini anlatıyor, diğer yandan balık tutarken kullanacağımız yemleri ayarlıyordu.

**Bu metindeki altı çizili ifade hikâyenin hangi ögesi olabilir?**

- A) Yer B) Olay  
C) Zaman D) Şahıs kadrosu

5. Yağmur yağar mor sümbüller bitirir  
Yel estikçe kokularını getirir  
Sarı çiçek çadır kurmuş oturur  
Karışmış güllere çimenin dağlar

**Bu şiirde aşağıdaki duyulardan hangisinden yararlanılmamıştır?**

- A) Görme B) Dokunma C) Koklama D) Tatma

6. (1) Sonunda bu anlaşmazlık, kardeşler arasında ayrılığa neden oldu.  
(2) Bir zamanlar, birbirine bitişik iki çiftlikte yaşayan iki erkek kardeş vardı.  
(3) İki kardeş arasında o zamana değin ilk kez görülen anlaşmazlık, giderek büyüdü.  
(4) Günlerden bir gün bu iki kardeş arasında bir anlaşmazlık baş gösterdi.

**Numaralanmış cümleler olayların oluşuna göre nasıl sıralanmalıdır?**

- A) 1 – 2 – 3 – 4 B) 2 – 3 – 4 – 1  
C) 4 – 3 – 1 – 2 D) 2 – 4 – 3 – 1

7. Attım. Boyalar ne işe yarayabilir  
Yalnızlık için karadan başka  
Hangi rengi kullanabilirim  
Kuru masa, donuk tavan, somurtuk halı  
Solgun durmalı resimlerim  
  
Pencerem kuşları çekmiyor  
Soluğu azaldı nergislerin  
Üç tarak olsa taranmaz Yuku Lili'nin saçları  
Ben annesi çalışan bir çocuğum

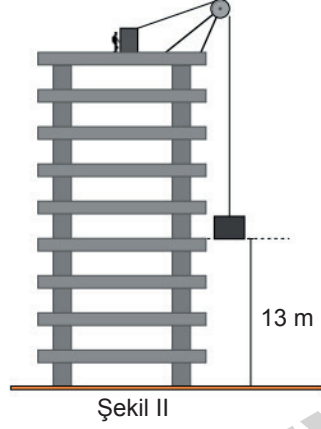
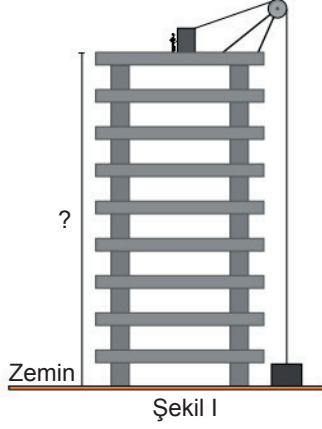
**Yukarıdaki şiirin ana duygusu aşağıdakilerden hangisidir?**

- A) Geçmişe özlem B) Ümitli olma  
C) Çaresizlik D) Karamsarlık

8. Aşağıdakilerin hangisinde olay üçüncü kişi ağızyla anlatılmıştır?

- A) Bu sene Adana'ya, en merak ettiğim ile, gidecektim. Kebaplarını, tatlılarını tatmak için sabırsızlanıyordum.  
B) Ömer, sessizce eve geldi. Kimseyi uyandırmak istemiyordu. Sadece unuttuğu kitabı alıp çıkacaktı.  
C) Bugün altıncı dersin ortasında deprem olmuştu. Çok korkmuştum. Hemen sıraların altına girdik. Deprem bitince seri bir şekilde bahçeye indik.  
D) Çocukluğumun geçtiği mahalle nasıl da değişmiş! Şu köşede körebe oynadığımız günleri unutamıyorum.

1. Her katın yüksekliği birbirine eşit olan inşaat hâlindeki bir binanın en üst kısmında bulunan işçi, şekil 1'deki gibi vince bağlı olarak zeminde duran yükü 13 m yukarı çektiğinde şekil II'deki konuma gelmektedir.



Buna göre işçinin durduğu yerin zeminden yüksekliği kaç metredir?

- A) 29,25      B) 31,25      C) 32,15      D) 33,75
2. Ali'nin bir adımının uzunluğu  $9\frac{1}{2}$  cm'dir.  
Uzunluğu 190 cm olan bir yolu Ali en az kaç adım-  
da alır?  
A) 15      B) 16      C) 18      D) 20
3. 15 kişilik bir arkadaş grubu bir kafeye gidiyor ve her biri bir tane içecek sipariş ediyor.
- | Menü            |
|-----------------|
| Ayran 5 TL      |
| Meyve suyu 8 TL |
| Limonata 7 TL   |
- Grubun  $\frac{1}{3}$ 'ü ayran,  $\frac{1}{5}$ 'i limonata geriye kalanları da meyve suyu sipariş ettiğine göre, bu grup toplam kaç TL ödeme yapmıştır?  
A) 110      B) 102      C) 90      D) 82
4. 13,357 ondalık gösterimi aşağıdakilerden hangisi ile çarpılırsa sonuç bir doğal sayıya eşit olur?  
A)  $10^3$       B)  $10^2$       C) 10      D) 1357
5. 51a2 sayısı 6 ile tam bölünebildiğine göre a yerine yazılabilecek rakamların çarpımı kaçtır?  
A) 28      B) 20      C) 7      D) 4
6. Nesrin Öğretmen aşağıdaki gibi iki tablo çizip öğrencilerinden tablo 1'den seçecekleri farklı iki rakamdan birini taban, diğerini üs olarak yazıp elde ettikleri üslü ifadelerin değerlerini tablo 2'deki boş yerlere yazmalarını istiyor.
- | Tablo - 1 |   |   |
|-----------|---|---|
| 2         | 3 | 5 |
- | Tablo - 2 |  |  |
|-----------|--|--|
|           |  |  |
|           |  |  |
- Buna göre aşağıdakilerden hangisi öğrencilerin tablo 2'ye yazacağı sayılardan biri değildir?  
A) 9      B) 32      C) 125      D) 225
7. Sultan cep telefonunun ekran kilidi için şifre oluşturmuştur. Şifre ile ilgili olarak aşağıdaki bilgiler veriliyor.
- 5 ile tam bölünebilen bir sayı
  - 4 basamaklı bir sayı
  - 7 ile aralarında asal bir sayı
  - 2801' den küçük bir sayı
- Buna göre, cep telefonunun ekran kilidinin şifresi aşağıdakilerden hangisi olabilir?  
A) 2895      B) 2793      C) 2695      D) 2795

1. Baran Bey aynı anda inşaat mühendisi, eş ve baba sosyal rollerine sahiptir. Baran Bey şantiyede işçileriyle, evde eşi ve çocuğuyla ilgilenmektedir. İnşaat firması sahibi olan Baran Bey aynı zamanda patron rolündedir.

**Buna göre aşağıdaki yargılardan hangisi söylenemez?**

- A) Bireyler aynı anda çeşitli sosyal rollere sahip olabilir.  
B) İnsanlar sosyal rollerinin gerektirdiği davranışları yerine getirmektedir.  
C) Sosyal roller bireye aynı zamanda farklı sorumluluklar yüklemektedir.  
D) İnsanlar yaşamları boyunca sahip oldukları sosyal rolleri bir anda edinirler.

2. Adım Murat. Bu yıl sınıfımıza Benyamin adında Suriyeli yeni bir arkadaşımız geldi. Benyamin siyah kıvrıkcık saçları, sıksa, kısa boyu, koyu esmer teni ile pek de alışık olmadığımız biriydi. Çok az Türkçe konuşabilen Benyamin her şeyi ile bizden farklıydı. Kimse onunla oturmak istemezdi. Ancak kısa süre sonra derslerdeki başarısı hepimizin dikkatini çekti. Aynı zamanda çevresine karşı çok saygılı olan Benyamin ile iletişim kurdukça onun sevecen, yardımsever ve arkadaş canlısı olduğunu gördük. Şimdi sınıftaki herkes Benyamin ile aynı sırada oturmayı onunla arkadaşlık yapmayı çok istiyor. Okula geldiği ilk günü hatırlıyorum da onun hakkında ne çok yanılmışız.

**Buna göre aşağıdaki yargılardan hangisine ulaşamaz?**

- A) Her zaman tarafsız ve ön yargısız olmaya dikkat edilmelidir.  
B) Roller değiştiğinde sorumluluklarımız da değişmektedir.  
C) Ön yargılar kimi zaman olumsuz davranışlar sergilememize neden olabilir.  
D) İlk karşılaştığımız birinin dış görünüşüne bakarak o kişi hakkında karar vermemeliyiz.

3. Orta Asya, Türklerin ilk ana yurdudur. Türkler bu coğrafyada konargöçer hayat şartlarından dolayı koyun ve keçi kılından yapılan keçe çadırlarda yaşamıştır. En çok at, siğir ve koyun yetiştirmişlerdir. Türkler atı ilk evcilleştiren milletlerden birisidir. Bunun yanında demirden savaş aletleri, at koşumları, süs eşyaları yapmış ayrıca kilim ve halı yapımında ileri gitmişlerdir.

**Verilen metinde Türklerin aşağıdaki uğraş alanlarından hangisine değinilmemiştir?**

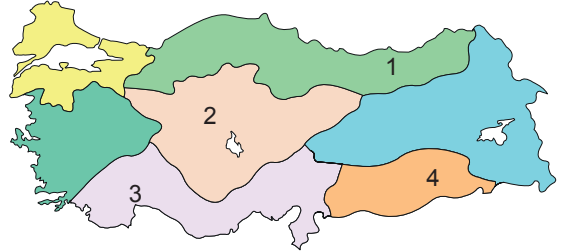
- A) Ticaret  
B) Hayvancılık  
C) Madencilik  
D) Dokumacılık

4. Abbasilerin, Emevilerin aksine Arap milliyetçiliği yapmalarını, Türkler dâhil birçok milletin Müslüman olmasını sağlamıştır. Abbasilerin Çinlilerle yaptığı Talas Savaşı'nda Türklerin Abbasileri desteklemeleri, Türklerin Müslüman olmasını hızlandıran bir gelişme olmuştur. Savaşçı özellikleri gelişmiş bir millet olan Türkler, Abbasi ordusunda önemli görevler üstlenmişlerdir. Ayrıca Bizans'tan gelebilecek saldırıları önlemek amacıyla sınırda Türkler için "Avasım" adlı sınır şehirlerini kurmuşlardır.

**Buna göre Abbasiler ile ilgili aşağıdakilerden hangisi söylenemez?**

- A) Birçok bilim insanı ve düşünür yetiştirmişlerdir.  
B) Türklerin askerî yeteneklerinden faydalanmışlardır.  
C) Hoşgörülü bir politika yürütmüşlerdir.  
D) Sınır güvenliğinin sağlanmasında Türklerden faydalanmışlardır.

5.



- Her mevsim yağışlıdır.
- En fazla yağışı sonbaharda alır.
- Yıllık yağış miktarı 2000 – 2500 mm'dir.
- Bitki örtüsü ormandır.

**Yukarıda verilen özellikler harita üzerindeki numaralandırılmış yerlerden hangisine aittir?**

- A) 3  
B) 1  
C) 2  
D) 4

6. “Rabbinin fil sahiplerine ne yaptığını görmedin mi? Onların tuzaklarını boşa çıkarmadı mı? Onların üzerine sürü sürü kuşlar gönderdi. O kuşlar, onların üzerine gökten taş yağdırıyordu. Ve böylece onları çiğnenmiş ekin yaprakları gibi paramparça yapıverdi.”

**Aşağıdakilerden hangisi yukarıda anlamı verilen sure ile ilgili değildir?**

- A) Kur’an-ı Kerim’in en kısa suresidir.  
B) Kur’an-ı Kerim’de Fil suresi olarak geçmektedir.  
C) Ebrehe’nin filleriyle Kâbe’yi yıkmaya yeltendiği olaydan bahseder.  
D) Kur’an-ı Kerim’de 105. sıradadır.

7. Kadir Hoca, cuma vaazlarında her hafta İslam dininde yasaklanan zararlı alışkanlıklardan birini anlatmaktadır. Bu haftaki zararlı alışkanlığı anlattıktan sonra ise bu alışkanlığın zararları ile ilgili olarak; “Aile içi geçimsizlik ve şiddetin en önemli sebepleri arasında yer alır. Aile ekonomisini olumsuz etkileyen önemli bir etkidir. Trafik kazalarının en önemli nedenleri arasında gösterilir.” demiştir.

**Kadir Hoca’nın cuma vaazında anlattıklarından hareketle zararlı alışkanlıklar ile ilgili aşağıdaki yorumlardan hangisi yapılamaz?**

- A) İnsanın hayatını olumsuz etkiler.  
B) Kişinin mal varlığına zarar verir.  
C) İnsanın hayatını tehlikeye atar.  
D) Kişide bağımlılık yaparak uzun yıllar etkisi devam eder.

8. İslam dini, insanların zararına olan kötü alışkanlıkları yasaklamıştır.

**İslam dini kumar oynamayı yasaklayarak aşağıdakilerden hangisinin önemine vurgu yapmıştır?**

- A) Çalışarak kendi emeğimizle rızık kazanmanın önemine  
B) Paranın kolay yoldan kazanılmasının önemine  
C) İbadetlerimizi zamanında yapmanın önemine  
D) Para kazanmanın önemine

9. Hz. Musa’ya (a.s.) indirilmiştir. Dili İbranicedir. İsrailoğullarına gönderilmiştir.

Hz. Davud’a (a.s.) gönderilmiştir. Diğer kitaplardan hacim olarak küçüktür.

Hz. Muhammed’e (sav.) gönderilmiştir. Tüm insanlığa ait mesajlar içermektedir. Dili Arapçadır.



Kahraman okuduğu kitapta yukarıdaki bilgileri öğrenmiştir.

**Buna göre Kahraman ilahi kitaplardan hangisine ait bir bilgi öğrenmemiştir?**

- A) Tevrat B) Kur’an-ı Kerim  
C) Zebur D) İncil

10. İslam dininde kul hakkı kavramı insanlar arası ilişkiler sonucunda ortaya çıkan hakları ifade eder. Bu haklar; bireysel ve toplumsal olmak üzere ikiye ayrılır. Bireysel kul hakkı bireylerin karşılıklı helalleşmesi sonucu ortadan kalkan haklardır. Toplumu ilgilendiren haklar ise toplumsal kul haklarıdır ve helalleşme imkânı olmayan haklardır.

**Paragrafta anlatılanlardan hareketle aşağıdakilerden hangisi toplumsal kul hakkına örnektir?**

- A) Kaçak elektrik kullanmak  
B) Yalan söylemek  
C) Hırsızlık yapmak  
D) Alay etmek

1. Boş olan kitaplık rafının uzunluğu 180 cm'dir.



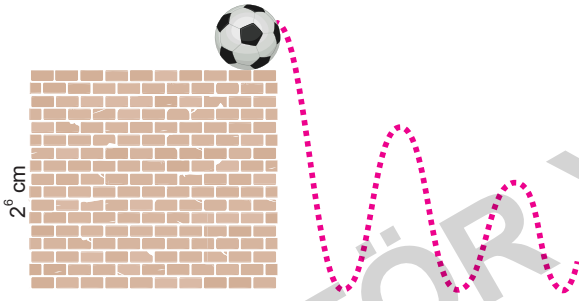
Bu kitaplık rafına 2 dikey ve dört yatay olacak şekilde eşit yükseklik ve genişlikte kitaplar diziliyor.



Buna göre bu kitaplığa kaç tane kitap yerleştirilmiştir?

- A) 18 B) 24 C) 36 D) 40

2.



Bir top bırakıldığı yüksekliğin 2'de 1'i kadar zıplamaktadır. Top  $2^6$  m yükseklikten bırakılıyor.

Top yere  $2^2$  defa çarptığı anda dikeyde toplam kaç cm mesafe katetmiştir?

- A) 120 B) 176 C) 112 D) 164

3.  $9A6B$  sayısı hem 3'e, hem de 5'e tam bölünebildiğine göre,  $A+B$ 'nin en büyük değeri aşağıdakilerden hangisidir?

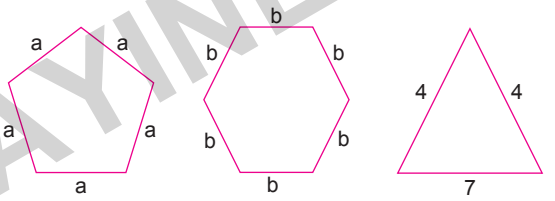
- A) 8 B) 11 C) 12 D) 15

4. Özlem'in yaşının, babasının yaşına oranı  $\frac{4}{9}$ 'dur.

Babası Özlem'den 30 yaş büyük olduğuna göre Özlem kaç yaşındadır?

- A) 18 B) 24 C) 25 D) 28

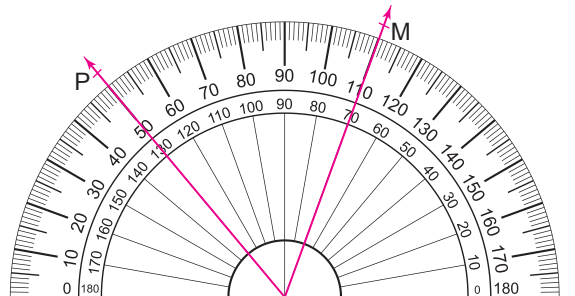
5.



Yukarıda verilen çokgenlerin çevreleri toplamını veren cebirsel ifade aşağıdakilerden hangisidir?

- A)  $3a + 5b + 10$  B)  $5b + 60 + 15$   
C)  $5a + 6b + 15$  D)  $15 + 20 + 7b$

6.



Yukarıda gösterilen POM açısının tümleri ile bütünlerinin toplamı kaç derecedir?

- A) 100 B) 120 C) 130 D) 150



**Türklerin Orta Asya'dan göç yollarını gösteren harita incelendiğinde aşağıdaki çıkarımlardan hangisi yapılamaz?**

- A) Farklı coğrafyalara göçler yapılmıştır.
- B) En uzun mesafeli göçler batı yönünde gerçekleşmiştir.
- C) Ana yurttan yaşayan Türklerin tamamı göç etmiştir.
- D) Kıtaları aşan göçler yaşanmıştır.

2. Sosyal, kültürel ve tarihi bağlar toplumsal birlikteliğin oluşmasında büyük bir etkiye sahiptir. Toplumsal birlik-telik sağlanınca sorunları daha kısa sürede çözeriz.

**Aşağıdaki atasözlerinden hangisi birlik ve beraberlik ile ilgilidir?**

- A) Sakla zamanı, gelir zamanı.
- B) İşleyen demir pas tutmaz.
- C) Bugünün işini yarına bırakma.
- D) Bir elin nesi var, iki elin sesi var.

3. Mekke'li Müşrikler, Medine'ye göç eden Müslümanların mallarını yağmalamıştı. Müslümanlar mallarının karşılığını almak, müşrikler ise İslamiyet'in yayılmasını engellemek istiyordu. Bunun için taraflar arasında yapılan ilk savaşı Müslümanlar kazandı. Savaş sırasında ele geçirilen esirlere, Müslümanlara okuma yazma öğretmeleri şart koşuldu ve Müslümanlara okuma yazma öğreten esirler serbest bırakıldı.

**Hz. Muhammed (sav.) zamanında yapılan bu savaş aşağıdakilerden hangisidir?**

- A) Bedir
- B) Hendek
- C) Uhud
- D) Siffin

4. Ekvator, Dünya'mızı Kuzey Yarımküre ve Güney Yarımküre olmak üzere iki eşit parçaya böler. 90 tane Kuzey Yarımküre'de, 90 tane Güney Yarımküre'de olmak üzere toplam 180 tane paralel dairesi vardır. Birer derece aralıklarla çizilen paralel dairelerinin aralarındaki uzaklık 111 kilometredir ve her yerde aynıdır. Kuzey-güney yönlü uzanan ve kutup noktalarında birleşen yarım çemberlere meridyen denir. 180 tane doğuda 180 tane batıda olmak üzere toplamda 360 tanedir. İki meridyen yayı arasındaki uzaklık yalnız Ekvator üzerinde 111 kilometredir. Bu uzaklık kutuplara doğru gidildikçe azalır. İki meridyen yayı arasındaki zaman farkı 4 dakikadır.

**Buna göre paralel ve meridyenler aşağıdakilerden hangisinin belirlenmesinde kullanılmaktadır?**

- A) Dünya üzerindeki bir yerin coğrafi konumunu belirlemede
- B) Bir yerin yükseltisini tespit etmede
- C) Akarsuların akış hızını belirlemede
- D) Dağların uzanış yönünü belirlemede

5. Bir ürünün kullanılmasıyla ilgili hakları elde etmek için o ürünün telif ya da patent hakkının alınması gerekir. Herhangi bir bilgi veya düşünce ürününün kullanılması ve yayılması ile ilgili hakların, yasalarla belirli kişilere verilmesine telif hakkı denir. Ülkemizde sanat ve müzik eserlerini korumak için 5846 sayılı "Fikir ve Sanat Eserleri Kanunu" çıkarılmıştır. Kullandığımız ürünün üzerinde telif hakkının sembolü bulunmaktadır.

**Buna göre üzerinde bulunduğu ürünü ortaya koyan kişinin telif haklarının korunduğunu belirten sembol aşağıdakilerden hangisidir?**

- A)
- B)
- C)
- D)

6. Adım Hamza, çiftçiyim. Yaşadığım şehirde ormanlar geniş yer tutuyor. Ayrıca deniz kenarında bulunan şehrimizin her mevsimi yağışlı olduğu için tarımda sulamaya ihtiyaç yoktur.

**Buna göre Hamza Bey'in bulunduğu şehirde aşağıdaki tarım ürünlerinden hangisi ile ilgili bir üretim yapılamaz?**

- A) Çay
- B) Buğday
- C) Fındık
- D) Mısır



1. Allah, insanlara peygamberler göndererek iyiyi, kötüyü, doğruyu ve yanlış göstermiştir. İyi ve faydalı olan şeylerin yapılmasını öğütlemiş, ruh ve beden sağlığına zarar veren kötü alışkanlıkları yasaklamıştır. Alkollü içki ve uyuşturucu, insanın aklını ve iradesini kullanmasını engelleyen ve bağımlılığa yol açan zararlı maddelerden olduğu için İslam dini alkollü içecek ve uyuşturucuyu yasaklamıştır. İslam; akli, canı, nesli, malı ve dini korumayı esas almış, bu değerlere herhangi bir şekilde zarar verilmesini yasaklamıştır.

**Bu parçadan çıkarılabilecek en genel yargı aşağıdakilerden hangisidir?**

- A) Peygamberler insanları iyiye, doğruya yönlendirir.
- B) İslam dini, insana zarar veren her türlü şeyi yasaklamıştır.
- C) Alkol, içki ve uyuşturucu insana zarar veren maddelerdir.
- D) Her türlü uyuşturucu madde insanın iradesini kullanmasını engelleyerek insanları bağımlı hale getirir.

2. Peygamber ve ehl-i beyt sevgisi toplumun birleşmesine katkı sağlar. Toplumdaki sevgi ve dayanışmayı artırır.

**Buna göre aşağıdakilerden hangisi bunun bir yansıması olarak düşünülemez?**

- A) Hz. Muhammed'in (sav.) doğduğu gün olan Mevlit Kandili'nde insanların bir araya gelerek bunu kutlaması
- B) Kerbela Olayı'nın yaşandığı günde tüm insanların aynı acıları yaşaması
- C) Peygamber sevgisinin Türkleri, Kürtleri ve Lazları aynı duygular etrafında birleştirmesi
- D) Ehl-i beyt sevgisinin Alevi - Sunni çatışmasını doğurması

3. "Kim yatsı namazını cemaatle kılsa gece yarısına kadar namaz kılmış sevabı kazanır. Kim sabah namazını da cemaatle kılsa bütün geceyi namaz kılarak geçirmiş gibi sevap alır."

(Hadis-i Şerif)

**Yukarıdaki hadiste aşağıdakilerden hangisi vurgulanmaktadır?**

- A) Cemaatle namaz kılmanın kardeşlik ve dayanışma duygularını güçlendirdiği
- B) Cemaatle kılınan namazın daha sevap olduğu
- C) Yatsı namazını kılmanın sabah namazını kılmaktan daha sevap olduğu
- D) Bütün namazların cemaatle kılınmasının farz olduğu

4. "Her sarhoş edici şey haramdır. Çoğu içildiği zaman sarhoş eden şeyin az içilmesi de haramdır."

(Hadis-i Şerif)

**Bu hadis;**

- I. Alkol almak
- II. Kumar oynamak
- III. Uyuşturucu kullanmak
- IV. Faiz yemek

**yukarıda verilen kötü alışkanlıklardan hangileriyle ilgili söylenmiş olabilir?**

- A) I ve III
- B) II ve III
- C) I, II ve IV
- D) I, III ve IV

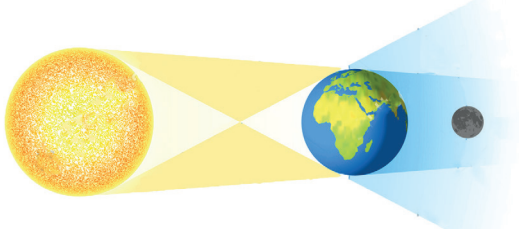
5. "Andolsun onların (geçmiş peygamberler ve ümmetlerinin) kıssalarında akıl sahipleri için pek çok ibretler vardır..."

(Yusuf suresi, 111. ayet)

**Yukarıda verilen ayete göre kıssaların gönderiliş amacı aşağıdakilerden hangisidir?**

- A) Peygamberler hakkında bilgi sahibi olmak
- B) İnsanları iyi olana yönlendirmek
- C) Peygamberleri örnek göstermek
- D) İbadetlerde süreklilik sağlamak

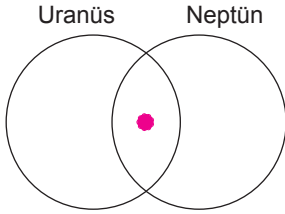
1.



Yukarıda görseli verilen olayla ilgili hangi öğrencinin yaptığı yorum yanlıştır?

- A) **Aykut:** Ay, Dolunay evresindeyken gerçekleşir.  
B) **Gamze:** Güneş tutulmasından daha uzun sürer.  
C) **Çağla:** Dünya, Ay'ın ışık almasını engeller.  
D) **İlayda:** Bu olay her ay düzenli olarak gerçekleşir.

2.



Yukarıdaki şemada Uranüs ve Neptün'e ait ortak özelliklerin yazıldığı ● ile gösterilen kısma aşağıdakilerin hangisi yazılabilir?

- A) Karasal gezegenlerdir.  
B) Doğal uydusu yoktur.  
C) Gazsal gezegenlerdir.  
D) Aynı büyüklükteki gezegenlerdir.

3.

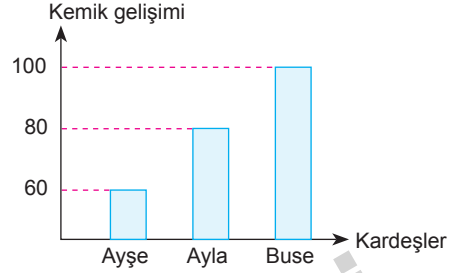
Atık Maddeler	Deri	Akciğer	Böbrek	Kalın bağırsak
X	✓	✓	✓	✓
Y			✓	
Z				✓
T		✓		

Nazan, X, Y, Z ve T ile gösterilen atık maddelerin hangi organlar tarafından atıldığını "✓" işareti ile göstermiştir.

Buna göre X, Y, Z ve T ile gösterilen atık maddeler aşağıdaki seçeneklerin hangisinde doğru verilmiştir?

	X	Y	Z	T
A)	Su	Karbondioksit	Üre	Sindirim atığı
B)	Su	Üre	Sindirim atığı	Karbondioksit
C)	Oksijen	Su	Tuz	Karbondioksit
D)	Tuz	Su	Sindirim atığı	Üre

4. Üçüz kardeşlerin kemik gelişiminde çevrenin etkili olup olmadığı ile ilgili bir araştırma yapılıyor. Bu araştırmada üçüz olan Ayşe, Ayla ve Buse seçilmiştir. Üçüz kardeşlerin 12 yaşına kadar olan kemik gelişimleri aşağıdaki grafikte verilmiştir.



Bu araştırmada şunlar yapılmıştır;

- Ayşe sürekli karanlık odada bekletilip kalsiyum içeren besinler yiyor.
- Ayla Güneş ışığından yeterince faydalaniyor. Kalsiyum içeren besinler yemiyor.

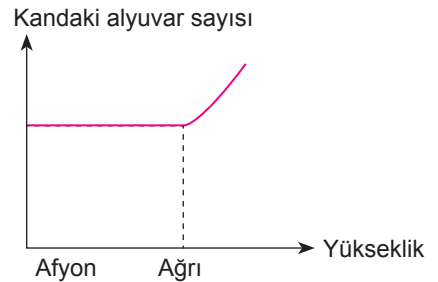
Buna göre;

- Buse hem Güneş ışığından hem de kalsiyum minerali bakımından zengin besinler tüketmiştir.
- Üç kardeşin kemik özellikleri farklıdır.
- Kemik gelişiminde kalsiyum minerali Güneş ışığından daha etkilidir.

yukarıdaki ifadelerden hangilerine ulaşılabilir?

- A) Yalnız I B) I ve II C) I ve III D) I, II ve III

5. Kan hücrelerimiz alyuvar, akyuvar ve kan pulcuklarıdır. Alyuvarlar oksijen ve karbondioksit taşıma özelliğine sahiptir. Afyon'da yaşayan bir insan Ağrı iline gittiğinde kanında bulunan alyuvar sayısındaki değişim grafikteki gibidir.



Buna göre;

- Yükseklere doğru çıkıldıkça alyuvar sayısı artar.
- Yüksek bölgelerde yaşayan insanların alyuvar sayısı daha azdır.
- Açık bölgelerde yaşayan insanların alyuvar sayısı daha azdır.

yukarıdaki ifadelerden hangileri doğrudur?

- A) Yalnız I B) I ve II C) I ve III D) I, II ve III

1. "Ey bürünüp sarınan (Resulüm)! Kalk ve insanları uyar. Rabbi'ni yücelt. Elbiseni tertemiz tut ve kötü şeyleri terk et." (Müddessir suresi, 1-5) ayetleriyle Allah, Hz. Muhammed'e (sav.) insanları uyarması emrini vermiştir.

**Aşağıdakilerden hangisi Hz. Muhammed'in (sav.) uyarısıyla ilk Müslüman olanlardan değildir?**

- A) Hz. Zeyd  
B) Hz. Hatice  
C) Hz. Ebubekir  
D) Hz. Ömer

2. "Ey iman edenler! Şarap, kumar, dikili taşlar, fal ve şans okları birer şeytan işi pisliliktir. Bunlardan uzak durun ki kurtuluşa eresiniz. Şeytan içki ve kumar yoluyla ancak aranıza düşmanlık ve kin sokmak; sizi, Allah'ı anmaktan ve namaz kılmaktan alıkoymak ister. Artık bunlardan vazgeçtiniz değil mi?" (Maide suresi, 90-91. ayetler)

**Yukarıdaki ayetlerden aşağıdakilerden hangisi çıkarılamaz?**

- A) Şeytan, kötü alışkanlıklar yoluyla insanların arasını bozmaktadır.  
B) Kötü alışkanlıklar edinmek bizi Allah'ı anmaktan uzaklaştırır.  
C) Zararlı alışkanlıklar şeytanın işidir.  
D) Kötü alışkanlıklar insanı namaz kılmaya teşvik eder.

3. "Ey iman edenler! Cuma günü namaza çağrıldığı (ezan okunduğu) zaman, hemen Allah'ı anmaya koşun ve alışverişi bırakın. Eğer bilmiş olsanız, elbette bu, sizin için daha hayırlıdır." (Cum'a suresi, 9. ayet)

**Bu ayetten hareketle cuma namazı ile ilgili aşağıdaki ifadelerden hangisine ulaşılamaz?**

- A) O an, yapılacak her işten hayırlıdır.  
B) Namaz esnasında Allah anılmaktadır.  
C) Alışverişten daha önemlidir.  
D) Vakit namazlarından daha önemlidir.

4. ● "İman etmedikçe cennete giremezsiniz. Birbirinizi sevmedikçe de gerçek mümin olamazsınız."  
● "Birbirinizi kıskanmayın, birbirinize küsmeyin, birbirinize sırt çevirmeyin. Ey Allah'ın kulları kardeş olunuz."

**Yukarıdaki hadislerden çıkarılabilecek ortak yargı aşağıdakilerden hangisidir?**

- A) Toplumdaki birlik ve beraberlik  
B) Allah'a imanın önemi  
C) İnançın insana kazandırdıkları  
D) Kötü duyguların topluma etkisi

5. "Müminler, birbirlerini sevmekte, birbirlerine acıtmakta ve birbirlerini korumakta bir vücut gibidir. Vücudun herhangi bir organı rahatsız olunca diğer organları da bu yüzden rahatsız olur." (Hadis-i Şerif)

**Bu hadisten hareketle aşağıdakilerden hangisi çıkarılamaz?**

- A) Tüm müminleri kardeş bilip sevmeliyiz.  
B) Mümin, mümin kardeşinin üzüntüsünü paylaşır.  
C) Korumasız bir mümini hep birlikte korumalıyız.  
D) Yalnızca yakın akrabalarımıza yardım etmeliyiz.

6. Ayşe Öğretmen ve Zuhal Öğretmen girdikleri sınıflarda Hz. Muhammed (sav.) Dönemi'nde yaşamış bazı kişileri ve özelliklerini anlatmışlardır.

**Ayşe Öğretmen;** Hz. Muhammed'in davetine cevap veren üçüncü sahabelerdir. Hz. Muhammed'in en yakın arkadaşı ve ilk halifedir. İslam'a girdikten sonra da bütün sahabeler gibi mal varlığını fakirlere bağışlamıştır. İslam tarihinin tüm savaşlarına katılmış ve aynı zamanda hicret esnasında Hz. Muhammed'in (sav.) yanında olmuştur.

**Zuhal Öğretmen;** Hz. Muhammed'in azatlı kölesidir. Hz. Muhammed'in (sav.) her zaman yanında olmuştur. Hz. Muhammed (sav.) ona özgürlüğünü vermesine rağmen onun yanında kalmış ve hayatının sonuna kadar ona hizmet etmiştir. Hz. Muhammed'e (sav.) peygamberlik verildiği zaman ona koşulsuz inananlar arasındadır.

**Buna göre;**

- I. Ayşe Öğretmen'in anlattığı kişi Hz. Osman'dır.  
II. Zuhal Öğretmen'in hakkında bilgi verdiği sahabe Zeyd bin Harise'dir.  
III. İki de Hz. Muhammed'in (sav.) peygamberliğine ilk inanan kişilerden bahsetmiştir.  
IV. İki de Hz. Muhammed'den (sav.) sonra gelen dört halife arasındadır.

**yukarıda verilenlerden hangileri söylenebilir?**

- A) I, III ve IV  
B) II ve IV  
C) II ve III  
D) I, II, III ve IV

7. "Allah yolunda öldürülenlere 'ölüler' demeyin. Hayır, onlar diridirler. Ancak siz bunu bilemezsiniz."

(Bakara suresi, 154. ayet)

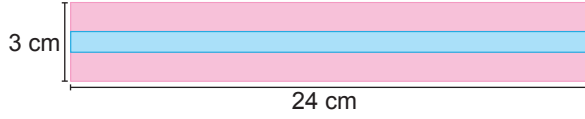
**Öğretmenin tahtaya yazdığı ayet aşağıdaki kavramlardan hangisiyle ilgilidir?**

- A) Vatan  
B) Millet  
C) Gazilik  
D) Şehitlik

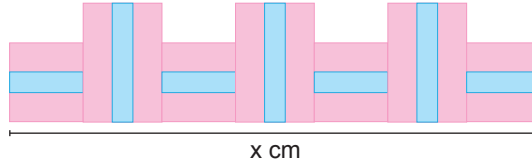


1. I. Herhangi bir şey ortaya çıkarmak, oluşturmak  
II. Dayamak  
III. Döndürmek, çevirmek, yöneltmek  
“Vermek” sözcüğü aşağıdaki cümlelerin hangisinde numaralanmış anlamlarından herhangi biriyle kullanılmamıştır?
- A) Arabanın burnunu en tenha kahvelerden birinin önünde rıhtıma verdiler.  
B) Kendisi de muhakkak artistlerden, güzel eser veren, güzel konuşan, hayalleri işlek adamlardan hoşlanıyor.  
C) Duvara sırtını verip çömeldi, gözünü hamamcının geleceği yola çiviledi.  
D) Geçenlerde bir derginin, “Eski ünlüler ne yapıyor?” adlı bir röportajına verdiği cevapları okudum.
2. Aşağıdaki cümlelerin hangisinde karşılaştırma yapılmamıştır?
- A) Bu denemeden daha yüksek bir sonuç bekliyorum.  
B) Oğuzhan, maçlara çıkmak için gün sayıyor.  
C) Kayseri, Şanlıurfa'dan daha çok yağış alıyor.  
D) En güzel kahveyi ben yaparım.
3. Ateş böcekleri içinde biri varmış ki sürekli herkese yüksekten bakarmış. Bir gün kendisine sormuşlar: “Ey gece parlayan böcek, niçin gündüzleri ortalıkta görünmez de saklanırsın?” Ateş böceği yine böbürlenerek “Bir yere saklanmıyorum, siz görmüyorsanız ben ne yapayım?” demiş.
- Bu parça ile ilgili aşağıdakilerden hangisi söylenebilir?**
- A) Hikâye edici metin örneğidir.  
B) Bilgi aktarma amacıyla yazılmıştır.  
C) Kişileştirme sanatından yararlanılmıştır.  
D) Kurgusal bir metindir.
4. Aşağıdaki dizelerin hangisinde hem edat hem de bağlaç vardır?
- A) On dört asır evveldi, yine böyle bir geceydi.  
Kumdan, ayın on dördü, bir öksüz çıkıverdi!  
B) İkinizin de ne eş ne arkadaşınız var  
Sükut gibi münzevi, çığlık gibi hüsrünüz.  
C) Dünyanın en uzun hüznü yağıyor  
Yorgun ve yenilmiş insanlığımızın üstüne  
D) Bin yıldan uzun bir gecenin bestesidir bu.  
Bin yıl sürecek zannedilen kar sesidir bu.
5. (1) Patlattım bir bahar şarkısı.  
(2) Doğa uyanmış, ağaçlar yeşillenmiş, çiçekler tomurcuklanmış.  
(3) Bu güzel manzara karşısında kendimi tutamadım.  
(4) Güzel bir bahar sabahına uyandım.
- Numaralanmış cümleler, olayların oluş sırasına göre nasıl sıralanmalıdır?**
- A) 4 – 2 – 3 – 1  
B) 2 – 1 – 3 – 4  
C) 4 – 1 – 2 – 3  
D) 1 – 2 – 4 – 3
6. Arslan Bey ordusu ile birlikte yeni kaleler zapt eden, Türk yurdunun gelişmesini sağlayan, yeni topraklar kazandıran bir beydir. Onun savaş becerisini, ordusunun gücünü ve büyüklüğünü gören düşman orduları onunla karşılaşmak istememektedirler. Arslan Bey, Borseme Dağları içindeki Dregley Kalesi'ne gelir ve kaleyi ele geçirmek için askerleri ile birlikte kuşatır.
- Bu metinde aşağıdaki hikâye öğelerinden hangisi belirtilmemiştir?**
- A) Olay  
B) Yer  
C) Şahıs  
D) Zaman
7. (1) Hepimiz yaşamın kısalığından söz ederiz ama boş zamanlarımızı güzel değerlendiremeyiz. (2) Hayatın tadını çıkarmak istiyorsak boş zamanlarımızı doğru değerlendirmeliyiz. (3) Örneğin, zamanımızın önemli bir kısmını öğrenmeye harcamalıyız. (4) Çevremizdeki vakıf ya da derneklere gönüllü üye olmalıyız.
- Bu parçaya göre, numaralanmış cümlelerden hangisinde koşul-sonuç ilişkisi vardır?**
- A) 1  
B) 2  
C) 3  
D) 4

1. Senem dolabının üzerinde bulunan şerit süslemeyi alıp farklı bir desen yapıyor.



Bu şerit süslemenin genişliği 3 cm, uzunluğu 24 cm'dir. Senem bu süslemeyi önce 2 eşit parçaya ayırıyor. Daha sonra parçalardan birini 3'e diğeri 4'e bölerek kısa olan parçaları yatay, uzun olan parçaları dikey aralarında boşluk kalmadan süslemeyi tamamlıyor.



Buna göre Senem'in oluşturduğu süslemenin uzunluğu (x) kaç cm'dir?

- A) 15 B) 18 C) 21 D) 24

2. Mehmet bir lokanta işletmekte ve bu lokantada 30 tane masa vardır. Masaların her birinin üzerinde 120 ml'lik sos şişeleri bulunmaktadır.

Mehmet her sabah önceki günden azalan veya biten sosları doldurmaktadır.

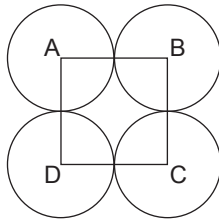
Mehmet şişelerin 10 tanesinin  $\frac{1}{3}$ 'ünü, 12 tanesinin  $\frac{1}{4}$ 'ünü

ve geriye kalanların tamamını doldurmuştur.

Buna göre Mehmet toplam kaç desimetreküp sos doldurmuştur?

- A) 96 B) 19,2 C) 17,2 D) 1,72

- 3.



Alanı  $36 \text{ cm}^2$  olan bir karenin kenarlarını kesecek şekilde A, B, C, D merkezli özdeş çemberler verilmiştir.

Buna göre çemberlerden birinin çevresi kaç cm'dir? ( $\pi = 3$  alınınız.)

- A) 12 B) 18 C) 20 D) 24

4. 2358M sayısı 5 ile bölümünden 4 kalanı elde edilen beş basamaklı tek sayıdır.

M'den aşağıdaki sayılardan hangisi çıkarılmalı ki, elde edilen sayı 4 ile tam bölünebilsin?

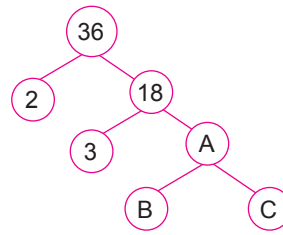
- A) 1 B) 2 C) 3 D) 4

5. I. En küçük asal sayı 2'dir.  
II. İki basamaklı en büyük asal sayı 99'dur.  
III. 3 ile tam bölünebilen her sayı 9 ile de tam bölünebilir.  
IV. 10 ile tam bölünebilen her sayı 5 ile de tam bölünebilir.

Yukarıda verilen bilgilerden kaç tanesi doğrudur?

- A) 3 B) 2 C) 1 D) 0

- 6.



B ve C 1'den farklı sayılar olmak üzere yukarıdaki çarpan ağacına göre  $(A + B + C)$  işleminin sonucu kaçtır?

- A) 8 B) 13 C) 18 D) 11

7. Bir fabrikada aynı anda çalmaya başlayan üç zilden birincisi 15 dakikada, ikincisi 20 dakikada, üçüncüsü ise 30 dakikada bir çalıyor.

Kaç saat sonra üçü birlikte 3. defa çalar?

- A) 1 B) 2 C) 3 D) 4

8. Bütünler iki açının ölçüleri farkı  $20^\circ$  olduğuna göre küçük açı kaç derecedir?

- A) 70 B) 80 C) 90 D) 100



1. “Dünyadaki nimetlerin hepsi kendisine verilecek olsa da, cennete giren hiçbir kimse, dünyaya tekrar dönmek istemez. Şehitler müstesna; çünkü o gördüğü faziletten dolayı tekrar dünyaya dönüp 10 kere daha şehit olmak ister.”

(Hadis-i Şerif)

**Yukarıdaki hadisten hareketle aşağıdakilerden hangisine ulaşamaz?**

- A) Şehitliğin yüce bir merteye olduğuna  
B) Şehitlerin ahirette mükâfatlandırılacaklarına  
C) Şehitlerin ahirette diğer insanlardan farklı bir düşünceye sahip olacağına  
D) İnsanların da şehitler gibi yeniden dünyaya dönmek isteyeceklerine

2. Enes okuduğu bir kitapta temel değerlerimiz ile ilgili şu bilgilere rastlamıştır: “Toplumun birtakım temel değerleri vardır ve bu değerler o toplumun en kıymetli varlığıdır. Toplumdaki farklı anlayışları ve bölgesel kültürleri birleştiren, herkesin ortak paydasını oluşturan değerlere temel değerler denir. Örneğin; vatan, bayrak, dini günler ve bağımsızlık gibi değerler bir ülkede yaşayan bütün insanları kuşatan temel değerlerdir. Asırlar boyunca aynı geçmişe sahip oluşumuz, aynı inançları paylaşmamız, aynı yurttan yaşamamız, bizi birbirimize bağlar ve aramızdaki farklılıkları unutturur.

**Buna göre Enes’in okuduğu kitapta temel değerlerimiz ile ilgili aşağıdakilerden hangisi çıkarılamaz?**

- A) Temel değerler herkesi ortak paydada birleştiren unsurlardır.  
B) Vatan, bayrak, dini günler ve bağımsızlık gibi unsurlar temel değerlerimize örnektir.  
C) Temel değerler her ne olursa olsun insanlar arasındaki farklılıkları ortadan kaldırmaz.  
D) Kültürleri farklı olan insanlar aynı değerleri paylaşmamaktadır.

3. ● Dili İbranice’dir.

- Yüce Allah: “Şüphesiz Tevrat’ı biz indirdik. İçinde bir hidayet, bir nur vardır...” buyurarak Tevrat’ın ilahi bir kitap olduğunu bizlere bildirmiştir.

**İlahi kitaplardan biri olan Tevrat aşağıdaki peygamberlerin hangisine indirilmiştir?**

- A) Hz. Davud (a.s.)      B) Hz. Musa (a.s.)  
C) Hz. Yahya (a.s.)      D) Hz. İsa (a.s.)

4. Hicretin altıncı yılında Hz. Muhammed (sav.) sahabeyle birlikte Mekke’yi ve Kâbe’yi ziyaret için yola çıktılar. Bunu haber alan müşrikler, Müslümanların Mekke’ye girmelerine izin vermediler. Bu sırada bir elçi Mekkelilerin savaş hazırlığı yaptığını haber verdi. Hz. Muhammed (sav.) bir elçi aracılığıyla niyetlerinin sadece Kâbe’yi ziyaret olduğunu bildirerek müşriklerle Hudeybiye’de bir barış antlaşması yaptı. Görünüşte Müslümanların aleyhine gibi sanılan bir antlaşma olmasına rağmen barış her zaman inananların lehine olmuştur. Hz. Muhammed (sav.) bu antlaşmadan sonra Bizans ve Sâsâni imparatorları başta olmak üzere civar ülke yöneticilerine, kabile reislerine elçiler ve İslam’a davet mektupları gönderdi.

**Yukarıda verilen parçadan hareketle aşağıdakilerden hangisi çıkarılamaz?**

- A) Müşrikler, Müslümanların Mekke’ye girmelerini istemeyerek savaş hazırlığına başlamışlardır.  
B) Müslümanlar, amaçlarının sadece Kâbe’yi ziyaret etmek olduğunu söyleyince müşriklerle barış antlaşması imzalamıştır.  
C) Barış ortamı oluştuktan sonra Hz. Muhammed (sav.), diğer ülkeleri İslam’a davet etmiştir.  
D) Yapılan barış antlaşması ile bütün müşrikler Müslüman olmuştur.

5. “Size Rabbimin mesajlarını duyuruyorum ve ben sizin için güvenilir bir öğüt vericiyim.”

(Araf suresi, 68. ayet )

**Yukarıda verilen ayette peygamberlerde bulunan sıfatlardan hangi ikisi anlatılmıştır?**

- A) Fetanet – Sıdk      B) İsmet – Tebliğ  
C) Tebliğ – Fetanet      D) Tebliğ – Emanet

# 6. SINIF

DENEME SINAVI

**çözüm**  
**fasikülü**



## 1. Çözüm:

Dünya'nın 1, Mars'ın 2, Jüpiter'in 79, Satürn'ün 82, Uranüs'ün 27, Neptün'ün 14 tane uydusu vardır. Güneş sistemine en yakın iki gezegen olan Merkür ve Venüs'ün uydusu yoktur. Görselde Mars, Jüpiter, Satürn, Neptün, Uranüs gezegenlerinin uydularının tamamı yer almamaktadır.

Doğru cevap C seçeneğidir.

## 2. Çözüm:

- Mars Güneş'e en yakın dördüncü gezegendir.
- Satürn, Güneş'e yakınlık bakımından 6. sıradadır.
- Güneş sistemindeki ilk dört gezegen karasal gezegendir. Dünya'da bunlardan biridir.
- Güneş sistemindeki en küçük gezegen Merkür, en büyük gezegen Jüpiter'dir.

Öğrencilerin verdiği bilgilerin hepsi doğrudur.

Doğru cevap D seçeneğidir.

## 3. Çözüm:

Güneş sistemindeki en büyük gezegen Jüpiter'dir. Güneş'e yakınlık bakımından 5. sıradadır.

Venüs, Dünya ile yaklaşık aynı büyüklükte olduğundan Dünya'nın ikizi de denilmektedir. Bu gezegene halk arasında Çoban Yıldızı, Sabah Yıldızı da denilmektedir.

Doğru cevap C seçeneğidir.

## 4. Çözüm:

Güneş'e en yakın K, sonra L, en uzakta M ile belirtilen gezegen bulunur. Cevap seçeneklerine baktığımızda, K: Merkür, L: Dünya, M: Neptün olabilir. Doğru cevap D seçeneğidir.

## 5. Çözüm:

I ile ifade edilen gök cismi asteroittir.

– Plüton bu gök cisimlerinden birisi değildir.

Çünkü Plüton bir asteroit değil cüce gezegendir. Doğru cevap D seçeneğidir.

## 6. Çözüm:

Merkür Güneş'e en yakın gezegendir. Büyüklük sıralaması bakımından 8. sıradadır. Yani en küçük gezegendir. (I doğru) Güneş'e en yakın olan Merkür'ün ortalama sıcaklığı  $167^{\circ}\text{C}$  iken 2. sırada olan Venüs'ün ortalama sıcaklığı  $464^{\circ}\text{C}$ , 3. sırada olan Dünya'nın ise  $15^{\circ}\text{C}$ 'dir. (II. yanlış)

Tabloyu incelediğimizde Dünya'nın Güneş sistemindeki 5. büyük gezegen olduğunu görürüz. (III. yanlış)

Doğru cevap A seçeneğidir.

**1. Çözüm:**

Soruda bizden metinde cevabı olmayan sorunun hangisi olduğunu bulmamız istenmiştir. Bu durumda seçeneklerdeki soruların cevaplarını bularak doğru cevaba ulaşmamız gerekmektedir. A seçeneğindeki "Where does she have lunch? (O öğle yemeğini nerede yer?)" sorusunun cevabı metinde "I have lunch at the school canteen. (Öğle yemeğini okul kantininde yerim.)" cümlesi ile verilmiştir. B seçeneğindeki "What time does she get up? (O saat kaçta uyanır?)" sorusunun cevabı ise "I wake up at seven o'clock. (Saat yedide uyanırım.)" cümlesidir. D seçeneğindeki "What time does her school start? (Onun okulu saat kaçta başlar?)" sorusuna ise "My school starts at half past eight. (Okulum saat sekiz buçukta başlar.)" cümlesi cevap niteliği taşır. Ancak C seçeneğindeki "What time does she have lunch? (Öğle yemeğini saat kaçta yer?)" sorusunun cevabı metinde bulunmamaktadır. Doğru cevap C seçeneğidir.

**2. Çözüm:**

Tabloda bize Mike ve John'un sevdikleri ve sevmedikleri yiyecekler verilmiştir. Soruda ise tabloya göre hangi seçeneğin yanlış olduğunu bulmamız istenmiştir. D seçeneğindeki "John doesn't like muffins, but he likes cheese. (John kek sevmez fakat o peynir sever.)" ifadesi yanlıştır. Çünkü tabloya göre John tam tersi keki sever fakat peyniri sevmez. Doğru cevap D seçeneğidir.

**3. Çözüm:**

Karşılıklı konuşmada öğretmenin sorduğu soruya küçük kız "Bir şeyler atıştırırım ve sonra bir süre dinlenirim." şeklinde cevap vermektedir. Buna göre öğretmenin sorduğu soru B seçeneğindeki "What do you do after school? (Okuldan sonra ne yaparsın?)" sorusu olmalıdır. Doğru cevap B seçeneğidir.

**4. Çözüm:**

Verilen görselde Mary'nin kahvaltı tabağında yumurta, elma, biraz ekmek ve bir fincan çay bulunmaktadır. Bu görsele göre A seçeneğindeki "Mary has a fried egg and some bread and drinks a cup of tea for breakfast. She loves eating fruit at breakfast. (Mary kahvaltıda bir kızarmış yumurta ve biraz ekmek yer ve bir fincan çay içer. Kahvaltıda meyve yemeyi çok sever.)" ifadesini söyleyebiliriz. Doğru cevap A seçeneğidir.

**5. Çözüm:**

Jack bize en iyi arkadaşı Mike hakkında bilgi vermektedir. Soruda metinle ilgili yanlış olan seçeneği bulmamız isteniyor. Mike kahvaltıdan önce elini yüzünü yıkar. Akşam yemeğinden sonra ödevlerini yapar. Okuldan sonra futbol oynar. Fakat Mike'ın dersleri 8'de başlamaz. Mike saat 8'de evden ayrılır. Doğru cevap A seçeneğidir.

**6. Çözüm:**

Carol cümlesinde şehirde yaşamak istemediğini belirtip sebebini açıklıyor. Bizden de sebep bildiren cümleyi tamamlamamız isteniyor. Seçeneklere baktığımızda şehir hayatını tercih etmemesinin sebebini belirten ve olumsuz özellikleri vurgulayan C seçeneğindeki "gürültülü ve kalabalık" kelimeleri boşluklara gelmelidir. Doğru cevap C seçeneğidir.

**7. Çözüm:**

Verilen paragraf;

"Günlük rutinim hakkında konuşmak istiyorum. Okul günleri, saat yedide uyanırım. Saat yedi buçukta kahvaltı yaparım. Saat sekizde okula giderim. Öğle yemeğini okul kantininde yerim. Derslerim saat 3'te biter. Saat 6'da ailemle akşam yemeği yerim. Akşam yemeğinden sonra ödevlerimi yaparım." şeklindedir.

Soruda ise "Şu anda okula gidiyorum. Şimdi saat kaç?" diye sorulmuştur. Saat sekizde okula gittiğine göre şu anda okula gittiği için saat sekiz demektir. Doğru cevap C seçeneğidir.

**8. Çözüm:**

Karşılıklı konuşmada "Biraz daha kek alabilir miyim anne?" ifadesi yer almaktadır. Bunun karşılığında annesi "Üzgünüm, fakat alamazsın. ...." şeklinde cevap vermiştir. Buna göre boşluğu tamamlayan ifade C seçeneğindeki "It's all gone. (Hepsi bitti.)" olmalıdır. Doğru cevap C seçeneğidir.

**9. Çözüm:**

Verilen metinde Emily'nin okul günlerindeki rutininin bahsedilmiştir. Metne göre Emily saat 7'de kahvaltı yapıyor. Kahvaltıdan sonra dişlerini fırçalıyor, okul için giyiniyor ve sonra saçlarını tarıyor. Kahvaltı saati 7 olduğuna göre "O, saat 7'den sonra okul için giyinir ve saçlarını tarar." ifadesi doğrudur. Doğru cevap A seçeneğidir.

**10. Çözüm:**

Soruda öncül olarak kasaba ve şehir görselleri verilmiştir. Bu görsellere göre verilen seçeneklerden doğru olanı işaretlememiz istenmiştir. C seçeneğindeki "The town is calmer than the city. (Kasaba şehirden daha sakin.)" ifadesi görsellere göre uygun olan seçenektir. Doğru cevap C seçeneğidir.

1. Çözüm:

“Kırmak” sözcüğü A seçeneğinde “parçalara ayırmak”, C seçeneğinde “azaltmak, indirmek”, D seçeneğinde “öldürmek” anlamında kullanılmıştır. B seçeneğinde ise “gücünü azaltmak” anlamında kullanılmıştır. Doğru cevap B seçeneğidir.

2. Çözüm:

Öncül cümlede altı çizili sözcükler, zıt anlamlılık ilişkisi oluşturmaktadır. B ve D seçeneklerinde “gülmemek, gülmek”, “canlı, cansız” sözcükleri arasında zıt anlamlılık değil, olumlu–olumsuz anlam ilişkisi vardır. Bir sözcüğün olumsuzunun zıddı demek değildir. C seçeneğinde herhangi bir zıt anlam oluşturacak kavram yoktur. Ancak A seçeneğinde, “sevinmek” ve “üzülmek” sözcükleri zıt anlam oluşturmaktadır. Doğru cevap A seçeneğidir.

3. Çözüm:

Öznel yargılar; kişiden kişiye, zevke, inanca, kişinin iç dünyasına göre değişen yargılardır. Bu bağlamda 4 numaralı cümle öznel bir yargıdır. Cümleye öznellik katan ifade “en etkili” ifadesidir. Necip Fazıl’ın o dönemde en etkili olması yazara özgü bir düşüncedir. Bir başkası için bu etkiye sahip bir yazar veya şair olabilir. Doğru cevap D seçeneğidir.

4. Çözüm:

Altı çizili “baraj gölüne” söz grubu “yer” bildirmektedir. Bir metinde yer ögesini bulmak istiyorsak cümleye “Nereye?” sorusunu sorarız. Bu metinde de “Nereye?” sorusunu sorduğumuzda alacağımız cevap “baraj gölüne” olacaktır. Doğru cevap A seçeneğidir.

5. Çözüm:

Metinde geçen “Karışmış güllere çimenin dağlar” ifadesinde görme, “Yel estikçe kokularını getirir” ifadesinde hem dokunma hem de koklama duyularından yararlandığı görülmektedir. Metinde tatma duyusuna yer verilmemiştir. Doğru cevap D seçeneğidir.

6. Çözüm:

Bu tip sorularda öncelikle cümlelerin hepsi okunarak ne anlatıldığı belirlenmeye çalışılmalıdır. Eğer bir olay varsa olayın gerçekleşme sırası, fikir işleniyorsa bu düşüncenin mantık sırası belirlenmelidir. Cümlelerin anlamca ve yapıca birbirlerine bağlanması son derece önemlidir. Olayların oluş sırasına dikkat edildiğinde cümlelerin 2 – 4 – 3 – 1 şeklinde sıralanması gerektiği görülür. Doğru cevap D seçeneğidir.

7. Çözüm:

Şiirde çocuk, onu sevindirecek hiçbir şeyin olmadığını; boyaların, kuşların onu mutlu etmediğini söylemiştir. Onu üzen ve karamsar olmasına neden olan ise annesinin çalışmasıdır. Karamsarlığı ifade eden cümleler ise “Solgun dumanlı resimlerim”, “Pencerem kuşları çekmiyor” ve “Soluğu azaldı nergislerin” ifadeleridir. Buna göre D seçeneğinde verilen “Karamsarlık” şiirin ana duygusudur. Doğru cevap D seçeneğidir.

8. Çözüm:

Soruda 3. kişi ağızyla anlatılan olayın hangi seçenekte verildiği sorulmuştur. Olayın üçüncü kişi ağızyla anlatıldığı metinlerde yazar, olayın içinde değildir. A, C ve D seçeneklerinde yazar, olayı bizzat yaşamaktadır. Ancak B seçeneğinde olayın içinde değildir. Doğru cevap B seçeneğidir.

9. Çözüm:

Parçada tulumun yapılışından ve malzemelerinden biri olan keçi derisinin nasıl hazırlandığından söz edilmiştir. Buna göre keçinin bir yaşında olmasına dikkat edilir ve deri kurutulduktan sonra çatlamasının önlenmesi için sürekli yumuşak tutulur. Ayrıca renkli ve değişik desenlerde kılıflar geçirilir. Yani deri yumuşak, kılıf renkli olmalıdır. Bu özelliklerin işaretlendiği seçenek B seçeneğidir. Doğru cevap B seçeneğidir.

10. Çözüm:

Verilen paragraftan A, B ve C seçeneklerindeki yargılara ulaşılmaktadır. Ancak D seçeneğindeki en az okuduğu kitap türünün aşk kitapları olduğu sonucuna ulaşılamaz. A seçeneğine “İkisi arasında seçim yapmam gerekirse polisiye türde yazılmış kitapları tercih ederim.” ifadesinden, B seçeneğine “polisiye kitaplar vazgeçilmezim.” ifadesinden, C seçeneğine ise “Ama polisiye türünde kitapları seviyorum olmam, diğer türlerde yazılmış kitapları okumuyorum anlamı taşımaz.” ifadesinden ulaşılmaktadır. Doğru cevap D seçeneğidir.

## 1. Çözüm:

Hiz. Muhammed (sav.), Müddessir suresinin ilk beş ayetinin emri ile yakın çevresini İslam dinine çağırıştır. Hiz. Muhammed'in (sav.) çağırısıyla; Hiz. Hatice, Hiz. Ebubekir, Hiz. Ali ve Hiz. Zeyd ilk Müslüman olan kişilerdir. Hiz. Ömer ise daha sonradan Müslüman olan sahabidir. Doğru cevap D seçeneğidir.

## 2. Çözüm:

Verilen ayette; "Şeytan içki ve kumar yoluyla ancak aranızda düşmanlık ve kin sokmak; sizi, Allah'ı anmaktan ve namaz kılmaktan alıkoymak ister." ifadelerinden A ve B seçeneklerine, "Şarap, kumar, dikili taşlar, fal ve şans okları birer şeytan işi pisliktir." ifadesinden de C seçeneğine ulaşabiliriz. Ancak D seçeneğinde verilen "Kötü alışkanlıklar insanı namaz kılmaya teşvik eder." ifadesi ayetten çıkarılamaz ve doğru bir yargı değildir. Aksine insanı namaz kılmaktan alıkoymaz. Doğru cevap D seçeneğidir.

## 3. Çözüm:

Ayete göre cuma namazı o anda yapılacak her şeyden önce gelir. Ayetten A, B ve C seçenekleri çıkarılabilir. Fakat cuma namazının vakit namazlarından daha önemli olduğu sonucu çıkarılamaz. Doğru cevap D seçeneğidir.

## 4. Çözüm:

Verilen hadislerde müminlerin birbirini sevmesi gerektiğine değinilmiştir. Dolayısıyla bu iki hadisten çıkarılabilecek yargı birlik ve beraberliktir. Doğru cevap A seçeneğidir.

## 5. Çözüm:

Verilen hadis tüm inananlarla ilgilidir. Bu hadisten, tüm müminleri kardeş gibi görmemiz gerektiği ayrıca onların üzüntüsünü paylaşarak onları korumamız gerektiğine ulaşılabilir. Yalnızca yakın akrabalarımızın değil tüm Müslümanların yardımına koşmalıyız. Doğru cevap D seçeneğidir.

## 6. Çözüm:

Ayşe ve Zuhal Öğretmen, Hiz. Muhammed (sav.) Dönemi'nde yaşamış kişileri anlatmışlardır. Ayşe Öğretmen, Hiz. Osman'ı değil Hiz. Ebubekir'i anlatmıştır. Zuhal Öğretmen, Zeyd bin Harise hakkında bilgi vermiştir. İki öğretmen de Hiz. Muhammed'in (sav.) peygamberliğine ilk inanan kişileri anlatmışlardır. Ancak Ayşe Öğretmen'in anlattığı Hiz. Ebubekir dört halife arasında gösterilirken, Zeyd bin Harise halife olmamıştır. II ve III. öncüller söylenebilir. Doğru cevap C seçeneğidir.

## 7. Çözüm:

İslam dinine göre; vatani, dini uğruna öldürülen kişilere şehit denir. Bu kişiler bu dünyadan aramızdan ayrılırlar bile Allah katında ölü değillerdir. Ayet şehitlik kavramıyla ilişkilidir. Doğru cevap D seçeneğidir.

## 8. Çözüm:

Parçada Hiz. Zekeriya'nın (a.s.) Yüce Allah'a duada bulunduğu belirtilmiştir. Hiz. Zekeriya (a.s.) kendisi öldükten sonra kavminin yanlış yola sapacağından endişe etmiştir ve Hiz. Zekeriya'nın eşi kısır olduğu için çocuk doğurmayacağına elverişli değildir. Dolayısıyla II ve III. öncüllerde verilen ifadelerle parçadan ulaşılmaktadır. Ancak I. öncülde verilen "Yüce Allah, Hiz. Zekeriya'nın (a.s.) duasına karşılık onu Hiz. Yahya ile müjdelemiştir." ifadesine parçadan ulaşılamaz. Doğru cevap C seçeneğidir.

## 9. Çözüm:

Teyemmümün farzları ikidir.

- Niyet etmek
- Ellerimizi toprağa sürüp yüzümüzü ve kollarımızı mesh etmek

Doğru cevap B seçeneğidir.

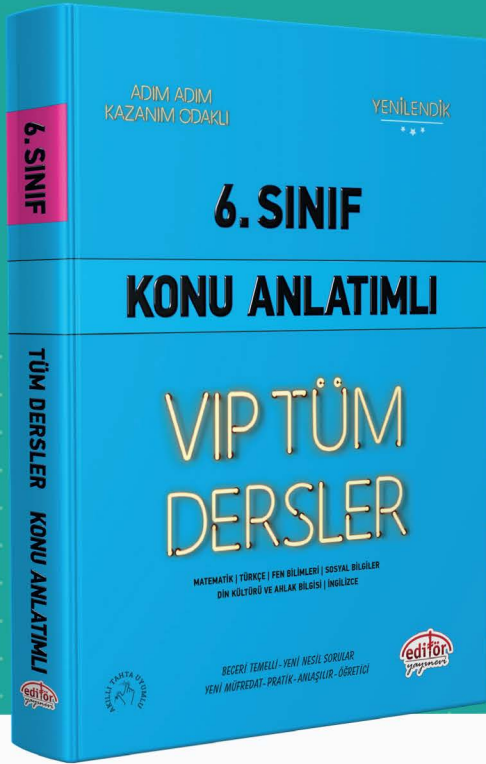
## 10. Çözüm:

Vatan, üzerinde yaşadığımız, kendimizi güvende hissettiğimiz toprak parçasıdır. Birçok sorumluluğumuz olduğu gibi vatan ve milletimize karşı da sorumluluklarımız vardır. Askere gitmek, vergi vermek ve kültürümüze sahip çıkmak vatanımıza karşı yerine getirmemiz gereken sorumluluklarımızdan bazılarıdır. Ancak birlik ve beraberliğimizi bozmak vatanımıza ihanet olur. Bu yüzden birlik ve beraberliğimizi korumaya dikkat etmeliyiz. Doğru cevap C seçeneğidir.



EDITÖR YAYINEVİ

ÜCRETSİZ  
İÇERİK İÇİN



İvedik Organize Sanayi Matbaacılar Sitesi

1518 Sok. Mat-Sit İş Merkezi No:2/20

Yenimahalle / ANKARA

Tel: 0 312 384 20 33 - 0 505 925 57 81

Faks: 0312 342 23 58

www.editoryayinevi.com | bilgi@editoryayinevi.com

ISBN 978-605-280-203-8



9 786052 802038