



İlköğretim ve Ortaöğretim Bursluluk Sınavı (İOKBS)

# BURSLULUK SINAVI



Fasiküllü

# DENEME SINAVI

DATA  
YAYINLARI

## 6. SINIF

# İLKÖĞRETİM KURUMLARI BURSLULUK SINAVI HAZIRLIK KİTABI

### EDİTÖR

Turgut MEŞE

### YAZAR

Komasyon

©

Bütün hakları Data Yayınları'na aittir.

Yayınevinin izni olmaksızın, kitabın tümünün veya bir kısmının elektronik, mekanik yollarla ya da fotokopi yoluyla basımı, çoğaltılması ve dağıtımı yapılamaz.

BU KİTAP T.C. KÜLTÜR VE TURİZM BAKANLIĞININ  
BANDROLÜ İLE SATILMAKTADIR.

### ISBN NO

978-605-7701-78-7

### SERTİFİKA NO

40447

### SAYFA TASARIMI

Data Dizgi Ekibi

### KAPAK TASARIMI

Data Grafik Tasarım Ekibi

### BASKI VE CİLT

Data Dijital Matbaacılık  
ANKARA

YAYINLARI  
**DATA**

İvedik Organize Sanayi Matbaacılar Sitesi

1518 Sok. Mat-Sit İş Merkezi No:2/20

Yenimahalle / ANKARA

Tel: 0 312 384 29 95 - 0 505 925 57 81

Fax: 0312 342 23 58

Web: www.datayayinlari.com

e-mail: bilgi@datayayinlari.com

## SINAV İÇİN ÖNEMLİ AÇIKLAMA!

### DERSLER VE SORU DAĞILIMI

Ders Adı	Soru Sayısı
TÜRKÇE	25
MATEMATİK	25
FEN BİLİMLERİ	25
SOSYAL BİLGİLER	20
DİN KÜLTÜRÜ	5
<b>TOPLAM SORU SAYISI</b>	<b>100</b>
<b>SINAV SÜRESİ</b>	<b>120 Dakika</b>

### DERSLERİN AĞIRLIK KATSAYILARI

Ders Adı	Ağırlık Katsayısı
TÜRKÇE	3
MATEMATİK	3
FEN BİLİMLERİ	3
SOSYAL BİLGİLER VE DİN KÜL.	3
<b>TOPLAM</b>	<b>12</b>

Her test için yanlış cevap sayısının üçte biri, doğru cevap sayısından çıkarılarak geçerli cevaplara karşılık gelen ham puanlar bulunur.



**BURSLULUK SINAVI**

**1.**

**DENEME SINAVI**



1 ve 2. soruları aşağıdaki metne göre cevaplayınız.

Picasso (Pikasso) "Ben aramam, bulurum." demiş. Hoş söz! Güvenen bir kişinin sözü, meydan okur gibi... Ama bilmem doğru mu?

"Kimse aramadan bulamaz." demeyeceğim, şunu düşünüyorum: Sanatta aramak, bulmak var mıdır? Şair olsun, ressam olsun sanat adamı aramaz, bulmaz; cesaret eder, cüret eder. Aramak, bulmak bilim alanında olur. Bilgin, doğanın yasalarını arar, birtakım olayları inceleyip sebeplerini bulur. Bunlara dayanarak yeni şeyler ortaya koyar. Sanat eri bunu yapmaz.

Orhan Veli'nin şiiri tutunuverdi, yayılıverdi. Ölçüsüz, uyaksız, şiir dışındaki konularda yazmayı göze aldı, cesaret etti. Bunları şiir diye kabul ettirdi. Aramadı, bulmadı. Sanat eri, yaptığını çağına kabul ettirir. Sanatın kaynağı cürettir.

1. Yukarıdaki altı çizili sözle anlatılmak istenen aşağıdakilerden hangisidir?

- A) Çekinmek, açıkça bildirmemek
- B) Saygı sınırlarını aşarak davranmak
- C) Gelebilecek her türlü eleştiriyi önceden kabul etmek
- D) Tehlikeyi önceden önlemeye çalışmak

2. Parçada geçen sözcüklerle ilgili aşağıdaki gruplardan hangisi doğrudur?

	Gerçek	Mecaz
A)	Sanat	Söz
B)	Ressam	Tutunuverdi
C)	Yayılıverdi	Ölçüsüz
D)	Şiir	Olaylar

3. "Uzun" ile "kısa" sözcüğü arasındaki ilişki aşağıdakilerin hangisinde yoktur?

- A) genç – ihtiyar
- B) gece – gündüz
- C) doğru – yanlış
- D) konuk – misafir

4. Aşağıdaki cümlelerin hangisinde kullanılan deyim açıklamasıyla birlikte verilmiştir?

- A) Orhan cin gibi çocuktu, her şeyin üstesinden gelebilecek akla ve uyanıklığa sahipti.
- B) Beni görünce şaşırıp, lafı ağzında gevelemeye başladı.
- C) Dün gece sabaha kadar gözümü kırpmadan odada dönüp durdum.
- D) Canına tak eden adam kapıyı hızla çarpıp çıktı.

5. Yapım eki almış sözcüklere türemiş sözcük denir.

Buna göre aşağıdaki cümlelerin hangisinde türemiş sözcük yoktur?

- A) Güncel olaylardan haberi pek yoktu.
- B) Çiçekleri sulamayı unutmamalısın.
- C) Bozuk muslukları tamir etti.
- D) Eve bu akşam geç geleceğim.

6. Her yönüyle bir benzeri bulunmayan, tek bir varlığın karşılığı olan adlara özel adlar denir.

Buna göre aşağıdakilerden hangisi özel addır?

- A) Kedi
- B) Akıl
- C) Ankara
- D) Anne

7. Sıfatlar, adları niteleyen ya da belirten sözcüklerdir. Bir sözcüğün sıfat olabilmesi için adın önüne gelerek onu nitelemesi veya belirtmesi gerekir. Mesela, "Yaşlı kadın, pazar çantasını titrek elleriyle tutuyordu." cümlesinde "yaşlı" sözcüğü bir adın niteliğini gösterdiğinden niteleme sıfatıdır. "Yemekte bu masaya dört kişi ancak oturur." cümlesinde ise "bu" sözcüğü bir isimden önce gelerek o ismi işaret yoluyla belirttiğinden bu sözcük belirtme sıfatıdır.

Aşağıdakilerden hangisinde kullanılan belirtme sıfatı diğerlerinden farklı türdedir?

- A) Arkadaşlarım öteki otobüsle gitmiş.
- B) Bu dergi neredeyse herkesin elinde.
- C) Şair birçok şiirinde İstanbul'u anlatmış.
- D) O kitabı daha önce okumamıştım.

1. I.  $5^0=5$   
II.  $5^1=5$   
III.  $1^5=5$   
IV.  $0^5=5$

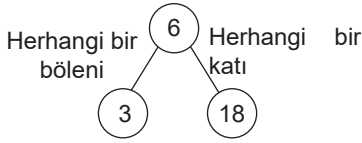
Yukarıda verilen eşitliklerden kaç tanesi doğrudur?

- A) 4 B) 3 C) 2 D) 1

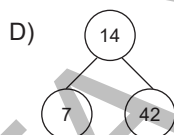
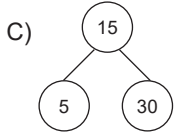
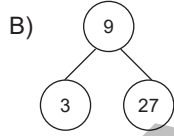
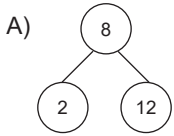
2.  $m$  ve  $n$  doğal sayılar olmak üzere  $m^2 = 16$  ve  $n^3 = 27$  olduğuna göre  $n^m$  aşağıdakilerden hangisine eşittir?

- A) 27 B) 64 C) 81 D) 243

3.



Aşağıda verilenlerden hangisinde yukarıdakine benzer bir ilişki yoktur?



4. 16 doğal sayısının 60 ile 100 arasında kaç tane doğal sayı katı vardır?

- A) 4 B) 3 C) 2 D) 1

5 ve 6. soruları aşağıdaki bilgilere göre cevaplayınız.

Bir okuldaki öğrenciler için;

A = {Sarışın öğrenciler}

B = {Gözlüklü öğrenciler}

C = {Kitap okuyan öğrenciler}

D = {Esmer öğrenciler}

kümeleri tanımlanmıştır. Okuldaki öğrencilerin en az biri bu kümeye dahildir. Bu kümelerin kesişimi ve birleşimi ile yeni kümeler oluşturuluyor.

5. Aşağıdaki kümelerden hangisi "sarışın ve kitap okuyan öğrenciler" ifade etmektedir?

- A)  $B \cup C$  B)  $A \cap B \cap C$  C)  $A \cup B$  D)  $A \cap C$

6.  $B \cap D = \emptyset$

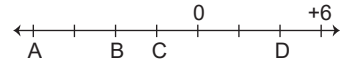
Yukarıdaki eşitlik aşağıdakilerden hangisini ifade etmektedir?

- A) Esmer ve gözlüklü öğrenciler  
B) Kitap okuyan esmer öğrenciler  
C) Gözlüklü esmer öğrenci yoktur  
D) Gözlüklü kitap okumayan öğrenciler

7. Aşağıdaki sözel ifadelerin hangisinde (-) işaretinin kullanılması uygun değildir?

- A) Zemin üstü 10. kat  
B) Deniz seviyesinin 10 m altı  
C) 10 TL borç  
D) Sıfırın altında 10 °C

8.



Yukarıda verilen eşit aralıklı sayı doğrusunda hangisinin değeri yanlış verilmiştir?

- A)  $D = +4$  B)  $C = -2$   
C)  $B = -4$  D)  $A = -4$

9.  $A = \frac{2}{3}$   $B = \frac{5}{6}$  ve  $C = \frac{7}{12}$


Yukarıda verilen kesirlerin doğru sıralaması hangisinde verilmiştir?

- A)  $A > B > C$  B)  $B > C > A$   
C)  $C > A > B$  D)  $B > A > C$

10. Aşağıdakilerden hangisi  $\frac{2}{3}$  ile  $\frac{7}{12}$  arasında değildir?

- A)  $\frac{33}{48}$  B)  $\frac{29}{48}$  C)  $\frac{5}{8}$  D)  $\frac{31}{48}$

1. Aşağıda verilen gezegenlerden hangisi diğerlerinden daha büyüktür?



2. K: Dünya'nın ikizi olarak bilinir.

L: Güneş sistemindeki en küçük gezegendir.

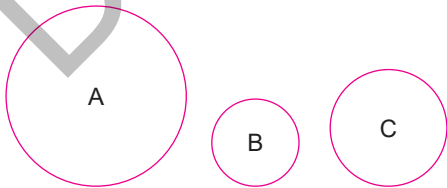
M: Güneş sisteminde Güneş'e en uzak olan gezegendir.

Yukarıda K, L ve M ile belirtilen gezegenlerle ilgili bilgiler verilmiştir.

Buna göre K, L ve M gezegenleri aşağıdakilerden hangisinde doğru verilmiştir?

	K	L	M
A)	Venüs	Mars	Dünya
B)	Mars	Dünya	Jüpiter
C)	Venüs	Merkür	Neptün
D)	Satürn	Uranüs	Merkür

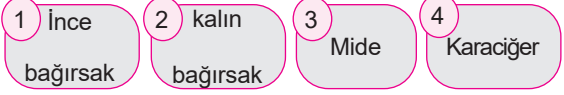
3. Aşağıdaki farklı büyüklükte bazı gezegenler verilmiştir.



Buna göre A, B ve C gezegenleri aşağıdakilerden hangisi olabilir?

	A	B	C
A)	Satürn	Merkür	Dünya
B)	Jüpiter	Satürn	Neptün
C)	Merkür	Venüs	Dünya
D)	Dünya	Jüpiter	Uranüs

4.



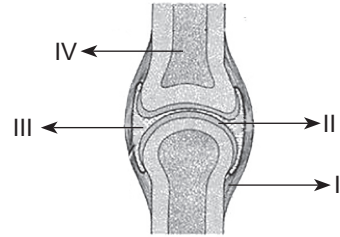
Bir önceki derste "Sindirim Sistemi" konusunu anlatan öğretmen sınıfa yukarıdaki kartlarla gelmiş ve bu kartlardaki organların görevlerinin neler olduğunu sormuştur.

- **Buse:** .....de protein, yağ ve karbonhidratların kimyasal sindirimi tamamlanır.
- **Şenol:** .....de su, vitamin ve minerallerin geri emilmesi gerçekleşir.
- **Burak:** .....de yağların sindirimi başlar.
- **Azam:** .....de proteinlerin kimyasal sindirimi başlar.
- **Mirza:** .....de safra sıvısı salgılanır.

Yukarıda öğrencilerin yaptığı açıklamalarda boş bırakılan yerlere iki öğrenci aynı rakamı yazmıştır. Bu iki öğrenci aşağıdaki seçeneklerden hangisinde doğru verilmiştir?

- A) Buse–Azam                      B) Burak–Mirza  
C) Buse–Burak                    D) Şenol–Mirza

5.



Yukarıdaki şekilde numaralandırılmış kısımlardan hangileri hareket sırasında kemiklerin aşınmasını engelleme ve hareketi kolaylaştırmada görev ya maz?

- A) I ve II                              B) I ve IV  
C) II ve III                            D) III ve IV

1. Belirli bir yerde bir arada yaşayan ve temel ihtiyaçlarını karşılamak için iş birliği yapan insanların tümüne toplum denir. İnsanlar tek başlarına hayatlarını sürdürmezler. Mutlaka birbirlerine ihtiyaçları vardır. Toplumu oluşturan tüm insanların sağlıklı ve mutlu bir şekilde yaşayabilmeleri için mutlaka birbirlerine yardım etmeleri ve ortak çıkarlarını korumaları gerekir. İnsanlar yardımlaşma ve dayanışmaya gereken önemi vermelidir. Yaşamak için yardımlaşma ve dayanışma şarttır.

**Yukarıda verilen parçadan çıkarılabilecek en kapsamlı yargı aşağıdakilerden hangisidir?**

- A) Toplum içerisinde insanlar iş birliği yapar.  
B) Yardımlaşma ve dayanışma toplumda huzur, mutluluk ve güvenliğin artmasını sağlar.  
C) Sadece kendi çevremizdeki insanlara yardımda bulunulmalıdır.  
D) Toplum içerisindeki insanlar sürekli olmasa da yardımlaşma ve dayanışma içerisinde olmalıdır.

2. Ahmet Bey, evde baba ve eş, anne-babasının yanında çocuk, okulda öğretmen rolüne sahiptir.

**Yukarıdaki açıklamaya bakılarak aşağıdaki yorumlardan hangisi yapılamaz?**

- A) Ahmet Bey, birden fazla role sahiptir.  
B) Ahmet Bey, bulunduğu ortama göre farklı rollerini yerine getirmelidir.  
C) Ahmet Bey, anne ve babasının yanında çocuk rolünü yerine getirmelidir.  
D) Ahmet Bey'in baba, eş, çocuk ve öğretmenlik rolünden başka rolü yoktur.

3. Türkiye Cumhuriyeti Devleti Anayasası'nın 74.maddeesinde "Vatandaşlar ve karşılıklılık esası gözetilmek kaydıyla Türkiye'de ikamet eden yabancılar kendileriyle veya kamu ile ilgili dilek ve şikâyetleri hakkında, yetkili makamlara ve Türkiye Büyük Millet Meclisine yazılı ile başvurma hakkına sahiptir." ifadesi yer almaktadır.

**Buna göre çıkarılabilecek yargı aşağıdakilerden hangisidir?**

- A) Dilekçe hakkı anayasa ile güvence altına alınmıştır.  
B) Anayasa ile sadece yabancıların hakları güvence altına alınmıştır.  
C) Türkiye Cumhuriyeti Devleti vatandaşı olarak birçok hakkımız vardır.  
D) En temel hakkımız dilekçe hakkıdır.

4. İpek Yolu üzerinde yer alan Sasaniler bu yol üzerindeki ticareti engelleyince Kök Türk Kağanı İstemi Yabgu, Sasanî hükümdarı ile anlaşmak istemiştir. Ancak hükümdarın anlaşmayı kabul etmemesi üzerine İstemi Yabgu bu kez Bizans ile siyasi ve ticari bir antlaşma imzalamıştır.

**Bu durum;**

- I. Kök Türklerin Bizans hakimiyetine girdiğinin  
II. İpek Yolu'nun önemini kaybettiğinin  
III. Ekonomik çıkarların dış politikayı yönlendirdiğinin

**yukarıdakilerden hangilerinin göstergesidir?**

- A) I ve II  
B) Yalnız I  
C) II ve III  
D) Yalnız III

5. İslamiyet'i kabul eden Türklerin hayat tarzlarında değişiklikler yaşansa da İslamiyet'ten önceki Türk gelenekleri önemini korumaya devam etmiştir.

**Buna göre;**

- I. Yeni bir dini kabul eden Türklerin yaşantısında hiçbir değişiklik olmamıştır.  
II. Türkler, İslamiyet'i kabul etseler de milli benliklerini kaybetmemişlerdir.  
III. Türkler, İslamiyet'in kabulüyle birlikte Araplaşmışlardır.

**yukarıdaki yargılardan hangilerine ulaşılabilir?**

- A) Yalnız I  
B) Yalnız II  
C) I ve II  
D) I ve III

6. Türkiye Selçukluları Dönemi'nde cami, medrese, mescit, kümbet, türbe, köprü, kale, darüşşifa, kervansaray ve külliye gibi yapılar inşa edilmiştir. Anadolu bu sayede bayındır hâle gelirken bu eserler sayesinde İslam ve Türk kültürü Anadolu'ya yayılmıştır.

**Aşağıdakilerden hangisi Türkiye Selçukluları Dönemi'nde inşa edilen eserlerden biri değildir?**

- A) Gök Medrese —→ Sivas  
B) Gevher Nesibe Darüşşifası —→ Kayseri  
C) Selimiye Camii —→ Edirne  
D) Cacabey Medresesi —→ Kırşehir



**BURSLULUK SINAVI**

**2.**

**DENEME SINAVI**





1.
  - Olan bütün cesaretimi de sen kırdın.
  - Evin önünde biriken odunları kırdım.
  - Bu sözler tüm ümitlerini kırdı.
  - Öğretmen yine notumu kırdı."Kırmak" **sözcüğü yukarıda kaç değişik anlamda kullanılmıştır?**  
A) 1 B) 2 C) 3 D) 4
2. **Aşağıdaki kelimelerden hangisi diğerlerine göre daha kapsayıcıdır?**  
A) Harf B) Paragraf  
C) Sözcük D) Cümle
3. **Aşağıdaki cümlelerin hangisinde altı çizili sözcük gerçek anlamıyla kullanılmıştır?**  
A) Eski bayramların  tadı yok artık.  
B) Vatan borcunu ödemek için askere gitti.  
C) Çok ateşli konuşmalar yapardı.  
D) İnce bir kazak vardı üzerinde.
4. **Aşağıdaki atasözlerinden hangisi "Bir yerde iki yönetici olmaz." anlamına gelmektedir?**  
A) Bir koltuğa iki karpuz sığmaz.  
B) İki el bir baş içindir.  
C) Bir çöplükte iki horoz ötmaz.  
D) İki kulak bir dil içindir.
5. Tarlam sana üç gün fidan aşılısam tarla çoşar  
1 2 3 4  
fidan çoşar el çoşar...  
**Numaralandırılmış sözcüklerden hangisi yapım eki almıştır?**  
A) 1 B) 2 C) 3 D) 4

6. Tek bir varlığı karşılayan, tek bir varlığı düşündüren adlara tekil ad, aynı türdeki birden çok varlığı karşılayan adlara ise çoğul ad denir. "En sevdiğim çiçek papatyadır." cümlesinde "papatya" tek bir varlığı kastettiği için tekil addır. "Papatyalar baharda açar." cümlesinde ise "papatyalar", birden çok varlığı kastettiğinden çoğul addır.  
**Buna göre aşağıdaki cümlelerin hangisinde çoğul bir ad kullanılmıştır?**  
A) Sevgiyi de yaşadım, sevgisizliği de.  
B) Güller derledim dostlarım için.  
C) Köşe minderinizin rengini çok beğendim.  
D) Bunca şeyin yükünü omzunda taşıyamadım.
7. Niteleme sıfatlarının önündeki isim düşürüldüğünde sıfat ismin yerine de kullanılmış olur. Buna adlaşmış sıfat deriz.  
**Buna göre aşağıdaki cümlelerin hangisinde adlaşmış sıfat kullanılmamıştır?**  
A) Derse geç gelenler içeri alınmadı.  
B) Böyle düşünenleri aramıza almayalım.  
C) Çalışkan öğrenciler sinemaya götürüldü.  
D) Çalışanların maaşları bu ay erken ödenecek.
8. **Aşağıdaki dizelerin hangisinde zamir yoktur?**  
A) Bu akşam da gönlümüzce bitmiyordu gün  
Suçun yarısı bizim yarısı günün.  
B) Benim doğduğum köyde  
İnsanlar gülmesini bilmezdi.  
C) Elif kaşlarını çatar  
Gamzesi yüreğime batar.  
D) Kimseye sır verme dedi boş yere  
Bir avuç yağmurla bulanır dere.

1.  $2^8$  ifadesi aşağıdakilerden hangisine eşit değildir?

- A)  $4^4$  B)  $16^2$  C)  $4 \cdot 2^6$  D) 644

2. Bir araç kiralama şirketinde  $2^4$  tane araç bulunmaktadır. Her bir araç için altı ayda bir  $2^5$  TL motorlu taşıt vergisi ödemektedir.

Buna göre, bu araç kiralama şirketinin yıllık ödediği motorlu taşıt vergisi kaç TL'dir?

- A)  $2^{15}$  B)  $2^{12}$  C)  $2^{10}$  D)  $2^8$

3.  $3^a \cdot 5^b \cdot 11^c$  sayısının bölenlerinden ikisi 99 ve 275 olduğuna göre  $a+b+c$  en az kaçtır?

- A) 3 B) 4 C) 5 D) 6

4.  $37A2B$  sayısının  $10$ 'a bölümünden kalan  $4$  olduğuna göre  $3$ 'e kalansız bölünebilmesi için  $A$  en çok hangi değeri alabilir?

- A) 9 B) 8 C) 7 D) 6

5. "BAKLAVA" sözcüğünü oluşturan harflerin kümesi A, "SÜTLAÇ" sözcüğünü oluşturan harflerin kümesi B olsun.

$s(A \cap B)$  kaçtır?

- A) 1 B) 2 C) 3 D) 4

6.  $s(A) = 8$ ,  $s(B) = 5$

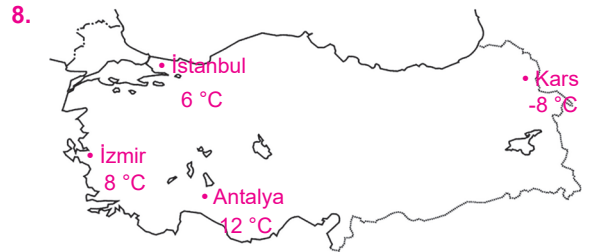
Yukarıda verilenlere göre aşağıdaki seçeneklerden hangisi yanlıştır?

- A)  $A \cap B$ 'nin eleman sayısı en çok 7'dir.  
B)  $A \cup B$ 'nin eleman sayısı en çok 13'tür.  
C)  $A \cap B$ 'nin eleman sayısı en az 0'dır.  
D)  $A \cup B$ 'nin eleman sayısı en az 8'dir.

7. 

Yukarıda verilen iki tam sayı arası kaç birimdir?

- A) 19 B) 20 C) 21 D) 22

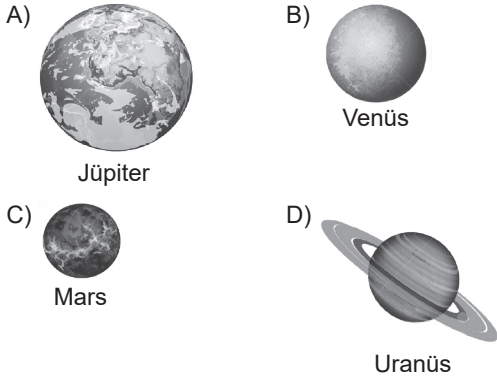


Yukarıda verilenlere göre aşağıdakilerden hangisi yanlıştır?

- A) En soğuk il Kars'tır.  
B) En sıcak il Antalya'dır.  
C) İzmir, İstanbul'dan  $-2^\circ\text{C}$  daha sıcaktır.  
D) İstanbul, Kars'tan  $14^\circ\text{C}$  daha sıcaktır.

- 1.
- I. Dünya'dan çıplak gözle görülebilir.
  - II. İki tane uydusu vardır.
  - III. Güneş'e olan uzaklığı bakımından 4 . sırada yer alır.

**Bazı özellikleri verilen gezegen aşağıdakilerden hangisidir?**



2. Yasemin fen bilimleri dersinde gezegenlerle ilgili tablo hazırlıyor.

Gezegen	Uydu sayısı	Özelliği
K	0	En sıcak gezegen grubundadır.
L	2	Büyüklüğü Dünya'nın yarısı kadardır.
M	63	Halkası bulunmaktadır.

**Yukarıdaki tabloya göre K, L ve M gezegenleri aşağıdakilerden hangisidir?**

	K	L	M
A)	Venüs	Mars	Jüpiter
B)	Mars	Dünya	Satürn
C)	Uranüs	Merkür	Jüpiter
D)	Merkür	Venüs	Dünya

- 3.
- I. Gezegenlerin hepsi aynı yönde döner.
  - II. Gezegenlerin Güneş'e olan uzaklığı AB (astronomi birimi) ile hesaplanır.
  - III. Güneş sisteminde 8 tane gezegen vardır.

**Yukarıda gezegenler ile ilgili verilen ifadelerden hangileri doğrudur?**

- A) Yalnız I                      B) I ve II
- C) II ve III                      D) I, II ve III

4. Bacaklarımızda hareketi sağlayan destek ve hareket sistemimize ait yapılar aşağıdakilerden hangisinde doğru verilmiştir?

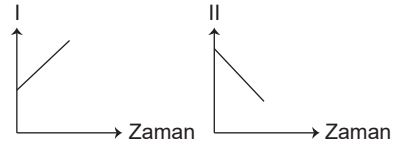
- A) Düz kaslar, uzun kemikler, oynar eklem
- B) Çizgili kaslar, uzun kemikler, oynar eklem
- C) Çizgili kaslar, kısa kemikler, yarı oynar eklem
- D) Düz kaslar, uzun kemikler, yarı oynar eklem

- 5.
- I. Üst üste dizilmiş kıkırdak halkalardan oluşur.
  - II. İç yüzeyi mukus tabaka ile kaplıdır.
  - III. Görevi havanın akciğerlere iletilmesini sağlamaktır.

**Yukarıdaki özellikleri verilen solunum sistemine ait yapı aşağıdakilerden hangisidir?**

- A) Burun                      B) Soluk borusu
- C) Ağız                      D) Akciğer

6. Soluk alma anına ait çizilen aşağıdaki grafiklere göre,



**I ve II numaralı yerlere aşağıdakilerden hangileri yazılabilir?**

- |    | I              | II             |
|----|----------------|----------------|
| A) | Karbondiyoksit | Oksijen        |
| B) | Oksijen        | Karbondiyoksit |
| C) | Oksijen        | Akciğer hacmi  |
| D) | Akciğer hacmi  | Oksijen        |

- 7.
- I. Kanı protein bakımından zenginleştirir.
  - II. Kan şekerini glikojen hâlinde depo eder.
  - III. Diyafram ile birlikte çalışır.

**Akciğerlerle ilgili olarak yukarıdaki bilgilerden hangileri doğrudur?**

- A) Yalnız III                      B) I ve II
- C) II ve III                      D) I, II ve III

1. Bir grup etkinliğinde yer alan ya da bir yerde bulunan bireylerin üstlendikleri görevlere rol denir.

**Rol ile ilgili aşağıdakilerden hangisi yanlıştır?**

- A) Sahip olduğumuz rollerin sorumluluklarını yerine getirmeliyiz.  
B) Bireylerin rollerinin gereğini yerine getirmemesi toplumda kargaşa çıkmasına neden olabilir.  
C) Zaman içerisinde sahip olduğumuz rollerde değişiklikler yaşanabilir.  
D) Bireyler toplum içerisinde bir tek role sahiptir.

2. Benim adım Melisa. Annem polis, babam öğretmendir. Bir akşam babam ve annemle birlikte dedemlere yemeğe gittik. Yemekten sonra babaannem bana şunları söyledi: "Yavrum, bizim zamanımızda ben ev işleriyle uğraşıp çocuklara bakıyordum, deden ise bir işte çalışıp para kazanıyordu. Geçimimizi bu şekilde sağlıyorduk. Ancak günümüzde öyle mi şimdi erkeklerle birlikte kadınlar da çalışıyor. Kadınların iş hayatına girmesiyle de evdeki sorumluluklar eşler arasında paylaşılıyor. Erkekler mutfağa girip yemek yaparken kadınlar da çalışıp para kazanabiliyor."

**Yukarıdaki paragraftan aşağıdaki yorumlardan hangisi çıkarılabilir?**

- A) Kadınlar iş hayatına girerek annelik rolünü yerine getirememişlerdir.  
B) Annenin sadece annelik rolünü yerine getirmesi gerekir.  
C) Zaman içerisinde rollerde değişiklik olmuştur.  
D) Günümüzde kadın çalışmak zorundadır.

3. Sosyal, kültürel ve tarihi bağlar toplumsal birlikteliğin oluşmasında büyük bir etkiye sahiptir. Toplumsal birlik-telik sağlanınca sorunları daha kısa sürede çözeriz.

**Aşağıdaki atasözlerinden hangisi birlik ve beraberlik ile ilgilidir?**

- A) Sakla zamanı, gelir zamanı.  
B) İşleyen demir pas tutmaz.  
C) Bugünün işini yarına bırakma.  
D) Bir elin nesi var, iki elin sesi var.

4. İslamiyet öncesi Arap toplumunda kız çocuklarına değer verilmez, kız çocukları diri diri toprağa gömülürdü. Ayrıca kadın daha doğuştan suçlu bir varlık gibi görülürdü. Bir adamın erkek çocuğu olunca sevinir, şenlik yapar, kız çocuğu olunca utanır, suç işlemiş duruma düşerdi.

**Bu durum Arap toplumunda aşağıdakilerden hangisinin var olduğunun göstergesidir?**

- A) İnsan hakları kavramının  
B) Sosyal barış ortamının  
C) Kadın – erkek eşitsizliğinin  
D) Birlik ve beraberliğin

5. Hz. Muhammed (sav.), ihtiyaç üzerine mescidin başka bir yanına 'suffe' denilen üstü hurma dallarıyla örtülü bir yer yaptırdı. Evi olmayan fakir ve kimsesiz Müslümanlar burada kalır, günlerini ilim öğrenmekle geçirirdi.

**Yukarıda verilen bilgiler ele alındığında Hz. Muhammed'in (sav.) aşağıdakilerden hangisine önem verdiği anlaşılmaktadır?**

- A) Siyaset  
B) Eğitim  
C) Ticaret  
D) Hukuk

6. Orhun Abideleri - Malazgirt Savaşı - Nizamülmülk - Bumin Kağan

**Yukarıdaki kutucukta aşağıdaki sorulardan hangisinin cevabı yoktur?**

- A) Türklerin ilk yazılı eserlerine verilen isim nedir?  
B) Türklere Anadolu'nun kapılarını açan savaşın ismi nedir?  
C) Büyük Selçuklu Devleti'nin en önemli devlet adamının ismi nedir?  
D) Asya Hun Devleti'nin en parlak dönemini yaşadığı hükümdar kimdir?

20. Konutlarda kullanılan malzeme ile o yerin coğrafi koşulları arasında sıkı bir ilişki vardır. Örneğin; bitki örtüsünün gür ormanlarla kaplı olduğu bölgelerde ahşap evler mevcuttur.

**Buna göre aşağıda verilen yerlerin hangisinde ahşap yapılara rastlanır?**

- A) Moğolistan B) Brezilya  
C) Yemen D) Mısır

**DİN KÜLTÜRÜ VE AHLAK BİLGİSİ DERSİNİ  
OKUYANLAR AŞAĞIDAKİ SORULARI  
CEVAPLAYACAKTIR.**

21. Allah her millete bir peygamber göndermiştir. Kur'an bu konuyu şöyle açıklar: "Ant olsun ki biz, ... her ümmete bir peygamber gönderdik..." İlk peygamber Hz. Adem'den itibaren Hz. Muhammed (sav.) dışındaki bütün peygamberler kendi milletlerine gönderilmiştir.

**Aşağıdakilerden hangisi bu parçadan çıkarılabilecek bir yargıdır?**

- A) Peygamberler konusu sadece Kur'an'da işlenmiştir.  
B) Hz. Adem bütün ümmetlere gönderilmiştir.  
C) Hz. Muhammed (sav.) tüm insanlığa gönderilmiştir.  
D) Kur'an-ı Kerim Hz. Muhammed'e (sav.) gönderilmiştir.

22. Namazı cemaatle kılmak, insanların birbirlerini daha yakından tanımalarına ve arkadaşlık kurmalarına imkân sağlar. Soy, işi, yaşı, maddi durumu ve toplumsal konumu farklı olan insanlar cemaatle kılınan namazlarda yan yana dururlar.

**Bu parçada cemaatle kılınan namazlarla ilgili aşağıdakilerden hangisine ulaşılabilir?**

- A) İnsanların Allah katında eşit olduklarının göstergeleridir.  
B) Toplumsal konumu farklı olanları ön plana çıkarır.  
C) Toplumda birlik ve beraberliği sağlar.  
D) İnsanlar arasındaki kardeşlik ve dayanışma duygularını güçlendirir.

23. "Ey iman edenler! Şarap, kumar, dikili taşlar (putlar), fal ve şans okları şeytan işi pisliktir; bunlardan uzak durun ki kurtuluşa eresiniz. Şeytan içki ve kumar yoluyla arınıza düşmanlık ve kin sokmak; sizi, Allah'ı anmaktan ve namazdan alıkoymak ister. Artık (bunlardan) vazgeçtiniz değil mi?"

(Maide suresi, 90–91. ayetler)

**Yukarıdaki ayetlere göre aşağıdakilerden hangisi söylenemez?**

- A) İçki ve kumar şeytanın işleridir.  
B) Pis işlerden uzak durmak insanı Allah'a yaklaştırır.  
C) Falcılık gelecekte haber veren bir meslektir.  
D) İçki ve kumar ibadetlerimize engel olur.

24. Hz. Muhammed'in (sav.) sağlığında dini bilgilerin öğretildiği yegâne mekân evler ve mescitlerdi. Mescitlerin inşasından evvel Hz. Muhammed (sav.) kendi evinde oturur ve Müslümanlar da kendilerine bir şeyler öğretmesi ve ruhlarını arındırması için Hz. Muhammed'in (sav.) etrafını sararlardı. Böylece Hz. Muhammed (sav.) kendi evini bir eğitim öğretim kurumu olarak kullanırdı.

**Bu parçada aşağıdakilerden hangisi vurgulanmıştır?**

- A) Hz. Muhammed'in (sav.) ilme verdiği önem  
B) Hz. Muhammed'in (sav.) mescit inşalarındaki rolü  
C) Hz. Muhammed'in (sav.) güvenilir kişiliği  
D) Hz. Muhammed'in (sav.) ayrımcılık yapmadığı

25. Allâhümme innâ nesteînuke ve nestağfiruke ve nestehdîke. Ve nu'minu bike ve netûbuyleyk. Ve netevkelu aleyke ve nusnî aleykel-hayra küllehû neşkuruke ve lâ nekfuruk .....

**Yukarıda verilen Kunut duasında aşağıdaki ifadelerden hangisi getirilmelidir?**

- A) Ve nahleu ve netrükü men yefcürük.  
B) İnnâ azabeke bil kuffari mülhik.  
C) İyyake na'budu ve iyyake nestain.  
D) Ve nahfidu ve nercu rahmeteke



**BURSLULUK SINAVI**

**3.**  
**DENEME SINAVI**



1. Aşağıdaki cümlelerin hangisinde “ileri” sözcüğü “Geri kalmış toplumların en büyük hastalığı sabit fikirliliktir.” cümlesindeki “geri” sözcüğünün karşıtıdır?

- A) Sis yolumuzu kapattığından bir adım ilerimizi görmiyorduk.  
B) Evimizin ilerisinde yeni bir market açıldı.  
C) Yan yana dizilmiş askerlerin üçü ileri çıkıp selam verdi.  
D) İleri gitmek, uygar ulusların düzeyine ulaşmak bir zorunluluktur.

2.



Çay



Ay



Kaz



Çiçek

Yukarıdaki varlıklara ad olan sözcüklerden hangisi eş sesli değildir?

- A) Çay B) Ay  
C) Kaz D) Çiçek

3. İkiemeleri oluşturan sözlerin yerleri değiştirilemez.

Aşağıdaki cümlelerin hangisinde bu kurala uyulmamıştır?

- A) Üniversiteyi ite kaka zor bitirmiştı.  
B) Yalan yanlış bilgilerle bizi kandırdı.  
C) İvır zıvır eşyaları çöpe attı.  
D) Ufaklı irili bütün karpuzları sattı.

4. Aşağıdaki atasözlerinden hangisi “İyi sonuç almak isteyen temeli sağlam kurmalıdır.” anlamına gelir?

- A) Yatan aslandan gezen tilki yeğdir.  
B) Ek tohumun hasını, çekme yiyecek yasını.  
C) Kuzguna yavrusu anka görünür.  
D) Akan su yosun tutmaz.

5. Aşağıdaki altı çizili sözcüklerden hangisi yapı bakımından farklıdır?

- A) Yemeklerden en çok imambayıldıyı severim.  
B) Her yer gecekondularla dolmaya başladı.  
C) İki ülke aylar sonra ateşkes imzaladı.  
D) Tavşan, yavrusunu görünce çok sevinmişti.

6. O vakit vapurun kenarına, tahta kanepenin üzerine oturdu. Dirseğini dayadı, başını avucunun içine koydu. Akşamın serin rüzgârıyla gözlerinin önünde hazırlanan geceye baktı.

Yukarıdaki parçada aşağıdakilerden hangisine yer verilmemiştir?

- A) Yönelme hâl eki  
B) Çoğul eki  
C) Ayrılma hâl eki  
D) Belirtme hâl eki

7. Varlıkların durumlarını, biçimlerini, renklerini kısaca “nasıl” olduklarını bildiren sözcükler niteleme sıfatıdır.

Aşağıdaki cümlelerin hangisinde niteleme sıfatı kullanılmamıştır?

- A) Üzerindeki mavi gömleği çok beğendim.  
B) Uzun burunlu ayakkabıları severdi.  
C) Onunla bu işi de bitirdi.  
D) Hızlı adımlarla bize doğru geldi.

1.

- I.  $3^4 \div 27 + 9 \div 3$   
 II.  $63 \div 21 + 3 \cdot 1$   
 III.  $(27 - 13) - (4 \cdot 2)$   
 IV.  $(2^2 + 5) - (3^0 + 6)$

Yukarıda verilen işlemlerden hangisinin sonucu diğerlerinden farklıdır?

- A) I      B) II      C) III      D) IV

2. Terzi Musa  $120 \text{ m}^2$  kumaşı 40 eşit parçaya bölüyor. Böldüğü parçaların büyük olduğunu farkedip  $120 \text{ m}^2$  lik başka bir kumaşı 60 eşit parçaya bölüyor.

Buna göre bölünen parçalardan ilk parça kumaşlar ikinci parça kumaşlardan kaç  $\text{m}^2$  fazladır?

- A) 2,5      B) 2      C) 1,5      D) 1

3. Aşağıda verilen sayılardan hangisi hem 2'ye hem 3'e ve hem de 4'e kalansız bölünebilir?

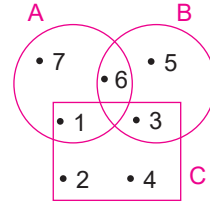
- A) 62403      B) 43260  
 C) 20643      D) 23046

4. ABCD dört basamaklı sayısı 4 ve 9 ile kalansız bölünmektedir. 10 ile bölümünden ise 6 kalanını vermektedir.

Buna göre ABCD aşağıdakilerden hangisi olabilir?

- A) 9486      B) 2726  
 C) 5346      D) 7236

5.



Şemaya göre aşağıdakilerden hangisinin eleman sayısı diğerlerine göre en fazladır?

- A)  $A \cap B$       B) C  
 C) B      D)  $A \cup B$

6. "ANKARA" sözcüğünü oluşturan harflerin kümesi A, "ANTALYA" sözcüğünü oluşturan harflerin kümesi B olsun.

Buna göre  $s(A \cup B)$  kaçtır?

- A) 7      B) 9      C) 11      D) 13

7.  $-6 < +12 < 0 < |-4| < -2$

Yukarıda verilen karşılaştırmada hangi iki tam sayının yeri değişirse sıralama doğru olur?

- A) -6 ile  $|-4|$       B) +12 ile -2  
 C) +12 ile 0      D) +12 ile  $|-4|$

8. Bir hava durumu sunucusu "Sıcaklıklar salı günü 5 derece birden düşecek. Termometreler sıfırın altında  $2 \text{ }^\circ\text{C}$  'yi görecek." dediğine göre pazartesi günü sıcaklık kaç derece olmalıdır?

- A) +3      B) -5      C) -7      D) +2



## 1. Dünya ile ilgili;

- I. Güneş'e en yakın ikinci büyük gezegendir.
- II. Tek yapay uydusu Ay'dır.
- III. Üzerinde yaşam olan tek gezegendir.

yukarıda verilen ifadelerden hangileri yanlıştır?

- A) Yalnız III                      B) I ve II  
C) I ve III                         D) I, II ve III

## 2.

- Atmosferi zehirli amonyak gazından oluşmuştur.
- Güneş çevresindeki yörüngede yan yatmış varil gibi döner.
- Dış gezegenlerdendir.

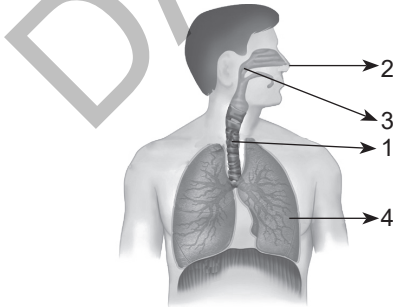
Yukarıda özelliği verilen gezegen aşağıdakilerden hangisidir?

- A) Merkür                         B) Venüs  
C) Uranüs                        D) Satürn

3. Güneş'e olan uzaklıkları arasında  $K < L < M$  ilişkisi olduğu bilinen gezegenler aşağıda verilenlerden hangisi olabilir?

- |    | K       | L      | M      |
|----|---------|--------|--------|
| A) | Jüpiter | Uranüs | Merkür |
| B) | Mars    | Merkür | Dünya  |
| C) | Dünya   | Mars   | Merkür |
| D) | Jüpiter | Satürn | Neptün |

## 4.



Yukarıdaki şekilde insanın solunum sistemi şematize edilmiştir.

Buna göre numaralar ile gösterilen yapılardan hangisi hem solunum sisteminde hem de sindirim sisteminde görev alır?

- A) 1                      B) 2                      C) 3                      D) 4

## 5.

Çiğdem	Semra	Ferda	Ayşe
B Rh <sup>+</sup>	O Rh <sup>+</sup>	A Rh <sup>+</sup>	B Rh <sup>+</sup>

Yukarıda 4 farklı birey ve kan grupları verilmiştir.

**Bu kişiler arasında yapılacak kan alışverişi ile ilgili;**

- I. Çiğdem Ferda'ya kan verebilir.
- II. Ayşe ve Ferda arasında kan alışverişi olmaz.
- III. Ayşe Çiğdem'e kan verebilir.

ifadelerinden hangileri doğrudur?

- A) Yalnız I                         B) I ve II  
C) II ve III                        D) I, II ve III

## 6. Süleyman, sabah koşuya gitmiştir.

Nesrin, TV izliyor.

Dursun'u köpek kovalıyor.

**Bu olaylar sırasında soluk alıp vermede görülen değişimler aşağıdakilerden hangisinde doğru verilmiştir?**

	Süleyman	Nesrin	Dursun
A)	Artar	Artar	Değişmez
B)	Artar	Artar	Artar
C)	Artar	Değişmez	Artar
D)	Azalır	Azalır	Artar

## 7. Gırtlakla ilgili;

- I. Ses telleri burada bulunur.
- II. Kıkırdaklı yapıya sahiptir.
- III. Yutaktan gelen havayı soluk borusuna iletir.

yukarıdaki bilgilerden hangileri doğrudur?

- A) Yalnız I                         B) I ve II  
C) II ve III                        D) I, II ve III

1. Altmış altı aylık olduğumda okula başladım. Okulun ilk günü çok heyecanlıydım, o gün yaşadıklarımı eve geldiğimde anne – babama anlattım. Akşam abim okuldan geldiğinde o günkü heyecanımı, günümün nasıl geçtiğini ona da anlattım. Telefonda da olanları dedeme anlattım.

**Yukarıdaki parçaya göre bu kişi hangi rol içerisinde bulunmamıştır?**

- A) Çocuk B) Abi  
C) Öğrenci D) Torun

2. Üstünde eski elbiseler olan bir genç, aracına binen bir kadının camına tıklayarak camı açmasını ister. Kadın, gencin halini görünce para istediğini düşünerek ona bozuk para uzatır. Aslında genç adam, kadına az önce düşürdüğü cüzdanını vermeye çalışmaktadır.

**Yukarıdaki paragraf aşağıdaki kavramlardan hangisiyle ilgilidir?**

- A) Empati B) Sempatı  
C) Antipati D) Ön yargı

3. Apartmanımızın önündeki yolda çukurluklar oluşmuştu. Araçlar bu bozuk yoldan geçmekte zorlanmaktaydılar. Çukurluklara dolan su, araçlar geçtiğinde orada bulunan insanların üzerine sıçramaktaydı. Ben de bu sorun giderilsin diye sabahtan belediyeye gidip tartıştım, belediyede çalışan memurlar bana sorunları bu şekilde çözemeyeceklerini söylediler, iyice sinirlenip kapıyı sertçe çekip dışarı çıktım.

**Yukarıda verilen sorunun en doğru çözümü aşağıdakilerden hangisidir?**

- A) Araç sahiplerine kızmak  
B) Belediyenin önünde gösteri düzenlemek  
C) Belediyeye dilekçe yazmak  
D) Tüketici Heyeti'ne başvuru yapmak

4. Türkler çeşitli sebeplerden dolayı dünyanın değişik bölgelerine göç etmişlerdir. Bu bölgelerdeki insanlarla kaynaşmış ve kültürlerini yaymışlardır. Bazı Türk boyları da göç etmeyerek ana yurtlarında devletler kurmuşlardır.

**Buna göre aşağıdaki devletlerden hangisi ana yurtlarından farklı bir yerde devlet kurmuştur?**

- A) Asya Hun Devleti B) Kök Türkler  
C) Avrupa Hun Devleti D) Uygurlar

5. Büyük Selçuklu Devleti'nin batı yönlü politikaları doğrultusunda Anadolu'ya yapılan göçler 11. yüzyılın ilk çeyreğinde kitleler hâlinde başlamış ve Malazgirt Savaşı'ndan sonra yoğunluk kazanarak devam etmiştir. Yapılan bu Oğuz göçlerinin büyük kitleler hâlinde yaşanması Türklerin Anadolu'ya yerleşme amacından kaynaklanmaktadır. Anadolu'daki hakimiyetini sürdürmek isteyen Bizans doğu sınırının güvenliği sağlamak için bölgede sorun yaşadığı Ermeni Prenslükleri'ni ortadan kaldırmıştır. Bizans'ın Ermenilere karşı izlemiş olduğu bu politika Selçukluların Anadolu'ya yaptığı akınları kolaylaştırmıştır.

**Yukarıda verilen paragraftan hareketle aşağıdaki yorumlardan hangisi yapılamaz?**

- A) Türkler Anadolu'ya yurt edinmek amacıyla gelmişlerdir.  
B) Anadolu'ya yapılan Türk göçleri Bizans İmparatorluğu'nu olumsuz yönde etkilemiştir.  
C) Bizans'ın Anadolu'da yaşadığı sorunlar Selçukluları olumlu bir şekilde etkilemiştir.  
D) Malazgirt Savaşı ile Bizanslıların Türkleri Anadolu'dan atma umutları yok olmuştur.

6. Türkiye, yeryüzü şekillerinin engebeli olduğu bir ülkedir.

**Buna göre;**

- I. Kısa mesafelerde iklimin değişmesi  
II. Yol yapımı maliyetinin yüksek olması  
III. Farklı iklim tiplerinin görülmesi

**yukarıdakilerden hangileri üzerinde yer şekillerinin etkisinden söz edilebilir?**

- A) I ve II B) Yalnız I  
C) II ve III D) I, II ve III

20.

- 5 yıllık süre için milletvekilleri seçilir.
- Yöneticiler Anayasa ve yasalara uygun davranırlar.
- Yöneticiler denetlenebilir.

**Yukarıda hangi yönetim birimi ile ilgili bilgi verilmiştir?**

- A) Monarşi                      B) Cumhuriyet  
C) Oligarşi                      D) Teokrasi

**DİN KÜLTÜRÜ VE AHLAK BİLGİSİ DERSİNİ  
OKUYANLAR AŞAĞIDAKİ SORULARI  
CEVAPLAYACAKTIR.**

**21.** Zarife Öğretmen: Peygamberlerin belli başlı sıfatları vardır. Bunlar: sıdk, fetanet, emanet, ismet ve tebliğdir. Sıdk; doğru olmayı, fetanet akıllı ve zeki olmayı, emanet; sabırlı olmayı, ismet; günah işlemekten uzak olmayı, tebliğ; Allah'tan alınan mesajları doğruca insanlara bildirmeyi ifade eder.

Büşra Öğretmen: Peygamberlerden kitap sahibi olanlara "resul", kitap sahibi olmayanlara "nebi" denilmektedir. Tarih boyunca yalnızca dört kitap ve dört resul gelmiştir. Bunlar; Hz. Davud; Zebur, Hz. Musa; İncil, Hz. İsa; Tevrat, Hz. Muhammed; Kur'an-ı Kerim'dir.

**Buna göre;**

- Zarife Öğretmen emanet sıfatını yanlış tanımlamıştır.
- Büşra Öğretmen, iki resule ait kitapları yanlış söylemiştir.
- Büşra Öğretmen, dört resulu de yanlış bilmıştır.

**yukarıdaki öncüllerden hangileri doğrudur?**

- A) I ve III                      B) II ve III  
C) I, II ve III                D) I ve II

**22.** Namaz dinin direği, ibadetlerin en üstünüdür. Yüce Allah'a karşı en önemli ibadet görevimiz günde 5 defa kıldığımız namazlardır. Namaz, bizi yaratan, yaşatan, sayısız nimetleri veren Yüce Allah'a karşı kulluk görevimizdir. Namaz kılanlar, Allah'ın emirlerini yerine getirmiş, kulluk borçlarını ve Allah'ın hoşnutluğunu kazanmış, dünya ve ahiret mutluluğuna kavuşmuş olurlar.

**Bu parçada namazla ilgili aşağıdakilerden hangisine değinilmemiştir?**

- A) Yüce Allah'a karşı kulluk görevimiz olduğuna  
B) Namaz kılanların Allah'ın sevgisini kazandığına  
C) Namazın günde 5 defa kılındığına  
D) Namaz kıldıktan sonra diğer ibadetleri yapmamız gerekmediğine

**23.** Kadir Hoca, cuma vaazlarında her hafta İslam dininde yasaklanan kötü alışkanlıklardan birini anlatmaktadır. Bu haftaki kötü alışkanlığı anlattıktan sonra ise bu alışkanlığın zararları ile ilgili aşağıdaki örnekleri vermiştir:

- Aile içi geçimsizlik ve şiddetin en önemli sebepleri arasında yer alır.
- Aile ekonomisini olumsuz etkileyen önemli bir etkenidir.
- Trafik kazalarının en önemli nedenleri arasında gösterilir.

**Kadir Hoca öncelikle aşağıdaki kötü alışkanlıklardan hangisini anlatmıştır?**

- A) Hırsızlık yapmak                      B) Kumar oynamak  
C) Alkol almak                                D) Sigara içmek

**24.** "Ey insanlar! Hanımlarınızın sizin üzerinizde hakkı bulunduğu gibi sizin de onlar üzerinde hakkınız vardır. Kadınlara iyi davranıp muamelede bulununuz; çünkü onlar sizin himaye ve muhafazanız altına girmiş kimselerdir. Sizler onları Allah'ın bir emaneti olarak almış bulunuyorsunuz. Kadınlar hususunda Allah'tan korkup çekinin ve onlara karşı en iyi davranıp muamele edin."

**Hz. Muhammed'in (sav.) Veda Hutbesi'nde yaptığı bu konuşma, günümüz insan hakları açısından değerlendirilirse aşağıdakilerden hangisi ile ilgili olduğu söylenebilir?**

- A) Çocuk hakları                              B) Yaşama hakkı  
C) Kadın hakları                                D) Çalışma hakkı

**25.** "Kim uyuya kalır ya da unuttuğu için namazı vaktinde kılmamış olursa hatırladığı anda namazını kılsın." (Hadis-i Şerif)

**Yukarıda verilen ayette namaz çeşitlerinden hangisi vurgulanmıştır?**

- A) Teheccüd namazı                              B) Kaza namazı  
C) Teravih namazı                                D) Cuma namazı



**BURSLULUK SINAVI**

**4.**

**DENEME SINAVI**



1. Aç tilki, üzümlere yetişemeyince “Bunlar daha koruk, zaten yenilmez.” demiş.

**Yukarıda geçen “koruk” sözcüğünün anlamı aşağıdakilerden hangisinde vardır?**

- A) Bozulmuş domatesleri çöpe attı.  
B) Bahçedeki şeftaliler henüz olgunlaşmamıştı.  
C) Kırık dökük eşyaları eskiciye verdi.  
D) Ekşimiş narlardan nar suyu yaptı.
2. Aşağıdaki sözcük çiftlerinden hangisinde “kalem – kâğıt” arasında bulunan anlam ilişkisine benzer bir ilişki vardır?
- A) harf – kelime                      B) asker – ordu  
C) ağaç – orman                      D) tebeşir – tahta

3. Yazılış ve okunuşları farklı ancak anlamları aynı olan sözcükler eş anlamlı sözcüklerdir. Eş sesli kelimelerin ise yazılış ve okunuşları aynı anlamları farklıdır. Yani eş sesli bir sözcük birden çok anlam ifade etmek için kullanılır. Mesela “gül” sözcüğü hem çiçek hem de gül (mek) eylemi anlamına gelir. Bazı sözcüklerin de hem eş anlamlısı hem de eş seslisi vardır.

**Buna göre aşağıdaki cümlelerden hangisinde hem eş anlamlısı hem de eş seslisi olan bir sözcük vardır?**

- A) Al yanaklarıyla etrafa gülücükler dağıtıyordu.  
B) Çok yemesine rağmen yine de açtı.  
C) Yuvarlanıp dizini kanattı.  
D) Yaz tatilinde gittiğimiz yaylalardan biriydi orası.
4. Atasözleri genellikle gerçek anlamı dışında kullanılır. Aşağıdaki atasözlerinden hangisi yukarıdaki açıklamaya örnek olamaz?
- A) Kedinin boynuna ciğer asılmaz.  
B) Her koyun kendi bacağından asılır.  
C) Koça boynuzu yük değil.  
D) Önce düşün, sonra söyle.

5. Aşağıdaki cümlelerden hangisindeki altı çizili sözcük yapıca farklıdır?

- A) Rüzgâr eken fırtına biçer.  
B) Baş nereye giderse ayak da oraya gider.  
C) Adamın iyisi alışverişte belli olur.  
D) Lokma çiğnemedi yutulmaz.

6. Tuna boylarında sıra serviler  
Tan yeli estikçe sessiz ağlarmış  
Gül bahçelerinde baykuşlar öter  
Şu viranelikler eski bağlarmış  
**Yukarıdaki dörtlükte kaç tane isim tamlamasına yer verilmiştir?**

- A) 1                      B) 2                      C) 3                      D) 4

7. I. Bu pazarda antika eşyalar bulabilirsin.  
II. Buralarda o işi yapamazsın.  
III. Milletimiz zor günleri atlatmasını bilir.  
IV. Arkadaşlarla beraber boş arsada top oynuyorduk.

**Yukarıdaki cümlelerin hangisinde birden fazla sıfat kullanılmıştır?**

- A) I                      B) II                      C) III                      D) IV

8. I. Sel nereye giderse kütük oraya gider.  
II. Atın yavrusu, yiğidin delisi...  
III. Kız beşikte çeyiz sandıkta...  
IV. Gelin eşikte, oğlan beşikte...

**Yukarıdaki atasözlerinden hangisinde zamir kullanılmıştır?**

- A) I                      B) II                      C) III                      D) IV

9. Aşağıdaki cümlelerin hangisine “için” sözcüğü “uğruna” anlamı katmıştır?

- A) Çiçek susuz kaldığı için kurumuş.  
B) Sınavı kazanmak için çalışıyorum.  
C) Senin için saçımı süpürge ettim.  
D) Senin için iyi şeyler demiyorlar.

1.  $4^3 \div 32 + 6 \cdot 3 - 10$

Yukarıda verilen işlemi Aysun aşağıdaki gibi çözmüştür.

1. adım :  $64 \div 32 + 6 \cdot 3 - 10$

2. adım:  $2 + 6 \cdot 3 - 10$

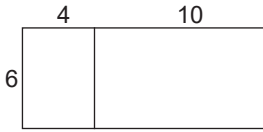
3. adım:  $8 \cdot 3 - 10$

4. adım:  $24 - 10 = 14$

Buna göre hangi adımda hata yapmıştır?

- A) 1. adım B) 2. adım C) 3. adım D) 4.adım

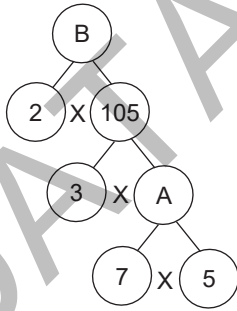
2.



Yukarıda verilen dikdörtgenin alanı hangi işlem ile bulunabilir?

- A)  $(6 + 4) \cdot 10$  B)  $4 \cdot (10 - 6)$   
C)  $6(4 + 10)$  D)  $6 \cdot 4 + 10$

3.



Yukarıda verilen çarpan ağacına göre  $B \div A$  kaçtır?

- A) 6 B) 5 C) 4 D) 3

4.  $A = \{3, 6, 9, 12, \dots, 84\}$

$B = \{5, 10, 15, \dots, 90\}$

Hem A hem de B de bulunan ortak elemanların sayısı kaçtır?

- A) 3 B) 5 C) 10 D) 12

5.  $A = \{x \in \mathbb{N}, 5 < x \leq 15\}$

$B = \{x \in \mathbb{N}, 7 \leq x < 18\}$

ise  $A \cap B$  aşağıdakilerden hangisidir?

A)  $\{5, 7, 15, 18\}$

B)  $\{0, 1, 2, 3, 4, 16, 17\}$

C)  $\{7, 8, 9, 10, 11, 12, 13, 14, 15\}$

D)  $\{6, 7, 8, 9, 10, 11, 12, 13, 14\}$

6. 30 kişilik bir sınıfta 18 erkek vardır. Erkeklerin yarısı, kızların hepsi esmerdir. Bu sınıftaki esmer öğrenciler kaç kişidir?

- A) 12 B) 15  
C) 18 D) 21

7. Sayı doğrusunda a ve b tam sayılarının arasındaki uzaklık 8 birim olduğuna göre bu sayılar aşağıdakilerden hangisi olabilir?

- A)  $a = -2$  ve  $b = +8$   
B)  $a = -6$  ve  $b = +2$   
C)  $a = -14$  ve  $b = +8$   
D)  $a = -5$  ve  $b = +5$

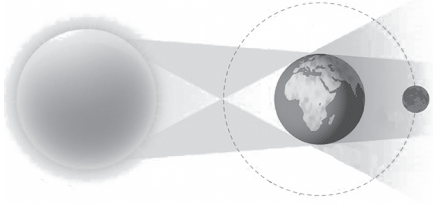
8.

- I. Negatif tam sayılar büyüdükçe mutlak değeri küçülür.  
II. Pozitif bir sayının mutlak değeri kendisinden büyüktür.  
III. Tam sayıların mutlak değeri daima pozitiftir.

Yukarıda verilen ifadelerden kaç tanesi doğrudur?

- A) 1 B) 2 C) 3 D) 0


1.



Yılın belli zamanlarında Güneş, Dünya ve Ay yukarıdaki konuma geldiklerinde gerçekleşen olay aşağıdakilerden hangisidir?

- A) Güneş tutulması
- B) Ay tutulması
- C) İlk dördün
- D) Son dördün

2.



Yukarıdaki şekilde Güneş sisteminde yer alan gezegenlerden bazılarının konumu yanlış verilmiştir.

**Buna göre hangi iki gezegenin yeri değiştirilirse gezegenlerin konumu doğru olur?**

- A) Dünya – Mars
- B) Merkür – Mars
- C) Jüpiter – Satürn
- D) Uranüs – Neptün

3. Yılın belli zamanlarında Güneş, Dünya ve Ay aynı doğrultuda olacak şekilde konumlanır.

**Buna göre ay tutulması olayında Ay hangi evdedir?**

- A) Dolunay
- B) Yeni ay
- C) İlk dördün
- D) Son dördün

4. Soluk borusunun içi zarla kaplıdır. Bu zar yapışkan salgı üretir.

**Üretilen bu salgı ile ilgili;**

- I. Tozları tutar.
- II. Mikropları tutar.
- III. Oksijen üretir.

**yukarıdaki ifadelerden hangileri doğrudur?**

- A) Yalnız I
- B) I ve II
- C) II ve III
- D) I, II ve III

5. Kireç suyu karbondioksitli ortamda bulanır.

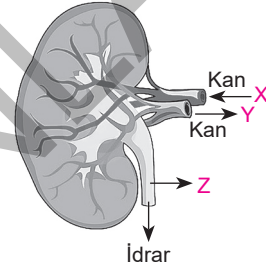
**Buna göre,**

- I. Kireç suyunu havasız ortamda bırakmak
- II. Kireç suyuna pipetle üfleme
- III. Kireç suyunu oksijenli ortama bırakmak

**yukarıdaki durumlardan hangisinde kireç suyu bulanıklaşır?**

- A) Yalnız II
- B) Yalnız III
- C) I ve III
- D) II ve III

6.



Yukarıdaki şekilde boşaltım sisteminde bulunan böbreğin bazı kısımları X, Y ve Z ile gösterilmiştir.

**Buna göre;**

- I. Üre yoğunluğu en fazla olan damar X ile gösterilen yapıdır.
- II. Z ile gösterilen yapı içerisinde su, tuz ve ürenin bulunduğu idrarı taşıyan üreterdir.
- III. Süzülen ve temizlenen kan Y ile gösterilen yapıya aktarılır.

**verilen ifadelerden hangileri doğrudur?**

- A) I ve II
- B) II ve III
- C) I ve III
- D) I, II ve III

7.

Kan hücreleri	Normal değer	Test sonucu
Alyuvar	11 - 18	16
Akyuvar	2 - 7	15
Kan pulcuğu	10 - 16	12

Yukarıda Derya'nın kan tahlili sonucu verilmiştir.

**Buna göre Derya'nın tahlil sonuçlarıyla ilgili aşağıdakilerden hangisi söylenebilir?**

- A) Yaralanma sonucu kanı zor pıhtılaşır.
- B) Kırmızı kan hücreleri normal değerlerin üzerindedir.
- C) Kan pulcuğu değerleri normalin altındadır.
- D) Akyuvar sayısı normalin üstündedir, grip olabilir.

1. Farklılıklarımız, birbirimizi tamamlayan zenginliklerimizdir. Bu nedenle dini, dili, ırkı ve rengi ne olursa olsun herkese saygı gösterilmelidir. Demokrasinin temel şartlarından biri de farklılıklara saygı göstermektir.

**Buna göre aşağıdakilerden hangisi yanlıştır?**

- A) İnsanları kendi düşüncelerimize göre yargılayabiliriz.  
B) Farklılıklara saygılı olmak ve bunu zenginlik olarak görmek önemlidir.  
C) Her birey saygıya değer bir varlıktır.  
D) Toplumsal barışın sağlanması için herkese saygı göstermeliyiz.

2.

- I. Düşüncelerimizi rahatça ifade edebilmek  
II. Yeterli ve sağlıklı beslenmek  
III. Okul kurallarına uymak  
IV. Odamızı temiz tutmak

**Yukarıda verilen cümleleri hak ve sorumluluk diye iki başlık altında toplarsak doğru sıralama nasıl olur?**

	Hak	Sorumluluk
A)	I, III	II, IV
B)	II, III	I, IV
C)	I, IV	II, III
D)	I, II	III, IV

3. Toplumsal farklılıklar bir arada yaşama kültürünün bir parçası olarak zenginliğin bir başka boyutudur. İnsanların bütün farklılıklarına rağmen birbirlerine saygı duyarak yaşamaları insani ilişkilerin gelişmesinde ve yaşatılmasında önemli bir yere sahiptir.

**Aşağıdakilerden hangisi farklılıklara saygı duyulmaması hâlinde toplumda yaşanacak sorunlardan biri değildir?**

- A) Barış ve huzur ortamı bozulur.  
B) Toplum parçalanır.  
C) Toplumsal düzen bozulur.  
D) Birlik ve beraberlik güçlenir.

4.

1. Hz. Muhammed (sav.) Dönemi	a. İslam donanması oluşturuldu.
2. Hz. Ebubekir Dönemi	b. Mekke fethedildi.
3. Hz. Osman Dönemi	c. Kur'an – ı Kerim kitap haline getirildi.
4. Hz. Ömer Dönemi	d. Suriye, Mısır ve Filistin fethedildi.

**Yukarıdaki eşleştirmelerin doğru şekli aşağıdakilerden hangisidir?**

	1	2	3	4
A)	b	c	a	d
B)	a	b	c	d
C)	d	a	c	b
D)	c	d	b	a

5. Hz . Ömer Dönemi'nde askeri ordugâh şehirleri, Abbâsiler Dönemi'nde ise Bizans sınırında Avasıim şehirleri kurulmuştur .

**Bu uygulamaların aşağıdaki amaçlardan hangisine yönelik olduğu savunulabilir?**

- A) Uluslararası ticareti geliştirmek  
B) Arap kültürünün başka kültürlerden etkilenmesini engellemek  
C) Ülkenin sınırlarının güvenliğini sağlamak ve askeri seferleri desteklemek  
D) İç karışıklıkları engelleyerek yönetimdeki etkilerini arttırmak

6. Hindistan'dan başlayarak İran Körfezi ve Irak üzerinden Suriye limanlarına veya Kızıldeniz yoluyla İskenderiye'ye ulaşan ticaret yoludur.

**Yukarıda açıklaması verilen ticaret yolu aşağıdakilerden hangisidir?**

- A) Kral Yolu  
B) İpek Yolu  
C) Baharat Yolu  
D) Kürk Yolu

7. Antik Yunan'da görülen;

- Site adı verilen şehir devletlerinde, hakimiyetin kaynağının halk olması
- Halkın bir meydanda toplanarak kanunlar yapması
- Yöneticilerin seçimle belirlenmesi

**yukarıdaki özellikler hangi yönetim biçiminin niteliklerini taşımaktadır?**

- A) Oligarşi  
B) Cumhuriyet  
C) Teokrasi  
D) Monarşi





**BURSLULUK SINAVI**

**5.**

**DENEME SINAVI**



1. Aşağıdaki cümlelerin hangisinde “Bir gerçeğe, bilgiye tanıklık eden yazı” anlamına gelen bir sözcük kullanılmıştır?

- A) Avukat olayı çözebilecek belgelere ulaşmış.
- B) Son kitabı çok satanlar arasına girmiş.
- C) Son röportajını geçen yaz verdi.
- D) Sanat ve bilim üzerine konuşma yaptı.

2. Aşağıdaki cümlelerin hangisinde “Birinin beklenilmeyen bir davranışı karşısında kırgınlık duymak” anlamına gelen bir sözcük kullanılmıştır?

- A) İhtiyar adam hırslarına yenik düşmüştü.
- B) Öyle bağırarak konuştu ki gücenmemek elde değildi.
- C) Müşterileri kandıran esnaf, şikâyet edilmiş.
- D) Annesinin hasta olduğunu öğrenince çok üzüldü.

3. Yaşlı kadının getirdiği sudan kana kana içtim.

Altı çizili ikilemenin cümleye kattığı anlam aşağıdakilerden hangisinde vardır?

- A) Arkadaşının sözlerine kana kana bu hâle geldi.
- B) Bu isteğini seve seve yerine getiririm.
- C) Oraya istemeye istemeye gittik.
- D) Uzun süredir göremediği kızını doya doya sevdi.

4. Aşağıdaki atasözlerinden hangisi anlamca farklı doğrultudadır?

- A) Söz gümüşse sükût altındır.
- B) Körle yatan şaşı kalkar.
- C) Üzüm üzüme baka baka kararır.
- D) Kır atın yanında duran ya huyundan ya suyundan...

5. Aşağıdaki cümlelerin hangisinde “-lık/-lik” ekleriyle türemiş sözcük “yer” bildirmektedir?

- A) Etrafımızdaki güzelliklerin farkında olmalıyız.
- B) Büyüklük bende kalsın, affettim.
- C) Çamlıktaki düğün salonunda düğünümüz olacak.
- D) Gençliğinde iyi bir basketçiymiş.

6. (I) İlk gençlik çocukluğumuzdan taşıdığımız saf ve taşasız gülüşlerin son mevsimidir. (II) Yetişkinlik yıllarında insanın gülüşü artık farklıdır. (III) Artık düş kırıklıklarının, umutsuzluğun yalnızca ninelerimizle dedelerimizin anılarında bulunmadığını anlayacak kadar vaktimiz yoktur. (IV) Yalnızlıklarla, yoksulluklarla, yalanlarla tanışılmıştır.

Numaralanmış cümlelerin hangisinde tekil ad kullanılmamıştır?

- A) I B) II C) III D) IV

7. “Bir” sözcüğü varlığın sayısını yani bir tane olduğunu gösteriyorsa sayı sıfatıdır. “Herhangi bir” anlamına geliyorsa belgisiz sıfattır.

Bu açıklamaya göre aşağıdakilerin hangisinde “bir” sözcüğü belgisiz sıfat olarak kullanılmıştır?

- A) Belki bir gün ben de sizinle gelirim.
- B) Kırtasyeden bir defter, iki kalem almıştı.
- C) Bir hafta içinde tüm işlerini halletti.
- D) Her gün bir dakika geç gelirdi.

8. İsmi yerine geçen “ki” ekine “ilgi zamiri” denir.

Bu bilgiye göre aşağıdakilerden hangisinde ilgi zamiri kullanılmıştır?

- A) Anladım ki her şey bir yalandan ibaretmiş.
- B) Biliyorum ki o da beni özlemiştir.
- C) Duydum ki sen de oradaymışsın.
- D) Bu akşam bizimkiler size çaya gelecekmış.

9. Aşağıdaki cümlelerin hangisinde bir “koşul” a bağlılık anlamı vardır?

- A) Öyle sanıyorum ki Ali bugün gelir.
- B) Kalem yere düştü ve kayboldu.
- C) Öğrenciler sabahleyin koşu koşu okula gidiyorlardı.
- D) Yardım etmen hâlinde şu işi bir an önce bitiririm.

1.  $\frac{9^2 + 8^2 + (-8^2)}{9} : [4^2 - 7]$  işleminin sonucu kaçtır?

- A) -1 B) 1 C) 9 D) 8

2. Merve'nin 8 TL'si daha olsaydı tanesi 10 TL'den 20 tane yemek tabağı alacaktı.

**Buna göre Merve'nin parasını veren işlem aşağıdakilerden hangisidir?**

- A) 20. (10 + 8) B) 10. (20 - 8)  
C) 20. 10 + 8 D) 10. 20 - 8

3. Pozitif bölen sayıları 3 olan üç basamaklı en küçük sayı ile iki basamaklı en büyük sayının farkı kaçtır?

- A) 72 B) 96 C) 121 D) 125

4. Kenar uzunlukları 12 m ve 18 m olan dikdörtgen şeklindeki bahçenin etrafına ağaç dikilecektir. Her ağaç arası mesafe eşit ve en fazla uzunlukta olacağına göre iki ağaç arası mesafe kaç metredir?

- A) 2 B) 6 C) 9 D) 36

5. Aşağıdaki kümelerden hangisinin eleman sayısı en azdır?

- A) Haftanın günleri  
B) Rakamlar  
C) Sayılar  
D) Tek rakamlar

6. A kümesi 3 ile bölünebilen iki basamaklı sayıların kümesi, B kümesi ise 5 ile bölünebilen iki basamaklı sayıların kümesi ise  $s(A \cup B)$  kaçtır?

- A) 42 B) 30 C) 18 D) 6

7. Ağrı'da Aralık ayında ölçülen en düşük sıcaklık sıfırın altında  $20^\circ\text{C}$  ve en yüksek sıcaklık sıfırın üstünde  $2^\circ\text{C}$ 'dir.

**Buna göre Ağrı'da en düşük ve en yüksek sıcaklık toplamının mutlak değeri kaçtır?**

- A) 16 B) 18 C) 20 D) 22

8. Aylık geliri 3000 TL olan Seda Hanım'ın gideri ise 3500 TL dir. Seda hanımın durumunu anlatan ifade aşağıdakilerden hangisidir?


- A) 500 TL borçludur.  
B) 6500 TL'si vardır.  
C) Geliri giderinden fazladır.  
D) -500 TL'si kalır.

9. Kevser, girdiği bir deneme sınavında soruların  $\frac{3}{4}$ 'ünü doğru,  $\frac{3}{16}$ 'sını yanlış cevaplıyor.

**Boş bıraktığı soru sayısı 5 olduğuna göre kaç soruya doğru cevap vermiştir?**

- A) 60 B) 70 C) 75 D) 80

1.



Yukarıdaki Güneş sistemi görselinde 1, 2, 3 ile kodlanan gezegenler aşağıdakilerden hangisidir?

	1	2	3
A)	Merkür	Jüpiter	Satürn
B)	Neptün	Satürn	Dünya
C)	Dünya	Neptün	Satürn
D)	Dünya	Satürn	Neptün

2.

- I. Üzerinde canlıların olduğu tek gezegendir.
- II. Atmosferi vardır.
- III. Uydusu vardır.

Yukarıda verilen ifadelerden hangileri Dünya için geçerlidir?

- |              |                 |
|--------------|-----------------|
| A) Yalnız I  | B) I ve III     |
| C) Yalnız II | D) I, II ve III |

3.

Jüpiter, Güneş sistemindeki kütlesi en fazla olan gezegendir.

Aşağıdakilerden hangisi, Jüpiter'in büyük kütleye sahip olmasının bize sağladığı bir yararadır?

- A) Ay'ın yörüngesinde kalması.
- B) Güneş ışınlarını yansıtması.
- C) Uzay araştırmalarına imkan sağlaması.
- D) Başı boş gezen meteorları çekerek çarpma sonucu diğer gezegenlere ve özellikle Dünya'ya zarar vermesini önlemesi.

4.

Gamze, aşağıda destek ve hareket sistemine ait X, Y ve Z yapılarının bazı özelliklerini belirtmiştir.

X; kalbin yapısında bulunur.

Y; Üyelerde bulunan kemik çeşididir.

Z; eklem sıvısı içermez.

Buna göre X, Y ve Z'nin doğru adlandırılması aşağıdakilerden hangisinde verilmiştir?

	X	Y	Z
A)	Kalp kası	Uzun kemik	Oynamaz eklem
B)	Kalp kası	Uzun kemik	Yarı oynar eklem
C)	Düz kas	Uzun kemik	Oynar eklem
D)	Çizgili kas	Kısa kemik	Oynar eklem

5.

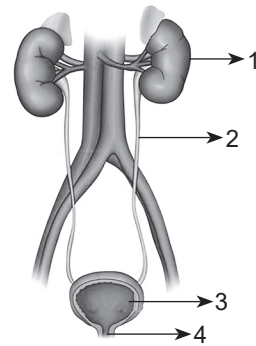
Sindirim sistemiyle ilgili,

- I. Midede besinlerin mide kaslarıyla parçalanması, yağların ince bağırsakta safra ile yağ damlacıklarına dönüşmesi mekanik sindirime örnektir.
- II. Kalın bağırsak, B ve K vitaminlerinin sentezlendiği ve sindirimin tamamlandığı organdır.
- III. Proteinlerin kimyasal sindirimi midede başlar.

İfadelerinden hangileri doğrudur?

- |                 |              |
|-----------------|--------------|
| A) I, II ve III | B) II ve III |
| C) I ve III     | D) I ve II   |

6.



Boşaltım sisteminde yer alan yapı ve organlar yukarıda numaralandırılmıştır.

Buna göre aşağıdaki ifadelerden hangisi yanlıştır?

- A) 3 numaralı kısım idrarın biriktiği yerdir.
- B) 1 numaralı kısım kanın süzüldüğü yerdir.
- C) 4 numaralı kısım sadece suyun atıldığı yerdir.
- D) 2 numaralı kısım idrarın idrar kesesine taşındığı yerdir.

1. Aynı toprak parçası üzerinde bir arada yaşayan ve temel çıkarlarını sağlamak için iş birliği yapan insanların oluşturduğu bütünlüğe toplum denir. Toplumlari birtakım değerler ayakta tutar.

**Aşağıdakilerden hangisi toplumlari ayakta tutan değerler arasında değildir?**

- A) Tarih B) Dil  
C) Din D) Siyaset

2.

- Orta Asya'da kurulan ilk Türk devletidir.
- Devletin bilinen ilk hükümdarı Teoman'dır.
- Devlet en parlak dönemini Mete Han zamanında yaşamıştır.

**Yukarıda bazı özellikleri verilen Türk devleti aşağıdakilerden hangisidir?**

- A) Asya Hun Devleti  
B) Uygur Devleti  
C) Kök Türk Devleti  
D) Avrupa Hun Devleti

3. Arkadaşlarıyla birlikte alışverişe çıkan Şeyda alışveriş merkezindeki bir mağazada kendisine kazak almıştı. Ancak eve geldiğinde kazağının kolunun sökülük olduğunu fark etti. Kazağı hemen fişyle birlikte aldığı yere götürdü. Ancak mağaza görevlisi kazağı alırken dikkat etmesi gerektiğini kendisi için bir şey yapamayacağını söyleyince Şeyda görevliye Tüketici Hakları Mahkemesine başvuracağını söyleyip mağazadan çıktı.

**Buna göre;**

- I. Şeyda bilinçli bir tüketicidir.  
II. Mağaza görevlisi yanlış davranmıştır.  
III. Şeyda haklarını bilmemektedir.

**yukarıdaki yargılardan hangilerine ulaşılabilir?**

- A) I, II ve III B) Yalnız III  
C) Yalnız I D) I ve II

4. Türklerin İslamiyet'i kabul etmesiyle birlikte sosyal, kültürel ve siyasi alanlarda birçok gelişme ve değişme yaşanmıştır. Bu değişimlerden biri de hükümdarların kullandığı unvanlarda meydana gelmiştir. İslamiyet'ten önce han, kağan, hakan ve yabgu gibi unvanlar kullanan hükümdarlar, İslamiyet'in kabulüyle birlikte sultan ve padişah gibi unvanlar kullanmaya başlamışlardır.

**Buna göre;**

- I. Gazneli Mahmut III. Mete Han  
II. Selçuk Bey IV. Alp Arslan

**yukarıdakilerden hangisi "sultan" unvanını kullanan ilk hükümdardır?**

- A) I B) II C) III D) IV

5. İslamiyet'in ortaya çıktığı sıralarda Arabistan'daki kan davaları nedeniyle neredeyse kimsenin can güvenliği kalmamıştı. İslamiyet ile birlikte kan davaları yasaklanınca Arap toplumunda huzur ve güven ortamı oluşmuştur. Ancak buna rağmen ilk zamanlarda kabilecilik o kadar önemliydi ki ilk Müslümanlar kendi kabilelerinin imamı dışında diğer imamların arkasında namaz bile kılmazlardı.

**Yukarıdaki parçadan çıkarılabilecek en genel yargı aşağıdakilerden hangisidir?**

- A) İslamiyet, Arabistan'da ortaya çıkmıştır.  
B) Cahiliye Dönemi'nde kölecilik anlayışı hakimdir.  
C) Arap toplumu kabilecilik geleneğini kolayca terk edememiştir.  
D) Arap toplumunda sınıflar arası geçiş kesinlikle yasaklanmıştır.

6. I. Kurultay: İlk Türk devletlerinde hükümdara ülke yönetiminde yardımcı olan danışma meclisidir.  
II. Kut: İlk Türk devletlerinde sosyal hayatı düzenleyen yazılı olmayan hukuk kurallarıdır.  
III. Hatun: İlk Türk devletlerinde hükümdarın eşlerine verilen isimdir.  
IV. Yuğ: İlk Türk devletlerinde ölen kişinin mezarının etrafına dikilen küçük heykelciklere verilen isimdir.

**Yukarıda verilen kavramlardan hangisinin açıklaması doğru verilmemiştir?**

- A) Yalnız I B) II ve III  
C) III ve IV D) II ve IV



Tüm Bursluluk kitaplarına  
ulaşmak için  
karekodu okutunuz.



İvedik Organize Sanayi Matbaacılar Sitesi  
1518 Sok. Mat-Sit İş Merkezi No.:2/20  
Yenimahalle / ANKARA  
Telefon: 0 312 384 29 95 - Belgegeçer: 0312 342 23 58  
WhatsApp: 0 505 925 57 81  
www.datayayinlari.com | bilgi@datayayinlari.com

ISBN 978-605-7701-78-7



9 786057 770178