

İlköğretim ve Ortaöğretim Bursluluk Sınavı (İOKBS)

# BURSLULUK SINAVI



**Karekod Çözümlü**

# SORU BANKASI



## 7. SINIF BURSLULUK

### EDİTÖR

Turgut MEŞE

### YAZAR

Komisyon

Bütün hakları Data Yayınlarına aittir.  
Yayıncının izni olmaksızın kitabın tümünün veya bir kısmının elektronik, mekanik yollarla ya da fotokopi yoluyla basımı, çoğaltılması ve dağıtımı yapılamaz.

### SERTİFİKA NO

40447

### KAPAK TASARIMI

Data Yayınları Tasarım Ekibi

### SAYFA TASARIMI

Data Yayınları Dizgi Ekibi

### BASKI VE CİLT

Data Dijital Matbaacılık  
ANKARA



### İLETİŞİM

İvedik Organize Sanayi Matbaacılar Sitesi

1518 Sok. Mat-Sit İş Merkezi No:2/20

Yenimahalle / ANKARA

Tel: 0 312 384 29 95 - 0 505 925 57 81

Fax: 0312 342 23 58

[www.datayayinlari.com](http://www.datayayinlari.com)

[bilgi@datayayinlari.com](mailto:bilgi@datayayinlari.com)

## İÇİNDEKİLER

TÜRKÇE .....	3
MATEMATİK .....	59
FEN BİLİMLERİ .....	111
SOSYAL BİLGİLER .....	149
DİN KÜLTÜRÜ .....	181

**TÜRKÇE**

DATA YAKINLARI

## TEST 1

(Çözümler için karekodu okutunuz.)



## 1. Aşağıdaki altı çizili sözcüklerden hangisi iş, oluş ya da hareket bildirmemektedir?

- A) Geçen sene, bahar mevsiminde bahçeye iki meyve ağacı dikmiş.  
 B) Çocuk koşarken düştü ve dizi kanamaya başladı.  
 C) Tamircide gerekli yedek parçalar varsa bana telefon etsin, dedi.  
 D) Odanın tabanını kaplayan halı, ona büyük dedesinden armağanmış.

2. I. Akşamları en az bir saat kitap okur.  
 II. Radyodaki en sevdiği şarkıydı.  
 III. Bugün hava daha soğuk gibi.  
 IV. Bütün gece çocuğun başında annesi bekledi.

## Yukarıdaki cümlelerin hangilerinde çekimli fiil vardır?

- A) I ve IV  
 B) II ve III  
 C) I ve III  
 D) II ve IV

3. Artık günümüzde lise düzeyinde olan bir bilgi ile ne  
 I  
 fabrikalar çalışır ne hastanelerde insan tedavi edilir  
 II III  
 ne de devlet yönetilir.  
 IV

## Yukarıdaki altı çizili sözcüklerden hangisi çekimli fiil değildir?

- A) I  
 B) II  
 C) III  
 D) IV

## 4. Aşağıdaki cümlelerin hangisinde "kız" sözcüğü çekimli fiil olarak kullanılmıştır?

- A) Babamın iki tane kız kardeşi var.  
 B) Patron geç kalmamıza çok kızdı.  
 C) Gençliğinde çok güzel bir kızdı.  
 D) Sınıfımızda on üç erkek, on kız öğrenci var.

5. Bir fiilin kip ve şahıs eki ile ifade edilmiş hâline çekimli fiil denir. "Kitap alıyorum." cümlesinde "alıyorum" fiili, kip ve şahıs eki aldığından çekimli fiildir.

## Bu açıklamaya göre;

Arzularını yapmayı belli büyük bir külfet sayıdığınız bu  
 I II  
 küçük kalpler, saadetin kapısından girmeden felaketin  
 III  
 ortasına yuvarlanıyorlar.  
 IV

## cümlesindeki numaralanmış sözcüklerden hangisi çekimli fiildir?

- A) I  
 B) II  
 C) III  
 D) IV

6. "Bozul-" fiili aşağıdaki cümlelerin hangisinde "Bir şeye kızmak, içerlemek" sözlük anlamında kullanılmıştır?

- A) Makine henüz ikinci kullanımında bozuldu.  
 B) Sürekli ışık altında kaldığım için gözlerim bozuldu.  
 C) Annesinin bu uyarısı ile biraz bozulan çocuk, hemen mutfağı terk etti.  
 D) Hudutta bozulan ordu, iki günden beri Serez'den geçiyordu.

7. Bir gün Nasrettin Hoca'ya burcunu sorarlar. Hoca "  
 1  
Tekedir." der. "Aman Hoca'm nasıl teke olur?" diye  
 2  
 sorarlar. Hoca da "Ben doğalı 70 sene oldu; oğlak büyüdü, teke oldu." cevabını verir.  
 3 4

## Yukarıdaki fıkrada kaç numaralı sözcük çekimli bir fiil değildir?

- A) 1  
 B) 2  
 C) 3  
 D) 4

8. Aşağıdaki cümlelerin hangisinde altı çizili olan sözcüğün türü fiil değildir?

- A) Sabahları erken kalkmak bana daha verimli bir gün geçirme şansı tanıyor.  
 B) Bu yıl kış mevsimi çok sert geçti, kar yağışı sürekli devam etti.  
 C) Bugün arkadaşlarımızla piknik yapmak istiyoruz.  
 D) Yaz aylarında en sevdiğim aktivitelerden birdir yüzme.

## TEST 39

(Çözümler için karekodu okutunuz.)



1. “Asık suratlı insanlardan hoşlanırsınız?” desem tabii bana gülersiniz. Zaten ben de biraz gülmeniz için söze böyle başladım. Söze başladığınızda karşınızdakinin kaşlarını çattığını görürseniz konuşma hevesiniz kalmaz. Lafı kısa kesip bu tatsız sohbeti bir an önce bitirmeye bakarsınız. Bir de karşınızdakinin sizi güler yüzle dinlediğini, hatta araya biraz da tatlı söz karıştırarak sohbeti renk verdiğini göreceksiniz konuşurken konuşmanız gelir.

**Verilen parça aşağıdaki öğretici metin türlerinin hangisinden alınmış olabilir?**

- A) Söyleşi  
B) Otopiyografi  
C) Biyografi  
D) Günlük
2. 1931 yılının 6 Aralık Cuma sabahı Bursa’da, Hisar semtinde Ortapazar Caddesi’ndeki 30 numaralı, iki katlı ahşap evde doğdum. Babam kereste tüccarı Kaya Müren, annem Hayriye Müren’dir. Başka kardeşim yok. İlkokul 1. sınıfa başladığımda çelimsiz, kırpma saçları böyle platine kesilmiş, Tophane yokuşundan uçarcasına kendimi bırakan bir çocuktum.

**Bu parçanın türü aşağıdakilerden hangisidir?**

- A) Günlük  
B) Hikâye  
C) Biyografi  
D) Otopiyografi
3. Faruk Nafiz Çamlıbel, 18 Mayıs 1898 tarihinde İstanbul’da doğdu. Kayseri, İstanbul ve Ankara’da öğretmenlik yaptı. İstanbul’dan milletvekili seçildi. “Anayurt” adında bir dergi çıkardı. Türkçenin gelişmesine büyük katkıları oldu. 8 Kasım 1973’te vefat etti. Eserlerinden bazıları şunlardır: Çoban Çeşmesi, Han Duvarları...

**Yukarıdaki parça aşağıdaki metin türlerinin hangisinden alınmıştır?**

- A) Fıkra  
B) Sohbet  
C) Biyografi  
D) Otopiyografi

4. Spor, sanat, bilim gibi alanlarda öne çıkmış kişilerin, kendi hayat hikâyelerini kaleme aldıkları öğretici metin türüdür.

**Yukarıdaki parçada tanımı verilen tür aşağıdakilerden hangisidir?**

- A) Otopiyografi  
B) Sohbet  
C) Günlük  
D) Biyografi

5. En mesut olduğum vakitler yaz tatilleriydi. Her tatilde köye, babaannemin yanına, giderdik. Sabahları horozun sesiyle uyanır, tüm günümü hayvanlarla ya da toprakla uğraşarak geçirirdim. Güneş batınca da babaannemle örgü yapar, uyumadan önce de günümü nasıl geçtiğini saman kağıdından yapılmış defterime yazardım.

**Bu sözleri söyleyen kişinin yazdığını söylediği metin türü aşağıdakilerden hangisidir?**

- A) Anı  
B) Günlük  
C) Biyografi  
D) Otopiyografi

6. Mardin’in Savur ilçesinde, orta gelirli bir çiftçi ailenin sekiz çocuğundan yedincisi olarak dünyaya geldi. Anne babasının okuma yazma bilmediğini söyleyen Aziz Sancar “Ancak eğitimin önemini biliyorlardı ve çocuklarının tümünün eğitim alması için ellerinden geleni yaptılar.” diyor. Aziz Sancar da hem ailesine hem de milletine 2015 Nobel Kimya Ödülü olarak teşekkür etti.

**Yukarıdaki parçayla ilgili olarak aşağıdakilerden hangisi doğrudur?**

- A) Metnin türü otopiyografidir. Çünkü yazar başından geçenleri kendi anlatmıştır.  
B) Yazar, hayatının bir bölümünde tanık olduğu bir olayı anlattığı için metin anı türündedir.  
C) Metinde herhangi bir alanda ün yapmış, tanınan bir kişinin hayatı başkası tarafından anlatılmıştır.  
D) Metinde yaşanan olaylar günü gününe yazılarak aktarılmıştır.

## TEST 48

(Çözümler için karekodu okutunuz.)



1. Aşağıdakilerden hangisi medyanın toplum üzerindeki olumlu etkileri arasında gösterilemez?
- A) Kitlesel hareketleri yönetmeyi ve bilgi akışının insanlara ulaşmasını sağlar.
- B) Toplumun öz değerlerini ve kültürünü yeni nesillere aktarır.
- C) Sosyal paylaşımların odağındaki medya araçları sosyallikten uzak kitleler oluşmasına neden olur.
- D) Farklı kültürlerin etkileşime geçmesini sağlar.

2. Alican "Türkiye'nin Doğal Güzellikleri" konulu bir ödev hazırlayacaktır.

Alican, bu ödevde aşağıdaki görsellerden hangisini kullanabilir?



Sultanahmet Camii



Topkapı Sarayı

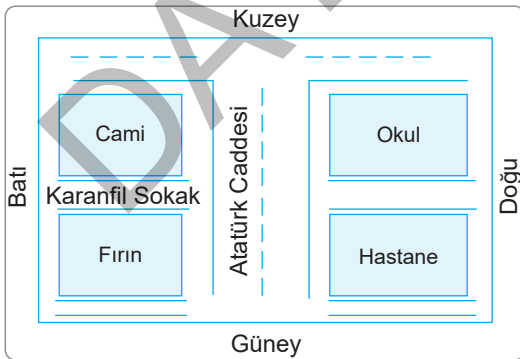


Kız Kulesi



Pamukkale Travertenleri

3.



Yukarıdaki krokiden aşağıdakilerin hangisi çıkarılamaz?

- A) Cami, okulun batısında yer almaktadır.
- B) Cami ile fırın arasında bir sokak bulunmaktadır.
- C) Fırın, okulun güneybatısındadır.
- D) Hastane, caminin kuzeydoğusundadır.

4.

ORTAOKUL ÖĞRENCİLERİ ARASI  
**RESİM YARIŞMASI**

Son Katılım Tarihi: 30.11.2023

**YARIŞMA ÖDÜLLERİ**

1. Dizüstü Bilgisayar
2. Fotoğraf Makinesi
3. Bisiklet

**Seçici Kurul Özel Ödülü:** Akıllı Saat

**Sonuçların Açıklanma Tarihi:** 29.12.2023

Ayrıntılı bilgi için → <http://ogm.meb.gov.tr/>

KONU  
**SAĞLIK ÇALIŞANLARINA VEFA**

Bu afiştten söz konusu yarışmayla ilgili aşağıdaki bilgilerden hangisine ulaşamaz?

- A) Çalışmaların kuruma ulaştırılabileceği son tarihe
- B) Çalışmaların yetkili kuruma nasıl ulaştırılacağına
- C) Yarışma konusu ve alanına
- D) Yarışmada derece alanların kazanacağı ödüllere

5. Aşağıdakilerden hangisi görsel medya kaynaklarından biri değildir?

- A) sinema
- B) radyo
- C) televizyon
- D) bilgisayar

6. Aşağıdakilerden hangisi "Park yapmak yasaktır." işaretidir?

- A)
- B)
- C)
- D)

7. Medyanın seslenmek, ulaşmak, yönlendirmek ve etkilemek istediği hedef kitleler vardır.

Buna göre bir oyuncak markasının reklam verirken ulaşmak istediği kitle aşağıdakilerden hangisidir?

- A) Yaşlılar
- B) Kadınlar
- C) Çocuklar
- D) Gençler

# MATEMATİK

DATA YAYINLARI

## TEST 1

(Çözümler için karekodu okutunuz.)



1.  $(-3) + (-2)$   
Yukarıda verilen işlemin sonucu aşağıdakilerden hangisidir?  
A) -5 B) -1 C) +1 D) +5

2.  $(-8) + (+6)$   
Yukarıda verilen işlemin sonucu aşağıdakilerden hangisidir?  
A) -14 B) -2 C) +2 D) +14

3.  $(+10) - (-4)$   
Yukarıda verilen işlemin sonucu aşağıdakilerden hangisidir?  
A) -14 B) -6 C) +6 D) +14

4.  $(-12) - (-9)$   
Yukarıda verilen işlemin sonucu aşağıdakilerden hangisidir?  
A) -21 B) -3 C) +3 D) +21

5.  $(-1) + (+2) - (-3)$   
Yukarıda verilen işlemin sonucu aşağıdakilerden hangisidir?  
A) -3 B) -2 C) +3 D) +4

6.  $(-9) + (-9)$   
Yukarıda verilen işlemin sonucu aşağıdakilerden hangisidir?  
A) -18 B) 0 C) +6 D) +18

7. 

-4	-10	-8	+6
----	-----	----	----

  
Yukarıda verilen tam sayılar arasından sıfıra en yakın olan iki tam sayı seçilerek toplanacaktır.  
Buna göre toplamı aşağıdakilerden hangisidir?  
A) -18 B) -14 C) -2 D) +2

8.  $K - (-3) = 0$  ve  $(-4) + M = (-6)$  olarak veriliyor.  
Buna göre  $K - M$  aşağıdakilerden hangisidir?  
A) -1 B) 0 C) +1 D) +2



## TEST 7

(Çözümler için karekodu okutunuz.)



1. Bir çiftlikteki tavukların sayısı ineklerin sayısının 2 katından 1 fazladır.

**Bu çiftlikteki tavuk ve ineklerin toplam ayak sayısı 42 olduğuna göre ineklerin sayısı kaçtır?**

- A) 4                      B) 5                      C) 6                      D) 7

2. Bir zeytinyağı fabrikasında 8 kg zeytinden 2 L zeytinyağı üretilmektedir. Üretilen zeytinyağları 5 L'lik bidonlara konularak satışa sunulmaktadır.

**Buna göre 9600 kg zeytinden kaç bidon zeytinyağı üretilir?**

- A) 240                      B) 320                      C) 480                      D) 560

3. Bir taksimetre müşteri taksiye binince 25 TL ile açılmakta ve her km'de bir 3 TL yazmaktadır.

**Bir müşteri belli bir mesafe gittiğinde 4300 kuruş ödediğine göre toplam kaç km yol gitmiştir?**

- A) 6                      B) 7                      C) 8                      D) 9

4. Bir çay bahçesinde erkek ve kadın sayısının toplamı 80 olup, kadın sayısı erkek sayısının 4 eksiğinin  $\frac{1}{3}$ 'ü kadardır.

**Buna göre bu bahçedeki kadın sayısı kaçtır?**

- A) 16                      B) 17                      C) 18                      D) 19

5. Bir müzede öğrenci giriş ücreti 2 TL ve yetişkin giriş ücreti ise 5 TL'dir. Bu müzeye bir günde gelen öğrenci sayısı gelen yetişkin sayısının 4 katıdır.

**Üç günde bu müze 780 TL kazandığına göre bir günde gelen yetişkin sayısı kaçtır?**

- A) 16                      B) 18                      C) 20                      D) 22

6. Bir apartmandaki merdivenleri Zeynep 2'şer 2'şer inip, 3'er 3'er çıkmaktadır. Çıkarken attığı adım sayısı inerken attığı adım sayısından 11 eksiktir.

**Buna göre bu merdivendeki basamak sayısı kaçtır?**

- A) 48                      B) 52                      C) 66                      D) 72

7. Bir bakkaldaki gazlı içecek sayısı gazsız içecek sayısının 16 eksiğinin 3 katına eşittir.

**Bu bakkaldaki gazlı içecek sayısı gazsız içecek sayısına eşit ise gazsız içecek sayısı kaçtır?**

- A) 23                      B) 24                      C) 25                      D) 26

8. Orhan, her gün bir önceki gün sattığı ayakkabı sayısının 2 katı kadar satış yaparak 4 günde 360 çift ayakkabı satmıştır.

**Buna göre ikinci gün kaç çift ayakkabı satmıştır?**

- A) 24                      B) 48                      C) 56                      D) 58

## TEST 8

(Çözümler için karekodu okutunuz.)



1. 80 kg'lık bir kasa domatesin 16 kilogramı çürüktür.  
**Çürük domatesler tüm domateslerin % kaçındır?**  
A) 20 B) 25 C) 30 D) 40
2. Serkan kitabındaki her 55 tane sorunun 11 tanesini çözmüştür.  
**Buna göre Serkan soruların yüzde kaçını çözmüştür?**  
A) 20 B) 25 C) 15 D) 30
3. 250 TL'ye alınan bir ürün 350 TL'ye satılırsa yüzde kaç kâr yapılmıştır?  
A) 20 B) 25 C) 35 D) 40
4. Bir koltuk takımı 1500 TL'ye satılarak 300 TL kâr elde edilmiştir.  
**Buna göre bu koltuk takımından yüzde kaç kâr elde edilmiştir?**  
A) 25 B) 20 C) 15 D) 10

5. 60 hangi sayının %40'ına eşittir?  
A) 120 B) 150 C) 200 D) 300
6. 480 liraya satılan bir ürün kasada indirim ile 336 liraya alınmıştır.  
**Buna göre kasada yapılan indirim % kaçtır?**  
A) 20 B) 25 C) 30 D) 40
7. 180 km'lik bir yolda asfalt çalışması yapılmaktadır.  
**Bu yolun 54 km'lik kısmı asfaltlandığına göre asfaltlanmayan kısım tüm yolun % kaçındır?**  
A) 80 B) 70 C) 60 D) 55
8. Bir çiftçi 400 koyunundan 250'sini satmıştır.  
**Buna göre çiftçi koyunlarının % kaçını satmıştır?**  
A) 87,5 B) 62,5 C) 37,5 D) 12,5

## TEST 9

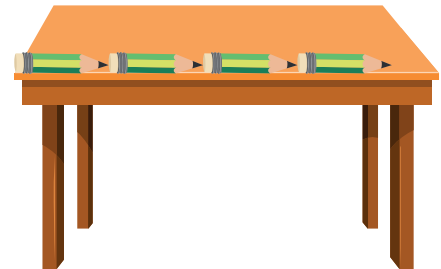
(Çözümler için karekodu okutunuz.)



1. Bir sayının %5 fazlasını almak demek aşağıda verilen sayılardan hangisi ile çarpmak demektir?  
A) 105      B) 10,5      C) 1,5      D) 1,05
2. Bir sayının %7 eksliğini almak demek aşağıda verilen sayılardan hangisi ile çarpmak demektir?  
A) 93      B) 90,3      C) 9,3      D) 0,93
3. 80 sayısının %30 eksigi aşağıdakilerden hangisidir?  
A) 56      B) 55      C) 54      D) 50
4. 125 sayısının %40 fazlası aşağıdakilerden hangisidir?  
A) 145      B) 155      C) 165      D) 175
5. 45 sayısının %20 artırılmış halinin %50'si aşağıdakilerden hangisidir?  
A) 27      B) 30      C) 32      D) 36

6. 15 TL'lik bir ürünün %20 zamlı satış fiyatı kaç TL'dir?  
A) 12      B) 18      C) 21      D) 24
7. %40 azaltılmış hali 18 olan sayının %60 fazlası kaçtır?  
A) 48      B) 42      C) 40      D) 32
8. Ahmet'in cevizlerinin sayısı Murat'ın cevizlerinin sayısının %10 eksigine eşittir.  
Murat'ın 50 cevizi olduğuna göre Ahmet ile Murat'ın cevizleri toplamı kaçtır?  
A) 80      B) 85      C) 90      D) 95

9.



Özdeş kalemler şekildeki gibi masanın uzun kenarına dizildiğinde kalan boşluk uzunluğu uzun kenarın %5'i kadardır.

- Kalemlerin her biri 38 cm ise masanın uzun kenarı kaç cm'dir?  
A) 160      B) 180      C) 200      D) 220

# FEN BİLİMLERİ

DATA YAKYINLARI


## TEST 1

(Çözümler için karekodu okutunuz.)




1. Uzay roketlerinin patlamasıyla ortaya çıkan enkazlar ömrünü tamamlamış yapay uydular gibi nesnelere uzay kirliliğine sebep olur.

Aşağıdaki görselde 1957'den günümüze kadar yapılan uzay çalışmaları sonucunda ortaya çıkan uzay kirliliği gösterilmiştir.



Buna göre verilenler de dikkate alınarak uzay kirliliği ile ilgili aşağıdakilerden hangisi söylenemez?

- A) 1 numaralı görselde uzay kirliliğinin olmaması uzay teknolojilerinin gelişmediğini gösterir.  
 B) 2 numaralı görselin elde edilmesine uzay araçlarının atıkları ve yakıt tankları sebep olmuş olabilir.  
 C) 3 numaralı görselin elde edildiği zaman diliminde uzay gönderilen uzay aracının zarar görme olasılığı daha fazladır.  
 D) Uzay kirliliğine gezegenler, doğal uydular, meteor gibi nesnelere sebep olmuştur.
2. Aşağıda uzay çalışmalarında kullanılmak amacıyla üretilen bir araca ait görsel verilmiştir.



Buna göre bu araçla ilgili;

- I. Bilim insanları tarafından laboratuvar olarak kullanılır.  
 II. Uzaktan kumanda ile çalışır.  
 III. Atmosfer analizi yaparak uzay çalışmalarına katkı sağlar.

İfadelerinden hangileri yanlıştır?

- A) I ve II  
 B) Yalnız I  
 C) I ve III  
 D) II ve III

3.

- I. TÜRKSAT 3A → Haberleşme uydusudur.  
 II. Uzay mekiği → Uzaktan kumandayla çalışan insansız uzay araçlarıdır.  
 III. Teleskop → Gökyüzünü gözlemlemek için kullanılan araçtır.  
 IV. GÖKTÜRK 2 → Gözlem uydusudur.

Yukarıda Kİ eşleştirmelerden hangisi yanlıştır?

- A) I  
 B) II  
 C) III  
 D) IV

4.

Pelin, öğretmenin derste uzay teknolojisi ile ilgili sorduğu bir soru üzerine aşağıdaki cevabı vermiştir.

“Zamanla gelişen teknoloji sayesinde uzaya, uzay sondaları, uzay mekikleri, yapay uydular gönderilmiş ve uzay istasyonları kurulmuştur. Bu uzay çalışmaları ile günlük hayatımızı kolaylaştıran birçok araç ve gereç (teflon, tükenmez kalem vb.) geliştirilmiştir.”

Buna göre, öğretmeni Pelin'e aşağıdakilerden hangisini sormuş olabilir?

- A) Teknolojinin uzay araştırmalarına, uzay araştırmalarının da teknolojiye olan katkısı arasında nasıl bir ilişki vardır?  
 B) Uzay çalışmalarında kişilerin uzayda uzun süre kalabileceklerini sağlayan araçlar nelerdir?  
 C) Yapay uyduların iletişim teknolojisindeki rolü nelerdir?  
 D) Uzay kirliliğinin sebepleri ve bu kirliliğin yol açacağı olası sonuçlar nelerdir?

5.

X: Gezegenlerin yörüngelerine yerleştirilen, haberleşme veya gök cisimlerini incelemede kullanılan araçlardır.

Y: Uzay araştırmaları için uzaya giden bilim insanlarıdır.

Z: Uydu yerleştirmek ve uzayla ilgili araştırmalar yapmak için kullanılan uzay araçlarıdır.

Yukarıda X, Y ve Z ile gösterilen kavramların yerine aşağıdakilerden hangileri yazılmalıdır?

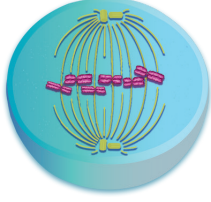
	X	Y	Z
A)	Uzay mekiği	Astronot	Yapay uydu
B)	Yapay uydu	Astronot	Uzay mekiği
C)	Yapay uydu	Astronom	Uzay roketi
D)	Uzay roketi	Gök bilimci	Uzay mekiği

## TEST 8

(Çözümler için karekodu okutunuz.)

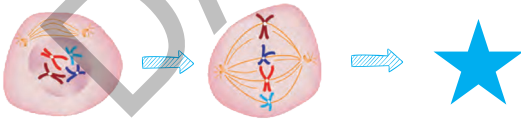


1. Aşağıda mitoz bölünmenin bir evresi verilmiştir.

**Gerçekleşen evre ile ilgili aşağıdakilerden hangisi yanlıştır?**

- A) Bu evrede DNA kendisini eşler.  
 B) Bu evreden önce çekirdek zarı ve çekirdekçik erimeye başlar.  
 C) İnsandaki karaciğer hücresinde gerçekleşmiş olabilir.  
 D) Bu evreden sonra kardeş kromatitler birbirinden ayrılır.

2. Mitoz bölünme sırasında gerçekleşen evreler şekildedeki gibidir.

**Buna göre "★" ile gösterilen evre aşağıdakilerden hangisidir?**

- A)
- B)
- C)
- D)

3.

	Başlangıçtaki kromozom sayısı	Oluşan hücrenin kromozom sayısı
a	26	26
b	48	48
c	500	250

Yukarıda a, b ve c hücrelerinin bölünmesi sonucu oluşan hücrelerin kromozom sayıları verilmiştir.

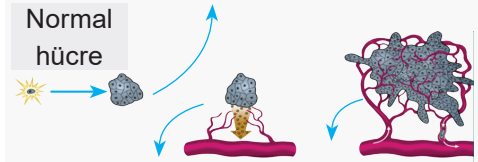
**Buna göre bu hücrelerden hangisi mitoz bölünme gerçekleştirmiştir?**

- A) Yalnız a  
 B) Yalnız c  
 C) a ve b  
 D) a, b ve c

4.

**KANSER OLUŞUMU**

Bazı kimyasal maddeler, radyasyon gibi etkenler ile hücrenin anormal çoğalması



Bir dokudaki anormal hücre (kanser hücresi) kütleli olan tümörün kan dolaşım sisteminden beslenmesi

Kanser hücrelerinin kan yoluyla diğer organlara hücum etmesi

Sağlıklı vücut hücreleri (sinir ve kas hücreleri, olgun memeli alyuvarları hariç) bölünebilme yeteneğine sahiptir. Sağlıklı bir hücre gerektiği yerde gerektiği kadar bölünür. Canlılarda hücrelerin kontrolsüz olarak çoğalmasına kanser denir. Kanser hücreleri kontrolsüz bir şekilde bölünerek çoğalır ve tümörleri oluşturur. Tümörler çevrelerindeki dokuları sıkıştırabilir, içine sızabilir ve dokuları tahrip edebilir.

**Yukarıda verilen açıklamalardan aşağıdaki sorulardan hangisine cevap bulunmaz?**

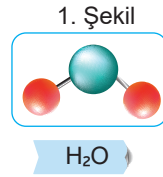
- A) Kanser hücreleri diğer organlarla nasıl tanışır?  
 B) Kanser tedavisi yöntemleri nelerdir?  
 C) Hangi hücreler bölünmez?  
 D) Kanser oluşumuna neler sebep olur?

## TEST 19

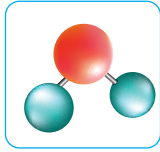
(Çözümler için karekodu okutunuz.)



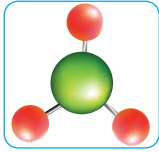
1.



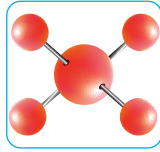
Yukarıda oksijen ve hidrojen atomlarını temsil eden modeller verilmiştir. 1. şekilde oluşturulan molekülün formülü altındaki kutucuğa yazılmıştır.



2. Şekil



3. Şekil

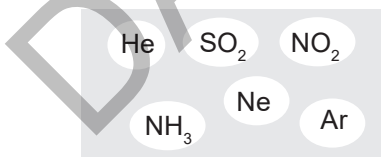


4. Şekil

Buna göre 2, 3 ve 4. şekillerdeki modellerin formülleri aşağıdakilerden hangisi olabilir?

	2. Şekil	3. Şekil	4. Şekil
A)	NO <sub>2</sub>	NH <sub>3</sub>	CH <sub>4</sub>
B)	CO <sub>2</sub>	NH <sub>3</sub>	CH <sub>4</sub>
C)	H <sub>2</sub> S	CH <sub>3</sub>	SO <sub>4</sub>
D)	CH <sub>2</sub>	NO <sub>3</sub>	NH <sub>4</sub>

2.



Bazı maddelerin sembol ve formülleri yukarıdaki gibidir.

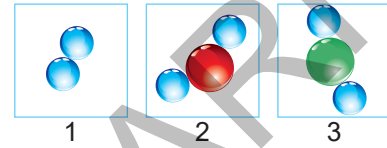
Bu maddeler aşağıdaki seçeneklerin hangisinde doğru grplandırılmıştır?

	Sembol	Formül
A)	NO <sub>2</sub> , He, Ne	Ar, SO <sub>2</sub> , NH <sub>3</sub>
B)	He, Ne, Ar	SO <sub>2</sub> , NH <sub>3</sub> , NO <sub>2</sub>
C)	Ne, Ar, NH <sub>3</sub>	He, SO <sub>2</sub> , NO <sub>2</sub>
D)	SO <sub>2</sub> , NO <sub>2</sub> , He	Ne, Ar, NH <sub>3</sub>

3. Aşağıda verilen özelliklerden hangisi elementlerin özellikleriyle ilgili değildir?

- A) Tek cins atom içerirler.  
B) Doğada atomik halde bulunabilirler.  
C) İyot bir element çeşididir.  
D) Formüllerle gösterilirler.

4.



Erhan farklı renklerde oyun hamurları kullanarak yukarıdaki 3 molekül modelini hazırlamıştır.

Hazırladığı modellerle ilgili;

- I. Her üç modelde de birden fazla atom kullanıldığı için hepsi bileşik moleküldür.  
II. 1 numaralı model element molekülü, 2 ve 3 numaralı modeller ise bileşik moleküldür.  
III. 1 numaralı model 1 çeşit, 2 numaralı model 2 çeşit, 3 numaralı model 2 çeşit atom içermektedir.

İfadelerinden hangileri doğrudur?

- A) I ve II  
B) I ve III  
C) II ve III  
D) I, II ve III

5.

1. Havadan hafiftir. Balon ve zeplin gibi hava taşıtlarının şişirilmesinde kullanılır.  
2. Bazı meyveleri sarartmada, meyvelerdeki zararlıları öldürmede, barut ve asit yapımında kullanılır.  
3. Isıya dayanıklı cam üretiminde, enerji kaynağı olarak, nükleer santrallerde kullanılır.

Yukarıda özellikleri verilen elementlerin isimleri ve sembolleri hangi seçenekte doğru verilmiştir?

	1	2	3
A)	Helyum (He)	Kükürt (S)	Bor (B)
B)	Helyum (H)	Klor (Cl)	Bor (Br)
C)	Hidrojen (Hi)	Kükürt (K)	Silisyum (Si)
D)	Hidrojen (H)	Klor (K)	Silisyum (S)

# SOSYAL BİLGİLER

DATA YAKINLARI



## TEST 1

(Çözümler için karekodu okutunuz.)



1. İletişim; gönderici ve alıcı konumundaki iki insan ya da insan grubu arasında gerçekleşen duygu, düşünce, davranış ve bilgi alışverişidir. Toplum içinde bir arada yaşamak insanların iletişim hâlinde olmalarını gerektirir. Ev, apartman, bahçe, okul, otobüs durağı, sinema, tiyatro ve iş yeri gibi birçok yerde iletişim kurarız. Tutumlarımız ve davranışlarımız çevremizle kurduğumuz iletişimi etkiler. Doğru ve etkili bir iletişim kişilerin birbirini anlamalarını sağlar. Bu durum da toplum içinde birçok sorunun kolaylıkla çözümlenmesine katkı sağlar.

**Parçada aşağıdaki sorulardan hangisinin cevabına ulaşılamaz?**

- A) İletişimin toplumsal faydaları nelerdir?  
 B) İletişim biçimleri nelerdir?  
 C) İletişim ne demektir?  
 D) İletişimi etkileyen faktörler nelerdir?
2. Seslerin dışında jest ve mimiklerde konuşma unsuru olarak kabul edilir. Bir şeyi el veya parmak ile göstermek, birisi giderken el sallamak da birer iletişim unsurudur.
- Aşağıdakilerden hangisi yukarıda verilen durumla çelişmektedir?**
- A) Duyguları ifade eden yüz mimiklerini kullanmak da iletişim unsurudur.  
 B) Beden dili, sadece dilsizler için geçerlidir.  
 C) El hareketleriyle de iletişim kurulabilir.  
 D) Konuşmadan da iletişim kurulabilir.
3. **Selam veren bir arkadaşımıza başımızı sallamamız aşağıdaki iletişim çeşitlerinden hangisinin içerisinde yer alır?**
- A) Sözlü İletişim      B) Yazılı İletişim  
 C) Sözsüz İletişim      D) Etkili İletişim

4. Erken vakitte uyanmış okula gitmek için hazırlık yapıyordum. Yeni aldığım botu giydim, oldukça güzeldi. Okula yırtık lastik botla gelen arkadaşımı görünce alaycı tavırlarla ona bakıp onu küçük gördüm. Birdenbire içim ürperdi ne oldu gibisinden. Derse girdiğimizde arkadaşımın üzgün olduğunu anlayabiliyordum, yanına giderek ne olduğunu sordum. Botlarının yırtık olduğunu, ailesinin yeni bir tane bot alacak imkânının olmadığını söyledi. Birdenbire düşündüm ben de onun yerinde olabilirdim. Arkadaşlarım beni dışlasa kim bilir ne kadar da üzülür içime kapanırdım.

**Verilen hikâye aşağıdakilerden hangisi ile ilgilidir?**

- A) Empati      B) Ön yargı  
 C) Sempati      D) Beden Dili

- 5.
- Peşinen verilmiş olan hükümlerin nedenini ve ispatlarını arayan kimse mutsuzdur.
  - Hayatı boyunca okuduğu tek kitabı dünyada yazılmış tek kitap zannedenlerden korktuğum kadar hiçbir şeyden korkmadım.
  - Peşin hükümlülüğün samimiyet kavramında asla yeri olmaz.

**Verilen sözlerde vurgulanan kavram aşağıdakilerden hangisidir?**

- A) Ön yargı      B) Çatışma  
 C) Sempati      D) Empati

6. **Emir:** "Kendimizi başka insanların yerine koyarak onların duygularını anlamaya çalışmalıyız."

**Verilen cümle aşağıdaki iletişim unsurlarından hangisini vurgulamaktadır?**

- A) Empati kurmak  
 B) Etkin dinlemek  
 C) Farklılıklara saygı göstermek  
 D) Ben dilini kullanmak

## TEST 8

(Çözümler için karekodu okutunuz.)



1. Osmanlı halkını seyahatinde aldığı notlarında anlatan bir seyyah sokak hayvanlarının korunduğundan bahsetmiştir.

**Yukarıda verilen bilgiye göre aşağıdakilerden hangisi söylenebilir?**

- A) Hayvanlara zarar verenler cezalandırılır.  
B) Osmanlı halkı hayvanseverdir.  
C) Hayvanları korumak için birçok yasa çıkarılmıştır.  
D) Sokak hayvanlarına düzenli aşılar yapılmaktadır.

2. Osmanlı'da ilk buharlı gemi 1828 yılında İngiltere'den satın alınmıştır. Swift adını taşıyan İngiliz yapımı bu vapura İstanbul halkı buğu adını verdi. Vapura yoğun bir ilgi olunca ulaşımı düzenli hâle getirmek için 1851'de Şirket - i Hayriye adıyla bir vapur işletme şirketi kuruldu. Ulaşım alanında ikinci atılım demir yolu yapımıyla gerçekleşti. Orient express adını taşıyan tren seferleriyle çok sayıda Avrupalı turist İstanbul'u ziyaret etmeye başlamıştır.

**Buna göre aşağıdakilerden hangisi söylenemez?**

- A) İngiltere ile ticari ilişkiler söz konusudur.  
B) Ulaşımın gelişmesini sağlayan çalışmalar yapılmıştır.  
C) Farklı kültürler tanınmıştır.  
D) Ulaşım gelişmesi bazı sorunları beraberinde getirmiştir.

- 3.
- Osmanlı Devleti'nde 1500'lü yıllarda tüketilmeye başlanmıştır.
  - Osmanlı'dan günümüze gelen gündelik hayatın vazgeçilmez bir içecektir.
  - Osmanlı Devleti'nde bu içecek günün her saatinde içilmekteydi.
  - Genellikle bir bardak su ve Türk lokumuyla ikram edilmektedir.

**Yukarıda hakkında bilgi verilen içecek aşağıdakilerden hangisidir?**

- A) Ayran  
B) Salep  
C) Türk Kahvesi  
D) Çay

4. Osmanlı ülkesinde ilk matbaa açılırken Şeyhülislam, dini kitapların matbaada basılmaması koşuluyla, matbaanın açılması yönünde fetva vermiştir.

**Şeyhülislam'ın böyle bir fetva vermesinin en önemli nedeni aşağıdakilerden hangisi olabilir?**

- A) Dini yayınların çoğaltılması  
B) Hattatlık mesleğinin korunmak istenmesi  
C) Kültürel çalışmaların desteklenmesi  
D) Şeyhülislam makamının gücünü kanıtlamak istemesi

5. Seyyahların Türk misafirperverliği ile ilgili söylediklerinden bir bölüm verilmiştir. "Türkler arasında yaşayan birinin gözüne çarpan Türklerle ilgili temel özellik, onların konukseverlikleridir. Bunu bulduğum her yerde bir paşadan, dağ başındaki çadırdaki yaşayan yürüğe kadar herkeste gördüm; hem de hiçbir karşılık beklemeden. Hangi dinden hangi milletten olursa olsun ister fakir ister zengin olsun ayırım gözetmeksizin herkesin tek düşüncesi vardı: Yabancıyı karnını doyurmak."

**Yukarıdaki seyyahın anlattıkları dikkate alındığında Türklerin aşağıdaki özelliklerden hangisine sahip olduğu söylenemez?**

- A) Misafirperver  
B) Hoşgörülü  
C) Ön yargılı olma  
D) Ayırım yapmama

6. II. Mahmud;
- Divan-ı Hümayun'u kaldırarak bakanlıkları kurdu.
  - Yeniçeri Ocağı'nı kaldırdı.
  - İlköğretimi zorunlu hâle getirdi.

**Verilen ıslahatlar aşağıdaki alanlardan hangisi ile ilgili değildir?**

- A) Askeri  
B) Siyasi  
C) Ulaşım  
D) Eğitim

## TEST 19

(Çözümler için karekodu okutunuz.)



1. Günümüzde Türk toplumunda dayanışmanın önemli bir yeri vardır. Bu özelliğin ülkemizdeki en güzel uygulandığı biçimi vakıflardır. Vakıflar sayesinde toplum içerisinde birlik ve beraberlik pekişmiş, insanlar arasındaki dayanışmanın en güzel örnekleri yaşanmıştır. Ülkemizdeki vakıfların sayısı oldukça fazladır. Vakıflarla ilgili çalışmalarda yöneticilerden toplumun en alt katmanlarına kadar herkes sorumluluk almıştır.

**Verilen paragraftan hareketle aşağıdaki yorumlardan hangisi yapılabilir?**

- A) Vakıfları kurmak devletin görevidir.  
 B) Toplum içerisindeki herkes sosyal dayanışma faaliyetlerine katılabilir.  
 C) En çok vakıf eğitim alanında kurulmuştur.  
 D) Vakıflarda görev almak zorunludur.
2. **Aşağıdakilerden hangisi vakıfların kurulma nedenlerinden biri değildir?**
- A) Toplumsal dayanışmayı sağlamak  
 B) Vakıflarda çalışanlara ücret ödemek  
 C) Yardımlaşma duygusuyla hareket etmek  
 D) Sorunların çözümünde iş birliği yapmak

3.

- I. Savaş, deprem, yangın, salgın hastalık ve su baskını gibi felaketlerde zarar görenlere yardım eden bir kuruluştur.  
 II. Çalışmalarını sadece yurt içinde yürütür.  
 III. Evrensellik çerçevesinde yardıma muhtaç kişilere hizmet eder.  
 IV. Bireylerin kötü alışkanlıklarından kurtulmasına yardımcı olur.

**Yukarıda Kızılay ile ilgili verilen bilgilerden hangileri yanlıştır?**

- A) Yalnız I  
 B) I ve II  
 C) II ve IV  
 D) III ve IV

4. Osmanlı'da vakıf sistemi bir kimsenin malının bir kısmını veya tamamını hayır işine, dini veya sosyal bir hizmete tamamen ayırmasıdır.

**Aşağıda verilen kurum ve yapılardan hangisinin giderlerinin vakıf sisteminden karşılanması be-k-lenemez?**

- A) Cami  
 B) Saray  
 C) Medrese  
 D) Çeşme

5. **Aşağıdakilerden hangisi Yeşilay'ın amaçlarına ulaşmak için yaptığı çalışmalardan biri değildir?**

- A) Radyo ve televizyon programları düzenler.  
 B) Gezi ve sergiler düzenler.  
 C) Kitap, dergi ve makaleler yayımlar.  
 D) Sadece kendi ülkesindeki insanlara yardım eder.

6. **Türkiye Cumhuriyeti Devleti'nde "Sokak Hayvanlarına Ekmek Veren Vakıf" olduğu düşünülürse Türkiye Cumhuriyeti Devleti ile ilgili olarak aşağıda verilen yorumlardan hangisi yapılabilir?**

- A) Gereksiz birçok vakıf kurulmuştur.  
 B) Vakıfların faaliyetleri insanlarla sınırlı değildir.  
 C) Hayvanlarla ilgili vakıf kurmak zorunludur.  
 D) Sadece köpeklerle ilgili vakıflar vardır.

## TEST 20

(Çözümler için karekodu okutunuz.)



1. Ahilik geleneğinin devam ettiği Osmanlı Devleti'nde esnaf ve zanaatkarlar "Lonca" adı verilen teşkilata üye idiler. Her esnaf mutlaka bir loncaya kayıtlı olur, loncanın koruması ve denetimi altında bulunurdu. Loncalar üye sayısını, üretilen malların kalitesini ve fiyatını belirler, esnaf arasındaki haksız rekabeti önler, esnaf ile devlet arasındaki ilişkileri düzenlerdi.

**Buna göre loncalar hakkında aşağıda verilen bilgilerden hangisi doğru değildir?**

- A) Esnaf teşkilatıdır.  
B) Esnafın haklarını korumaya çalışmaktadır.  
C) Ekonomik faaliyetleri yönlendirmektedir.  
D) Devlete yönetici yetiştirmektedir.
2. Ahilik Teşkilatı'nda, meslek sahibi olmak isteyenler önce çırak olarak işe başlarlar ve işin inceliklerini öğrenirlerdi. Ustasının yanında zamanla yetişen çırak, ustasının izniyle kalfa olurdu. Kalfalık süresini tamamladıktan sonra ustalığa geçen kişi için bir tören düzenlenir ve Ahilik törelerine göre ona peştamal kuşatılırdı. Ustalığa geçen kişilerin güven, doğruluk, dürüstlük, cömertlik, kardeşlik ve yardımseverlik gibi değerlere uyma zorunlulukları vardı.

**Verilen bilgilerden hareketle Ahilik Teşkilatı ile ilgili aşağıdakilerden hangisine ulaşılabılır?**

- A) Ahi Evran tarafından kurulmuştur.  
B) Mesleki ve ahlaki eğitim vermiştir.  
C) Üyelerini devlet makamlarına yerleştirmiştir.  
D) Esnaf arasında ayırım yapmıştır.
3. Osmanlı Devleti'nde nitelikli insan yetiştirmek amacıyla kurulmuş olan eğitim kurumları bulunmaktadır. Bu eğitim kurumlarında odalar hâlinde ve çeşitli kademelerde eğitim ve öğretim verilmektedir. Osmanlı padişahlarından II. Murad zamanında kurulan bu okullarda askerlik alanından tutun müzik derslerine kadar birçok farklı dersin verildiği bilinmektedir. Bu okulları tamamlayan kişilere devlet kadrolarında ve orduda görev verilmiştir.

**Bilgisi verilen okul aşağıdakilerden hangisidir?**

- A) Medrese  
B) Lonca  
C) Enderun  
D) Sıbyan Mektebi

4. Aşağıdakilerden hangisi Türk İslam devletlerinde mesleki eğitim vermek amacıyla açılan eğitim kurumları ve mesleki kuruluşlar arasında değildir?

- A) İmaret  
B) Medrese  
C) Lonca  
D) Enderun

5. Osmanlı Devleti'nde Lonca Teşkilatları üretimde kalite kontrolü yapar, ihtiyacı olanlara kredi verir, haksız rekabeti önler ve üretim miktarlarını düzenlerdi.

**Buna göre esnaf örgütlenmeleri şeklinde oluşan Lonca Teşkilatı'nın;**

- I. tüketici haklarının korunması,  
II. üretimin kontrol edilmesi,  
III. esnaf arasında dayanışmanın sağlanması

**hedeflerinden hangileri doğrultusunda çalışmalar yaptığı savunulabilir?**

- A) Yalnız I  
B) I ve II  
C) I ve III  
D) I, II ve III

6. Aşağıdakilerden hangisi Ahi Teşkilatı'nın temel ilkelerinden biri değildir?

- A) İlim sahibi olmak  
B) Kusurları açığa çıkarmak  
C) Haramdan kaçınmak  
D) Edepli olmak

# DİN KÜLTÜRÜ

DATA YAYINLARI

## TEST 1

(Çözümler için karekodu okutunuz.)



1. Taner Öğretmen, şeytanın cinlerden biri olduğunu ve Allah'ın secde emrine uymadığını belirtmiş ve öğrencilere cinlerin özelliklerini sormuştur. Öğrencilerden;
- Ayşe: Nurdan yaratılmışlardır.  
Ferhat: Görünmeyen varlıklardır.  
Zehra: İman eden ve iman etmeyenleri vardır.  
Tayfun: Ateşten yaratılmışlardır.  
cevaplarını vermişlerdir.

**Buna göre öğrencilerden hangisi cinlerle ilgili yanlış bilgi vermiştir?**

- A) Ayşe  
B) Ferhat  
C) Zehra  
D) Tayfun
2. Cin, sözcükte "gizli ve örtülü varlık, görünmeyen şey" anlamına gelir. Terim anlam olarak da duyu organlarımızla algılayamadığımız, çeşitli şekillere giren varlıklardır. Cinler ateşten yaratılmıştır. Müslüman bir kimsenin cinlerden korkmaması ve Yüce Allah'ın izni olmadan, bir varlığın başka bir varlığa zarar veremeyeceğine gönülden inanması gerekir. Hz. Muhammed'in de cinlerin insanları etkilemesine karşı Ayet'el-Kürsi, Felak, Nâs surelerini okuduğu doğrudur.

**Yukarıdaki parçaya göre aşağıdakilerden hangisi söylenemez?**

- A) Cinler duyu organlarımızla kavrayamadığımız varlıklardır.  
B) Hz. Muhammed (sav.) cinlerin etkisinden korunmak için Felak, Nâs, Ayet'el-Kürsi dualarını okumuştur.  
C) Allah'a inancı tam olan insanlar cinlerden korkmaz.  
D) Cinler de melekler gibi nurdan yaratılan varlıklardır.
3. Evrendeki varlıkların hepsini duyularımızla algılayamayız. Örneğin; melek, cin ve şeytan gibi varlıkları duyularımızla algılayamayız ancak varlıklarına inanırız.

**Bu varlıkların varlığını aşağıdaki yollardan hangisiyle öğreniriz?**

- A) Sihir  
B) Vahiy  
C) Fal  
D) Akıl

4.

- Cinler, Kur'an-ı Kerim'in tabirine göre öz ateşten yaratılmış varlıklardır.
- Çeşitli şekillere girebilen bu varlıklar duyu organları ile algılanamazlar. İnanma ve ibadetlerini yerine getirme konusunda sorumludurlar.
- İnsanlar, topraktan yaratılmış varlıklardır. Duyu organları ile algılanabilirler. Allah'a iman etme ve ibadetlerini yapma konusunda sorumludurlar. Kur'an-ı Kerim'e göre insanlar yaratılanların birçoğundan üstün yaratılmıştır.

**Buna göre aşağıdakilerden hangisi cinler ve insanlar arasındaki ortak özelliklerden biridir?**

- A) Ateşten yaratılmaları  
B) Çeşitli şekillere girebilmeleri  
C) İman ve ilahi emirler bakımından sorumlu olmaları  
D) Yaratılmışların birçoğundan üstün olmaları

5.

- Kur'an-ı Kerim'de kendisinden gururlu ve kibirli olarak bahsedilmiştir.
- Ateşten yaratılmış varlıklardır.
- Hz. Adem'e secde etmeyi kabul etmemiştir.

**Yukarıda hakkında bilgi verilen varlık aşağıdakilerden hangisidir?**

- A) Cin  
B) Melek  
C) Şeytan  
D) İnsan

6.

- Görme, duyma, dokunma, tatma, koklama duyularımızla algılayabildiğimiz, deney yoluyla varlığını bilebildiğimiz varlıklara görünen varlıklar denir.

**Yukarıda verilen bilgilere göre aşağıdakilerden hangisi görünmeyen varlıklara örnektir?**

- A) Yıldız  
B) Melek  
C) Hücre  
D) Uzay

## TEST 6

(Çözümler için karekodu okutunuz.)



1. “Ey inananlar! Hac size farz kılındı. Öyleyse hacce-  
din.” (Hadis-i Şerif)

**Yukarıda verilen hadiste hac ibadetinin hangi yönüne vurgu yapılmıştır?**

- A) Gerekli şartların neler olduğuna  
B) Kimlerin yerine getirmesi gerektiğine  
C) İmanın şartlarından biri olduğuna  
D) Dini hükmünün ne olduğuna
2. “Orada apaçık deliller, İbrahim’in makamı vardır. Oraya giren emniyette olur. Gitmeye gücü yetenin o evi ziyaret etmesi Allah’ın insanlar üzerinde bir hakkıdır. Kim inkar ederse bilmelidir ki Allah bütün alem-  
den zengindir.” (Âl-î İmran suresi, 77. ayet)

**Yukarıda verilen ayette aşağıdaki ibadetlerden hangisi vurgulanmıştır?**

- A) Hac  
B) Namaz  
C) Zekât  
D) Kurban
3. **Aşağıdakilerden hangisi haccın insan davranışlarına etkilerinden biri değildir?**
- A) İnsana sahip olduğu dünya nimetlerinden bir gün ayrılacağına hatırlatır.  
B) İnsana manevi muhasebe yapmayı öğretir.  
C) İnsanda şükür duygusunu artırır.  
D) İnsanın kendi maddi zenginliğinin farkına varmasını sağlar.

4. Suudi Arabistan, koronavirüs nedeniyle bu yıl hac ibadetinin sadece ülke içinde yaşayan sınırlı sayıda Müslümanla yapılacağını yurt dışından hacı kabul etmeyeceğini duyurdu. Dünyada 180’den fazla ülkede yaygınlık gösteren koronavirüs insanların hac ibadetini yerine getirmelerine engel teşkil etti.

**Yukarıda verilen gazete haberi dikkate alındığında hac ibadetinin yapılmasına engel teşkil eden durum aşağıdakilerden hangisidir?**

- A) Ekonomik durum  
B) Salgın hastalık  
C) Yaş kriteri  
D) Kısıtlı özgürlük

5. Hacda zengin-fakir, kadın-erkek, yaşlı-genç, herkes eşit şartlarda hareket eder, aynı zorluklarda yüz yüze gelir. Bu durum dayanışma ve yardımlaşma duygularının artmasına ve böylece kardeşlik ruhunun gelişmesine yardımcı olur. Böylece, hacca giden insanlar diğer insanların haklarına saygı gösterme kırıcı davranışlardan kaçınma gibi olumlu özelliklerini geliştirme imkanına kavuşurlar.

**Yukarıda verilen parçada hac ibadeti ile ilgili aşağıdakilerden hangisine ulaşılabılır?**

- A) Dini hükmünün farz olduğuna  
B) İslam’ın şartından biri olduğuna  
C) Birlik ve beraberliği sağladığına  
D) Malı bereketlendirdiğine

## TEST 14

(Çözümler için karekodu okutunuz.)



1. Hz. Muhammed (sav.) bir defasında şöyle buyurdu: "Benim insanlarla durumum şuna benzer: Ateş tutuş-turan bir adamın durumu gibidir. Ateş etrafına ışık saçınca kelebekler (pervaneler), kendilerini ateşe atmaya başlar. O adam ise, onları ondan çekip kurtarmaya bu konuda onlara üstün gelmeye çalışır. Fakat onlar ateşe doğru hücum ederler. Ben de ateş-ten kurtarmak için eteklerinizden tutanım. Oysa onlar (insanlar) ateş içine atılmaya çabalıyorlar." (Hadis-i Şerif)

**Bu hadis ile Hz. Muhammed'in (sav.) hangi yönü üzerinde durulmuştur?**

- A) Kur'an'ı açıklayıcılığı  
B) Son peygamber oluşu  
C) Rahmet peygamberi oluşu  
D) Müjdeleyici oluşu
2. Allahû Teâlâ mesajlarını insanlara tebliğ edecek ve insanları hak yola çağırarak peygamberler göndermiştir. Gönderilen peygamberlerin ilki Hz. Âdem iken sonuncusu da Hz. Muhammed'dir. Kur'an-ı Kerim'de Hz. Muhammed'in (sav.) birçok özelliği belirtilmiştir. Bunlardan biri de son peygamber Hz. Muhammed'in (sav.) merhamet sahibi olarak gönderilmiş olmasıdır.

**Buna göre aşağıdaki ayet ve hadislerden hangisi onun bu özelliğini belirtmemiştir?**

- A) "(Ey Muhammed!) seni ancak alemlere rahmet olarak gönderdik." (Enbiya suresi, 107. ayet)  
B) "Ben bir rahmet ve hidayet rehberiyim." (Hadis-i Şerif)  
C) "Ben beddua etmek için değil, alemlere rahmet olarak gönderildim." (Hadis-i Şerif)  
D) "Biz seni bütün insanlara ancak müjdeleyici ve uyarıcı olarak gönderdik." (Sebe suresi, 28. ayet)
3. Bu sure ile iman ve şirkin farklı şeyler olduğu belirtilmiş ve bu iki inanç arasında uzlaşma yapılmasının mümkün olmadığı belirtilmiştir.

**Yukarıda bahsedilen sure aşağıdakilerden hangisidir?**

- A) Felak  
B) Kâfirûn  
C) Nas  
D) Nasr

4. "Ey peygamber! Biz seni bir şahit, bir müjdeleyici bir uyarıcı Allah'ın izniyle aydınlatıcı bir ışık olarak gönderdik." (Ahzap suresi, 45. ayet)

**Yukarıda verilen ayet dikkate alındığında Hz. Muhammed (sav.) için aşağıdakilerden hangisi söylenebilir?**

- A) Son peygamberdir.  
B) Kur'an'ı açıklayıcıdır.  
C) Rahmet peygamberidir.  
D) Uyarıcı ve müjdeleyicidir.

5. Hz. Muhammed (sav.) peygamber olduğu zaman Mekke'de halkını İslam'a davet etmek için toplamıştı. Safa Tepesi'ne çıkarak orada toplananlara: "Ey Kureyş halkı! Size bu dağın arkasından bir düşman ordusunun geldiğini söylesem bana inanır mısınız?" dedi. Onlar: "Hepimiz inanırız, çünkü sen ömründe yalan söylemedin." diye cevap verdiler. Bu sözleri söyleyenlerin arasında Hz. Muhammed'in en azılı düşmanları da vardır.

**Yukarıdaki parçada Hz. Muhammed'in (sav.) hangi yönüne değinilmiştir?**

- A) Dürüst ve güvenilir olduğuna  
B) Merhametli ve bağışlayıcı olduğuna  
C) Hoşgörülü ve uyarıcı olduğuna  
D) Sabırlı ve şefkat sahibi olduğuna

6. "O (Muhammed), Allah'ın elçisi ve peygamberlerin sonuncusudur..." (Ahzap suresi, 40. ayet)

**Bu ayette Hz. Muhammed'in (sav.) hangi yönü vurgulanmıştır?**

- A) İnsanı yönü  
B) Son peygamber oluşu  
C) Güzel ahlakı  
D) Rahmet ve merhameti



DATA YAYINLARI



Tüm Bursluluk kitaplarına  
ulaşmak için  
karekodu okutunuz.



İvedik Organize Sanayi Matbaacılar Sitesi  
1518 Sok. Mat-Sit İş Merkezi No.:2/20  
Yenimahalle / ANKARA  
Telefon: 0 312 384 29 95 - Belgegeçer: 0312 342 23 58  
WhatsApp: 0 505 925 57 81  
www.datayayinlari.com | bilgi@datayayinlari.com

