

MAVİ KİTAP

LİSELERE GEÇİŞ SINAVI

L G S

TÜRKÇE  
+DİL BİLGİSİ 3

Yeni Tarz Sorular

(Kazanım Odaklı Beceri Temelli)

NASIL ÇÖZÜLÜR?

LGS ÇIKMIŞ SORULAR  
VE ÇÖZÜMLERİ



MEB ÖRNEK SORULARI  
PARALELİNDE



editör  
yayınları

EDITÖR YAYINEVİ

LİSELERE GEÇİŞ SINAVI



# TÜRKÇE

## Yeni Tarz Sorular

(Kazanım Odaklı Beceri Temelli)

**NASIL ÇÖZÜLÜR?**



## TÜRKÇE (MAVİ KİTAP) YENİ NESİL SORULAR NASIL ÇÖZÜLÜR

### EDİTÖR

Turgut MEŞE

### YAZAR

Komisyon

©

Tüm hakları Editör Yayınevine aittir. Yayıncının izni olmaksızın, kitabın tümünün veya bir kısmının elektronik, mekânîk yollarla ya da fotokopi yoluyla basımı, çoğaltılması ve dağıtımı yapılamaz.

Editör Yayınevi bir Data Yayınları markasıdır.

BU KİTAP T.C. KÜLTÜR BAKANLIĞININ BANDROLÜ İLE SATILMAKTADIR.

Çıkmış soruların telif bedeli ödenmiştir.

### ISBN / TARİH

978 605 280 087 4 / 09 07 20

### SERTİFİKA NO

16199

### KAPAK TASARIMI

Editör Yayınevi Tasarım Ekibi

### SAYFA TASARIMI

Editör Yayınevi Dizgi Ekibi

### BASKI VE CİLT

Özgür WEB Matbaacılık

ANKARA

### İLETİŞİM



İvedik Organize Sanayi Matbaacılar Sitesi

1518 Sok. Mat-Sit İş Merkezi No:2/20

Yenimahalle / ANKARA

Tel: 0 312 384 20 33 - 0 505 925 57 81

Fax: 0312 342 23 58

www.editoryayinevi.com

*Kitap hakkında görüş ve önerileriniz için*

*WhatsApp hattımız: 05422620337*

## İÇİNDEKİLER

## ANLAMA BECERİLERİ

TEST 1	5
TEST 2	16
TEST 3	26
TEST 4	36
TEST 5	45
TEST 6	54
TEST 7	63
TEST 8	72
TEST 9	81
TEST 10	89

## FİİLİMSİLER

TEST 1	99
--------	----

## CÜMLENİN ÖGELERİ

TEST 1	104
--------	-----

## CÜMLE TÜRLERİ

TEST 1	107
--------	-----

## FİİLDE ÇATI

TEST 1	110
--------	-----

## ANLATIM BOZUKLUĞU

TEST 1	113
--------	-----

## DİL BİLGİSİNİ ÖLÇME

TEST 1	117
TEST 2	122
TEST 3	125
TEST 4	130
TEST 5	134
TEST 6	139

## YAZIM VE NOKTALAMA BİLGİSİNİ ÖLÇME

TEST 1	144
TEST 2	149
TEST 3	153
TEST 4	157
TEST 5	162

## METİN TÜRLERİ VE ANALİZİ

TEST 1	167
TEST 2	175
TEST 3	182

## MANTIK VE MUHAKEME

TEST 1	189
TEST 2	198
TEST 3	206
TEST 4	213

## TABLO, GRAFİK VE GÖRSEL OKUMA

TEST 1	220
TEST 2	231
ÇÖZÜMLER	243

**HAYAL GÜCÜ,  
EYLEM OLMADAN  
HİÇBİR ŞEY  
İFADE ETMEZ!**

*Charlie Chaplin*



# ANLAMA BECERİLERİ

SORULAR

TEST 1

1

## TÜRKİYE'DE COVID19 SALGINI ÖNLEMLERİ

11 Mart'ta ilk koronavirüs vakasının tespit edilmesinin ardından Türkiye hızla önlemleri hayata geçirdi.



Metinde verilen bilgilere göre aşağıdakilerden hangisinin İçişleri Bakanlığı tarafından gerçekleştirildiği söylenemez?

- Seyahat yasağı kapsamında havalimanlarında bazı bölgelere yapılan seferleri askıya alma
- Adliyelere yargılamalar, tutukveklere de görüşler konusunda alınan önlemleri bildirme
- Hoşça vakit geçirilen ve toplu bulunulan mekânlarda çalışma yasağını uygulama
- Kişisel ve toplu olarak sportif faaliyetlerde bulunulan mekânları yasaklar kapsamında denetleme

**14** Dünyada milyonlarca insan yiyecek ve içecek başta olmak üzere çoğu temel ihtiyaçtan yoksun yaşıyor. Ülkemizde ise 1,7 milyon ekmek çöpe giderken 214 milyarlık gıda israfı yapıldığı belirlendi. Buna ek olarak dünyada da israf edilen 1 milyon 300 bin tondan fazla yiyeceğin, 2 milyona yakın insanı doyurabileceği tespit edildi. Ülkemizde günlük olarak 4 milyon 100 bin ekmek çöpe atılmaktadır.

**Bu açıklamaya göre;**

- I. Ekmek gramajlarının düşürülerek tek kullanımlık küçük paketlerde üretilmesi,
- II. Ekmek tüketimi konusunda toplumun bilinçlendirilmesi,
- III. Bayatlayan ekmeklerin toplanarak sokak hayvanlarına verilmesi

**fikirlerinden hangileri metinde sözü edilen soruna yönelik bir çözüm olabilir?**

- A) Yalnız I                      B) I ve II  
C) II ve III                      D) I, II ve III

- 15**
- Proxima B adlı gezegen Güneş'e en yakın yıldız olan Proxima Centauri'nin çevresinde dönmektedir.
  - Bu gezegen hem yaklaşık olarak Dünya büyüklüğündedir hem de yaşama elverişli kuşakta bulunmaktadır.

**Bu iki cümlede ifade edilenlerin anlamca doğru biçimde birleştirilmiş hâli aşağıdakilerden hangisidir?**

- A) Proxima Centauri adlı yıldızın çevresinde dönen Proxima B adlı gezegen yaklaşık Dünya büyüklüğündedir ve yaşama elverişli kuşakta bulunmaktadır.
- B) Proxima B adlı gezegen, Proxima Centauri adlı yıldızın en yakın mesafedeki gezegendir ve Dünya'nın büyüklüğüne yakın bir büyüklüktedir.
- C) Güneş'e en yakın yıldız olan Proxima Centauri'nin etrafında dönen Proxima B adlı gezegen yaşama elverişli kuşaktadır ve aşağı yukarı Dünya büyüklüğündedir.
- D) Dünya'nın büyüklüğüne yakın bir büyüklükte olan Proxima B adlı gezegen Güneş'e en yakın yıldız olan Proxima Centauri'ye en yakın gezegendir.

16 ve 17. soruları aşağıdaki metne göre cevaplayınız.

Geri dönüşüm, kabaca atık maddeleri yeniden kullanılabilir hâle getirme işlemidir. Atıkları geri dönüştürerek enerjiden, ham maddeden ve kısmen iş gücünden tasarruf ederiz. Geri dönüşüm, günümüz dünya ülkeleri vatandaşlarının hayatlarında önemli bir yer tutar. Ülkemizde geri dönüşüm bilinci yavaşça yayılsa da birçok ülke bizden oldukça iyi durumdadır. Avusturya tüm atığının %63'ünü geri dönüştürüyor ki bu, listede Avusturya'nın zirve konumunda olduğunu gösterir. Avusturya mükemmel işleyen kentsel atık politikasına sahip, bu sayede Avusturya'da geri dönüşüm daha istikrarlı bir şekilde yürütülüyor. Almanya atıklarının %62'sini, Tayvan ise %60'ını geri kazandırıyor. Atıklarını en çok geri dönüştüren ülkeler listesinde sırayı Brezilya, Singapur, Güney Kore, Birleşik Krallık, İtalya ve Fransa izliyor.

**16** Bu parçanın konusu aşağıdakilerden hangisidir?

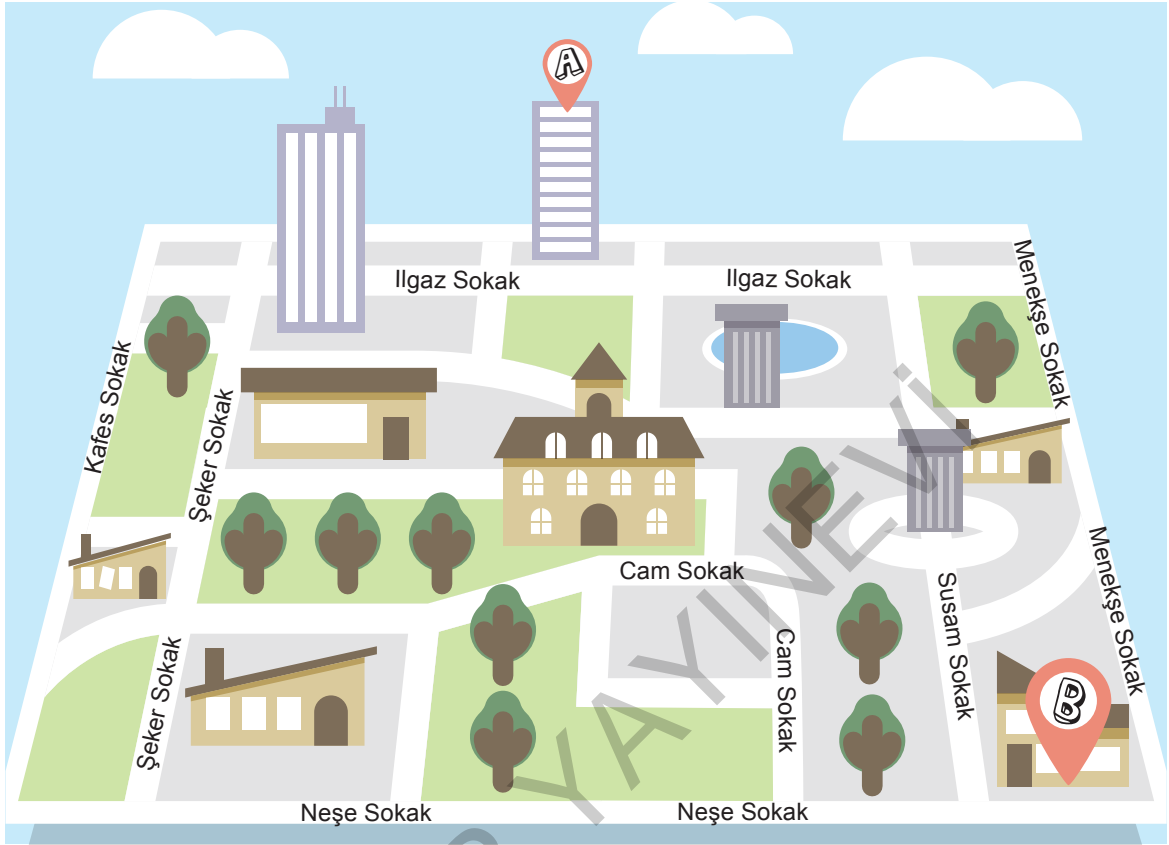
- A) Geri dönüşüm ve dünya genelinde geri dönüşüm faaliyetleri
- B) Geri dönüşümde en ileri ülke
- C) Geri dönüşüm faaliyetlerinde ülkemizin geri kalma nedenleri
- D) Geri dönüşüm faaliyetlerinin ilk olarak nerede başladığı

**17** Bu parçadan aşağıdaki yargılardan hangisi kesin olarak çıkarılabilir?

- A) Gelişmemiş ülkelerde geri dönüşüm faaliyetleri yok denecek kadar azdır.
- B) Dünyada geri dönüşümde en ileri olan ülke, atıklarının yarısından fazlasını geri dönüştürmektedir.
- C) Geri dönüşüm konusunda birçok ülke, ülkemizi örnek almaktadır.
- D) Geri dönüşüm faaliyetleri, çevreyi koruma amacıyla başlatılmıştır.



- 25 B'den A'ya gidecek olan Murat, komşusu Serdar'a oraya nasıl gidebileceğini sormuştur.



**Bu haritaya göre Serdar aşağıdakilerden hangisini söylerse yolu doğru tarif etmiş olur?**

- A) Menekşe Sokak'a girin ve sokağın sonuna kadar hiçbir yere sapmadan yürüyün. Sokağın sonundaki sokağa girin. Karşınıza Ilgaz Sokak çıkacaktır. Ilgaz Sokak'ta bulunan A binasına kadar yürüyün.
- B) Neşe Sokak'tan Şeker Sokak'ın başına kadar yürüyün. Şeker Sokak'a girdiğinizde 1, 2, 3 değil 4. sokaktan sağa dönün. 4. sokak olan Ilgaz Sokak'tan A binasına kadar yürüyün.
- C) Neşe Sokak'tan biraz ilerleyin ve karşınıza çıkan ilk sokağa girin, bu sokağın sonunda yer alan Cam Sokak'tan girip yolun sonuna kadar ilerleyin. Karşınıza A binası çıkacaktır.
- D) Susam Sokak'la Menekşe Sokak arasındaki sokaktan ilerleyip parkın olduğu sokağa girin. Buradan da sola doğru dönüp hiçbir yere sapmadan ilerleyin. A binası ilerlediğiniz bu sokağın sonunda olacaktır.

- 26 Yeni nesil savaş teknolojilerinden birisi olan İnsansız Hava Araçları (İHA) arasında yer alan SİHA'lar, yerli ve milli olması nedeniyle büyük önem arz ediyor. Sınırlarımızı korumaya yönelik sürdürülen operasyonlarda etkin rol alan SİHA'lar, 25 saat havada kalabiliyor. Bu araçların en önemli özelliklerinden bir tanesi de uzaktan kumanda edilebilmeleri ve belirlenen rota üzerinde kendiliğinden hareket edebilen "insansız" hava uçakları olmalarıdır. SİHA'ların görüntü alma ve komuta merkezine bilgi verme, düşman hedeflerini etkisiz hale getirme gibi özellikleri bulunuyor. Ayrıca bu araçlar, silah kullanılan insansız ilk hava aracımızdır. Gövde uzunluğu 6,6 metre, kanat açıklığı 12 metre ve azami hızı 135 knott olan bu araçlar iki sınıfa ayrılır: İlki uzaktan kumanda edilerek uçan, diğeri ise kendiliğinden belli bir uçuş planı üzerinden otomatik olarak hareket edebilen uçaklardır.

**Bu parçanın anlatımında aşağıdakilerden hangileri bir arada kullanılmıştır?**

- A) Açıklama - Benzetme  
B) Tartışma - Tanık gösterme  
C) Açıklama - Sayısal verilerden yararlanma  
D) Tartışma - Örneklendirme

11 ve 12. soruları aşağıdaki metne göre cevaplayınız.

İklim değişikliği, Kuzey Kutbu'nun simgesi olan kutup ayısının hâlihazırdaki durumu dışında başka sorunlar da ortaya çıkarıyor. Avustralya'nın Torres Boğazı'ndaki alçak adalardan birinde yaşayan esmer böğürtlen sıçanlarının son üyesinin de yok olduğu, 2016 yılında bilim insanları tarafından açıklandı. Yükselen denizler dahil hava koşullarının kurbanı olan türün tükenişi, iklim değişikliğinin yol açtığı belgelenecek ilk memeli yok oluşu olarak nitelendiriliyor.

Yükselen sıcaklıklar bazı bitki ve hayvan popülasyonlarının azalmasına neden oluyor. Aynı zamanda türleri kutuplara doğru itiyor, göçleri ve davranışları değiştiriyor. Antarktika Yarımadası'nda Adelie penguenleri, Kuzey Kutbu'nda büyük kumkuşu adlı sahil kuşları azalıyor. Buz kaybı, binlerce morsu Alaska'da karaya çıkmak zorunda bırakıyor. Kayalık Dağları'ndan İsviçre Alplerine kadar dağlık ekosistemler doruklara sıkışıyor.

**11 Yukarıdaki parçanın konusu aşağıdakilerden hangisidir?**

- A) İklim değişikliklerinin bitki ve hayvan türlerine etkisi
- B) Beşeri faaliyetlerin iklim değişimine etkisi
- C) Küresel ısınmada insan faktörü
- D) Kuzey Kutbu'nda yaşam

**12 Bu parçada aşağıda verilen sorulardan hangisinin cevabı yoktur?**

- A) İklim değişikliği neticesinde nesli tükenme tehlikesiyle karşı karşıya kalan hayvan türleri hangileridir?
- B) Yükselen sıcaklıkların türlere etkisi nasıl olmaktadır?
- C) Esmer böğürtlen sıçanlarının neslinin tükenmesinin nedenleri nelerdir?
- D) Kuzey Kutbu'nda görülen iklim değişikliğinin nedenleri nelerdir?

### ÇIKMIŞ SORU

**13 Aşağıdaki cümlelerin hangisinde "tecrübe"yi anlatan bir söz kullanılmamıştır?**

- A) Bizim takımın teknik direktörü eski kurttur, maçlarda takıma iyi taktik veriyor.
- B) Sütten ağzı yandı, yoğurdu üfleyerek yiyor; artık arkadaş seçiminde daha dikkatli.
- C) Ben insan sarrafı oldum, beni kolay kolay kandıramazlar.
- D) İnce eleyip sık dokuduğundan işlerinde başarılı oluyor.

**14 Anneanne:**

– Yavrucuğum sana bir öğüt vereyim mi?

Torun:

– Tabi ki anneanne.

Anneanne:

– Sen sen ol da insana kötülük etme. Peki sence insanı en çok üzen şey nedir? Ona uyguladığın kaba kuvvet mi yoksa insanın kalbini incitmek mi?

Torun:

– Hımmm? Bence kalbini incitmek. Ama ikisi de yapılmamalı tabi.

Anneanne:

– Aferin, doğru söyledin yavrucuğum! Atalarımız boşuna "....." dememiş.

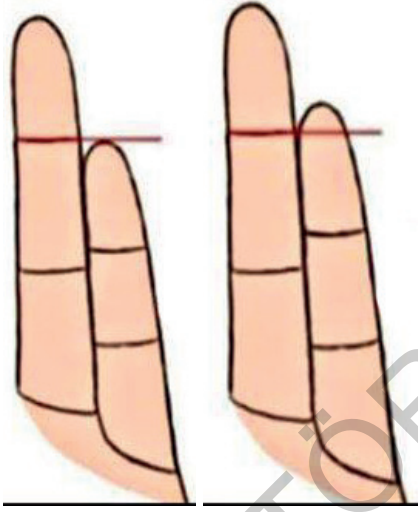
**Bu metinde boş bırakılan yere anlam akışına göre aşağıdaki atasözlerinden hangisi getirilmelidir?**

- A) Acı söz insanı dininden çıkarır, tatlı söz yılanı deliğinden çıkarır.
- B) Dilim seni dilim dileyim, başıma geleni senden bileyim.
- C) El yarası onulur, dil yarası onulmaz.
- D) Dilden gelen elden gelse her fukara padişah olur.

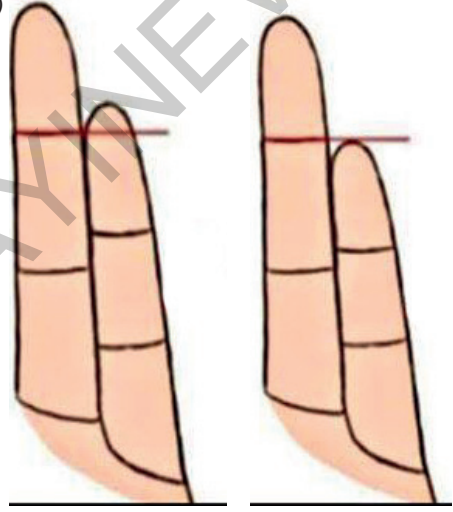
- 26 Serçe parmağınızın karakteriniz hakkında pek çok şeyi ele verdiğini biliyor muydunuz? Serçe parmağınızın uzunluğu ve biçimi kendinizi nasıl anlattığınızı gösterir. Şayet serçe parmağınız yüzük parmağınızın birinci boğumunun (tırnağın olduğu kısmın altında kalan bölüm) altında kalıyorsa kısa bir serçe parmağınız var demektir. Kısa bir serçe parmağa sahipseniz duygu durumunuz çok yoğun olduğundan kendinizi tam anlamıyla ifade edemezsiniz ve iletişim problemi yaşarsınız. Serçe parmağınızın uzunluğu yüzük parmağınızın başlangıç çizgisiyle aynı hizada ise serçe parmağınız orta uzunluktadır. Böyle bir serçe parmağa sahipseniz iç ve dış dünyaya yansımış olduğunuz nitelikleri ve düşünceleri dengeleme konusunda çok iyisinizdir. Sinirlerinizi nasıl kontrol edeceğinizi çok iyi biliyorsunuzdur. Serçe parmağınızın uzunluğu, yüzük parmağınızın birinci boğumunun başlangıç çizgisini geçiyorsa uzun bir serçe parmağınız var demektir. Uzun bir serçe parmağa sahipseniz insanlarla iletişim halinde olmayı seven sosyal bir insansınız demektir.

**İnsanlarla konuşmayı seven ve bu konuda iyi olan biri ile insanlarla konuşamayan birinin parmak yapısının sırasıyla aşağıdakilerden hangisi gibi olması beklenir?**

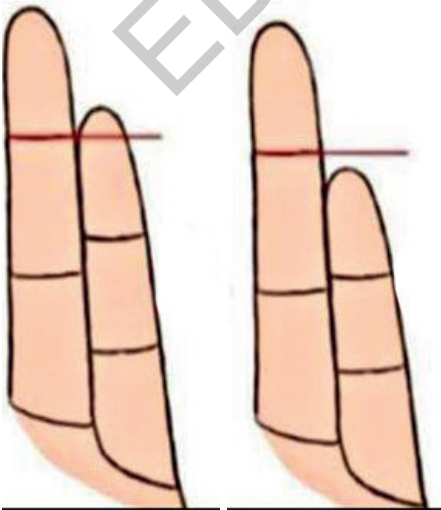
A)



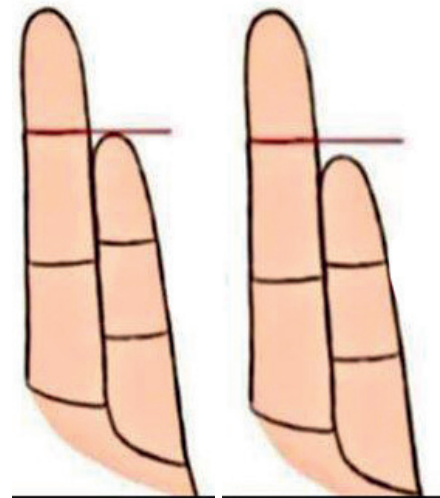
B)



C)



D)



13 ve 14. soruları aşağıdaki metne göre cevaplayınız.

Kendisi de şeker hastası olan genç mekatronik mühendisi, kan olmadan şeker ölçümü yapan bir cihaz icat etti. Normalde kan şekeri, parmaktan alınan kan stripleriyle ölçülüyor. Diatech adı verilen cihaz, kandaki şekeri ölçmek için özel bir dalga boyunda ışık kullanıyor. Genç Türk mühendis tarafından geliştirilen proje, diyabet hastalarının büyük ölçüde ihtiyacını karşılayabilir.

Kansız ve acısız bir biçimde kan şekerinizi ölçebileceğiniz diatech, ölçüm yapmak için ışık yolunu kullanan yerli bir üründür. Diyabet hastalarının kan ölçümleri için parmaklarını delme zorunluluğunu ortadan kaldıran bu ürün, cep telefonlarına bluetooth üzerinden bağlanarak istatistik tutabilmesi ve bu verileri bluetooth tabanlı bir sistemde depolayabilmesiyle diğerlerinden ayrılıyor. Bu da tüm verileri sürekli olarak gözlemleyebilmenize ve doktorunuzla daha iyi iletişim kurup daha sağlıklı sonuçlar elde etmenize olanak sağlıyor.

**13 Diatech adı verilen cihazla ilgili;**

- I. Şeker ölçümünde kullanılan geleneksel cihazlardan farklı olduğu
- II. Pahalı olduğu
- III. Özel bir dalga boyunda ışık kullanarak kan şekerini ölçtüğü
- IV. Verileri depolayabilmeye imkân sağladığı

**yargılarından hangilerine ulaşılabilir?**

- A) I ve II                      B) I ve III  
C) I, III ve IV                D) I, II ve III

**14 Diatech adlı cihazı diğer cihazlardan ayıran özellik aşağıdakilerden hangisidir?**

- A) Diyabet hastalarının büyük bir ihtiyacını karşılaması  
B) İstatistik tutabilmesi ve bu istatistikleri depolayabilmesi  
C) Pratik bir kullanıma sahip olması  
D) Yerli bir ürün olması

15 ve 16. soruları aşağıdaki metne göre cevaplayınız.

Yeni yapılan bilimsel çalışma, iklim değişikliğinin güneşteki ısı değişimlerinden çok fazla etkilenmediğini gösterdi. Elde edilen bulgular, geçmişte sıcak ve soğuk hava periyotlarının uzunluğunun, güneş aktivitesindeki dalgalanmalardan kaynaklandığını belirten bilimsel görüşü altüst etti. Araştırma, 1800 yılına kadar gerçekleşen son 1000 yıllık iklim değişikliğinde ana etkenin volkanik patlamalar olduğunu gösterdi. Volkanik patlamalar güneş ışınlarının dünyaya erişmesini engelleyerek havanın kurumasına ve soğumasına neden oluyor. 1900'den beri ise Sanayi Devrimi'yle artışa geçen sera gazları, iklim değişikliğinin birinci sebebinin oluşturuyor.

**15 Bu parçadan hareketle aşağıdakilerden hangisine ulaşamaz?**

- A) Yapılan çalışmalarla daha önceleri kabul gören bir bilimsel görüş çürütülmüştür.  
B) Volkanik patlamalar iklim değişikliğinde etkili olmaktadır.  
C) Güneşte ısı değişimleri olmaktadır.  
D) İklim değişikliği nedeniyle sera gazlarında bir artış olmuştur.

**16 Parçaya göre aşağıdakilerden hangisi iklim değişikliğinin temel sebepleridir?**

- A) Volkanik patlamalar ve sera gazları  
B) Güneş aktivitesindeki dalgalanmalar  
C) Sıcak ve soğuk hava periyotlarının uzun sürmesi  
D) Atmosferde meydana gelen inceleme

26

İstanbul'da, Kıbrıs'tan göç eden bir ailenin çocuğu olarak dünyaya geldi.

1943

1959

"Millî Türk Talebe Birliđi Tiyatrosu"nda sahneye adım attı. Bu tiyatrodaki tanıştığı Meftin Akpınar ile ayrılmaz bir ikili hâline geldi.

1965

"Ulvi Uraz Tiyatrosu"nda sahnelenen "Hababam Sınıfı" oyunu ile üne kavuştu.

1972

"Sev Kardeşim" filminde canlandırdığı avukat rolüyle sinemaya giriş yaptı.

2015

Tedavi gördüğü hastanede 8 Mayıs'ta hayatını kaybetti.

**ZEKİ ALASYA**

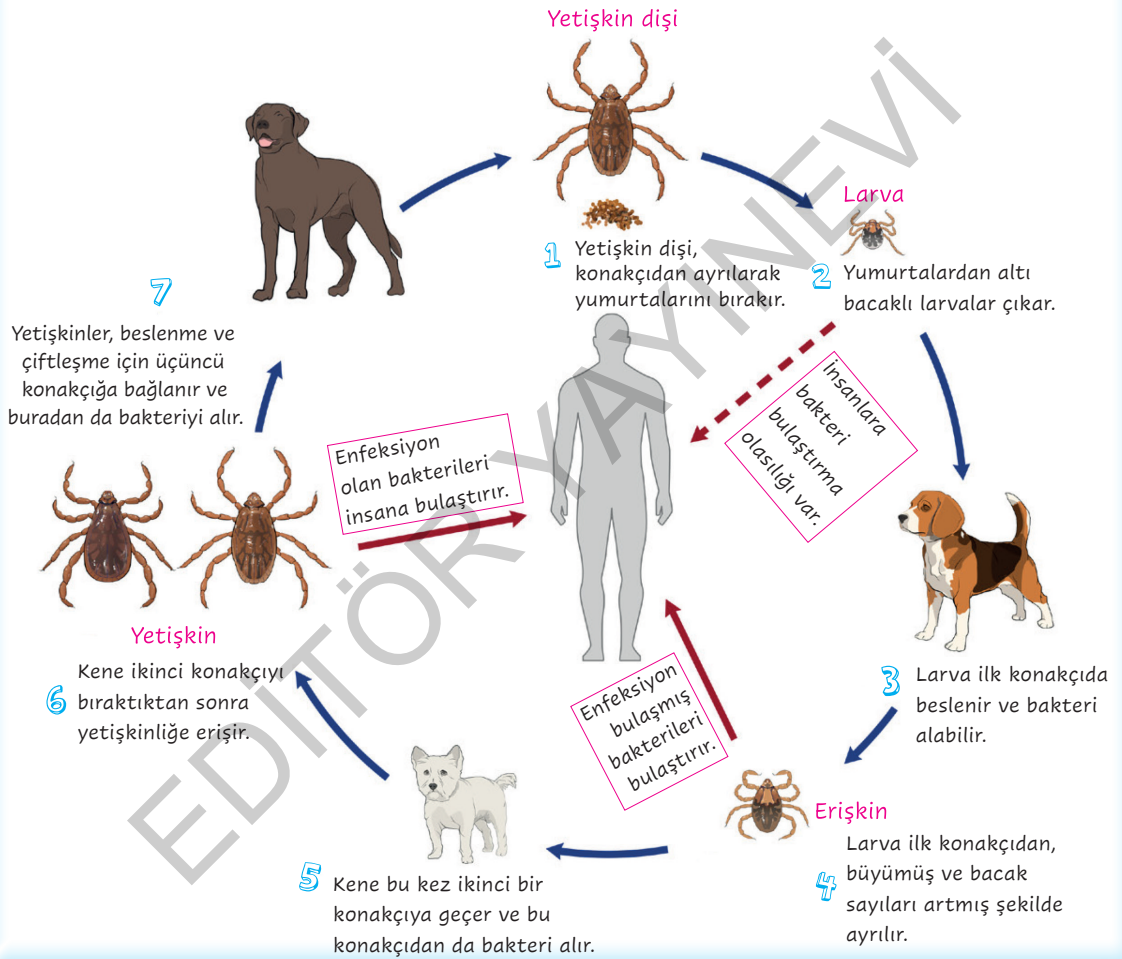
**Bu metinden hareketle Zeki Alasya ile ilgili olarak aşağıdakilerden hangisine ulaşılabilir?**

- A) Tiyatroya atılıp başarılı olmasını sağlayan Meftin Akpınar'dır.
- B) Tiyatroya sinemadan önce başlamıştır.
- C) Birçok tiyatro oyunu yazıp bu oyunlarda roller almıştır.
- D) Tiyatro eğitimi vererek birçok ünlü tiyatrocunun yetişmesini sağlamıştır.



15

## Kahverengi Köpek Kenesinin Yaşam Döngüsü



**Görselle ilgili olarak aşağıdakilerden hangisine ulaşamaz?**

- A) Kenenin yumurtadan çıktıktan sonraki bacak sayısında artış ilk konakçıdan sonra görülür.
- B) Yetişkin dişi kene, konakçının üzerinde beslenir ve daha sonra burada çiftleşerek yumurtalarını bırakır.
- C) Erişkin ve yetişkin keneler, enfeksiyon kapmış bakterileri insanlara bulaştırır ama larvalar için böyle bir durum kesin değildir.
- D) Kenelerin larva dönemindeki bacak sayıları ile yetişkin dönemdeki bacak sayıları aynı değildir.

- 6 Akıllı telefonlarda kullanılan fotoğraf makineleri hem kalite hem de özellik açısından (tarafından) I inanılmaz boyutlara ulaştı. Akıllı telefonlarınkiler kıyasla (göre) devasa sayılabilecek büyüklükte II olan dijital SLR fotoğraf makinelerinin pek çok işlevini, akıllı telefonlarla yapmamız artık mümkün. Buna paralel (aynı doğrultuda) olarak, akıllı telefonların yarı profesyonel ihtiyaçlar için kullanımı her geçen gün (gün geçtikçe) artıyor. IV

**Bu parçadaki numaralanmış sözlere hangi anlamı, ayrıca içinde verilen açıklamayla uyuşmamaktadır?**

- A) I B) II C) III D) IV

- 7 Düşüncelerimizi, yazı ile derli toplu anlatmalıyız. Yukarıdaki cümlede altı çizili sözle yakın anlamlı olan bir söz aşağıdaki cümlelerin hangisinde vardır?
- A) Depremde yaşadıklarını düzenli bir şekilde aktarmıştı.  
B) Konser sonrası bol bol sohbet etmiştik.  
C) Bunların hepsini birden alırsak kârlı çıkarız.  
D) Tatil anılarını en ince ayrıntısına kadar yazdı.

- 8 I. En büyük zenginlik, insanın sahip olduklarıyla yetinmesidir.  
II. Zengin olmayanlar yetinmeyi de bilmezler.  
III. Elindekiyle yetinmeyi bilen insandan daha zengini yoktur.  
IV. İnsan daha fazlasını istemeden ilerleyemez.
- Yukarıdaki numaralanmış cümlelerden hangileri anlamca birbirine en yakındır?**
- A) I ve II B) I ve III  
C) II ve IV D) III ve IV

- 9 - 11. soruları aşağıdaki metne göre cevaplayınız.

Dünyanın karasal yüz ölçümünün sadece %7'sini (toplam yüz ölçümünün %2'sini) kaplamasına rağmen, dünya üzerindeki canlı türlerinin yarısından fazlası yağmur ormanlarında yaşar. Yağmur ormanları tropik ve ılıman bölge yağmur ormanları olmak üzere iki türdür.

Tropik ormanlar zengin bir biyoçeşitliliğe sahip ekosistemlerdir. Deniz seviyesinden itibaren 3000 metre yüksekliğe kadar olan, sıcaklığın görece yüksek ve yıl boyunca neredeyse sabit kaldığı bölgelerde bulunurlar. Tropik yağmur ormanlarının tropik ormanlardan farkı, aldıkları yıllık yağış miktarının metrekare başına 1500 milimetreden fazla olmasıdır.

İlman bölge yağmur ormanları ise yıllık ortalama sıcaklığı 0°C'nin üzerinde olan bölgelerde bulunur ve tropik yağmur ormanlarına benzer şekilde yıllık yağış miktarının yüksek olduğu alanlardır.

Dünya üzerindeki bitki türlerinin yaklaşık üçte ikisi yağmur ormanlarında bulunur. Günlük hayatta kullandığımız birçok ürünün (örneğin kakao, kahve, orkide, kauçuk) kaynağı yağmur ormanlarıdır. Sadece yağmur ormanlarında yetişen bitkilerden elde edilen bazı maddeler, ilaç üretiminde kullanılır.

- 9 Yağmur ormanlarıyla ilgili aşağıdakilerden hangisine ulaşamaz?

- A) Çeşitli türleri bulunmaktadır.  
B) Canlı çeşitliliğinin fazla olduğu yerlerdir.  
C) Bazı bitkiler dünya üzerinde sadece bu ormanlarda yetişmektedir.  
D) Dünya üzerindeki en gür ormanlardır.

- 10 Bu parçada aşağıda verilen anlatım türlerinden hangisi ağır basmaktadır?

- A) Öyküleme B) Betimleme  
C) Açıklama D) Tartışma



24 ve 25. soruları aşağıdaki metne göre cevaplayınız.

Bir gün Nasrettin Hoca, caminin bahçesinde oturan kalabalık bir topluluğun karşısına çıkarak “Ey ahali, beni dinleyin! Size ahlak ve maneviyatın önemini anlatacağım.” demiş. Konuşmaya başlamış fakat kısa bir süre sonra ahali onu dinlemeyip kendi aralarında sohbe dalmışlar. Bunun üzerine Hoca, “Yalnız iki kelimecik söyleyeceğim.” demiş ve hemen bir hikâye anlatmaya başlamış: Vaktiyle bir delikanlı, Niğde’den Kırşehir’e gitmek için bir eşek kiralamış. Eşeğini kiraya veren adamla -aynı yere işi düştüğü için- beraber yola çıkmışlar. Konuşa konuşa giderken öğle sıcağı basmış. Biraz dinlenmek ve öğle yemeği yemek için birlikte bir su başına çökmüşler. Ama ortalıkta gölge edecek bir şey olmadığı için eşeğin sahibi, eşeğinin yaptığı gölgeye sığınmış. Eşeği kiralayan genç buna içerlemiş, “Sen çekil, ben oturacağım oraya!” demiş. Öteki ise ne münasebet, eşek benim, deyince eşeği kiralayan “İyi ama onu ben kiraladım!” diye itiraz etmiş. Diğeri “Ben eşeği kiraya verdim, gölgesini değil!” diye devam etmiş. Derken aralarında kavga çıkmış. Sözü burasına gelince Hoca yerine oturmuş. Ahali merakla “Ee, sonra ne olmuş, söylesene Hoca, sonra ne olmuş?” diye bağrışmaya başlayınca, tekrar ayağa kalkmış: “Ey ahali! Sizin iyiliğiniz için laf edeyim dedim dinlemediniz de bir eşeğin gölgesini merak ediyorsunuz, bu ne iştir!”

**24 Parçada aşağıdakilerden hangisine yönelik bir eleştiri yapılmıştır?**

- A) Topluluk karşısında konuşma kurallarına uyulmamasına
- B) Bilgiye değil gereksiz ayrıntılara önem verilmesine
- C) Yapılan bir anlaşmaya uyulmamasına
- D) Konuşma yapan kişiye saygısızlık yapılmasına

**25 Nasrettin Hoca ile ilgili;**

- I. Karşılaştığı topluluğa öğretici bilgiler vermek istemiştir.
- II. Kalabalığın dikkatini çekmeyi başarmıştır.
- III. Cami bahçesindeki topluluğa ders vermiştir.

**yargılarından hangilerine ulaşılabilir?**

- A) I, II ve III
- B) I ve II
- C) I ve III
- D) II ve III

26



**Görseli en iyi yansıtan metin aşağıdakilerden hangisidir?**

- A) Yaşlı kadının amacı, caminin arka tarafındaki karmaşıklığından kurtarmaktı. Bu amaçla dalmıştı o karmakarışık otların arasına. Topladıkları önemliydi. Hepsini birer altın değerindeydi.
- B) Eski bir kilisenin bahçesinden sorumluydum. Bahçedeki yabancı otları temizler, ağaçların bakımını yapardım. Yanımda da küçük çelimsiz bir kız çalışırdı. Her zaman dediğimi yapar, hiç sözümden çıkmazdı.
- C) Küçük bir çocuktum. Evimizin bahçesini çok seviyordum. Arkadaşlarımla birlikte bahçenin altını üstüne getirirdik. Bu durum çok eğlenceliydi. Yaptıklarımızdan dolayı pişman değilim, bugün olsa yine yapardım. Sonuçta bunlar benim güzel anılarım.
- D) Yabancı otlara olan ilgim her geçen gün artıyordu. Dağlarda geziniyor, gördüğüm her otu topluyordum. Topladığım tüm otları biriktirmeye karar verdim ve hepsini evimin bodrum katına yığdım.

**11 Yulaf tanelerinin genellikle öğütülerek, ezilerek ya da kırılmış bir şekilde tüketilmesinin nedeni aşağıdakilerden hangisidir?**

- A) Yapısı nedeniyle pişirilmesinin uzun zaman alması
- B) En sağlıklı tüketimin bu şekilde olması
- C) Yoğurt ya da süte katılmasını kolaylaştırması
- D) İçinde bulunan lifin yüzde 45 oranında çözünmemesi

**12 Hakkından fazlasını isteme, sonra elindekileri de kaybedersin.**

**Bu cümledeki düşünce aşağıdaki sözlerden hangisini akla getirir?**

- A) Hak deyince akan sular durur.
- B) Dilencinin torbası dolmaz.
- C) Dağda gez, belde gez; doğruluğun elde gez.
- D) Deve boynuz ararken kulaktan olmuş.

**13 Mademki tatlı dil, her kapıyı açan sihirli bir anahtardır; öyle ise ne duruyoruz, dilimizi tatlılaştırılmı diyeceksiniz? Ama bu ha deyince olacak işlerden değildir. Gönülleri fetheden tatlı dil, bütün gücünü gönülden alır. İnsanın dilinin tatlı olması için gönülünün tatlı, iyi olması gerekir. ---- İnsanı belki kısa bir zaman içinde aldatır ama çabucak da foyası meydana çıkar. Gerçek tatlı dil iyi insanda olur. Yüreği merhametle, sevgi ile dolu insanın dili de kendiliğinden tatlılaşır. Bu dünyada gönül yıkmanın, kalp kırmanın beyhudeliğini anlayacak kadar olgun bir hayat anlayışına varmalı ki insan, en küçüğünden en büyüğüne kadar tatlı dille, güler yüzle seslenebilsin.**

**Düşüncenin akışına göre bu parçada boş bırakılan yere aşağıdaki cümlelerden hangisi getirilmelidir?**

- A) İnsan gönülden geçtiği gibi konuşmalı, sevdiklerinden tatlı dilini esirgememelidir.
- B) Ancak bazı iyi kalpli insanlar da tatlı dilin önemli olduğunun farkında değildir.
- C) İnsan ilişkilerinde samimiyete önem vermeli, içinden geldiği gibi konuşmalıdır.
- D) Kötü bir adamın dökeceği tatlı dil, tilkinin kargaya döktüğü tatlı dil gibidir.

**14 - 16. soruları aşağıdaki metne göre cevaplayınız.**

1986'da yaşanan "Çernobil Nükleer Faciası"ndan sonra binlerce insan, nükleer serpinti nedeniyle bir daha dönmek üzere evlerini terk etti. Bölgede yeni yapılan bir araştırmaya göre Çernobil'de Kanada geyiği, kızıl geyik, karaca, yaban domuzları ve kurtların sayısında artış var. Elde edilen bulgular vahşi yaşamın kendi hâline bırakıldığında eski hâline döndüğünü gösteriyor.

Çernobil'de kaza öncesinden daha fazla bir vahşi yaşam gözlemlendi. Bu durum radyasyonun vahşi yaşam için iyi olduğunu göstermiyor ancak insan yaşamının, avcılık, çiftçilik, ormancılık faaliyetlerinin veya daha kötüsünün etkilerini ortaya koyuyor. İnsan faktörü ortadan kalkınca vahşi yaşamda nasıl bir gelişme meydana geleceği bu araştırmayla gözler önüne seriliyor.

**14 Bu parçadan hareketle Çernobil Nükleer Faciası ile ilgili;**

- I. Ne zaman yaşandığı
- II. Neyin sebep olduğu
- III. Etkilerinin neler olduğu
- IV. Ne kadar insanın öldüğü

**sorularından hangilerine cevap verilebilir?**

- A) I ve II
- B) I ve III
- C) II ve IV
- D) III ve IV

**15 İnsanların evlerini terk etmesinin nedeni aşağıdakilerden hangisidir?**



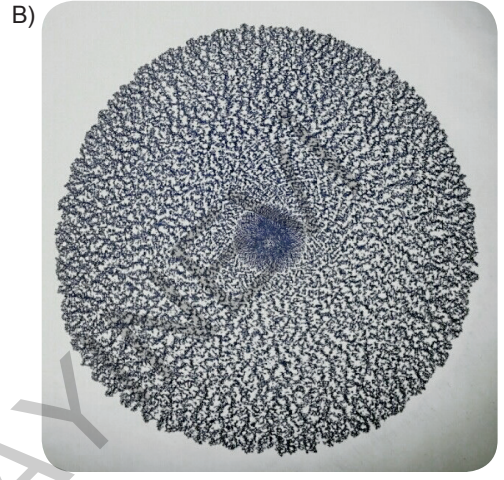
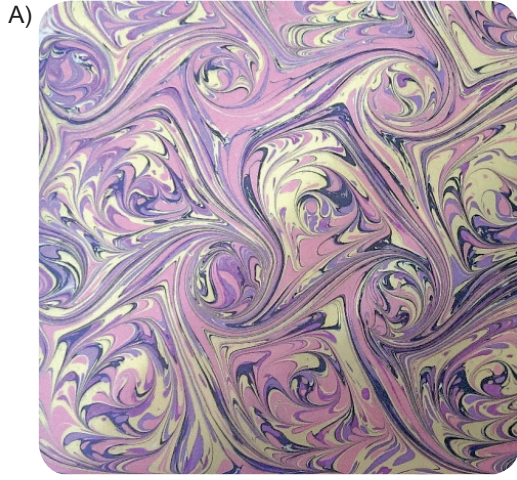
- A) Yaban hayatının faciadan zarar görmesi
- B) Ekonomik sorunların ortaya çıkması
- C) Nükleer serpintinin olması
- D) Çiftçilik ve ormancılık faaliyetlerinin yapılamaması

**16 Bu parçadan hareketle aşağıdaki yargılardan hangisine ulaşılabılır?**

- A) İnsan faaliyetleri, doğal yaşamı olumsuz etkilemektedir.
- B) Hayvanlar radyasyondan etkilenmemektedir.
- C) İnsan faaliyetlerinin olmadığı yerlerde doğal yaşam gerilemektedir.
- D) Çernobil'de bazı hayvan türlerinin sayısı artarken bazılarının sayısı azalmaktadır.

- 9 Teknedeki sıvı kullana kullana kirlenerek öyle bir kıvama gelir ki atılan boyalar istense de istenmese de kum gibi nokta nokta bir görüntü almaya başlar. Sadece kumlu ebru yapımına battal ebru ile başlanmaz. Bir damla-lıkla tekneye yakın mesafeden aynı nokta veya noktalara boya damlatılır. Boya yayılmaya başlar. Atılan battal ebruya bir biz (tığ) daldırılır ve bütün tekne, birbirine paralel hareketlerle aşağı yukarı veya sola sağa gezilir. Ortaya çıkan gelgit ebruya çizgileri dik olarak kesecek şekilde tekrar aynı gelgit işlemi uygulanırsa buna da taramalı ebru denir. Taramalı ebru da bir gelgit ebru çeşididir.

Aşağıdakilerden hangisi bu metinde sözü edilen motiflerden biri değildir?



10

- I. Şikâyet ettiğiniz yaşam, belki de başkasının hayalidir.
- II. Bizi mutlu eden şeyler başkasını mutsuz edebilir.
- III. Hayattan ne istediğimizi bilmemiz gerekir.
- IV. Sahip olduğumuz şeylerin kıymetini bilmeliyiz.

Yukarıdaki numaralanmış cümlelerden hangileri anlamca birbirine en yakındır?

- A) I ve II                      B) II ve III                      C) I ve IV                      D) III ve IV

17 Aşağıdaki atasözlerinden hangisi “bir işe girmeden önce her şeyin en ayrıntılı biçimde düşünülmesi gerektiğini” ifade eder?

- A) Bin merak, bir borç ödemez.
- B) Bir musibet bin nasihatten iyidir.
- C) Ağılda oğlak doğsa ovada otu biter.
- D) Bin ölçüp bir biçmeli.

18 Uzun süredir romanlar üzerinde çalışıyorum. Nice romanı, yazar olarak titizlikle inceleyerek okudum. Bu çalışmalarımın sonunda “Bir romanın büyüklüğü nasıl anlaşılır?” sorusuna yanıt buldum. Sorarım “Hangi romanı okuduktan sonra bir kez daha okuma gereksinimi duyduunuz?”

**Bu parçaya göre yazarın “büyük roman” ölçütü aşağıdakilerden hangisidir?**

- A) Yazarının ününü sürdürmesi
- B) Yeniden okuma isteği uyandırması
- C) Romanın ilk günkü değerini koruması
- D) Geniş bir okuyucu kitlesini ilgilendirmesi

19 Semtin sırtlarında bir yerdeyim. Rüzgârın serinliğini, saatin tik taklarını, bir sineğin uçuşunu duyabiliyorum gün ortasında bile, öyle sessiz. Evden çıkıp yürüyerek aşağıya, sahile indiğimde canlı bir İstanbul köyündeyim. Tepedeki kalabalık yerleşim bölgesinin ötelere doğru yürüdüğümde ise kuş sesleriyle dolu bir ormana varıyorum. Zümrüt vadilerin göz alabildiğine uzandığı; servilerin, söğütlerin arasından uzak, kırmızı çatıların görüldüğü henüz yağmaya uğramamış topraklara...

**Yukarıdaki parçanın anlatımıyla ilgili aşağıdakilerden hangisi söylenemez?**

- A) Birden fazla duyuya seslenen ayrıntılara yer verilmiştir.
- B) Betimlemeler nesnel bir yaklaşımla yapılmıştır.
- C) Anlatım, birinci kişinin ağzından aktarılmıştır.
- D) Yansıma sözcükten yararlanılmıştır.

20 Fırsat, ilkin alınıdaki perçemini gösterir, yakalamazsan kafasının dazlak yanını çevirir ya da ilkin testinin kulpunu uzatır, sonra tutulması güç olan karnını çeviriverir. Bir işe zamanında başlamaktan, zamanında iş yapmaktan daha büyük bir erdem yoktur.

**Yukarıdaki parçayı anlam yönünden en iyi biçimde özetleyen cümle aşağıdakilerden hangisidir?**

- A) Her işin kendine özgü tehlikeleri vardır.
- B) Elimizden kaçan fırsatları düşünüp yılgınlığa düşmemeliyiz.
- C) Aşırı kaygılı insanlar her zaman başarısız olurlar.
- D) Başarmak, ele geçen fırsatın vaktinde değerlendirilmesine bağlıdır.

#### ÇIKMIŞ SORU

21 Koca bir ömür yaşamış tecrübeli insanlar, gençlerin umursamaz hareketlerini gördükçe onlara “---” diye nasihat etmekten geri durmazlar. Ama kaç genç bu sözün önemini kavrayabilir? Hâlbuki hayat ilerledikten sonra insanların duydukları birçok pişmanlık, gençlikte bile bile kaybettikleri imkânlar yüzündendir.

“O zamanlar niçin daha çok okumadım? Niçin daha çok çalışmadım?” diye dizlerini döven insanlara hayatta çok rastlanıyor. Bu insanların neden bu kadar üzüldüklerini gençler anlamasa bile feleğin çemberinden geçmiş yaşlılar çok iyi anlıyor.

**Bu metinde boş bırakılan yere düşüncenin akışına göre aşağıdakilerden hangisi getirilmelidir?**

- A) Büyüklerin sözünü dinleyin
- B) Elinizdeki olanakların kıymetini bilin
- C) Geçmişe takılıp kalmayın, geleceğe odaklanın
- D) Hayatta hep mutlu olmaya çalışın

- 8 5N 1K başlarda daha çok habercilikte kullanılan bir yöntem günümüzde birçok alanda kullanılmaktadır. Eğitimde de yöntem ve değerlendirme süreçlerinde kullanılmaktadır. 5N 1K yöntemi öğrencilerin bir olayı ya da bir kavramın anahtar noktalarını “Kim?, Ne?, Nerede?, Ne zaman?, Nasıl?, Niçin?” soruları ile ayrıntılı bir biçimde düşünüp ortaya koymasına olanak sağlar.

**Bu açıklamaya göre aşağıda verilen gazete haberlerinin hangisinde “Ne?, Ne zaman?, Nerede?” sorularının yanıtı bulunmaktadır?**



- 9 Eleştiri kelimesinden anladığımız sadece yeni çıkan eserler üstüne fikir veren, onlara değer biçen yazılar değildir; okurların kestireceği herhangi bir değer yargısı üzerine sistemli bir düşünme sonucu yazılmış eleştirel yazılardır.

**Aşağıdakilerden hangisinde “kestirmek” sözcüğü parçadaki anlamıyla kullanılmıştır?**

- A) Bebeğin sütünü limon sıkarak kestirdi.  
B) Gözüne kestirdiği ne varsa hepsini aldı.  
C) Rahmi, kanepenin köşesine büzülmüş kestiriyordu.  
D) Sözün nereye gideceğini kestirememiştir.

- 10 Evet, yaşayışım huyumcadır. İçimden gelmiyorsa yazı yazmaya bile katlanamam. Hoşlanmadığım bir insanla oturup çene yarıştırmam. Dahası, canım istemiyorsa en sevdiğilerimden bile iki kelamı esirgerim. Keyfime göre dost tutar ya da bozuşurum. Birçoğu beni bencillikle, kendini beğenmişlikle suçlar, doğrudur. Kendini beğenmişlere, bencillikle karşı koyarım. Gerçekte dikbaşı görünüşüm, hak bellediğim ilkelere sıkı sıkıya bağlantılıyım. Benim kabalaştığım kişiler; şiire, resme, heykele, sinemaya sırt çevirenler, sözde sanatçılardır.

**Bu parçada konuşan kişi altı çizili sözlerle kendine yönelik olarak neyi belirtmiştir?**

- A) İnsanları küçük gören biri olduğunu  
B) Bazı zamanlar iletişime girmek istemediğini  
C) Bazılarını kendine eş değer görmediğini  
D) Yalnızlıktan mutluluk duyduğunu

- 11 Babam, İstanbul'un Anadolu yakası doğumluydu. Benim şairlikte ilk öğretmenimdi, diyebilirim. Dedemle beraber, Anadolu insanının bitmez tükenmez acılarına yakından tanık olmuştu. Anadolu halkının dil, düşünce, hayat gerçeklerini iyice ---- babam. Onları her yönüyle benimsemişti. Günlük konuşmalarında halktan kopuk değildi ama dil bilgisi konularında yetersiz kalıyordu bence.

**Bu parçada boş bırakılan yere aşağıdakilerden hangisi getirilmelidir?**

- A) içine sindirmişti  
B) gözden çıkarmıştı  
C) göze almıştı  
D) diline dolamıştı

24



Aşağıdaki dizeler konuları bakımından bu görsellerle eşleştirildiğinde hangisi dışta kalır?

A) Evlerinin içi ayna döşeli

Ayna hatıra gözler ve sevmek

Benim aşkı bin bir köşeli ah bin bir köşeli

Bir köşe gidince bin köşe yeniden gelecek

Ayna hatıra gözler ve sevmek

B) Seher vakti habersizce girdi gara ekspres

kar içindeydi

ben paltomun yakasını kaldırmış perondaydım

peronda benden başka da kimseler yoktu

durdu önümde yataklı vagonun

C) Uçmakta, konmadan, kıyırsız bir denizde ruh;

Benzer mi böyle bir kuşa Tufan içinde Nuh?

Üstünde gök, sürekli bulutlarla, yüklüdür

Altında gür deniz ki ezelden köpüklüdür.

D) Akşam, güneş artık deniz ufkunda silindi,

Hulya gibi yalnız gezinenler köye indi

Ben kaldım, uzaklarda günün sesleri dindi

Gönlümle, hayâlet gibi, ben kaldım o yerde

25

Konya'nın gölleri ve akarsuları, Anadolu'nun ve dünyanın en önemli tatlı su balığı yaşam alanlarından biridir. Konya ili balık çeşitliliği bakımından benzersizliği ile dünya çapında çok önemli bir yere sahip. Bu balıkların bazılarının boyları çok küçük olup bu türler en az kaplanlar ve pandalar kadar tehlike altındadır. Beyşehir sirazi, kızılkanat, yağ balığı ve kaya balığı bunlardan bazılarıdır.

Yukarıdaki parçanın anlatım özellikleriyle ilgili aşağıdakilerden hangisi söylenemez?

A) Karşılaştırmalar yapılmıştır.

B) Örneklerden yararlanılmıştır.

C) Açıklayıcı anlatım türü kullanılmıştır.

D) Mecaz anlamlı kelimeler yoğunluktadır.

6



**Serumun içeriğini merak eden bir kişi, bilgi deposunda numaralandırılmış ifadelerden hangilerini okumalıdır?**

- A) I ve IV                      B) I ve II                      C) III ve IV                      D) II ve III

7

Öznel anlatım, kişisel görüşler içerir. Nesnel anlatım ise kişisel görüşlerden uzak, kanıtlanabilir yargılarla oluşturulur.

**Bu açıklamaya göre aşağıdaki medya metinlerinin hangisinde öznel bir anlatıma başvurulmuştur?**

- A) Sincaplar buldukları tohumları ileride çıkarıp yemek için değişik yerlere gömerler. Bazı tohumların yerlerini unuttukları için hiç farkında olmadan her yıl binlerce ağaç dikerler.
- B) Alexander Graham Bell'in gömüldüğü gün ABD telefon sistemi ona saygı göstermek için bir dakikalığına kapatılmıştır.
- C) Üzerinde durduğunuz yer kabuğunun binlerce kilometre altında, gezegenimizin merkezinde, uydumuz Ay'ın üçte ikisi büyüklükte bir demir çekirdek vardır. Sıcaklığı 5700 dereceyi bulan katı haldeki demir çekirdeğin çevresinde, sıvı halde demir ve nikel karışımından oluşan 2000 km kalınlığında bir katman daha vardır.
- D) Moskova'daki Kızıl Meydan'ın simgesi hatta Rusya denince akla ilk gelen görüntülerden biri Aziz Basil Katedrali'nin rengârenk kubbeleridir. Rus İmparatoru Korkunç İvan tarafından 1555-1560 yılları arasında yaptırılan bu katedral, bir dini yapıdan çok bir eğlence parkını akla getiriyor.

27

<p>1 Tüm uyarıları okuyun.</p>	
<p>2 Yaş tavsiyesini takip edin.</p>	
<p>3 Ambalajların hepsini oyuncaktan ayırın.</p>	
<p>4 Oyunağın talimatlarını takip edin.</p>	
<p>5 Çocuklar oynarken gözünüz onlarda olsun.</p>	

Çocuğunun yaşına göre oyuncak alan bir anne hangi talimatı dikkate almalıdır?

A) 2

B) 3

C) 4

D) 5

### ÇIKMIŞ SORU

- 28 Avustralya'da yaşayan Rebecca isimli bir kadın, dünyada sadece 80 kişide görülen "süper otobiyografik hafıza"ya sahip. Rebecca, bugüne kadar yaşadığı en önemsiz olayları bile gayet net hatırlayabiliyor. Çocukken okuduğu kitapların hemen hepsini cümlesi cümlesine ezbere anlatabiliyor. Çoğu insanın gıpta edebileceği bu yetenek, sonradan olumsuz bir duruma dönüşebiliyor. Yeni şeyler öğrenme konusunda zaman zaman güçlükler çeken Rebecca, hatıralarıyla baş etmekte zorlanıyor. Bu özel durum, yeni öğrenmelere yer açan unutkanlığın ne kadar güzel olduğunu gösteriyor.

**Bu medya metninin yazılış amacı aşağıdakilerden hangisidir?**

A) Olay yorumlama – Bilgi aktarma

B) Bilgi aktarma – İkna etme

C) Kültür aktarma – Olay yorumlama

D) İkna etme – Kültür aktarma



8 Bu, Roma'ya üçüncü gelişimdir. Ama Roma, orada doğup orada büyüyenler için bile bitmez. Her heykel, her tablo, her anıt; size her görünüşünde güzelliğin yeni bir sırrını açacaktır. Roma'da heykel, vatandaş olmuştur. O, müzede değil, bizim gibi sokaklarda dolaşiyor, meydanlarda geziniyor, parklarda dinleniyor! Sabahleyin ağızdan sular dökülen aslanları seyrederek Doney'e gittim. Burası, büyük otellerin, şık mağazaların ve camlarından hare hare sular akan çiçeklerin sıralandığı büyük bir cadde üstünde, Via Veneto'da bir kahvedir ama Mehmet Âkif'in "Mahalle Kahvesi" değil, bir temizlik ve zarafet sergisi...

**Yukarıdaki parçada kaç tane fiilimsi kullanılmıştır?**

- A) 5      B) 6      C) 7      D) 8

9



1



2



3



4

**Yukarıdaki uyarı levhalarında kullanılan fiilimsiler için hangisi söylenemez?**

- A) Levhaların tümünde fiilimsi bulunmaktadır.  
B) Üç fiilimsi türüne ait örneği de levhalarda göstermek mümkündür.  
C) 4 numaralı levhada birden fazla fiilimsi vardır.  
D) 1 ve 2 numaralı levhalarda aynı türden fiilimsiler yer almaktadır.

10

Kâmil iken cahil ettim alimi  
Vahşi iken yahşi ettim zalimi,  
Yavuz iken zebun ettim Selim'i,  
Her oyunu bozan gizli zor benim...

**Hangi seçenekte, yukarıdaki dörtlükte yer alan altı çizili fiilimsi ile aynı türde bir fiilimsi bulunmaktadır?**

- A) Yeryüzünde ben ürettim veremi.  
Lokman Hekim bulamadı çaremi.  
Aslı için kül eyledim Kerem'i.  
İbrahim'in atıldığı kor benim...
- B) Sebep bazı Leyla bazı Şirin'di  
Hatırım için yüce dağlar delindi  
Bilek gücüm Ferhat ile bilindi  
Kuvvet benim, kudret benim, fer benim
- C) İlahimle Mevlana'yı döndürdüm.  
Yunus'umla öfkeleri dindirdim.  
Günahımla çok ocaklar söndürdüm.  
Mevlâ'danım; hayır benim, şer benim...
- D) Benim için yaratıldı Muhammed.  
Benim için yağdırıldı o rahmet.  
Evliyanın sözündeki muhabbet,  
Enbiyanın yüzündeki nur benim.

11

- I. Meşe ağacından yapılmış sağlam gövdesi ile ürünümüz dayanıklıdır.  
II. Bu muhteşem ürünün temizliği için sadece nemli bir bez kullanmak yeterli olacaktır.  
III. Paslanmaz çelik kulplara sahip bu ürüne ücretsiz kargo imkânı ile kavuşabilirsiniz.  
IV. Üstelik bu harika ürünü 12 aya varan taksit seçenekleri ile satın alabilirsiniz!

**Yukarıdaki ürün tanıtımında numaralandırılan cümlelerin hangisinde diğerlerinden farklı türde bir fiilimsi kullanılmıştır?**

- A) I      B) II      C) III      D) IV

8 - 10. soruları aşağıdaki cümlelere göre cevaplayınız.

1. Yılanın başı küçükken ezilir.
2. Acemi katır kapı önünde yük indirir.
3. Öfke baldan tatlıdır.
4. İyilik eden iyilik bulur.
5. İnsanın canı, acıyan yerindedir.
6. Her yiğidin bir yoğurt yiyişi vardır.

8 Verilen atasözleri ögelerine ayrılarak aşağıdaki sorulara cevap verilecektir.

Yalnızca özne ve yüklemden oluşan atasözü / atasözleri hangileridir?

Sözde öznenin kullanıldığı atasözü / atasözleri hangileridir?

Üç öğe eden oluşan atasözü / atasözleri hangileridir?

Zarf tamlayıcısının kullanıldığı atasözü / atasözleri hangileridir?

**Buna göre hangi atasözü, bu sorulardan herhangi birinin doğru cevabı olamaz?**

- A) 1      B) 2      C) 5      D) 6

9 Verilen atasözlerinden hangilerinde ikiden fazla öge bulunmaktadır?

- A) 1, 4 ve 5      B) 2 ve 6  
C) 1, 2, 3 ve 4      D) 1, 2 ve 3

10 “Bir cümlede yüklem çekimli bir eylemden oluşabileceği gibi çekimli bir addan da oluşabilir.”

**Bu bilgiye göre atasözleri listesi incelendiğinde hangi sonuca ulaşmak mümkündür?**

- A) 2 ve 5 numaralı atasözlerinin yüklemeleri aynı sözcük türlerinin çekimi ile oluşmuştur.  
B) Çekimli addan oluşan yüklemeler ile çekimli eylemden oluşan yüklemeler sayıca eşittir.  
C) 3 ve 6 numaralı atasözlerinin yüklemeleri farklı sözcük türlerinin çekimi ile oluşmuştur.  
D) Çekimli addan oluşan yüklemeler, çekimli eylemden oluşan yüklemelerden azdır.

11 Tarık Öğretmen, öğrencilerinden içinde yüklemi olmayan cümle örneği olan paragraflar bulmalarını ister.

**Buna göre aşağıdaki seçeneklerde verilen metinlerden hangisi Tarık Öğretmen’in istediği türde bir paragraf değildir?**

- A) Sırtüstü uzanıp gözlerimi Keşiş Dağı'nın üzerinde parlayan yıldızla diktim. Kenan'ın yıldızı bu, birlikte seçmiştik. Yıldızla baka baka geçen günleri düşündüm. Geçen yazı, ırmakta tuttuğumuz balıkları, aşağı mahalleyi 6-2 yendiğimiz maçı...  
B) Sohbetimizin orta yerinde akşam ezanı okunuyor. Kısacık bir şarkı gibi... Kızıl, mavi, mor ve güzel bir şarkı... Ardından kapımızın zili çalıyor. Kuşlar havalanıyor, ben zıplıyorum. Babam gelmiş.  
C) Gölün suyu azaldı. Çevresi kıraç, yaşanmaz bir hâl aldı. İnsanlardan bazılarının yaptıklarının cezasını o bölgedeki bütün insanlar çekiyor şimdi. Yazın o sıcak günlerinde başlarını sokacak küçücük bir gölge bulamamanın hüznüyle ter döküyorlar...  
D) Gözlerimi açtığımda başucumda bir paket... Üzerinde bir kâğıt var. Babamın yazısı bu. Uykulu gözlerle okuyorum, “Çok sevdiğim oğluma, hediye.” yazıyor kâğıdın üzerinde. Boğazıma bir şeyler düğümleniyor.

9 - 11. soruları aşağıdaki metne göre cevaplayınız.

(1) Evimiz sokağın başında. (2) Yatıp kalktığım odanın penceresinden bakınca, bir baştan bir başa bütün sokağı görüyorum. (3) Bir saat sonra yola çıkacağım. (4) Odamda öteberi eşyayı bavulumla yerleştirmiş doğruluyordum ki sokaktan gelen bir çocuk ağlaması beni pencerenin önüne çekti.

(5) Çocukların ağlamasına dayanamam. (6) Bir fena olurum, duydum mu. (7) Çocuklar boş yere ağlamaz. (8) Şu dünyada çocukların ağlaması ne kadar azalır bilin ki kötülükler o kadar azalmıştır. (9) Ağlayan bir çocuk sesi duyar da ilgilenirseniz bilin ki şu bozuk düzenin sizi üzecek bir olayıyla karşılaşacaksınız.

9 Metindeki cümlelerden hangisi yüklem yeri bakımından diğerlerinden farklıdır?

- A) 1 B) 4 C) 6 D) 9

10 Metindeki cümle türleri ile ilgili olarak hangisi doğrudur?

- A) 2. cümle, birden fazla yargı bulunan olumlu bir fiil cümlesidir.  
B) 3. cümlenin içinde birden fazla yargı bulunmaktadır.  
C) 5. cümle olumlu, kurallı, fiil cümlesidir.  
D) 7 ve 8. cümlede yargı sayısı birden fazladır.

11 Metindeki numaralandırılmış cümlelerden hangilerinde birden fazla yargı yoktur?

- A) 1, 2 ve 5 B) 1, 3 ve 7  
C) 3, 4 ve 7 D) 2, 5 ve 6

12 “Yazar edebî türlerdeki eserlerini dört kitapta toplamamış.” cümlesinin olumlu soru hâli aşağıdakilerden hangisidir?

- A) Edebî türlerdeki eserlerini dört kitapta yazar toplamamış mı?  
B) Edebî türlerdeki eserlerini dört kitapta yazar mı toplamamış?  
C) Yazar edebî türlerdeki eserlerini dört kitapta toplamış.  
D) Yazar edebî türlerdeki eserlerini dört kitapta toplamış mı?

13 Aşağıdakilerin hangisinde verilen dizeler tek yargı bildirmektedir?

- A) Ne zaman seni düşünsem  
Bir ceylan su içmeye iner.  
B) Bir dala konmuştu karga cenapları;  
Ağzında bir parça peynir vardı.  
C) Benim bu gidişe aklım ermiyor,  
Fukara hâlini kimse sormuyor.  
D) Aydınlıklar, esenlikler, mutluluklar  
Hiçbiri gözlerin kadar anlamlı değil.

14 “Uyanın kuşlar!” diye bağırdım. Hey, bütün kuşlar uyanın! Hiçbirinden ses yoktu.

Uyanın da size mavi gökleri anlatayım. Güneşin sıcaklığını, derelerin şırıltısını... Size sabahın buğusunu, dağlardaki ateşi, yapraktaki teri anlatayım. Bütün bunlar dışarıda sizi bekliyor. Hey kuşlar, başınızı kaldırın!

Metindeki cümle türlerini tespit ederken hangi seçenek kullanılamaz?

- A) Emir cümlesi / Olumlu cümle  
B) İstek cümlesi / Eksiltili cümle  
C) Uyarı cümlesi / Devrik cümle  
D) Ünlem cümlesi / Olumsuz isim cümlesi

5 Mehmet amca, 21 Mart 1963 yılında Anadolu'nun şirin bir köyünde doğmuş. Köyünden ayrılıp İstanbul'un göbeğindeki bu mahalleye geleli hemen hemen yirmi yıl olmuş. Geldiği günden beri de gerek dürüstlüğü gerek yardımseverliği ile mahal-  
lelinin göz bebeği olmuş. Kendisi son beş yıldır mahallemizde manavlık yaparak geçimini sağlıyor. Ben de onu tanımaktan, komşu olmaktan mutluluk duyuyorum.

**Bu metinde aşağıdaki anlatım bozukluklarından hangisi yapılmıştır?**

- A) Deyim yanlışlığı
- B) Özne-yüklem uyumsuzluğu
- C) Çatı uyumsuzluğu
- D) Öge eksikliği

6 Güzel bir sabah. Kuşlar cıvılcıvılcıvı ötüyorlar. Kuşların korosunu dinleyerek balkonumda tek başıma oturuyorum ve bu satırları yazıyorum. İnsanın her şeye kırıldığı anlar gelip geçicidir. Benimkiler de gelip geçti. Mazinin yaralarını unutmaya kararlıyım.

**Yukarıdaki metinde hangi kurala aykırı bir kullanım söz konusudur?**

- A) İnsan dışındaki varlıkların çoğul şekilleri özne olduğunda yüklem daima tekil olmalıdır.
- B) Çoğul anlamı taşıyan bir sıfattan sonra gelen ad tekil olmalıdır.
- C) Cümledeki ögeler arasında veya kelime grupları arasında bazen dil kurallarının bilinmemesinden kaynaklanan uyumsuzluklara dikkat edilmelidir.
- D) İçinde fiilimsi bulunan cümlelerde veya sıralı cümlelerde aynı özneyi alan yüklemelerin her ikisi de etken veya her ikisi de edilgen olmalıdır.

7 "....." cümlesinde özne ile yüklem arasında tekil-lik-çoğulluk uyumu yoktur. Çünkü özel durumlarda dışında, özne tekilse yüklem de tekil; özne çoğulsa yüklem de çoğul olur. Yukarıdaki cümlede bir çokluk ifade eden "birçoğu" belgisiz zamirinden sonra yüklem tekil kullanılması gerektiği gözden kaçmıştır.

**Yukarıda verilen boşluğa aşağıdaki cümlelerden hangileri getirilmelidir?**

- A) Bir insan için güzel olanın, daha birçoğu için de güzel olması pek muhtemeldir.
- B) Birçoğu yıllardır emek verdiğimiz bu işin önemini kavramıyorlar.
- C) Yine içimizden birçoğu, güzelliği kendi gözleriyle değil başkalarının gözlerine inanarak kabul etmek ister.
- D) Birçoğu onu memleketin mukadderatına yabancı bulmuştur.

8 Nesnenin eksik ya da yüklemelerin tümüne uygun kullanılmaması anlatımı bozar.

**Aşağıdaki cümlelerin hangisinde bu durumu örnekleyen bir anlatım bozukluğu vardır?**

- A) Bağına, bahçene, suyuna, toprağına veda ederek geri gidiyorum.
- B) Gazetelerin yazdıklarına inanmıyor fakat okumaktan da geri kalmıyordu.
- C) Kadri o adamlardandır ki iyi davranmaya, yüz vermeye gelmez.
- D) Baygın da olsa yabancı bir kadını böyle kucağında tutmak ona pek ayıp bir şey gibi geldi.

5 ve 6. soruları aşağıdaki metne göre cevaplayınız.

İnsanlar vardır, yemeği tadına varamadan hızla tüketir ya da asansörün gelmesi için birkaç dakika bekleyeceği yerde derhal merdivenlere yönelir, hem de ışınlanmışçasına çıkarak... Nereye yetişmeye çalıştıkları sorusunun cevabı "Yaşamın amacı ölümdür." ilkesinde bulunabilir. Bir başka deyişle, bu insanlar yaşamlarını bir an önce bitirme ve ölüme ulaşmak istercesine tüketme eğilimindedirler. Gerçekten de içinde buldukları anı yaşamayan ve yaşama etkin bir biçimde katılmayan insanlarda ölüm korkusu oldukça yaygındır.

5 Bu parçadaki altı çizili kelimelerle ilgili, aşağıdaki tablonun hangi satırında yanlış işaretleme yapılmıştır?

	I	II	III	IV	V	VI	VII
A) Sıfat-fiil görevinde kullanılan			✓				
B) Zarf-fiil görevinde kullanılanlar		✓					✓
C) İsim-fiil ekiyle kalıcı isim hâline dönüşen	✓			✓			
D) İsim-fiil görevinde kullanılan					✓	✓	

6 Metindeki "Bir başka deyişle, bu insanlar yaşamlarını bir an önce bitirme ve ölüme ulaşmak istercesine tüketme eğilimindedirler." cümlesiyle ilgili aşağıdakilerden hangisi söylenemez?

- A) Birden fazla yan cümlecigi vardır.
- B) Yüklemi isimden oluşmuştur.
- C) İçinde fiilimsi bulunan cümledir.
- D) Üç fiilimsi türüne de örnek vardır.

7 ve 8. soruları aşağıdaki metne göre cevaplayınız.

(I) Cimri adamın biri, tüm mal varlığından emin olmak için her şeyini satar ve altına çevirip bir yere gömer. (II) Gönlünü de altınlarla birlikte gömdüğünden her gün gelip toprağı kazarak altınlarıyla hasret giderir. (III) Bu hareketi, işçilerinden birinin dikkatini çeker. (IV) Efendisini takip ederek altınların yerini öğrenen işçi, bir gece altınları çalar. (V) Cimri adam, ertesi gün altınlarının yerinde yeller estiğini görünce dövünür, ağlayarak saçını başını yolar. (VI) Onu böyle perişan gören komşusu "Ne ağlıyorsun be adam? Bir taş alıp aynı çukura koy ve o taşın altınların olduğunu düşün. Nasıl olsa kulanmayacaksın." der.

7 Parçada aşağıdakilerden hangisi yoktur?

- A) Zarf-fiil
- B) Sıfat-fiil
- C) Kurallı cümle
- D) Devrik cümle

8 Parçadaki IV numaralı cümle, aşağıdakilerin hangisinde öğelerine doğru bir şekilde ayrılmıştır?

- A) Efendisini / takip ederek / altınların yerini / öğrenen işçi / bir gece / altınları / çalar.
- B) Efendisini takip ederek altınların yerini öğrenen / işçi / bir gece / altınları / çalar.
- C) Efendisini takip ederek altınların yerini öğrenen işçi / bir gece / altınları / çalar.
- D) Efendisini takip ederek / altınların yerini öğrenen işçi / bir gece / altınları çalar.

13 Adlaşmış sıfat-fiil kavramını tanımlayacak olursak, “sıfat-fiil eklerinden birini alan fiil kök veya gövdelerinin, kendisinden sonra gelen isimleri yutarak onların yerini tutması” diyebiliriz. Yani sıfat-fiillerin, kendisinden sonraki ismi içine almasıdır. Adlaşmış sıfat-fiiller, adlaşmış sıfatların bir türüdür. Normalde sıfat-fiillerden sonra mutlaka bir isim gelmelidir. Fakat adlaşmış sıfat-fiillerde bu isim kaybolur.

**Bu açıklamaya göre aşağıdaki cümlelerin hangisinde adlaşmış sıfat-fiil kullanılmıştır?**

- A) İyi aileden gelme çocuk.
- B) Çok geçmeden odaya çevredeki komşular dolmaya başladı.
- C) Perihan nine evde kalacak, baklava açacak, dolma yapacaktı.
- D) Galiba en küçükleriydi çaresiz hastalığa yakalanan.

14 “Kitapta yazılanlara inanmak, inanmamaktan çok daha kârlıdır.” cümlesi; “kârlıdır” yüklemi isim olduğu için yüklem türüne göre isim cümlesi, yüklem sonda olduğu için yüklem yerine göre kurallı cümledir.

**Bu bilgiye göre aşağıdakilerden hangisi kurallı bir isim cümlesidir?**

- A) Bu başın bir kadına değil, bir hamala ait olduğuna inanmak zor değildi.
- B) Dostumuza güvenmeyelim de düşmanımıza mı güvenelim?
- C) Bilgin’in bu çekingen tavırlarını kusurlu ve zayıf oluşuna verdi.
- D) Sesimi duyan Ayça da geliyor yanıma, kardeşinin tersine ilgiyle sokuluyor bana.

15 “Sevgili Behçet Necatigil, şiirimizin vazgeçilmez ışıklarından biri olarak ayrıldı aramızdan.”

**Bu cümlenin öge dizilişi aşağıdakilerin hangisinde sırasıyla verilmiştir?**

- A) Özne - Nesne - Yer tamlayıcısı - Yüklem
- B) Özne - Yüklem - Yer tamlayıcısı
- C) Özne - Zarf tamlayıcısı - Yüklem - Yer tamlayıcısı
- D) Nesne - Zarf tamlayıcısı - Yüklem - Yer tamlayıcısı

16 “Bizim şairlerimiz sanatın sanat için olduğuna inanırlar.” cümlesinde “inanmak” sözcüğü çekimli fiildir ve cümlenin yüklemidir. “Dile kolaydı; o yandan bu yana hayatı monotonlaşmış, yirmi yılı inanılmaz bir sakinlik içinde geçirmişti.” cümlesinde “inanılmaz” sözcüğü fiil anlamını korumakla birlikte kendisinden sonra gelen ismi nitelediği için sıfat-fiildir.

**Buna göre aşağıdakilerin hangisinde sıfat-fiil kullanılmamıştır?**

- A) Karısının bu ikinci ihtarı ile biraz bozulan adam salıncaktan atladı.
- B) O romanlarda kırılan, atılan yerler var mıdır?
- C) Biçare adam on günde limon sarısına dönmüş, incelmış, bitmiş.
- D) Aşağıda daimi akislerle seslenen gürültülü, derin yarlar tehlike hissini kalbimizden ayırmıyordu.

17 **Aşağıdaki cümlelerden hangisinin yüklemi geçişli olduğu hâlde cümlede nesne kullanılmamıştır?**

- A) Döndüğümde karımın mezarını dolduran otları, baldıranları kendi elimle ayıkladım.
- B) Yasak oyunum bu rejimde aklandı, Ulvi Uraz onu ramp ışığına çıkardı.
- C) Gençlerin tenkitlerini gördü, yeni çıkardıkları edebiyat tarihlerini karıştırdı.
- D) Bütün gece uyumadan okudu.

18 **Aşağıdaki cümlelerin hangisinde üç farklı türde fiilimsi kullanılmıştır?**

- A) Genellikle bağda bahçede olan kadınlar; fırsat bulunca bir araya geliyor, oturup laflıyorlardı.
- B) Uzun süren çalışmalardan sonra devrilen traktörün altından çıkarılan Ali, artık yaşamıyordu.
- C) Kumsalda güle oynaya müzik dinlemek, her sabah yaptığı bir işti.
- D) “Bundan sonra hiçbir şey eskisi gibi kalmayacak!” derken sesinin kademeli olarak yükselmesi bilinçli bir reklam numarası gibi, âdeta bir sihirbazın ‘prestij’ manevrasını sunması gibiydi.

19 - 21. soruları aşağıdaki metne göre cevaplayınız.

(I) Gecenin geç saatlerinde, her şeyin sustuğu, havanın durulduğu anlarda bir köşeye çekilip şiir okurum. (II) İçime dolan mısralarda, atan kalbini duyarım onların. (III) Bu duyuş, beni benden alır, götürür. (IV) Kapalı pencereler ansızın açılır, uyuklayan perdeler uçuşmaya başlar. (V) Odaya taze bir ışık dolar, ilkbahar meltemiyle birlikte. (VI) Bu dünyadan değilmişim gibi hafif ve huzurlu bulurum kendimi.

En çok şairlerim beni bu saatlerde çağırırlar. İşte yıllardır okuduğum şiirler... Her defasında başka görünüyorlar, insanı alıp götürmesini biliyorlar. Ne var bu şiirlerde? Neden çevremdeki sınırlar birden böyle akıverdi, bilmiyorum. Yalnız onlarda sessizliğin verdiği bir şey var. Belli ki bu şiirler sessizlikten doğmuşlar, onun için de bu kadar sonsuzluğa gidiyorlar.

Şairin içi de odası gibi sessizlikle dolunca uyuklayan her şey uyanır, o zamana kadar bilinmiyen bir varlığı yaşamaya koyulur. Sandalye üzerinde unutulmuş bir mektup, bir köşeye atılmış bir oyuncak, saatin çalışması, havada perde perde sönüşü insanlık macerasını anlatan birer şiire döner.

Gürültü, insanın kendini kaybettiği yerde başlar, bulduğu yerde biter. Bu yerde, dakikalar saat yelkovanının ötelinde akar, görünen şeyler görünmez olur ama için için duyulur. İşte şiirin iklimi budur. Biliyorum, kendi dışlarında yaşayan bazı kişiler "Yine mi fildişinden kule!" diyecekler. Bunlar, kendi içlerinde yaşayan şairleri, insanlardan, onların alın yazısından kopmuş sanacak kadar uykudadırlar. Tabiat sevgisinin, insan sevgisinin, Allah sevgisi gibi derinleşen bir sessizlik ve yalnızlık içinde gelişip serpiştiğini görmezler.

19  → İçinde fiilimsi bulunan cümle

→ Devrik cümle

☆ → Tek yargı bildiren cümle

△ → Öznesi isim-fiille oluşmuş cümle

▽ → Birden çok yüklemlili cümle

Metindeki numaralanmış cümleler, yukarıdaki simgelerle belirtilen özelliklere göre aşağıdaki tabloda sınıflandırılmıştır.

**Bu bilgilere göre tablonun hangi satırında doğru bir sınıflandırma yapılmıştır?**

	<input type="checkbox"/>	<input type="radio"/>	☆	△	▽
A)	I-II-III	II-V-VI	V-VI	III	III-IV
B)	II-III	I-IV-VI	V-VI	III	I-IV
C)	III-IV	I-V-VI	V	II-III	II-V
D)	III-IV	II-V	I-VI	III	I-VI

20 Metnin ikinci paragrafındaki altı çizili cümlede bulunan anlatım bozukluğu, aşağıdaki değişikliklerin hangisi yapılarak giderilebilir?

- A) "çağırırlar" sözcüğündeki çokluk takısı atılarak  
 B) "en çok" sözü "beni" sözcüğünden sonra getirilerek  
 C) "Şairlerim" sözü cümlenin başına getirilerek  
 D) "saatlerde" sözcüğü yerine "vakitlerde" sözcüğü getirilerek

21 Metnin üçüncü ve dördüncü paragraflarındaki altı çizili sözlerden hangisinde yazım yanlışı yapılmıştır?

- A) içi de  
 B) her şey  
 C) bilinmiyen  
 D) Yine mi

17 “İzleyicilere duygulu sözlerle hitap ettikten sonra selamladı ve salondan çıktı.” **cümlesindeki anlam bozukluğunun nedeni aşağıdakilerden hangisidir?**

- A) Özne eksikliği
- B) Özne-yüklem uyumsuzluğu
- C) Yer tamlayıcısı eksikliği
- D) Nesne eksikliği

18 “İyi bir cümlede gereksiz sözcük bulunmaz. Bunu şöyle anlayabiliriz: Cümleden bir sözcüğü attığımızda cümlenin anlam ve anlatımında bir daralma oluyorsa o sözcük gerekli, olmuyorsa gereksizdir.”

**Buna göre aşağıdakilerden hangisi iyi bir cümle değildir?**

- A) Neşeli, sağlıklı, şen bir görünüşü vardı.
- B) Yağmur, sabaha kadar aralıksız yağdı.
- C) Bütün gün tarlada hiç ara vermeden çalıştık.
- D) Doğadaki canlılar üzerinde sayısız inceleme yapıldı.

19

- I. Kâğıtların hepsini torbaya koyduk.
- II. Âşıklar sazlı sözlü atışiyordu.
- III. Annem bize kızdığı için bütün gün söylendi.
- IV. Yanımızdan büyük bir öfkeyle geçip gitti.

**Yukarıda numaralanmış cümlelerde aşağıdaki eylem çatılarından hangisinin örneği yoktur?**

- A) Etken
- B) Edilgen
- C) Geçişli
- D) Geçişsiz

20 Soğuk bir kasım sabahı ayrıldım baba ocağından, çaresizce.

**Bu cümlenin öge dizilişi aşağıdakilerin hangisinde doğru verilmiştir?**

- A) Zarf Tamlayıcısı - Yer Tamlayıcısı - Yüklem - Zarf Tamlayıcısı
- B) Zarf Tamlayıcısı - Yüklem - Yer Tamlayıcısı - Zarf Tamlayıcısı
- C) Yüklem - Yer Tamlayıcısı - Zarf Tamlayıcısı
- D) Zarf Tamlayıcısı - Yüklem - Yer Tamlayıcısı

21 (1) Faruk Nafiz Çamlıbel, Beş Hececiler’in önde gelen şairlerindedir. (2) Heceyi ve aruzu ustaca kullanmış; hikâye, roman ve tiyatro türünde eser vermiştir. (3) Anadolu’nun gerçeklerini konu alan şiirler yazarak “memleket edebiyatı” anlayışına öncülük etmiştir. (4) Aşk, tabiat sevgisi, vatan ve millet aşkı en çok işlediği temalardır.

**Faruk Nafiz’in anlatıldığı numaralanmış cümlelerden hangisi yapısına göre diğerlerinden farklıdır?**

- A) 1
- B) 2
- C) 3
- D) 4

22 **Aşağıda verilen cümlelerin hangisinde çatı özelliği aranmaz?**

- A) İş görüşmesi yapmak için başvuruda bulundu.
- B) Annesinin kendisine verdiği yüzüğü kaybetmişti.
- C) Sakin kafayla düşünerek ne yapacağına karar verdi.
- D) Bu sırrını paylaşabileceği kimse yoktu.



4

- I. Babasıyla arasında gizli bir anlaşma vardı.
- II. Herkesin onu dinlediğini görünce arkasına yaslanıp kendinden gayet emin bir tavırla elindeki verileri sıraladı.
- III. Nitekim çocuklarımin bile kullandıkları hesap makineleri, bunların küçük modelleridir.
- IV. Kafam her an bir konu bulmak için bin bir çeşit şeye müracaat ediyor.

**Yukarıda verilen cümlelerin hangilerinde çatı özelliği aranmaz?**

- A) I ve II                      B) I ve III  
C) II ve III                    D) II ve IV

5

- I. Salondaki gülüşmeler buradan duyuluyor.
- II. Akla sığmaz kahramanlıklar gösteriyor.
- III. Romanım bitince size gönderirim.

**Bu cümlelerdeki altı çizili sözcükler için aşağıdakilerden hangisi söylenemez?**

- A) Fiil kökünden türemişlerdir.  
B) Yan cümlecik kurmuşlardır.  
C) Eylemsi türündelerdir.  
D) Aynı tür eylemsilerdir.

6

Bir ülkenin gelişmişlik düzeyini, o ülkedeki bebek ölümlerinin sayısına bakarak anlayabiliriz.

**Bu cümlelerin öğeleri, aşağıdakilerin hangisinde doğru sıralanmıştır?**

- A) Belirtili nesne, yer tamlayıcısı, yüklem  
B) Yer tamlayıcısı, zarf tamlayıcısı, yüklem  
C) Zarf tamlayıcısı, belirtili nesne, yüklem  
D) Belirtili nesne, zarf tamlayıcısı, yüklem

7

Ey, bu topraklar için toprağa düşmüş asker!  
Gökten ecdâd inerek öpse o pâk alnı, değer.  
Sana dar gelmeyecek makberi kimler kazsın?  
“Gömelim gel seni tarihe” desem, sığmazsın!

**Yukarıdaki dördlükte kaç tane fiilimsi kullanılmıştır?**

- A) 4                      B) 3                      C) 2                      D) 1

8

(I) İnsanlar arasında anlaşmayı sağlayan bir araçtır dil. (II) Dil olmadan insanların birbirleriyle iletişim kurması çok zordur. (III) Dil; sözcüklerden, söz gruplarından oluşan canlı bir varlıktır. (IV) Bu yüzden, dilden söz edebilmemiz için sözcüğün olması şarttır.

**Bu parçadaki numaralanmış cümlelerle ilgili olarak aşağıda verilenlerden hangisi yanlıştır?**

- A) I. cümle olumlu, devrik, isim cümlesidir.  
B) II. cümle olumsuz, fiil cümlesidir.  
C) III. cümle kurallı, isim cümledir.  
D) IV. cümle olumlu, kurallı cümledir.

9

Üniversitedeyken yazdığım bir şiiri dün gece okudum, gençliğimi yaşattı bana.

**Bu cümledeki anlatım bozukluğunun nedeni aşağıdakilerden hangisidir?**

- A) Özne eksikliği  
B) Nesne eksikliği  
C) Yer tamlayıcısı eksikliği  
D) Ek eylem eksikliği

- 15 Gökyüzünde uçan kuşlara baktıkça kendini özgür hissediyordu ( ) Alabildiğine mavi ( ) alabildiğine uçsuz ve bucaksız ( ) Beyaz bulutlar arasında yaşamak, gri beton yığınları arasında yaşamaktan çok daha güzel olmalıydı ( )

**Yukarıdaki parçada yay ayrıçlarla ( ) belirtilen yerlere sırasıyla aşağıdaki noktalama işaretlerinden hangileri getirilmelidir?**

- A) (.) (,) (... ) (.) B) (.) (,) (.) (!)  
C) (:) (,) (... ) (.) D) (.) (,) (!) (...)

16

- Sayılardan sonra sıra bildirmek için kullanılır.
- Tarihlerin yazılışında gün, ay ve yılı gösteren sayıları birbirinden ayırmak için kullanılır.
- Kitap, dergi vb.nin künyelerinin sonunda kullanılır.

**Aşağıdaki cümlelerin hangisinde noktanın (.) bu işlevlerinden herhangi birinin örneği yoktur?**

- A) Bu kaçınıcı senesiydi vefatının bir türlü hatırımında tutamam.  
B) Türkçe Sözlük (2005). Ankara: TDK Yayınları  
C) Okuduğumuz metnin 4. paragrafındaki altı çizili tamlama isim tamlamasıdır.  
D) Bir milattı o tarih: 01.09.1991.

- 17 Aşağıda verilen cümlelerin hangisinde sayıların yazımıyla ilgili bir yanlışlık yapılmıştır?

- A) Salonda yer kalmayınca izleyiciler bazı koltuklara ikişerli oturmuşlardı.  
B) Ünlü atlet, yarışı 2'inci sırada bitirince hepimiz çok şaşırдық.  
C) 17 Ağustos'ta büyük bir felaket yaşamıştık.  
D) Bu akşam yürüdüğü mesafe 10 kilometreydi.

- 18 Sanatçı kendi dönemini bilmeli (I) çağdaşlarının özelliklerini tanımalı (II) kuşaklar arasında köprü kurup (III) geleceğe uzanmalı (IV) üslubunu halkın anlayacağı tarzda şekillendirmelidir.

**Yukarıdaki parçada numaralanmış yerlerden hangisine virgöl getirilemez?**

- A) I B) II C) III D) IV

#### ÇIKMIŞ SORU

- 19 Aşağıdaki cümlelerin hangisinde noktalama işaretlerinin kullanımıyla ilgili bir yanlışlık yapılmıştır?

- A) Hey, Gebzeli Hasan! Bu çayların parasını kim ödeyecek?  
B) Nükhet'in en büyük korkusu, samimi olduğu ve kendisini yanlarında huzurlu hissettiği insanlardan uzun süre ayrı kalmaktı.  
C) Zeki (!) çocuk tüm parasını bir günde bitirdi, ayın geri kalanını harçlıksız geçirdi.  
D) Hep beklenmedik zamanlarda gelir, planlarımı, çabalarımı boşa çıkarırdı.

- 20 Aşağıdaki cümlelerin hangisinde üç nokta (...) işareti yanlış kullanılmıştır?

- A) Annesinin öğütleri bitmiyordu: Çalış, erken kalk, erken gel...  
B) Sonra alabildiğine uzanan yemyeşil bir ova...  
C) ... derken savaş alanında gezen İhsan Çavuş duyduğu bir iniltiyle durakladı.  
D) Bundan böyle, ben bu evin hiçbir işine karışmam...

9



**Kerim AKAN**  
@akan\_kerim

İstanbul Marmara Üniversitesi Türkçe Öğretmeni

Tempo, AZ Ocak 2011 tarihinde katıldı

2.554 Takip edilen 41 B Takipçi

Takip ettiğin kimse tarafından takip edilmiyor

**Tweetler** Tweetler ve yanıtlar Medya

**Kerim AKAN** @akan\_kerim  
Gidip de gelmemek var, gelip de görmemek var.

**Yakup Yavuz** @yvz\_yvz  
Başlıyan kışla beraber tüm yapraklar döküldü.

**Niyazi Mercan** @mercan\_0  
İşlerini bırakmışlar, dükkânlarını kapamışlar, akın akın şehri terkedip gidiyorlardı.

**Yiğit ALP** @ygt\_alp  
Şiirimiz milletimizin Anadolu'daki teşekkülü ile başlar.

**İremnur DEMİR** @demir\_irem  
Bakalım Mevla'm neler eyler, ne eylerse güzel eyler.

**Görselde verilen kişilerden hangisinin atması olduğu tweette yazım yanlışı vardır?**

- A) Kerim Akan ve Yakup Yavuz  
B) Niyazi Mercan ve Yakup Yavuz  
C) Yiğit Alp ve İremnur Demir  
D) Kerim Akan ve Yiğit Alp

10

(I) Şu an durduğum rafın önünde genelde yalnızca ben olurum. (II) Kitapçının sahibi Mükerrer Bey önemli bir işi yoksa "Yine mi yayımlamadı şah eserini köftehorlar?" diye yanıma gelir; sırtımı iki sıvazlar, saçlarımı eliyle dağıtıp "Olacak, olacak sakın vazgeçme!" der. (III) Her ayın son cuma akşamı tekrarlanır bu sahne. (IV) Yeni çıkmış bir kitabı raflarda bulamayan bir müşteri keyfimizi kaçırana değin, Mükerrer Bey'le dergilerin sayfalarını karıştırırız. (V) Bir şiirim ilk kez yayımlandığında yaşadığım mutluluğu, Mükerrer Bey'e sarılışımı, onunsa "Bunu ıslatalım evlat!" diyip bana oralet ismarlayışını hep anımsarım.

**Bu parçada numaralanmış cümlelerin hangilerinde yazım yanlışı vardır?**

- A) I ve III B) II ve V  
C) III ve IV D) III ve V

11

Düzeltilme işareti; nispet ekinin, belirtme durumu ve iyelik ekiyle karışmasını önlemek için kullanılır.

**Buna göre aşağıdaki cümlelerin hangisinde düzeltilme işaretinin kullanımıyla ilgili yanlıştır?**

- A) Herkes, vicdan, dinî inanç ve kanaat hürriyetine sahiptir.  
B) Fizik ilmi mekanik, ısı, ışık, elektrik ve manyetizma bölümlerine ayrılır.  
C) Kâmuran hemen hemen resmî tavırla hafifçe eğildi.  
D) Sonra subay salonunda, askerî okul yargıcının karşısına çıkardılar.

12

- I. Kapının zincirini salıvererek kanadı arkasına kadar açtı.  
II. Bunun içindirki dal budak saldı, yemiş vermeye başladı.  
III. Bir takım resmi sıfatlı insanlar onun varlığını lüzumsuz ilan ettiler.  
IV. Gece sabaha kadar düşündüğü şeyleri babasına anlatmak isterdi.

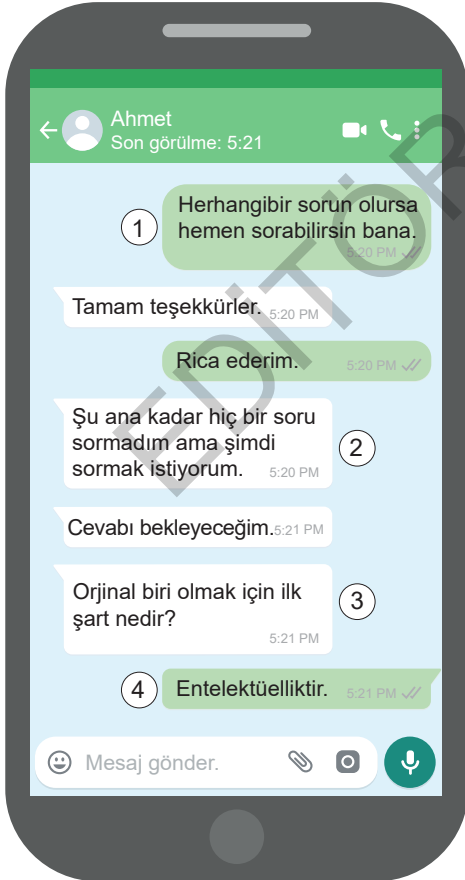
**Numaralanmış cümlelerin hangisinde yazım yanlışı yoktur?**

- A) I B) II C) III D) IV

12 Aşağıdaki cümlelerin hangisinde bir yazım yanlışı yoktur?

- A) Minik kedisi "boncuk" kaybolmuş.
- B) Karanfil caddesinde yeni bir dükkân açmış.
- C) Iraklı çocuklar ülkemizi ziyarete gelecek.
- D) Sosyal sigortalar kurumuna dilekçe yazdım.

13



Bu yazışmada numaralanmış bölümlerin hangisinde bir yazım yanlışı yoktur?

- A) 1
- B) 2
- C) 3
- D) 4

14

- I. Sabahleyin 08.30'da görüşelim.
- II. Gerçekleri Mehmet Bey'den öğrendik.
- III. İzmirli bir tanıdığımız vardı.
- IV. Türkiye'nin Kuzeyi ormanla kaplıdır.

Yukarıdaki numaralandırılmış cümlelerin hangisinde bir yazım yanlışı vardır?

- A) IV
- B) III
- C) II
- D) I

15 Aşağıdaki cümlelerin hangisinde virgül kaldırılsa cümlenin anlamı değişir?

- A) Kitap, yazarını kısa sürede meşhur etti.
- B) Kardeşim, yeni aldığı oyuncacı çok seviyor.
- C) Misafirler, bizde üç gece kalacakmış.
- D) Yaşlı adam, fırının önünde otobüs bekliyor.

16 Zehra: "Urfa'ya, peygamberler şehrine, yarın gideceğim." Bu cümlede virgül ara sözü belirtmek için kullanılmıştır.

Metin: "Çocuk, kıyafetlerini dolabına güzelce koydu." Bu cümlede virgül anlam karışıklığını gidermek için kullanılmıştır.

Zeynep: "Kır atın yanında duran ya huyundan ya suyundan ..." Üç nokta tamamlanmamış bir cümlenin sonunda kullanılmıştır.

Mert: "Arkadaşım sınıfın en zeki (!) öğrencisidir." Ünlem işareti; heyecan, korku bildirmek için kullanılmıştır.

Hangi öğrencinin verdiği bilgi ile kullandığı cümle uyuşmamaktadır?

- A) Mert
- B) Zeynep
- C) Metin
- D) Zehra

## ÇIKMIŞ SORU

17 1897 yılının Nisan ayı başlarında Ömer Şevki bey, oğlunu o günlerde subay çocukları için açılan Eyüp Sultan Askerî lisesinde özel bölüme yatılı olarak yerleştirir. Yeni usule göre öğretim yapılan bu okul da eğitim dili Fransızcaydı.

**Bu metinde aşağıdakilerin hangisiyle ilgili bir yazım yanlışı yapılmamıştır?**

- A) Kişi adlarından önce ve sonra gelen unvanlar, saygı sözlere  
B) Belli bir tarih bildiren ay ve gün adları  
C) Bulunma durum eki "-da, -de"nin yazımı  
D) Kurum, kuruluş ve kurul adları

18

- I. Çetin oniki yaşına girdi.  
II. TBMM'ne dilekçe vereceğim.  
III. 1973'de büyük bir deprem olmuş.  
IV. Rüzgâr kuzeydoğudan esiyor.

**Yukarıdaki numaralanmış cümlelerin hangisinde altı çizili sözcük doğru yazılmıştır?**

- A) I      B) II      C) III      D) IV

19 **Aşağıdaki cümlelerin hangisinde bir yazım yanlışı vardır?**

- A) Masamdaki bardağı kim aldı?  
B) Yerdeki çöpleri temizlemelisin.  
C) Oysaki ben seni çok özlemiştim.  
D) Biliyorumki sende beni çok özlemişsindir.

20 ve 21. soruları aşağıdaki metinlere göre cevaplayınız.

A

İnsan oğlunun on iki bin yıldan daha uzun bir

I      II

süreden beri koruyucusu, yardımcısı, arkadaşı, sırdaşı, kahramanı ve can dostu olan köpekler; kendilerine yöneltilen sevgiye ve ilgiye yüksek

III

sadakatle karşılık verir.

IV

B

Bu canlılarla insanlar arasındaki bağ o kadar kuvvetlidirki köpekler sahiplerinin birtakım şeylerden

I

II

rahatsız ve huzursuz olduğunu hatta bazen hasta olduklarını onlardan çok daha önce hisseder. Fizik-

III

sel ve duygusal olarak insanların birçok ihtiyacını karşılayan köpekler, artık başarılı bilimsel çalışmalara da katkı sağlıyor.

IV

20 **A metnindeki altı çizili ifadelerin hangisinde yazım yanlışı yapılmıştır?**

- A) I      B) II      C) III      D) IV

21 **B metnindeki altı çizili ifadelerin hangisinde yazım yanlışı yapılmıştır?**

- A) I      B) II      C) III      D) IV

20

Sende git,  
Sende unut,  
Kimler unutmadığı?

Yukarıdaki şiirde kaç tane yazım yanlışı bulunmaktadır?

- A) 1 B) 2 C) 3 D) 4

21 Aşağıdakilerden hangisinde kısa çizgi yanlışı kullanılmıştır?

- A) Ankara-İstanbul arası üç saate indi.  
B) "Okul-lar-da" sözcüğü hem çokluk eki hem de hâl eki almıştır.  
C) Sınav 20-06-2020 tarihine ertelendi.  
D) Türkiye-İngiltere maçının hangi kanalda yayınlanacağı hâlâ belli değil.

#### ÇIKMIŞ SORU

22 Shenzen şehri 1980'lerde uygulanmaya başlanan SEZ (Özel Ekonomik Bölge) projesiyle kurulmuş ve bu projeden sonra gelişmiş bir şehir. Shenzen sokaklarını adımlar ve teknolojik dünyanın enerjisini hissederken hep aynı tipler çıkıyor önünüze: düşlerinin peşinden koşan girişimciler, ilham peşindeki sanatçılar, kişilik arayışına çıkmış kayıp ruhlar...

Bu metindeki noktalama işaretlerinin işlevi aşağıdakilerin hangisinde yanlışı verilmiştir?

- A) İki nokta, kendisiyle ilgili örnek verilecek cümlelerin sonuna konmuştur.  
B) Virgül, birbiri ardınca sıralanan eş görevli kelime ve kelime gruplarının arasında kullanılmıştır.  
C) Yay ayraç, cümledeki anlamı tamamlayan ve cümlelerin dışında kalan ek bilgileri belirtmek amacıyla konmuştur.  
D) Üç nokta, herhangi bir sebepten dolayı açık yazılmak istenmeyen kelime ve bölümlerin yerine konmuştur.

23 ve 24. soruları aşağıdaki metinlere göre cevaplayınız.

A

Türküler (I) şiirler (II) filmler (III) kitaplar (IV) Hepsi birer kapıdır içimizden uzaklara, uzaklardan içimize açılır. Yaşadığımız dünyada fakiri olduğumuz ve başka zamanlarda, mekânlarda bulduğumuz pek çok şeyi o dünyadan kelimelerle taşıyız kendi âlemimize.

B

İrlandalı şair James Clarence Mangan'a Türk  
I  
coğrafyasını hiç görmediği ve Türk'lerle hiçbir kan  
II III  
bağı olmadığı hâlde Türkçe şiirler yazdıran ancak  
bu türden bir muhabbet, dostluk olsa gerek.  
IV

23 A metninde numaralanmış ayraçlardan hangisine diğerlerinden farklı bir noktalama işareti getirilmelidir?

- A) I B) II C) III D) IV

24 B metnindeki altı çizili kelimelerin hangisinde yazım yanlışı yapılmıştır?

- A) I B) II C) III D) IV

- 4 Bir sınıfta tam kırk çocuk dizili;  
Bir kara tahta, üstünde bir üçgen;  
Bir koca daire, sağır, çekingen;  
Merkezi güm güm eder davul gibi.  
Dilsiz, vatansız harfler küme küme,  
Bekleşiir dururlar, azap içinde.

**Bu dizelerde aşağıdaki söz sanatlarından hangileri kullanılmıştır?**

- A) İntak - Kişileştirme  
B) Benzetme - Tezat  
C) Kişileştirme - Benzetme  
D) Tezat - İntak

- 5 Aşağıdaki metinlerden hangisi yay araç içinde verilen türde yazılmamıştır?

- A) İnsanın kendi kendisi ile baş başa kalabilmesi öyle pek kolay işlerden değildir. Bir yandan toplumun tepkisini çekmek, öbür yandan kendi boşluklarına yuvarlanmak korkusu, birçok yazarı ne iseler öyle olmaktan alıkoymuştur. Bu bakımdan, yalnızlıkla kahramanlık bir gibidir. (Deneme)
- B) Savrulan otlar, çöpler yüzüne çarpıyor; gözlerine ve burun deliklerine kar taneleri giriyordu. Kan ter içinde kalmıştı küçük Mine. Bir yandan ateş gibi yanıyor, bir yandan da soğuk rüzgâr karşısında tir tir titriyordu. (Hikâye)
- C) Balıkçıların uğrak yeri olan adada iki uzun dalgakıranın tekneleri dalgalardan koruduğu büyük bir liman var. Karadeniz'de kötü hava koşullarında çaresiz kalan gemiler için ideal bir sığınak olan limanı balıkçıları da kullanıyor. Kefken Adası amatör su altı avcılarının da uğrak yeri. (Gezi yazısı)
- D) Arıların olmadığı bir dünyada yaşamak zorunda kaldığımızı düşünelim. Muhtemelen açlıktan ölmezdik ama çok sevdiğimiz bazı meyvelerden ve hem insanlar hem de hayvanlar için besin kaynağı olan bazı bitki türlerinden mahrum kalırdık ya da o bitkileri bulmakta çok zorlanırdık. (Fabl)

- 6 Kuzey Kutbu'nda son 9 ayda Türkiye kadar buzul eridi. Amerikan Havacılık ve Uzay Dairesi NASA'nın araştırmalarına göre Kuzey Kutbu'daki buzullar eskisinden daha hızlı eriyor. NASA'nın 2004 ve 2005 uydu verilerine göre Kuzey Kutbu'nun tüm yıl boyunca kalan daimî buzulları %14 oranında azaldı. NASA uzmanları bunun, Türkiye'nin yüz ölçümü kadar bir buzul kütlelerinin erimesi anlamına geldiğini belirtiyorlar.

**Bu metnin türü aşağıdakilerden hangisidir?**

- A) Haber yazısı  
B) Biyografi  
C) Anı  
D) Deneme

- 7 Doğu Karadeniz yaylaları yemyeşildir, çayır çimenlerdir, ışıklıdır, soluk alınıp verilesidir. Kimi zaman boğucu olabilen, sıcağa karşı duran serinliğin evidir. Kimi zaman sisin yatağıdır. Burada yaylaya gününbirlik çıkmak, yemek yiyip birkaç saat geçirmek, kırlarında dolaşip eve dönmek yaylayı yaşamak değildir. Böylesine "yayladan yolcu geçmek" deriz biz. İşin bir başka yüzü şu ki yayladan ayrılmak da zordur, yaylaları anlatan bir yazıyı bitirmek de! Anlatacak ne çok şey var oysa... Son cümlelerimi yazmak için bir yayla evinin kapısının önüne oturdum. Biraz sonra yanıma küçük bir çocuk yaklaştı. Yaylada misafir olduğu giyim kuşamından belliydi. Söyleşmeye başladık. Üniversitede öğretim üyesi olan babası onu buraya, dedesinin yanına bir haftalık tatil için yollamıştı. Tam o sırada bir kuş öttü. Çocuk gözlerini kocaman açarak "Aaa, kapı çaldı!" dedi. İşte o zaman daha iyi anladım; geleceğimiz, çocuklarımız için ...

**Bu metnin türü ile ilgili verilen bilgilerden hangisi yanlıştır?**

- A) Gözlem gücüne dayanır.  
B) Düşünceler kanıtlama amacı güdülerek nesnel bir anlatımla ifade edilir.  
C) Anlatılanlar gerçektir, kurguya dayanmaz.  
D) Gezilip görülen yerler edebî bir üslupla anlatılır.

5

**G**eçen hafta, Şanlıurfa'da başına parke taşıyla vurularak yaralanan doktor haberiyle sarsıldık. Doktorlara yönelik artarak devam eden şiddeti bitirmek için Avustralya'da olduğu gibi sert yasalara ihtiyaç var.

Geçen gün Avustralyalıların bu konuda hazırlamış oldukları bir afişi sosyal medyada gördüm ve afişin verdiği ince mesaja hayran kaldım. Afişin Türkçe anlamı şöyle "Eğer bir hemşireye, doktora ya da bir ambulans görevlisine saldırmakta bir sakınca olmadığını düşünüyorsanız size tekrar düşünebilmeniz için 14 yıl zaman veriyoruz." Burada "14 yıllık zaman" sözüyle ne mi anlatılmak isteniyor? Tabii ki hapis cezası!

Avustralya hükümeti bu afişi devletin sağlık kuruluşlarına astı ve sosyal medya hesaplarından da duyurdu. Hedefi on ikiden vuran bir afiş değil mi? Bizde de doktora, hemşireye saldırmanın bir cezası var ama ne yazık ki bu cezalar caydırıcı olmuyor. Bizde de Avustralya'daki gibi özel bir kanuna ihtiyaç var; doktora, hemşireye saldıranlar darbin şiddetine göre artacak şekilde en az 10 yıl hapis yatmalı.

**Aşağıdakilerden hangisi bu metnin bir "fıkra" olduğunu kanıtlamak için yeterli bir açıklama olamaz?**

- A) Gündemi meşgul eden, güncel bir olaya değinilmiş olması
- B) Yazarın nesnel bir tutum sergilemesi
- C) Yazarın, bir sorun hakkında çözüm önerilerinde bulunması
- D) Açıklayıcı anlatıma ve örnekleme yöntemine başvurulması

6 Hanımlar!

Bu kadar acıdan sonra, bu kadar ayrılıktan sonra, yan yana çektiğimiz bu kadar hasretten sonra, kurtuluş günleri geldi. Siz bu kurtuluş günlerini bize kazandıran aziz şehitlerin, gazilerin anaları, arkadaşları, kız kardeşleri! Artık sevinin, sevinmek hakkınızdır; bayram edin, en büyük bayrama erdiniz, büyük bayramınız mübarek olsun!

Anadolu kadınları!

Bu gaza diyarında, bin seneden beri, ateş ve cenk yerlerine oğullarını koşturan Anadolu kadınları; bin senedir oğulları daima uzak yerlerde ölen, yetiştirdikleri oğulların mezarları nerededir bilmeyen Anadolu kadınları! Kurtuluş günleri, kavuşma günleri geldi. Sevinin, bayram edin!

Bu metin ..... türünde yazılmıştır.  
Çünkü ..... kaleme alınmıştır.

**Metinle ilgili açıklama yapılan bu cümlede boş bırakılan yerlere aşağıdakilerden hangisi getirilmelidir?**

- A) destan - heyecan verici bir anlatımla
- B) deneme - düşünceler öznel bir şekilde
- C) nutuk - topluluğa hitap etme ve duygu yansıtma amacıyla
- D) tiyatro - karşılıklı olaylar konuşma biçiminde

#### ÇIKMIŞ SORU

- 7** 1950'li yılların başında istasyon, bir mola yeri olmaktan ziyade hayatın aktığı yerdin bizim kasabada. Kasabanın gençleri istasyonda buluşur, kalabalıkta kendilerini unuttururdu. Filmlerdeki gibi, gençler ilk kez burada göz göze gelirdi. İlk ayrılık burada yaşanır, askerlik veya çalışmak için büyük şehre gidenlerin ardından gözyaşı ilk kez burada dökülürdü. Ayrılığın acısı kadar buluşmanın sevinci de istasyonda. Ben de tezkere alıp gelen ağabeyimi burada beklemiştim. İki gün boyunca istasyona her gelen trende gözlerimin ağabeyimi aramıştı. Nihayet ağabeyim trenden indiğinde boynuna sarılmış, dakikalarca ağlamıştım.

**Bu parça aşağıdaki metin türlerinin hangisinden alınmıştır?**

- A) Biyografi
- B) Deneme
- C) Anı
- D) Gezi yazısı



12

(Doktor ceketini giyerek çıkar.)

**Tuncer:** Sen hiç yatmadın mı Yalçın?

**Türköz:** Hiç uyumamış.

**Tuncer:** Yeni bir haber var mı?

**Yalçın:** Gece yarısından başka hiçbir şey yok. Ayşe'yi gördün mü?

**Tuncer:** Demin kapısından baktım.

**Türköz:** Nasıl?

**Tuncer:** Sinir buhranı geçirdi. Hastalığı falan yok.

**Yalçın:** Birazdan dağların serin havasını alınca büsbütün açılır.

**Türköz:** Uzakta bir davul sesi var.

**Yalçın:** Köylüyü topluyor. Talimat verilecek. (Bu sırada birkaç köylü ve kadı telaşla gelir.)

(Davul sesi devam eder)

**Tuncer:** Kumandan geliyor.

**Yalçın:** Biz hazırız. Kumandan.

**Türköz:** Yeni bir şey var mı?

**Vural:** Vaziyet tamamdır. Her şey anlaşıldı. Kısaca anlatayım da akşamki hazırlık emirlerinin ne olduğunu anlayın. Sakarya gerisine çekilen ordumuz, dün den beri düşmanla harbe tutuşmuştur.

**Yalçın:** Hayırlısı olsun.

**Vural:** Harp tarihlerde görülmemiş bir şiddetle başlamış. Mustafa Kemal başkumandanlığı almış.

**Hepsi:** Öyle ise hemen biz de iş başına.

**Vural:** Ben de onu tebliğe geldim. Biraz evvel aldığım emirleri ayrı ayrı tebliğ ediyorum. İhtiyat zabiti Yalçın Efendi!

**Yalçın:** (Selam verir.) Emret kumandanım!

**Bu metnin tür özellikleri ile ilgili aşağıdakilerden hangisi söylenemez?**

- A) Olay yazılarındaki kişi, yer, zaman ve olay öğeleri bu metinde de vardır.
- B) Tarihi bir olayla ilgili bilgi vermek amaçlanmıştır.
- C) Olayların akışı, karşılıklı konuşmalara göre izlenebilmektedir.
- D) Ayrıca içindeki açıklamalar, kişilerin davranışlarını, duygularını, sahnenin durumunu açıklar.

13

Hayatımın on dördüncü kışına yeni giriyordum. Askeri rüştiyenin en tembel öğrencisiydim. Yalnız matematiğe doğuştan bir yatkınlığım, şiir ve edebiyata da tutkulu bir isteğim vardı. Matematikle ilgili dersler tembelliğime engel değildi. Çünkü problemleri yorulmadan çözüyor, teoremleri yorulmadan ispat edebiliyordum. Şiire, edebiyata dair kitaplardan büyük bir zevk aldığım için bunları okumaktan hiç bıkmaz, usanmazdım.

Babam o zamanın başka babalarına pek benzezmezdi. Dindarlıkla hür düşünüşü nefsinde birleştiren bu zât, Batıl fikirlerin eskilerinden de yenilerinden de kendini kurtarabilmişti. Daha yedi sekiz yaşlarında iken Şah İsmaili, Aşık Keremleri okuyup ağladığımızı işiten bir dostu, babamın beni bu aşk kitaplarını okumaktan men etmesini, bunların yerine ciddi kitaplar okutturmasını salık vermişti.

**Bu parça, anlatım özellikleri ve içeriği bakımından aşağıdaki metin türlerinden hangilerine yakındır?**

- A) Biyografi - Gezi yazısı
- B) Otobiyografi - Anı
- C) Günlük - Hikâye
- D) Anı - Deneme

**14 Aşağıdaki metin parçalarından hangisinde öyküleyici bir anlatım yoktur?**

- A) Çatı katındaki evin mutfağı çok küçüktü. İki kişinin içinde çarpışmadan hareket etmesi olanaksızdı. Mutfağa gül ağacından yapılmış bir masa konulmuştu. Yer sorunu nedeniyle sandalye yerine taburelerde oturuldu.
- B) En sonunda annesi, oğlunun göz kapağına çok az oksijenli su damlattı, kurulayıp üzerine beyaz bir merhem sürdü ve göz kapağını gazlı bir bezle adamaklı örttü. Plasterle yapıştırdı gazlı bezi kapadı.
- C) Yürüyordum. Yürüdükçe de açılıyordum. Evden kızgın çıkmıştım. Belki de tıraş bıçağına sinirlenmiştim. Olur, olur! Mutlaka tıraş bıçağına sinirlenmiş olacağım.
- D) Amsterdam, Hollanda'nın başkenti. Kuzey Denizi kıyısında bulunan bu kent, yaklaşık 90 adanın üzerinde kurulu. Bu kentteki kanalların toplam uzunluğu 100 kilometreyi geçiyor. Kentte 1500'e yakın köprü yer alıyor.

**14 Aşağıdaki metinlerin hangisinde olay üçüncü kişinin ağzından anlatılmıştır?**

- A) Anneme armağan olarak aldığım cam kavanozu yemek masasının üzerine bıraktım. Annem mutfığa girdi, sandalyeye oturdu ve masanın üzerindeki kavanoza bakmaya başladı. Kavanozun üzerindeki "Senin İçin" yazısını okuyunca gülümsedi.
- B) Günlerden beri ilk kez; yağmurun fısıltısından, ikinci güneşinin odaya yansımından çok hamam buğusu gibi içeride toplanmış hissini veren puslu, ıslak aydınlıktan hoşlandım.
- C) Arkadaşım birkaç çıtayı çakmış, çevrelerinden geçirdiği ipi bağlamaya çalışıyordu. "Yardım edebilir misin?" dedi. Yanına gittim ve parmağımı düğüme bastırdım. Çok büyük ve güzel bir uçurtma yaptık.
- D) Çiftçi, çalılıkların arasında bir kıpırtı hissetti. "Bu mutlaka bizim tavukları yiyen tilkidir." diye düşündü. Ağır ve sessiz adımlarla sesin geldiği yöne ilerledi.

**15 Kasabaya vardığımızda hava kararmıştı. Kasabada eski bir arkadaşımız bizi karşıladı. Onunla yıllardır görüşmemiştik. Akşam yemeğini hep birlikte küçük bir lokantada yedik. Vakit ilerledikçe hava da soğuyordu. Arkadaşımız bizi kendi evinde ağırladı. Yorucu bir günün ardından uykuya daldık.**

**Bu parça ile ilgili aşağıdakilerden hangisi söylenemez?**

- A) Betimleyici unsurlara yer verilmiştir.
- B) Olaylar üçüncü kişinin ağzıyla anlatılmıştır.
- C) Görme ve dokunma duyularından yararlanılmıştır.
- D) Öyküleyici anlatımdan yararlanılmıştır.

**16 Vapurdan indiğimde saat altıya yaklaşmıştı. Hemen bir taksiye binip Çekmeköy'e doğru yol aldım. Yüreğim heyecanla çırpınıyordu. Sekiz yıl önce köyden farksız olan bu yerler gelişmiş, adeta koca bir kent görünümüne bürünmüştü. Taksiden inip eve doğru yürümeye başladım. Sokağın başında Ahmet amca; koltuğunun altında gazete, elinde ekmekle bana doğru yaklaştı.**

**Bu parçanın anlatımı ile ilgili olarak aşağıdakilerden hangisi söylenemez?**

- A) Anlatıcı olay örgüsü içinde bulunmayan biridir.
- B) Olaylar akış sırasına göre verilmiştir.
- C) Gözlemden yararlanılmıştır.
- D) Yer ve zaman unsurları bulunmaktadır.

**17 Ağır adımlarla kahveye girdi Hasan. Selam verdikten sonra bir köşeye oturdu. Hava çok sıcaktı. Cebindeki beyaz mendili çıkarıp yüzünü sildi. Önüne konan çayı bir yudumda yarılardı. Saatine baktı, vakit öğleyi geçmişti. Birden ayaklandı. Cebinden bozuk para çıkarıp masaya koydu ve kahveden ayrıldı. Tren istasyonuna varması yarım saati buldu. Gişeden biletini alırken trenin düdüğü sesini duydu.**

**Bu parça ile ilgili aşağıdakilerden hangisi söylenemez?**

- A) Üçüncü kişi ağzıyla anlatılmıştır.
- B) Farklı duylara seslenen ifadelere yer verilmiştir.
- C) Öyküleyici anlatım türünden yararlanılmıştır.
- D) Bir anıdan alınmıştır.

- 7 İnsanlar sarıdan kıza, beyazdan siyaha farklı ten renklerine sahip olabiliyor. Ten rengini belirleyen ise deride bulunan melanin pigmentinin türü ve miktarı. Melanin derimize, gözümüze, saçımıza renk veren pigmenttir ve derinin epidermis tabakasında bulunan melanosit hücreleri tarafından üretilir. Melanin pigmentinin deride iki türü bulunur. Bu pigmentlerden eumelanin cilde kahverengi - siyah, pheomelanin ise sarı - kırmızı renk verir. Tenleri koyu renk olan insanların cildinde eumelanin üretimi daha fazlayken pheomelanin üretiminin fazla olduğu kişilerin ten renkleri açık renklere sahiptir.

Ece'nin eumelanin üretiminin fazla olduğu, Emre'nin ise pheomelanin üretiminin fazla olduğu bilinmektedir.

**Buna göre Ece ve Emre'nin ten renklerinin aşağıdakilerin hangisi gibi olması beklenir?**

	Emre	Ece
A)	Kırmızı	Sarı
B)	Kırmızı	Siyah
C)	Siyah	Sarı
D)	Kahverengi	Kırmızı

- 8 Renk körlüğü bir canlının görme merkezinde özel bir pigment molekülünün bulunmaması veya gereğinden az bulunmasıdır. Bu eksiklik sonucunda çeşitli renklerin çevresindeki renkleri ayırt edilemez. Renk körlüğünün belirtisi kırmızı, yeşil ve mavi renkleri ayırt edememektir.

Bir ilkokulda öğretmen, çocuklara renkleri öğretmek istemektedir. Çocuklara duvarların, kapının, çiçeğin, masa örtüsünün rengini sormuştur. Bu eşyaların renkleriyle ilgili bilinenler şunlardır:

- Duvarların rengi mavidir.
- Kapının rengi kahverengidir.
- Çiçeğin rengi kırmızıdır.
- Masa örtüsünün rengi sarıdır.

**Renk körü bir çocuk, buna göre aşağıdakilerden hangisinin rengini gösterememektedir?**

	Duvarların rengi	Kapının rengi	Çiçeğin rengi	Masa örtüsünün rengi
A)	✓			✓
B)		✓	✓	
C)	✓		✓	
D)		✓		✓

9 ve 10. soruları aşağıdaki bilgilere göre birbirinden bağımsız olarak cevaplayınız.

Bir avcı hendek kazıp, farklı tuzaklar kurarak avladığı birkaç hayvanı hayvanat bahçelerine satmak ister. Avlanan hayvanlar ve avlanma şekilleri aşağıdaki tabloda verilmiştir.

	Hendek	Tuzak
Geyik		✓
Tavşan	✓	✓
Ceylan		✓
Sincap	✓	

Bu hayvanlardan ceylan ve geyik değerine göre satılırken tavşan ve sincap kilosuna göre satılmıştır. A, B, C, D, E adlı hayvanat bahçelerinin hangi hayvanı satın aldığıyla ilgili olarak bilinenler şu şekildedir:

- Tavşan hariç her hayvandan sadece bir hayvanat bahçesi almıştır.
- B hayvanat bahçesi tuzak kurularak avlanan hayvan türünden almıştır.
- A hayvanat bahçesi geyik almıştır.
- Farklı türden hayvan alan C değerine, E ise kilosuna göre hayvanı satın almıştır.

9 Bu bilgilere göre kiloyla satılan hayvan türlerinden aldığı bilinen hayvanat bahçesi;

- Geyik
- Ceylan
- Sincap

**hayvan türlerinden hangisini almış olabilir?**

- A) Yalnız I                      B) Yalnız III  
C) I ve II                      D) II ve III

10 Verilen bilgilere göre aşağıdaki ifadelerden hangisi kesin olarak yanlıştır?

- A) A hayvanat bahçesi geyik almıştır.  
B) C hayvanat bahçesi ceylan almıştır.  
C) B hayvanat bahçesi sincap almıştır.  
D) D hayvanat bahçesi tavşan almıştır.

9 A, B, C ve D bloklarından oluşan Alp Sitesi'nin kapalı yüzme havuzunun kullanımı ile ilgili kurallar şunlardır:

- A ve B blokları havuzu tam gün ve haftada iki gün kullanabilir.
- C ve D blokları havuzu yarım gün ve haftada üç gün kullanabilir.
- Cuma günü havuzun temizlik günüdür ve havuz kullanıma kapalıdır. Ayrıca hiçbir blok havuzu iki gün arka arkaya kullanmamaktadır.
- A blokta oturanlar havuzu bir gün arayla kullanmaktadırlar.
- D blokta oturanların havuzu kullanım günlerinden biri cumartesi, diğerleri ise A blokun havuzu kullandığı günlerden önceki günlerdir.
- Havuzu tam gün ve yarım gün kullanan blokların ortak günü yoktur.

**Yukarıda verilen bilgilerden hareketle aşağıdakilerden hangisi söylenemez?**

- A) B blokta oturanlar havuzu salı günü kullanabilirler.
- B) A ve B blokta oturanlar haftanın bir günü havuzu beraber kullanırlar.
- C) C ve D blokta oturanlar havuzu hiçbir gün ortak kullanmazlar.
- D) A blokta oturanlar havuzu perşembe günü kullanırlarsa B blokta oturanlar havuzu çarşamba günü kullanamazlar.

10 Fuat Bey, şahsi görüşmelerini ve iş görüşmelerini yapmak için iki ayrı telefon kullanmaktadır. Kullandığı telefonların ikisine de şifre koymuştur. Fuat Bey'in telefonlarına koyduğu şifrelerle ilgili şunlar bilinmektedir:

- Fuat Bey her iki telefon için farklı şifreler oluşturacaktır. Şahsi görüşmelerini yaptığı telefon 1. telefon, iş görüşmelerini yaptığı telefon 2. telefondur.
- 1. telefon için oluşturduğu şifre en az beş karakterden oluşmak zorundadır.
- Her iki telefon için oluşturduğu şifrede de özel karakterlerden (!, \$, +, %, &, ?, #, @) en az biri olmak zorundadır.
- Oluşturulan şifrelerde en az bir küçük harf, büyük harf ve bir rakam olmak zorundadır.
- 2. telefonda kullanacağı şifrede, ilk telefonda kullandığı sembol, özel karakterler, harf ve rakamlardan hiçbirini kullanmayacak ve bu şifre en az altı karakterden oluşacaktır.

**Verilenlerden hareketle Fuat Bey'in oluşturduğu şifreler aşağıdakilerden hangileri olabilir?**

	1. telefon	2. telefon
A)	K%35g	!L4ga+
B)	Lg2s	dD@07%
C)	789eR?	E\$Tr^#
D)	7?cA6&	Z+k2%@0

11 Aşağıda Ayça, Burak, Can ve Demet adlı kişilerin aldığı tabletlerin özellikleri verilmiştir.

Markası	Ağırlığı	Fiyatı	Depolama Alanı	Batarya Ömrü	Ekran Boyutu
A	720 gr	1.900 TL	32 GB	6 saat	12.9 inç
B	615 gr	1.100 TL	16 GB	5 saat	10.2 inç
C	500 gr	2.100 TL	32 GB	8 saat	10.2 inç
D	860 gr	1.500 TL	16 GB	4 saat	12.9 inç

Her biri farklı bir tablet alan bu kişilerin satın aldıkları tabletlerin özellikleri şöyledir:

- Ayça rahat taşınabilen ve depolama alanı geniş olan tableti almıştır.
- Burak batarya ömrü oldukça uzun olan ve en büyük ekranlı tableti almıştır.
- Demet en uygun fiyatlı tableti almıştır.

**Bu bilgilere göre aşağıdakilerden hangisi yanlıştır?**

- A) Burak'ın tableti Can'ın tabletinden daha hafiftir.
- B) Demet'in tabletinin batarya ömrü Ayça'ninkinden fazladır.
- C) Ayça ile Burak'ın aldığı tabletlerin depolama alanları aynıdır.
- D) Can'ın tabletinin ekran boyutu, Demet'inkinden büyüktür.

- 6 Geniş bir aile olan Arslan ailesi, oturdukları evin kendilerine küçük geldiğini fark edip daha büyük bir eve taşınmaya karar verirler. Evin reisi olan Faruk Bey, emlakçıya gider; kendisi ve eşi, annesi ve babası, kızı, iki oğluna ayrı ayrı olmak üzere her çifte ve çocuklara oda düşecek şekilde ve biri misafirler diğeri de ev halkı için iki ayrı salondan oluşan bir ev kiralamak istediğini söyler. Bu evin apartman dairesi olmasını istemediklerini ve ısınma sisteminin de merkezi olması gerektiğini belirtir. Emlakçı da elinde bu özelliklerde bir ev olduğunu, birlikte gidip bakabileceklerini söyler.

Buna göre aşağıdakilerden hangisi emlakçının Faruk Bey'e gösterdiği ev olabilir?

A)

KİRALIK	
Cinsi	Villa
Oda Sayısı	7+2
Isınma Türü	Merkezi Sistem
EDİTÖR EMLAK	

B)

SATILIK	
Cinsi	Müstakil
Oda Sayısı	5+2
Isınma Türü	Merkezi Sistem
EDİTÖR EMLAK	

C)

KİRALIK	
Cinsi	Apartman Dairesi
Oda Sayısı	5+1
Isınma Türü	Merkezi Sistem
EDİTÖR EMLAK	

D)

KİRALIK	
Cinsi	Müstakil
Oda Sayısı	5+2
Isınma Türü	Merkezi Sistem
EDİTÖR EMLAK	

- 7 Sağlık Bakanlığı tarafından "Dünyadan Coronavirüse Mektup" adlı bir yarışma düzenlenecektir. Yarışma şartları şunlardır:

- Yarışmaya 5, 6, 7 ve 8. sınıf öğrencileri katılabilir.
- Eserler el yazısı ile yazılmalıdır.
- Eserlerin daha önce yayımlanmamış olması gerekmektedir.
- Eserler belirlenen sürede yazılıp istenilen adrese kargo ile gönderilmelidir.

Bu şartlara göre aşağıdakilerden hangisi bir eserin söz konusu yarışmaya kabul edilmesini engellemez?

- A) Daktilo aracılığı ile yazılması  
 B) İl genelinde katılımın olduğu bir yarışmada yayımlanıp ödül alması  
 C) Oluşturulan eseri, başkasının el yazısı ile yazması  
 D) Liseye giden bir öğrenci tarafından yazılması

8 Katıldıkları yarışmada başarılı oldukları için kendilerine verilen madalyaları alan Hatice, Cenk, Murat, Nermin, Selim ve Zerrin adlı 6 arkadaşın madalya alma sıralarıyla ilgili olarak bilinenler şu şekildedir:

- Hatice, Murat'tan önce almıştır.
- Hatice ile Murat arasında bir kişi madalya almıştır ve bu kişi erkektir.
- Nermin'den hemen sonra bir kız madalya almıştır.
- Cenk Zerrin'den hemen sonra madalya almıştır.

**Madalya alma sırasıyla ilgili olarak aşağıda verilenlerden hangisi kesinlikle yanlış olur?**

- A) Hatice Selim'den önce madalya almıştır.  
 B) Zerrin, Nermin'den sonra madalya almıştır.  
 C) Cenk dördüncü sırada madalya almıştır.  
 D) Murat üçüncü sırada madalya almıştır.

9 "Kelime Türetme" oyununu oynayan Sude ve Yusuf, oyunu belirlenen kurallara göre oynamışlardır. Oyun ile ilgili belirlenen kurallar şöyledir:

- Türetilecek her kelimenin bir önceki kelimenin son harfiyle başlaması gerekir.
- Kelimeler türetilirken ilk ve son harfleri aynı olan kelimeler kullanılmamalıdır. Örnek: kütük
- Hiçbir kelime diğer kelimelerle aynı harfle başlamamalıdır. Örnek: Birinci kelime "hayat" ise diğer kelimelerin hiçbirinin ilk harfi "h" olmamalıdır.

Sude ve Yusuf bu kurallara göre oynadıkları oyunda toplam beş kelime türetmişlerdir. Sude oyuna "kaya" kelimesini söyleyerek başlamıştır. Yusuf ise 4. kelime olarak "nadir" kelimesini söylemiştir.

**Sude ve Yusuf, oyunun kurallarına uygun kelimeler bulduklarına göre 2, 3 ve 5. kelimeler aşağıdakilerin hangisi olabilir?**

	2.	3.	5.
A)	ayet	tren	radar
B)	zakkum	maden	roka
C)	ayak	kağan	roket
D)	afet	ton	rahat

10 Hindistan'a ulaşan ilk kâşif olarak ün yapan Vasco de Gama bir kâşifin oğludur. Babasının izinden gitmiştir. Portekiz'de dünyaya gelen ünlü kâşif yolculuğuna 1497 yılında Lizbon'dan başladı. Daha önce keşfedilmiş olan Ümit Burnu'nun çevresini dolaşarak Atlas Okyanusu'nu aştı ve Hindistan'a ulaştı. Vasco de Gama baharat ticaretinde Portekiz egemenliğine yol açmıştır.

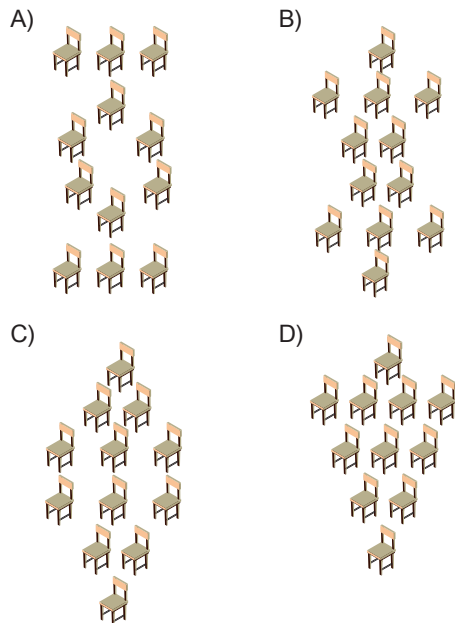
**Vasco de Gama, Hindistan'a ulaşma yolculuğu sırasında nerelerden geçmiştir?**

	Lizbon	Baharat Yolu	Ümit Burnu	Atlas Okyanusu	Afrika
A)	✓	✓	✓		✓
B)	✓		✓		
C)	✓		✓	✓	
D)	✓		✓		✓

11 Bir kurs merkezinde 12 adet sandalye belirli bir düzene göre dizilmiştir. Sandalyelerin dizilme şekli ile ilgili verilen bilgiler şunlardır:

- En önde ve en arkada sadece bir adet sandalye vardır.
- Sandalyeler önden ve arkadan aynı anda dizilmeye başlandığında, her sırada bir önceki sıraya ek olarak bir sandalye eklenmektedir.

**Bu bilgilere göre sandalyelerin dizilmiş son hâli aşağıdakilerden hangisi olabilir?**



20 ve 21. soruları aşağıdaki bilgilere göre birbirinden bağımsız olarak cevaplayınız.

1961'den bu yana yalnızca 556 kişi uzay yolculuğu yapmış ve çok az insanın elde edebileceği bu deneyimi yaşamıştır. Bunların ancak 24'ü Dünya'nın gözden kayboluşunu izlemiş ve sadece 6'sı Ay'ın karanlık yüzünde tamamen yalnız kalabilmiştir. Ay'a ayak basanlardan bazıları Alan Bean, David Scott, James Irwin, Charles Duke, Eugene Cernan, Edgar Mitchell'dir. Bunların Ay'a ayak basma sıralarıyla ilgili bilinenler şunlardır:

- David Scott'tan önce Ay'a iki kişi gitmiştir.
- Alan Bean'dan sonra Ay'a giden bir kişi vardır.
- James Irwin, David Scott'tan önce Ay'a gitmiştir.
- Eugene Cernan ve Charles Duke, David Scott'tan sonra Ay'a gitmiştir.

**20 Buna göre aşağıdakilerden hangisi kesinlikle yanlıştır?**

- A) Eugene Cernan Ay'a 4. sırada çıkmıştır.
- B) Charles Duke Ay'a 4. sırada çıkmıştır.
- C) Edgar Mitchell Ay'a 1. sırada çıkmıştır.
- D) James Irwin Ay'a 5. sırada çıkmıştır.

**21**

- I. James Irwin
- II. Edgar Mitchell
- III. David Scott

**Yukarıdakilerden hangisi Ay'a 2. sırada çıkmış olabilir?**

- A) I ve III
- B) I ve II
- C) Yalnız I
- D) II ve III

22 ve 23. soruları aşağıdaki bilgilere göre birbirinden bağımsız olarak cevaplayınız.

Sağlıklı yaşam için gerekli omega-3 kaynağı olan balığı biz ne kadar tüketiyoruz? Bu sorunun yanıtı, FAO ve TÜİK raporlarında saklıdır. Dünya ortalaması 16,4 kilogram, Avrupa ortalaması 20,8 kilogram. Türkiye'de kişi başı balık tüketimi 7 kilogram. Avrupa'da tüketilen her üç balıktan birinin Türkiye'den gidiyor olmasına karşın biz çok fazla balık tüketmiyoruz. Buna bir çözüm bulmak isteyen yetkililer İstanbul, Ankara, Eskişehir, Konya, Balıkesir ve Düzce şehirlerinde festival düzenlemeye karar verirler. Festivalerin hangi günlerde yapıldığıyla ilgili bilinenler şu şekildedir:

- Festival 6 gün sürmüştür ve 3. günü perşembedir.
- Festivalin son gününden önceki gün festival Düzce'dedir.
- Eskişehir ve Konya'da art arda günlerde festival düzenlenmiştir.
- Festival Ankara'da ya perşembe ya da cuma günü olmuştur.
- İstanbul'da, Düzce'den önce festival düzenlenmiştir.

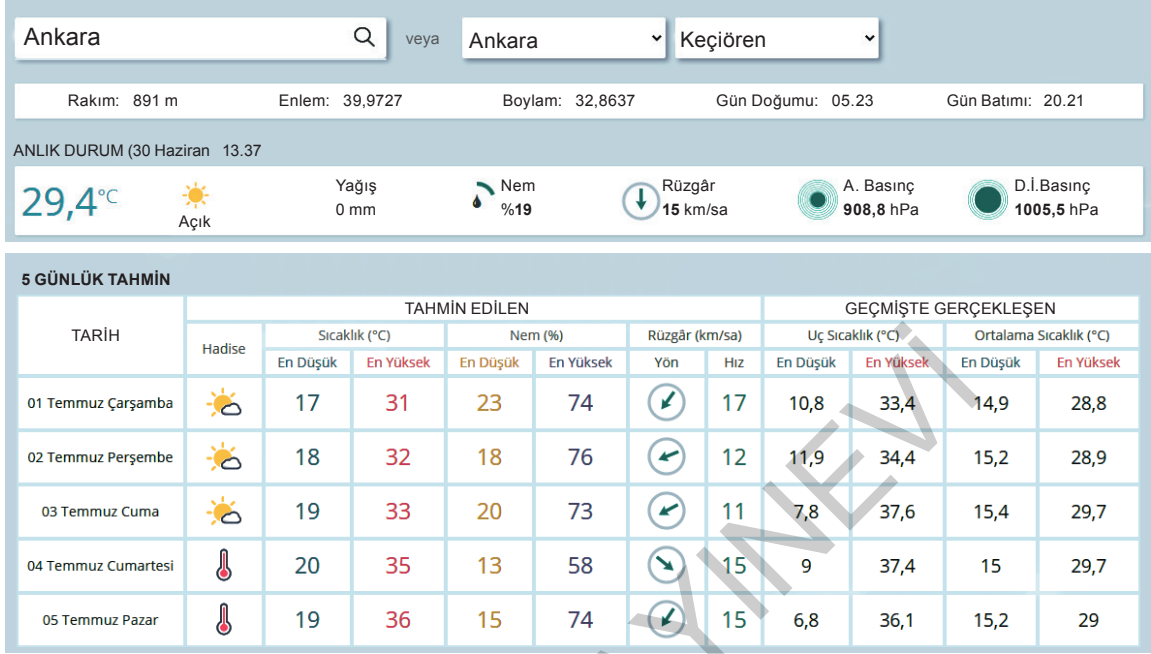
**22 Buna göre aşağıdakilerden hangisi kesinlikle yanlıştır?**

- A) Konya'da festival çarşamba günü yapılmıştır.
- B) Festival, İstanbul'da perşembe günü yapılmıştır.
- C) Balıkesir'de cuma günü festival düzenlenmiştir.
- D) Ankara'daki festival perşembe günü yapılmıştır.

**23 Verilen bilgilere göre aşağıdakilerden hangisi kesinlikle doğrudur?**

- A) Eskişehir'den hemen sonra Konya'da festival düzenlenmiştir.
- B) Konya'da festival Ankara'dan hemen önceki gün düzenlenmiştir.
- C) Düzce'de festival Balıkesir'den hemen önceki gün düzenlenmiştir.
- D) İstanbul ile Ankara'da iki gün arayla festival düzenlenmiştir.

- 16 Aşağıdaki görsel Meteoroloji Genel Müdürlüğü sitesinden alınmıştır. Görselde Ankara'nın (Keçiören) 30.06.2020 tarihinden itibaren 5 günlük hava tahmin durumu verilmiştir.



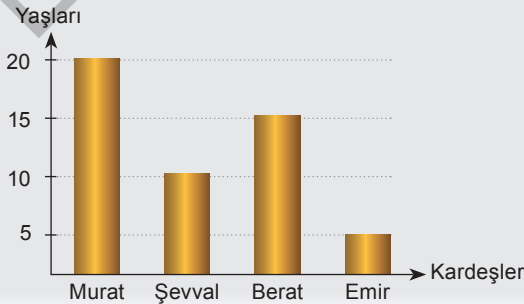
**Bu görselden hareketle;**

- Geçmişte görülen ortalama sıcaklık değerlerine göre tahmin edilen günlerin sıcaklık değerlerinde azalma olmuştur.
- Genellikle kuzeydoğudan esen rüzgâr, cumartesi günü kuzeybatı yönünde esecektir.
- 05.23'te doğan güneş, 20.21'de Ankara semalarında batacaktır.
- Belirtilen 5 gün içerisinde hava sıcaklığının en yüksek olacağı gün perşembe günüdür.

**yargılarından hangileri söylenemez?**

- A) I ve II      B) I ve IV      C) II ve III      D) III ve IV

17



Yandaki grafik,  
dört kardeşin  
yaşlarını  
göstermektedir.

**Buna göre aşağıdaki ifadelerden hangisi yanlıştır?**

- Şevval ve Emir'in yaşları toplamı Berat'ın yaşına eşittir.
- Yaşça en büyük kardeş Murat'tır.
- Kardeşler arasında en son doğan Şevval'dir.
- Murat ve Berat'ın yaşları farkı Emir'in yaşına eşittir.



EDITÖR YAYINEVİ

editör  
yayınevi

VIP

ÜCRETSİZ  
İÇERİK İÇİN



editör  
yayınevi

İvedik Organize Sanayi Matbaacılar Sitesi  
1518 Sok. Mat-Sit İş Merkezi No:2/20  
Yenimahalle / ANKARA  
Tel: 0 312 384 20 33 Fax: 0312 342 23 58  
WhatsApp: 0 505 925 57 81  
www.editoryayinevi.com | bilgi@editoryayinevi.com

ISBN 978-605-280-087-4



9 786052 800874