

BECERİ TEMELLİ
YENİ NESİL SORULAR

YENİLENDİK

YENİ MÜFREDAT
PRATİK-ANLAŞILIR-ÖĞRETİCİ

1. SINIF

ETKİNLİKLERLE

SORU BANKASI

VİP TÜM DERSLER

MATEMATİK | TÜRKÇE | HAYAT BİLGİSİ



İLKOKUL
1. SINIF

TÜM DERSLER
ETKİNLİKLERLE
SORU BANKASI

EDİTÖR

Turgut MEŞE

YAZAR

Komisyon

Bütün hakları Editör Yayınevine aittir.
Yayıncının izni olmaksızın kitabın
tümünün veya bir kısmının elektronik,
mekanik ya da fotokopi yoluyla
basımı, çoğaltılması ve dağıtımını
yapılamaz.

Sertifika No:

40447

ISBN

978-605-280-125-3

KAPAK TASARIMI

Editör Yayınevi tasarım Ekibi

SAYFA TASARIMI

Editör Yayınevi Dizgi Ekibi

BASKI VE CİLT

Data Dijital Matbaacılık
ANKARA



İLETİŞİM

İvedik Organize Sanayi

Matbaacılar Sitesi

1518 Sok. Mat-Sit İş Merkezi No:2/20

Yenimahalle / ANKARA

Tel: 0 312 384 20 33 - 0 505 925 57 81

Fax: 0312 342 23 58

www.editoryayinevi.com

ÖNSÖZ

Geleceğin Parlayan Yıldızları,

Bu kitap Milli Eğitim Bakanlığının belirlediği ders müfredatına uygun olarak hazırlandı. Derslerde daha başarılı ve aktif olmanızı sağlayan birçok özelliğe sahiptir. Bilginin yanı sıra mukayese, muhakeme ve yorum yeteneği kazandıracaktır.

Eğlenceli ve görsel içeriğiyle sizlere neşeli bir çalışma imkânı sunan bu kitap, geleceğe yönelik hayallerinizin ve ideallerinizin ilk basamağı olacak.

Editör Yayınevi, ilkokuldan üniversiteye, eğitim hayatınızın her aşamasında yanınızda olacaktır.

Editör Yayınevi
www.editoryayinevi.com

İÇİNDEKİLER

TÜRKÇE

1. TEMA

SESLERE KARŞILIK GELEN HARFLER,.....	7
HARF BİLGİSİ,.....	10
ÜNLÜ VE ÜNSÜZ HARFLER,.....	13
OKUMA - ANLAMA,.....	16

2. TEMA

ALFABEMİZ,.....	19
ALFABETİK SIRALAMA,.....	22
GÖRSEL OKUMA,.....	25

3. TEMA

HECE BİLGİSİ,.....	28
SÖZCÜK BİLGİSİ,.....	31
OKUMA ANLAMA,.....	34

4. TEMA

SÖZCÜKLERİ HECELERİNE AYIRMA,.....	37
CÜMLE BİLGİSİ,.....	40
OKUMA - ANLAMA,.....	43

5. TEMA

CÜMLEDE SÖZCÜK SAYISI,.....	45
ÖZEL İSİMLER,.....	48
OKUMA - ANLAMA,.....	51

6. TEMA

BÜYÜK HARFLERİN KULLANIMI,.....	54
ZIT ANLAMLI KELİMELE,.....	57
OKUMA - ANLAMA,.....	60

7. TEMA

OLAYLARIN OLUŞ SIRASI,.....	63
NE? KİM?,.....	65
OKUMA - ANLAMA,.....	68

8. TEMA

NOK ALAMA İŞARETLERİ,.....	71
YAZIMI KARIŞTIRILAN KELİMELE,.....	74
OKUMA - ANLAMA,.....	76

MATEMATİK

1. ÜNİTE

UZAMSAL İLİŞKİLER - 1,.....	81
UZAMSAL İLİŞKİLER - 2,.....	84
AĞIR-HAFİF,.....	87

2. ÜNİTE

RAKAMLAR,.....	90
20'YE KADAR OLAN DOĞAL SAYILAR,...	92
RİTMİK SAYMALAR,.....	95

DOĞAL SAYILARI KARŞILAŞTIRMA,.....	98
ONLUK VE BİRLİK,.....	101
SIRA BİLDİREN SAYILAR,.....	104

3. ÜNİTE

TOPLAMA İŞLEMİNİN ANLAMINI,.....	107
20'YE KADAR OLAN DOĞAL SAYILARLA TOPLAMA İŞLEMİ,.....	109
TOPLAMA İŞLEMİNDE TOPLANANLARIN YER DEĞİŞTİRMESİ,.....	112
20'YE KADAR OLAN SAYILARLA ÇIKARMA İŞLEMİ,.....	115

4. ÜNİTE

PARALARIMIZ,.....	118
VERİLMEYEN TOPLANAN BULMA,.....	121
ZİHİNDEN TOPLAMA İŞLEMİ - TOPLAMA PROBLEMLERİ,.....	124
ZİHİNDEN ÇIKARMA İŞLEMİ,.....	127
TOPLAMA VE ÇIKARMA İŞLEMİ PROBLEMLERİ,.....	130

5. ÜNİTE

KESİRLER,.....	133
ZAMAN ÖLÇME,.....	136

GEOMETRİK CİSİMLER VE ŞEKİLLER,....	139
GEOMETRİK ÖRÜNTÜLER,.....	142

6. ÜNİTE

VERİ TOPLAMA VE DEĞERLENDİRME, ..	144
UZUNLUK ÖLÇME,.....	147
SIVILARI ÖLÇME,.....	150

HAYAT BİLGİSİ

1. ÜNİTE

OKULUMUZDA HAYAT,.....	155
------------------------	-----

2. ÜNİTE

EĞİTİMİZDE HAYAT,.....	166
------------------------	-----

3. ÜNİTE

SAĞLIKLI HAYAT,.....	171
----------------------	-----

3. ÜNİTE

SAĞLIKLI HAYAT,.....	173
----------------------	-----

4. ÜNİTE

GÜVENLİ HAYAT,.....	175
---------------------	-----

5. ÜNİTE

ÜLKEMİZDE HAYAT,.....	181
-----------------------	-----


6. ÜNİTE

DOĞADA HAYAT,.....	189
--------------------	-----

CEVAP ANAHTARI,.....	197
-----------------------------	------------

1.
SINIF

TÜRKÇE




EDİTÖR YAYINEVİ





KONULAR


- Seslere Karşılık Gelen Harfler
- Harf Bilgisi
- Ünlü ve Ünsüz Harfler
- Okuma - Anlama
- Alfabemiz
- Alfabetik Sıralama
- Görsel Okuma
- Hece Bilgisi
- Sözcük Bilgisi
- Okuma - Anlama
- Sözcükleri Hecelerine Ayırma
- Cümle Bilgisi
- Okuma - Anlama
- Cümlede Sözcük Sayısı
- Özel İsimler
- Okuma - Anlama
- Büyük Harflerin Kullanımı
- Zıt Anlamlı Kelimeler
- Okuma - Anlama
- Büyük Harflerin Kullanımı
- Zıt Anlamlı Kelimeler
- Okuma - Anlama
- Olayların Oluş Sırası
- Ne? Kim?
- Okuma - Anlama
- Noktalama İşaretleri
- Yazımı Karıştırılan Kelimeler
- Okuma - Anlama

A. Aşağıdaki varlıkları çıkardıkları sesler ile eşleştiriniz.

1  A Çıt

2  B Zırrr

3  C Tik Tak

4  D Şıp Şıp

B. Aşağıdaki soruları cevaplayınız.

1. Çevremizde ses çıkaran varlıklara, çıkardıkları seslerle birlikte örnekler veriniz.

2. Aşağıda verilen sesleri çıkaran hayvanların adını yazınız.

Ai ai ai |

Vrak vrak |

Miyav miyav |

Haydi Düşünelim

Aşağıdaki görsellerin hangisinde horlama sesi çıkarılabilir?

A)  B) 

C) 

C. Aşağıda verilen hayvanları çıkardıkları seslerle eşleştiriniz.


1  A möö möö

2  B cik cik cik

3  C vak vak



4  D hav hav


D. Aşağıdaki soruları cevaplayınız.

1.  Aşağıdakilerden hangisi rüzgar sesidir?

A) Vuvv B) Horrr C) Vızz

2. "Naaaniii naaaniii" sesi aşağıdaki görsellerden hangisine aittir?

A)  B) 

C) 

3. Aşağıda verilen görsel ve çıkardıkları ses eşleştirmelerinden hangisi yanlıştır?

A)  Tıss B)  Gıt Gıdak C)  Gak

E. Aşağıda verilen varlıkların çıkarıldığı sesleri yazınız

1



Gıt Gıdak

2



3



4



5



6



F. Aşağıda verilen bilmecelelerin cevaplarını görselleri ile eşleştiriniz.

Kızınca "hav hav", gözler "lav lav"

1

Kümeslerin efesi, her sabah çınlar sesi.

2

Horul horul uyur, mırıl mırıl konuşur.

3



a



b



c

G. Aşağıdaki soruları cevaplayınız.

1. Aşağıdaki görsellerin hangisi bebeğin ağlamasını ifade eder?

A)



B)



C)



2.

DOKTOR

Doktor gelir tık tık

Elinde bir iğnecik.

Biz bu ilaçtan korkmadık.

Tıka tıka tık.

Aşağıdaki görsellerden hangisi yukarıda verilen tekerlemede altı çizili olan sesi ifade eder?

A)



B)



C)



3. Anneler bebeklerini uyuturken aşağıdaki seslerden hangisini çıkarır?

A) Aaaa

B) Eeeee

C) İiii

4. Dildeki bir sesi gösteren ve abeceyi oluşturan, sözcükleri yazmaya yarayan işaretlerden her birine denir.

Yukarıda verilen cümlede boş bırakılan yere aşağıdakilerden hangisi yazılmalıdır?

A) ses

B) harf

C) hece

HAYVANLAR NE İSTER

Köpeğim hav hav hav hav der;
Köpeğim benden ne ister?
Hadi gel, hadi gel cici köpeğim,
Hadi gel sana ben et vereyim.

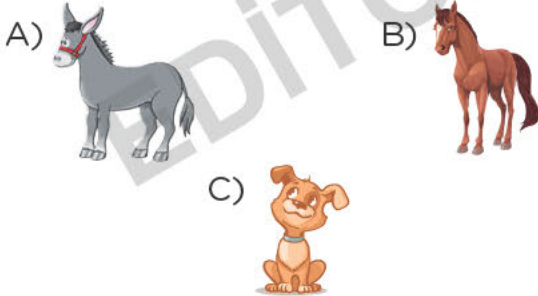
Eşeğim ai ai der,
Eşeğim benden ne ister?
Hadi gel, hadi gel cici eşeğim,
Hadi gel sana ben ot vereyim.

H. Aşağıdaki soruları cevaplayınız.

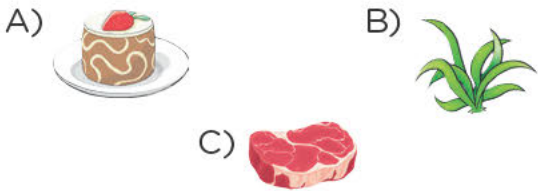
1. "Hav hav" diyen hayvan hangisidir?

2. "Ai ai" diyen hayvan hangisidir?

3. Şiirde ismi geçmeyen hayvan aşağıdakilerden hangisidir?



4. Şiire göre köpek ne istiyor?



5. Şiire göre eşek ne istiyor?

**ETRAFIMIZDAKİ SESLER**

Rana, saatini kurarak erkenden yattı. Hemen uykuya daldı. Sabah saatinin "zırrr" diye çalan alarm sesine uyanırdı. Dışarıdan hayvanların sesleri de geliyordu. İnek "möö", horoz "üürü üüü", tavuk "gıt gıt gıdak" diyerek adeta Rana'ya "günaydın", diyordu. Rana, saatinin "tik tak" sesi eşliğinde hazırlandı. Kahvaltısını yapıp servisini beklemeye başladı. Arabaların korna sesleri duyuldu. Bu gelen Rana'nın servisi olmalıydı.

I. Aşağıdaki soruları cevaplayınız.

1. Saatini kurarak erkenden yatan kimdir?

A) Rana B) Esmâ C) Nurten

2. Rana sabah ne sesi ile uyandı?

A) Horozun sesi ile
B) Annesinin sesi ile
C) Saatin alarm sesi ile

3. Dışarıdan hangi hayvanların sesi geliyordu?

4. Rana, ne eşliğinde uyandı?

5. Rana, servisini beklerken ne sesleri duydu?

A. Aşağıdaki görsellerde verilen varlıkların adının sonundaki sese karşılık gelen harfi boyayınız.



(n) (r) (y)



(e) (a) (i)



(e) (ı) (i)



(a) (ı) (e)



(f) (t) (k)



(p) (ç) (t)

B. Aşağıdaki soruları cevap ayınız.

1. Alfabemizde kaç harf vardır?

2. Türkçe'de bir kelime en az kaç harften oluşur?

Haydi Düşünelim



Aşağıdaki görsellerden hangisinin ismindeki harf sayısı yandaki görselin ismindeki harf sayısına eşittir?

A)



B)



C)




C. Aşağıda verilen sözcüklerin bazı harfleri unutulmuştur. Bu sözcüklerin eksik harflerini yazarak sözcükleri tamamlayınız.



Arm_t



İnci_



K_vi



Por_aka_



_züm



K_rp_z

D. Aşağıdaki soruları cevaplayınız.

1. Aşağıdaki hayvanlardan hangisinin adı alfabemizin ilk harfi ile başlar?

A)



B)



C)



2. Aşağıdaki varlıkların hangisinin adındaki harf sayısı diğerlerinden farklıdır?

A)



B)



C)



E. Aşağıda verilen her harf bir sembol ile gösterilmiştir. Görsellere göre örnekteki gibi kelimeler oluşturunuz.



A



L



K



i



E



T



P



A



L



i

1



2



3



4




5

F. Aşağıdaki soruları cevaplayınız.

1. Aşağıdaki görsellerden hangisinin ismi alfabemizin son harfi ile başlar?



A)



B)



C)

2.

Okumayı öğrendim.

Yukarıda verilen cümle kaç harften oluşur?

A) 13

B) 14

C) 15

3.



a



ç



s

Yukarıda verilen harfler ile aşağıdaki kelimelerden hangisi yazılabilir?

A) Taç

B) Saç

C) Çat

4. Türkçe'de bir kelime aşağıdaki harflerin hangisiyle başlamaz?


A) ğ

B) f

C) h

5. Aşağıdaki hayvanlardan hangisinin adı farklı bir harf ile başlar?

A)



B)



C)



6. Aşağıdaki kelimelerden hangisinin harf sayısı farklıdır?

A) Akıl

B) Tane

C) Muz

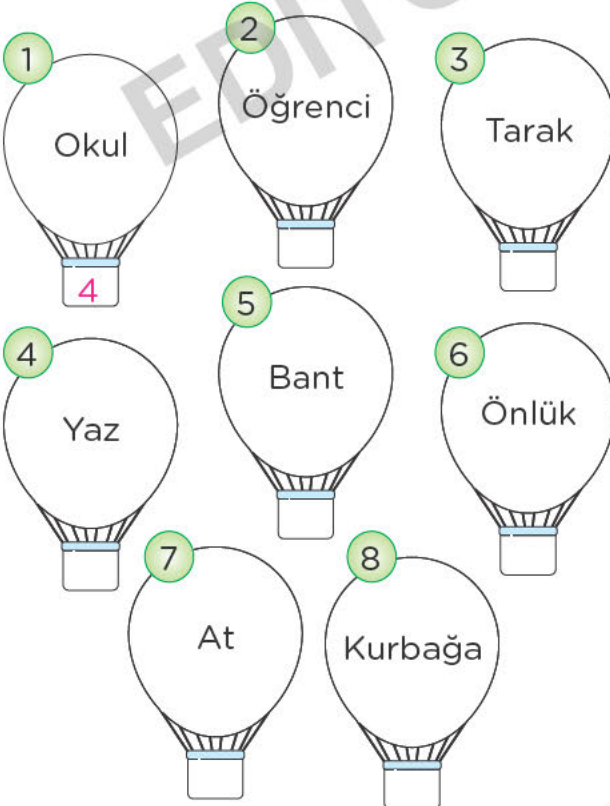
OYUN ZAMANI

İsim, şehir
Hayvan, bitki
Oynayalım
Haydi şimdi.
Bakalım hangimizin
Kelime hazinesi
Daha iyi.

G. Aşağıda verilen tabloyu örnekteki gibi doldurunuz.

Harf	İsim	Şehir	Hayvan
A	Ahmet	Ankara	At
D			
E			
K			
M			
R			

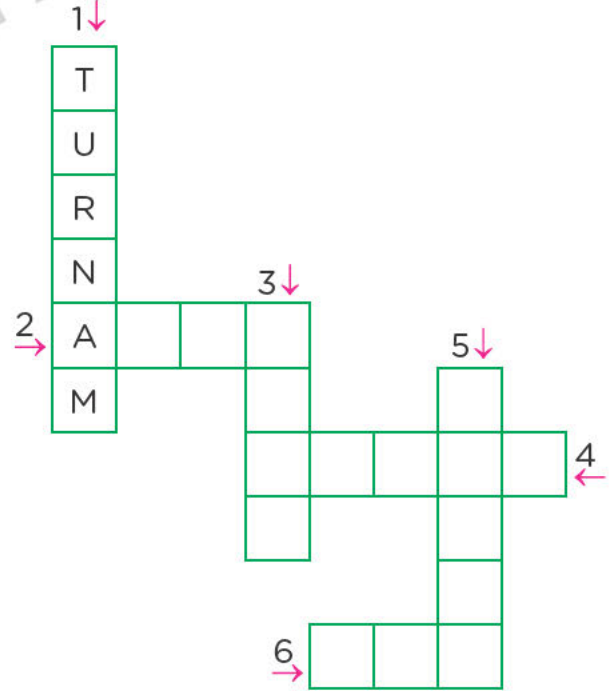
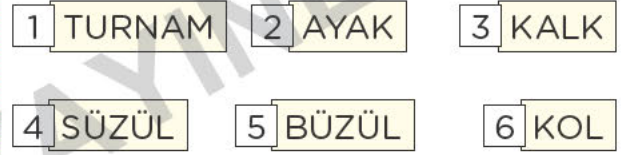
H. Aşağıda verilen kelimelerin kaç harften oluştuğunu altlarına yazınız.



AH BENİM TURNAM

Ah benim turnam,
Yeşil başlı turnam.
Otur desem oturur,
Kalk desem kalkar.
Büzülünce büzülür,
Süzül desem süzülür.
Ellerimizle şap şap şap
Ayaklarımızla rap rap rap
Bir sağa bir sola kol kola.

I. Aşağıda verilen kelimeleri örnekteki gibi bulmacaya yerleştiriniz.




Bilmece

Çıt çıt çalışır
Kurulunca bağırsır.

Cevap: Çalar Saat

A. Aşağıda verilen harflerden ünlü (sesli) olanları boyayınız.



B. Aşağıdaki soruları cevaplayınız.

1. Alfabemizde kaç tane ünlü (sesli) harf vardır?

2. Alfabemizde kaç tane ünsüz (sessiz) harf vardır?

3. "Kaplumbağa" kelimesinde kaç tane sessiz harf vardır?

Haydi Düşünelim



Yukarıda verilen harflerden kaç tanesi ünsüz (sessiz) harftir?

A) 2 B) 3 C) 4

C. Aşağıda verilen kelimeleri örnekteki gibi ünlü harfler ile tamamlayınız.

a	e
A d a n a	b _ b _ k
t _ b _ k	_ ll _ r
_ rk _ d _ ş	k _ l _ b _ k

i	u
_ zc _	m _ m
_ k _ l _	_ zl _
_ zm _ r	_ nl _

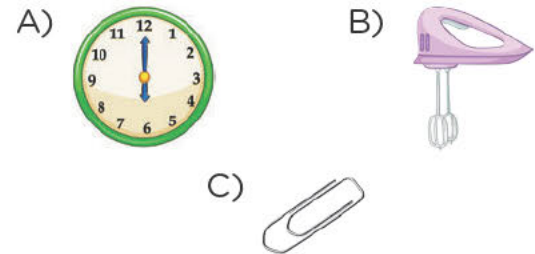
D. Aşağıdaki soruları cevaplayınız.

Anne

Yukarıdaki kelimedede kaç tane ünlü harf vardır?

A) 1 B) 2 C) 3

2. Aşağıdaki görsellerden hangisinin isminde iki tane ünlü harf yan yana gelmiştir?



3. Aşağıdaki kelimelerin hangisinde ünlü sayısı daha fazladır?

A) Kardeş B) Baba C) Aile

E. Aşağıda verilen sözcüklerdeki ünlü ve ünsüz harfleri örnekteki gibi yazınız.

1 pantolon

Ünlü Harfler
a, o, o
Ünsüz Harfler
p, n, t, l, n

2 etek

Ünlü Harfler
Ünsüz Harfler

3 kahve

Ünlü Harfler
Ünsüz Harfler

4 ormanlık

Ünlü Harfler
Ünsüz Harfler

5 çaydanlık

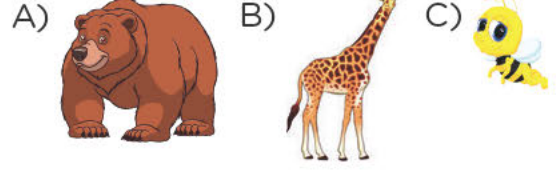
Ünlü Harfler
Ünsüz Harfler

6 ayakkabılık

Ünlü Harfler
Ünsüz Harfler

F. Aşağıdaki soruları cevaplayınız.

1. Aşağıdaki hayvanlardan hangisinin adı ünsüz (sessiz) harf ile başlar?



2. Aşağıdaki meyvelerden hangisinin adı ünlüyle başlayıp ünlüyle biter?



3. Aşağıdaki adlardan hangisi aynı sesle başlayıp aynı sesle bitmiştir?

A) Terim B) Kalın C) Mum

4. Aşağıdaki sözcüklerin hangisinde iki ünsüz (sessiz) harf yan yana gelmiştir?

A) Prenses B) Ali C) Kuş

5. Aşağıdaki sözcüklerden hangisinin ünlü ve ünsüz harfleri yanlış gösterilmiştir?

A)

Havlu	
Ünlü Harfler	Ünsüz Harfler
a, u	h, v, l

B)

Göz	
Ünlü Harfler	Ünsüz Harfler
ü	g, z

C)

Akıllı	
Ünlü Harfler	Ünsüz Harfler
a, l, l	a, k, l, l

ÜNLÜ HARFLER

Alfabenin en başında,
A bulunur a, a, a.
E ile devam eder.
Ünlü harfler.
Süt içerim ılık ılık,
Işıl sende iç lık lık.
Harflerin incisidir,
Alfabenin on ikincisidir.
Sıfır desen sıfır değil
Noktalı haline “Ö” denir.
Uykudan uyandı Ufuk,
Koş yakala çabuk.
Horoz öter üürü üüü
Haydi gidelim yürü...

G. Aşağıdaki soruları cevaplayınız.

1. Alfabenin en başında
A bulunur a, a, a.
Süt içerim ılı_ ılık
Işıl sende iç l_k lık
A_fabenin on ikincisidir.
Sıfır desen sıf r deęi_
Noktal_ haline “Ö” denir.

Sıırde eksik bırakılan harfler sırayla yan yana yazıldığında hangi sözcük oluşur?

A) Akıl B) Akıllı C) Akıllılar

2. Alfabemizde kaç tane ünlü (sesli) harf vardır?
A) 8 B) 21 C) 29
3. Alfabemizdeki ünlü harfleri yazınız.

AĞUSTOS BÖCEĞİ İLE KARINCA

Ağustos böceği, bütün yaz saz çalıp şarkı söylemiş. Karınca ise yazı kış hazırlığı yaparak geçirmiş. Günler böyle gelmiş geçmiş. Kış kapıya dayanmış. Üşüyen ağustos böceği yiyecek bulamaz olmuş. Gitmiş komşusu karıncaya:

- “Karınca kardeş, havalar çok soğudu. Çok üşüyorum, üstelik karnım da çok aç.” demiş. Karınca ağustos böceğinin haline acımış. Bir daha yazı güzel geçirmesini tembihleyerek evine almış. O günden sonra ağustos böceği çok çalışkan bir böcek olmuş.

H. Aşağıdaki soruları cevaplayınız.

1. Ağustos böceği, bütün yaz ne yapmış?

2. Karınca, yazı nasıl geçirmiş?

3. Kışın karıncanın kapısını çalan ağustos böceği, karınca tarafından nasıl karşılanmış?

4. “Tembihlemek” kelimesinin anlamı aşağıdakilerden hangisidir?
A) Uyarmak B) Kızmak
C) Üzölmek
5. Bir küçücük kumbara, erzak taşır ambara
Yukarıda verilen bilmece nin cevabı aşağıdakilerden hangisidir?
A) Ağustos böceği B) Kelebek
C) Karınca

A. Aşağıdaki metni okuyunuz.

DOĞA YÜRÜYÜŞÜ



Merhaba, benim adım Kuzey! Biz, annem ve babam ile birlikte küçük, şirin bir köyde, kırmızı çatılı bir evde oturuyoruz. Evimizin kocaman bir bahçesi var. Bahçemizin az ilerisinde şırl şırl akan küçük bir dere var. De enin üzerindeki kahverengi köprüden geçerek doğa yürüyüşü yapmaya bayılıyoruz. Evimizin önünde ahır ve hayvanlarımız var. Bugün ben mavi tulumumu giydim. Annemin ise yeşil eşofmanları yürüyüş için çok uygun. Babamda güneş rengindeki eşofmanları ile göz kamaştırıyor. Yürüyüşümüzde toprak rengi dağlar ve yemyeşil ağaçlar bizi selamlıyor.

B. Aşağıdaki soruları cevaplayınız

1. "Doğa Yürüyüşü" metnindeki çocuğun adı nedir?

2. "Doğa Yürüyüşü" metnindeki çocuk nasıl bir yerde yaşamaktadır?

3. Yaşadığınız yerin özelliklerini yazınız.

Haydi Düşünelim



Yanda verilen kelime aşağıdakilerden hangisidir?

- A) Ayı B) Arı C) Atı

C. Aşağıdaki soruları cevaplayınız.

1. Aşağıdaki kelimelerin hangisinde ünsüz harf sayısı daha fazladır?

- A) Kaplumbağa B) Televizyon
C) Dedektifler

2.



Yukarıda verilen harfleri kullanarak aşağıdaki kelimelerden hangisini yazamayız?

- A) Askı B) Atkı C) Taki

3. Alfabemizde kaç tane ünsüz (sesiz) harf vardır?

- A) 29 B) 8 C) 21

D. Aşağıda verilen bilmecelerin cevaplarını görseller arasından bularak eşleştiriniz.

1

Uzaktan baktım
Bir kara taş.
Yanına vardım
Dört ayaklı bir baş.



2

İki camlı pencere,
Bakıp durur
Her yere.



3

Kuyruğu var,
at değil.
Kanadı var,
Kuş değil



4

Uzundur,
İp değil.
ısıtır,
Köpek değil.



5

Dışı var,
İçi yok.
Tekme yer,
Suçu yok.



E. Aşağıdaki soruları cevaplayınız.

SİNCAP

Kuşlar uçar,
Şu ağacın tepesinde.
Var bir sincap
Ceviz kırar, yemek arar.

Her gün göremem ki,
Saklar onu,
Anne yapraklar.

Fazıl Hüsnü DAĞLARCA



TÜRKÇE

(1, 2, 3 ve 4. soruları yukarıdaki şiire göre cevaplayınız)

1. Ağacın tepesinde ne varmış?

A)



B)



C)



2. Aşağıdaki hayvanlardan hangisinin ismi şiirde geçmez?

A) Sincap

B) Kuş

C) Baykuş

3. Sincap, ne yaparmış?

A) Fındık kırar.

B) Ceviz kırar.

C) Dal kırar.

4. Sincap ne ararmış?

A) Yemek

B) İçecek

C) Yavrusunu

OKULUMUZ

Her yerden daha güzel,
Bizim için burası,
Okul, sevgili okul,
Neşe, bilgi yuvası.

Güzel kitaplar burada,
Birçok arkadaş burada,
İnsan nasıl sevinmez,
Böyle yerde okurda.

Senin çatın altına,
Girmez kötü duygular,
Bilgi giren yerlerde,
Kalmaz artık kaygılar.

Rakım ÇALAPALA

F. Aşağıdaki soruları cevaplayınız.

- Her yerden daha güzel olan yer neresidir?
- Okulda neler vardır?
- Şiirin şairi kimdir?
- Şiirin son dördlüğüne göre okulun çatısının altına ne girmez?
A) Öğrenciler B) Kötü duygular
C) Öğretmenler
- Aşağıdakilerden hangisi "kaygı" kelimesinin anlamıdır?
A) Kötü bir sonuç doğacak diye duyulan üzüntü.
B) Yapılan sürpriz karşısında duyulanmak.
C) Bir kişinin yaptığı yanlış davranışlar.

G. Aşağıda verilen metinlerle ilgili görselleri eşleştiriniz.

Pamuk, sürüdeki en sevimli kuzuydu. Pamuk bir gün oyun oynarken sürüden ayrıldı. Ormanın içinde bir süre dolaştıktan sonra yeniden sürüsünün yanına geldi.



1

Küçük kedi yavrusu çok sevimli görünüyordu. Önüne atılan yumağıyla oynamayı çok seviyordu. Karnı acıkınca sütünü içerek yumuşacık yatağına uyumaya başladı.




2

Balkonumuzdaki çiçekleri suladık. Bütün çiçeklerin içinde açan en güzel çiçek güldü. Kıpırmızı rengiyle hemen fark ediliyordu. Rüzgarda yavaş yavaş salınıyordu.




3

Kış günü odamın penceresinin önüne sevimli bir serçe kondu. Aç olduğu her halinden belli idi. Hemen bir kaç parça ekmek alıp önüne koydum. Hepsini yedi ve uçarak uzaklaştı.



4

A. Alfabemizdeki harfleri sırasıyla takip ederek Pelin'in okuluna ulaşmasını sağlayınız.



B. Aşağıdaki soruları cevaplayın z.

1. Harflerin belli bir sıraya göre dizilişine ne denir?

2. Alfabemizde toplam kaç harf vardır?

3. Alfabemizin ortasında hangi harf vardır?

Haydi Düşünelim

Alfabemizin yirmi birinci harfi aşağıdakilerden hangisidir?

A) P B) R C) S

C. Aşağıdaki soruları cevaplayınız.



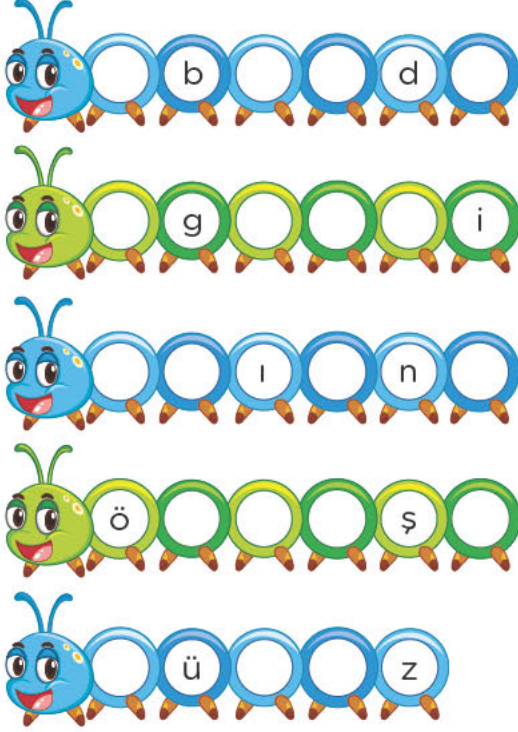
Tren vagonlarında boş bırakılan yere hangi harf yazılmalıdır?

A) İ B) G C) M

2. Aşağıdaki hayvanların hangisinin isminde bulunan harf sayısı daha azdır?



D. Aşağıda verilen tırtılların üzerinde boş bırakılan yerleri alfabetik sıraya göre tamamlayınız.



E. Aşağıdaki kelimelerin kaç harften oluştuğunu yanlarına yazınız

1	Uçak	4	2	Çiçek	
3	Aç		4	Cam	
5	Kitap		6	Sandalye	
7	Tok		8	Dünya	
9	Kanepe		10	Kitaplık	
11	At		12	Kalabalık	

Bilmece


Halanda var, babanda yok. Hüseyin'de var, Emine'de yok.




Cevap: H harfi

F. Aşağıdaki soruları cevaplayınız.

1. Aşağıdaki seçeneklerden hangisinde alfabetik sıraya uyulmamıştır?

- A) A-B-C-Ç-D-E
B) K-L-M-N-O-Ö
C) F-G-H-I-İ-J

2.  Aşağıdaki görsellerden hangisinin ismindeki ünsüz (sessiz) harfler verilen kelimenin ünsüz harfleri ile aynıdır?

- A)  B) 
C) 




3. "A_aç" kelimesini hangi harf ile tamamlarsak anlamsız bir kelime oluşur?

- A) ğ B) r C) v

4. Aşağıdaki harflerden hangisi alfabede daha önce gelir?

- A) g B) b C) f

5. Aşağıdaki görsellerden hangisinin adında daha fazla harf vardır?

- A)  B) 
C) 

6. Ok_lumu çok seviyorum.

Yukarıdaki cümlede boş bırakılan yere gelmesi gereken ses aşağıdakilerden hangisidir?

- A) a B) u C) e

ALFABENİN ÖYKÜSÜ

Alfabe bahçesini

Aydınlatan güneşiz.

Birbirini çok seven

Yirmi dokuz kardeşiz.

El ele tutuşunca

Hemen oluruz hece.

Siz bizleri hem yazın

Hem okuyun güzelce.

İnternet

G. Aşağıda harflerin alfabetik sırası verilmiştir. Buna göre kutulardaki sayılara karşılık gelen harfleri yazarak şifreyi bulunuz.

A	B	C	Ç	D	E	F	G	Ğ	H
1	2	3	4	5	6	7	8	9	10
I	İ	J	K	L	M	N	O	Ö	P
11	12	13	14	15	16	17	18	19	20
R	S	Ş	T	U	Ü	V	Y	Z	
21	22	23	24	25	26	27	28	29	

G				
8	26	17	6	23

8	12	21	16	6	28	6	17

6	27	6	5	18	14	24	18	21

		R		
8	12	21	6	21

OKULUN SON GÜNÜ

Ayberk, birinci sınıfta olduğu için çok mutluydu. İlk dönem bitmiş karne günü gelip çatmıştı. Ayberk, anne ve babası ile okula gitti. Karnesini alırken öğretmenine:

- “Öğretmenim, artık okuma-yazma öğrendiğimize göre okula gelmemize gerek yok, değil mi?” dedi. Ayberk’in bu sözü herkese tebessüm ettirdi. Öğretmeni:

- “Ayberkcim okuma-yazmamızı geliştirmek ve yeni bilgiler öğrenmek için ikinci dönem de okulumuza geleceksiniz.” dedi

Ayberk abırsızlıkla ikinci dönemi beklemeye başladı.

H. Aşağıdaki soruları cevaplayınız.

1. Ayberk kaçınıcı sınıfa gidiyordu?
2. Ayberk, niçin artık okula gelmesine gerek kalmadığını düşünüyor?
3. Ayberk ve arkadaşları ikinci dönem neler öğrenecekler?
4. “Tebessüm ettirmek” kelimesi ne anlama gelir?
A) Ağlatmak B) Güldürmek
C) Kızdırmak
5. “Ayberk, karne aldı.” cümlesi kaç harften oluşur?
A) 13 B) 14 C) 15

A. Alfabemize göre aşağıda verilen harflerden önce ve sonra gelen harfleri yazınız.

..... e

..... g

..... j

..... b

..... d

..... m

..... o

..... k

..... v

..... p

..... n

..... t

..... h

..... ş

..... i

B. Aşağıda verilen kelimeleri alfabetik sıraya koyunuz.

<input checked="" type="radio"/> 2	Arkadaş	<input type="radio"/>	Çan a
<input type="radio"/>	Bebek	<input type="radio"/>	Kalem
<input type="radio"/>	Cam	<input type="radio"/>	Defter
<input type="radio"/>	Ispanak	<input checked="" type="radio"/> 9	Kitap
<input type="radio"/>	Patlıcan	<input type="radio"/>	Silgi
<input type="radio"/>	Marul	<input checked="" type="radio"/> 1	Araba

Haydi Düşünelim

Aşağıdaki kelimelerin hangisi alfabe-
bede daha önce gelir?

- A) Önlük B) Pırasa C) Orman

C. Aşağıdaki soruları cevaplayınız.

1.



Yukarıda verilen noktalı yerler
doldurulduğunda aşağıdaki seçe-
neklerden hangisi dışta kalır?

- A) f B) ı C) i

2.



Yukarıda verilen isimler alfabetik
sıraya göre sıralandığında hangi
isim ortada olur?

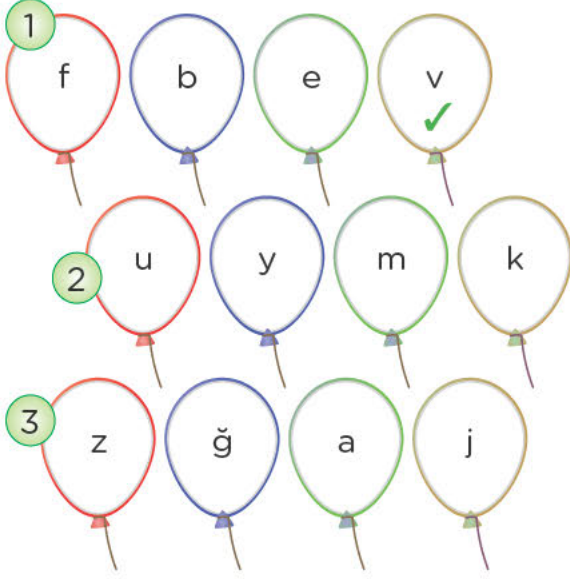
- A) Dursun B) Bekir C) Ali

3.

Aşağıdaki kelimelerden hangisi
alfabede daha sonra yer alır?

- A) Makas B) Karton C) Nane

D. Aşağıda verilen harf gruplarından alfabemizde daha sonra gelenleri örnekteki gibi işaretleyiniz.



E. Sözcükleri alfabetik (abecesel) sıraya örnekteki gibi diziniz.



F. Aşağıdaki soruları cevaplayınız.

1. “Dondurma” kelimesi kaç harften oluşur?

A) 6 B) 7 C) 8

2. Alfabemizin 18. harfi aşağıdakilerden hangisidir?

A) o B) ö C) r

3.

.....
2	1	3	1

Yukarıda alfabetik numaraları verilen kelime aşağıdakilerden hangisidir?

A) Ko u B) Baca C) Buca

4. Aşağıdaki harflerden hangisi alfabetik sıralamada diğerlerinden sonra gelir?


A) H B) L C) P

5. Alfabemizde “T” harfinden bir önce ve bir sonra gelen harfler sırasıyla hangileridir?

A) Ş ile U B) E ile F
C) J ile K

6. Aşağıdaki hayvanlardan hangisinin ismi alfabetik sıralamada diğerlerinden daha önce gelir?

A)  B) 

C) 

ALFABE

Minik Ebru, gözlerinden şikayetçiydi. Babası onu göz doktoruna götürdü.

Eve döndükten sonra telaşlı anne, babaya dönerek:

“Doktor, Ebru’nun gözleri için ne söyledi?”

Adam cevap verdi:

“Alfabeyi öğrenmesini...”

G. Aşağıdaki soruları cevaplayınız.

1. Ebru niçin doktora gitmiştir?

2. Ebru’yu doktora kim götürmüştür?

3. Doktor, Ebru ya ne demiştir?

4. “Alfabenin A’ dan başlayarak Z’ ye kadar belli bir dizi içinde sıralanışına denir.”

Yukarıda verilen cümlede noktalı yere aşağıdakilerden hangisi yazılmalıdır?

- A) Alfabe
- B) Alfabetik Sıralama
- C) Sıralama

OKUMA BAYRAMI

Ne okumak ne yazmak,

Bilmiyordum evvelce.

Kelimeleri bırak,

Yazamazdım A, B, C.

Bütün harfler yüzüme,

Alay eder bakardı.

Eğri büğrü çizgiler,

Çok canımı sıkardı.

Bir gün dedim içimden,

Alay edin bakalım!

Görürsünüz siz beni,

Nasıl okur yazarım!

İ. Hakkı TALAS

H. Aşağıdaki soruları cevaplayınız.

1. Şiire göre çocuk önceden ne bilmiyormuş?

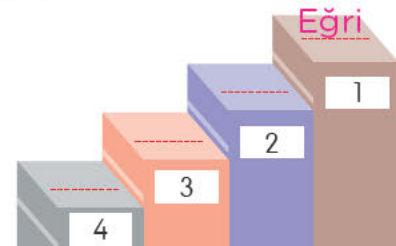
- A) Bisiklet sürmeyi
- B) Evinin adresini
- C) Okuma- yazmayı

2. Çocuğun yüzüne alay ederek bakan nedir?

- A) Sayılar B) Harfler C) Kitaplar

3. Çocuk bir gün içinden ne demiş?

4. Şiirde altı çizili kelimeleri alfabetik sıraya koyarak aşağıdaki yerlere yazınız.



A. Aşağıda verilen resimlere uygun cümleler yazınız. Çocuklara isim verebilirsiniz

1  Çocuk, ders çalışıyor.

2 

3 

4 

B. Aşağıdaki görsele uygun üç cümle yazınız.








Haydi Düşünelim


Aşağıdaki görsellerden hangisi çevre kuralları ile ilgili değildir?

A)  B)  C) 

C. Aşağıda görselleri verilen nesnelerin adlarını altlarına yazınız.

1  2 

3  4  5 

6 

D. Aşağıdaki soruları cevaplayınız.

1. Mutlu olduğumuzu anlatan yüz ifadesi aşağıdakilerden hangisidir?



A)  B)  C) 


2. Yandaki levhanın anlamı aşağıdakilerden hangisidir?



A) Okul Geçidi B) Yaya geçidi
C) Üst geçit

3. Aşağıdaki görsellerde yer alan hayvanlardan hangisi diğerlerine göre daha hızlı koşar?

A)  B) 

C) 


E. Aşağıda verilen görselleri adlarıyla örnekteki gibi eşleştiriniz.




F. Aşağıdaki soruları cevaplayınız.

1.  Yandaki görsel aşağıdakilerden hangisiyle ilgilidir?


A) Kuraklık B) Yangın C) Oyun

2.  Yandaki görselde yer alan yiyecek genellikle hangi mevsimde tüketilir?

A) Kış B) Sonbahar C) Yaz

3.  Yandaki gör elde anlatılmak is enen aşağıdakilerden hangisidir?

A) Sessiz olunuz.
B) Gürültü yapınız.
C) Kavga etmeyiniz.

4.  Yandaki görselde verilen kişinin çaldığı müzik aleti aşağıdakilerden hangisidir?

A) Davul B) Keman C) Saz




5. Aşağıdaki görsellerden hangisinde spor yapan bir kişi vardır?

A)  B) 

C) 



ki: “Benim düşmanlardan kurtulmak için 10 tane oyunum var.”

 cevap verdi: “Ben bir oyun bili-
rim, o da bana yeter” dedi.  , 

ye küçümser  le bakarken, or-

manın içinden  sürüsünün gel-


diğini gördüler.  , hemen en yakın

 a tırmandı.  is kendi

kendine düşünüyordu: “Acaba hangi
oyunumla bu  lerden kurtulayım?

Şu yöntemi mi deneyeyim, yoksa öte-
kini mi?”  böyle düşünürken

 ler ve  çoktan gelmişti. Et-

rafının sarıldığını gören  korku-


dan bütün oyunları unutuverdi. 

da  yi kuyruğundan yakalayıp

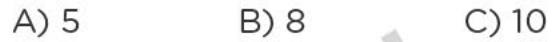
torbasına atıverdi.

G. Aşağıdaki soruları yandaki hikâyeye göre cevaplayınız.

1. Yandaki hikâyede sohbet eden hayvanlar arasında hangisi yoktur?



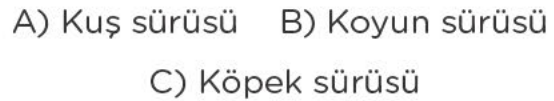
2. Tilkinin düşmanlardan kurtulmak için kaç tane oyunu vardır?



3. Düşmanlarından kurtulmak için bir oyun bilen hayvan aşağıdakilerden hangisidir?



4. Ormanın içinden gelen sürü aşağıdakilerden hangisidir?









5. Etrafının sarıldığını gören tilki ne yapmıştır?

6. Tilkiyi kuyruğundan yakalayıp torbasına atan kimdir?

7. Bu metnin okuyucuya vermek istediği ders nedir?

A. Tablodaki heceleri kullanarak örnekteki gibi sözcükler oluşturunuz.

Ör		Ördek		mut
Kol			tar
Ar			dek
Göz			ta
Gi			lük
Çan			tuk




B. Aşağıdaki soruları cevaplayınız.

1. Bir heceden oluşan üç kelime yazınız.

2. Tek hece ve dört harften oluşan üç kelime yazınız.

Haydi Düşünelim

Aşağıdaki hayvanlardan hangisinin ismi tek heceden oluşur?




- A)  B)  C) 

C. Aşağıdaki soruları cevaplayınız.

1. Aşağıdaki kelimelerin hangisinde hece sayısı farklıdır?

A) Harf B) Hece C) Sözcük

2. Aşağıdaki hayvanların hangisinin isminde bulunan hece sayısı daha fazladır?

A)  B)  C) 

3. Türkçede bir hecede en az kaç harf bulunur?

A) 3 B) 1 C) 2

4. ke bek le be

Yukarıda verilen heceler kullanılarak aşağıdaki kelimelerden hangisi oluşturulamaz?

A) Bebek B) Kelebek C) Belek

D. Aşağıda verilen hecelerden örnekteki gibi yeni kelimeler oluşturunuz.

1 ke
 di kedi
 ne
 pek


2 ta
 mir
 rak
 şit

3 de
 de
 mir
 niz

4 ha
 va
 yat
 vuç

5 at
 ki
 las
 let

E. Aşağıdaki soruları cevaplayınız.

1.  Yandaki meyvenin adında aşağıdaki hecelerden hangisi yoktur?

A) mon B) ka C) li

2. Aşağıdaki kelimelerden hangisi hecelerine yanlış ayrılmıştır?

A) Ek- mek B) Di-lek
C) Tak-ım

3. “di”, “rek”, “ke” hecelerinden hangisi oluşturulmaz?

A) keman B) direk C) kedi

4. 




Yukarıdaki kelimelerden kaç tanesinde “te” hecesi vardır?

A) 1 B) 2 C) 3

5.  Yanda verilen heceye hangi hece getirilirse “özel isim” olmaz?

A) dem B) sım C) kıl

6. Aşağıda verilen varlıklardan hangisinin adının ilk harfi tek başına hece olur?

A)  B) 
C) 

RÜZGÂR İLE GÜNEŞ

Bir gün güneş ve rüzgâr; “Ben güçlüyüm”, “Ben senden daha güçlüyüm” diyerek aralarında tartışmaya başlamış.

Rüzgar oradan geçen adamı gösterek “Ben daha güçlü olduğumu sana kanıtlayacağım.” demiş ve tüm kuvveti ile esmeye başlamış. O kuvvetle estikçe adam paltosuna daha sıkı sarılmış.


Rüzgâr, sonunda pes etmiş. Güneş, bulutların arasından çıkarak adama nazikçe gülümsemiş. Sıcaklık arttıkça artmış. Çok geçmeden adam paltosunu çıkarmış.

Güneş, rüzgâra dönerek:

“Nazikçe ve dostça davranış kaba davranıştan daha etkilidir.” demiş.

F. Aşağıdaki soruları cevaplayınız.

1. Aşağıdakilerden hangisi yukarıdaki masalda bulunmaz?



2. Yoldan geçen adam neden paltosuna daha sıkı sarılmış?

3. Masalın sonunda güneş, rüzgâra ne demiş?

4. Aşağıdaki kelimelerin hece sayılarını yazınız.

Rüzgar Güç
Güneş Ben
Gülümsemiş Sıcaklık

ÇALIŞKAN ARI

Çalışmayı çok seven,

Bir bal arısı varmış.

Çiçeklerden çiçeğe

Koşar, koşar, koşarmış.

Hiç durmadan çalıştım.

Bende oldum bir arı.

Fakat bilgi topladım,

Dolaştım kitapları.

İ. Hakkı TALAS

G. Aşağıdaki soruları cevaplayınız.

1. Şiirde geçen tek hece li kelimeleri yazınız



2. “Çalışkan Arı” başlığı kaç heceden oluşmuştur?

3. Aşağıdaki kelimelerin hangisinin hece sayısı daha fazladır?

A) Bilgi B) Kitapları C) Arısı

4. Aşağıdaki görsellerden hangisinin adında “ka” hecesi yoktur?





5. çek çi lek

Yukarıda verilen heceler ile aşağıdaki kelimelerden hangisi oluşturulamaz?

A) çekici B) çilek C) çiçek

A. Aşağıda görselleri verilen varlıkların isimlerini yazınız.



B. Aşağıdaki soruları cevaplayınız.

1. Cümlede kullanılan anlamlı ve anlamsız sözlere ne denir ?

2. Aşağıda verilen kelimele in son harfleri ile yeni kelimeler yazınız.

Oku → Umut → Tamer → Robot

Sözlük → → →

Takım → → →

Çorap → → →

Tarak → → →

Ayı → → →

Haydi Düşünelim

Aşağıdaki kelimelerden hangisinin tek başına anlamı yoktur?

A) ayak B) ve C) el

C. Aşağıdaki soruları cevaplayınız.

1.  ü ş e n g

Yukarıdaki harfleri kullanarak aşağıdaki kelimelerden hangisini oluşturabiliriz?

A) Güleç B) Güneş C) Günlük

2. Aşağıdaki görsellerin hangisinin adı iki kelimedenden oluşur?



3. Aşağıdaki kelimelerden hangisinin ilk hecesi dört harften oluşur?

A) Dörtlük B) Meraklı C) Antika

D. Aşağıda harfleri karışık olarak verilen kelimeleri bulunuz.

1 Ü T S → ÜST

2 L E K A →

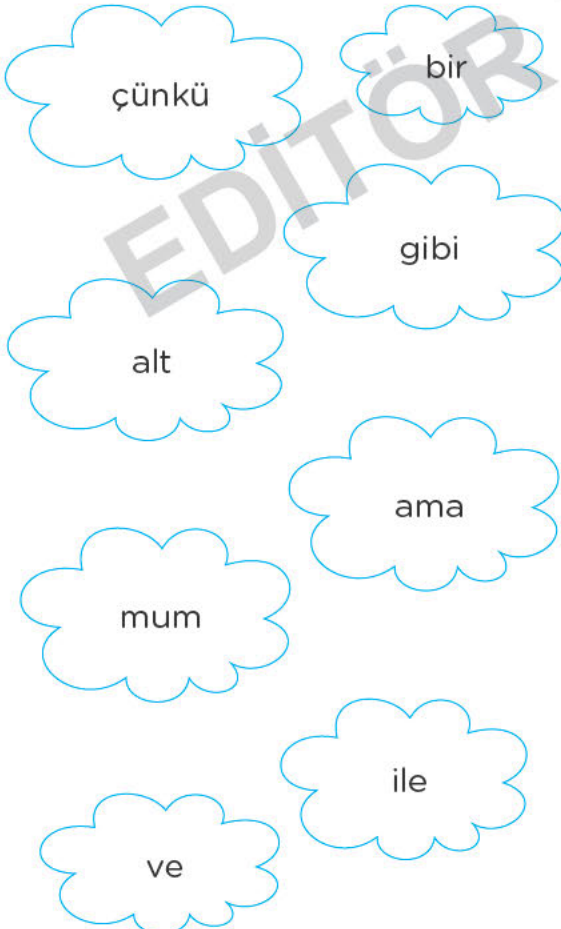
3 R İ K E →

4 K A T O →

5 A L I K B →

6 Ş P A A K →

E. Aşağıda verilen kelimelerden tek başına anlamı olmayanların yazılı olduğu bulutları boyayınız.



F. Aşağıdaki soruları cevaplayınız.

- Aşağıdaki cümlelerin hangisinde tek başına anlamlı olmayan bir kelime kullanılmıştır?
 - Bugün hava çok sıcak.
 - Pınar ile Peri ders çalışıyorlar.
 - Akşam yemeğini hazırladık.
- Aşağıdaki kelimelerden hangisinin tek başına bir anlamı yoktur?
 - kadar
 - az
 - taş
- Aşağıdaki cümlelerden hangisinin kelime sayısı diğerlerinden fazladır?
 - Dün a şam güzel bir film izledik.
 - Dün akşam bir film izledik.
 - Akşam güzel bir film izledik.
- Hangi renk balonda yazılı olan kelimenin tek başına anlamı yoktur?

 - Pembe
 - Mavi
 - Sarı
- Ocak ayı çok soğuk geçti.
Yukarıdaki cümle kaç kelimedenden oluşmuştur?
 - 3
 - 4
 - 5
- Aşağıdaki cümlelerden hangisinin kelime sayısı diğerlerine göre daha fazladır?
 - Hafta sonu pikniğe gideceğiz.
 - Karnım çok acıktı.
 - Kedi yumakla oynuyordu.

YARALI KUŞ

Cemre mutfakta annesine yardım ederken birden bir ses duydu. Sanki cama bir şey çarpmıştı. Hemen annesi ile balkona çıktı. Fakat o da ne? Küçük yavru kuş, yolunu şaşırması olmalı ki balkon kapısının camına vurmuş, yerde öylece yatıyordu. Cemre ve annesi yaralı kuşu hemen veterinerine götürdü. Veteriner kuşu tedavi etti. Cemre, eve gelince yavru kuşa bir kaç gün baktı. Yaralı kuş iyileşince annesinin yanına uçtu.

G. Aşağıdaki soruları cevaplayınız.

1. Cemre ve annesi balkona çıkınca ne gördüler?

2. Cemre ve annesi balkonda buldukları hayvanı nereye götürdüler?

3. Yaralı kuş iyileşince nereye uçtu?
A) Uzak diyarlara
B) Ağacın dalına
C) Annesinin yanına
4. "Veteriner" kelimesinin anlamı aşağıdakilerden hangisidir?
A) Hasta bakıcı
B) Hayvanların hastalıklarına bakan hekim
C) Hayvan yakalayan kimse

BEN

Her şeyin bir rengi vardır.

Gök mavi,
Ağaç yeşil,
Başak sarı.


Herkesin bir rengi vardır.

Annem kırmızı,
Babam mor,
Ablam pembe
Ben
Ebemkuşağı.

Ayla ÇINAROĞLU

H. Aşağıdaki soruları cevaplayınız.

1. Şiir kaç kelimedenden oluşmuştur?
A) 20 B) 24 C) 30
2. Şiire göre çocuğun annesi hangi renktir?
A) Mor B) Pembe C) Kırmızı
3. Çocuk, kimin rengini mora benzetmiştir?
A) Annesinin B) Babasının
C) Ablasının
4. Çocuğun rengi nedir?
A) Ebemkuşağı B) Yeşil
C) Mavi
5. Aşağıdaki ebemkuşağını (gökkuşağı) renklerine uygun boyayınız.



A. Aşağıdaki metni okuyarak metinde istenen çalışmaları yapınız.



- Resmin sağ üst köşesine güneş çiziniz.
- Güneşin alt tarafına iki tane elma ağacı çiziniz.
- Ağaçlara onar tane elma çizerek elmaları ve güneşi arı a boyayınız.
- Ağacı istediğiniz renge boyayınız.
- Kız çocuğunun kıyafetini pembeye ve keçinkini maviye, anneninkini kırmızıya, babaninkini kahverengiye boyayınız.
- Arabayı ve evi istediğiniz renge boyayınız.
- Resme çiçekler çizerek çiçekleri istediğiniz renge boyayınız.

B. Aşağıdaki soruları cevaplayınız.

İsmail bugün Antalya'ya gitti

1. Kim gitti?


2. Nereye gitti?




Haydi Düşünelim

“Selma ile Sevim bahçede buluştu.” cümlesinde bahçede buluşan kişiler arasında aşağıdakilerden hangisi yoktur?

A) Selvi B) Selma C) Sevim

C. Aşağıdaki soruları cevaplayınız.

1.  Yumurta ile tavuk arasında bir anlam ilişkisi vardır. Buna göre “süt” ile hangisi arasında bir anlam ilişkisi vardır?

A)  B)  C) 

2. Yaz mevsimi aşağıdakilerden hangisini çağırıştırmaz?

A) Dondurma B) Deniz
C) Kardan adam

D. Aşağıdaki verilen görsellerin çağrıştırdığı iki kelime yazınız.

1



Arkadaş

Öğretmen

2



3



4



5



6



7



8



E. Aşağıdaki soruları cevaplayınız.

Soğuklar başlamak üzereydi. Ağaçlar yapraklarını dökmüş, göçmen kuşlar sıcak ülkelere göç etmeye başlamıştı. Kış mevsiminin habercisi olan bu mevsim kendini iyiden iyiye hissettiriyordu.

1 ve 2. soruları yukarıdaki metne göre cevaplayınız.

1. Yukarıdaki paragrafta anlatılan mevsim aşağıdakilerden hangisidir?

A) Yaz B) Kış C) Sonbahar

2. Aşağıdaki le den hangisi metinde anlatılan mevsimin özelliklerinden iri değildir?

A) Havalar sıcaklaşmaya başlamıştır.

B) Göçmen kuşlar sıcak ülkelere göç etmiştir.

C) Ağaçlar yapraklarını dökmüştür.

3. Aşağıdaki görsel-cümle eşleştirmesinden hangisi yanlıştır?

A)



Çocuk, kitap okuyor.

B)



Çocuk, yazı yazıyor.

C)



Çocuk, koşuyor.

ÜZÜMLERİN TADI

Nasrettin Hoca, bağından eşeğine iki sepet üzüm yükleyip evine dönerken, çevresini çocuklar sarıp kendisinden üzüm istemiş. Hoca herkese birer salkım üzüm vermiş. Çocuklar; Hocam birer salkım az değil mi? diye sorunca: “Çocuklar, ha bir salkım ha on salkım hepsinin tadı aynıdır.” demiş.

F. Aşağıdaki soruları cevaplayınız.

1. Nasrettin Hoca nereden gelmektedir?

2. Nasrettin Hoca'nın eşeğinde aşağıdaki meyvelerden hangisi vardır?
A) Elma B) Üzüm C) Armut
3. Nasrettin Hoca'nın etrafını kimler sarmıştır?
A) Arkadaşları B) Komşuları
C) Çocuklar

G. Aşağıdaki resimlerle isimleri eşleştiriniz.



Mustafa Kemal
Atatürk



Mevlana



Nasrettin Hoca



Keloğlan

EKMEK VE ALTIN

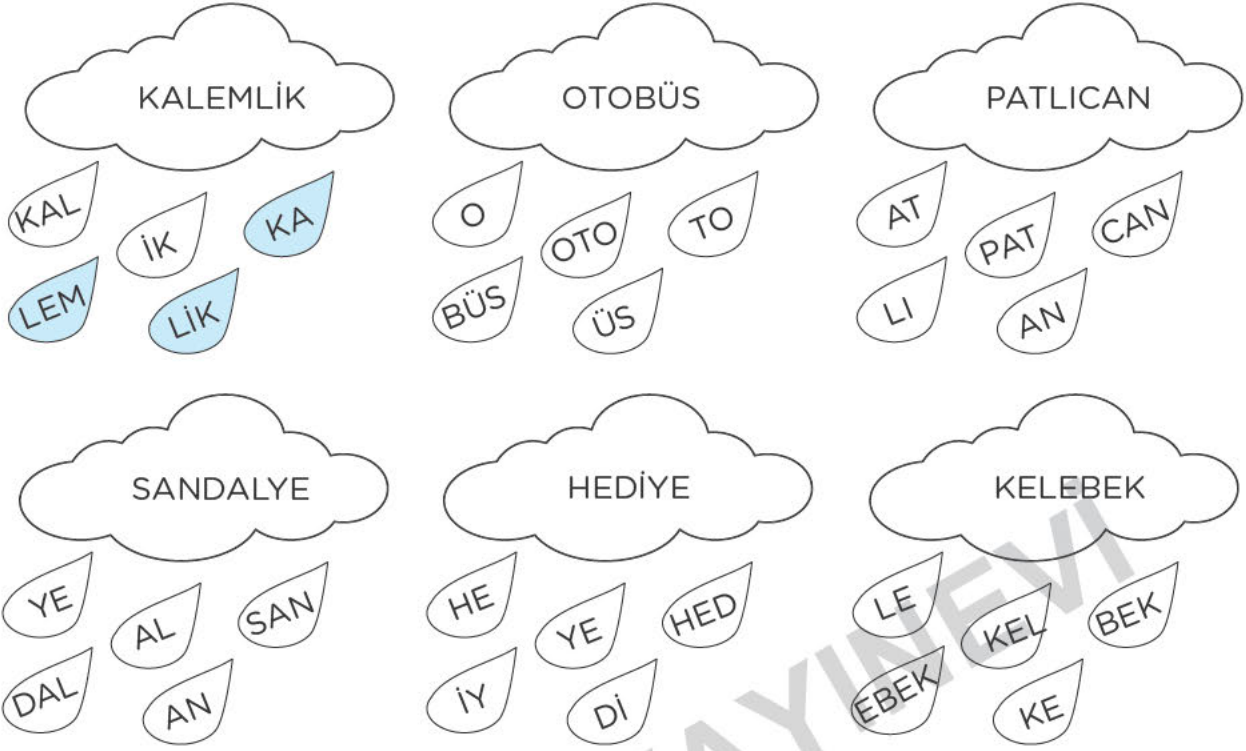
Keloğlan ormana gitmiş. Satmak için odun kesmiş. Odunları şehre götürüp bir fırıncıya satmış. Odunların karşılığında biraz para ve iki ekme almış. Keloğlan akşam olmak üzereyken eve gelmiş. Annesinin hazırladığı sofraya oturmuş. Yemekte kuru fasulye ve pilav varmış. Keloğlan fırından aldığı taze ekme klerden birini bölmüş. O da ne? Ekmeğin içinden kocaman bir altın çıkmış. Meğerse fırıncı her gün bir ekmeğin içine altın koyuyormuş. Keloğlan ve annesi çok mutlu olmuşlar.

H. Aşağıdaki soruları cevaplayınız.

1. Keloğlan odunları kime satmıştır?
A) Kasaba B) Berbere
C) Fırıncıya
2. Keloğlan odunların karşılığında aşağıdakilerin hangisini almamıştır?
A) Para B) Süt C) Ekme
3. Ekmeğin içinden aşağıdakilerden hangisi çıkmıştır?
A) Altın B) Gümüş C) Yakut
4. Keloğlan ormanda ne yapmıştır?

5. Keloğlan'ın annesi hangi yemekleri hazırlamıştır?

A. Bulutta yazan sözcüklerin hecelerine ait yağmur damlalarını örnekteki gibi boyayınız.




B. Aşağıdaki soruları cevaplayınız.

1. Aşağıda verilen kelimelerin kaç heceden oluştuğunu yazınız.

Çiçek 2 Yo
 Papatya Arkadaşlık
 Kaldırım Sevgi

2. Aşağıdaki kelimelerden hece sayısı farklı olanı boyayınız.



Haydi Düşünelim

“İlkokul” kelimesinin hecelerine ayrılmış hali aşağıdakilerden hangisidir?

A) İlk- o- kul B) İl- ko- kul
 C) ilk- ok- ul

C. Aşağıdaki soruları cevaplayınız.

1. Aşağıdaki sözcüklerden hangisinin tek harfli hecesi yoktur?

A) Araba B) Ödev C) Gece

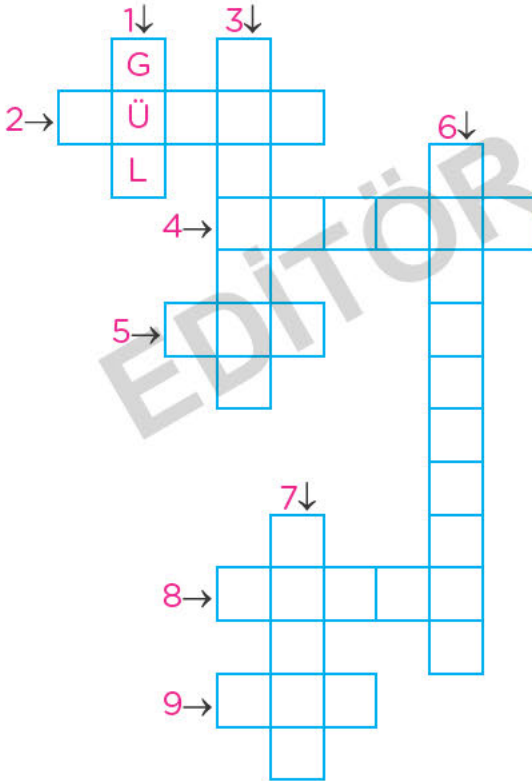

2. Aşağıdaki kelimelerden hangisinin hece sayısı yanlış verilmiştir?

A) Kitaplık → 3 hece
 B) Yağmur → 3 hece
 C) Karadeniz → 4 hece

3. Sözcükleri hecelerine ayırırken aşağıdaki noktalama işaretlerinden hangisi kullanılır?

A) Nokta (.) B) Kısa çizgi (-)
 C) Soru işareti(?)

D. Aşağıda görselleri verilen varlıkların isimlerini bulmacadaki yerlerine yazınız. Kelimeleri hece sayısına uygun yerlere örnekteki gibi yerleştiriniz.



Tek Heceli	Gül
İki Heceli	□ □ □ □
Üç Heceli	□ □ □
Dört Heceli	□ □ □ □

E. Aşağıdaki soruları cevaplayınız.

1. Aşağıda verilen ve satır sonuna sığmayan kelimelerden hangisi hecelerine yanlış ayrılmıştır?

A) sü-
pürge

B) kel-
oğlan

C) ka-
ranlık

2. Aşağıda verilen bilgilerden hangisi yanlıştır?

A) Bir kelimedeki hece sayısını bulmak için o kelimedeki ünlü harfleri sayabiliriz

B) Sesli harfle tek başına hece olabilir

C) Hece her zaman anlamlı sözcüklerden oluşur.

3. Dolunay çıkınca kurt ulumaya
1 2 3 4
başladı.
5

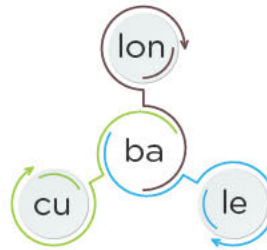
Yukarıdaki cümlede kaç numaralı kelime tek başına hece ve kelime-dir?

A) 1

B) 3

C) 5

4.



Yanda verilen hecelerle aşağıdaki kelimelerden hangisi yazılmaz?

A) Balerin B) Baloncu C) Bale

5. Aşağıdaki kelimelerden hangisi hecelerine yanlış ayrılmıştır?

A) Te- miz- lik- çi

B) Kır- ta- si- ye- ci

C) Hel- i- kop- ter

ZIP ZIP KURBAĞA

Küçük kurbağa bir gün
Su kenarında oynarken
Lastik bir top buldu
Zıp zıp zıplayan...



Açgözlü küçük kurbağa
Ne yapsın da oyunu;
“Aman, ne güzel meyve!” dedi,
Yalamadan yuttu topu.

Ve o günden sonra
Açgözlü küçük kurbağa,
Zıp zıp zıp zıp zıpladı
Yerinde hiç durmadı.




Aziz SİVASOĞLU

F. Aşağıdaki soruları cevaplayınız.

1. Küçük kurbağa nerede oynuyormuş?

- A) Deniz kenarında
B) Su kenarında
C) Bahçede

2. Küçük kurbağa ne bulmuş?

- A)  B)  C) 

3. Kurbağa, topu neden yutmuş?

4. O günden sonra kurbağa ne yapmış?

5. Şiirin birinci dördlüğünde bulunan tek heceli kelimeleri yazınız.

SAĞLIK İÇİN SÜT İÇİN

Merve, sağlıklı beslenmeye özen gösteren bir öğrenciydi. Kahvaltıda süt içer, bal, yumurta, peynir, zeytin gibi sağlıklı yiyeceklerden bolca tüketti. Zaman zaman atıştırmalık besinler tüketse de bunları fazla yememesi gerektiğini çok iyi bilirdi. Merve tüm arkadaşlarına da “Sağlık için süt için” diyerek örnek olurdu.

G. Aşağıdaki soruları cevaplayınız.

1. Merve, nasıl bir öğrenciydi?

2. Merve'nin kahva tıssında neler vardır?




3. Aşağıda verilen kelimeleri hecelerine ayırarak kaç heceden oluştuğunu yanlarına yazınız.

KahvaltıKah-val-tı.....	3
Atıştırmalık	
Süt	
Sağlık	

4. Merve, arkadaşlarına ne diyerek örnek olurdu?

- A) Spor yapın, sağlık bulun.
B) Sağlık için yürüyüş yapın.
C) Sağlık için süt için.

5. Aşağıdaki besinlerden hangisini her zaman tüketmeliyiz?

- A)  B)  C) 

A. Aşağıda verilen resimlere uygun cümleler yazınız.

1		Ömer, bisiklet sürüyor.
2	
3	
4	

B. Aşağıdaki soruları cevaplayınız.

1. Bir kelimedenden oluşan cümle olur mu? Örnek veriniz.

2. Aşağıdaki noktalı yerlere üç tane cümle yazınız.

3. "Benim sözümü hiç dinlemiyor." cümlesi kaç kelimedenden oluşur?

Haydi Düşünelim

Aşağıdakilerden hangisi cümle değildir?

- A) Geldi B) Oku C) Sen

C. Aşağıdaki soruları cevaplayınız.

1. oynadım bahçede oyun

Yukarıda verilen kelimeler ile aşağıdaki cümlelerden hangisi oluşturulabilir?

- A) Ali bahçede oyun oynadı.
B) Bahçede oyun oynadım.
C) Bahçede oyun

2. "Arkadaşlarımı çok"

Yukarıdaki cümle aşağıdaki kelimelerden hangisi ile tamamlanamaz?

- A) tanıdım
B) özledim
C) seviyorum

D. Aşağıdaki sözcük gruplarını örnekteki gibi eşleştirerek cümleler oluşturunuz.

Her gece	kondu.
Pencereme kuş	kitap okurum.
Bahçemizdeki çiçekleri	seviyorum.
Babamla gölde	suladık.
Ailemi çok	balık tuttuk.
Derslerime düzenli	çalıştım.

E. Aşağıdaki sözcük gruplarından cümle olanların başına (✓) cümle olmayanların başına (X) işareti koyunuz.

X	Ben de seni çok
	Hava bugün yağmurlu
	Eve geldiğimde
	Arkadaşlarla top oynadık
	Sabah erkenden kalktım
	Okulun bahçesindeki çiçek
	Sen kiminle
	Güler misin

F. Aşağıdaki soruları cevaplayınız.

1. Eve gidiyorum
 Gözlerim
 Tut

Yukarıda verilenlerden hangisi ya da hangileri cümle değildir?


- A) ve B) Yalnız
C) ve

2. "Annem, bulaşık yıkadı."

Yukarıda verilen tümceden hangi kelime çıkarılırsa tümce özelliği kaybolur?

- A) annem B) bulaşık C) yıkadı

- 3.



Yukarıda verilen cümlede noktalı yere aşağıdakilerden hangisi yazılmaz?

- A) Sinemaya B) Pikniğe
C) Kapalı

4. "Kar yağdığı için"

cümlesinde noktalı yere aşağıdakilerden hangisi yazılabilir?


- A) her yer bembeyaz oldu.
B) denize girdik.
C) çok sıcakladım.

SPOR YAPAN UZUN KULAK

Bir varmış, bir yokmuş. Uzaklarda bir yerlerde çok güzel bir orman varmış. Bu ormanda çeşit çeşit bir sürü hayvan yaşarmış. Bu hayvanlardan biri de spor yapması ile bilinen “Uzunkulak” mış. Uzunkulak her sabah erkenden kalkar, güneşe karşı sporunu yaparmış. Sonrada bir güzel kahvaltı yapıp çalışmaya gidermiş. Ormanda yiyecek toplarken de yorulmak nedir bilmezmiş. Tüm hayvanlar Uzunkulak’a hayran hayran bakarmış. Uzunkulak ise arkadaşlarına “Spor yaparsanız sizde benim gibi olursunuz.” diye tembihlermiş.

G. Aşağıdaki soruları cevaplayınız.

1. Spor yapması ile bilinen hayvan aşağıdakilerden hangisidir?



2. Aşağıdakilerden hangisi Uzunkulak’ı anlatmaz?

- A) Güneşe karşı spor yapar.
B) Spordan sonra güzel bir kahvaltı yapar.
C) Çalışırken hemen yorulur.

3. Tüm hayvanlar Uzunkulak’a niçin hayran oluyormuş?

SAĞLIK ÖĞÜDÜ

Seviyorsan canını,
Vücuduna iyi bak.
Kuvvetlendir kanını,
İstersen çok yaşamak.

Vakitli yat, erken kalk,
Çok dikkat et zamana.
Ne güzeldir çalışmak,
Dinçlik verir insana.

Sen yaşarsan, bu vatan,
Ancak yaşar yükselir.
Bunu bil, böyle inan
Varlık sağlıktan gelir.

Vehbi Cem AŞKUN

H. Aşağıdaki soruları cevaplayınız.

1. Şair, birinci dördlükte ne yapmayı söylüyor?

2. Çalışmak insana ne veriyormuş?

3. Şair ikinci dördlükte aşağıdakilerden hangisini yapmamızı öğütüyor?

- A) Kitap okumamızı
B) Vakitli yatıp, erken uyanmamızı.
C) Hep oyun oynamamızı

4. Şiir kaç cümleden oluşmuştur?

- A) 4 B) 5 C) 6

BİR ÇOCUK

Bir gün, bir gün bir çocuk
Eve de gelmiş kimse yok.
Açmış bakmış dolabı,
Şeker de sanmış ilacı,
Yemiş yemiş bitirmiş.
Akşama girmiş bir sancı
Kıvrım kıvrım kıvrınmış,
Yaptığından utanmış.
Doktora zor varmış.

A. Aşağıdaki soruları cevaplayınız.

1. Çocuk, eve gelince evde ne görmüş?

2. Çocuk, neyi şeker sanmış?

B. Aşağıdaki soruları cevaplayınız.

Arda marketten yumurta aldı.

1. Kim aldı?

2. Ne aldı?

3. Nereden aldı?

Haydi Düşünelim

“Sevda, birinci olmuş.” cümlesinde “kim?” sorusunun cevabı aşağıdakilerden hangisidir?

A) Sevda B) Birinci C) Olmuş

C. Aşağıdaki görsellerden “Bir Çocuk” tekerlemesiyle ilgili olanları işaretleyiniz.**D. Aşağıdaki soruları cevaplayınız.**

1, 2 ve 3. soruları yukarıdaki şiire göre cevaplayınız.




1. Aydın'da ne yenir?

A) Fıstık B) Karpuz C) İncir

2. Şiire göre görseldeki meyve en güzel nerede yenir?

A) Aydın B) Bursa C) İzmir

3. İzmir'de ne yenir?

A)  B)  C) 

E. Aşağıdaki metni okuyunuz. Resmi boyayınız

TEMİZLİK



Selman, bu sene birinci sınıfa başlamıştı. Okuma-yazmayı zorlanmadan öğrenmişti. Okulunu çok seviyordu fakat okulda olduğu zamanlar kardeşini özliyordu. Bunun için okuldan gelir gelmez kardeşiyle oyun oynamaya koyuluyordu.

Selman, iyi kalpli, sevgi dolu bir çocuktur ama temizliğine pek önem vermezdi. Çoğu zaman yemekten önce ve sonra ellerini yıkamayı unuturdu. Okuldan gelir gelmez kardeşi ile ilgilenir, temizliğe gereken vakti ayırmazdı.

Bir gün eve geldiğinde kardeşinin hasta olduğunu gördü. Babası gelince hemen kardeşini doktora götürdüler. Doktor Selman'a kardeşinin mikrop kapıldığını anlattı. "Sen okuldan gelince ellerini güzelce yıkıyor musun?" diye soran doktora Selman utanarak "Bazen" cevabını verdi. O günden sonra Selman temizliğine çok dikkat etti.

F. Aşağıdaki soruları cevaplayınız.

1, 2, 3, 4 ve 5. soruları "Temizlik" adlı metne göre cevaplayınız.

- Selman kaçınıcı sınıfa gidiyordu?
A) Birinci B) İkinci C) Üçüncü
- Selman, okulda olduğu zamanlarda ne yapıyordu?
A) Kardeşiyle oyun oynuyordu.
B) Annesini özliyordu.
C) Kardeşini özliyordu.
- Aşağıdakilerden hangisi Selman'ın özelliklerinden birisi değildir?
A) Temiz k k n sunda titiz
B) İyi kalpli
C) Sevgi dolu
- Selman bir gün eve geldiğinde ne gördü?
A) Misafir geldiğini
B) Kardeşinin hasta olduğunu
C) Kendisine hediye alındığını
- Doktorun sorusuna utanarak cevap veren Selman, o günden sonra neye karar vermiş?
A) Okula gitmemeye
B) Temiz olmaya
C) Kitap okumaya
- Aşağıdaki atasözlerinden hangisi temizlik ile ilgilidir?
A) Sakla samanı gelir zamanı
B) Vakit nakittir.
C) Aslan yattığı yerden belli olur.

A. Aşağıdaki cümlelerin kaç sözcükten oluştuğunu yanlarına yazınız.

	Geldim.	1	1
	Tatilde Antalya'ya gideceğiz.	2	
	En sevdiğim ders Beden Eğitimi dersidir.	3	
	Kedimin adını "Pamuk" koydum.	4	
	Derste öğretmenimi dikkatlice dinlerim.	5	
	Birkan ile Özkan çok iyi anlaşılıyor.	6	
	Attım.	7	

B. Aşağıdaki soruları cevaplayınız.

1. Aşağıda verilen kelime sayılarına uygun cümleler yazınız.

① Aldı.

②

③

④

Haydi Düşünelim

Aşağıdaki cümlelerin hangisinde kelime sayısı daha fazladır?

- A) Telefon açtım.
B) Karnım çok acıktı.
C) Çok yoruludum.

C. Aşağıdaki soruları cevaplayınız.

1. Aşağıdaki cümlelerin hangisinde kullanılan sözcük sayısı diğerlerinden farklıdır?

- A) Bugün yine gelmedi.
B) Seni de aradı mı?
C) Okulumu çok seviyorum.

2. Aşağıdakilerden hangisi beş kelimeden oluşmuş bir cümledir?

- A) O da böyle yapınca çok
B) Elma ve armutu severim
C) Hayatımda ilk defa uçağa bindim

3. "Kumbaramda elli lira birikmiş." cümlesi kaç kelimedenden oluşur?

- A) 2 B) 3 C) 4

D. Aşağıdaki cümlelerde boş bırakılan yerlere uygun kelimeleri yazınız.

eğlenceli	oyun
vakit	temiz
arkadaşlarımızı	saklambaç
zarar	güzel

- Haydi oyun oynayalım.
- Çok güzel geçirelim.
- Oyun oynarken üzmedim.
- Çevremizi turalım
- Arkadaşlarımızla oynadık.
- Oyun oynamak çok
- Oyunda arkadaşlarımıza vermeyelim.
- Çok oyunlarımız var.

Bilmece

İki kırk ayak birleşince ne olur?

Cevap: (Fermuar)

E. Aşağıdaki soruları cevaplayınız.

- Oyun Parkta Oynadık

Yukarıdaki kelimelerle anlamlı bir cümle kurulursa aşağıdaki renk sıralamalarından hangisi doğru olur?

A)

B)

C)
- Aşağıdakilerden hangisi tek kelimeden oluşan bir cümle değildir?

A) Güldü B) Bahçe C) Oynadı
- “Günde üç öğün yemeliyiz.”

Boş bırakılan yere aşağıdakilerden hangisi yazılmalıdır?

A) kitap B) yemek C) oyun
- Resim Seviyorum Futbol Yapmayı

Yukarıdaki kelimelerle anlamlı ve kurallı bir cümle oluşturulduğunda hangi renkli kutudaki kelimeyi kullanmayız?

A) B) C)
- “Yaptığı bu davranış ile beni çok kırdı.” cümlesinin sözcük sayısı ile aynı sözcük sayısına sahip cümle aşağıdakilerden hangisidir?

A) Yarın okullar tatil oluyor.

B) Boya kalemlerimi kaybettim.

C) Amcam ile dedem dün akşam bize geldi.

KÖREBE

Şarkı söyler döneriz,
Bil bakalım biz kimiz?
Değneğin var körebe,
Göster bizi körebe.

Buldun, buldun beni sen,
Ebe benim gerçekten,
Değneğini bana ver;
Haydi dönün beraber.

Hayır, hayır ebesin
Eğlencesi herkesin.
Elindeki değnekle
Ortamızda dur, bekle.

Ali Ulvi ELÖVE

F. Aşağıdaki soruları cevaplayınız.

1. Şiirde anlatılan oyun hangisidir?

2. Şiirde anlatılan oyun nasıl oynanır?

3. Şarkı söyler döneriz,
Bil bakalım biz kimiz?
Yukarıda verilen mısralar kaç sözcükten oluşmuştur?
A) 7 B) 6 C) 5
4. Şiirin kaçınıcı dördüğündeki sözcük sayısı diğerlerinden daha azdır?
A) 1 B) 2 C) 3
5. Aşağıdaki cümlelerden hangisinde sözcük sayısı farklıdır?
A) Değneğini bana ver.
B) Buldun buldun beni sen.
C) Ortamızda dur bekle.

DAHA BÜYÜK

Annesiyle manava girmişlerdi. Anne alışveriş yaparken, küçük çocuk da yeni çıkmış kiraz küfesinin önünde duruyordu.

Manav:

“Aferin, dedi. Bugün çok ulusun. Hadi bir avuç kiraz al bakalım.”

Çocuk nazlandı, almadı. Manav, kendi avucuyla aldığı kirazı çocuğun cebine doldurdu.

Manavdan çıktıktan sonra annesi:

“Sen kirazı çok seversin manav verdiğinde neden almadın?” diye sordu.

Çocuk kurnaz kurnaz gülümsedi:

“Seviyorum ama anneciğim,” dedi. Manavın avuçları benden daha büyük de.”

G. Aşağıdaki soruları cevaplayınız.

1. Küçük çocuk annesiyle nereye gitmiştir?

2. Manav, çocuğa ne almasını söylemiştir?

3. Küçük çocuk annesinin sorusuna ne cevap verdi?

4. Verilen cümlelerin sözcük sayısı doğru ise “D”, yanlış ise “Y” yazınız.
 Çocuk, nazlandı almadı. (3 sözcük)
 Hadi bir avuç kiraz al. (6 sözcük)

A. Aşağıda verilen isimlerden özel isim olanların bulunduğu bulutları boyayınız.

Mustafa

Okul

Atatürk

Ankara

Kemal

Sınıf

Talha

İstanbul

Bahçe

Bayrak

Enes

Firdevs

Süpürge

Hüseyin

Tuğçe

Kadir

Kalem

Hasan

B. Aşağıdaki soruları cevaplayınız.

- Özel isimlerin ilk harfi her zaman nasıl yazılır?

- Hayvanlara verilen adlara ne denir?

- “Mehmet, kuşuna Ponçik ismini vermiş.” cümlesinde geçen özel isimleri yazınız.

Haydi Düşünelim

Aşağıdaki isimlerden hangisi cümlede her zaman büyük harfle başlar?

- A) Toprak B) Nehir C) Ayşe

C. Aşağıda görselleri verilen hayvan dostlarımıza isim veriniz. İsimlerin ilk harfini büyük yazmayı unutmayınız.

1



2




3



4






5



6



D. Aşağıdaki soruları cevaplayınız.

- Aşağıdaki cümlelerin hangisinde özel ad yoktur?
A) Antalya'yı çok özledim.
B) Kardeşim ile parka gittik.
C) Ali'nin şapkasını çok beğendim.
- Aşağıda verilen görsellerden hangisinin adı özel ad değildir?
A)  B)  C) 

- Özel adlara getirilen ekler aşağıdaki noktalama işaretlerinden hangisi ile ayrılır?
A) Kesme işareti (') B) Virgül(,) C) Nokta (.)

**E. Aşağıda verilen özel adları örnek-
teki gibi uygun yerlere yerleştiriniz.**

Atatürk Türkiye Elazığ İzmir

Tarkan Çilli Karabaş Ankara

Fransa İngiltere Maviş Elvan

Atatürk

Kişi Adları

Hayvanlara Takılan Adlar

Şehir Adları

Ülke Adları

F. Aşağıda verilen özel isimlere getirilen ekleri kesme işareti ile ayırınız.

İstanbulda	Pınarın
İstanbul'da
Tekiri	Fatimeden
.....

G. Aşağıdaki soruları cevaplayınız.

1.



Yanda verilen masal kahramanının ismi aşağıdakilerden hangisidir?

- A) Nasrettin Hoca
B) Hacivat
C) Keloğlan

2.

Aşağıdaki cümlelerin hangisinde özel isimlerin yazılışı ile ilgili bir yanlışlık yapılmıştır?

- A) Boncuk, çok uysal bir köpektir.
B) Yarın, 23 Nisan Ulusal egemenlik ve Çocuk Bayramını kutlayacağız.
C) İstiklâl Marşı'mızın şairi Mehmet Akif Ersoy'dur.

3.

Yazın Edremit' teki halamları ziyaret edeceğiz. Halamın kızı Şule ve oğlu Harun ile oyun oynamak için temmuz ayını ipe çekiyorum.

Yukarıdaki metinde kaç tane özel isim vardır?

- A) 1 B) 2 C) 3

4.

Aşağıda verilen bilgilerden hangisi yanlıştır?


- A) Eşya isimleri her zaman büyük harfle başlar.
B) Hayvanlara takılan adlar her zaman büyük harfle başlar.
C) Ülke adları, özel isim olduğu için her zaman büyük harfle başlar.

KARDAN ADAM

Sabah, annemin “Şebnem, haydi kalk kızım. Kar yağmış her yer bembeyaz olmuş”, sesiyle uyandım. Hemen pencereye koştum. Her yer çok güzel görünüyordu. Kahvaltımızı yapıp ağabeyim Adil ile birlikte dışarı çıktık. Arkadaşlarımız Barış, Handan ve Serpil de dışarıdaydı. Kar topunu yuvarlaya yuvarlaya kardan adam yaptık. Adını da “Havuç” koyduk. Sonra kardan adamın yanına geçip fotoğraf çekindik.

H. Aşağıdaki soruları cevaplayınız.

- Şebnem'i annesi nasıl uyandırmıştır?
- Şebnem, dışarıya kiminle çıkmıştır?
- Şebnem ve arkadaşlar dışarıda ne yapmışlardır?
A) Gemi B) Kardan adam
C) Uçurtma
- Çocuklar kardan adamın ismini ne koymuşlar?
A) Havuç B) Kömür
C) Kar adam
- Şiirde geçen özel adların bulunduğu balonları boyayınız.



ALİ İLE AYŞE

Pıtır Ali, Pıtır Ali,
Bugün keyfin gıcır Ali.
Sınavlardan hep iyi aldın,
Sendekeder nerede, hani?
Öyle deme çitir Ayşe,
Çok çalıştım her bir derse.
Keşke sen de çalışsaydın,
Senin de yüzün gülse.

Ben oyunumu oynarım,
Akşam dizilere bakarım,
En sevdiğim bilgisayar
Ders neyime, ne yapayım?
Ben her d z iye bakmadım,
Arkadaşlarımla da oynadım.
Ama derslerim çok önemli
Hiç birini aksatmadım.

Yakup KIRAZ (Kısaltılmıştır.)

I. Aşağıdaki soruları cevaplayınız.


- Aşağıdakilerden hangisi şiirde geçen özel isimlerden değildir?
A) Ali B) Veli C) Ayşe
- Derslerinde başarılı olan çocuk hangisidir?
A) Ayşe B) Ferhat C) Ali
- “Keder” kelimesinin anlamı aşağıdakilerden hangisidir?
A) Üzüntü B) Sevinç C) Mutluluk
- Ayşe, neden başarılı olamamıştır?

Bilmece

Suya girince saçı ıslanmayan kimdir?

Cevap: (Keleğlan)

A. Aşağıda verilen kelimeleri örnekteki gibi yazınız.



B. Aşağıdaki soruları cevaplayınız.

Akın ile Pelin marketten iki tane ekme aldı.

1. Markete kim gitti?

2. Marketten ne aldılar?

Haydi Düşünelim

Aşağıdaki atasözlerinden hangisi tasarrufla ilgilidir?

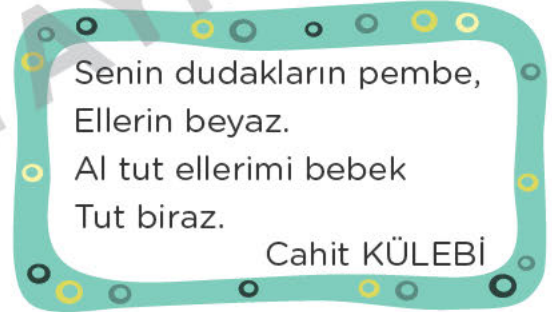
- A) Sakla samanı gelir zamanı.
B) Gün doğmadan neler doğar.
C) Bugünün işini yarına bırakma.

C. Aşağıda bazı harfler semboller ile temsil edilmiştir. Buna göre kelimeleri örnekteki gibi bulunuz.

△ | □ | ○ | ◇ | ▲ | ■ | ● | ◆ | ⇒
P | M | E | B | K | A | P | T | L

1-	○ ▲ □ ○ ▲	→	EKMEK
2-	▲ ○ ◇ ■ ●		
3-	△ ○ □ ◇ ○		
4-	◇ ○ ◇ ○ ▲		
5-	● ■ ▲ ○ ◆		
6-	□ ○ ⇒ ○ ▲		

D. Aşağıdaki soruları cevaplayınız.



1, 2 ve 3. soruları yukarıdaki dördlüğe göre cevaplayınız.

1. Şair kime sesleniyor?

- A) Bebeğe B) Annesine
C) Kardeşine

2. Şaire göre bebeğin dudakları ne renktir?

- A) Beyaz B) Mavi C) Pembe

3. Şair, bebekten ne istiyor?

- A) Yanına gelmesini istiyor.
B) Ellerini tutmasını istiyor.
C) Oyun oynamasını istiyor.

E. Aşağıdaki atasözlerinde bulunan görselleri yazıya çevirerek atasözlerini okuyunuz. Görsellerin karşılığı olan kelimeyi ekleyerek atasözünü örnekteki gibi yazınız.

1.  girmeyen  e  girer.
Güneş girmeyen eve doktor girer.

2. Kaçan  büyük olur.

.....

3. Sakla  gelir zamanı

.....

4.  ya  ya göl olur

.....

5.  ını  ına göre uzat.

.....

6. 1  in nesi var 2  in sesi var.

.....

7. Tatlı   ı deliğinden çıkarır.

.....

F. Aşağıdaki soruları cevaplayınız.

Mehmet ile Sibel, sorumluluk sahibi iki kardeşmiş. Onların yaşadığı şehirde herkesin sorumlulukları varmış. Kedilerin, köpeklerin bile...

Mehmet ve Sibel, bir gün bu sorumluluklarından sıkılmış. Keşke her şey daha farklı olsa, bir sürü sorumluluğumuzun olması çok sıkıcı diye düşünmüşler.

Bir gece şehre sihirli bir yağmur yağmış. Bu yağmur, adeta herkesin sorumluluğunu silmiş götürmüştü. Bu durum ilk başta herkesin çok hoşuna gitse de yavaş yavaş herkes mutsuz olmaya başlamış

1 2, 3 ve 4. soruları yukarıdaki metne göre cevaplayınız.

- Aşağıdakilerden hangisi kardeşlerden birinin ismi değildir?
A) Mehmet B) Ahmet C) Sibel
- “Sorumluluk” kelimesinin anlamı aşağıdakilerden hangisidir?
A) Verdiği sözü tutmak
B) Hep doğru söylemek
C) Bir kimsenin, üzerine düşen görevi yapması
- Bir gece şehre ne yağmış?
A) Sihirli Yağmur B) Kar C) Akıl
- Şehre yağan yağmur neyi silmiş?
A) Sorumlulukları B) Hataları
C) İyilikleri

OYUN BAHÇESİ

Hava güzel ne yapsak?
Bahçemizde toplansak.
Yere çizgi çizerek
Oynayalım sek sek.

Bahçe oyun yuvamız
Her oyunu oynarız.
Bizi saklar şu ağaç,
Oynayalım saklambaç.

Durma öyle köşede
Sen de gel katıl bize.
Bağlayalım gözlerimizi
Oynayalım körebe.

G. Aşağıdaki soruları cevaplayınız

1. Şiirde adı geçen oyunları yazınız.

2. Sek sek oyunu nasıl oynanır?

3. Çocukların ağacın arkasına saklanarak oynadıkları oyun aşağıdakilerden hangisidir?

- A) Körebe B) Saklambaç
C) Beştaş

4. Bir ebe seçilir. Ebenin gözleri bağlanır. Gözü kapalı ebe arkadaşlarına dokunmaya çalışır.

Yukarıda anlatılan oyun aşağıdakilerden hangisidir?

- A) Seksek B) Üçtaş C) Körebe

Bilmece

Kirpiller nasıl oyun oynarlar?

Cevap: Dikkatli!

DOĞUM GÜNÜ DAVETİYESİ

Cumartesi günü Esila'nın doğum günüydü. Esila, tüm arkadaşlarını doğum gününe davet etmek istiyordu. Bunun için arkadaşlarına çok güzel bir davetiye hazırlamaya karar verdi. Ama daha önce hiç davetiye hazırlamamıştı. Bunun için annesinden yardım istedi. Annesinin yardımıyla hazırladığı davetiyeleri artık arkadaşlarına dağıtabilirdi. O zaman hazırlıklar tüm hızıyla başlamalıydı.



Sevgili Arkadaşım,
Hafta sonu yapacağım doğum günü partim bekliyorum.

Yer: Çiçek Pastanesi

Tarih 11 Mayıs 2019

Saat: 11.00

Arkadaşın
Esila YILMAZ

**H. Aşağıdaki soruları cevaplayınız.**

1. Yapılacak olan etkinlik nedir?

2. Davetiyeyi kim hazırlamış?

3. Etkinliğin tarih ve saatini yazınız.

4. Aşağıda verilen kelimelerin size çağrıştırdıklarını yazınız.

Davetiye

.....
.....
.....

Zarf

.....
.....
.....

A. Aşağıda verilen cümleleri okuyunuz. Büyük harflerin yazımı doğru olan cümlelerin bulunduğu bulutları boyayınız.

çevremizi temiz tutmalıyız.

turgutu da oyuna alalım.

Sergen'in ayağı burkuldu.

Yarın, Van'a gideceğiz.

Ben, atatürk ilkokulunda okuyorum.

Çöplerimizi çöp kutusuna atmalıyız.

B. Aşağıdaki soruları cevaplayınız.

1. Cümlenin ilk harfi nasıl yazılır?

2. Cümle içinde büyük harf ile yazılması gereken adları yazınız.

3. "kuşumuza limon ismini verdik." cümlesinde yazımı yanlış olan kelimelerin doğrularını yazınız.

Haydi Düşünelim

Aşağıdaki cümlelerin hangisinde büyük harflerin kullanımı ile ilgili bir yanlışlık yapılmıştır?

- A) Sema, çok iyi koşuyor.
B) Yağmur, Damla Damla yağıyor.
C) Melek, iyi bir arkadaştır.

C. Aşağıdaki soruları cevaplayınız.

1. Hacı Baba dum dum, sakalına kondum. Beş kere döndüm. yüz Para buldum.

Yukarıdaki dördlükte kaç yerde büyük harflerin kullanımı ile ilgili hata yapılmıştır?

- A) 3 B) 6 C) 8

2. "Cümle büyük harfle başlar." cümlesinde noktalı yere aşağıdakilerden hangisi yazılmalıdır?

- A) bazen B) her zaman
C) ara sıra

3. "Şiirde her ilk harfi büyük harfle başlar." cümlesinde boş bırakılan yere aşağıdakilerden hangisi yazılamaz?

- A) mısranın B) dizenin
C) sözcüğün

D. Aşağıda verilen soruların cevaplarını kutucuklara yazınız. Şifreyi bulunuz.

1- Ülkemizin başkenti neresidir?

A n k a r a

2- Cümlelerin hangi harfi büyük harfle başlar?

□ □ □ □ □ □ □ □
4

3- Güzel ülkemizin adı nedir?

□ □ □ □ □ □ □ □
2

4- Hangi isimler büyük harfle başlar?

□ □ □ □
6 3

5- Şiirde bulunan ve büyük harfle başlayan her bir satıra ne denir?

□ □ □ □ □ □
5

6- Ülkemizin kurucusu kimdir?

□ □ □ □ □ □ □ □
1

7- Devlet adlarının ilk harfi nasıl yazılır?

□ □ □ □ □ □

Şifre

□ □ □ □ □ □
1 2 3 4 5 6

E. Aşağıdaki soruları cevaplayınız.

1. Aşağıda verilen bilgilerden hangisi yanlıştır?

A) Cümle, bazen büyük harf ile başlar.

B) Kişi ve yer adları büyük harfle yazılır.

C) Şiirlerin her mısrası büyük harfle başlar.

2. Aşağıdaki kelimelerden hangisi cümle içinde her zaman büyük harfle yazılır?

A) Araba B) Hatay C) Irmak

3. Cumhuriyet bayramı geldi bize

1 2 3 4

ne mutlu!
5 6

Yukarıda verilen cümlede altı çizili kelimelerin hangisinde büyük harf kullanımıyla ilgili yanlışlık yapılmıştır?

A) 2 B) 4 C) 6

4. zehra ile volkan kedilerine "nane" ismini verdiler.

Yukarıda verilen cümlede büyük harflerin kullanımı ile ilgili kaç tane yanlış yapılmıştır?

A) 1 B) 2 C) 3

5. Aşağıdaki cümlelerin hangisinde büyük harflerin kullanımı ile ilgili bir yanlışlık yapılmamıştır?

A) o çoktan uyudu bile.

B) Ramazan Bayramı'na yirmi gün kaldı.

C) suna, kapının sesiyle irkildi.

DOĞRU SÖZLÜ OLMAK

Aslan, yedi yaşında bir çocuktur. Küçük kardeşi Berra ile o gün salonda yakalamaca oynuyorlardı. Aslan, koşarken sehpanın üzerinde duran vazoya çarptı. Bu vazoyu annesi çok seviyordu. Vazo büyük bir şangırtı ile yere düşerek kırıldı. Aslan, hemen oradan uzaklaştı. Berra ise ne olduğunu merak ederek vazonun yanına yaklaştı. Tam bu sırada annesi içeri girdi. Aslan, vazoyu Berra'nın kırdığını söyledi. Berra, bunu kendisinin yapmadığını söylese de annesini inandıramadı. Annesi, Berra'ya ceza verdi. Bu duruma çok üzülen Aslan, annesinin yanına gidip doğruyu söyledi. Daha sonra da Berra'dan özür diledi.

F. Aşağıdaki soruları cevaplayınız.

- Aslan, kaç yaşındadır?
A) 5 B) 6 C) 7
- Aslan'ın kardeşinin adı nedir?
A) Bi al B) Berra C) Beril
- Annesi, vazoyu kimin kırdığını düşünmüştür?

G. Aşağıda verilen ifadelerden metne göre doğru olanlara "D", yanlış olanlara "Y" yazınız.

- | | |
|-----------------------|--|
| <input type="radio"/> | Vazoyu Berra kırmıştır. |
| <input type="radio"/> | Aslan, doğruyu söylemediği için pişman olmuştur. |
| <input type="radio"/> | Annesi, Berra'ya ceza vermiştir. |
| <input type="radio"/> | Sonucu ne olursa olsun doğru söylemeliyiz. |

TÜRKİYE'M

Edirne'den ardahana
Vatanımsın boydan boya.
Senin aziz toprağına
canım feda Türkiye'm.

Efeler diyarı Aydın'a,
ankaraya İstanbul'a.

Yunus'a mevlanaya

Canım feda türkiyem

atatürkten şehitlerden,

Bizlere emanetsin.

Allah seni esirgesin

Canım feda Türkiye'm

H. Aşağıdak soru arı cevaplayınız.

- Efeler diyarı neresidir?
- Şiirde altı çizili kelimeler yanlış yazılmıştır. Bu kelimelerin doğrusunu örnekteki gibi yazınız.

Ardahan'a
.....
.....

I. Aşağıdaki cümleleri uygun kelimeler ile tamamlayınız.

dize

özel

büyük

- Cümle her zaman harfle başlar.
- Şiirde her büyük harfle başlar.
- adlar her zaman büyük harfle başlar.

A. Aşağıdaki cümlelerde altı çizili sözcüklerin zıt (karşıt) anlamlılarını kullanarak cümleleri tekrar yazınız.

soğuk

kapalı

bayat

fakir

gece

kirli

1- Hava çok sıcak oldu.

Hava çok soğuk oldu.

2- Kapı açık mı?

.....

3- Komşuları çok zengin biriydi.

.....

4- Gündüz yolculuk yapmayı severim.

.....

5- Evde taze ekmek kalmamış.

.....

6- Temiz kazağımı giydim.

.....

B. Aşağıdaki soruları cevaplayınız.

1. Anlamca birbirinin karşıtı olan kelimelere ne denir?

.....

2. Aşağıda verilen kelimelerin zıt anlamlılarını yazınız.

İN → Yaz →

Gül → Geri →

3. Aşağıda verilen cümlelerde altı çizili kelimelerin zıt anlamlılarını yazınız.

Semih, çok çalışkan. →

Bardak su dolu. →

Haydi Düşünelim

“Üretim” kelimesinin zıt anlamlısı aşağıdakilerden hangisidir?

A) Verim B) Tüketim C) Tarım

C. Aşağıdaki soruları cevaplayınız.

1. Onların evi çok büyük.” cümlesine altı çizili kelimenin zıt anlamlısı aşağıdakilerden hangisidir?

A) Orta B) Küçük C) Güzel

2. Aşağıdaki cümlelerin hangisinde altı çizili kelimenin zıt anlamlısı yoktur?

A) Esra, çok güzel bir kız.

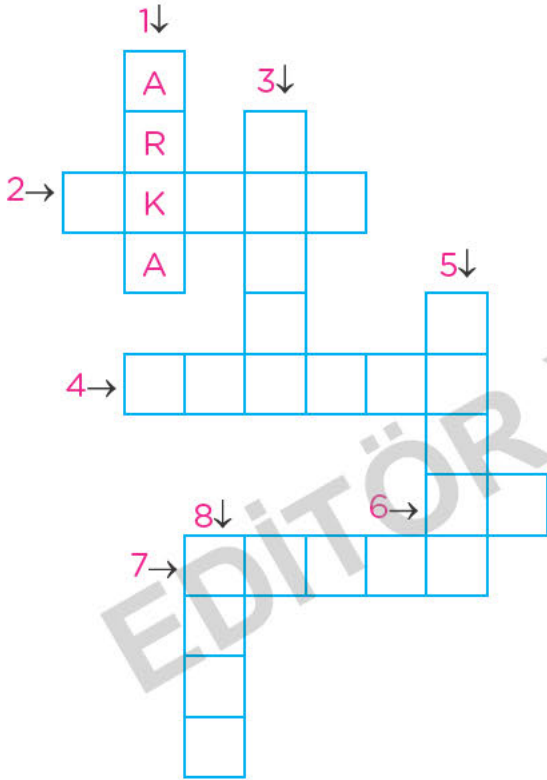
B) Karnım çok aç.

C) Renk renk şekerlerim var.

3. Aşağıdakilerden hangisi “soru” kelimesinin zıt anlamlısıdır?

A) Cevap B) Sual C) Soru

D. Aşağıda verilen kelimelerin zıt anlamlılarını bulmacalardaki yerlere yazınız.



MANİ

Mini mini birler

Yanıma geldiler.

Artık hem okuyoruz

Hem yazıyoruz, dediler.

Bilmece

Kabuğu yerdeyse zarar,

Bu şeyin kendisi yarar.

Cevap: (Muz)

E. Aşağıdaki soruları cevaplayınız.

1. Aşağıdaki sözcük çiftlerinden hangisi zıt anlamlı değildir?

- A) Gel-Git
B) Çalışkan- Tembel
C) Uzun- Büyük

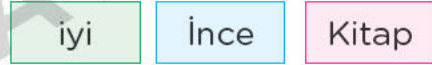
2.



Yandaki görseller için aşağıdaki zıt anlamlı kelimelerden hangisi kullanılır?

- A) Şişman- Zayıf
B) Misafi Ev sahibi
C) Az- Çok

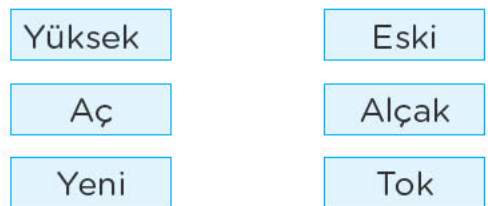
3.



Yukarıdaki sözcüklerden hangisinin zıt anlamlısı yoktur?

- A) B) C)

4.



Yukarıda verilen kelimeler zıt anlamlıları ile eşleştirildiğinde aşağıdaki seçeneklerden hangisi doğru olur?

- A) B) C)

5.

“Kolay” kelimesinin zıt anlamı aşağıdakilerden hangisidir?

- A) Zor B) Yeni C) Kolay değil

ZIT ANLAMLI KELİMELELER

Dolunun zıttı boştur,
Soğğunun ise sıcak,
İyi-kötü, taze-bayat,
Bunlarla geçer hayat.

Şişmanın zıttı zayıf,
Zengininki de fakir,
Yaşlının tersi gençtir,
Güzellik, çirkinliktir.

Zıt anlamlı kelimeler,
Türkçeyi öğretirler.
İyi öğrenirsek biz,
Zenginleşir dilimiz.

Şerife ÇOBAN

F. Aşağıdaki soruları cevaplayınız.

1. Dolunun zıttı nedir?
A) Boş B) Sürahi C) Dolu değil
2. Aşağıdakilerden hangisi "genç" kelimesinin zıtı değildir?
A) Yaşlı B) İhtiyar C) Fakir
3. "Bayat" kelimesinin zıttı aşağıdakilerden hangisidir?
A) Taze B) Ekmek C) Sert
4. Aşağıda verilen kelimelerin zıt anlamlılarını yazınız.

Güzellik →

İyi →

Az →


Al →

Erken →

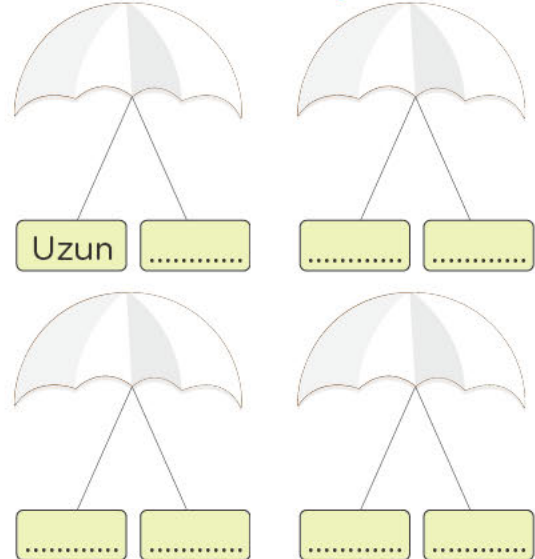
ZITLARIN OYUNU

Nisan, o gün okulda zıt anlamlı kelimeleri öğrenmişti. Eve geldiğinde okuduğu kitaptaki resmi oyun şeklinde boyamaya karar verdi. Uzun olan ağacı yeşile, kısa olan ağacı ise sarıya boyadı. Ağacın yanında bulunan çocuklardan şişman olanını maviye, zayıf olanını turuncuya boyadı. Büyük arabayı sarıya, küçük arabayı ise kahverengiye boyadı. Yüksekteki bulutu griye alçaktakini beyaza boyadı. Nisan, zıtların oyununu çok sevdi.

G. Aşağıdaki resmi yukarıdaki anlamlara göre boyayın.





H. "Zıtların Oyunu" metninde geçen zıt anlamlı kelimeleri yazınız.





A. Aşağıda verilen cümleleri örnekteki gibi tamamlayınız.


1  Serdar **televizyon** izledi.

3  Nurver okudu.

5  Kenan, iki tane aldı.

7  Ümmü, ile seyahat etti.

2  Ümit takımı aldı.

4  Çoban, çayırda otlattı.

6  Selma, duvar çok beğendi.

8  Süleyman, taze aldı.

B. Aşağıdaki soruları cevaplayınız.

1. Şiirde her bir satıra ne ad verilir?

2. Şiiri yazan kişiye ne denir?

3. Yemyeşil bayırlar,
Rengârenk çiçekler,
Cıvı cıvı kuşlar
Oluşturur doğayı.
Yukarıda verilen dördünlüğün konusunu yazınız.

Haydi Düşünelim

Şiirde dört mısradan oluşan ve şiiri oluşturan bölümlere ne denir?

A) Kıta B) Dize C) Mısra

C. Aşağıdaki soruları cevaplayınız.

Rengi bayrağıma eş,
Tarlalarda bir ateş;
Ekinlerle hep kardeş

Çayırlarda biricik,
Al ipekli gelincik.

Melahat UĞURKAN

1, 2 ve 3.soruları şiire göre cevaplayınız.

1. Gelinciğin rengi neye eştir?

A) Kana B) Bayrağa C) Ala

2. Gelincik neye benzetiliyor?

A) Al ipeğe B) Bal böceğe
C) Çevreye

3. Şiirin şairi kimdir?

A) Orhan Veli KANIK
B) Ayla ÇINAROĞLU
C) Melahat UĞURKAN

D. Aşağıdaki şiiri okuyunuz. Soruları şiire göre cevaplayınız.

KÜÇÜK IRMAK

Bir sahilde küçük ırmak,
Coşkun coşkun çağlayarak,
Bir denize akıyordu.

Kocaman büyük deniz,
Bu ırmağa bir gün sordu:
Sabah akşam çağlayarak
Bana doğru koşuyorsun?
Muhtaç mıyım suyuna ben,
Bir eksikim var mı senden?

Cevap verdi küçük ırmak:
Sözlerim, dedi, dokunacak,
Kibirlidir çünkü huyun.
Bana göre çok büyüksün,
Fakat yoktur içilecek,
Bir damlacık tatlı suyun!

Orhan Seyfi ORHON

1. Küçük ırmak nasıl akmaktadır?

2. Küçük ırmak nereye doğru akmaktadır?

3. Deniz, küçük ırmağa ne sormuştur?

4. Denizin nasıl bir huyu vardır?

Karardı bakın dağlar,
Biraz sonra yağmur var.
Yağmur yiyince tarla,
Süslenecek otlarla.

Aman tez yağsın yağmur,
Her taraf olsun çamur.

Celâl Sıtkı GÜRLER

E. Aşağıdaki soruları cevaplayınız.

1,2,3,4 ve 5. soruları şiire göre cevaplayınız.

1. Şiirin başlığı aşağıdakilerden hangisi olabilir
A) Gökkuşuğu B) Kar C) Yağmur
2. Şair, yağmurun yağacağını nereden anlıyor?
A) Haberlere bakıyor.
B) Dağların kararmasından anlıyor.
C) İçine doğuyor.
3. Tarla, yağmur yiyince ne ile süslenecekmiş?
A) Çiçeklerle B) Ağaçlarla
C) Otlarla
4. Şair, her tarafın ne olmasını istiyor?
A) Kar B) Çamur C) Çiçek
5. Şiirin şairi kimdir?
A) Rıfat ILGAZ
B) Tefik FİKRET
C) Celâl Sıtkı GÜRLER

ŞİİR NEDİR?

Şiir,
İç sesimizi,
Sözcüklere aktaran
Bir sihirdir.

Şiir,
Özel duygularımızı
Özdeşe götüren
Bir peridir.

Şiir,
Eleklenden elenmiş
Sözcükleri giyinmiş
Bir gelindir.

Şiir,
En yoğun duyguları
Sözcüklere taşıyan
Derin bir esintidir.

Ayla ÇINAROĞLU

F. Aşağıdaki soruları cevap ayınız.

- Şiir kaç dördlükten oluşmuştur?
A) 2 B) 3 C) 4
- Şiirin şairi kimdir?
A) Melahat UĞURKAN
B) Ayla ÇINAROĞLU
C) Orhan Seyfi ORHON

G. Şiire göre doğru olan ifadelerin bulunduğu bulutları boyayınız.

Şair, şiiri bir sih-
re benzetmiş.

Şair, şiiri bir ço-
cuğa benzetmiş.

Şair, şiiri bir ge-
line benzetmiş.

Şair, şiiri bir pe-
riye benzetmiş.

YILDIZLAR

Kitabın yanında defter,
Defterin yanında bardak.
Bardağın yanında çocuk,
Çocuğun yanında kedi,
Ve uzakta yıldızlar, yıldızlar.

Oktay RİFAT

H. Aşağıdaki soruları cevaplayınız.

- Kitabın yanında ne vardır?

- Bardak neyin yanındadır?

- Bardağın yanında ne vardır?
A) Kedi B) Çocuk C) Top
- Çocuğu yanında aşağıdakiler-
den hangisi vardır?
A) Köpek
B) Kaplumbağa
C) Kedi
- Yıldızlar nerededir?
A) Uzakta
B) Güneş'in yanında
C) Ay'ın yanında

I. Aşağıdaki resmi boyayınız.

A. Aşağıdaki metni okuyunuz.**ATATÜRK'ÜN HAYATI**

1881 (bin sekiz yüz seksen bir) yılında Selanik'te doğdu. Annesi Zübeyde Hanım, babası Ali Rıza Efendi'dir. Mustafa Kemal, sırasıyla Mahalle Mektebi, Şemsi Efendi İlkokulu, Selanik Mülkiye Rüştiyesi, Selanik Askeri Rüştiyesi, Selanik Askeri İdadisi, Harp Okulu ve Harp Akademisine gitti.

Askeri Rüştiyede okurken Matematik öğretmenini ona Kemal adını verdi. 19 Mayıs 1919'da (bin dokuz yüz on dokuz) Samsun'a çıkarak Milli Mücadeleyi başlattı. 23 Nisan 1920'de (bin dokuz yüz yirmi) Türkiye Büyük Millet Meclisini (TBMM) açtı. 29 Ekim 1923'de (bin dokuz yüz yirmi üç) Cumhuriyeti ilan etti. Türkiye Cumhuriyeti'nin kurucusu Gazi Mustafa Kemal Atatürk 10 Kasım 1938'de (bin dokuz yüz otuz sekiz) Dolmabahçe Sarayı'nda hayata gözlerini yumdu.

B. Aşağıdaki soruları cevaplayınız.

1. Atatürk kaç yılında doğdu?

2. Atatürk nerede doğdu?

Haydi Düşünelim

Aşağıdaki olaylardan hangisi daha önce olmuştur?

- A) 23 Nisan 1920 → TBMM'nin açılması
 B) 29 Ekim 1923 → Cumhuriyetin İlanı
 C) 19 Mayıs 1919 → Milli Mücadele'nin Başlaması

C. Aşağıda verilen olayları "Atatürk'ün Hayatı" metninden yararlanarak oluş sırasına göre numaralandırınız.

<input type="radio"/>	Mahalle Mektebine gitti.
<input type="radio"/>	10 Kasım 1938'de hayata gözlerini yumdu.
<input checked="" type="radio"/>	1881 yılında doğdu.
<input type="radio"/>	29 Ekim 1923'te Cumhuriyeti ilan etti.

D. Aşağıda verilen ifadelerden doğru olanların başına "D" yazınız.

(...) Matematik öğretmenini "Kemal" adını verdi.

(...) Mustafa Kemal'in son Harp Okuluna gitti

(...) Mustafa Kemal okullarını başarıyla bitirdi.

E. Aşağıdaki soruları cevaplayınız.

1. Aşağıdaki olaylar oluş sırasına göre dizildiğinde hangisi daha sonra yaşanır?

A)



B)



C)



2. Aşağıdaki olaylar oluş sırasına konulduğunda hangisi daha önce yaşanır?

A) Gelen babamdı.

B) Kapı çaldı.

C) Koşup kapıyı açtım.

3. Aşağıdaki olaylar oluş sırasına konulduğunda hangisi ikinci sırada olur?

A) Bir fidan diktim.

B) Fidan, ağaç oldu.

C) Ağaçta portakal yetişti.

F. Aşağıda verilen görselleri oluş sırasına göre sıralayınız.



G. Aşağıda verilen cümleler oluş sırasına göre sıralayınız.

<input type="radio"/>	Kahvaltımı yaptım.
<input type="radio"/>	Okula gittim.
<input checked="" type="radio"/>	Erkenden kalktım.
<input type="radio"/>	Dişlerimi fırçaladım.

<input type="radio"/>	Yiyecek bir şeyler arıyordum.
<input type="radio"/>	Sarmaları çıkardım ve yedim.
<input type="radio"/>	Mutfağa girdim.
<input type="radio"/>	Dolabı açtım.

H. Aşağıdaki soruları cevaplayınız.

1.	Elma ve muz aldık.
	Eve geldik.
	Annemle pazara gittik.

Yukarıdaki olaylar oluş sırasına göre numaralandırıldığında aşağıdakilerden hangisi doğru olur?

A)	<table border="1"><tr><td>1</td></tr><tr><td>2</td></tr><tr><td>3</td></tr></table>	1	2	3	B)	<table border="1"><tr><td>3</td></tr><tr><td>1</td></tr><tr><td>2</td></tr></table>	3	1	2	C)	<table border="1"><tr><td>2</td></tr><tr><td>3</td></tr><tr><td>1</td></tr></table>	2	3	1
1														
2														
3														
3														
1														
2														
2														
3														
1														

2. Aşağıdaki olaylar oluş sırasına konulduğunda hangisi en sonda yer alır?

- A) Hasan hast oldu.
B) Hasan, erli terli su içti.
C) Hasan, oyun oynarken terledi.

3. ▲ Öğretmenim resmimi çok beğendi.

Derste resim yaptık.

Panoya astı.

Yukarıdaki olaya ait oluş sırası aşağıdaki seçeneklerden hangisinde doğru verilmiştir?

- A) ▲ □ ○ B) □ ▲ ○ C) □ ○ ▲

4. Aşağıdaki görseller oluş sırasına göre sıralandığında hangisi ikinci sırada yer alır?



A. Aşağıda verilen cümlelerde boş bırakılan yerleri uygun kelimeler ile doldurunuz.

Türkiye Büyük Millet Meclisi	çalışkan	Anıtkabir	planlı	Cumhuriyet
kitap	Ankara	lider	Selanik	Dolmabahçe Sarayı

1. Atatürk, bin sekiz yüz seksen bir yılında **Selanik** 'te doğdu.
2. bin dokuz yüz yirmi üç yılında ilan edildi.
3. Yirmi üç nisanda açıldı.
4. Atatürk, çok iyi bir di.
5. Atatürk, cephede bile okurdu.
6. Atatürk, 'ında hayata gözlerini yumdu.
7. Atatürk'ün anıt mezarı 'daki ' dedir.
8. Mustafa Kemal, çok ve bir öğrenciydi.


B. Aşağıdaki soruları cevaplayınız.

1. Mustafa Kemal'in kız kardeşinin adı nedir?
.....
2. Küçük Mustafa ya "Kemal" ismini hangi öğre meni vermiştir?
.....
3. Mustafa Kemal'in babasının adı nedir?
.....
4. Mustafa Kemal ilk olarak hangi okula gitmiştir?
.....

Haydi Düşünelim

Mustafa Kemal büyüdüğünde ne olmak istiyordu?
A) Doktor B) Asker C) Öğretmen

C. Aşağıdaki soruları cevaplayınız.

1. Aşağıdaki cümlelerin hangisinin sonuna nokta işareti konulmaz?
A) Atatürk, çok çalışkandı
B) Atatürk, hangi okullara gitti
C) Atatürk, çocukları çok severdi
2. "Atatürk, vatanımızı kurtarmak için çalışırdı."
Yukarıdaki cümlede noktalı yere aşağıdakilerden hangisi yazılmalıdır?
A) bazen B) ara sıra
C) durmadan
3.  Yandaki görsel aşağıdakilerden hangisini çağırıştırır?
A) Vatan B) Kelebek
C) Meyve

D. Aşağıdaki metni okuyunuz. Soruları metne göre cevaplayınız.

YÜRÜYEN KÖŞK

Atatürk, bir gün Yalova'daki çiftliğine gider. İki katlı ahşap köşkünün hemen yanında da ulu bir çınar ağacı vardır. Atatürk bir bahçıvanın bu çınar ağacını kesmeye çalıştığını görür ve niçin kesmek istediğini sorar.

Bahçıvan der ki:

- Paşam, bu çınar ağacının dalları köşkün duvarlarına değmeye başlamış. Bunları kesmezsek ağaç köşke zarar verecek.

Bunun üzerine Atatürk, bir çözüm bulmak için düşünür. Ağacın kesilmesini istemez. Aklına bir fikir gelir.

- Bana birkaç mühendis çağırın, der. Gelen mühendisler şöyle emreder:

- Ağaç kesilmeyecek bina kaydırılacak.

Binanın nasıl kaydırılacağı da kendisi açıklar. Bina'nın emelle i kazılır. Bina'nın altına tramvay rayları döşenir. Bina raylar z rine oturtulur ve beş me re kaydırılır. Böylece ulu çınar ağac kesilmekten kurtulur.

1. Atatürk nereye gitmiştir?
2. Atatürk'ün köşkünün yanında ne vardır?
3. Atatürk'ün aklına nasıl bir fikir gelir?
4. Metinde Atatürk'ün hangi özelliği anlatılıyor?

E. Aşağıdaki soruları cevaplayınız.

1, 2 ve 3. soruları "Yürüyen Köşk" adlı metne göre cevaplayınız.

1. Atatürk'ün çiftliği nerededir?
A) İstanbul B) Bursa C) Yalova
2. Atatürk'ün köşkü kaç katlıdır?
A) 1 B) 2 C) 3
3. Atatürk, köşkü niçin beş metre kaydirmiş?
A) Ağacı kesmemek için
B) Ağacın kökünü sağ amlaştırmak için
C) Ağacı esmek için
4. Türkiye'nin başkenti neresidir?
A) Edirne B) İstanbul C) Ankara

5 ve 6. soruları aşağıdaki dördüğe göre cevaplayınız.

23 NİSAN

Yirmi üç Nisan,
Yurdu koruyan
Yarını kuran
Sen ol çocuğum.
Hasan Ali YÜCEL

5. Şiirin konusu nedir?
A) Atatürk B) 23 Nisan C) Okul
6. Şair, çocuklardan aşağıdakilerden hangisini istiyor?
A) Okula gitmemesini istiyor.
B) Ders çalışmamasını istiyor.
C) Yarını kurmasını istiyor.

TÜRK ULUSUNU KİM KURTARDI?

Atatürk bir gün okul ziyaretlerinin birinde, tarih dersini dinlemek istemiş. Bir sınıfa girmiş. Öğretmen Kurtuluş Savaşı'nı anlatıyormuş. Atatürk'ün yanındaki subaylar ve müfettişler de sınıfa girmişler. Atatürk arka sırada oturan bir öğrenciye sormuş:

- Evladım söyle bakayım, Türk ulusunu kim kurtardı?

Çocuk, heyecanla yanıtlamış.

- Siz kurtardınız efendim.

Atatürk bu cevabı beğenmemiş ve şöyle demiş:

- Hayır evladım! Türk ulusunu kurtaran, Türk ulusunun kendisidir.

F. Aşağıdaki soruları cevaplayınız.

1. Atatürk, hangi dersi dinlemek istemiştir?

2. Öğretmen de size ne anlatıyormuş?

3. Atatürk kime soru sormuş?

- A) Yanındaki subaylara
- B) Öğretmene
- C) Arka sırada oturan bir öğrenciye

4. Atatürk ne sormuş?

- A) Türk ulusunu kim kurtardı?
- B) Adın ne ?
- C) Hangi dersi işliyorsunuz?

İSTİKLÂL MARŞI

Korkma, sönmez bu şafaklarda yüzen al sancak;

Sönmeden yurdumun üstünde tüten en son ocak.

O benim milletimin yıldızıdır, parlayacak;

O benimdir, o benim milletimindir ancak.


Çatma, kurban olayım, çehreni ey nazlı hilâl!

Kahraman ırkıma bir gül! Ne bu şiddet bu celâl?

Sana olmaz dökülen kanlarımız sonra helâl...

Hakkıdır, Hakk'a tapan milletimin istiklâl!

Yazan: Mehmet Âkif ERSOY
Besteleyeni: Osman Zeki ÜNGÖR

G. Aşağıdaki resmi boyayınız.**H. Aşağıdaki soruları cevaplayınız.**

1. İstiklâl Marşı'mızın şairi kimdir?

- A) Mehmet Âkif ERSOY
- B) Mustafa Kemal ATATÜRK
- C) Orhan Veli KANIK

2. İstiklâl Marşı'mızın bestecisi kimdir?

- A) Mehmet Âkif ERSOY
- B) Osman Zeki ÜNGÖR
- C) Orhan Seyfi ORHON

A. Aşağıda verilen metinde geçen noktalama işaretlerini örnekteki gibi yuvarlak içine alınız.

KURTULUŞ SAVAŞI

Nezahat Onbaşı, Sütçü İmam, Yörük Ali, Kara Fatma gibi nice kahramanlar Kurtuluş Savaşı'nın kazanılmasında büyük bir rol oynamışlardır.

Ulu önder Atatürk'ün liderliğinde Türk milletinin üstün gayretleri ile Kurtuluş Savaşı kazanılmıştır. 23 Nisan'da Millet Meclisi açılmış, savaşın kazanılması ile cumhuriyet ilan edilmiştir.



Mustafa Kemal Atatürk, cumhuriyetin ilanından sonra ilk cumhurbaşkanı seçilmiştir. Mustafa Kemal Atatürk, yaptığı yenilikler ile ülkemizin kalkınmasını sağlamıştır.

B. Aşağıdaki soruları cevaplayınız.

1. Nokta nerelerde kullanılır?

2. Soru cümlelerinin s nuna hangi noktalama işareti konulu ?

3. Aşağıdaki cümlelerin sonuna uygun noktalama işaretlerini koyunuz.

Sınav ne zaman

Dışarıda top oynadık

Haydi Düşünelim

Aşağıdaki cümlelerin hangisinin sonuna farklı bir noktalama işareti konulur?

A) Kaçınıcı sınıfa gidiyorsun

B) Kitaplarım nerede

C) Sevimli mi sevimli bir bebek

C. Aşağıdaki soruları cevaplayınız.

1. Aşağıd ki cümlelerin hangisinde nokta farklı bir görevde de kullanılmıştır?

A) Ahmet eve geldi.

B) Bugün çok mutluydu.

C) Çünkü sınıfta 1. olmuştu.

2. "Aysunlar, beşinci katta oturuyorlar." cümlesinde altı çizili kelimenin sıra sayısı olarak gösterilişi aşağıdakilerden hangisidir?

A) 5!

B) 5.

C) .5

3. Aşağıdaki sıra sayılardan hangisinin okunuşu yanlış yazılmıştır?

A) 3. → Üçüncü

B) 7. → Yedinci

C) 10. → On beşinci

D. Aşağıdaki metni okuyunuz. Metinde boş bırakılan yerlere uygun noktalama işaretlerini yazınız.

Mustafa Kemal yurdunu çok seviyordu Çok çalışkan bir öğrenciydi Okullarını başarı ile bitirdi Cumhurbaşkanı olduktan sonra da durmadan çalıştı Türkiye mizin güzel bir ülke olması için uğraştı

E. Aşağıdaki görselleri örnekteki gibi eşleştiriniz.



a) Anıtkabir



b) Ali Rıza Efendi



c) Zübeyde Hanım



d) Atatürk'ün doğduğu ev



e) Mustafa Kemal Atatürk

F. Aşağıdaki soruları cevaplayınız.

- Aşağıdaki cümlelerden hangisinin sonuna soru işareti konulmalıdır?
 - Yağmur başladı
 - Yağmur mu başladı
 - Yağmur yağmaya başladı
- Aşağıdaki kelimelerden hangisi soru anlamı taşır?
 - Nerede
 - Ben
 - Burada
- Şuraya bırakır mısın
 Kaç yaşındasın
 Bugün çok ödevim var
 Yukarıdaki cümlelerden hangisinin sonuna farklı bir noktalama işareti konur?
 -
 -
 -
- Yemekte var?
 Yukarıdaki cümlede noktalı yere aşağıdakilerden hangisi yazılmalıdır?
 - makarna
 - pizza
 - ne
- Aşağıdaki ifadelerden hangisi yanlıştır?
 - Nokta, tamamlanmamış cümlelerin sonuna konulur.
 - Sıra bildiren sayılar rakamla yazılırken nokta kullanılır.
 - Soru cümlelerinin sonuna soru işareti konulur.
- Aşağıdaki noktalama işaretlerinden hangisi cümlelerin sonuna konulmaz?
 - Virgül(,)
 - Soru İşareti(?)
 - Nokta(.)

ATATÜRK'ÜN RESMİ

Kürsünün üstünde bir resim;
 Gözleri denizlerden mavi,
 Bakışları güneşlerden sıcak,
 Bu resimle başlar bizim günümüz,
 Kıvançla dolar, taşar gönlümüz.
 Öğretmenimizin kürsüde
 Verdiği dersi
 Dinler bizimle birlikte,
 Atatürk'ün resmi,
 Çalışkanız çünkü
 Çalışınca,
 Bakarız, Atatürk güldü.
 Bir yanlışlık yaparsak,
 Bulutlanır gözleri,
 Anlarız Atatürk üzüldü.

Behçet NECATİGİL

G. Aşağıdaki soruları cevaplayınız.

1. Atatürk'ün resmi nerededir
2. Atatürk'ün bakışları ne ile karşılaştırmıştır?
3. Atatürk'ün resmi ne zaman gülüyor?
 A) Öğrenciler sınıfa girince
 B) Öğrenciler çalışınca
 C) Öğrenciler dersi dinleyince
4. Atatürk'ün gözleri ne zaman bulutlanıyor?
 A) Öğrenciler yanlışlık yapınca
 B) Öğrenciler gidince
 C) Öğrenciler dersi dinleyince

ATATÜRK VE ARTİN

Bir yaz günü Atatürk Florya Köşkü'ne giderken arabası arızalanır. Şoför, arabayı onarmaya çalışırken sekiz- on yaşlarında bir çocuk Atatürk'ü tanır ve selam verir. Atatürk:

- "Niçin bana selam veriyorsun? Sen beni tanır mısın?" der. Çocuk:
- "Elbette tanırım. Sen hepimizin babası Atatürk değil misin?" der.

Atatürk, çocuğa adını sorar ve "Artin" olduğunu öğrenir. Atatürk çok duygulanır ve küçük Artin'i kucağına alarak sever, per. Onu cömertce ödüllendirir.

H. Aşağıdaki soruları cevaplayınız.

1. Atatürk nereye gidiyor?
 A) Çankaya Köşkü'ne
 B) Florya Köşkü'ne
 C) Dolmabahçe Sarayı'na
2. Atatürk'e selam veren çocuğun adı nedir?
 A) Artin B) Bera C) John
3. Atatürk, çocuğa ne sormuştur?
4. Çocuk, Atatürk'e ne cevap vermiştir?
5. "Cömert" kelimesinin anlamını Türkçe Sözlük'ten bularak yazınız.

A. Aşağıda verilen cümlelerde boş bırakılan yerleri görseldeki koşu yarışının sonucuna göre tamamlayınız.



1. Fil yarış 1. bitirmiştir.
2. sırada zebra vardır.
3. Yarışta olan kaplandır.
4. Zürafa yarışta..... olmuştur.

B. Aşağıdaki soruları cevaplayınız.

1. Eş görevli sözcüklerin arasına hangi noktalama işareti konulur?

2. Heyecan, sevinç, korku gibi duyguları anlatan cümlelerin sonuna hangi nokta ama işareti konulur?

3. Özel isimlere gelen ekler hangi noktalama işareti ile ayrılır?

Haydi Düşünelim

Aşağıdaki kelimelerden hangisi hecelerine yanlış ayrılmıştır?

- A) kor-
kuluk
- B) hanım-
eli
- C) ara-
ba

5. At yarışta olmuştur.
6. Ayı yarış 1. sırada bitirmiştir.
7. Yarışmaya hayvan katılmıştır.

C. Aşağıdaki soruları cevaplayınız.

1. "Marketten peynir () zeytin ve yumurta aldım()"

Yukarıdaki cümlede () yay ayraç ile gösterilen yerlere sırasıyla hangi noktalama işaretleri getirilmelidir?

- A) (!) (.) B) (,) (?) C) (,) (.)

2. Aşağıdaki cümlelerin hangisinde virgül yanlış kullanılmıştır?

A) Mart, nisan ve mayıs ilkbahar mevsiminin aylarıdır.

B) Babam, ile annem dışarı çıktı

C) Pazardan elma, armut ve portakal aldık.

3. Aşağıdaki cümlelerin hangisinin sonuna ünlem işareti (!) konulmalıdır?

A) Eyvah, yangın var

B) Kim geldi

C) Onu çok seviyorum

D. Aşağıda verilen cümlelerde () yay araç ile boş bırakılan yerlere uygun noktalama işaretlerini yazınız.

1. Fatihler 3() katta oturuyorlar.
2. Bir yılda dört mevsim vardır()
3. Eylül() ekim ve kasım sonbahar mevsiminin aylarıdır()
4. Topumu kim aldı()
5. Yaşasın() Sonunda ödevim bitti()
6. Kaçınıcı sınıfa gidiyorsun()
7. Yangın var()
8. Dünya() Güneş() in etrafında dönüyor.

E. Aşağıda verilen kelimele i örnekteki gibi kısa çizgi kullanarak hecelerine ayırın z.

Keloğlan
..... Ke-
loğlan

Arkadaşlık

Telefoncu

İlkokul

F. Aşağıdaki soruları cevaplayınız.

1. Aşağıdaki cümlelerin hangisinin sonuna ünlem işareti(!) konulmalıdır?
A) Sen de mi geliyorsun()
B) Aaa, bu yaptığın çok yanlış()
C) Kendimi iyi hissetmiyorum()
2. Özel adlara gelen ekleri ayırmak için hangi noktalama işaretini kullanırsınız?
A) Kesme işareti (')
B) Soru işareti(?)
C) Nokta(.)
3. Aşağıdaki cümlelerin hangisinin sonuna soru işareti(?) konulmaz?
A) Kapı çaldı()
B) Gelen kimmiş()
C) Aydın mı geldi()
4. Aşağıdaki cümlelerin hangisinde noktalama işareti yanlış kullanılmıştır?
A) Oley, dedem geliyor!
B) Bu kitap kaç TL?
C) On TL param kaldı,
5. Hangi noktalama işaretinden sonra büyük harf kullanılmaz?
A) , B) ? C) !
6. "Türkiye() nin en büyük gölü Van Gölü() dür."
Yukarıdaki cümlede () yay araç ile gösterilen yerlere aşağıdaki noktalama işaretlerinden hangisi getirilmelidir?
A) ! B) , C) ' "

HEZARFEN AHMET ÇELEBİ

Osmanlı Devleti zamanında ilk kez uçuş girişiminde bulunan kişidir. Kendi tasarladığı kanatları takarak İstanbul'daki Galata Kulesi'nden atlayıp Kız Kulesi'ne başarılı bir uçuş gerçekleştirmiştir. Uçan ilk insan olarak tarihe geçmiştir. İnsanın bir gün uçacağına tüm yüreğiyle inanmıştır.

G. Aşağıdaki soruları cevaplayınız.

1. Uçan ilk insan kimdir?
A) Yunus Emre
B) İbn-i Sina
C) Hezarfen Ahmet Çelebi
2. Hezarfen Ahmet Çelebi nereden nereye kadar uçmuştur?

3. Aşağıda verilen kelimeler ile anlamlarını eşleştiriniz.

1 Bilim	A Bir şeyin havada durmasını sağlayan yatay yüzey
2 Hezarfen	B Uçan ilk insan
3 Kanat	C Değişik yöntem ve uygulamaları kullanarak araştırma yapmak
4 Hezarfen Ahmet Çelebi	D Elinden birçok iş gelen

BİLİM VE TEKNOLOJİ

Bilim, bilgi pınarım,
Teknolojiye varım.
Çağı yakalayarak
İnsanlığa sunarım.

Teknikle çalışalım,
Zamanla yarışalım.
İstek ve coşkuyla
Zirvede buluşalım.

Muhsin DURUCAN

H. Aşağıdaki soruları cevap ayınız.

1. Bilim, nedir?
2. Şair insanlığa ne sunuyor?
3. Şiire göre ne ile yarışmalıyız?
A) Birbirimizle B) Zamanla
B) Bilgiyle

I. Aşağıdaki boşluklara gelecek olan uygun ekleri örnekteki gibi yazarak noktalama işaretlerini koyunuz.

“Mi” soru eki,
Her zaman ayrı yazılır.
Soru cümlelerini
anlamamızı kolaylaştırır.

musun mı mi mü

1. Oraya gittin mi (?)
2. Kitap okuyor (....)
3. Bana tatlı yaptın(....)
4. Ütü bozuldu(....)

A. Aşağıda verilen ve yazımı yanlış olan kelimelerin doğrusunu yanlarına yazınız.

Haporlör	Hoparlör
Öretmen
Sovan
Miğde
Yalrış
Tenbel
Pilan
Yanlız

B. Aşağıdaki soruları c vaplayınız.

- Sözcüklerin doğru yazılışlarını nereden öğ eniriz
- Aşağıdaki kelimelerin doğrularını yazınız.
Kirbit →
Piriz →
Tiren →
Traş →

Haydi Düşünelim

Aşağıdaki kelimelerin hangisinin yazımı yanlıştır?

- A) İstanbul B) Çarşamba
C) Tenefüs

C. Görselleri verilen varlıkların adlarını yazınız.

1 	2 	3 
Kirpi
4 	5 	6 
.....
7 	8 
.....

D. Aşağıdaki soruları cevaplayınız.

- "Dedem gaste okuyor." cümlesinde altı çizili kelimenin doğru yazılışı aşağıdakilerden hangisidir?
A) Gazte B) Gazete C) Gasete
- Aşağıdaki cümlelerin hangisinde yazımı yanlışı olan bir kelime vardır?
A) Hasta olunca duktora gittim.
B) Issız sokaklardan geçtim.
C) Perşembe günü pazar kurulu-yor.
- Aşağıdaki kelimelerden hangisinin yazımı yanlıştır?
A) Kamera B) Limon C) Kitab

E. Aşağıda verilen ve yazımı yanlış olan kelimelerin doğru yazılışlarını sözcük avı bulmacasında bularak boyayınız.

Traş	Aferim	Kırem	pılastik
Matamatik	yagmur	sipor	kılavye
Kıral	ekiran	herkez	ilimon

M	A	T	E	M	A	T	İ	K
Y	F	I	K	N	O	M	İ	L
A	E	R	R	K	R	A	L	A
Ğ	R	A	A	V	R	L	H	V
M	İ	Ş	N	U	D	J	Ğ	Y
U	N	H	E	R	K	E	S	E
R	S	P	O	R	K	R	E	M
P	L	A	S	T	İ	K	T	K

F. Aşağıda verilen kelimelerden yazılışı doğru olanların bulunduğu bulutları boyayınız.

börek

dükkân

eylence

pantolon

aile

çiftlik

çukulata

herkes

lampa

şöför

G. Aşağıdaki soruları cevaplayınız.

1. Kelimelerin doğru yazılışlarını aşağıdakilerin hangisinden öğreniriz?

A) Türkçe Sözlük

B) Kitap

C) Yazım Kılavuzu

2. Aşağıdaki kelimelerin hangisinin yazılışı yanlıştır?

A) Tepeşir

B) Kurbağa

C) Tembel

3. Aşağıdaki cümlelerin hangisinde yazım yanlışlığı olan bir kelime yoktur?

A) Kaplumba yavaş adımlarla ilerliyordu.

B) Ananem bugün bize gelecek.

C) Annem, bisküvili pasta yaptı.

4.

Beyaslar düştü yere,
Sovuklar geldi yine.
Göjmen kuşlar uçuyor,
Sıcak bir mevsime.

Yukarıdaki dördlükte yazım yanlışlığı olan kaç kelime vardır?

A) 3


B) 2

C) 1

5. Aşağıdaki kelimelerin hangisinin yazılışı doğrudur?

A) Trafik B) Bilgisaray C) Pıçak

A. Resimdeki kayıp eşyaları bulunuz. Resmi boyayınız.



B. Aşağıdaki soruları cevaplayınız.

Babam, dün bana yeni bisiklet aldı.

1. Kim aldı?

2. Ne aldı?

3. Ne zaman aldı?

Haydi Düşünelim

Lim 10

Yukarıda verilen kelime aşağıdakilerden hangisidir?

A) Limon B) Portakal C) Üzüm

C. Aşağıdaki soruları cevaplayınız.

1 2 ve 3. soruları aşağıdaki dördlüğe göre cevaplayınız.

Dünya'mızın süsüdür,
O güzelim ağaçlar.
Kestaneler, söğütler,
Meşe, ladin, çam, çınar.

Atilla ÇAKIROĞLU

1. Şiirin konusu nedir?

A) Oyun B) Teknoloji
C) Ağaçlar

2. Dördlükte adı geçmeyen ağaç hangisidir?

A) Zeytin B) Ladin C) Çınar

3. Şair kimdir?

A) İ. Hakkı SUNAT
B) Atilla ÇAKIROĞLU
C) Şükrü Enis REGÜ

D. Aşağıdaki kelimeleri örnekteki gibi yazınız.



E. Aşağıda verilen görsellerin ize hatırlattıklarını yazınız.



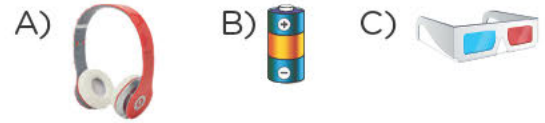
F. Aşağıdaki soruları cevaplayınız.


Ay, Dünya'mızın uydusu
Döner gece gece.
Akşam olup karanlık çökünce
Gökyüzü ışık saçar bize.

Gürsel İLERİ


1. ve 2. soruları yukarıdaki dördlüğe göre cevaplayınız.

- Dünya'mızın uydusu nedir?
A) Güneş B) Yıldızlar C) Ay
- Ay, bize ne zaman ışık saçar?
A) Her zaman
B) Akşam olup karanlık çökünce
C) Gündüzleri
- "Her şeyi gerçekmiş gibi üç boyutlu görmemizi sağlayan, sinemalarda taktığımız nesne."
Yukarıda açıklaması verilen nesne aşağıdakilerden hangisidir?



-  Yanda görseli verilen sembolün görevi aşağıdakilerden hangisidir?

A) Kapat B) Aç C) Sesi kapat

-  Yandaki görselin anlamı aşağıdakilerden hangisidir?

A) Sesi Kapat B) Sesi Aç

C) Aç

UZAY GEMİSİ

Dünya'daki üssümüzden
Bir sabah çıktık yola.
O yıldız senin,
Bu yıldız benim,
Gezip durduk uzayda.

Yıldızların birinde,
Uzaylılarla karşılaştık.
Dedim ki onlara:
"Korkmayın uzaylılar,
Biz Dünya'dan geliyoruz,
Size barış getiriyoruz."

Aziz SİVASOĞLU

G. Aşağıdaki soruları cevaplayınız.

1. Çocuklar nereden yola çıkmışlar?

2. Çocuklar ne zaman yola çıkmışlar?

3. Çocuklar nerede uzaylılar ile karşılaşmıştır?

- A) Ayda
B) Yıldızların birinde
C) Güneşte

4. Şair, uzaylılara aşağıdakilerden hangisini söylememiştir?

- A) Nasılsınız uzaylılar?
B) Korkmayın uzaylılar!
C) Size barış getiriyoruz.

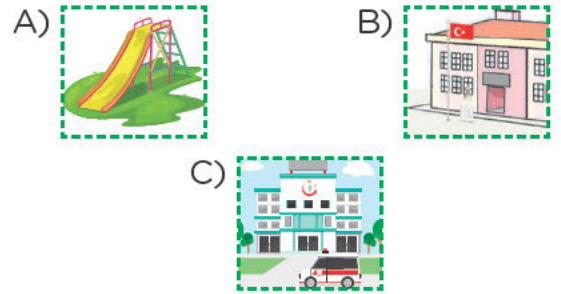
DIŞARI ÇIKALIM

Poyraz'ın evinin yanına çok güzel bir park yapılmıştı. Her şey düşünülmüştü. Park muhteşem görünüyordu. Poyraz, her akşam bu parkta oynuyor ama sıkılıyordu. Çünkü parkta Poyraz'dan başka kimse olmuyordu. Arkadaşları evde tablet, bilgisayar oynamayı tercih ediyordu. Poyraz o gün tüm arkadaşları ile konuştu. Parkta buluşmak için sözleşti. Başladı beklemeye. Ama gelen giden olmadı. Poyraz üzgün bir şekilde eve dönerken ağzından şu sözler döküldü:

Oyu oynamak için,
Haydi dışarı çikalım.
Bilgisayar oyunlarına
Fazla kapılmayalım.

H. Aşağıdaki soruları cevaplayınız.

1. Poyrazların evinin önüne ne yapılmıştır?



2. Poyraz'ın arkadaşları evlerinde aşağıdakilerden hangisini oynamıyorlar?

- A) Tablet B) Bilgisayar C) Top

3. Poyraz, tüm arkadaşları ile ne konuşmuştur?

1.
SINIF

MATEMATİK



EDITOR YAYINEVİ



KONULAR

- Uzamsal İlişkiler - 1 (Altında-üstünde-etrafında-sağda-solda-arada-önde-arkada-yüksekte-alçakta)
- Uzamsal İlişkiler - 2 (Uzakta-yakında-içinde-dışında-eş nesnelere)
- Ağır-Hafif
- Rakamlar
- 20'ye Kadar Olan Doğal Sayılar
- Ritmik Saymalar
- Doğal Sayıları Karşılaştırma
- Onluk ve Birlik
- Sıra Bildiren Sayılar
- Toplama İşleminin Anlamı
- 20'ye Kadar Olan Doğal Sayılarla Toplama İşlemi
- Toplama İşleminde Toplananların Yer Değiştirilmesi
- 20'ye Kadar Olan Doğal Sayılarla Çıkarma İşlemi
- Parçaları
- Verilmeyen Toplanan Bulma
- Zihinden Toplama İşlemi - Toplama Problemleri
- Zihinden Çıkarma İşlemi
- Toplama ve Çıkarma İşlemi Problemleri
- Kesirler
- Zaman Ölçme
- Geometrik Cisimler ve Şekiller
- Geometrik Örüntüler
- Veri Toplama ve Değerlendirme
- Uzunluk Ölçme
- Sıvıları Ölçme

A. Aşağıdaki görsele göre doğru olan ifadelere “gülen yüz (😊)”, yanlış olan ifadelere “üzgün yüz (😞)” yapınız.



- Masanın üzerinde kitap var.
- Kedi, masanın üzerindedir.
- Çocuk, sandalyenin üzerindedir.
- İp, masanın altındadır.

B. Aşağıdaki soruları cevaplayınız

1. Bir masa çiziniz. Masanın üzerine sürühi çiziniz. Masanın altına tavşan çiziniz.



Haydi Düşünelim



Yandaki görsele göre sehpanın üzerinde aşağıdakilerden hangisi vardır?

- A)
- B)
- C)

C. Aşağıdaki görsele göre su içme yerinin etrafında bulunan hayvanları işaretleyiniz.



- Tavuk
- At
- Tavşan
- Eşek
- Kedi
- Hindi
- Ördek
- İnek
- Köpek

D. Aşağıdaki soruları cevaplayınız.

1. Yandaki görsele göre sincabın üzerinde ne vardır?



- A)
- B)
- C)

2. Masanın üzerinde aşağıdakilerden hangisi yoktur?



- A)
- B)
- C)

E. Aşağıdaki görselleri inceleyiniz. Evin sağında bulunanları maviye, solunda bulunanları yeşile boyayınız. (Kendi duruşunuzu dikkate alınız.)



F. Kendi duruşunuzu dikkate alarak doğru ifadelerin olduğu bulutları boyayınız.



Arda Alara Ece Elif Sinan

- 1 Alara'nın sağında Ece vardır.
- 2 Sinan en soldadır.
- 3 Arda'nın solunda Alara vardır.
- 4 Sinan'ın solunda Elif vardır.
- 5 Ece ortadadır.
- 6 Arda en sağdadır.
- 7 Elif, Sinan'ın solunda, Ece'nin sağındadır.
- 8 Arda'nın sağında Alara vardır.

G. Aşağıdaki soruları kendi duruşunuza göre cevaplayınız.



Neşe Ömer Ayşe

1, 2 ve 3. soruları görsele göre cevaplayınız.

1. Neşe'nin sağında kim vardır?
A) Ömer B) Ayşe C) Sevda
2. Neşe ile Ayşe'nin arasında kim vardır?
A) Zeynep B) Kuş C) Ömer
3. Ayşe, Ömer'in neresindedir?
A) Solunda B) Sağında
C) Arasında

4 ve 5. soruları görsele göre cevaplayınız.



4. En önde hangi hayvan vardır?
A) Zebra B) Giraffe C) Elefant
5. En arkada hangi hayvan vardır?
A) Zebra B) Giraffe C) Elefant

YARIŞ ZAMANI



H. Aşağıdaki soruları cevaplayınız.




1. Hangi renkteki araba en öndedir?

- A)  B) 
C) 

2. Yarışa kaç araba katılmıştır?

- A) 3 B) 4 C) 5



3. Hangi renkteki araba en arkada-
dır?

- A)  B) 
C) 

4. En öndeki araba ile en arkadaki
araba arasında kaç araba vardır?

- A) 3 B) 2 C) 1

5. Aşağıdaki arabalardan hangisi
mavi ile sarı araba arasındadır?

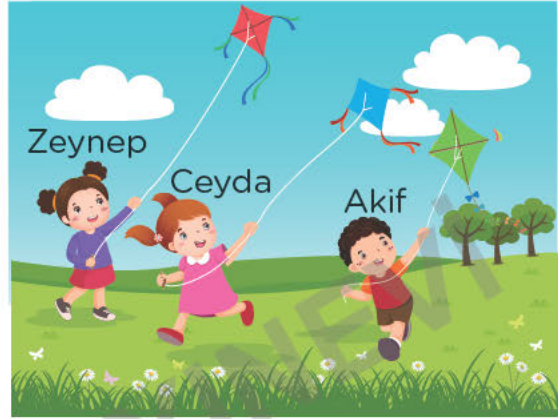
- A)  B) 
C) 

6. Mor ve turuncu araba arasında
kalan arabaları çiziniz.



UÇURTMA ŞENLİĞİ

Ceyda, o gün ailesi ile birlikte uçurtma şenliğine katıldı. Herkes uçurtmasını en yükseğe uçurmaya çalışıyordu. Bu güzel etkinlikte çok renkli görüntüler ortaya çıktı. Ceyda da çok eğlendi.



I. Aşağıdaki soruları cevaplayınız.

1. En alçaktaki uçurtma kimindir?

- A) Zeynep B) Akif C) Ceyda

2. Hangi uçurtma en yüksektedir?

- A) Mavi B) Yeşil C) Kırmızı

3. Kimin uçurtması olmasaydı mavi
uçurtma en yüksekte olurdu?


- A) Zeynep B) Akif C) Ceyda

4. Kırmızı uçurtma ile yeşil uçurtma-
nın arasında olan uçurtma kimin-
dir?

- A) Zeynep'in B) Akif'in


- C) Ceyda'nın

A. Görseli inceleyerek aşağıdaki istenenleri yapınız.



1. Eve en yakın olan çocuğu maviye boyayınız.
2. Eve en uzak olan çocuğu turuncuya boyayınız.
3. Ortadaki çocuğu sarıya boyayınız.
4. Hayvanları ağaca yakın olandan uzak olana doğru numaralandırarak sıralayınız.

B. Aşağıdaki soruları cevaplayınız.



Anne ördeğe en yakın olan ördeği sarıya en uzak olan ördeği ise turuncuya boyayınız. Ortadaki ördeği de istediğiniz renge boyayınız.

C. Aşağıdaki soruları cevaplayınız.

1. Görsele göre alçakta olan balon hangisidir?
A) mor B) turuncu
C) kırmızı

2 ve 3. soruları aşağıdaki görsele göre cevaplayınız.



Can Ece Nur Cem

2. Yemek sırasında 1. sırada kim vardır?
A) Can B) Ece C) Cem
3. Sıraya göre en son yemeğini kim alır?
A) Nur B) Cem C) Ece

Haydi Düşünelim



Yandaki görsele göre okula en uzak olan öğrenci aşağıdakilerden hangisidir?

- A) Ali B) Salih C) Ömer



Yukarıdaki görselleri ince eyiniz.

D. Aşağıdaki soruları yukarıdaki görsellere göre cevaplayınız.

1. Evin içinde olan çocukları işaretleyiniz.

Selma Sevgi Turgut

2. Arabanın dışında olan çocukları işaretleyiniz.

Turgut Sibel Okтай Şoför

3. Havuzun dışında olan çocuk aşağıdakilerden hangisidir?

A) Selin B) Berk C) Mert

4. Resimlerde toplam kaç çocuk vardır?

A) 5 B) 8 C) 10

E. Aşağıdaki soruları cevaplayınız.



1, 2 ve 3. soruları yukarıdaki görsele göre cevaplayınız.

1. Aşağıdaki meyvelerden hangisi tabağın içindedir?

A) çilek B) karpuz C) elma

2. Aşağıdaki meyvelerden hangisi tabağın dışında değildir?

A) muz B) çilek C) karpuz




3. Tabağın içinde kaç meyve vardır?

A) 6 B) 7 C) 8

4. Yandaki topun eş nesnesi aşağıdakilerden hangisidir?

A)  B)  C) 

5. Yandaki görselin eş nesnesi aşağıdakilerden hangisidir?

A)  B)  C) 

6. Yandaki paranın eş nesnesi aşağıdakilerden hangisidir?

A)  B)  C) 

ELDİVEN

Annesi çocuğuna hayretle baktı:

“Yavrucuğum sokağa böyle çıkılır mı hiç? Bak, eldivenlerinin biri beyaz biri siyah.” dedi.

“Biliyorum anneciğim başka bir eldiven giyecektim, onun da biri siyah biri beyazdı.”

F. Başta verilen nesneye eş olan nesneyi bulup işaretleyiniz.



G. Aşağıda karışık olarak verilen eş şekilleri aynı renge boyayınız.



A. Aşağıda verilenlerden daha ağır olanı işaretleyiniz.




B. Aşağıdaki soruları cevaplayınız.

1. Kediden daha ağır olan hayvanlara üç tane örnek yazınız.

2. Kitaptan daha hafif nesnelere üç tane örnek yazınız.

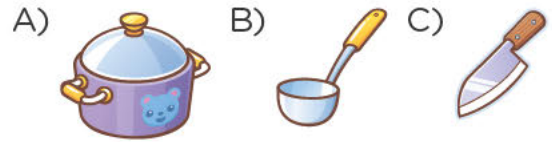
Haydi Düşünelim

Aşağıdaki hayvanlar hafiften ağıra doğru sıralandığında orta sırada hangisi olur?

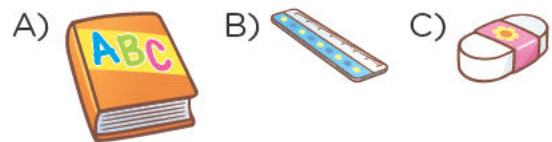


C. Aşağıdaki soruları cevaplayınız.


1. Aşağıdaki nesnelere en ağır hangisidir?



2. Aşağıdaki nesnelere en hafifi hangisidir?



3. Aşağıdaki tabaklardan hangisi en hafiftir?



D. Aşağıda verilenlerden daha hafif olanı işaretleyiniz.

1



2



3



E. Başta verilen varlıktan daha ağırını işaretleyiniz.

1



2



3


















F. Aşağıdaki soruları cevaplayınız.



1, 2 ve 3. soruları yukarıdaki görsele göre cevaplayınız.

- En hafif olan çocuk kimdir?
A) Reyyan B) Bayram C) Yavuz
- En ağır olan çocuk hangisidir?
A) Yavuz B) Reyyan C) Bayram
- Çocukların ağırlıkları hafiften ağıra doğru sıralandığında aşağıdaki seçeneklerden hangisi doğru olur?
A) Reyyan - Bayram - Yavuz
B) Bayram - Yavuz - Reyyan
C) Bayram - Reyyan - Yavuz
- Yukarıdaki meyvelere göre aşağıdakilerden hangisi yanlıştır?
A) Erik, kavundan ağırdır.
B) Armut, kavundan hafiftir.
C) En hafif olan eriktir.
- Aşağıdaki sporculardan hangisi daha fazla ağırlık taşımıştır?
A) B) C)

G. Aşağıdaki nesnelere en hafiften en ağıra doğru numara vererek sıralayınız.

1			
	<input type="radio"/>	<input type="radio"/>	<input type="radio"/>
2			
	<input type="radio"/>	<input type="radio"/>	<input type="radio"/>
3			
	<input type="radio"/>	<input type="radio"/>	<input type="radio"/>
4			
	<input type="radio"/>	<input type="radio"/>	<input type="radio"/>
5			
	<input type="radio"/>	<input type="radio"/>	<input type="radio"/>
6			
	<input type="radio"/>	<input type="radio"/>	<input type="radio"/>

Bilmece

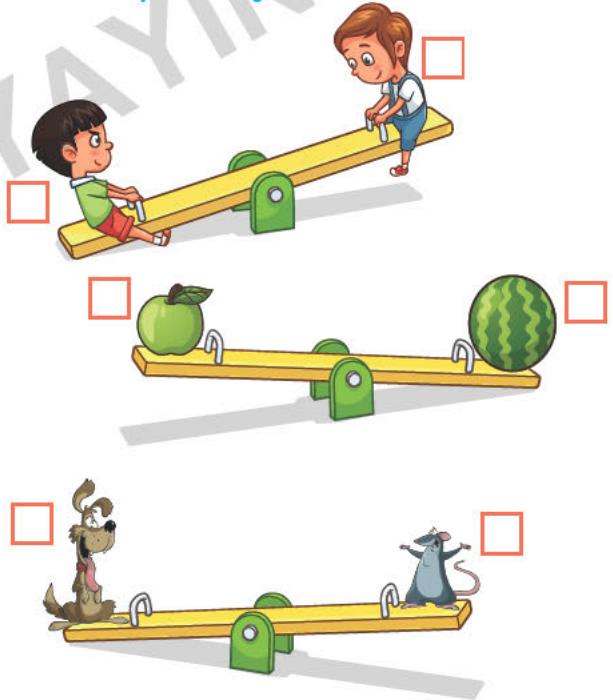
Adamın biri çok zayıf olduğu halde yatağa çıktığında yatak kırılıyormuş. Neden?

Cevap: Uykusu ağırmış

H. Aşağıda verilen ifadelerden doğru olanları yeşile boyayınız, yanlış olanları kırmızıya boyayınız.

- | | | | |
|---|----------------------------|---|--------------------------|
| 1 | Fil, fareden hafiftir. | 2 | Aslan, köpekten ağırdır. |
| 3 | Karınca, fareden hafiftir. | 4 | Eşek, horozdan ağırdır. |
| 5 | Kedi, fareden hafiftir. | 6 | Keçi, attan ağırdır. |

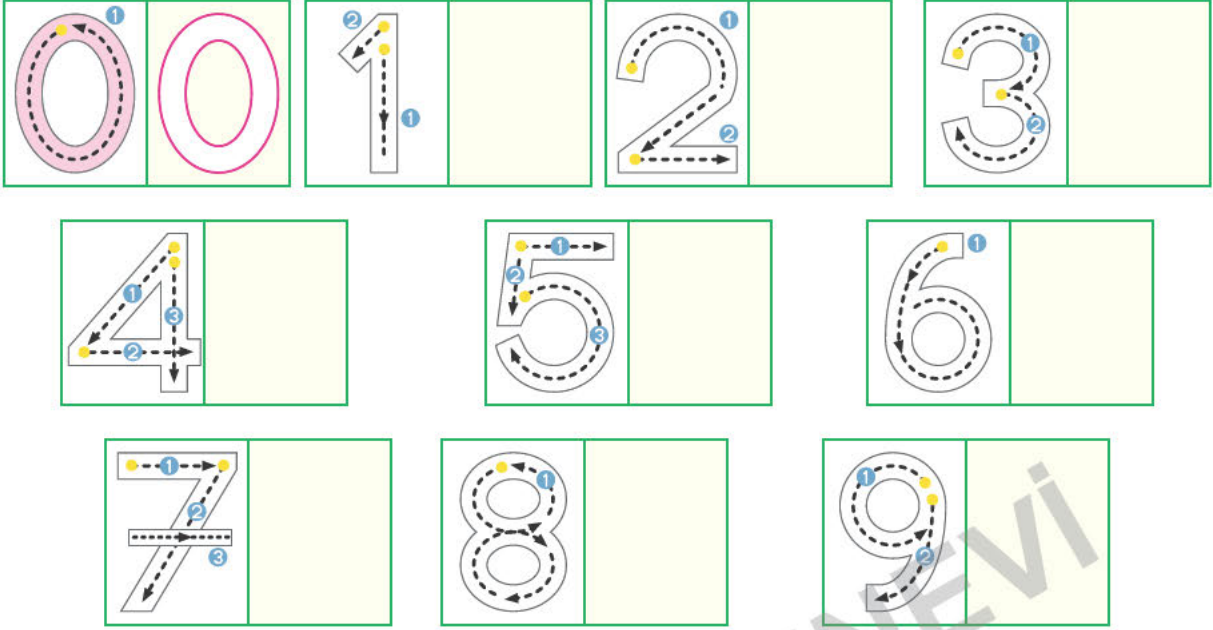
I. Aşağıda verilenlerden daha ağır olanını işaretleyiniz.



TERAZİ

Terazi var,
Tartı var.
Her şeyin bir vakti var.
Al al kardeş,
Her şeyi uygunca,
Tart kardeş.

A. Aşağıda verilen rakamları ok yönlerine dikkat ederek yazınız ve boyayınız.



B. Aşağıdaki soruları cevaplayınız.

1. Kaç tane rakam vardır?

.....

2. Rakamları sırasıyla yazınız.

.....

3. Aşağıda verilen rakamların okunuşlarını yazınız.

0	5
1	6
2	7
3	8
4	9

Haydi Düşünelim

Aşağıdaki rakamlardan hangisinin okunuşu yanlıştır?


A) 0 → Sıfır

B) 5 → Beş




C) 9 → Sekiz

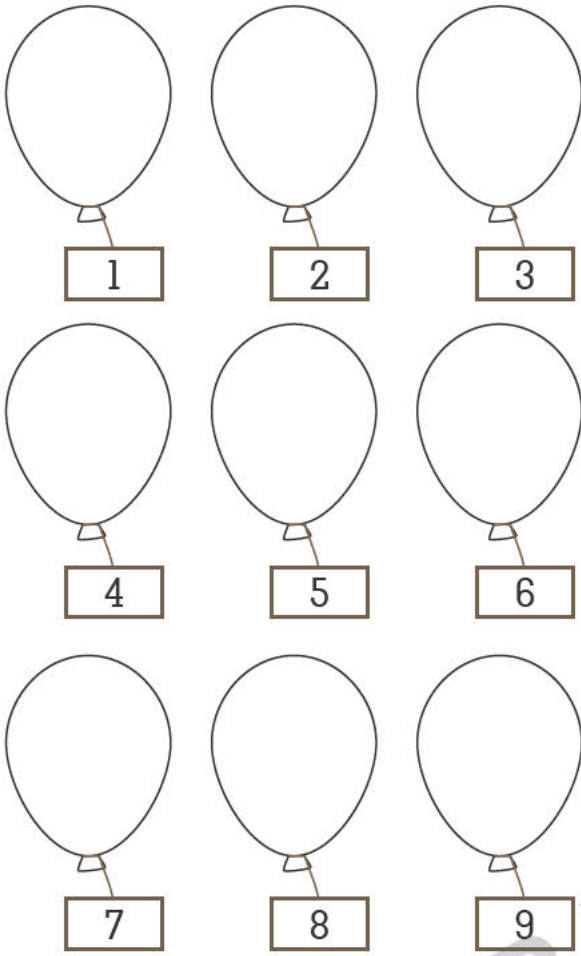
C. Aşağıdaki soruları cevaplayınız.

1. Aşağıdaki nesnelerin hangisinin sayısı 6'dır?



2. Aşağıdaki seçeneklerin hangisinde nesne sayısı yanlış verilmiştir?







D. Yukarıdaki balonları aşağıda verilenlere göre boyayınız

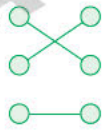
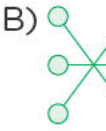
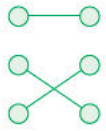
- 1 numaralı balonu kırmızıya boyayınız.
- 2 numaralı balonu maviye boyayınız.
- 3 numaralı balonu kahverengiye boyayınız.
- 4 numaralı balonu turuncuya boyayınız.
- 5 numaralı balonu yeşile boyayınız.
- 6 numaralı balonu pembeye boyayınız.
- 7 numaralı balonu mora boyayınız.
- 8 numaralı balonu griye boyayınız.
- 9 numaralı balonu beyaza boyayınız.

E. Aşağıdaki soruları cevaplayınız.

1.  Akvaryumdaki balık sayısı kaçtır?
A) 7 B) 8 C) 9

2.  7
0
6

Nesne sayıları ile rakamlar eşleştirildiğinde aşağıdaki seçeneklerden hangisi doğru olur?




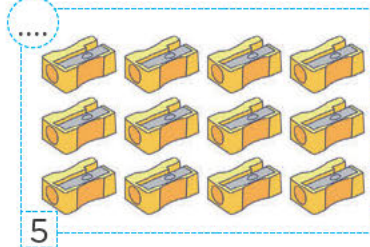
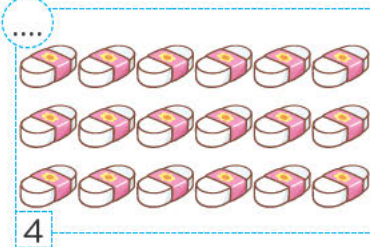



- A)  B)  C) 

3, 4 ve 5. soruları aşağıdaki görsele göre cevaplayınız.



3. Sarı renkli otomobillerin sayısı kaçtır?
A) 3 B) 4 C) 5
4. Mavi renkli otomobillerin sayısı kaçtır?
A) 1 B) 2 C) 3
5. Kırmızı renkli otomobillerin sayısı kaçtır?
A) 0 B) 1 C) 2

A. Aşağıda verilen nesnelerin sayılarını örnekteki gibi yazınız.



B. Aşağıdaki soruları cevaplayınız.

1. Rakam ile sayı arasındaki fark nedir?

2. Sayılar kaç tanedir?

3. Okunuşu verilen sayıları yazınız.

On → On iki →

On sekiz → On üç →

On beş → Yirmi →

Haydi Düşünelim

Aşağıdakilerden hangisi rakam değildir?

A) 0 B) 9 C) 10

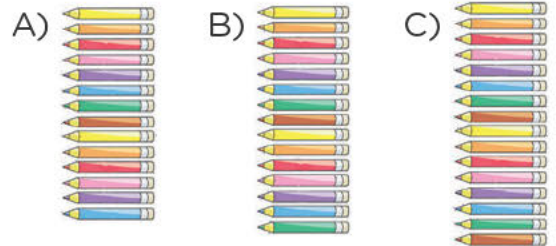
C. Aşağıdaki soruları cevaplayınız.

1. Yandaki görselde kaç tane biliye vardır?



A) 11 B) 12 C) 13

2. Aşağıdaki görsellerden hangisinin sayısı 15'dir?



Yukarıdaki görselde kaç tane domates vardır?


A) 12 B) 13 C) 14

D. Aşağıda verilen sayıları okunuşlarıyla eşleştiriniz.

- 10 • • On iki
- 11 • • On altı
- 12 • • On dört
- 13 • • On sekiz
- 14 • • On
- 15 • • On dokuz
- 16 • • On yedi
- 17 • • On beş
- 18 • • On bir
- 19 • • Yirmi
- 20 • • On üç

E. Aşağıdaki soruları cevaplayınız.


1.



Yukarıda verilen sayıdan bir önce ve bir sonra gelen sayılar yazıldığında aşağıdaki seçeneklerden hangisi dışta kalır?

- A) 19 B) 15 C) 17


2.



Yukarıdaki sayıyı modelle göstermek için kaç yuvarlak daha boyanmalıdır?

- A) 6 B) 5 C) 4

3.




Yukarıda verilen sayılar arasında kalan sayı kaçtır?

- A) 17 B) 18 C) 19

4. Aşağıdakilerin hangisi yanlıştır?

- A) 15 sayısı 14'ten önce gelir.
B) 10'dan sonra 11 gelir.
C) 17'den önce 16 sayısı gelir.

5.



Yukarıdaki görselde kaç tane arı vardır?

- A) 16 B) 15 C) 14

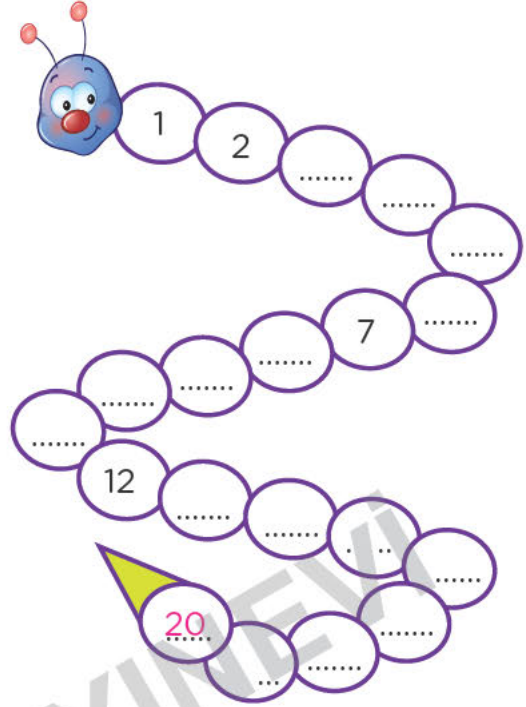
SAYIYORUM

Ondan sonra gelir on bir,
 On iki, on üç, on dört derken
 Sayarım birer birer kolay zaten.
 On beş, on altı, on yedi, on sekiz
 On dokuz ile yirmiyi
 Unutmayın sakın siz.

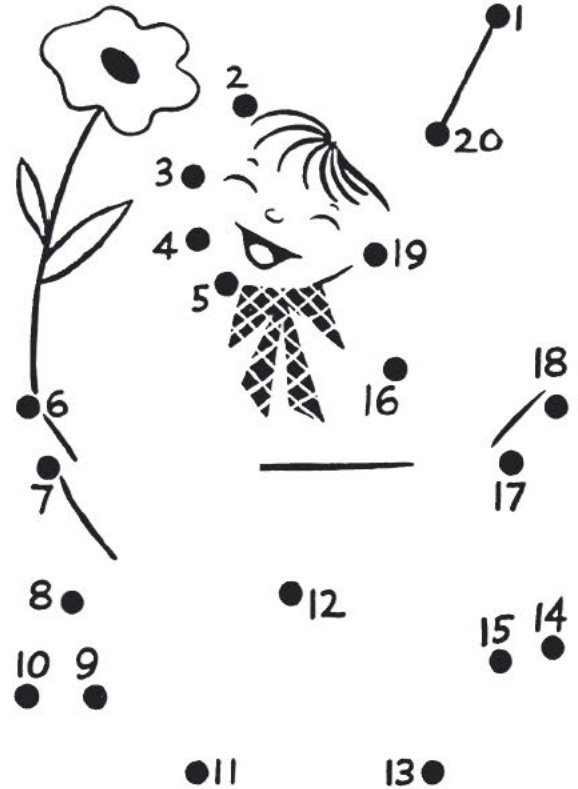
F. Aşağıda verilen sayılara göre önceki ve sonraki sayıları örnekteki gibi yazınız.

9	10	11
.....
.....	15
.....	17
.....	19
.....	11
.....	14
.....	16
.....	12

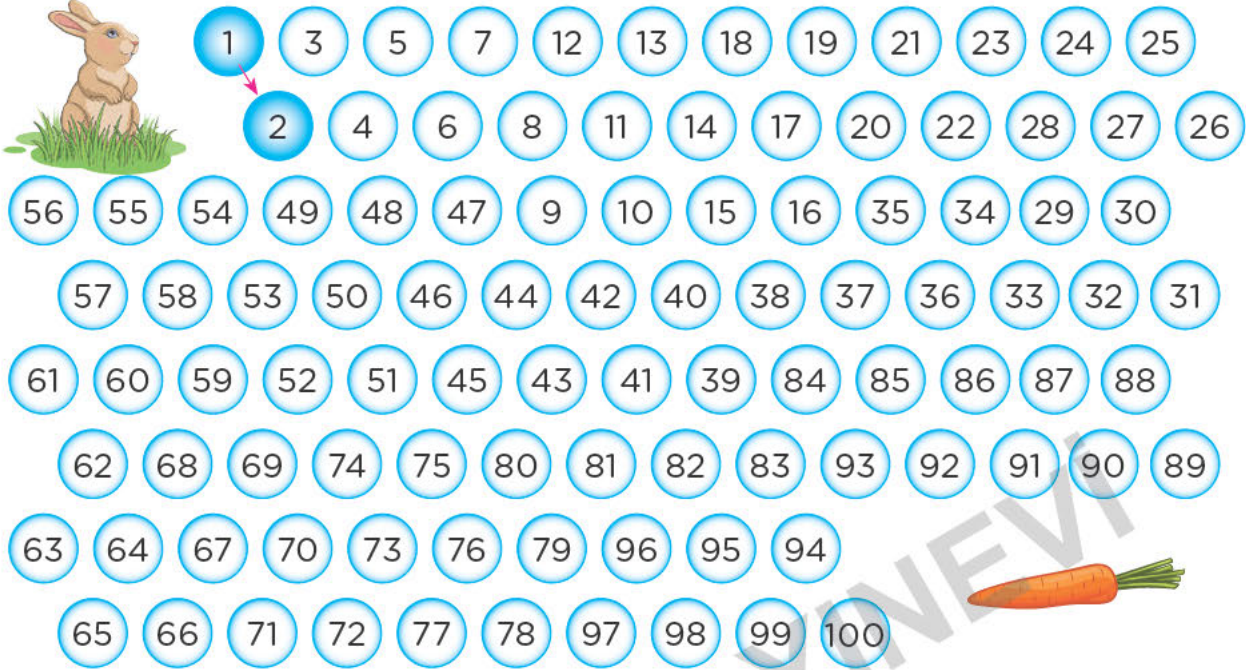
G. Aşağıda boş bırakılan yerleri tamamlayınız.



H. 1'den 20'ye kadar olan noktaları sırasıyla birleştiriniz. Oluşan resmi boyayınız.



A. Tavşanımız Uzunkulak, birden başlayarak birer birer sayıp havucuna ulaşmak istiyor. Birer birer saydığınız sayıları boyayarak Uzunkulak'ı havuca ulaştırınız.



B. Aşağıdaki soruları cevaplayınız.

1. İkişer ikişer yirmiye kadar sayınız ve yazınız.



2. Yirmiden geriye birer ritmik sayınız ve yazınız.

20 - 19 -

3. Aşağıdaki ritmik saymada boş bırakılan yerleri tamamlayınız.



Haydi Düşünelim

Beşer ritmik sayarken aşağıdakilerden hangisini söylemeyiz?

A) 15 B) 40 C) 56

C. Aşağıdaki soruları cevaplayınız.



Yukarıda 26'tan başlayarak yapılan birer ritmik saymada noktalı yere aşağıdakilerden hangisi yazılmalıdır?

A) 28 B) 30 C) 31

2. 20'den geriye birer ritmik sayarken 15'ten sonra hangi sayı gelir?

A) 16 B) 14 C) 13

3. Ondan başlayıp onar ritmik sayarken aşağıdaki sayılardan hangisini söyleriz?

A) 35 B) 45 C) 50


D. Aşağıda verilen sayılardan başlayarak birer ritmik sayınız.


32	33	34	35
20	21
68
84
47
79


E. 5'ten başlayarak 100'e kadar beşer ritmik sayınız.

F. Aşağıdaki soruları cevaplayınız.

1. Aşağıdaki öğrencilerden hangisi ikişer ritmik saymada **yanlışlık yapmıştır?**

A)  0 - 2 - 4 - 6 - 8 -
10 - 12

B)  6 - 8 - 9 - 11 - 13
- 14


C)  8 - 10 - 12 - 14 -
16 - 18 - 20

2.

20	18	14	12	8	6	4
----	----	-------	----	----	-------	---	---	---

Yukarıda verilmiş geriye doğru ikişer ritmik saymada boş bırakılan yerlere uygun sayılar yazılırsa hangi seçenek dışta kalır?

A) 2 B) 16 C) 10

3.  10'dan başlayarak 100'e kadar onar ritmik sayınız.

Habibe Öğretmen'in söylediği ritmik sayma aşağıdaki seçeneklerin hangisinde doğru verilmiştir?

A) 10-20-30-40-50-60-70-80-90-100

B) 10-15-20-30-35-40-50-55-60-70

C) 10-20-30-45-55-65-75-85-100

4. Şengül 60'dan başlayıp 100'e kadar beşer ritmik sayıyor.

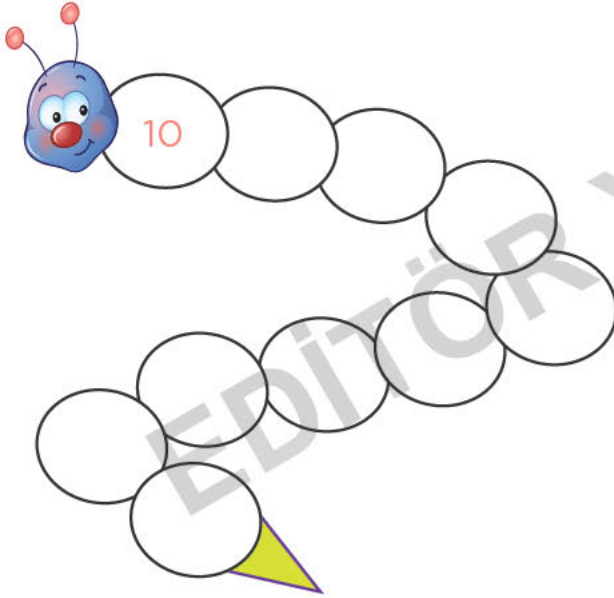
Buna göre Şengül hangi sayıyı söylemez?

A) 65 B) 85 C) 55

ONAR RİTMİK SAYMA

On, yirmi, otuz,
Biz bu oyunda yokuz.
Kırk, elli, altmış,
Bu soruyu kim yapmış?
Yetmiş, seksen, doksan,
Hangi sayı noksan?
Doksandandan sonra gelir yüz.
Yüze yüze yüz,
Haydi denizde yüz.

G. Aşağıdaki sayıdan başlayarak 100'e kadar onar ritmik sayınız ve yazınız.



H. Aşağıda verilen sayılardan başlayarak geriye doğru birer ritmik sayınız ve yazınız.

17	16	15
9
20
14

I. Aşağıda verilen ileriye ve geriye ikişer ritmik saymalarda boş bırakılan yerleri tamamlayınız.

16	14
8	10
20	18
4	6
10	8

J. Kutucuklardaki eksik sayıları üzerinde verilen ifade ere göre tamamlayınız.

Bi erli g ri-
y sayınız.

17
.....
.....
.....
.....
12

İkişerli ileri-
ye sayınız.

6
.....
.....
.....
.....
16





İkişerli geri-
ye sayınız.

18
.....
.....
.....
.....
8

Beşerli ileri-
ye sayınız.

45
.....
.....
.....
.....
70

A. Aşağıda verilen gruptaki nesne sayılarını bire bir eşleştirerek karşılaştırınız. Boş bırakılan yerlere “eşit, fazla ya da az” kelimelerinden uygun olanları yazınız.


	
Fare sayısı ile fındık sayısı eşit tir.	Çocukların sayısı topların sayısından dir.
	
Kalem sayısı kalemıraş sayısından dir.	Tavşanların sayısı havuçların sayısından dir.

B. Aşağıdaki soruları cevaplayınız.



1. Çocukların sayısı ile bisiklet sayısını karşılaştırınız.
2. Bisikletlerin sayısı ile çocuk sayısını karşılaştırınız.

Haydi Düşünelim



“Arıların sayısı çiçeklerin sayısından daha dir.”

Yukarıdaki cümlede noktalı yere aşağıdakilerden hangisi yazılmalıdır?

- A) eşit B) az C) fazla

C. Aşağıdaki soruları cevaplayınız.



1. Yukarıdaki şapkalar ile çocuklar eşleştiriliyor.


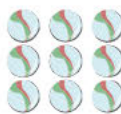

Buna göre çocukların sayısı için aşağıdakilerden hangisi söylenilebilir?

- A) Şapkaların sayısına eşittir.
B) Şapkaların sayısından fazladır.
C) Şapkaların sayısından azdır.



2. Aşağıdaki sayılardan hangisi 10'dan büyüktür?

- A) 10 B) 15 C) 9

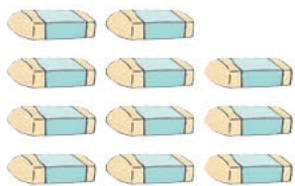

3. Aşağıdaki görsellerden hangisi 10'dan fazladır?

- A)  B)  C) 

D. Aşağıda verilen görsellerden nesne sayısı 10'dan az olanları işaretleyiniz.



E. Aşağıda verilen görsellerden nesne sayısı 10'a eşit olanları işaretleyiniz.



F. Aşağıdaki soruları cevaplayınız.

1.



Yukarıdaki çocuklar ile dondurmalar eşleştiriliyor.

Buna göre aşağıdakilerden hangisi söylenemez?

- A) Çocukların sayısı dondurmaların sayısına eşittir.
- B) Çocukların sayısı dondurmaların sayısından fazladır.
- C) Dondurmaların sayısı çocukların sayısından azdır.

2.



Yukarıdaki raketlerin sayısının 10 olması için kaç raket daha gereklidir?

- A) 4
- B) 5
- C) 6

3.



Yukarıdaki varlıkların sayılarının eşit olması için aşağıdakilerden hangisi yapılamaz?


- A) 3 tane çiçek eklenmelidir.
- B) 3 tane kelebek eklenmelidir.
- C) 3 tane kelebek çıkarılmalıdır.

KELOĞLAN


Ben bir garip Keloğlan'ım
Eşeğimin yok samanı.
Varım yoğum doğruluktu
Hiç de sevmem ben yalanı.




G. Keloğlan acıkmiş olan eşeklere saman verecektir. Buna göre eşekler ile samanları birebir eşleştirerek karşılaştırınız.



Eşeklerin sayısı ile samanların sayısı..... tir.



Eşeklerin sayısı samanların sayısından dir.




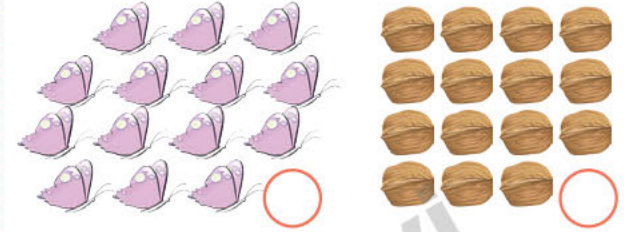
Eşeklerin sayısı samanların sayısından dir.

Bilmece


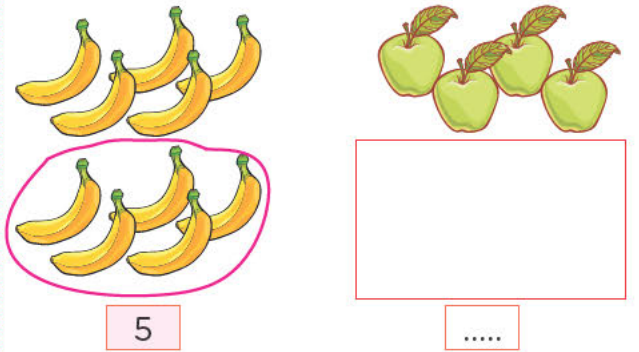
Sarı mendil, mavi denize düşerse ne olur?

Cevap: (İsler):


H. Aşağıda verilen görsellerden varlık sayısı 10'dan fazla olanları işaretleyiniz.




I. Aşağıdaki varlıkların sayısının 10 olması için gerekli olan varlık sayısını örnekteki gibi çiziniz ve yazınız.



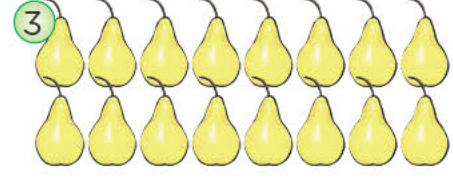
A. Verilen nesnelere örnekteki gibi onarlı gruplandırınız. Buna göre onluk ve birlik sayısını yazınız.




Onluk	Birlik
1	0
10	



Onluk	Birlik
.....
.....	



Onluk	Birlik
.....
.....	



Onluk	Birlik
.....
.....	



Onluk	Birlik
.....
.....	



Onluk	Birlik
.....
.....	

B. Aşağıdaki soruları cevaplayınız

1. 10 tane birlik bir araya gelince ne oluşturur?

2. "18" sayısı kaç onluk ve birlikten oluşur? Yazınız.

3. 1 onluk, 7 birlikten oluşan sayıyı yazınız.

Haydi Düşünelim

4 Birlik + 1 Onluk

Yukarıda onluk ve birlikleri verilmiş olan sayı kaçtır?

A) 41 B) 10 C) 14

C. Aşağıdaki soruları cevaplayınız.




Yukarıdaki papatyalar onluk ve birliklerine ayrılıyor. Buna göre, aşağıdakilerden hangisi doğrudur?

- A) 2 onluk 3 birlik vardır.
B) 1 onluk 3 birlik vardır.
C) Onluk ve birliklerin sayısı eşittir.

2. 1 onluktan oluşan sayı aşağıdakilerden hangisidir?

A) 16 B) 12 C) 10

D. Aşağıda verilen varlıkları onluk ve birliklerine ayırarak noktalı yerleri örnekteki gibi doldurunuz.



Onluk	Birlik
1	5
15	

1




Onluk	Birlik
.....
.....	

2



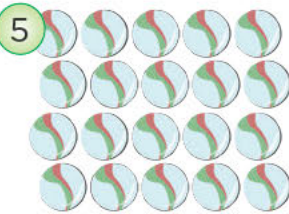
Onluk	Birlik
.....
.....	

3



Onluk	Birlik
.....
.....	

4



Onluk	Birlik
.....
.....	

5



Onluk	Birlik
.....
.....	

6

E. Aşağıdaki soruları cevaplayınız.

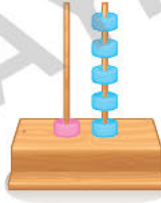
1.



Yukarıdaki oyuncak arabaların onluk ve birliklerine doğru ayrılmış şekli aşağıdakilerden hangisidir?

- A) Onluk | Birlik
1 | 5
- B) Onluk | Birlik
3 | 3
- C) Onluk | Birlik
1 | 4

2.



Yandaki abaküste ifade edilen sayı kaçtır?

- A) 17 B) 16 C) 15

3.

1 onluk ve 9 birlikten oluşan sayı aşağıdakilerden hangisidir?

- A) 19 B) 18 C) 17

4.



Yandaki sayının onluk ve birliklerine ayrılmış hali aşağıdakilerden hangisidir?

- A) 1 onluk 2 birlik
B) 2 onluk 0 birlik
C) 2 onluk 1 birlik

5.

1 onluk ve 6 birlikten oluşan sayı aşağıdakilerden hangisidir?

- A) 14 B) 15 C) 16

ONLUK - BİRLİK ADASI

Zamanın birinde okyanusta yolculuk yapan gemi batmış ve yolcular orada bulunan iki adaya doğru yüzmeye başlamış. Fakat adanın birinde sadece bir kulübe varmış ve bu kulübe 9 kişilikmiş. 9 kişi birlik adasına geriye kalan 10 yolcu da hemen yan taraftaki onluk adasına çıkmış. Yolcular yardım beklemeye başlamış.


F. Aşağıdaki soruları cevaplayınız.

- Gemide kaç yolcu varmış?
A) 9 B) 10 C) 19
- "19" sayısının onluk ve birlikleri hangi seçenekte doğru verilmiştir?
A) 1 onluk + 9 birlik
B) 1 onluk + 1 birlik
C) 9 onluk + 1 birlik
- Birlik adasındaki kulübe kaç kişilikmiş?
A) 9 B) 10 C) 11
- Aşağıda onluk ve birlikleri verilen sayıları yazınız.
1 onluk + 3 birlik →**13**.....
1 onluk + 0 birlik →
1 onluk + 8 birlik →
2 onluk + 0 birlik →

G. Aşağıda verilen sayıları abaküs üzerinde boncuklar çizerek örnekteki gibi gösteriniz ve okunuşlarını yazınız.



A. Aşağıda verilen yarıştaki yarışmacıları örnekteki gibi eşleştirerek sıralayınız.



1. 2. 3. 4. 5. 6. 7. 8.

Ali

Can

Elif

Naz

Ümit

Cem

Su

Nur

B. Aşağıdaki soruları cevaplayınız.

1. Sıra bildiren sayıları ifade ederken hangi noktalama işareti kullanılır?

2. Aşağıdaki sıra sayılarının okunuşlarını örnekteki gibi yazınız.

1. → Birinci...

3. →

2. →

4. →

3. Okunuşları verilen sıra sayılarını örnekteki gibi yazınız.

Onuncu → ...10... | Sekizinci →

Altıncı → | Beşinci →

Haydi Düşünelim

Bir yarışta üçüncüyü geçen kaçınıcı olur?

A) 1.

B) 2.

C) 3.

C. Aşağıdaki soruları cevaplayınız.

1. Yanda okunuşu verilen sıra sayısı aşağıdakilerden hangisidir?

Altıncı

A) .6

B) 6.

C) 5.

2. Aşağıdaki sayıların hangisi sıra bildirir?

A) 1

B) .8

C) 9.

3. Başlangıç



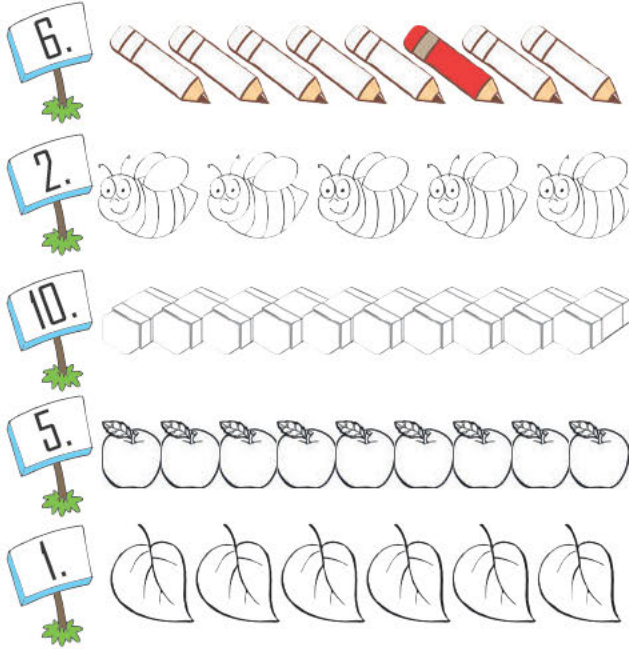
Muhterem, baştan üçüncü kıyafeti alıyor. Buna göre Muhterem hangi kıyafeti almıştır?

A) Gri şort

B) Yeşil tişört

C) Beyaz çorap

D. Aşağıda belirtilen sıradaki görseli örnekteki gibi bularak boyayınız.



E. Aşağıda verilen sıra sayılarını örnekteki gibi okunuşları ile eşleştiriniz.

- | | |
|------|----------------|
| 15.● | ● On birinci |
| 19.● | ● Yirminci |
| 11.● | ● On altıncı |
| 14.● | ● On beşinci |
| 20.● | ● On dördüncü |
| 17.● | ● On üçüncü |
| 13.● | ● On dokuzuncu |
| 16.● | ● On yedinci |

Bilmece


Birinci olan ilimiz hangisidir?

Cevap: Van

F. Aşağıdaki soruları cevaplayınız.



(1, 2, 3, 4 ve 5. soruları yukarıdaki görselle göre cevaplayınız.)

- Dondurma sırında birinci olan çocuk kimdir?
A) Arda B) Oya C) Alp
- Dondurma sırasında Aslı kaçınıcı sıradadır?
A) 5. B) 6. C) 7.
- Veli, Oya ile Ayşe'nin arasında olsaydı kaçınıcı sırada olurdu?
A) 4. B) 5. C) 6.
- Sırada kaç çocuk vardır?
A) 4 B) 5 C) 6
- Oya, kaçınıcı sıradadır?
A) 2. B) 3. C) 4.
-  Yanda okunuşu verilen sıra sayısının gösterimi aşağıdakilerden hangisidir?
A) 12. B) .12 C) 11.

BREMEN MIZIKÇILARI

Hani şu Bremen Mızıkçıları var ya
Hiç kalır onlar bizim yanımızda.

Birinci katta Orhan var.

İkinci katta Selim.

Üçüncü katta Neslihan ve Can.

Dördüncüde Mine , Kerim.

Beşinci katta Hakan, Altan ve Tan

Altıncıda Nazlı'yla Pelin

Yedincide Şebnem ve Fatoş

Sekizinci kat şimdilik boş

Dokuzuncu katta da işte ben varım.

Hey, çocuklar, haydi pencereye çıkalım.

Bağıralım hep bir ağızdan

Hırsızları kaçıralım.


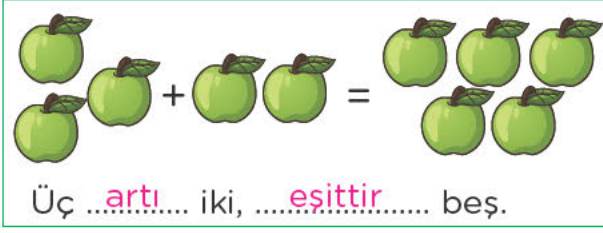
AYLA ÇINAROĞLU

G. Yukarıdaki şiire göre apartmandaki boş yerleri doldurunuz ve aşağıdaki soruları cevaplayınız.

- Birinci katta kim oturuyor?
A) Selim B) Orhan C) Can
- İkinci katta kim oturuyor?
A) Neslihan B) Can C) Selim
- Aşağıdakilerden hangisi üçüncü katta oturanlardan biri değildir?
A) Altan B) Can B) Neslihan
- Beşinci katta oturanlar aşağıdaki seçeneklerden hangisinde doğru verilmiştir?
A) Şebnem - Altan - Tan
B) Hakan - Altan - Tan
C) Nazlı - Pelin - Tan
- Boş olan kat aşağıdakilerden hangisidir?
A) 6. B) 7. C) 8.




A. Aşağıda verilen cümleleri örnekteki gibi “artı” ve “eşittir” yazarak tamamlayınız.



B. Aşağıdaki soruları cevaplayınız.

1. “3 elma artı 2 armut” işleminin sonucu kaçtır?

.....



Yukarıda verilen işlemi ve sonucunu yazınız.


.....

Haydi Düşünelim

Parkta oynayan üç çocuğun yanına iki çocuk daha geldi. Buna göre, parkta kaç çocuk oldu?

- A) 4 B) 5 C) 6

C. Aşağıda verilen cümleleri örnekteki gibi tamamlayınız.



- İki muz, bir muz daha üç muz eder.
- Üç, iki daha beş kedi eder.
- Altı, bir daha yedi çiçek eder.
- Beş, üç daha ekiz çilek eder.
- Dört, iki daha altı kuş eder.




D. Aşağıdaki soruları cevaplayınız.

1. Yandaki toplama işleminin sonucu kaçtır?
A) 1 B) 2 C) 3




2. Yandaki toplama işleminin sonucu kaçtır?
A) 5 B) 6 C) 7

3. Yandaki toplama işlemi ile ilgili aşağıdaki-lerden hangisi söylenemez?
A) Bir artı üç, eşittir dört eder.
B) İşlemin sonucu beştir.
C) Bir ile üç toplanmış sonuç dört olmuştur.




E. Aşağıda verilen toplama işlemlerini örnekteki gibi yapınız.

1  +  = 




1 + 2 = 3

2  +  = 




..... + =

3  +  = 




..... + =

4  +  = 

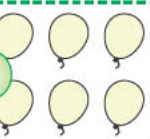


..... + =

5  +  = 

..... + =

6  +  = 

..... + =

7  +  = 

..... + =

F. Aşağıdaki soruları cevaplayınız.

1. Aşağıdaki toplama işlemlerinden hangisinin sonucu "7" dir?

- A) 3+2 B) 5+1 C) 2+5

2. $5+3$ Yandaki toplama işleminin sonucu kaçtır?

- A) 8 B) 9 C) 10

3.



Yukarıdaki ağaca 3 kuş daha konarsa ağaçta toplam kaç kuş olur?

- A) 10 B) 9 C) 8

4.

$$\begin{array}{r} \dots \\ 7 \\ + 2 \\ \hline \dots \end{array}$$

Yandaki toplama işleminin sonucu kaçtır?

- A) 7 B) 8 C) 9

5. Şaban'ın 2 balonu vardı. Kardeşi 5 balon daha verdi. Şaban'ın toplam kaç balonu oldu?

- A) 5 B) 6 C) 7

6.



Yukarıdaki cümlede boş bırakılan yere aşağıdakilerden hangisi yazılmalıdır?

- A) 5 B) 6 C) 7

A. Aşağıda verilen toplama işlemlerini örnekteki gibi yapınız.

$$\begin{array}{|c|} \hline \text{8} \\ \hline \end{array} + \begin{array}{|c|} \hline \text{5} \\ \hline \end{array} = \begin{array}{|c|} \hline \text{13} \\ \hline \end{array}$$

$$\begin{array}{|c|} \hline \dots\dots\dots \\ \hline \end{array} + \begin{array}{|c|} \hline \dots\dots\dots \\ \hline \end{array} = \begin{array}{|c|} \hline \dots\dots\dots \\ \hline \end{array}$$

$$\begin{array}{|c|} \hline \dots\dots\dots \\ \hline \end{array} + \begin{array}{|c|} \hline \dots\dots\dots \\ \hline \end{array} = \begin{array}{|c|} \hline \dots\dots\dots \\ \hline \end{array}$$

$$\begin{array}{|c|} \hline \dots\dots\dots \\ \hline \end{array} + \begin{array}{|c|} \hline \dots\dots\dots \\ \hline \end{array} = \begin{array}{|c|} \hline \dots\dots\dots \\ \hline \end{array}$$

B. Aşağıdaki soruları cevaplayınız.

1. Aşağıda verilen işaretlerin adlarını yazınız.

$$+ \begin{array}{|c|} \hline \dots\dots\dots \\ \hline \end{array} = \begin{array}{|c|} \hline \dots\dots\dots \\ \hline \end{array}$$

2. Bir sayıyı "0" ile toplarsak sonuç ne olur?

Haydi Düşünelim

Aşağıdaki toplama işlemlerinden hangisinin sonucu "3+6" işleminin sonucu ile aynıdır?


- A) 4+6 B) 6+3 C) 3+4

C. Aşağıdaki soruları cevaplayınız.

1. $\begin{array}{r} \dots \\ 10 \\ + 3 \\ \hline \dots\dots\dots \end{array}$ Yandaki toplama işleminin sonucu kaçtır?
A) 11 B) 12 C) 13

2. Aşağıdaki işlemlerden hangisinin sonucu "17" değildir?

- A) 9+8 B) 8+7 C) 10+7

3.  Yandaki işlemin sonucu aşağıdakilerden hangisidir?

- A) 17 B) 18 C) 19

D. Aşağıda verilen toplama işlemlerini yapınız. İşlemleri örnekteki gibi sözel olarak ifade ediniz.

Matematiksel İşlem	Sözel ifade
$2+6 = 8$	İki, altı daha sekiz eder.
$3+7 = \square$	
$6+5 = \square$	
$8+6 = \square$	
$9+3 = \square$	
$10+5 = \square$	

E. Aşağıda verilen toplama işlemlerinin terimlerini örnekteki gibi yazınız ve işlemleri yapınız

$10 \rightarrow$ Toplanan	$11 \rightarrow$
$+ 5 \rightarrow$ Toplanan	$+ 3 \rightarrow$
$15 \rightarrow$ Toplam \rightarrow

$13 \rightarrow$	$15 \rightarrow$
$+ 6 \rightarrow$	$+ 2 \rightarrow$
..... \rightarrow \rightarrow

$12 \rightarrow$	$14 \rightarrow$
$+ 2 \rightarrow$	$+ 5 \rightarrow$
..... \rightarrow \rightarrow

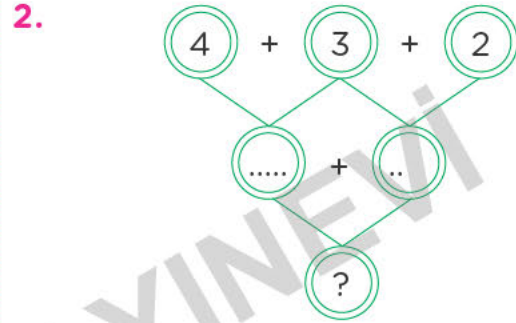
$16 \rightarrow$	$13 \rightarrow$
$+ 3 \rightarrow$	$+ 4 \rightarrow$
..... \rightarrow \rightarrow

F. Aşağıdaki soruları cevaplayınız.

1.
$$\begin{array}{r} 8 \rightarrow \text{.....} \\ + 6 \rightarrow \text{Toplanan} \\ \hline 14 \rightarrow \text{Toplam} \end{array}$$

Yukarıdaki toplama işleminde boş bırakılan yere aşağıdaki terimlerden hangisi yazılmalıdır?

- A) Toplam B) Toplanan
C) Çıkan



Yukarıda verilen toplama işlemlerine göre “?” olan yere kaç yazılmalıdır?

- A) 10 B) 11 C) 12

3.
$$\begin{array}{r} 9 \rightarrow \star \\ + 6 \rightarrow \circ \\ \hline 15 \rightarrow \square \end{array}$$
 Yandaki toplama işleminde hangi sembol ile belirtilen terim eşittir (=) işaretiyle aynı anlamı taşır?

- A) \star B) \triangle C) \square

4. “Altı, beş daha eder.”

Yukarıdaki cümlede noktalı yere aşağıdakilerden hangisi yazılmalıdır?

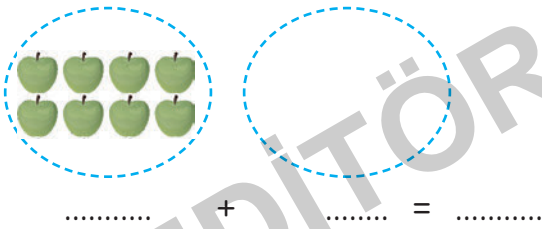
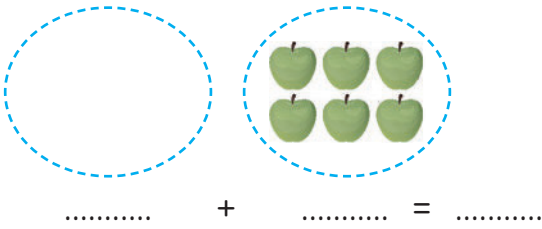
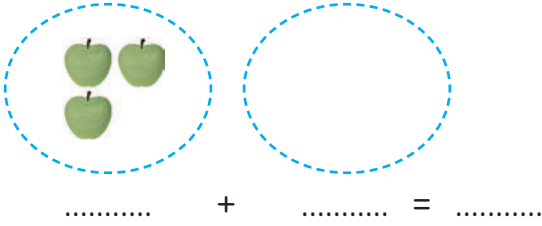
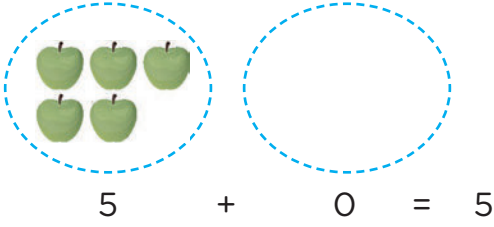
- A) on bir B) on C) dokuz

5. Aşağıdaki işlemlerden hangisinin sonucu yanlıştır?

- A) $12+6= 18$ B) $11+5=16$

- C) $10+9= 18$

G. Aşağıda modellenmiş olan toplama işlemlerini örnekteki gibi yapınız.



H. Aşağıda verilen toplama işlemlerini yapınız

$$\begin{array}{r} 6 \\ + 0 \\ \hline 6 \end{array}$$

$$\begin{array}{r} 0 \\ + 9 \\ \hline \dots \end{array}$$

$$\begin{array}{r} 12 \\ + 0 \\ \hline \dots \end{array}$$

$$\begin{array}{r} 0 \\ + 5 \\ \hline \dots \end{array}$$

$$\begin{array}{r} 19 \\ + 0 \\ \hline \dots \end{array}$$

$$\begin{array}{r} 0 \\ + 8 \\ \hline \dots \end{array}$$

$$\begin{array}{r} 14 \\ + 0 \\ \hline \dots \end{array}$$

$$\begin{array}{r} 0 \\ + 11 \\ \hline \dots \end{array}$$

$$\begin{array}{r} 17 \\ + 0 \\ \hline \dots \end{array}$$

I. Aşağıda verilen toplama işlemlerini yapınız.

$$1+9 = \square$$

$$2+8 = \square$$

$$3+7 = \square$$

$$4+6 = \square$$

$$5+5 = \square$$

$$10+0 = \square$$

$$9+1 = \square$$

$$7+3 = \square$$

J. Aşağıda verilen toplama işlemlerini yapınız.

$$\begin{array}{r} 10 \\ + 10 \\ \hline \square \end{array}$$

$$\begin{array}{r} 11 \\ + 9 \\ \hline \square \end{array}$$

$$\begin{array}{r} 12 \\ + 8 \\ \hline \square \end{array}$$

$$\begin{array}{r} 13 \\ + 7 \\ \hline \square \end{array}$$

$$\begin{array}{r} 14 \\ + 6 \\ \hline \square \end{array}$$

$$\begin{array}{r} 15 \\ + 5 \\ \hline \square \end{array}$$

$$\begin{array}{r} 16 \\ + 4 \\ \hline \square \end{array}$$

$$\begin{array}{r} 17 \\ + 3 \\ \hline \square \end{array}$$

$$\begin{array}{r} 18 \\ + 2 \\ \hline \square \end{array}$$

$$\begin{array}{r} 7 \\ + 13 \\ \hline \square \end{array}$$

$$\begin{array}{r} 10 \\ + 10 \\ \hline \square \end{array}$$

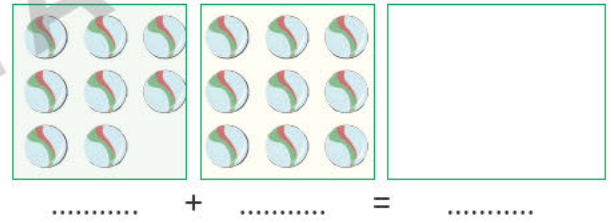

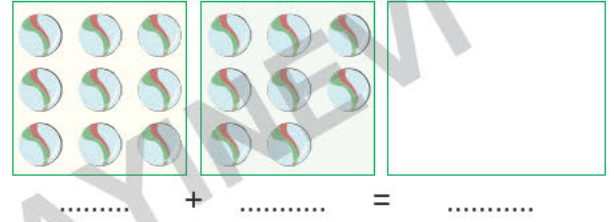
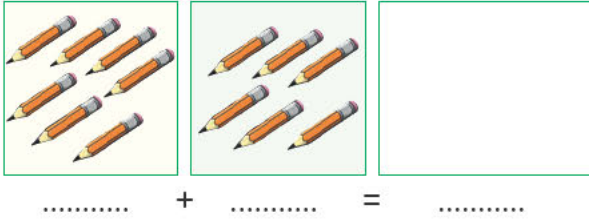




$$\begin{array}{r} 19 \\ + 1 \\ \hline \square \end{array}$$

$$\begin{array}{r} 5 \\ + 15 \\ \hline \square \end{array}$$

$$\begin{array}{r} 20 \\ + 0 \\ \hline \square \end{array}$$

$$\begin{array}{r} 8 \\ + 12 \\ \hline \square \end{array}$$

A. Aşağıda modellenmiş toplama işlemlerini örnekteki gibi yapınız. Toplananların yeri değiştiğinde toplamın değişip değişmediğine dikkat ediniz.



B. Aşağıdaki soruları cevaplayınız.

1. Bir toplama işleminde toplananların yeri değişirse toplam nasıl değişir?

2. “3+5” işlemini toplananların yerini değiştirerek yaparsak ikinci toplanan kaç olur?

Haydi Düşünelim

“8+5” işleminde toplananların yeri değiştirildiğinde ortaya çıkan işlem aşağıdakilerden hangisidir?

- A) 5+3 B) 5+8 C) 8+5

C. Aşağıdaki soruları cevaplayınız.

1. Aşağıdaki işlemlerden hangisinin sonucu “10” değildir?

- A) 6+4 B) 3+7 C) 5+6

2.

15
+ 0
.....

 Yandaki toplama işleminin sonucu kaçtır?

- A) 14 B) 15 C) 16

3. $6+4 = ☆$ $2+8 = ▲$

Yukarıda verilen işlemlere göre “ $☆+▲$ ” işleminin sonucu kaçtır?


- A) 10 B) 15 C) 20

D. Aşağıdaki toplama işlemlerini örnekteki gibi sonuçlarıyla eşleştiriniz.

5+6	12	4+9
7+3	13	4+8
8+4	11	5+10
9+4	15	6+5
10+5	10	7+9
8+6	17	3+7
9+7	16	5+12
12+5	20	2+18
18+2	14	6+8

E. Aşağıdaki soruları cevaplayınız.


- 5+13





Yandaki işleme göre toplananlar yer değiştirirse aşağıdakilerden hangisi doğru olur?

A) 13+5 B) 13+13 C) 5+5
- Aşağıdaki toplama işlemlerinden hangisinin sonucu 20'dir?

A) 11+9 B) 10+8 C) 10+0
- "6+0" işleminin model e gösterilişi aşağıdakilerde hangisidir?

A) 

B) 

C) 
- Nur'un 12 tane şekerı vardı. Annesi Nur'a 7 tane şeker daha verdi. Nur'un toplam kaç şekerı oldu?

A) 17 B) 18 C) 19
- "Bir sayının sıfır (0) ile toplanmasında sonuç"

Yukarıda verilen cümlede boş bırakılan yere aşağıdakilerden hangisi yazılmalıdır?

A) değişmez.
B) sayının kendisidir.
C) sıfırdır.

TOPLAMA İŞLEMİ

Aynı türden nesnelere
Getirince bir araya,
Toplama işlemi yapmayı
Sakin unutma!
Toplanan, toplanan ve toplam
Toplama işleminin terimleri.
Toplananlar yer değiştirse bile,
Sonuç hiç değişmemeli.

F. Aşağıda verilen toplama işlemlerini örnekteki gibi yapınız.

$\begin{array}{r} 12 \\ + 5 \\ \hline 17 \end{array}$	$\begin{array}{r} 5 \\ + 12 \\ \hline \dots\dots \end{array}$	$\begin{array}{r} 10 \\ + 10 \\ \hline \dots\dots \end{array}$
$\begin{array}{r} 9 \\ + 7 \\ \hline \dots\dots \end{array}$	$\begin{array}{r} 13 \\ + 6 \\ \hline \dots\dots \end{array}$	$\begin{array}{r} 6 \\ + 13 \\ \hline \dots\dots \end{array}$
$\begin{array}{r} 1 \\ + 16 \\ \hline \dots\dots \end{array}$	$\begin{array}{r} 6 \\ + 1 \\ \hline \dots\dots \end{array}$	$\begin{array}{r} 17 \\ + 2 \\ \hline \dots\dots \end{array}$
$\begin{array}{r} 8 \\ + 11 \\ \hline \dots\dots \end{array}$	$\begin{array}{r} 11 \\ + 8 \\ \hline \dots\dots \end{array}$	$\begin{array}{r} 14 \\ + 3 \\ \hline \dots\dots \end{array}$

G. Aşağıda verilen toplama işlemlerini yapınız.

$8+10 = \dots\dots$

$15+5 = \dots\dots$

$12+7 = \dots\dots$

$15+4 = \dots\dots$

$14+6 = \dots\dots$

$20+0 = \dots\dots$

H. Aşağıda verilen problemleri örnekteki gibi çözünüz. Sonucun yanına birim yazmayı unutmayınız.

1. Serap'ın 5 tokası vardı. Annesi 3 toka daha aldı. Serap'ın kaç tokası oldu?

$5+3 = 8 \text{ tokası oldu.}$

2. Nihal'in 9 balonu vardı. Babası 6 balon daha verdi. Nihal'in toplam kaç balonu oldu?

3. Şenol'un kümesinde 7 tavuk, 6 horoz vardır. Kümesteki toplam hayvan sayısı kaçtır?

4. Aziz'in 8 bilyesi vardı. Hikmet Aziz'e 9 bilye verdi. Aziz'in toplam kaç bilyesi oldu?

5. Bizim 11 koyunumuz vardı. Babam 9 koyun daha aldı. Toplam kaç koyunumuz oldu?

A. Aşağıdaki çıkarma işlemlerini örnekteki gibi yapınız.



6 tane toptan 2 tanesini ayırırsam
4 tane top kalır.

6'dan 2 çıktı, 4 kaldı.

$$6-2=4$$



..... kelebekten tanesini
ayırırsam tane kelebek kalır.

.....'ten çıktı, kaldı.

$$5-4 = \dots\dots\dots$$



..... balondan tanesini ayı-
rırsam tane balon kalır.

.....'den çıktı, kaldı.

$$7-3= \dots\dots\dots$$



..... limondan tanesini
ayırırsam tane limon kalır.

... ..'den çıktı, kaldı.

$$8-6 = \dots\dots\dots$$

B. Aşağıdaki soruları cevaplayınız.

1. Çıkarma işleminin terimlerini yazınız.

2. Aşağıda verilen sembollerin adlarını yazınız.

=	-
---	-------	---	-------

Haydi Düşünelim

Çıkarma işleminde en büyük sayının bulunduğu terim aşağıdakilerden hangisidir?

- A) Eksilen B) Çıkan C) Kalan

C. Aşağıdaki soruları cevaplayınız.

1. $8-5 = \triangle$

Yukarıdaki işlemde " \triangle " ile gösterilen yere kaç yazılmalıdır?

- A) 1 B) 2 C) 3

2. Bir çıkarma işleminde eksilen 10, çıkan 6 ise kalan kaçtır?

- A) 2 B) 4 C) 6

3.

14
- 9
.....

 Yandaki işlemin sonucu aşağıdakilerden hangisidir?

- A) 5 B) 6 C) 7

D. Aşağıda verilen çıkarma işlemlerini örnekteki gibi terimleri yazarak yapınız.

$$\begin{array}{r} 4 \rightarrow \text{Eksilen} \\ - 1 \rightarrow \text{Çıkan} \\ \hline 3 \rightarrow \text{Kalan(Fark)} \end{array}$$

$$\begin{array}{r} 6 \rightarrow \dots\dots\dots \\ - 2 \rightarrow \dots\dots\dots \\ \hline \dots \rightarrow \dots\dots\dots \end{array}$$

$$\begin{array}{r} 7 \rightarrow \dots\dots\dots \\ - 4 \rightarrow \dots\dots\dots \\ \hline \dots \rightarrow \dots\dots\dots \end{array}$$

$$\begin{array}{r} 9 \rightarrow \dots\dots\dots \\ - 3 \rightarrow \dots\dots\dots \\ \hline \dots \rightarrow \dots\dots\dots \end{array}$$

$$\begin{array}{r} 8 \rightarrow \dots\dots\dots \\ - 5 \rightarrow \dots\dots\dots \\ \hline \dots \rightarrow \dots\dots\dots \end{array}$$

$$\begin{array}{r} 5 \rightarrow \dots\dots\dots \\ - 4 \rightarrow \dots\dots\dots \\ \hline \dots \rightarrow \dots\dots\dots \end{array}$$

$$\begin{array}{r} 9 \rightarrow \dots\dots\dots \\ - 9 \rightarrow \dots\dots\dots \\ \hline \dots \rightarrow \dots\dots\dots \end{array}$$

$$\begin{array}{r} 9 \rightarrow \dots\dots\dots \\ - 7 \rightarrow \dots\dots\dots \\ \hline \dots \rightarrow \dots\dots\dots \end{array}$$

E. Aşağıda verilen çıkarma işlemlerini yapınız.

$$3 - 2 = \dots 1$$

$$8 - 6 = \dots\dots\dots$$

$$8 - 0 = \dots\dots\dots$$

$$9 - 3 = \dots\dots\dots$$

$$5 - 2 = \dots\dots\dots$$

$$7 - 1 = \dots\dots\dots$$

$$6 - 3 = \dots\dots\dots$$

$$4 - 4 = \dots\dots\dots$$

F. Aşağıdaki soruları cevaplayınız.

1.
$$\begin{array}{r} 9 \\ - 2 \\ \hline 7 \end{array}$$
 Yandaki çıkarma işleminde 9 sayısını ifade eden terim aşağıdakilerden hangisidir?

A) Eksilen B) Çıkan C) Kalan

2.

$$8 - 3 = \dots\dots\dots$$

Yukarıda verilen çıkarma işleminin sonucu kaçtır?

A) 3 B) 4 C) 5

3. 7 balonun 5'i patlarsa geriye kaç balon kalır?

A) 2 B) 3 C) 4

4.

$$\begin{array}{r} 15 \\ - 3 \\ \hline \dots\dots \end{array}$$

Yandaki çıkarma işleminin sonucu kaçtır?

A) 11 B) 12 C) 13

5. Bir çıkarma işleminde eksilen 17, çıkan 2 ise kalan kaçtır?

A) 13 B) 14 C) 15

6. 19'un 5 eksiği kaçtır?

A) 14 B) 13 C) 12

7. "14'ten 4 10 kaldı." cümlesinde noktalı yere aşağıdakilerden hangisi yazılmalıdır?

A) kaldı B) arttı C) çıktı

8.

$$\begin{array}{r} 10 \\ - 10 \\ \hline \dots\dots \end{array}$$

Yandaki çıkarma işleminin sonucu kaçtır?

A) 0 B) 1 C) 2

ÜÇ TAŞ

Elimde var 3 taş,
Attım 2 taş.
Kaldı elimde 1 taş.
Çıkarma yapmak,
Ne kolay arkadaş.

G. Aşağıda verilen çıkarma işlemlerini yapınız. İşlemleri örnekteki gibi sözel olarak ifade ediniz.

Matematiksel İşlem	Sözel olarak ifade
$8 - 1 = 7$	Sekiz eksi bir eşittir yedi.
$9 - 3 = \square$	
$6 - 4 = \square$	
$7 - 6 = \square$	
$10 - 5 = \square$	
$12 - 8 = \square$	
$9 - 9 = \square$	

H. Aşağıda verilen çıkarma işlemlerini örnekteki gibi yapınız.

$5 - 5 = 0$	$3 - 3 = \dots$
$4 - 4 = \dots$	$6 - 6 = \dots$
$9 - 9 = \dots$	$15 - 15 = \dots$
$13 - 13 = \dots$	$18 - 18 = \dots$
$20 - 20 = \dots$	$12 - 12 = \dots$

I. Aşağıda verilen çıkarma işlemlerini örnekteki gibi yapınız.

$\begin{array}{r} 16 \\ - 3 \\ \hline \dots 13 \end{array}$	$\begin{array}{r} 18 \\ - 2 \\ \hline \dots \end{array}$	$\begin{array}{r} 19 \\ - 5 \\ \hline \dots \end{array}$
$\begin{array}{r} 17 \\ - 1 \\ \hline \dots \end{array}$	$\begin{array}{r} 14 \\ - 4 \\ \hline \dots \end{array}$	$\begin{array}{r} 15 \\ - 2 \\ \hline \dots \end{array}$
$\begin{array}{r} 13 \\ - 2 \\ \hline \dots \end{array}$	$\begin{array}{r} 19 \\ - 8 \\ \hline \dots \end{array}$	$\begin{array}{r} 16 \\ - 5 \\ \hline \dots \end{array}$

J. Aşağıda yan yana verilmiş olan çıkarma işlemlerini yapınız.

$19 - 7 = 12$	$11 - 5 = \dots$
$18 - 8 = \dots$	$16 - 7 = \dots$
$12 - 4 = \dots$	$19 - 3 = \dots$
$17 - 6 = \dots$	$20 - 10 = \dots$
$15 - 7 = \dots$	$13 - 8 = \dots$
$20 - 13 = \dots$	$16 - 8 = \dots$

A. Aşağıda verilen madeni paralarımızın değerlerini örnekteki gibi yazınız.

		
Rakam ile 1 kr	Rakam ile	Rakam ile
Yazı ile Bir Kuruş	Yazı ile	Yazı ile


		
Rakam ile	Rakam ile	Rakam ile
Yazı ile	Yazı ile	Yazı ile

B. Aşağıdaki soruları cevaplayınız.

- Para birimimizi yazınız.
.....
- En küçük madeni paramız kaç kuruştur?
.....

Haydi Düşünelim

En büyük kağıt paramız aşağıdakilerden hangisidir?

- A)  B) 
- C) 

C. Aşağıda verilen kağıt paralarımızın değerini örnekteki gibi yazınız.

	
Rakam ile 5 TL	Rakam ile
Yazı ile Beş Türk Lirası	Yazı ile

	
Rakam ile	Rakam ile
Yazı ile	Yazı ile

D. Aşağıdaki soruları cevaplayınız.

- En büyük madeni paramız aşağıdakilerden hangisidir?
A)  B)  C) 
- Aşağıdaki paralardan hangisi daha küçüktür?
A)  B) 
C) 
-    
Yukarıdaki paraların toplamı aşağıdakilerden hangisine eşittir?
A)  B)  C) 

E. Aşağıda verilen paralarla alabileceğiniz eşyaları eşleştiriniz.

1  

2  

3  


4  

5  

6  

7  

F. Aşağıdaki soruları cevaplayınız.



1, 2 ve 3. soruları yukarıdaki görsellere göre cevaplayınız.

1. Top almak isteyen Metehan, satıcıya ne kadar para vermelidir?



2. Toprak, parası ile aşağıdakilerden hangisini alamaz?



3. Oyuncak ayıcık ile top alan Enver satıcıya aşağıdaki paralardan hangisini ödemelidir?



4. Aşağıdakilerden hangisi 5 TL'ye eşittir?



BABAM BAKKALDIR

Öğretmen:

“Yazın bakalım” dedi. Bakkala gittiniz 1 TL’ ye çikolata, 5 TL’ ye de top aldınız. Bakkala kaç lira verirsiniz?


Tüm öğrenciler, problemi çözüp parmak kaldırdı. Sadece Enes cevap vermedi. Öğretmen, Enes’e:

“Sen neden çözmedin?” diye sordu.

Enes:

“Benim babam bakkaldır, öğretmeninim. Biz böyle şeylere para vermeziz.”

G. Aşağıdaki görselde bir kırtasiyede bulunan bazı ürünlerin fiyatları verilmiştir. Buna göre, aşağıdaki ürünleri alan bir kişinin kaç TL ödeyeceğini örnekteki gibi bulunuz.



1.  +  = ?

10 + 3 = 13 TL

2.  +  = ?

..... + =

3.  +  = ?

..... + =

4.  +  +  = ?

..... + + =

ANAHTAR

Annesi Erol’a sordu:

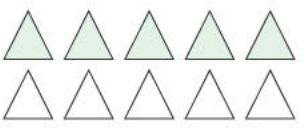
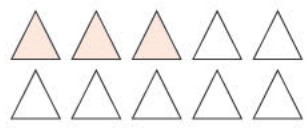
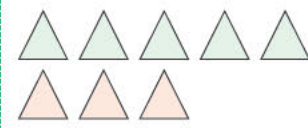
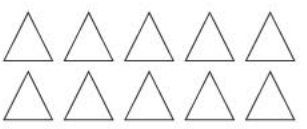
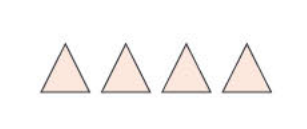

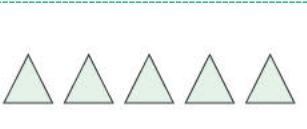


“Oğlum kumbaranın anahtarı nerede?”

“Kaybolmasın diye içine attım.”

H. Aşağıda verilen kumbaralardaki para miktarlarını örnekteki gibi yazınız.



A. Aşağıdaki işlemleri örnekteki gibi tamamlayarak verilmeyen toplananları bulunuz.

 5	+	 3	=	 8	$\begin{array}{r} 5 \\ + 3 \\ \hline 8 \end{array}$
	+	 4	=	 12	$\begin{array}{r} \square \\ + 4 \\ \hline 12 \end{array}$
 5	+		=	 11	$\begin{array}{r} 5 \\ + \square \\ \hline 11 \end{array}$

B. Aşağıdaki soruları cevaplayınız.

1. Bir toplama işleminde verilmeyen toplanan nasıl bulunur?

2. " $\square + 5 = 12$ " işleminde \square yerine kaç yazılmalıdır?



3. 6 bilyem vardı. Kardeşimin verdiği bilyelerle 10 bilyem oldu. Kardeşimin verdiği bilye sayısı kaçtır?

Haydi Düşünelim

Bir toplama işleminde toplananlardan biri 7, toplam 17 ise diğer toplanan kaçtır?

- A) 8 B) 9 C) 10

C. Aşağıdaki soruları cevaplayınız.

1.  + \square = 

Yukarıdaki görselde verilen işleme göre "?" olan yere kaç erik gelmelidir?

- A) 7 B) 8 C) 9

2.
$$\begin{array}{r} 5 \\ + \square \\ \hline 14 \end{array}$$
 Yandaki toplama işleminde " \square " yerine kaç gelmelidir?

- A) 9 B) 10 C) 11

3. Bir toplama işleminde verilmeyen toplananı bulmak için aşağıdakilerden hangisi yapılmaz?

- A) İkişer ritmik sayma
B) Üzerine Sayma
C) Çıkarma işlemi

D. Aşağıdaki toplama işlemlerinde verilmeyen toplananları örnekteki gibi bulunuz.

1

$$\begin{array}{r} 1 \\ + \boxed{4} \\ \hline 5 \end{array}$$

$$\begin{array}{r} 5 \\ - 1 \\ \hline 4 \end{array}$$

2

$$\begin{array}{r} 3 \\ + \boxed{} \\ \hline 8 \end{array}$$

$$\begin{array}{r} \dots \\ - \dots \\ \hline \dots \end{array}$$

3

$$\begin{array}{r} 4 \\ + \boxed{} \\ \hline 9 \end{array}$$

$$\begin{array}{r} \dots \\ - \dots \\ \hline \dots \end{array}$$

4

$$\begin{array}{r} 7 \\ + \boxed{} \\ \hline 10 \end{array}$$

$$\begin{array}{r} \dots \\ - \dots \\ \hline \dots \end{array}$$

5

$$\begin{array}{r} 9 \\ + \boxed{} \\ \hline 15 \end{array}$$

$$\begin{array}{r} \dots \\ - \dots \\ \hline \dots \end{array}$$

6

$$\begin{array}{r} 10 \\ + \boxed{} \\ \hline 18 \end{array}$$

$$\begin{array}{r} \dots \\ - \dots \\ \hline \dots \end{array}$$

Bilmece

Meyvelerin şefi hangisidir?

Cevap: Şeftali

E. Aşağıdaki soruları cevaplayınız.

1. $6 + \boxed{} = 12$

Yukarıdaki toplama işleminde verilmeyen toplananı bulmak için aşağıdakilerden hangisi yapılmaz?

- A) 12'den 6'yı çıkarırız
B) 6'nın üzerine 12'ye kadar sayarız.
C) 12 ile 6'yı toplarız.

2.
$$\begin{array}{r} 8 \\ + \boxed{} \\ \hline 14 \end{array}$$
 Yandaki toplama işleminde verilmeyen toplanan kaçtır?

- A) 5 B) 6 C) 7

3. $\square + 8 = 6$

$5 + \star = 9$

Yukarıda verilen işlemlere göre " $\star + \square$ " işleminin sonucu kaçtır?

- A) 10 B) 11 C) 12

4. Aşağıdaki işlemlerin hangisinde verilmeyen toplanan 7' dir?

A) $\square + 8 = 15$ B) $\square + 5 = 15$

C) $\square + 7 = 17$

5. 9'un üzerine 13'e kadar sayarız.

9 10 11 12 13

4 sayı saydık. Cevap 4'tür.

Yukarıda cevabı verilen işlem aşağıdakilerden hangisidir?

A) $8 + \square = 13$ B) $9 + \square = 13$

C) $7 + \square = 14$

F. Aşağıda verilen toplama işlemi evlerinde, toplam ise çatıda yazmaktadır. Buna göre verilmeyen toplananları örnekteki gibi bulunuz.

7 sayı saydığımız için cevap 7'dir.
 ⑥ 7 8 9 10 11 12 13

13	
6 + 7	→
8 + ...	→
10 + ...	→

16	
10 + ...	→
12 + ...	→
14 + ...	→

11	
10 + ...	→
9 + ...	→
8 + ...	→

15	
10 + ...	→
11 + ...	→
12 + ...	→

20	
13 + ...	→
15 + ...	→
18 + ...	→

G. Aşağıda verilen problemleri örnekteki gibi çözünüz.

1. Ayten'in 5 tokası vardı. Annesi bir miktar daha toka verince Ayten'in 10 tokası oldu. Buna göre annesi Ayten'e kaç toka verdi?

		5	+	5	=	10			
		5		6		7		8	

2. Petek'in 6 tane balonu vardı. Kardeşinin balonlarını da alınca 9 balonu oldu. Buna göre Petek kardeşinden kaç balon aldı?

3. Kumbarasında 10 TL'si olan Oktay'a babası da bir miktar para verince Oktay'ın 15 TL'si oldu. Buna göre babası Oktay'a kaç TL vermiştir?

4. Elimdeki 4 bilyeyi arkadaşıma verince arkadaşımın 8 bilyesi oldu. Buna göre, başlangıçta arkadaşımın kaç bilyesi vardı?

A. Aşağıda verilen toplama işlemlerini örnekteki gibi zihinden yapınız.

1. $1 + 2 = 3$

2. $3 + 4 = \dots$

3. $4 + 6 = \dots$

4. $5 + 5 = \dots$

5. $2 + 8 = \dots$

6. $4 + 5 = \dots$

7. $3 + 3 = \dots$

8. $4 + 2 = \dots$

B. Aşağıdaki soruları cevaplayınız.

1. Zihinden toplama yaparken hangi yöntemleri kullanabiliriz?

2. Ersin'in 10 balonu vardı. Dila, 5 balon daha verdi. Ersin'in kaç balonu oldu?

Haydi Düşünelim

$$\begin{array}{c} \text{○} + \text{○} \\ \swarrow \quad \searrow \\ 7 + 3 + 2 = 12 \end{array}$$

Yukarıda zihinden yapılışı verilen işlem aşağıdakilerden hangisidir?

A) $7+4=12$ B) $7+5=12$ C) $7+6=13$

C. Aşağıda verilen toplama işlemlerini zihinden yapınız.

1. $5 + 5 + 5 = 15$

2. $6 + 4 + 1 = \dots$

3. $7 + 3 + 2 = \dots$

4. $8 + 2 + 3 = \dots$


5. $9 + 1 + 4 = \dots$

6. $10 + 5 + 2 = \dots$

7. $5 + 5 + 8 = \dots$

8. $7 + 3 + 9 = \dots$

D. Aşağıdaki soruları cevaplayınız.

1.  Yanda verilen işlemin sonucu kaçtır?

A) 12 B) 13 C) 14

2. Aşağıdaki işlemlerin hangisinin sonucu 20 eder?

A) $10+9$ B) $11+9$ C) $13+9$

3.

$$\begin{array}{c} \text{○} + \text{○} \\ \swarrow \quad \searrow \\ 10 + 4 + 3 = 17 \end{array}$$

Yukarıda zihinden yapılışı verilen işlem aşağıdakilerden hangisidir?

A) $14+3=17$ B) $13+4=17$

C) $10+7=17$

E. Aşağıdaki işlemleri örnekteki gibi 10'a tamamlama yöntemini kullanarak zihinden yapınız.

$$\begin{array}{r} 9 + 4 = 13 \\ \downarrow \quad \downarrow \quad \searrow \\ 9 + 1 + 3 = 13 \end{array}$$

$$\begin{array}{r} 7 + 6 = \dots\dots \\ \downarrow \quad \downarrow \quad \searrow \\ \dots + \dots + \dots = \dots \end{array}$$

$$\begin{array}{r} 8 + 3 = \dots\dots \\ \downarrow \quad \downarrow \quad \searrow \\ \dots + \dots + \dots = \dots \end{array}$$

$$\begin{array}{r} 9 + 7 = \dots\dots \\ \downarrow \quad \downarrow \quad \searrow \\ \dots + \dots + \dots = \dots \end{array}$$

F. Aşağıdaki toplama işlemlerini birlikleri toplama onlukları ekleme yönteminin kullanarak yapınız.


$$\begin{array}{r} 12 + 3 \\ \downarrow \quad \downarrow \quad \downarrow \\ 10 + 5 = 15 \end{array} \quad \begin{array}{r} 1 + 5 \\ \downarrow \quad \downarrow \\ \bigcirc + \bigcirc = \bigcirc \end{array}$$

$$\begin{array}{r} 13 + 6 \\ \downarrow \quad \downarrow \quad \downarrow \\ \bigcirc + \bigcirc = \bigcirc \end{array} \quad \begin{array}{r} 15 + 4 \\ \downarrow \quad \downarrow \quad \downarrow \\ \bigcirc + \bigcirc = \bigcirc \end{array}$$

$$\begin{array}{r} 17 + 2 \\ \downarrow \quad \downarrow \\ \bigcirc + \bigcirc = \bigcirc \end{array} \quad \begin{array}{r} 13 + 5 \\ \downarrow \quad \downarrow \quad \downarrow \\ \bigcirc + \bigcirc = \bigcirc \end{array}$$

$$\begin{array}{r} 12 + 6 \\ \downarrow \quad \downarrow \quad \downarrow \\ \bigcirc + \bigcirc = \bigcirc \end{array} \quad \begin{array}{r} 14 + 3 \\ \downarrow \quad \downarrow \quad \downarrow \\ \bigcirc + \bigcirc = \bigcirc \end{array}$$

G. Aşağıdaki soruları cevaplayınız.

1.  Yanda verilen işlemin zihinden toplama basamakları hangi seçenekte doğru verilmiştir?

- A) $6+3=9$ $10+9=19$
B) $5+3=8$ $10+8=18$
C) $10+3=13$ $13+5=19$

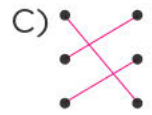
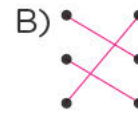
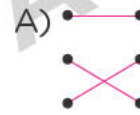
2.



$$\begin{array}{|c|} \hline 7+3 \\ \hline \end{array} \cdot \cdot \begin{array}{|c|} \hline 19 \\ \hline \end{array}$$



$$\begin{array}{|c|} \hline 12+7 \\ \hline \end{array} \cdot \cdot \begin{array}{|c|} \hline 20 \\ \hline \end{array}$$

$$\begin{array}{|c|} \hline 15+5 \\ \hline \end{array} \cdot \cdot \begin{array}{|c|} \hline 10 \\ \hline \end{array}$$

Yukarıdaki toplama işlemleri sonuçları ile eşleştirilince aşağıdaki seçeneklerden hangisi doğru olur?



3. $7 + 8$ Yanda verilen toplama işlemi 10'a tamamlama yöntemi ile yapılacağına göre  ve  yerine aşağıdakilerden hangisi gelmelidir?

-  
A) 3 5
B) 3 3
C) 4 9

4. Mümtaz'ın 9 kalemi vardı. Kalemliğine 8 kalem daha koyan Mümtaz'ın toplam kaç kalemi oldu?

- A) 15 B) 16 C) 17

5. Ağaçta 9 kuş vardı. 7 kuş daha geldi. Ağaçta toplam kaç kuş oldu?

- A) 15 B) 16 C) 17

H. Aşağıda verilen problemleri örnekteki gibi çözünüz.

1. Rahime'nin 11 tane oyuncacı vardı. Annesi 4 oyuncak daha aldı. Rahime'nin toplam kaç oyuncacı oldu?

Rahime'nin oyuncak sayısı	+	Annesinin aldığı oyuncak sayısı	=	Toplam oyuncak sayısı
11		4		15

2. Yavuz'un 14 tane bilyesi vardı. Arkadaşı 5 bilye daha verdi.

Yavuz'un toplam kaç bilyesi oldu?

Yavuz'un bilye sayısı	+	Arkadaşının verdiği bilye sayısı	=	Toplam bilye sayısı
.....	

3. Fatih'in 10 TL'si vardı. Dedesi de 10 TL verince Fatih'in toplam kaç TL'si oldu?

Fatih'in parası	+	Dedesinin verdiği para	=	Fatih'in toplam parası
.....	

4. Sınıfımızda 12 öğrenci vardı. Sonradan 6 öğrenci daha geldi. Sınıfımızda toplam kaç öğrenci oldu?

Sınıfımızdaki öğrenci sayısı	+	Gelen öğrenci sayısı	=	Toplam öğrenci sayısı
.....	

I. Aşağıdaki görsellere uygun toplama işlemi gerektiren problemler kurunuz ve çözünüz.


1.



Problem:

Çözüm:

2.



Problem:

Çözüm:

A. Aşağıdaki çıkarma işlemlerini örnekteki gibi zihinden yapınız.

$$10 - 5 = 5$$

$$11 - 1 = \bigcirc$$

$$12 - 2 = \bigcirc$$

$$13 - 3 = \bigcirc$$

$$14 - 4 = \bigcirc$$

$$15 - 5 = \bigcirc$$

$$16 - 6 = \bigcirc$$

$$17 - 7 = \bigcirc$$

$$18 - 8 = \bigcirc$$

$$19 - 9 = \bigcirc$$

$$10 - 10 = \bigcirc$$

$$20 - 10 = \bigcirc$$

B. Aşağıdaki soruları cevaplayın z.

1. Zihinden çıkarma işlemi yaparken kullanılan yöntemleri yazınız.

2. Bir dalda 15 kuş vardır. 5 kuş uçunca geriye kaç kuş kalır?

Haydi Düşünelim

$$15 - 7 = 8$$

Yandaki çıkarma işleminde “□” ile gösterilen yerlere aşağıdaki sayılardan hangisi yazılamaz?

A) 9 B) 5 C) 2

C. Aşağıda verilen çıkarma işlemlerini sonuçları ile örnekteki gibi eşleştiriniz.

10 - 1 8

10 - 2 6

10 - 3 5

10 - 4 9

0 5 7

D. Aşağıdaki soruları cevaplayınız.

1. $\bigcirc - \begin{matrix} \bigcirc \\ \begin{matrix} 6 \\ 1 \end{matrix} \end{matrix} = 9$

Yukarıda zihinden yapılışı verilen çıkarma işlemi aşağıdakilerden hangisi olabilir?

A) $17 - 6 = 11$ B) $17 - 7 = 10$
C) $16 - 7 = 9$

2. Yanda verilen çıkarma işleminin sonucu kaçtır?

A) 18 B) 19 C) 20

3. $\begin{matrix} 17 \\ - 4 \\ \hline \square \end{matrix}$ Yandaki çıkarma işleminin sonucu kaçtır?

A) 15 B) 14 C) 13

E. Aşağıdaki işlemleri örnekteki gibi zihinden yapınız.

$$16 - 9 = 7$$

6 3

$$16 - 6 = 10$$

$$10 - 3 = 7$$

$$14 - 6 = \square$$

□ □

$$\square - \square = \square$$

$$\square - \square = \square$$

$$11 - 4 = \square$$

□ □

$$\square - \square = \square$$

$$\square - \square = \square$$

$$15 - 8 = \square$$

□ □

$$\square - \square = \square$$

$$\square - \square = \square$$

$$13 - 5 = \square$$

□ □

$$\square - \square = \square$$

$$\square - \square = \square$$

F. Aşağıdaki soruları cevaplayınız.

1.

$$\begin{array}{r} \square - \square = 11 \\ \swarrow \searrow \\ 11 \quad 7 \end{array}$$

Yukarıda zihinden yapılışı verilen işlem aşağıdakilerden hangisidir?

A) 17-7 B) 18-7 C) 18-8

2. Otobüste 10 yolcu vardı. İlk durakta 8 kişi indi. Geriye kaç yolcu kaldı?

A) 1 B) 2 C) 3

3. 14 dilim pastanın 4 di imi yendi. Geriye kaç dilim pasta kaldı?

A) 10 B) 9 C) 8

4. Aşağıdaki işlemlerden hangisi "9 - 5" işleminin zihinden yapılışını gösterir?

A) $9 - 5$

4 5

B) $9 - 5$

1 6

C) $9 - 5$

8 5

5. İsmail'in 16 TL'si vardı. 6 TL'sini harcadı. İsmail'in kaç TL'si kaldı?

A) 8 B) 9 C) 10

6.

$$17 - 6$$

Yukarıdaki işlemin sonucu kaçtır?

A) 10 B) 11 C) 12

7.

$$\begin{array}{r} 19 \\ - 5 \\ \hline \square \end{array}$$

Yandaki işlemin sonucu aşağıdakilerden hangisidir?

A) 4 B) 14 C) 18

G. Aşağıdaki işlemleri örnekteki gibi zihinden yapınız.

$$9 - 5 = \square$$

4 5

$$8 - 6 = \square$$

$$12 - 4 = \square$$

$$15 - 5 = \square$$

$$17 - 6 = \square$$

$$18 - 7 = \square$$

$$16 - 9 = \square$$

Bilmece

Salatalığın işlem görmüş haline ne denir?

Cevap: Cacık

H. Aşağıda verilen problemleri örnekteki gibi çözünüz.

1. Mehmet'in 9 kalem vardı. 6 tanesini kardeşine verdi. Mehmet'in kaç kalem kaldı?

Mehmet'in kalem sayısı	Kardeşine verdiği kalem sayısı	Kalan kalem sayısı
9	6	3

2. Feride, 12 kurabiye'nin 5'ini yedi. Geriye kaç kurabiye kaldı?

Kurabiye sayısı	Feride'nin yediği kurabiye sayısı	Kalan kurabiye sayısı
<input type="text"/>	<input type="text"/>	<input type="text"/>

3. Emine'nin 15TL'si vardı. 8 TL'ye kitap aldığına göre Emine'nin geriye kaç TL'si kaldı?

Emine'nin parası	Kitap parası	Kalan TL
<input type="text"/>	<input type="text"/>	<input type="text"/>

4. Abdullah, 14 bilyesinin 7'sini arkadaşına verdi. Abdullah'ın geriye kaç bilyesi kaldı?

Abdullah'ın bilye sayısı	Arkadaşına verdiği bilye sayısı	Kalan bilye sayısı
<input type="text"/>	<input type="text"/>	<input type="text"/>

5. Kerime'nin 17 tane tokası vardı. 8'ini ablasına verdi. Kerime'nin geriye kaç tokası kaldı?

Kerime'nin toka sayısı	Ablasına verdiği toka sayısı	Kalan toka sayısı
<input type="text"/>	<input type="text"/>	<input type="text"/>

A. Aşağıdaki problemleri verilenleri ve istenenleri yazarak çözünüz.

1. Bir doğum günü partisinde 12 dilim pastanın 8 dilimi yendi. Geriye kaç dilim pasta kaldı?

Verilenler:

İstenenler:

Çözüm:

2. Benim 16 boya kalemim vardı. 5'ini kardeşime verdim. Geriye kaç kalemim kaldı?

Verilenler:

İstenenler:

Çözüm:

B. Aşağıdaki soruları cevaplayınız.

1. Sınıfımızda 8 erkek, 7 kız öğrenci vardır. Buna göre sınıfımızda toplam kaç öğrenci vardır?

2. 19'dan 7 eksik olan sayı kaçtır?

Haydi Düşünelim

İki sayının toplamı 17'dir. Büyük sayı 11 olduğuna göre küçük sayı kaçtır?

- A) 6 B) 7 C) 8

3. Bayram 14 yaşındadır. Kardeşi Bayram'dan 5 yaş küçük olduğuna göre, Bayram'ın kardeşi kaç yaşındadır?

Verilenleri:

İstenenler:

Çözüm:

4. Bir kümeste 11 tane tavuk, 6 tane horoz vardır. Buna göre tavuklar horozlardan kaç fazladır?

Verilenler:

İstenenler:

Çözüm:

C. Aşağıdaki soruları cevaplayınız.

1. 17 armudun 9'unu yedim. Geriye kaç armut kaldı?

- A) 10 B) 9 C) 8

2. Esra, abisinden 6 yaş küçüktür. Abisi 16 yaşında olduğuna göre Esra kaç yaşındadır?

- A) 9 B) 10 C) 11

3. Baloncu elindeki 20 balonun 10 tanesini sattı. Baloncunun geriye kaç balonu kaldı?

- A) 10 B) 9 C) 8

D. Aşağıda verilen problemleri örnekteki gibi çözünüz. Sonucun yanına birim yazmayı unutmayınız.

1. Dolmuşta 7 yolcu vardı. İlk durakta 3, ikinci durakta 5 kişi bindi. Dolmuşta toplam kaç yolcu oldu?

$7 + 3 = 10$
$10 + 5 = 15$ yolcu oldu.

2. Bir çiftlikte 10 koyun, 5 at ve 4 inek vardır. Çiftlikteki hayvan sayısı kaçtır?

3. Mehmet Ali 6 yaşındadır. Ablası Mehmet Ali'den 4 yaş büyüktür. Mehmet Ali ve ablasının yaş arı toplamı kaçtır?


4. Manav, 19 çuval soğanın önce 5 çuvalını, sonra 4 çuvalını sattı. Manavın kaç çuval soğanı kaldı?

5. Hikâye kitabımın 13 sayfasını okudum. Okumadığım 5 sayfa kaldığına göre hikâye kitabım kaç sayfadır?

E. Aşağıdaki soruları cevaplayınız.

1. Can, dün 13 sayfa, bugün 7 sayfa kitap okudu. Can iki günde toplam kaç sayfa kitap okumuştur?
A) 10 B) 15 C) 20
2. Bilge, 13 yaşındadır. 6 yıl sonra Bilge kaç yaşında olacaktır?
A) 18 B) 19 C) 20
3. Bir kovandaki 18 arıdan önce 6 tanesi, sonra 4 tanesi uçtu. Arı kovanında geriye kaç arı kaldı?
A) 12 B) 10 C) 8
4. Bir terzi 5 metre kumaşın 6 metresi ile elbise, 4 metresi ile etek dikti. Terzinin kaç metre kumaş kaldı?
A) 5 B) 4 C) 3
5. Öğretmenimiz 20 tane balonun 12 tanesini sınıfa astı. Geriye kalan balonların 5'i de patladı. Buna göre öğretmenimizin elinde kaç balon kaldı?
A) 3 B) 2 C) 1
6. Yunus 7 yıl sonra 18 yaşında olacağına göre Yunus'un bugünkü yaşı kaçtır?
A) 10 B) 11 C) 12
7. 19 TL paramın 10 TL'si ile kitap, 4 TL'si ile kalem aldım. Geriye kaç TL param kaldı?
A) 3 B) 4 C) 5

A. Aşağıda verilen görsellerden bütün olanları işaretleyiniz.



B. Aşağıdaki soruları cevaplayınız.

1. Yarım nedir?

2. Bir bütün kaç yarımdan oluşur?

3. Aşağıda verilen bütünlerin kaç yarımdan oluştuğunu yazınız.

2 bütün: yarım

3 bütün: yarım

4 bütün: yarım

Haydi Düşünelim

10 yarım elma kaç bütün elma eder?


A) 4

B) 5


C) 6

C. Aşağıdaki soruları cevaplayınız.


1. Aşağıdakilerden hangisi bir bütünü ifade eder?



2. Aşağıdaki şekillerden hangisi yarıyı ifade eder?



3.




Yukarıdaki 3 karpuzdan kaç yarım karpuz çıkar?

A) 4

B) 5

C) 6

D. Aşağıda verilen şekillerin yarısını boyayınız.



E. Aşağıda verilen cümleleri örnekteki gibi uygun ifadele ile tamamlayınız.



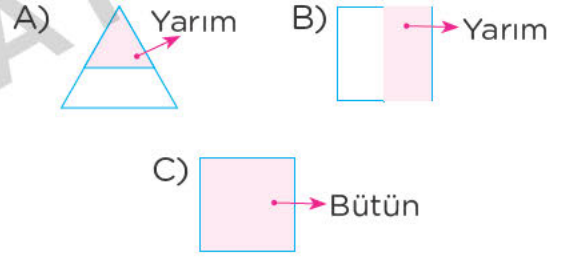
1. Bir bütün ikiyarım..... eder.
2. İki elmadan dört yarım elma çıkar.
3. 6 yarım elma bütün elma eder.
4. Dört yarım bütün eder.
5. Dört bütün karpuz yarım karpuz eder.

F. Aşağıdaki soruları cevaplayınız.



1 ve 2. soruları yukarıdaki görsele göre cevaplayınız.


1. Hangi meyve bütünü ifade eder?
A) Elma B) Kavun C) Muz
2. Yarımı ifade eden meyveler hangisidir?
A) Elma- Muz B) Elma - Kavun
C) Muz- Ka un
3. Aşağıdaki seçenekle in hangisinde boyal bö g yanlış ifade edilmiştir?



4.



Yukarıda verilen elmalar kaç yarım elma eder?



5. "10 yarım bütün eder." cümlesinde noktalı yere aşağıdakilerden hangisi yazılmalıdır?
A) 4 B) 5 C) 6

ÇEKİRDEKLERİ KALIR












Küçük Zeynep ilkokula yeni yazılmıştı. Öğretmen sordu:

İki armudumuz var Zeynep. Bunların yarısını sen, yarısını baban, yarısını da ben yemiş olsam geriye kaç armut kalır?

Zeynep fazla düşünmeden cevap verdi:

- "Geriye armudun sapları ve çekirdekleri kalır öğretmenim."

G. Aşağıda yarım ları verilen nesnelere eşleştiriniz.


1 	A 
2 	B 
3 	C 
4 	D 
5 	E 
6 	F 

Bilmece

Limonun yarısına ne denir?


Cevap: (Limonun yarısı)

H. Aşağıdaki soruları cevaplayınız.

1.  Bir bütün karpuz kaç yarım karpuz eder?

2.  İki bütün elma kaç yarım elma eder?

3.  Üç bütün pizza kaç yarım pizza eder?

4.  Sekiz yarım ekmek kaç bütün ekmek eder?

5.  6 yarım kavun kaç bütün kavun eder?


A. Aşağıdaki saatlerin kaçı gösterdiğini örnekteki gibi yazınız.



Saat: 09:00



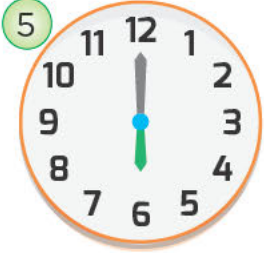
Saat:



Saat:




Saat:




Saat:



Saat:




Saat:



Saat:



Saat:



Saat:



Saat:



Saat:

B. Aşağıdaki sorulara cevap ayınız.

1. Saatlerde akrep neyi ifade eder?
2. Saatlerde yelkovan neyi ifade eder?
3. Yelkovan altının üzerinde, akrep ise iki ve üçün arasında iken saat kaçtır?

Haydi Düşünelim



Yandaki saat kaçı göstermektedir?

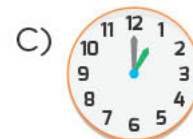
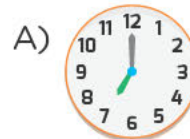
- A) 08.00 B) 08.30
C) 09.00

C. Aşağıdaki soruları cevaplayınız.

1. Yandaki saatin okunuşu aşağıdakilerden hangisidir?

- A) Beş buçuk B) Dört buçuk
C) Üç buçuk

2. Aşağıdaki saatlerden hangisi sabah kalktığımız vakti göstermektedir?



D. Aşağıdaki takvimi inceleyiniz. Soruların cevaplarını takvime göre cevaplayarak işaretleyiniz.

Nisan 2018						
PAZAR	PAZARTESİ	SALI	ÇARŞAMBA	PERŞEMBE	CUMA	CUMARTESİ
1	2	3	4	5	6	7
8	9	10	11	12	13	14
15	16	17	18	19	20	21
22	23	24	25	26	27	28
29	30					

- Takvim hangi yıla aittir?
 2018 2019
- Takvim hangi ayı göstermektedir?
 Nisan Haziran
- Nisan ayında kaç gün vardır?
 31 30
- Ulusal Egemenlik ve Çocuk Bayramı hangi güne denk gelmektedir?
 Pazartesi Salı

E. Haftanın günlerini yazarak soruları cevaplayınız.

1. gün	2. gün	3. gün	4. gün
Pazartesi
5. gün	6. gün	7. gün	
.....	

- Hafta içi olarak adlandırılan günleri yazınız.

- Hafta sonu olarak adlandırılan günleri yazınız.

F. Aşağıdaki soruları cevaplayınız.

- Bir hafta kaç gündür?
 A) 5 B) 6 C) 7



Yukarıdaki aylardan sonra gelen ay aşağıdakilerden hangisidir?

- A) Haziran B) Mayıs C) Şubat

- Aşağıda verilen bilgilerden hangisi yanlıştır?

A) Bir yılda dört mevsim vardır.

B) Bir hafta sekiz gündür.

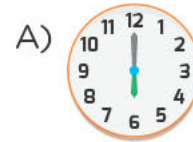
C) Haftanın ilk günü pazartesidir.

- Son ay ayıdır.”

Yukarıdaki cümlede boş bırakılan yere aşağıdakilerden hangisi yazılmalıdır?

- A) aralık B) ocak C) şubat

- Aşağıdaki saatlerden hangisi yedi buçuğu gösterir?



- “Dün cumartesi ise yarın günlerden dir.”

Yukarıdaki cümlede noktalı yere aşağıdakilerden hangisi yazılmalıdır?

- A) pazar B) pazartesi C) salı

ÇARŞAMBAYA NE OLDU?

Öğretmen Hasan'a sordu:

"Bir haftada kaç gün vardır?"

"Altı gün"

"Yedi gün değil mi Hasan'cım?"

Bir daha düşün istersen."

Hasan gülümsedi:

"Çarşambayı sel aldı da ondan öğretmenim."

G. Haftanın günlerine göre aşağıdaki tabloyu doldurunuz.

Dün	Bugün	Yarın
Pazar	Pazartesi	Salı
Perşembe
.....	Cuma
Salı
.....	Salı
.....	Pazar
.....	Pazar

H. Aşağıda verilen ifadeler doğru ise "gülen yüz 😊," yanlış ise "üzgün yüz ☹️" yapınız.


	Haftanın son günü pazardır.
	Bir hafta altı gündür.
	Cuma ve cumartesi hafta sonu günleridir.
	Bir yılda on iki ay vardır.
	Yılın ilk ayı şubattır.


Bilmece

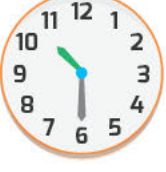
Saat niçin tehlikelidir?


Cevap: (Akrabi var da ondan)

I. Aşağıda verilen saatleri okunuşları ile eşleştiriniz.

1.  On buçuk

2.  On iki buçuk

3.  Üç buçuk

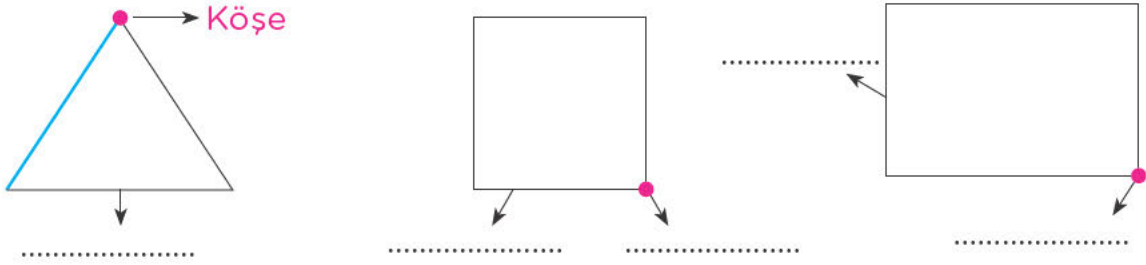
4.  Sekiz buçuk

J. Aşağıdaki tabloyu doldurunuz.

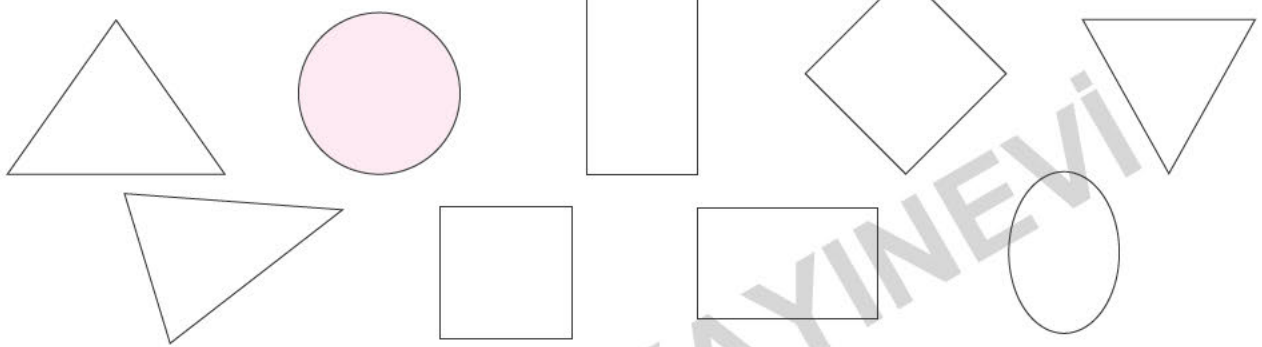
Şubat	Haziran	Nisan
Ekim	Ağustos	Aralık
Ocak	Temmuz	Mayıs
Eylül	Kasım	Mart

	AYLAR
1.Ay	Ocak
2.Ay	
3.Ay	
4.Ay	
5.Ay	
6.Ay	
7.Ay	
8.Ay	
9.Ay	
10.Ay	
11.Ay	
12.Ay	

A. Aşağıda verilen şekillerin kenarlarını mavi, köşelerini kırmızı kalem ile örnekteki gibi gösteriniz ve yazınız.



B. Aşağıda verilen geometrik şekillerden köşesi ve kenarı olmayanları kırmızıya, üç köşesi ve üç kenarı olanları maviye, dört köşesi ve dört kenarı olanları turuncuya boyayınız.




C. Aşağıdaki soruları cevaplayınız.

1. Üçgenin özelliklerini yazınız

2. Kare ve dikdörtgenin özelliklerini yazınız.

Haydi Düşünelim

Aşağıdaki nesnelerin hangisi ile kare çizebiliriz?



D. Aşağıdaki soruları cevaplayınız.

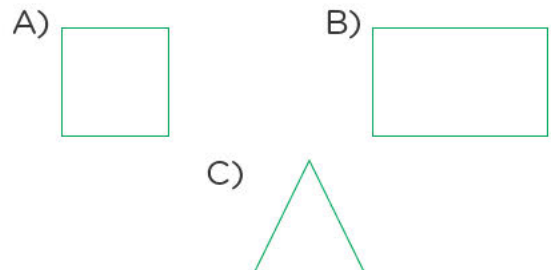
1. Aşağıdaki şekillerin hangisinin kenarı ve köşesi yoktur?



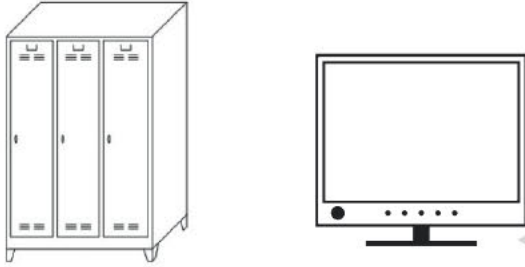
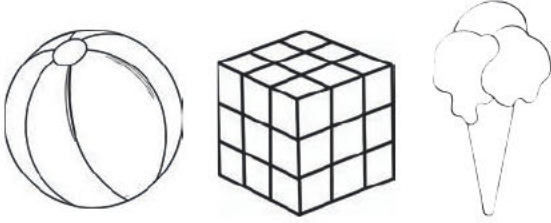
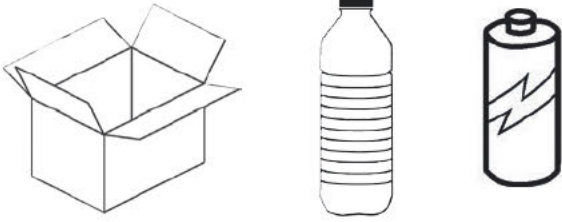
2. Üçgen ile ilgili aşağıdakilerden hangisi yanlıştır?

- A) Üç kenarı vardır.
B) Kenarı ve köşesi yoktur.
C) Üç köşesi vardır.

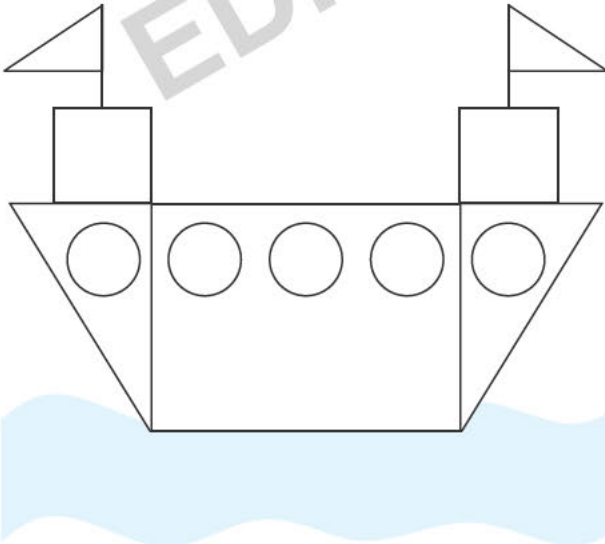
3. Aşağıdaki şekillerden hangisi dört kenarlı değildir?



E. Aşağıda verilen nesnelere inceleyiniz. Köşeli olan nesnelere boyayınız.



F. Aşağıda verilen resmi geometrik şekillerin rengine göre boyayınız.



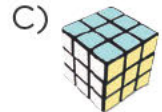
G. Aşağıdaki soruları cevaplayınız.

1. Aşağıdaki şekillerden hangisinin yüzü yuvarlaktır?

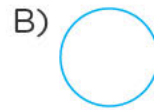
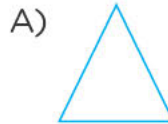


2. Ben düz ve köşesi olmayan yuvarlanabilen bir nesne ile oynuyorum.

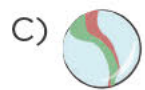
Ediz'in söylediği nesne aşağıdakilerden hangisi olamaz?



3. Yandaki görsel ile aşağıdaki şekillerden hangisi çizilebilir?



4. Aşağıdaki nesnelere hangisi kullanılarak kare çizilebilir?



5. Yandaki görsel hangi geometrik şekle benzemektedir?


A) Çember

B) Üçgen


C) Kare

H. Aşağıda açıklaması verilen geometrik şekilleri örnekteki gibi eşleştiriniz.

1- Uçurtmayım, çattım, vardır üç köşem, üç kenarım.



2- Mendile benzerim. Dört kenar, dört köşeyim.





3- Kocaman bir topa benzerim. Kendi çevremde dönerim.



4- Dört köşem var dört kenarım ama benzemem kareye. Bir kapı olabilir ya da duvarda bir çerçeve



I. Aşağıda verilen geometrik şekillerin kenar ve köşe sayılarını örnekteki gibi yazınız.



Kenar Sayısı: 0 Kenar Sayısı:

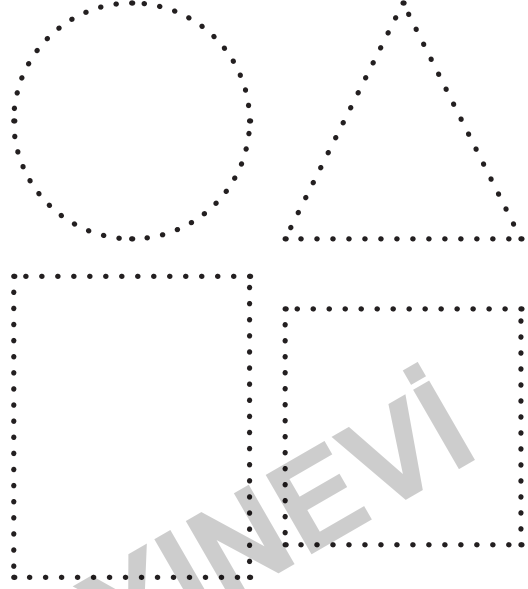
Köşe Sayısı: 0 Köşe Sayısı:



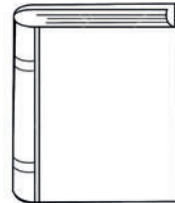
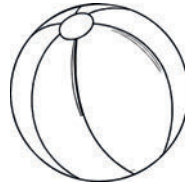
Kenar Sayısı: Kenar Sayısı:

Köşe Sayısı: Köşe Sayısı:

J. Aşağıda kenarları noktalı verilmiş olan şekilleri kırmızı kalem ile belirgin hale getiriniz. Şekillerin isimlerini içlerine yazınız.



K. Aşağıda verilen nesnelere yüzü köşeli olanları boyayınız.



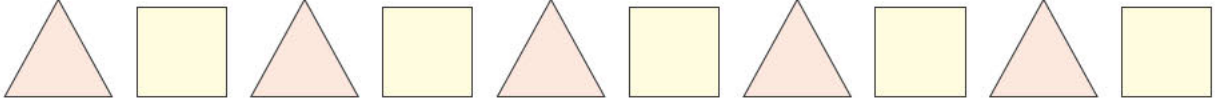
A. Aşağıda verilen örüntülerin kuralını örnekteki gibi yazınız.

1.



Örüntünün Kuralı: Bir kalem, bir silgi

2.



Örüntünün Kuralı:

3.



Örüntünün Kuralı:

B. Aşağıdaki soruları cevaplayınız

1. Bir örüntünün kuralı nasıl belirlenir?

.....

2. Aşağıdaki örüntüerin kuralını yazınız.



.....



.....

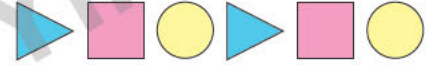
Haydi Düşünelim

Aşağıdaki örüntülerden hangisinin kuralı farklıdır?

- A)
- B)
- C)

C. Aşağıdaki soruları cevaplayınız.

1.



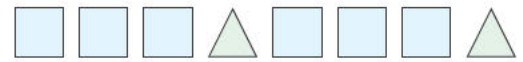
Yukarıdaki örüntünün kuralı hangi seçenekte doğru verilmiştir?

- A)
- B)
- C)

2. Aşağıdakilerden hangisi örüntü oluşturmaz?

- A)
- B)
- C)

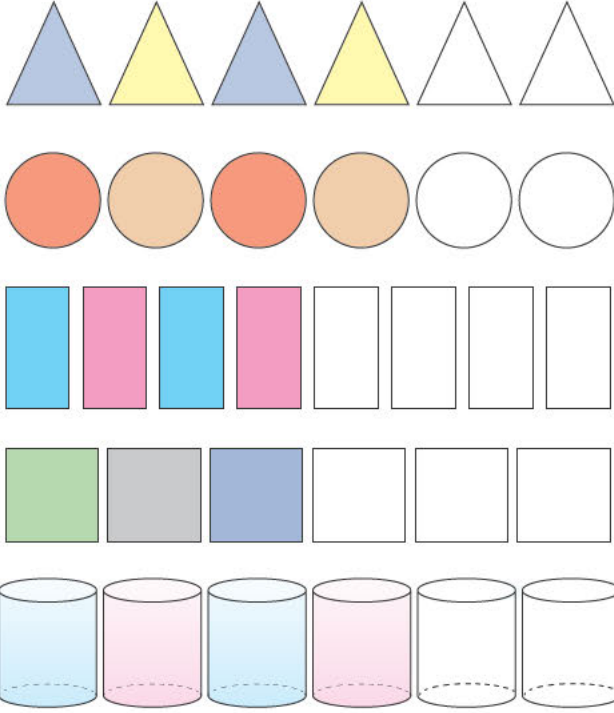
3.



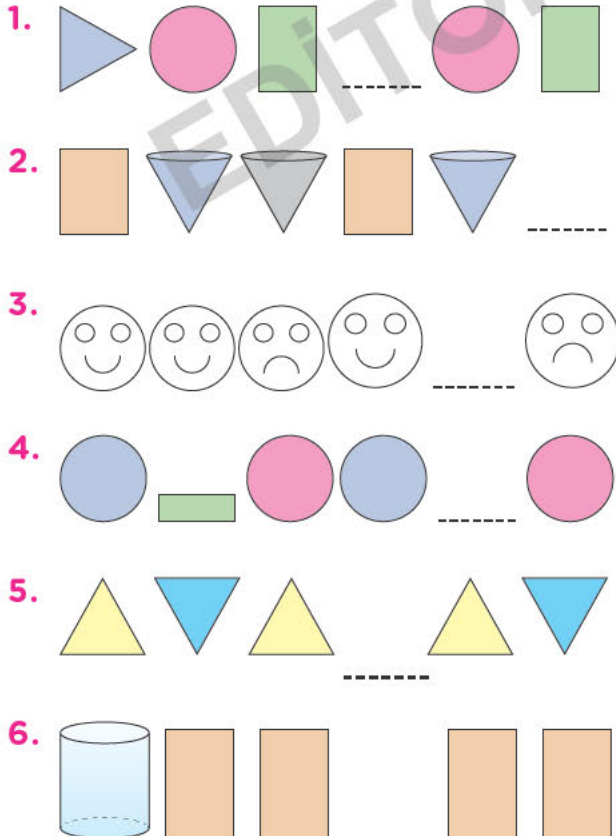
Yukarıdaki örüntünün kuralı aşağıdakilerden hangisidir?

- A) 3 kare, 1 üçgen
- B) 3 üçgen, 1 kare
- C) 3 dikdörtgen, 1 üçgen

D. Aşağıdaki örüntüleri renklerine uygun boyayarak devam ettiriniz.



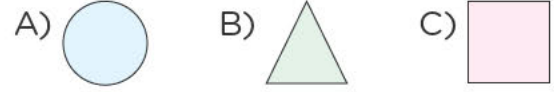
E. Aşağıdaki örüntüde eksik bırakılan yerlere uygun şekiller çiziniz




F. Aşağıdaki soruları cevaplayınız.



Yukarıdaki örüntüde noktalı yere aşağıdakilerden hangisi gelmelidir?




Aşağıdaki örüntülerden hangisi yukarıdaki örüntünün u alı ile aynıdır?



Yukarıdaki örüntüde noktalı yere aşağıdakilerden hangisi gelmelidir?



Yukarıdaki örüntünün kuralı aşağıdakilerden hangisidir?



A. Aşağıdaki tabloda Şubat ayındaki hava olayları verilmiştir. Buna göre tabloyu inceleyerek örnekteki gibi doğru ifadelerle “gülen yüz (😊)”, yanlış ifadelerle “üzgün yüz (☹️)” yapınız.

Tablo: Şubat Ayı Hava Olayları	
Hava Olayı	Gün Sayısı
	8
	7
	5
	6
	3

- Yağmurlu gün sayısı 6'dır.
- Şubat ayı 28 gündür.
- Bu ayda en çok görülen hava olayı kar yağışıdır.
- Parçalı bulutlu gün sayısı 5'dir.
- Bu ayda en az görülen hava olayı yağmur yağışıdır.
- Güneşli gün sayısı 5 dir.
- Rüzgarlı gün sayısı 3'tür.

B. Aşağıdaki soruları cevaplayınız.

1. Okul çantamızı neye göre hazırlarız?

2. Tablolar işimizi nasıl kolaylaştırır?

Haydi Düşünelim

Tablo: Haftalık Ders Saatleri

Ders Adı	Ders Saati
Türkçe	12
Matematik	5
Hayat Bilgisi	4

Yukarıdaki tabloda verilen ders saatlerine göre en fazla görülen ders aşağıdakilerden hangisidir?

- A) Matematik B) Hayat bilgisi
C) Türkçe

C. Aşağıdaki soruları cevaplayınız.

Tablo: 1/B Sınıfının Sevdiği Yemekler	
Yemek Adı	Öğrenci Sayısı
Köfte	7
Çorba	5
Makarna	8
Pırasa	6
Fasulye	6

1 ve 2. soruları yukarıdaki tabloya göre cevaplayınız.

1. En sevilen yemek aşağıdakilerden hangisidir?
A) Köfte B) Çorba C) Makarna
2. Hangi iki yemeği sevenlerin sayısı eşittir?
A) Makarna- Köfte
B) Fasulye- Pırasa
C) Fasulye- Makarna

Tablo: 1/C Sınıfının Katıldığı Sosyal Etkinlikler	
Sosyal Etkinlikler	Öğrenci Sayısı
Futbol	5
Müzik	8
Tiyatro	3
Tenis	4
Basketbol	4
Resim	6

D. Aşağıdaki cümlelerde boş bırakılan yerleri tabloya göre doldurunuz.



1. En fazla öğrencinin katıldığı sosyal etkinlik tir.
2. etkinliğine 6 öğrenci katılmıştır.
3. En az öğrencinin katıldığı sosyal etkinlik dur.
4. ile tiyatro etkinliğine katılanların toplam sayısı müzik etkinliğine katılanların sayısına eşittir.
5. ve etkinliklerine katılanların sayısı eşittir.
6. Tenis etkinliğine katılanların sayısı tür.
7. Resim ve basketbol etkinliğine katılanların toplam sayısı dur.

Tablo: 1/A Sınıfının Sevdiği Meyveler	
Meyveler	Öğrenci Sayısı
Elma	3
Armut	6
Muz	3
Çilek	7
Karpuz	10

E. 1, 2, 3, 4, 5 ve 6. soruları yukarıdaki tabloya göre cevaplayınız.

1. En sevilen meyve aşağıdakilerden hangisidir?
A) Elma B) Çilek C) Karpuz
2. Aşağıda ilerden hangisi en az sevilen meyvelerden biri değildir?
A) Armut B) Elma C) Muz
3. Çilek sevenlerin sayısı kaçtır?
A) 6 B) 7 C) 8
4. Armut sevenlerin sayısı kaçtır?
A) 6 B) 7 C) 8
5. Hangi iki meyveyi sevenlerin sayısı eşittir?
A) Armut -Muz B) Elma -Muz
C) Çilek- Elma
6. Sınıf mevcudu kaçtır?
A) 27 B) 29 C) 31

F. Aşağıda verilen soruları takvime göre cevaplayınız.

MAYIS 2019						
Pzt	Sa	Çar	Per	Cuma	Cmt	Pzr
		1	2	3	4	5
6	7	8	9	10	11	12
13	14	15	16	17	18	19
20	21	22	23	24	25	26
27	28	29	30	31		

1. Takvim hangi aya ve yıla aittir?

2. Mayıs ayında kaç hafta sonu vardır?

3. Atatürk'ü Anma, Gençlik ve Spor Bayramı hangi güne denk gelmektedir?

4. Mayıs ayında kaç tane cuma günü vardır?

5. 29 Mayıs hangi güne denk gelmektedir?

G. Aşağıda "1/D Sınıfının Beslenme Tablosu" verilmiştir. Soruları bu tabloya göre cevaplayınız.

Tablo: 1/D Sınıfının Beslenme Tablosu

Günler	Yiyecek ve İçecekler
Pazartesi	Meyve, tost, süt
Salı	Kek, süt, kuru yemiş
Çarşamba	Ayran, börek
Perşembe	Poğaç, kuru yemiş
Cuma	Süt, poğaç, kek

1. Pazartesi günü beslenme olarak getirilen yiyecek ve içecekler nelerdir?

2. Haftada kaç gün süt getiriliyor?

3. Kuru yemiş getirilen günler hangileridir?

4. Ayran ve börek getirilen gün hangisidir?

5. Perşembe günü beslenme olarak getirilen yiyecek ve içecekleri yazınız.

Bilmece

Şubat ayı diğer aylardan neden kısadır?

(Cevap: (Soğuktan büzülme için))

A. Aşağıdaki varlıklardan en uzun olanını işaretleyiniz.

- 

○ ○ ○
- 

○ ○ ○
- 

○ ○ ○

B. Aşağıdaki soruları cevaplayınız.

- Uzunlukları ölçerken öncelikle neye dikkat ederiz?

- Sınıf tahtasının boyunu standart olmayan ölçme araçlarından hangisi ile daha kolay ölçeriz?


- Standart olmayan uzunluk ölçme birimlerini yazınız.


Haydi Düşünelim


Aşağıda verilen standart olmayan ölçme araçlarından hangisi daha küçüktür?

- A)  B)  C) 

C. Aşağıdaki varlıklardan kısa olanı işaretleyiniz.










- 

○ ○ ○
- 



○ ○ ○
- 

○ ○ ○


D. Aşağıdaki soruları cevaplayınız.

- Aşağıdaki çocuklardan hangisi diğerlerinden daha uzundur?
A)  B)  C) 
- Aşağıdaki sebzelerden hangisi en kısadır?
A)  B)  C) 
- Aşağıdaki araçların hangisi diğerlerinden daha uzundur?
A)  B)  C) 

E. Aşağıda verilen varlıkları örnekteki gibi en uzun olandan en kısa olana doğru numaralandırınız.




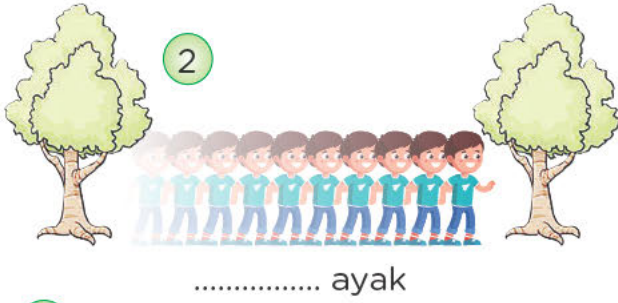
F. Aşağıdaki soruları cevaplayınız.



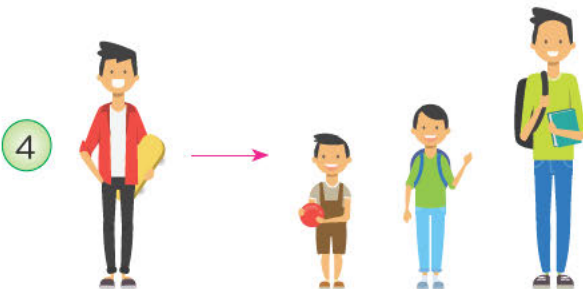
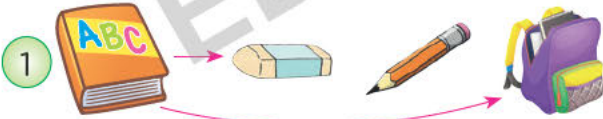
1, 2 ve 3. soruları yukarıdaki görsellere göre cevaplayınız.

- En uzun çocuk kimdir?
A) Eren B) Şule C) Hamza
- En kısa çocuk kimdir?
A) Fatma B) Şule C) Eren
- Çocuklar uzundan kısaya doğru sıralandığında üçüncü sırada hangi çocuk olur?
A) Hamza B) Şule C) Fatma
- Aşağıdaki hayvanların hangisi daha uzundur?
A) B) C)
- Aşağıdakilerden hangisi daha kısadır?
A) B) C)


G. Aşağıda verilen çocuklar iki mesafe arasını kaç ayak ölçmüşlerdir? Örnekteki gibi yazınız.



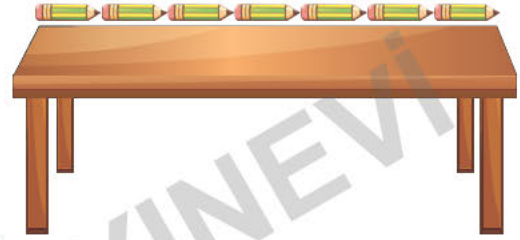
H. Başta verilen varlığın uzunluk sırasına göre nereye gelmesi gerektiğini ok ile gösteriniz.




I. Aşağıda verilen nesnelerin uzunluklarının kaç kalem olduğunu örnekteki gibi bulunuz.



15..... kalem uzunluğundadır.



2 ka em uzunluğundadır.



3 kalem uzunluğundadır.







4 kalem uzunluğundadır.

Bilmece

Görünen köy ne istemez?

Cevap: (Dürbün)

A. Aşağıda verilen nesnelere sıvı olanları işaretleyiniz.



B. Aşağıdaki soruları cevaplayınız.

1. Sıvı maddelere örnek yazınız.
2. Sıvı maddeleri ölçtüğümüz kaplara örnek veriniz.
3. Aşağıdaki bardaklarda bulunan sıvıları çok olandan az olana doğru sıralayınız.



Haydi Düşünelim

Aşağıdakilerin hangisini sıvıları ölçmek için kullanmayız?



C. Aşağıdaki soruları cevaplayınız.


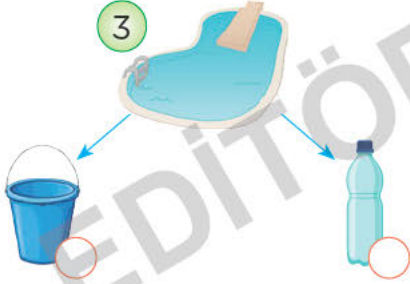

1. Aşağıdakilerden hangisi daha fazla su alır?

A) B) C)
2. Aşağıdakilerden hangisi sıvı değildir?

A) B) C)
3. Aşağıdakilerden hangisi daha az sıvı alır?

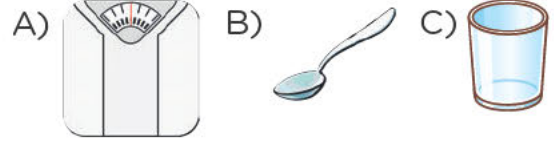
A) B) C)

D. Aşağıdaki kapları daha kısa sürede boşaltacak olan nesneyi işaretleyiniz.



E. Aşağıdaki soruları cevaplayınız.

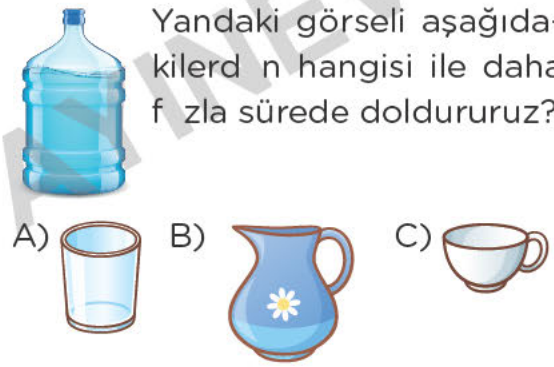
1. Aşağıdakilerden hangisi ile sıvı maddeler ölçülmez?



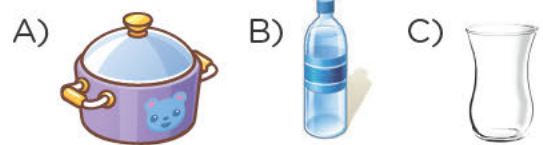
2. Aşağıdakilerden hangisini bardak ile ölçebiliriz?



3. Yandaki görseli aşağıdakilerden hangisi ile daha fazla sürede doldururuz?



4. Aşağıdaki kaplardan hangisi daha fazla sıvı alır?



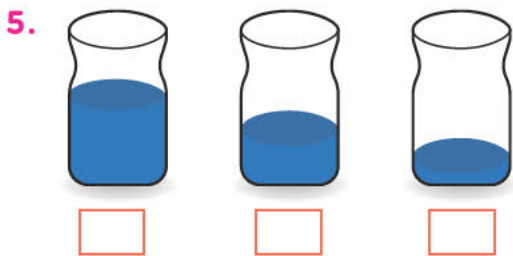



5.





Görsele göre bir paket sütten kaç bardak süt çıkar?

A) 4 B) 5 C) 6

F. Aşağıda verilen kaplardaki sıvı miktarlarını azdan çoğa doğru sıralayınız.



G. Aşağıda verilen kapların içindeki sıvı miktarlarına göre uygun eşleştirmeleri yapınız.



Bilmece

Sürahi bardağa ne demiş?

kime dökceğim?

Cevap: (Sen de olmasan içmi)

1.
SINIF

HAYAT BİLGİSİ



KONULAR

1. ÜNİTE: OKULUMUZDA HAYAT
2. ÜNİTE: EVİMİZDE HAYAT
3. ÜNİTE: SAĞLIKLI HAYAT
4. ÜNİTE: GÜVENLİ HAYAT
5. ÜNİTE: ÜLKEMİZDE HAYAT
6. ÜNİTE: DOĞADA HAYAT

EDİTÖR YAYINEVİ

A. Aşağıdaki boşlukları doldurunuz.

Merhaba !
 Adım
 Soyadım
 Yaşım
 Okulum
 Memleketim

**B. Aşağıdaki soruları cevaplayınız.**

1. Bütün insanların fiziksel özellikleri aynı olsaydı ne olurdu?

2. Fiziksel özellikleri farklı olan ya da sürekli rahatsızlığı o an arkadaşlarımıza nasıl davranmalıyız?

3. Serviste uymamız gereken kurallardan 3 tanesini yazınız.

Haydi Düşünelim

Aşağıdakilerden hangisi fiziksel bir özellik değildir?

- A) Sarı saç B) Mavi göz
 C) Kibar olma

C. Aşağıdaki kişilerin fiziksel özelliklerini yazınız.

1. Uzun boylu
2.
3.
4.



1.
2.
3.
4.

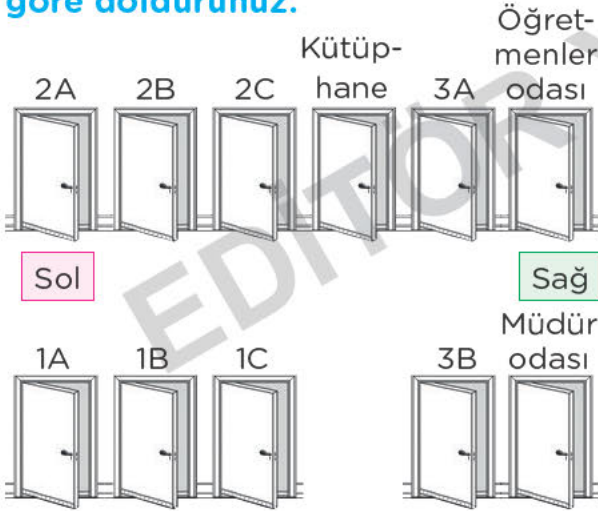
D. Aşağıdaki soruları cevaplayınız.

1. Bir kişiyle tanışırken aşağıdakilerde hangisini söylememize gerek yoktur?
 A) Adımız
 B) Soyadımız
 C) Babamızın telefon numarası
2. Aşağıdakilerden hangisi doğrudur?
 A) Herkes aynı özelliklere sahiptir.
 B) Herkesin kendine ait özellikleri vardır.
 C) Herkesin saç rengi aynıdır.
3. Okul servisinde aşağıdakilerden hangisi yapılmamalıdır?
 A) Yerimizde oturmalıyız.
 B) Emniyet kemeri takmalıyız.
 C) Camdan aşağıya sarkmalıyız.

E. Aşağıdaki cümlelerden doğru olanları işaretleyiniz

1-	✓	Okul servisine sıra ile binmiyoruz.
2-		Karşıdan karşıya geçerken yaya geçidini kullanmalıyız.
3-		Okul servisinde ayakta durmalıyız.
4-		Kaldırımda yürürken yolun sol tarafını kullanmalıyız.
5-		Tanımadığımız kimselere güvenmemeliyiz.
6-		Serviste şoförle şakalaşabiliriz.
7-		Taşıtların çok yoğun olduğu yerlerden karşıya geçmeliyiz.

F. Aşağıdaki boşlukları bu resme göre doldurunuz.

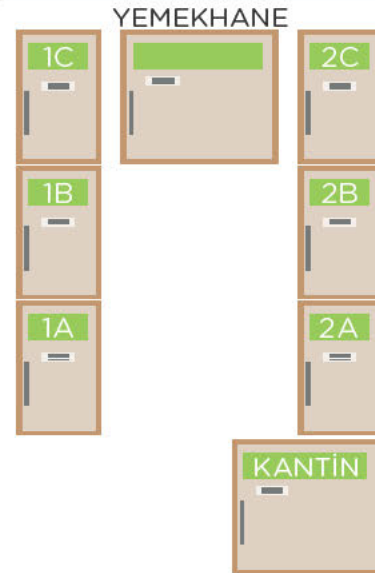


- Müdür odasının yanında sınıfı vardır.
- 2A sınıfının karşısında sınıfı vardır.
- 1C sınıfının solunda sınıfı vardır.
- Kütüphanenin sağında sınıfı vardır.
- 1C sınıfının karşısında sınıfı vardır.

G. Aşağıdaki soruları cevaplayınız.

- Aşağıdakilerden hangisi özel gereksinimi olan bireylerin kullandığı araçlar arasında yer almaz?
A) Tablet
B) Tekerlekli sandalye
C) İşitme cihazı
- Aşağıdaki davranışlardan hangisi yanlıştır?
A) Servisteki ön koltuk için yarışmak
B) Serviste çok yüksek sesle konuşmamak
C) Servis en dış rıyı izlemek

3 4 v 5. soruları aşağıdaki görsele göre cevaplayınız.



- 1A sınıfının yanında hangi sınıf vardır?
A) 1B B) 2C C) 2B
- 2B sınıfının karşısında hangi sınıf vardır?
A) 2A B) 1C C) 1B
- Kantin yanında hangi sınıf vardır?
A) 1C B) 1A C) 2A

H. Metni okuyunuz. Aşağıdaki soruları metne göre cevaplayınız.

TANIŞMA GÜNÜ

Ayşegül Öğretmen o gün ilk kez derslerine girdiği sınıfta:

"Günaydın çocuklar. Benim adım Ayşegül. Bundan böyle Türkçe derslerini birlikte yapacağız." dedikten sonra öğrencilerin adlarını sormaya başladı.

"Senin adın ne yavrum?"

"İrecep öğretmenim."

Bu kez yanındaki öğrenciye sordu:

"Smail öğretmenim."

"Yani adın İsmail mi?"

"Öyleydi öğretmenim! Ama adımın baş harfini az önce Recep aldı da!..."

1. Öğretmenin ismi aşağıdakilerden hangisidir?

- A) Fatmagül B) Ayşegül
C) Ays n

2. Öğretmenin tanıştığı öğrenciler arasında aşağıdakilerden hangisi yoktur?

- A) İbrahim B) İsmail C) Recep

3. Tanışma sırasında aşağıdakilerden hangisini söylememize gerek yoktur?

- A) Adımız B) Soyadımız
C) Boyumuz

4. Yeni tanıştığımız arkadaşımız tekerlekli sandalye ile hayatını sürdürüyorsa onun bu farklılığı karşısında nasıl davranmalıyız?

OKUL SERVİSİ

Sabahları kalkarım,

Kahvaltımı yaparım.

Çantamı hazırlayıp

Servisi yakalarım.

Koltuğum cam yanında

Okulum çok yakında.

Şoför amca iyi sür

Dikkat et, kaza yapma.

Servis camından sarkmam.

Ayağa asla kalkmam.

Araba giderken

Şoförle hiç konuşmam

1. Aşağıdaki soruları cevaplayınız.

1. Şiirde geçen servis kurallarını yazınız.

2. Kaldırımda yürürken yolun hangi tarafını kullanmalıyız?

3. Kaldırım olmayan yollarda yolun hangi tarafını kullanmalıyız?

- A) Sağ B) Sol C) Orta

4. Aşağıdaki ifadelerden hangisi yanlıştır?

A) Tanımadığım kişilerin teklifini kabul etmem.

B) Tanımadığım bir kişi yanıma ısrarla yaklaşırsa tepki gösteririm.

C) Okul yolunda tanıdığım kişilere bile selam vermem.

A. Aşağıdaki görsellerden sınıfımızda bulunanları işaretleyiniz.

1




2



3




4



5



6



7



8



B. Aşağıdaki soruları cevaplayınız.

1. Şeref köşesinde neler bulunur?

2. Bayrak törenlerinde nasıl davranmalıyız?

3. Okulunuzda bulunan bölümleri yazınız.

Haydi Düşünelim

Şeref köşesinde aşağıdaki kişilerden hangisinin fotoğrafı bulunur?

A) İsmet İNÖNÜ

B) Kazım KARABEKİR

C) Mustafa Kemal ATATÜRK

C. Aşağıdaki soruları cevaplayınız.

1. Şeref köşesinde aşağıdakilerden hangisi bulunmaz?

A) İstiklâl Marşı

B) Gençliğe Hitabe

C) Dünya Haritası

2. İstiklâl Marşı'mızın şairi kimdir?

A) Fevzi ÇAKMAK

B) Mehmet Akif ERSOY

C) Ahmet HAŞİM

3. Ders sırasında öğretmenimizden izin almak için kullandığımız ifadelerden hangisi doğrudur?

A) Ben, tuvalete gidiyorum.

B) Tuvalete gideceğim.

C) Tuvalete gidebilir miyim?




D. Okulun bölümlerinin yazıldığı bulutları boyayınız.

1 Kütüphane	2 Rehberlik Servisi
3 Laboratuvar	4 Lavabo
5 Banyo	6 Spor Salonu
7 Yatak Odası	8 Müdür Odası
9 Sınıf	10 Balkon

E. Aşağıdaki ifadelerden doğru olanlarını işaretleyiniz

1-	İstiklâl Marşı okunurken saygı duruşunda durulur.	✓
2-	Ders sırasında izinsiz tuvalette gidebiliriz.	
3-	Tuvaleti kullanan arkadaşlarımızı rahatsız etmemeliyiz.	
4-	Bayrağımız bağımsızlığımızın sembolüdür.	
5-	Bayrak töreninde arkadaşlarımızla konuşabiliriz.	
6-	Bayrak töreninde yüzümüz bayrağa dönük olmalıdır.	
7-	Matkap ve ütü sınıf eşyalarımız arasındadır.	



F. Aşağıdaki soruları cevaplayınız.

- Hafta sonu okumak için kitap almak isteyen Kemal, okulun hangi bölümüne gitmelidir?
A) Spor Salonu B) Lavabo
C) Kütüphane
- Teneffüste harçlığıyla çikolata almak isteyen Esin okulun hangi bölümüne gitmelidir?
A) Müdür odası B) Kantin
C) Rehberlik Servisi
- Aşağıdaki davranışlar an hangisi yanlıştır?
A) Tuvalette suyla oynamak.
B) Tuvalette yeteri kadar sabun kullanmak.
C) Tuvalette muslukları tam kapatmak.
- Aşağıdaki eşyalardan hangisi sınıfta bulunmaz?
A)  B) 
C) 
- Aşağıdakilerden hangisi bağımsızlık sembollerimiz arasında yer almaz?
A) Bayrağımız
B) İstiklâl Marşı'mız
C) Denizlerimiz

SINIFIM

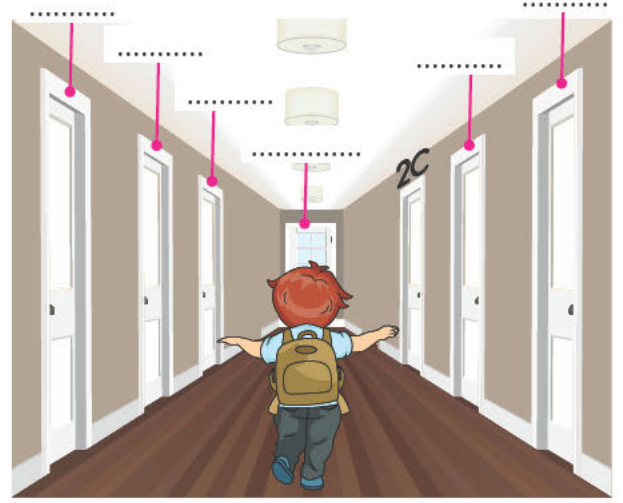
Merhaba! Benim adım Mustafa. Sizlere biraz sınıftan bahsetmek istiyorum. Ben 1-D sınıfında okuyorum. Sınıfımız 22 kişiden oluşuyor. Sınıfımız ne çok büyük ne de çok küçük. Sınıfımızda 11 tane sıra var. Bir tane öğretmen masası, öğrenci dolapları ve kitaplıklar var. Ayrıca, akıllı tahta, pano, projeksiyon aleti, saat ve çöp kovası da mevcut. Şimdi sıra geldi sınıfımızın en önemli bölümüne. Tabii ki de "Şeref Köşesi" dediğinizi duyar gibiyim. Tahtanın en üstünde Türk bayrağımız asılı. Onun altında devletimizin kurucusu Mustafa Kemal Atatürk'ün resmi var. Atatürk'ün resminin sağında Atatürk'ün Gençliğe Hitabesi ve solunda ise İstiklâl Marşı'mız var.

G. Aşağıda verilen şeref köşesinde olması gerekenleri yazınız. Türk bayrağını boyayınız.

**Bilmece**

"Yaz" derim yazar,
"Çiz" derim çizer.
Resim yapmayı çok sever

Cevap: (Kalem)



H. Aşağıda verilen bilgileri okuyunuz. Bu bilgilere göre okulun bölümlerini yazınız.

1. Barış'ın karşısında kütüphane vardır.
2. Barış'ın solundaki ilk kapı 1A sınıfıdır.
3. 1A sınıfının yanında 1B sınıfı vardır.
4. 1A sınıfının karşısında 2A sınıfı vardır.
5. Barış'ın sağından üçüncü sınıf 2C sınıfıdır.
6. 2C sınıfının karşısında 1C sınıfı vardır.
7. 1B sınıfının karşısında 2B sınıfı vardır.

Mani

Yaza yaza yaz geldi,
Derelere kaz geldi.
Daha yazacaktım ama
Mürekkebim az geldi.

A. Aşağıda görevleri verilen kişiler kimlerdir? Altlarına yazınız.

1 Okulun yönetiminin sorumluyum. Okuldaki her şey benim iznimle yapılır.

Müdür

2 Sorunu olan öğrencilere yardımcı olurum. Onlarla ilgilenir onları dinlerim.

3 Ders anlatır ve öğrencilerle ilgilenirim.

4 Okul müdürünün verdiği görevleri yapar, ona yardım ederim.

5 Okulun temizliğini yaparım. Öğrencilerin sağlıklı ortamlarda ders çalışmasını sağlarım.

B. Aşağıdaki soruları cevaplayınız.

1. Sınıf kurallarına 3 tane örnek yazınız.

2. Okul kurallarına 3 tane örnek yazınız.

Haydi Düşünelim

Yabancı kişilerin okula girmesini engelleyen okul görevlisi kimdir?

- A) Temizlik Personeli
B) Özel Güvenlik
C) Kantinci

C. Aşağıdaki soruları cevaplayınız.

1. Aşağıdaki ifadelerin hangisi yanlıştır?

- A) Ders esnasında parmak kaldırarak söz almalıyız.
B) Sınıf arkadaşımızın eşyalarına zarar vermemeliyiz.
C) Elimizde kitap varken sınıfın kapısını tekmeleyerek açabiliriz.

2. Aşağıdaki görevlilerin hangisi okulda bulunmaz?

- A) Temizlik Personeli
B) Okul Müdürü
C) Kasap

D. Aşağıdaki durumlarda hangi görevliden yardım almalıyız ? Eşleştiriniz.

1	A harfini yapamadığım için yardım isterim.	A	Nöbetçi öğretmen
2	Okulun lavabosundan su taşıdığımda yardım isterim.	B	Rehber Öğretmen
3	Üzgün olduğumda konuşmak isterim.	C	Sınıf Öğretmeni
4	Bahçede arkadaşım düşüp dizini yaraladığımda yardım isterim.	D	Temizlik Personeli

E. Aşağıdaki kurallardan doğru olanları işaretleyiniz

1-	Sınıfımızı temiz ve düzenli tutmalıyız.	✓
2-	Sınıf penceresinden sarkarak temiz hava almalıyız.	
3-	Sınıftaki kablo ve prizlere dokunmamalıyız.	
4-	Sınıf kuralları hep birlikte belirlenmelidir.	
5-	Kantinde ilk önce büyük sınıflar ihtiyaçlarını almalıdır.	
6-	Okula geç gelip erken çıkılmalıdır.	
7-	Çöpler çöp kutusuna atılmıdır.	

F. Aşağıdaki soruları cevaplayınız.

- Aşağıdakilerden hangisi sınıf kuralları arasında yer almaz?
A) Sıraları karalamamak.
B) Derste söz alarak konuşmak.
C) Lavabolardaki muslukları kapatmak.
- Aşağıdaki görevlilerin hangisi bir okulda bulunur?
A) Memur B) Doktor C) Avukat
- Aşağıdaki öğrencilerden hangisi okul kurallarına uymaktadır?
A) Ben merdivenlerden koşarak iner ve çıkarım.
B) Ben ve arkadaşlarım koridorda top oynarız.
C) Yediğim çikolatanın paketini çöp kutusuna atarım.
- Sınıfta ders anlatır.
• Ödevlerimizi kontrol eder.
• Bize örnek olur.
Yukarıda özellikleri verilen okul görevlisi kimdir?
A) Temizlik Personeli
B) Kantinci
C) Öğretmen
- Aşağıdakilerden hangisi okul kurallarındandır?
A) Dişlerimizi fırçalamak.
B) Yatağımızı toplamak.
C) Okul eşyalarına zarar vermemek.

A. Aşağıdaki sözcük avı bulmacasını çözünüz.

İ	Y	İ	G	Ü	N	L	E	R	Ö
Y	A	B	C	D	E	F	G	S	Z
İ	H	M	E	R	H	A	B	A	Ü
D	J	K	L	M	N	O	P	Ğ	R
E	L	Ü	T	F	E	N	R	O	D
R	Ş	T	U	Y	Z	K	Z	L	İ
S	H	O	Ş	Ç	A	K	A	L	L
L	A	B	C	E	F	G	H	I	E
E	G	Ü	N	A	Y	D	I	N	R
R	J	N	M	R	P	S	V	Y	İ
R	İ	C	A	E	D	E	R	İ	M

İYİ GÜNLER

SAĞ OL

GÜNAYDIN

HOŞÇA KAL

LÜTFEN

ÖZÜR DİLERİM

RİCA EDERİM

MERHABA

İYİ DERSLER

B. Aşağıdaki soruları cevaplayınız.

- Okulda arkadaşlarımızla iletişim kurarken hangi kelimeleri kullanmalıyız?
- Okulunuzda yapılan etkinliklere iki tane örnek veriniz.
- Okul çantamızı ne zaman ve neye göre hazırlamalıyız?

Haydi Düşünelim

Aşağıdakilerden hangisi okula götürüleceğimiz araç ve gereçlerden değildir?

- Resim Defteri
- Müzik Defteri
- Tablet

C. Aşağıdaki soruları cevaplayınız.

- Aşağıdakilerden hangisi ders araç gereçlerindedir?
 - Tornavida
 - Çatal
 - Kalemtraş
- Aşağıdaki ifadelerden hangisi yanlıştır?
 - Okulda okuma yazma öğrendiğim için çok mutluyum.
 - Okulda yeni arkadaşlar edindiğim için çok seviniçliyim.
 - Okulda yaramazlık yapabildiğim için çok eğleniyorum.
- Okul çantamızı aşağıdakilerden hangisine göre hazırlamalıyız?
 - Ders programına göre
 - Hava durumuna göre
 - Maddi durumumuza göre

D. Aşağıdakilerden hangileri öğrencilerin katılabileceği faaliyetler arasındadır? İşaretleyiniz.

1-	Öğretmenler gününde şiir okumak.	
2-	Okulun yanında yapılan spor salonu inşaatına tuğla taşımak.	
3-	Yeşilay kulübüyle ilgili afiş hazırlamak.	
4-	Okul meclisi çalışmalarına katılmak.	
5-	Kantinde tost hazırlamak.	
6-	Tiyatro kulübünde görev almak.	
7-	Satranç kulübünün yarışmasına katılmak.	
8-	Çevre kulübüyle temizlik faaliyetlerine katılmak.	

E. Aşağıda verilenlerden der araç-gereci olanları işaretleyiniz.



F. Aşağıdaki soruları cevaplayınız.

- Aşağıdaki ders araç-gereçlerinden hangisi resim dersi için gerekli değildir?
A) Pastel boya B) Kalem
C) Sözlük
- Aşağıdaki davranışlardan hangisi doğrudur?
A) Çantama bütün kitaplarımı koyarım.
B) Çantamı yerde sürüyerek taşıyorum.
C) Çantamı sırtımda ve uygun pozisyonunda taşıyorum.
- Aşağıdaki ders araç-gereçlerinden hangisi matematik dersi ile ilgilidir?
A) Abaküs B) Top C) Flüt
- Berat'ın çantasında sulu boya, sözlük ve müzik defteri olduğuna göre ders programında o gün hangi ders yoktur?
A) Türkçe B) Matematik
C) Resim
- "Mert: Okulumu seviyorum çünkü" Mert'in bu cümlesi aşağıdaki ifadelerden hangisi ile devam ettirilemez?
A) arkadaşlarım var.
B) önemli bilgiler öğreniyorum.
C) para kazanıyorum.

SATRAŇ TURNUVASI

O gün okulumuzda Satranç Kulübü'nün düzenlemiş olduđu Satranç Turnuvası vardı. Ben de bu kulüpteydim ve turnuvaya katılacaktım. Çok heyecanlıydım. Turnuva vakti geldi, çattı. Kıyasıya süren bir turnuva oluyordu. Ben ve arkadaşım Gökçe finale kaldık. Gökçe 1-C sınıfındaydı. Satrancı çok iyi biliyordu. Finale kaldığım için yerimde duramıyordum. Vakit geldi, süre başladı. Son hamlesi ile Gökçe beni yendi.

Arkadaşımı tebrik ettim. Çok eğlençeli bir yarıştı. Birinci olmayı isterdim fakat her yarışın bir kazananı olacaktır. Bu yarışın kuralıydı. Önemli olan yarışmaktı. Gökçe gelip beni teselli etti. Güzel bir anı biriktirdiğim için şanslıydım.

G. Aşağıdaki soruları cevaplayınız

- Okulda ne turnuvası vardı?
- Turnuvayı hang kulüp düzenliyordu?
- Turnuvanın birincisi hangi sınıftan çıktı?
A) 1A B) 1B C) 1C
- Aşağıdakilerden hangisi yanlıştır?
A) Yarışlarda hep ben kazanmalıyım.
B) Yarışlarda her zaman birinci olmayabiliriz.
C) Yarışları eğlence aracı olarak görmeli kazanan arkadaşımızı tebrik etmeliyiz.

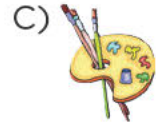
KALEM İLE ÇANTA

Kalem derler bana,
Sakın beni bırakma.
Çeşit çeşit olurum.
Çantada uyurum.
Hem yazarım, hem çizerim,
Bu işi çok severim.

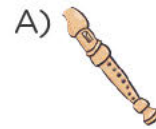
Ben şanslı bir çantayım,
Tertemiz gıcır gıcırım.
Sahibim yere atmaz,
Ağzımı açık bırakmaz.
Her gün akşam olunca,
Hazırlamadan yatmaz.

H. Aşağıdak soruları cevaplayınız.


- Çantada uyuyan ders araç-gereci aşağıdakilerden hangisidir?



- Sahibinin yere atmadığı, ağzını açık bırakmadığı, her akşam hazırladığı araç-gereç aşağıdakilerden hangisidir?

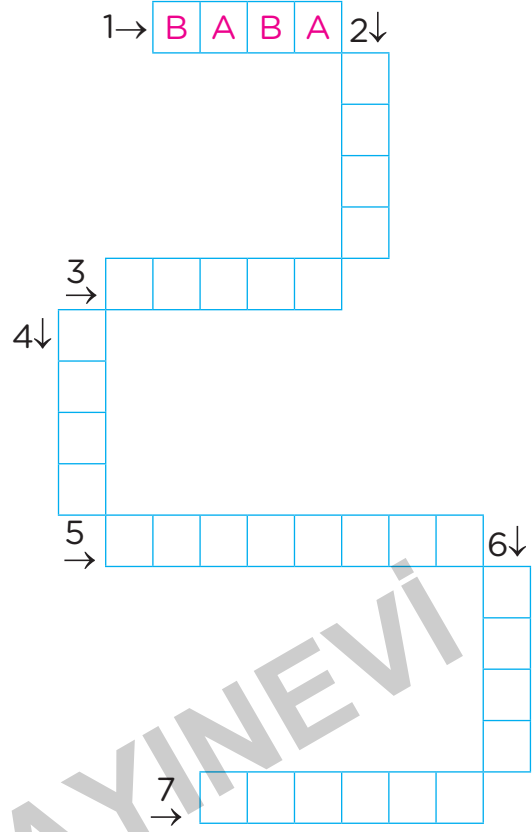


- Beden eğitimi dersinde aşağıdaki araç-gereçlerden hangisine ihtiyaç duymayız?



A. Aşağıdaki bulmacayı çözünüz.

1. Dedemizin amcamız olmayan oğlu.
2. Babamızın kız kardeşi.
3. Annemizin kız kardeşi.
4. Babamızın erkek kardeşi.
5. Annemizin annesi.
6. Annemizin erkek kardeşi.
7. Aynı anne ve babadan olan çocuklar.

**B. Aşağıdaki soruları cevaplayınız.**

1. Aile kimlerden oluşur?

2. Ailemizde işbirliği ve dayanışma olmazsa ne olur?

3. Evimizin yerini bilmemiz bize ne gibi bir kolaylık sağlar?

Haydi Düşünelim

Anneannemizin teyzemiz olmayan kız çocuğu bizim hangi akrabamız olur?

- A) Ablamız B) Annemiz
C) Halamız

C. Aşağıdaki soruları cevaplayınız.

1. Aşağıdakilerden hangisi bir ailede bulunmaması gereken özelliktir?
A) Sevgi B) Saygı C) Kin
2. Aşağıdakilerden hangisi bir akrabamız değildir?
A) Teyze B) Amca C) Dost
3. Aşağıdakilerden hangisi ailede işbirliğine örnektir?
A) Odamızda yüksek sesle müzik dinlemek.
B) Annemiz masayı kurarken ona yardım etmek.
C) Salonda koltuğa uzanarak televizyon izlemek.

D. Aşağıdaki soruları görsele göre cevaplayınız.



1. Emre'nin sağında ...**kütüphane**... vardır.
2. Okulun yanında vardır.
3. Hastanenin karşısında ve vardır.
4. Kütüphane ile müzenin arasında vardır.
Yukarıdaki cümlede boş bırakılan yere aşağıdakilerden hangisi getirilmelidir?
A) fırın B) eczane C) sinema
5. Emre'nin solunda aşağıdakilerden hangisi vardır?
A) Okul B) Kütüphane C) Büfe
6. Hastanenin yanında aşağıdakilerden hangisi vardır?
A) Postane B) Müze
C) Eczane

E. Aşağıdaki soruları cevaplayınız.

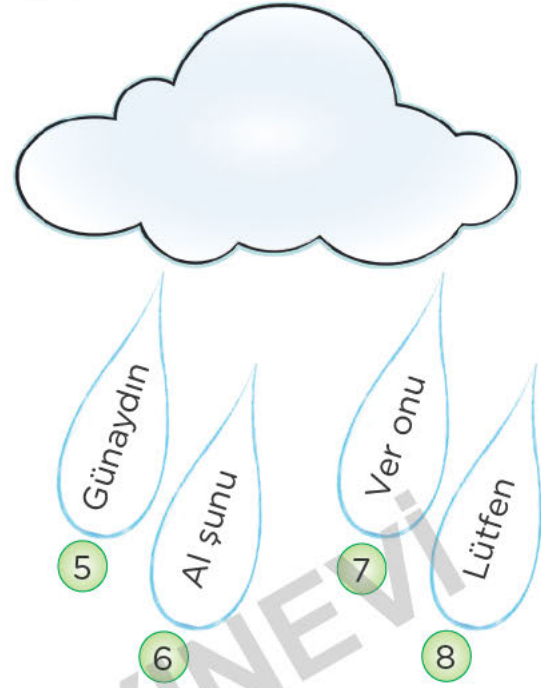

Fatma:

Biz; annem, babam, ve kardeşim Elif ile güzel bir köyde yaşamaktayız. Babamın üç tane kız kardeşi, bir tane erkek kardeşi vardır. Annemin ise sadece iki tane erkek kardeşi vardır.

1, 2 ve 3. soruları yukarıdaki metne göre cevaplayınız.

1. Fatma'nın kaç tane dayısı vardır?
A) 1 B) 2 C) 3
2. Fatma'nın kaç tane amcası vardır?
A) 1 B) 2 C) 3
3. Fatma'nın yoktur." cümlesinde noktalı yere aşağıdakilerden hangisi yazılmalıdır?
A) amcası B) teyzesi
C) halası
4. Bir ailede aşağıdaki özelliklerden hangisi olmalıdır?
A) Şefkat B) Bencillik
C) Kıskançlık
5. Bir yerde kaybolduğumuzda anne-babamızın telefon numarasını aşağıdaki kişilerden hangisine söylemeliyiz?
A) Tanımadığımız kişilere
B) Yaşlı bir amcaya
C) Güvenlik görevlisine

A. Aşağıdaki yağmur damlaları üzerinde yer alan ifadelerden nezaket kurallarına uygun olmayanları kırmızıya boyayınız.



B. Aşağıdaki soruları cevaplayınız.

1. Aile içinde duygu, düşünce ve isteklerimizi dile getirirken hangi ifadeleri kullanmalıyız?

2. Kaynaklarımızın bitmemesi için neler yapabiliriz?

3. Planlı yaşamının faydalarını yazınız.

Haydi Düşünelim

Kitap → Defter Kalem → ?

Yukarıda verilenlere göre soru işareti olan yere aşağıdakilerden hangisi yazılabilir?

A) Silgi B) Ekmek C) Süt

C. Aşağıdaki soruları cevaplayınız.

1. Aşağıdaki ifadelerden hangisi doğrudur?

- A) Git buradan.
- B) Gözüme görünme.
- C) Anneciğim şeker alabilir miyim?

2. Aşağıdakilerden hangisi bir ihtiyaçtır?

- A) Uzaktan kumandalı araba
- B) Defter ve çanta
- C) Şarkı söyleyen oyuncak bebek

3. Aşağıdaki davranışlardan hangisi yanlıştır?

- A) Odadan çıkarken ışığı kapatmak.
- B) Dişleri fırçalarken musluğu kapatmak.
- C) Banyo yaparken çok şampuan kullanmak.

D. Aşağıda gün içerisinde yaptığımız faaliyetler verilmiştir. Bu faaliyetleri gerçekleşme sırasına göre numaralandırınız.

A	Sabah uyanırım.
B	Akşam yemeği yerim.
C	Okulda ders dinlerim.
D	Okuldan dönünce dinlenirim
E	Akşam yatağıma giderim

E. Aşağıdaki bulutlar içinde yazanlardan ih ihtiyaç olanları maviye, istek olanları kırmızıya boyayınız.

1 Yumurta	2 Süt	3 Sinema
4 Kazak	5 Şeker	6 Oyuncak bebek
7 Ekmek	8 Kaykay	9 Silgi
10 Meyve suyu	11 Balık	12 Bot

F. Aşağıdaki soruları cevaplayınız.

- Aşağıdaki ifadelerin hangisi nezaket ifadesi değildir?
A) Sana ne!
B) İyi günler!
C) Kolay gelsin!
- Aşağıdaki kaynaklardan hangisini kişisel temizlik için kullanmayız?
A) Sabun B) Su C) Silgi
- Elektrik ve suyu tasarruflu kullanmamızın fayda arı arasında aşağıdakilerde hangisi yoktur?
A) Aile bütçemize fayda sağlar.
B) Sular daha çabuk kirlenir.
C) Ülke ekonomisi güçlenir.
- Bir öğrenci gün içerisinde aşağıdakilerden hangisine en az zaman ayırmalıdır?
A) Bilgisayar oynamaya
B) Ders çalışmaya
C) Dinlenmeye
- Aşağıdakilerden hangisi planlı yaşamamanın sonuçlarından biri değildir?
A) Başarılı oluruz.
B) İşlerimiz hemen biter.
C) Çok fazla yoruluruz.

EVDE TASARRUF

Sıcak boşa gitmesin
Evimiz soğumasın.
Yakıtımız bitmesin
Fazla israf olmasın.

Ütü ve makinalar
Boşuna çalışmasın.
Dolaplar ve fırınlar,
Ocak açık kalmasın.

En kötü israf inan,
Buna kimse aldırılmaz.
Boşa harcanan zaman,
Söylesen de inanmaz.

Kasım KAPLAN

G. Aşağıdaki soruları cevaplayınız.

1. Şiire göre tasarruf için neler yapmalıyız?
2. Evlerinde sabahtan akşama kadar televizyon açık duran bir aile ne gibi sorunlar ile karşılaşır?
3. Şiire göre en kötü israf nedir?
A) Televizyonun açık kalması
B) Boşa harcanan zaman
C) Işıkların açık kalması
4. Aşağıdaki çocuklardan hangisi tasarruflu davranıyor?

A)



B)



C)

**PLANLI HAYAT**

Kaan ile Tarkan ikizdi. Kaan, planlı yaşamayı sever kendisine yapmış olduğu plana göre hareket ederdi. Böylelikle tüm işlerini kolaylıkla bitirirdi. Dinlenmeye ve oyun oynamaya da gerektiği kadar zaman ayırırdı. Planlı olduğu için başarılı oluyordu. Tarkan ise plan yapmayı sevmez, canı ne isterse ona göre hareket ederdi. Vaktinin çoğunu oyuna ayırır, planlı olmadığı için bunu fark bile etmezdi. Son zamanlarda okul başarısı iyice düşmüştü. Çünkü Tarkan, kendisini oyuna fazla kaptırılmış, ders çalışmaya nerdeyse hiç vakit ayıramaz olmuştu. Ailesi ve öğretmeni Tarkan'ı uyardı. Tarkan hatasının farkına varıp, Kaan gibi planlı olacağına söz verdi.

H. Aşağıdaki soruları cevaplayınız.

1. Planlı olan öğrencinin adı nedir?
A) Tarkan B) Hakan C) Kaan
2. Tarkan planlı olmadığı için ne gibi sorunlarla karşılaşıyordu?
A) Ders çalışmaya vakit bulamıyordu.
B) Okulda çok başarılıydı.
C) Kitap okumaya fazla zaman ayırıyordu.
3. Kaan'ın tüm etkinliklere yeteri kadar zaman ayırabilmesinin ve başarılı olmasının sebebi nedir?

A. Aşağıdaki çocuklardan hangileri kişisel temizlik yapmaktadır? İşaretleyiniz.



B. Aşağıdaki soruları cevaplayınız.

1. Kişisel bakımımız için neler yaparız?

2. Sağlığımızı korumak için nelere dikkat etmeliyiz?

3. Dengeli beslenmek ne demektir?

Haydi Düşünelim

Nar → Üzüm

Lahana → ?

Yukarıda verilenlere göre soru işareti olan yere hangisi yazılmalıdır?

A) Erik B) İncir C) Kabak

C. Aşağıdaki soruları cevaplayınız.

1. Dişleri çok ağrıyan biri aşağıdakilerden hangisini yapmalıdır?

- A) Dişine ilaç sürmelidir.
B) Babasının ilacını içmelidir.
C) Diş hekimine gitmelidir.


2. Aşağıdaki davranışlardan hangisi yanlıştır?

- A) Sürekli aynı tür besinler tüketmek.
B) Günde üç öğün yemek yemek.
C) Sokakta satılan gıdaları tüketmemek.

3. Aşağıdakilerden hangisi kışın giyebileceğimiz bir kıyafettir?

- A) B) C)

D. Aşağıdaki balonlarda yazılı besinlerden hayvansal olanları maviye, bitkisel olanları kırmızıya boyayınız.



E. Aşağıdaki ifadelerden doğru olanları işaretleyiniz.

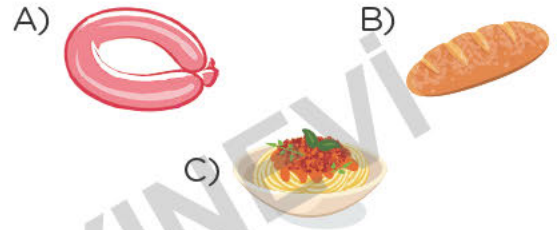
1-	✓	Mevsime göre giyinmek hastalanmamızı engeller.
2-		Meyve ve sebze i yemeden önce yıkamalıyız.
3-		Başkalarına ait ilaçlar kullanılabilir.
4-		Yemek ayırt etmek olumsuz sonuçlara yol açabilir.
5-		Gün içerisinde öğünler atlanmalıdır.
6-		Açıkta satılan yiyecekler sağlıksız olabilir.
7-		Gazlı içecekler vücudumuza faydalıdır.
8-		Dengeli beslenmek sağlığımız için gereklidir.
9-		Spor yapmak vücudumuzun sağlıklı olmasını sağlar.
10-		Temizlik yapılırken kaynaklar tasarruflu kullanılmalıdır.

F. Aşağıdaki soruları cevaplayınız.

1. Aşağıdaki eşyalardan hangisi kişisel temizlik için kullanılmaz?

- A) Tırnak makası B) Diş fırçası
C) Kalem

2. Aşağıdakilerden hangisi bitkisel bir besin değildir?



3. Aşağıdaki yiyeceklerden hangisi kahvaltıda tüketilmez?



4. Aşağıdaki yiyeceklerden hangisi sağlıklı değildir?

- A) Cips B) Yoğurt C) Bal

5. Aşağıdakilerden hangisi her gün yapılan bir kişisel temizlik değildir?

- A) Diş fırçalamak
B) El-yüz yıkamak
C) Saçlarımızı kestirmek

A. Aşağıdaki cümleleri uygun ifadelerle eşleştirerek tamamlayınız.

1 Yemeğe başlamadan önce

A yemeliyiz.

2 Yemeğimizi oturarak ve yavaş

B ellerimizi yıkamalıyız.

3 Ağızımızda lokma

C havlu veya peçete kullanmalıyız.

4 Yemeği hazırlayan kişiye

D varken konuşmama-
lıyız.

5 Yemek sırasında kağıt

E teşekkür e meliyiz.

B. Aşağıdaki soruları cevaplayınız.

1. Kahvaltıda, öğle yemeğinde ve akşam yemeğinde neler y m liyiz? Örnek veriniz

2. Kendi yiyeceğimizi hazırlarken nelere dikkat etmeliyiz?

Haydi Düşünelim

Yemek yiyen bir kişiye aşağıdaki ifadelerden hangisi söylenmelidir?

- A) Az yesene B) Afiyet olsun
C) Bana da bırak

C. Aşağıdaki soruları cevaplayınız.




1. Kendimize yemek hazırlarken aşağıdakilerden hangisini yapabiliriz?

- A) Meyve ve sebzeleri yıkayabiliriz.
B) Tencerede yemeği pişirebiliriz.
C) Fırında pasta yapabiliriz.

2. Aşağıdaki davranışlardan hangisi doğrudur?

- A) Tabağımızı ağızına kadar doldurmak
B) Yemekten sonra ellerimizi yıkamak
C) Yemek yerken şarkı söylemek

3. Aşağıdaki aletlerin hangisini bir çocuğun kullanması sakıncalıdır?

- A)  B)  C) 

D. Aşağıda meyveli yoğurdun hazırlanma aşamaları verilmiştir. Bu aşamaları sıralayınız.

A) Tabağa yoğurdu koydum.

B) Meyveyi aldım ve iyice yıkadım.

C) Meyve ve yoğurdu iyice karıştırıp yedim.

D) Ellerimi güzelce yıkadım.




E) Meyve parçalarını yoğurdun içine attım.

F) Meyveyi elimle parçalara ayırdım.

E. Aşağıdaki cümlelerden doğru olanların sonuna “gülen yüz (😊)” yanlış olanların sonuna ise “üzgün yüz (😞)” yapınız.

1-	Saatlerce bilgisayar oynatabiliriz.	😞
2-	Uzun süre tablet oynamak sağlığımızı olumsuz etkiler.	
3-	Çok yakından televizyon izlemek göz sağlığımızı bozar.	
4-	Yüksek sesle müzik dinlemek kulağımıza bir etki yapmaz.	
5-	Bilgisayar oyunlarını çok oynamak okul başarımızı düşürür.	
6-	Çok uzun süre telefon ile konuşmak beynimize zarar verir.	
7-	Kitle iletişim araçları gerektiği kadar kullanılmalıdır.	
8-	Kulaklıkla müzik dinleyerek uyumak sağlığımıza zarar vermez.	

F. Aşağıdaki soruları cevaplayınız.

- Aşağıdaki davranışlardan hangisi yanlıştır?
 - Okuldan gelince hemen bilgisayarın başına otururum.
 - Cep telefonu ile çok uzun konuşmam.
 - Tablette çok fazla oyun oynamam.
- Aşağıdaki davranışlardan hangisi yanlıştır?
 - Yemek masasına hep en son gelmek.
 - Kendi önümüzden yemek.
 - Ağzımızda lokma varken konuşmamak.
- Bir öğrenci aşağıdaki yemeklerden hangisini hazırlayamaz?
 - Meyveli yoğurt
 - Soğuk sandviç
 - Patates kızartması
- Yemekleri hazırlayan kişiye aşağıdaki ifadelerden hangisi söylenmelidir?
 - Ellerinize sağlık
 - İyi dersler
 - Merhaba
- Aşağıdakilerden hangisi bir çocuğun yemek hazırlarken kullanabileceği bir araçtır?
 - 
 - 
 - 

A. Aşağıdaki davranışlardan olumlu olanların başına (✓), olumsuz olanların başına (X) işareti koyunuz.

1-	✓	Okuldaki merdivenlerden yavaşca inip çıkarım.	7-	Sınıfta ip atlayarak eğlenirim.
2-		Islak zeminlerde koşmayı çok severim.	8-	Açıkta bulunan elektrik prizlerine dokunmam.
3-		Sınıf dolabının camlı bölümüne dikkat ederim.	9-	Lavaboda muslukların her zaman açık olmasına özen gösteririm.
4-		Okul penceresinden aşağıya sarkarım.	10-	Temizlik malzemelerinin tehlikeli olduğunu bilirim.
5-		Tanımadığım kimselerin isteklerini yaparım.	11-	Gaz kaçağı va sa hemen bir büyüğüme söylerim.
6-		Evimizdeki balkonlardan aşağıya sarkarım.	12-	Tanımadığım kişilerin verdiği yiyecekleri yemem.

B. Aşağıdaki soruları cevaplayınız

1. Günlük yaşantımda uymamız gereken güvenlik kurallarını yazınız.

2. Trafikte uymamız gereken kuralları yazınız.

Haydi Düşünelim

Işıklı trafik cihazında hangi renk yoktur?

- A) Sarı B) Mavi C) Kırmızı

C. Aşağıdaki soruları cevaplayınız.

1. Yolda yürürken yaya kaldırımının hangi tarafından yürümeliyiz?

- A) Sol B) Orta C) Sağ

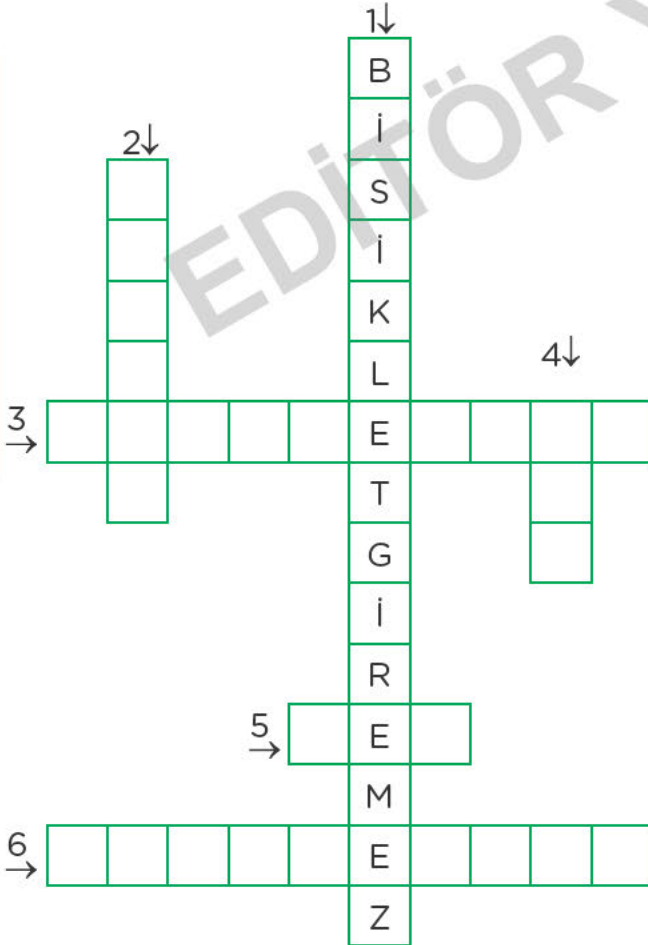

2. Aşağıdaki davranışlardan hangisi yanlıştır?

- A) Ulaşamadığımız yerlerdeki eşyaları zıplayarak almamız.
 B) Elektrik kabloları ve prizlerle oynamamamız.
 C) Asansör hareket hâlindeyken kapı tarafında durmamamız.

3. Gaz kaçağı durumlarında kaç numaralı telefon aranmalıdır?

- A) 1-7-8 B) 1-8-7 C) 1-2-3

D. Aşağıda verilen trafik levhalarının isimlerini bulmacadaki yerlere yazınız.



E. Aşağıdaki soruları cevaplayınız.

1. □ → Üst geçitler

△ → Alt geçitler

○ → Yaya geçitleri

Karşıdan karşıya geçerken yukarıdakilerden hangilerini kullanmalıyız?

A) □ - △ B) ○ - △ C) □ - △ - ○

2. Bir evde gaz kaçağı varsa ilk önce aşağıdakilerden hangisi yapılmalıdır?

A) Pence eler açılmalıdır.

B) Ç kmakla ateş yakılmalıdır.

C) Tüpçü çağrılmalıdır.

3. Gece yol kenarında yürüyen bir kişi neye dikkat etmelidir?

A) Yağmurda ıslanmamaya

B) Arabaların kendisini fark edecek elbiseler giymeye

C) Hızlı hızlı yürümeye

4. Bir çocuk tanımadığı bir kişinin "Çikolata ister misin?" sorusuna ne cevap vermelidir?

A) Tamam yerim.

B) Hayır, istemiyorum.

C) Çok sevinirim.

TRAFİK IŞIKLARI

Yeşil ışık yanar yanmaz,
Trafığe yol açılır.
Araçların homurtusu
Etrafa saçılır.


Biraz sonra sarı ışık
Güzelce yanmaya başlar.
Bunu gören şoför kardeş
Fren yapıp yavaşlar.

Derken hemen arkasından
Kırmızı ışık savrulur.
Bu ışığı gören herkes
Adım atmaz hemen durur.

Hasan ŞEŞEN

F. Aşağıdaki soruları cevaplayınız.


1. Aşağıda verilen trafik ışıklarının anlamlarını noktalı yerlere yazınız.



2. Yayalar için yanan trafik lambası kaç renklidir

3. Aşağıdakilerden hangisi güvenli geçiş yerlerinden biri değildir?

- A) Alt geçit B) Yaya geçidi
C) Duran aracın arkası

4.  Yandaki levhanın anlamı aşağıdakilerden hangisidir?

- A) Bisiklet yolu
B) Bisiklet giremez
C) Bisiklet girebilir

DİKKATLİ OLALIM!

Kardeşim Tansu ile bilgisayarda oyun oynuyorduk. Ben su içmeye gittiğimde Tansu yanlışlıkla güvenli olmayan bir siteye girmiş. Geldiğimde tanımadığım bir kişi ona adını, soyadını ve ev adresimizi soruyordu. Ben hemen o siteden çıkarak kardeşim Tansu'ya bir daha böyle rastgele sitelere girmemesini söyledim. Zaten Tansu da biraz korkmuştu. Bu konuda dikkatli olalım. Tanımadığımız kişilere nerede olursa olsun özel bilgilerimizi veremeyelim.

G. Aşağıdaki soru arı cevaplayınız.

1. Özel bilgilerim zi kimlerle paylaşmamalıyız?

- A) Arkadaşlarımızla
B) Tanımadığımız kişilerle
C) Akrabalarımızla

2. Aşağıda verilen davranışlardan hangisi doğrudur?

- A) İnternet ortamında tanımadığım kişilerle konuşmam.
B) Tanımadığım biri de olsa ev adresimi söylerim.
C) Tanımadığım biri bana çikolata verdiğinde kabul ederim.

3. Tanımadığımız kişiler tekliflerinde ısrarcı davranırlarsa ne yapmalıyız?

A. Aşağıdaki durumlarda hangi numaralar aranmalıdır? Altlarına yazınız.

1

Evimizin karşısında bulunan lokantada yangın çıktığında aranmalıdır.

2

Parkta oyun oynarken bir arkadaşımız bayıldığına aranmalıdır.

3

Evimizin önünde çok büyük bir kavga çıktığında aranmalıdır.

4

Ormanlık alanda dummanların yükselmeye başladığını gördüğümüzde aranmalıdır.

B. Aşağıdaki soruları cevaplayınız.

1. Acil durumlar karşısında ne yapmalıyız?

2. Acil durum numaralarını bilmemiz neden önemlidir?

3. Güvenli oyun alanlarına örnekler veriniz?

Haydi Düşünelim

Ütü → Buzdolabı

Fırın → ?

Yukarıda verilenlere göre soru işareti olan yere hangisi yazılamaz?

- A) Çamaşır makinası B) Makas
C) Saç kurutma makinası

C. Aşağıdaki soruları cevaplayınız.

1. Aşağıdakilerden hangisi acil durumlarda aranabilecek bir numara değildir?

- A) 1-5-5 B) 1-2-2 C) 1-1-2

2. Aşağıdaki yerlerden hangisi güvenli bir oyun alanıdır?

- A) Piknik alanı
B) Karanlık depolar
C) Bodrum katlar

3. Aşağıdakilerden hangisi bir yangın sırasında aranabilecek numaralardan biri değildir?

- A) 1-1-0 B) 1-7-7 C) 1-3-4




D. Güvenli oyun alanlarının yazıldığı bulutları maviye, güvenli olmayan oyun alanlarının yazıldığı bulutları ise kırmızıya boyayınız.

1	Park	2	Asansör boşluğu
3	Balkon	4	Evimizin salonu
5	Odamız	6	İnşaat alanı
7	Su kanalı	8	Okul bahçesi
9	Süs havuzları	10	Terk edilmiş evler

E. Aşağıdaki davranışlardan tehlikeli olanları işaretleyiniz.

1-	Küçük bir çocuğun saç kurutma makinesiyle saçını kurutması	✓
2-	Bilgisayarın yanında meyve-suyu ve yiyeceklerin bulunması	
3-	Yeterli mesafeden televizyon izlenmesi	
4-	Açıkta bulunan kabloların ısınması	
5-	Cep telefonunun sürekli şarjda bırakılması	
6-	Televizyonu kapatırken prizden fişinin de çekilmesi	

F. Aşağıdaki soruları cevaplayınız.

- Evimize hırsız girdiğini anladığımızda aşağıdaki numaralardan hangisini aramalıyız?
A) 1-5-5 B) 1-7-7 C) 1-1-0
- Aşağıdaki aletlerin hangisi elektrikle çalışmaz?
A)  B) 
C) 
- Aşağıdaki alanlardan hangisi güvenlidir?
A) Çukur B) Su birikintileri
C) Evimizin bahçesi
- Yolculuk yaparken iki aracın çarpıştığını gördüğümüzde hemen aramamız gereken numara aşağıdakilerden hangisidir?
A) 1-8-7 B) 1-1-2 C) 1-1-0
- Efe 1-7-7 numaralı telefonu aramıştır. Efe bu numarayı neden aramış olabilir?
A) Yolda yürüyen bir kadının çantasını alıp kaçanları görmüştür.
B) Piknik alanının yanındaki ormandan dumanların çıktığını görmüştür.
C) Yaşlı dedesinin aniden fenalaştığını görmüştür.

ACİL NUMARALAR

Acil hasta olursa,
Yüz on ikiyi ara.
Unutma yüz on iki,
En önemli numara.

Güvenlikse eğer sorun,
Hemen bir polis bulun.
Yüz elli beş numarası
Çok kolaydır araması.

Yangın çıkarsa eğer,
Hemen ara yüz onu
Biraz acele et ki,
Kötü olmasın sonu.

Sinan TAŞ

G. Aşağıda verilen acil durum numaralarını örnekteki gibi eşleştiriniz.

1	1 - 1 - 0	Polis md t	A
2	1 - 1 - 2	Orman yangını	B
3	1 - 5 - 5	İtfaiye	C
4	1 - 5 - 6	Doğal gaz acil	D
5	1 - 7 - 7	Ambulans	E
6	1 - 8 - 7	Jandarma imdat	F

AMAN DİKKAT!

Rıdvan çok hareketli bir çocuktur. Teneffüste merdivenlerin tutunma yerlerinden kaymaya bayılırdı. Öğretmenlerinin ve arkadaşlarının uyarılarına rağmen Rıdvan bu davranışını devam ettiriyordu. "Aman ne olacak? Ne güzel eğleniyorum işte." derdi. Yine böyle bir günde Rıdvan merdivenden kayarken hızını alamayıp kolunun üstüne düştü. Acı içinde yerde kıvranıyordu. Okulumuzda bulunan sağlık görevlisi "Rıdvan'ı hastaneye götürmeliyiz, kolu kırılmış olabilir." dedi. Gerçekten de Rıdvan'ın kolu kırılmıştı. Bu durum Rıdvan'a acı bir ders o muştı

H. Aşağıdaki soruları cevaplayınız.


- Rıdvan'ın yaptığı yanlış hareket nedir?
- Büyüklerini ve arkadaşlarını dinlemeyen Rıdvan ne yaşamıştır?
- Aşağıdaki tekliflerden hangisini kabul etmemeliyiz?
 - Annenden izin alıp parkta oynayalım.
 - Şu kanalda yüzelim.
 - Birlikte ders çalışalım mı?


Bilmece


Ülkenin güvenini sağlar.
Hırsızları yakalar.


Cevap: (Polis)


A. Aşağıdaki kişilerin köyde mi şehirde mi yaşadıklarını altlarına örnekteki gibi yazınız.


1  Kardeşimle birlikte dereye balık tutmaktan çok hoşlanırım.
Murat
..... Köy

2  Tarlamıza ektiğimiz ürünleri satarak para kazanırız.
Bayram
.....

3  Annemle alışveriş merkezine gidip vitrinlerdeki elbiselere bakmayı severim.
Merve
.....

4  Evimizin yanındaki parkta arkadaşlarımla oyunlar oynar güzel vakit geçiririm.
Yeliz
.....

5  Babam her gün işe metro ile gitmektedir.
Serkan
.....

6  Kümesten aldığım taze yumurtaları yiyerek sağlıklı besleniyorum.
Fatma
.....

B. Aşağıdaki soruları cevaplayınız.

1. Köylerde ve şehirlerde bulunan üç özellik yazınız.

.....

2. Doğal güzelliklerimize 3 tane örnek veriniz.

.....

3. Tarihi eserlerimize 3 tane örnek veriniz.

.....

Haydi Düşünelim

Aşağıdaki tarihi eserlerden hangisi İstanbul'da değildir?

- A) Selimiye Camii
- B) Galata Kulesi
- C) Topkapı Sarayı

C. Aşağıdaki soruları cevaplayınız.

1. Bir köyde aşağıdakilerden hangisi olmaz?

- A) Cami
- B) Okul
- C) Müze

2. Aşağıdakilerden hangisi doğal güzelliklerimizden değildir?

- A) Uzungöl
- B) Ayder Yaylası
- C) Kız Kulesi

3. Aşağıdaki eserlerden hangisi ülkemizde değildir?

- A) Çin Seddi
- B) Efes Antik Kenti
- C) Aspendos Tiyatrosu

D. Aşağıdaki tarihi ve turistik yerlerin adları ile buldukları illeri örnekteki gibi yazınız.



Ishak Paşa Sarayı

Ağrı



E. Aşağıdaki soruları cevaplayınız.

- Bir şehirde aşağıdakilerin hangisi bulunmaz?
A) Kovan B) Apartman C) Ev
- Aşağıdaki eşleştirmelerden hangisi yanlıştır?
A) Sultan Ahmet Camii → İstanbul
B) Ölüdeniz → Muğla
C) Pamukkale → Aydın
- Aşağıdakilerden hangisi köyde y şamaktadır?
A) Sabah koyun sürülerinin içinden geçerek okula gittim.
B) Çok sıkışık bir trafikte yolculuk yaptık.
C) Evimizin yanına büyük bir alışveriş merkezi yapıyorlar.
- Aşağıdakilerden hangisi doğal güzelliklerimizdendir?
A) Alanya Kalesi
B) Abant Yedigöller
C) Süleymaniye Camii
- Bir köyde aşağıdakilerden hangisi olmaz?
A) Taze meyve B) Yeşil alan
C) Kirli hava

TÜRKİYE

Türkiye'mde insanlar,
Dört mevsimi yaşarlar.
Gelmeyenler bilemez.
Ne ararsan bizde var.

Yeraltı bir define,
Güç yetmez kıymetine.
Hatta paha biçilmez,
Her yeri bir hazine...

Kasım KAPLAN

F. Aşağıda verilen cümleleri uygun kelimelerle tamamlayınız.



1. Ülkemizin adı **Türkiye**
..... **Cumhuriyeti** 'dir.
2. Doğal ve tarihi yerlere
verenleri uyarmalıyız.
3. Ülkemiz, ve
güzellikler bakımından zengindir.
4. Başkentimiz 'dır.
5. Yaşadığımız yerdeki doğal ve tarihi yerleri
6. Ankara'da Gölü vardır.

Merhaba, ben Mehmet Ali. Ben Antalya'yım. Antalya ülkemizin turistik bir şehridir. Aspendos Tiyatrosu, Yivli Minaresi, Alanya Kalesi gibi tarihi eserleri vardır. Düden, Kurşunlu ve Manavgat şelaleleri, Damlataş ve Karain mağaraları gibi doğal güzellikleri vardır.



G. Aşağıdaki soruları cevaplayınız.

1. Antalya'nın tarihi eserlerini yazınız.
.....
.....
2. Antalya'nın doğal güzelliklerini yazınız.
.....
.....
3. Yaşadığınız yerin doğal güzelliklerini yazınız.
.....
.....
4. Aşağıdaki ifadelerden hangisi yanlıştır?
A) Ülkemizde doğal ve tarihi güzellikler vardır.
B) Edirne Selimiye Camii tarihi bir yerdir.
C) Yaşadığımız yerdeki turistik yerleri korumalıyız.

A. Aşağıdaki sözcük avı bulmacasını çözünüz.

D	İ	K	D	Ö	R	T	G	E	N
A	B	C	D	E	F	B	G	H	I
A	J	G	Ö	Ç	K	E	L	M	K
Y	A	N	O	P	R	Y	N	V	Ü
Y	N	T	K	Z	H	A	B	İ	L
İ	K	H	C	E	A	Z	Y	R	T
L	A	K	İ	R	M	İ	Z	İ	Ü
D	R	A	Y	J	C	D	M	A	R
İ	A	Y	B	A	Y	R	A	K	F
Z	N	K	L	P	R	S	V	Y	Z
K	M	İ	S	A	F	İ	R	H	J

DİKDÖRTGEN

AY

YILDIZ

KIRMIZI

BEYAZ

ANKARA

BAYRAK

GÖÇ

KÜLTÜR

MİSAFİR

B. Aşağıdaki soruları cevaplayınız.

1. Atatürk'ün anne ve babasının adı nedir?

2. İnsanlar neden göç ederler?

3. Atatürk kaç yılında öldü?

Haydi Düşünelim

Bayrağımızın üstünde aşağıdaki sembollerden hangisi yoktur?

A)



B)



C)



C. Aşağıdaki soruları cevaplayınız.

1. Bayrağımızın rengi aşağıdakilerden hangisidir?

A) Mavi- Beyaz

B) Siyah- Yeşil

C) Kırmızı- Beyaz

2. Ülkemizin başkenti aşağıdakilerden hangisidir?

A) Konya B) Ankara C) İzmir

3. Atatürk'ün doğduğu şehir aşağıdakilerden hangisidir?

A) Selanik B) İstanbul C) Sofya

D. Aşağıdaki bulmacayı çözünüz.

1. Atatürk'ün doğduğu şehir.
2. Atatürk'ün annesinin adı. (..... Hanım)
3. Ülkemizin adı. (..... Cumhuriyeti)
4. İstiklal Marşı'mızın şairi. (Mehmet Akif
5. Atatürk'ün babasının adı. (..... Bey)
6. Atatürk'ün öldüğü yer. (..... Sarayı)
7. Atatürk'ün öldüğü şehir.
8. Atatürk'ün anıt mezarının bulunduğu şehir.
9. Atatürk'ün anıt mezarı.

1-	S	E	L	A	N	İ	K			
2-										
3-										
4-										
5-										
6-										
7-										
8-										
9-										

Ne mutlu Türk'üm diyene.

Mustafa Kemal ATATÜRK

E. Aşağıdaki soruları cevaplayınız.

1. Aşağıdaki davranışlardan hangisi yanlıştır?
 - A) Şehrimize göç eden bir kişiye yardım etmeliyiz.
 - B) Sınıfımıza yeni gelen yabancı bir öğrenciyle konuşmamalıyız.
 - C) Zorunlu sebeplerle göç eden kişilerin ihtiyaçlarını gidermeliyiz.
2. Aşağıdakilerden hangisi ülkemizin bayrağıdır?
 - A) 
 - B) 
 - C) 
3. Başka ülkelerden ülkemize göç eden insanlar bize ne kazandırır?
 - A) Kültürel zenginliğimiz artar.
 - B) Ülkemizin nüfusu azalır.
 - C) Dilimizin gelişmesi yavaşlar.
4. Bayrağımızın şekli aşağıdakilerden hangisidir?
 - A) Üçgen
 - B) Daire
 - C) Dikdörtgen
5. Atatürk kaç yılında doğmuştur?
 - A) 1881
 - B) 1915
 - C) 1919

ATATÜRK'Ü ANIŞ

Düşmanların elinden,
Bizi kurtaran sensin.
Bu vatani yeniden,
Özenle kuran sensin.

Adını küçük, büyük,
Anıyoruz her zaman.
Adı büyük Atatürk
Anlı, şanlı kahraman.

Mehmet Necati ÖNGAY

F. Aşağıdaki soruları cevaplayınız.

1. Düşmanların elinden bizi kurtaran kimdir?

2. Atatürk'ün doğum tarihini ve doğduğu yeri yazınız.

3. Atatürk nerede ölmüştür?

4. Atatürk Haftası'nın tarihi aşağıdakilerden hangisidir?

A) 10 -16 Aralık B) 10-16 Kasım
C) 10-16 Ocak

5. Atatürk'ün kardeşinin adı nedir?

A) Makbule Hanım
B) Latife Hanım
C) Zübeyde Hanım

Türk, Öğün, Çalış, Güven

Mustafa Kemal ATATÜRK

EŞSİZ BAYRAĞIM

Göklere yüksel
Eşsiz bayrağım.
Bulutları del,
Eşsiz bayrağım;

Vatanın canı,
Milletin şanı,
Türk'ün imânı,
Eşsiz bayrağım;

Ay yıldız sönmez,
Al renk tükenmez,
Yükselir inmez,
Eşsiz bayrağım.

Ali Osman ATAK

G. Aşağıdaki soruları cevaplayınız.

1. "Gök erde yüksel"

..... bayrağım.

Yukarıda verilen mısralarda boş bırakılan yere aşağıdakilerden hangisi yazılmalıdır?

A) Biricik B) Tek C) Eşsiz

2. Okulda hangi günlerde bayrak töreni yaparız?

A) Pazartesi - Salı
B) Çarşamba - Cuma
C) Pazartesi - Cuma

- 3.



Bayrağımızı renklerine boyamak isteyen Feride aşağıdaki renklerden hangisini kullanmaz?

A) Mavi B) Kırmızı C) Beyaz

A. Aşağıda verilen ifadelerden doğru olanlara “✓”, yanlış olanlara ise “X” işareti koyunuz.

1-	Ramazan Bayramı dini bayramlarımızdandır.	✓
2-	Kurban Bayramı'nda her yere bayraklar asılır.	
3-	15 Temmuz Demokrasi ve Milli Birlik Günü'dür.	
4-	Dini bayramlarda büyüklerin ellerinden öpülür.	
5-	Milli bayramlarda şiirler okunur.	
6-	Dini bayramlarda büyükler ziyaret edilir.	
7-	Atatürk'ün çocuklara armağan ettiği gün 30 Ağustos'tur.	
8-	19 Mayıs Atatürk'ü Anma, Gençlik ve Spor Bayramı'dır.	

B. Aşağıdaki soruları cevaplayınız.

1. Bayram kutlamalarında yaşadığımız duyguları yazınız.

2. Dini bayramlarımızı yazınız.

3. Milli bayramlarımızı yazınız.

Haydi Düşünelim

23 Nisan'ı tüm dünya çocuklarına armağan eden lider kimdir?

- A) Mustafa Kemal ATATÜRK
B) İsmet İNÖNÜ
C) Fevzi ÇAKMAK

C. Aşağıdaki soruları cevaplayınız.

Aşağıdakilerden hangisi dini bayramlarımızdan değildir?

- A) Nevruz Bayramı
B) Ramazan Bayramı
C) Kurban Bayramı

2. Aşağıdakilerden hangisi dini bayramlarda yapılmaz?

- A) Büyükleri ziyaret etmek
B) Tören yapmak
C) Tatlı yemek

3. Aşağıdaki tarihlerin hangisinde kutladığımız bir Milli Bayramımız yoktur?

- A) 29 Ekim
B) 19 Mayıs
C) 1 Ocak

DÜNYA ÇOCUK BAYRAMI

Kimin saçı siyah,
Kimin saçı sarı...

Ankara'da buluştu,
Dünya'nın çocukları.

Her Yirmi Üç Nisan'da
Tekrarlanır bu olay
Buluşma nedenini
Açıklamak çok kolay.

Bu kocaman dünyada
Ülke sayısı çoktur.
Oysaki hiç birinin
Çocuk bayramı yoktur.

Altan ÖZYÜREK

D. Aşağıdaki soruları cevaplayınız.

1. Dünya çocuklarının Ankara'da buluşma nedeni nedir?
2. Ulusal Egemenlik ve Çocuk Bayramı hangi tarihte kutlanır?
3. 23 Nisan 1920 tarihinde aşağıdakilerden hangisi gerçekleşmiştir?
 - A) Milli Mücadele başlamıştır.
 - B) Türkiye Büyük Millet Meclisi açılmıştır.
 - C) Cumhuriyet ilân edilmiştir.

Bilmece

Cıvı cıvı neşesi,
Güldürür herkesi.

Evin küçüğü

Anne - babanın biricigi

Cevap: Çocuk

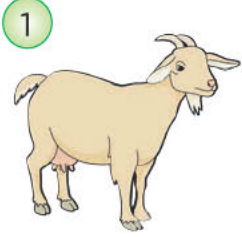
RAMAZAN BAYRAMI

Büyüklerin bir ay oruç tuttuğu Ramazan ayı hızla geçmişti. Bayrama bir gün kalmıştı. Annem evi temizlemiş, gelen misafirler için baklava yapmıştı. Ben de babamla birlikte yeni kıyafetler aldım. Ayrıca kuzenlerime de küçük hediyeler aldık. Onları da mutlu etmek istiyordum. Çünkü, bayram demek mutlu olmak demek. Bayram demek, çocukları sevindirmek demek...

E. Aşağıdaki soruları cevaplayınız.

1. Aşağıdakilerden hangisi dini bayramlarımızdan değildir?
 - A) Zîler Bayramı
 - B) Kurban Bayramı
 - C) Ramazan Bayramı
2. Ramazan Bayramı'nda aşağıdakilerden hangisi yapılmaz?
 - A) Misafirlere tatlı ikram edilir.
 - B) Kurban kesilir.
 - C) Büyükler ziyaret edilir.
3. Aşağıdakilerden hangisi Kurban Bayramı ile ilgili değildir?
 - A) Sınıflara bayrak asarız.
 - B) Kurban keseriz.
 - C) Büyüklerimizin ellerini öperiz.
4. Size göre bayram ne demektir?

A. Aşağıdaki hayvanların nelerle beslendiklerini resimlerin altlarına yazınız.



Ot



B. Aşağıdaki soruları cevaplayınız.

1. Evcil hayvanlara örnek veriniz.

.....

2. Yabani hayvanlar nerede yaşar?

.....

3. Bahçede yetiştirilen çiçek türlerine örnek veriniz.

.....

4. Bahçede yetiştirilen yabancı bitkilere örnek veriniz.

.....

Haydi Düşünelim

Aşağıdaki hayvanlardan hangisi diğerlerinden farklı bir özelliğe sahiptir?

A) Balık

B) Ayı

C) Keçi

C. Aşağıdaki soruları cevaplayınız.

1. Aşağıdaki hayvanlardan hangisi vcil değildir?

A)



B)



C)



2. Aşağıdakilerden hangisinin gölgesinde oturabiliriz?

A) Karahindiba

B) Gül

C) Çam

3. Aşağıdaki hayvanlardan hangisi yüzerek hareket eder?


A)



B)



C)



D. Aşağıda harfleri karışık olarak verilen hayvan ve bitkileri bulup yanlarına yazınız.

1. A B L I K → **BALIK**
2. N Y I A L →
3. L E L A →
4. L E K L E Y →
5. Ö R E K D →
6. E L A M →
7. A V T A Ş N →
8. S A L A N →

E. Aşağıdaki hayvanları barınaklarıyla eşleştiriniz.



F. Aşağıdaki soruları cevaplayınız.

1. Aşağıdaki hayvanlardan hangisinin barınağı ahır değildir?
A) İnek B) Boğa C) Ayı
2. Aşağıdaki hayvanlardan hangisi zıplayarak hareket eder?
A)  B)  C) 
3. Aşağıdaki bitkilerden hangisi sebze değildir?
A)  B)  C) 
4. Aşağıdaki hayvanlardan hangisi evcildir?
A)  B)  C) 
5. Bir bitkinin büyümesi için aşağıdakilerden hangisine gerek yoktur?
A) Su B) Işık C) Bulut
6. Aşağıdaki hayvanlardan hangisi bir sürüngen değildir?
A)  B)  C) 

YARARLI HAYVANAR

Çevremizde dolaşır,
Çeşit çeşit hayvanlar.
Bizlere pek çoğunun
Sayısız yararı var.

Kedi fare yakalar,
Bazen de eğlendirir.
Kuşlar ötüşleriyle,
İç açar, neşe verir.

Sadık köpeklerimiz,
Bekçidir bahçemizde.
Kümes hayvanları çok
Yarar beslenmemize.

Vefa ÇAĞAN

G. Aşağıdaki soruları cevaplayınız.

1. Şiire göre kediyle ilgili aşağıdaki-
lerden hangisi söylenemez?

- A) Fare yakalar.
B) Ötüşleriyle dinlendirir.
C) Bazen de eğlendirir

2. Şiire göre ötüşleriyle iç açıp neşe
veren hayvan hangisidir?



3. Bahçemizde bekçi olan hayvan
hangisidir?

4. Hayvanlara nasıl davranmalıyız?

RENGÂRENK

"Kelebekler ne yer anneciğim?"
"Çiçekleri yerler."
"Aaa, demek onun için böyle ren-
gârenk oluyorlar."

AĞACIM

Mahallemizde
Senden başka ağaç olsaydı
Seni bu kadar sevmezdim.
Fakat eğer sen
Bizimle beraber
Kaydıracak oynamasını bilseydin
Seni daha çok severdim.
Güzel ağacım!
Sen kurduğun zaman
Bizde inşallah
Başka mahalleye taşınmış oluruz.

Orhan Veli KANIK

H. Aşağıdaki soruları cevaplayınız.

1. Şair ağacı ne yapsaydı daha çok
eveceğini söylüyor?

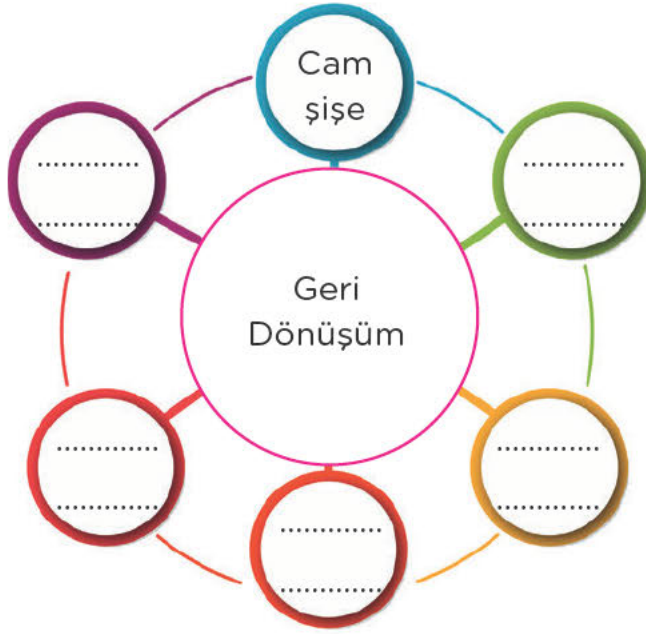
2. Şair ağaç kurduğu zaman ne
yapmak istiyor?

3. Aşağıdaki görsellerden hangisi
canlılara zarar vermektedir?

**ÇİMEN NE İMİŞ?**

Öğretmeni Çetin'e sorar:
"Söyle bakalım Çetin, çimen nedir?"
"Toprağın bıyıklarıdır öğretmenim."

A. Geri dönüşüme atılabilecek maddeleri aşağıdaki boşluklara yazınız ve resmi boyayınız.



B. Aşağıdaki soruları cevaplayınız.

1. Geri dönüşüm nedir?

2. Geri dönüşümün faydaları nelerdir?

Haydi Düşünelim

Kağıt →  Plastik → ?

Yukarıda verilenlere göre soru işareti olan yere aşağıdakilerden hangisi yazılmalıdır?



C. Aşağıdaki soruları cevaplayınız.

1. Aşağıdaki ortamlardan hangisi temiz bir çevredir?

- A) Pis su akan bir dere
B) Kötü kokular gelen bir göl
C) Kuşların cıvıllı cıvıllı öttüğü bir ağaç

2. Aşağıdaki atıklardan hangisi geri dönüştürülemez?

- A) Kağıt B) Tahta C) Cam




3. Geri dönüşüm sembolü aşağıdakilerden hangisidir?

- A)  B)  C) 

D. Aşağıdaki davranışlardan doğru olanların yanına "gülen yüz (😊)" yanlış olanların yanına ise "üzgün yüz (😞)" yapınız.

1. Yazın hayvanlar için diye kapının yanına su bırakmak	😊
2. Yolda gördüğümüz kediyi yakalamak için kovalamak	
3. Parktaki çiçekleri koparıp evimize götürmek	
4. Yaralı bir kuşu veterinerine götürüp tedavi ettirmek	
5. Balkonumuza gelen kuşlara yem verip onları yakalamak	
6. Sokak hayvanlarını kovalamak	
7. Ağaca çıkıp inemeyen kedi için büyüklerimizden yardım istemek	
8. Piknik alanından dönerken çöplerimizi toplamak	
9. Çevreyi kirletenleri nazik bir şekilde uyarmak	

E. Aşağıdaki soruları cevaplayınız.

- Aşağıdaki ifadelerden hangisi doğrudur?
 - O gülü kopar.
 - Çöpünü yerden alma.
 - Ağaçlara zarar vermeyelim.
- Aşağıdakilerden hangisi çevreye zararlı değildir?
 - Lavaboya dökülen a ık yağlar
 - Ağaçlardan üşen yapraklar
 - Yol ken rları na atılan plastik şişel r
- Aşağıdaki atıklardan hangisi geri dönüşüm kutularına atılmaz?
 - 
 - 
 - 
- Aşağıdakilerden hangisi yanlıştır?
 - Meyve suyu ve süt kutuları geri dönüştürülebilir atıklardır.
 - Sadece büyük şehirlerde geri dönüşüm yapılabilir.
 - Geri dönüşüm ülke ekonomisine katkı sağlar.

ARKADAŞ

Banu, bahçedeki köpekten çok korkuyor ve evden çıkmıyordu. Dedesi bu korkuyu yenmesi için Banu'yu alıştırmaya uğraşmış ve Banu'yu köpeğin yanına götürerek "O çok iyi, çok cici bir köpektir. Hiç bir şey yapmaz. Ayrıca benim arkadaşımdır." demişti. Ertesi gün bahçeye çıkmak isteyen Banu, kapıda köpeği görünce, avaz avaz bağırdı:

"Dedel... Arkadaşın gene gelmiş."

F. Aşağıdaki soruları cevaplayınız.

1. Köpek korkusunu yenme için dedesi Banu'ya ne yapmıştır?

2. "Hayvanlar bizim dostumuz arkadaşımızdır." sözü ne ifade eder?

3. Ağaç dikmenin çevremize ne gibi katkıları vardır?

4. Aşağıdaki ifadelerden hangisi doğrudur?

- A) Çöplerimizi istediğimiz yere atabiliriz.
- B) Çevreye zarar veren kişileri nazik bir şekilde uyarmalıyız.
- C) Çevre kirliliğini ne yaparsak yapalım önleyemeyiz.

GERİ DÖNÜŞÜM

Camla plastiği çöp sanmayın sakın

Kâğıtla, metali ayırıp bakın.

Doğayı seven duyarlı kalplerle

Geri dönüşüm tacını takın.

Atığı ayırıp toplarsak eğer,

Geri dönüşümde kazanır değer.

Çevremiz yemyeşil, havamız temiz.

Doğama, bütçeme kazançmış meğer.

Kadir KAYA

G. Aşağıda verilen atıkları ilgili geri dönüşüm kutularıyla eşleştiriniz.



A. Aşağıdaki resmi boyayınız.



B. Aşağıdaki soruları cevaplayınız.

1. Güneş, Dünya ve Ay'ın şekilleri nasıldır?

2. Bir yılda kaç mevsim vardır?

3. En çok sevdiğiniz mevsim hangisidir? Yazınız.

Haydi Düşünelim

Dünya'nın uydusu aşağıdakilerden hangisidir?

A) Ay B) Güneş C) Mars

C. Aşağıdaki soruları cevaplayınız.

1. Kayak yapan birisi hangi mevsimi yaşıyordur?

A) Yaz B) İlkbahar C) Kış

2. Gündüz gökyüzüne baktığımızda hangisini göremeyiz?

A) Güneş B) Yıldız C) Bulut

3. Aşağıdakilerden hangisi yaz mevsimi ile ilgili değildir?

A) Çok sıcak olduğu için denize girilir.

B) Ağaçlar yapraklarını dökerler.

C) Kısa ve ince kıyafet giyilir.

D. Aşağıdaki gök cisimlerini küçükten büyüğe doğru sıralayınız.

(Güneş, Ay, Dünya)

1.
2.
3.

E. Aşağıdaki özelliklerin hangi mevsime ait olduklarını yazınız.

1

Dallarda çiçekler açar,
Minik kuzular kırlarda koşar,
Herkes dışarıya çıkar.

2

Güneş yakar kavurur,
Geceler kısa, gündüzler uzun olur.
Sıcaktan bunalanlar sahilleri doldurur.




3

Havalar başlar soğumaya,
Yapraklar başlar sararmaya,
Göçmen kuşlar gider sıcaklara.

4

Karlar toprağa düşer,
Canlılar soğuktan titrer.
İnsanlar kalın kıyafetler giyer.

F. Aşağıdaki soruları cevaplayınız.

1. Aşağıdaki hayvanlardan hangisi kış uykusuna yatar?
A) İnek B) Ayı C) Kedi
2. Göçmen kuşların yaşadığımız yerlere gelmeye başladıkları mevsim aşağıdakilerden hangisidir?
A) Kış B) Yaz C) İlkbahar
3. Aşağıdaki ifadelerden hangisi yanlıştır?
A) Kışın gündüzler kısa geceler uzundur.
B) Yazın hava çok sıcak olur.
C) İlkbaharda ağaçlar yapraklarını döker.
4. Aşağıdaki kıyafetlerden hangisini kışın kullanmayız?
A)  B) 
C) 
5. Gecelerin kısa, gündüzlerin uzun olduğu mevsim aşağıdakilerden hangisidir?
A) Sonbahar B) Yaz C) Kış
6. Sonbahar mevsiminin diğer adı nedir?
A) Güz B) Yaz C) Kış

EDITÖR YAYINEVİ



İvedik Organize Sanayi Matbaacılar Sitesi
1518 Sok. Mat-Sit İş Merkezi No.:2/20
Yenimahalle / ANKARA
Telefon: 0 312 384 20 33 | WhatsApp: 0 505 925 57 81
Belgegeçer: 0312 342 23 58
www.editoryayinevi.com | bilgi@editoryayinevi.com

ISBN 978-605-280-125-3

