

2. SINIF TÜM DERSLER

ABECE SERİSİ SORU BANKASI

Matematik - Türkçe - Hayat Bilgisi



- © Hem Kazanım Soruları
Hem Beceri Soruları
- © Akıllı Tahta Uyumlu



2. SINIF

TÜM DERSLER SORU BANKASI

EDİTÖR

Turgut MEŞE

YAZAR

Komisyon

Bütün hakları Data Yayınlarına aittir.

Yayıncının izni olmaksızın kitabın tümünün veya bir kısmının elektronik, mekânîk yollarla ya da fotokopi yoluyla basımı, çoğaltılması ve dağıtımı yapılamaz.

ISBN / TARİH

978-625-7753-94-4 / 17-06-21

SERTİFİKA NO

40613

KAĞIT TASARIMI

Data Yayınları Tasarım Ekibi

SAYFA TASARIMI

Data Yayınları Dizgi Ekibi

BASKI VE CİLT

Özgür Web Matbaacılık

ANKARA



İLETİŞİM

İvedik Organize Sanayi Matbaacılar Sitesi

1518 Sok. Mat-Sit İş Merkezi No:2/20

Yenimahalle / ANKARA

Tel: 0 312 384 20 33 - 0 505 925 57 81

Fax: 0312 342 23 58

www.datayayinlari.com

bilgi@datayayinlari.com

Kitap hakkında görüş ve önerileriniz için

WhatsApp hattımız: 05422620337

MATEMATİK

KAÇ TANE	9
ONLUK VE BİRLİKLER	11
DESTE VE DÜZİNE	13
NESNE SAYISINI TAHMİN EDELİM	15
BASAMAK VE SAYI DEĞERİ	17
RİTMİK SAYMA	19
SAYI ÖRÜNTÜSÜ	21
KARŞILAŞTIRALIM, SIRALAYALIM	23
HANGİ ONLUĞA YAKIN	25
ELDESİZ TOPLAMA İŞLEMİ	27
TOPLAMA İŞLEMİ	29
ÇIKARMA İŞLEMİ	31
ÇIKARMA İŞLEMİ	33
ZİHİNDEN ÇIKARMA İŞLEMİ	35
VERİLMİYEN TOPLANANI BULMA	37
VERİLMİYEN TOPLANANI BULMA	39
TOPLAMA İŞLEMİNDE SONUCU TAHMİN EDELİM, ZİHİNDEN TOPLAYALIM	41
ÇIKARMA İŞLEMİNDE SONUCU TAHMİN EDELİM, VERİLMİYEN TERİMİ BULALIM	43
EŞİTLİK İŞARETİ	45
TOPLAMA VE ÇIKARMA PROBLEMLERİ	47
SIVILARI ÖLÇELİM VE KARŞILAŞTIRALIM	49
GEOMETRİK ŞEKİLER VE C SİMLER	51
GEOMETRİK CİSİMLER	53
UZUNLUK İLİŞKİLERİ	55
GEOMETRİK ÖRÜNTÜLER	57
YERİNDEN ÇIKARMA İŞLEMİ YAPALIM	59
ÇARPMA İŞLEMİNİ ÖĞRENELİM	61
ÇARPMA PROBLEMLERİ	63
BÖLME İŞLEMİNİ ÖĞRENELİM	65
BÜTÜN, YARIM VE ÇEYREK	67
SAAT KAÇ?	69
ZAMAN KAVRAMLARI ARASINDAKİ İLİŞKİ	71
PROBLEM ÇÖZELİM	73
PARALARIMIZ	75
PARALARIMIZ İLE İLGİLİ PROBLEMLER ÇÖZELİM	77
TABLO VE GRAFİK	79
UZUNLUK ÖLÇME	81
TARTALIM VE KARŞILAŞTIRALIM	83

TÜRKÇE

OKUMA VE ANLAMA	87
SES VE HARF	89
ALFABETİK SIRALAMA	91
HARF VE ALFABE	93
HECE VE SÖZCÜK	95
SÖZCÜK VE SÖZLÜK ANLAM	97
SÖZCÜKLERİN ÇAĞRIŞIMI	99
ZİT ANLAM	101
VARLIKLARA VERİLEN ADLAR	103
EŞ ANLAMLI KELİMELER	105
VARLIKLARIN ÖZELLİKLERİNİ BELİRTEN SÖZCÜKLER	107
OKUMA VE ANLAMA	109
GÖRSEL OKUMA	111
ŞİİR	113
GERÇEK VE HAYAL ÜRÜNÜ İFADELER	115
ANLAMLI VE KURALLI CÜMLE	117
GÖRSEL VE CÜMLE	119
NOKTALAMA İŞARETLERİ	121
SÖZCÜKTE ANLAM	123
CÜMLEDE ANLAM	125
OKUMA VE ANLAMA	127
NEZAKET KURALLARI VE EDİN DİLİ	129
5N 1K	131
OLAYIN OLUŞMASI	133
İKÂYNIN ÜNİTLERİ VE 5N 1K	135
AN DÜŞÜNCE, ANA DUYGU, KONU VE BAŞLIK	137
NOKTALAMA İŞARETLERİ	139
OKUMA VE ANLAMA	141
METİN TÜRLERİ	143
YAZIM KURALLARI	145
SORU EKİ VE SORU CÜMLESİ	147
BENZERLİKLER VE FARKLILIKLAR	149
SATIR SONUNA SIĞMAYAN SÖZCÜKLER	151
KİTAPLARDAKİ TEMEL BÖLÜMLER	153
EŞ VE ZİT ANLAM	155
SEBEP - SONUÇ İFADELERİ VE CÜMLE TAMAMLAMA	157
METİN VE GÖRSEL	159
KARİKATÜR - KARTPOSTAL	161
ŞEKİL, SEMBOL VE İŞARETLER	163

HAYAT BİLGİSİ

○ KENDİMİZİ TANITIYORUZ - HEPİMİZ FARKLIYIZ	167
○ DERS PROGRAMIM - GÖRÜŞLERİM DEĞERLİDİR - OKULUMUZ	168
○ ÖZENLİ KULLANIYORUZ - GRUP ÇALIŞMASINDAYIZ	169
○ KENDİMİ İFADE EDİYORUM - CAN KULAĞI - OYUN OYNUYORUZ - İHTİYAÇLARIMIZ, İSTEKLERİMİZ	170
○ AKRABALARIMIZ -	171
○ BİRBİRİMİZİ SEVİYORUZ - EV ADRESİMİZ	171
○ HERKESİN BİR GÖREVİ VAR - BENİM DE DÜŞÜNCELERİM VAR - GEREKSİZ KULLANMAYALIM	172
○ YARDIMSEVER OLMAK - PLANLIYIM, BAŞARILIYIM - ÖNCELİKLERİMİ BELİRLİYORUM	173
○ SAĞLIMIZ İÇİN - DENGELİ BESLENİYORUM	174
○ YEMEKTEYİZ - TEMİZ ÇEVRE, SAĞLIKLI HAYAT	175
○ SAĞLIĞIMIZ İÇİN ÇALIŞANLAR - MEVSİMİNE UYGU TÜKETİYÖRÜM - MEVSİMİNE UYGUN GİYİNİYORUM	176
○ ULAŞIM ARAÇLARI - YOLCULUK YAPIYORUZ	177
○ YARDIM EDİYORUZ - ACIL BİR DURUM VAR	178
○ DİKKATLİ KULLANIYORUZ - ÜVENLİ YERLERDE OYNUYORUZ	179
○ ÜLKEMİZİN YENİ Nİ ÖĞRENİYORUZ - BAYRAĞIMIZ VE İSTİKLÂL MARŞI'MIZ - ATATÜRK'ÜN ÇOCUKLUĞU	180
○ MİLLÎ GÜN VE BAYRAMLARIMIZ - DİNİ BAYRAMLARIMIZ	181
○ KÜLTÜREL ÖGELERİMİZ- MİSAFİRLERİMİZ	182
○ ÜRETTİKLERİMİZ	183
○ CANLILAR NE İSTER? - BESLEYİP BÜYÜTÜYORUZ	184
○ GEÇMİŞTEN GÜNÜMÜZE EVLER, TEKRAR KULLANIYORUZ - DOĞA OLAYLARINDAN KORUNUYORUZ	185
○ DOĞAL AFETLER - YÖNÜMÜZÜ BULUYORUZ - DÜNYA DÖNÜYÖR	186

○ CEVAP ANAHTARI	187
------------------------	-----

DATA YAYINLARI

2.
SINIF

MATEMATİK

DATA YAYINLARI

KONULAR

KAÇ TANE	9
ONLUK VE BİRLİKLER.	11
DESTE VE DÜZİNE	13
NESNE SAYISINI TAHMİN EDELİM	15
BASAMAK VE SAYI DEĞERİ.	17
RİTMİK SAYMA	19
SAYI ÖRÜNTÜSÜ	21
KARŞILAŞTIRALIM, SIRALAYALIM	23
HANGİ ONLUĞA YAKIN	25
ELDESİZ TOPLAMA İŞLEMİ	27
TOPLAMA İŞLEMİ.	29
ÇIKARMA İŞLEMİ	31
ÇIKARMA İŞLEMİ	33
ZİHİNDEN ÇIKARMA İŞLEMİ.	35
VERİLMEYEN TOPLANANI BULMA	37
VERİLMEYEN TOPLANANI BULMA	39
TOPLAMA İŞLEMİNDE SONUCU TAHMİN EDELİM, ZİHİNDEN TOPLAMA İŞLEMİ	41
ÇIKARMA İŞLEMİNDE SONUCU TAHMİN EDELİM, VERİLMEYEN TERİMİ BULALIM	43
EŞİTLİK İŞARETİ	45
TOPLAMA VE ÇIKARMA PROBLEMLERİ	47
SIVILARI ÖLÇELİM VE KARŞILAŞTIRALIM	49
GEOMETRİK ŞEKLER VE CİSİMLER.	51
GEOMETRİK CİSİMLER	53
UZAMSAL İLİŞKİLER	55
GEOMETRİK ÖRÜNTÜLER.	57
TEKRARLI TOPLAMA İŞLEMİ YAPALIM	59
ÇARPMA İŞLEMİNİ ÖĞRENELİM	61
ÇARPMA PROBLEMLERİ	63
BÖLME İŞLEMİNİ ÖĞRENELİM	65
BÜTÜN, YARIM VE ÇEYREK.	67
SAAT KAÇ?	69
ZAMAN KAVRAMLARI ARASINDAKİ İLİŞKİ	71
PROBLEM ÇÖZELİM	73
PARALARIMIZ	75
PARALARIMIZ İLE İLGİLİ PROBLEMLER ÇÖZELİM	77
TABLO VE GRAFİK.	79
UZUNLUK ÖLÇME	81
TARTALIM VE KARŞILAŞTIRALIM	83

KAÇ TANE

1.



Yukarıda gösterilen tepside kaç tane kurabiye vardır?

- A) 12 B) 13 C) 14

2. Ali'nin bilyeleri Mehmet'in bilyeleri



Ali'nin ve Mehmet'in sahip oldukları bilye sayıları yukarıda gösterilmiştir.

Buna göre aşağıdaki bilgilerden hangisi doğrudur?

- A) Ali ve Mehmet'in bilye sayıları eşittir.
B) Ali'nin bilye sayısı Mehmet'in bilye sayısından fazladır.
C) Ali'nin bilye sayısı Mehmet'in bilye sayısından azdır.

3.



Yukarıda verilen akvaryumda kaç tane balık vardır?

- A) 8 B) 7 C) 6

4.



Yukarıda verilen görselde kaç tane kalem vardır?

- A) 19 B) 20 C) 21

TEST 1

5.



Yukarıda toplam kaç tane yumurta vardır?

- A) 12 B) 10 C) 6

6.



Yukarıda verilen görselde kaç tane mavi renkli zarf vardır?

- A) 14 B) 15 C) 16

7.



Yukarıdaki kuyrukta kaç kişi vardır?

- A) 8 B) 7 C) 6

8.




Selim

Aklımdan iki basamaklı bir sayı tuttum. Bu sayı en büyük ve en küçük rakamlardan oluşuyor.

Buna göre Selim'in aklından tuttuğu sayı aşağıdakilerden hangisidir?

- A) 91 B) 90 C) 09

9 ve 10. soruları aşağıdaki görselle göre cevaplayınız.



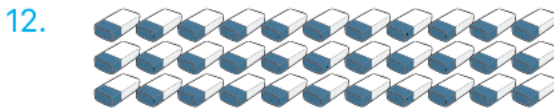
9. Yukarıdaki görselde kaç tane tavuk vardır?
A) 14 B) 10 C) 8

10. Yukarıdaki görselde kaç tane civciv vardır?
A) 10 B) 13 C) 14



Yukarıdaki görselde bir tiyatro salonundaki satılan koltuklar bordo ile boyanmıştır.

- Buna göre satılan koltuk sayısı kaçtır?
A) 18 B) 20 C) 22



- Yukarıdaki görselde kaç tane silgi vardır?
A) 33 B) 32 C) 31

13. Aşağıdakilerden hangisi yanlıştır?
A) Toplam 10 tane rakam vardır.
B) 0 bir rakam değildir.
C) "81" sayısı "8" ve "1" rakamlarından oluşur.


14.



Sayıları yazmak için kullandığımız işaretlere denir.

- Öğretmenin söylediği cümlede boş bırakılan yere aşağıdakilerden hangisi yazılmalıdır?
A) Rakam B) Harf C) Sayı

15.



Yukarıda Adem Amca ve Semih Amca'nın ellerindeki balonlar gösterilmiştir.

Buna göre;

- I. Adem Amca'nın elindeki sarı balon sayısı, Semih Amca'nın elindeki kırmızı balon sayısından azdır.
II. Semih Amca'nın toplam balon sayısı Adem Amca'nın toplam balon sayısından fazladır.
III. Adem Amca ve Semih Amca'nın ellerinde toplam 10 sarı balon vardır.

İfadelerinden hangisi doğrudur?

- A) Yalnız II B) II ve III C) I ve III

1. 24, 32, 30 sayılarından hangisi en büyüktür?

- A) 32 B) 30 C) 24

2. 56 sayısı hangi iki sayı arasında yer alır?

- A) 50 ... 52 B) 48 ... 62
C) 15 ... 26

3. 43, 81, 27, 59 sayılarının küçükten büyüğe doğru sıralanışı aşağıdakilerden hangisidir?

- A) 27, 59, 43, 81
B) 27, 43, 59, 81
C) 43, 59, 27, 81

4. 

Y karadaki elmaların üzerinde verilen sayılarla büyükten küçüğe doğru sıralırsa 3. sırada hangisi yer alır?

- A)  B)  C) 

5. 12, 85, 36 sayılarından hangisi en küçüktür?

- A) 85 B) 36 C) 12

6. Birler basamağı 5 olan iki basamaklı en büyük sayı kaçtır?

- A) 95 B) 59 C) 55







7. Bir yarışmada Fulya en çok puanı, Merve en az puanı almıştır. Buna göre Fulya, Merve ve Mehmet'in puanları kaç olabilir?

	Fulya	Mehmet	Merve
A)	20	40	30
B)	50	45	40
C)	10	10	10

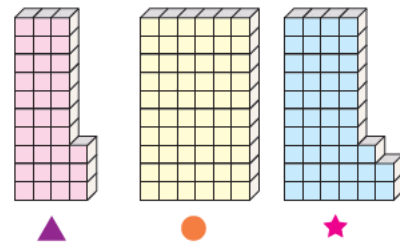
8. 

Tuba saı y z ol n kartları küçükten büyüğe doğru sıralamaya çalışıyor.

Tuba hangi iki kartın yerini değiştirirse sıralamayı doğru yapmış olur?

- A)   B)  
C)  

9.



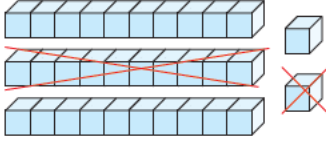
Yukarıdaki onluk bloklarda verilen sayılarla ilgili aşağıdakilerden hangisi yanlıştır?

- A) , 'den büyüktür.
B) , 'dan büyüktür.
C) , 'den büyüktür.

11. Aşağıdaki işlemlerden hangisinin sonucu yanlıştır?

A) 23	B) 93	C) 91
$\begin{array}{r} 23 \\ - 15 \\ \hline 8 \end{array}$	$\begin{array}{r} 93 \\ - 27 \\ \hline 65 \end{array}$	$\begin{array}{r} 91 \\ - 68 \\ \hline 23 \end{array}$

12.



Yukarıda gösterilen çıkarma işlemi aşağıdakilerden hangisidir?

- A) 32-2 B) 32-11 C) 22-12

13.



Sincap Na k 25 ane ndiğın 16 tanesini yiyor.

Bun g e geriye kaç tane fındık kalmışt ?

- A) 9 B) 10 C) 11

14.

$\begin{array}{r} 21 \\ - 16 \\ \hline \end{array}$	$\begin{array}{r} 82 \\ - 16 \\ \hline \end{array}$	$\begin{array}{r} 93 \\ - 16 \\ \hline \end{array}$
.....

Aşağıdaki sonuçlardan hangisi yukarıdaki işlemlerden birine ait değildir?

- A) 11 B) 66 C) 77

15.



Ahmet tabaklarda bulunan elmaların 9 tanesini arkadaşlarına veriyor.

Buna göre geriye kaç elma kalmıştır?

- A) 10 B) 9 C) 8

16. Aydın Amca 48 tane simidin 29 tanesini satıyor.

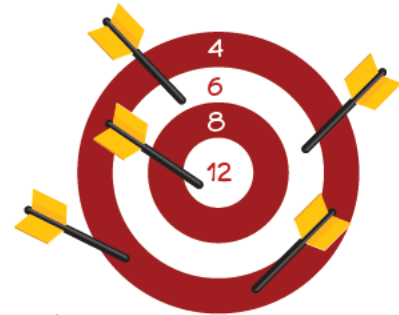
Buna göre geriye kaç simi kalmıştır?

- A) 16 B) 18 C) 19

17.



Mesut'un isabet ettirdiği atışlar



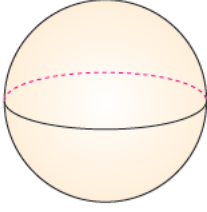
Özkan'ın isabet ettirdiği atışlar

Yukarıda Mesut ve Özkan'ın dart tah-tasına yaptığı atışlar gösterilmiştir.

Buna göre aşağıda verilen bilgilerden hangisi doğrudur?

- A) Mesut'un 2 puanı fazladır.
B) Özkan'ın 4 puanı azdır.
C) İkisinin puanları eşittir.

1.

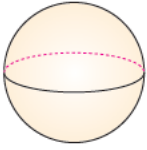


Yukarıdaki şekil ile ilgili aşağıdakilerden hangisi doğrudur?

- A) Cisim köşesizdir.
- B) Pili bu cisme benzetebiliriz.
- C) Cismin üzerinde üçgen vardır.

2. Aşağıdaki geometrik cisimlerden hangisinin köşesi vardır?

A)



B)



C)



3. Aşağıdaki geometrik cisimlerden hangisinin sadece bir tane yüzü vardır?

A) Küre

B) Silindir

C) Üçgen prizma

4. Silindir için aşağıdakilerden hangisi doğrudur?

- A) Bilye örnek verilebilir.
- B) 1 tane köşesi vardır.
- C) Alt ve üst yüzleri düzdür.

5.




Yukarıdaki şekiller ikişerli eşleştirildiğinde hangisi dışarıda kalır?

A)





B)



C)



6.



Yukarıda bazı geometrik cisim örnekleri verilmiştir.

Buna göre yukarıda aşağıdaki hangi cismin örneği yoktur?

A) Silindir

B) Küp

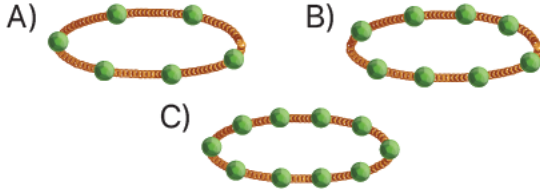
C) Üçgen prizma

8.



Yurdanur 30 tane boncuğu 5 gruba ayırarak bileklik yapacaktır.

Buna göre bir bileklik aşağıdakilerden hangisi gibi olur?

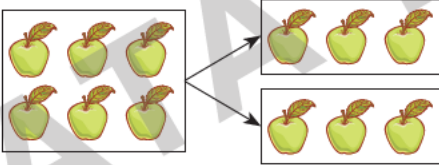


9. Marketten aldığım 15 bardaktan 3'ü kırıldı. Geriye kalanları 2 kişiye eşit sayıda hediye ettim.

Her bir kişiye kaç bardak düşer?

A) 4 B) 5 C) 6

10.



Ekteki paylaştırma hangi işlemi göstermektedir?

A) 2×3 B) $6 \div 3$ C) $6 \div 2$

11. 20 tane kitap 4 rafa eşit sayıda dizilirse, her rafa kaç kitap düşer?

A) 5 B) 6 C) 7

12. Esmâ 8 metre uzunluğundaki ipi tam ortadan ikiye böldü. Parçalardan birinin uzunluğu kaç metre olur?

A) 4 metre B) 2 metre C) 5 metre

13.

Selim'in topladığı elmalar

Meriç'in topladığı elmalar



28 tane




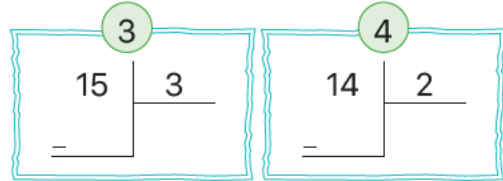

30 tane

Meriç elmaları 5'erli paketlere koyup paketini 3 TL'ye satacaktır. Selim elmaları 4'erli paketlere koyup paketini 4 TL'ye satacaktır.

Buna göre Meriç ve Selim'in satmış oldukları elmalardan kazandıkları para kaç TL'dir?

	Meriç	Selim
A)	18 TL	28 TL
B)	15 TL	16 TL
C)	2 TL	18 TL

14.



Bölme işlemi bir oyun üzerinde tekrar eden Gülsüm işlemler ve sonuçlarının eşleştiriyor. Buna göre Gülsüm 1 2 3 4 ile hangi kelimeye ulaşır?

A) ROTA B) AORT C) ORTA

2.
SINIF

TÜRKÇE

DATA YAYINLARI

KONULAR

OKUMA VE ANLAMA	87
SES VE HARF	89
ALFABETİK SIRALAMA	91
HARF VE ALFABE	93
HECE VE SÖZCÜK	95
SÖZCÜK VE SÖZLÜK ANLAM	97
SÖZCÜKLERİN ÇAĞRIŞIMI	99
ZİT ANLAM	101
VARLIKLARA VERİLEN ADLAR	103
EŞ ANLAMLI KELİMELER	105
VARLIKLARIN ÖZELLİKLERİNİ BELİRTEN SÖZCÜKLER	107
OKUMA VE ANLAMA	109
GÖRSEL OKUMA	111
ŞİİR	113
GERÇEK VE HAYAL ÜRÜNÜ İFADELER	115
ANLAMLI VE KURALLI CÜMLE	117
GÖRSEL VE CÜMLE	119
NOKTALAMA İŞARETLERİ	121
SÖZCÜKTE ANLAM	123
CÜMLEDE ANLAM	125
OKUMA VE ANLAMA	127
NEZAKET KURALLARI VE EDİN DİLİ	129
5N 1K	131
OLAYLARIN OLUŞTURULMASI	133
İKÂYNIN ÜNİTLERİ VE 5N 1K	135
AN DÜŞÜNCE, ANA DUYGU, KONU VE BAŞLIK	137
NOKTALAMA İŞARETLERİ	139
OKUMA VE ANLAMA	141
METİN TÜRLERİ	143
YAZIM KURALLARI	145
SORU EKİ VE SORU CÜMLESİ	147
BENZERLİKLER VE FARKLILIKLAR	149
SATIR SONUNA SIĞMAYAN SÖZCÜKLER	151
KİTAPLARDAKİ TEMEL BÖLÜMLER	153
EŞ VE ZİT ANLAM	155
SEBEP - SONUÇ İFADELERİ VE CÜMLE TAMAMLAMA	157
METİN VE GÖRSEL	159
KARİKATÜR - KARTPOSTAL	161
ŞEKİL, SEMBOL VE İŞARETLER	163

1 ve 2. soruları aşağıdaki şiire göre cevaplayınız.

Ağacım

Mahallemizde

Senden başka ağaç olsaydı.

Seni bu kadar sevmezdim.

Fakat eğer sen

Bizimle beraber

Kaydırak oynamasını bilseydin

Seni daha çok severdim.

Güzel ağacım!

Sen kurduğun zaman

Biz de inşallah

Başka mahalleye taşınmış oluruz.

Orhan Veli KANIK

1. Eğer ağaç ne yapabilseydi şair onu da çok sevdi?

- A) Top oynamasını bilseydi
- B) Kaydırak oynamasını bilseydi
- C) Kurumasaydı

2. Şair hangi varlığa seslenmektedir?

- A) Mahalle
- B) Kaydırak
- C) Ağaç

3 ve 4. soruları aşağıdaki parçaya göre cevaplayınız.

KARINCA İLE GÜVERCİN

Bir karınca dereye düşmüştü. Su içen bir güvercin onu görmüş. Hemen gagasıyla bir çöp uzatmış. Karınca çöpe tutunup kıyıya çıkmış. Tam o sırada oradan geçen bir avcı güvercini görüp nişan almış. Karınca avcının ayağına düşmüş. Adamın atışı boşa gitmiş. Güvercin de böylece kurtulmuş.



3. Karınca düştüğü sırada güvercin ne yapıyormuş?

- A) Su içiyormuş.
- B) Uçuyormuş.
- C) Oyun oynuyormuş.

4. Güvercin, karıncayı neyle kurtarmış?

- A) Kanadıyla
- B) Çöple
- C) Ayağıyla

5 ve 6. soruları aşağıdaki şiire göre cevaplayınız.

YARARLI HAYVANLAR

Çevremizde dolaşır,
Çeşit çeşit hayvanlar.
Bizlere pek çoğunun,
Sayısız yararı var.

At, sığır, keçi de pek
Faydalı yaratıklar.
Bir de deniz ürünü
Taze, güzel balıklar.

İnek, koyun süt verir
Doyarız etleriyle.
Koyun, keçinin yünü,
Bizi ısıtır böyle.

Vefa ÇAĞAN

5. Aşağıdakilerden hangisi süt veren hayvanlardan değildir?

- A) Koyun
- B) İnek
- C) Balık

6. Hangisi deniz ürünüdür?

- A) At
- B) Balık
- C) Sığır

7 ve 8. soruları aşağıdaki parçaya göre cevaplayınız.

Sınıf nöbetçisi olan Merve, sınıfının temizliğinden sorumluydu. Teneffüste arkadaşlarının yere attığı çöpleri toplayarak çöp kutusuna attı. Ellerini yıkadı. Sonra sınıfı havalandırarak ders için hazır hâle getirdi. Merve, arkadaşlarına yerlere çöp atmamaları konusunda uyarılarda bulundu. Merve, hem kendi sağlığını hem de arkadaşlarının sağlığını korumak için çaba göstermiştir.

7. Merve nasıl bir davranış serilemiştir?



- A) Olumlu
- B) Olumsuz
- C) Bencilce

8. Merve arkadaşlarını hangi konuda uyarmıştır?

- A) Teneffüste sınıfı temizleme
- B) Yere çöp atmama
- C) Ellerini yıkama

9. Atatürk "Ben çocukken fakirdim. İki kuruş elime geçince bir kuruşunu kataba verirdim. Eğer böyle olmasaydım, bu yaptıklarımın hiçbirini yapmazdım." derdi.

Aşağıdaki görsellerden hangisi bu metni anlatır?



1. Aşağıdaki pankartlarda yazanlardan hangisi hem hece hem de sözcüktür?

A)



B)



C)



2. Aşağıdakilerden hangisi anlamlı bir sözcüktür?

A) al

B) da

C) me

3.

1 -rı

3 -şık

2 -lık

4 -ka

Yukarıdaki hecelerden anlamlı bir sözcük oluşturulur doğru sıralama nasıl olur?

A) 1 - 2 - 3 - 4

B) 2 - 3 - 1 - 4

C) 4 - 1 - 3 - 2

4.

KAVUN

PIRASA

Yukarıdaki iki sözcüğü hecelerine ayırıp ilk heceleriyle yeni bir sözcük oluşturmak istersek hangi sözcüğü oluşturabiliriz?

A) Kapı

B) Tavan

C) Ağaç

5. "Çocukların dünyamızı tanımalarını istiyoruz." cümlesinde üç harfli kaç hece vardır?

A) 3

B) 4

C) 5

6.



Elif

Hava parçalı bulutlu.

Elif'in cümlesinin hece sayısı aşağıdaki sözcüklerden hangisinin harf sayısına eşittir?

A) Dolunay

B) Bulut

C) Dondurma

7.

Sınıfta oynayacağımız oyun için 3 arkadaşımızı seçtik.

Yunus

Fok

Balina



Cenk



Ege



Ceylan

Bu arkadaşlarımız isimlerini söyledikleri hayvanları hareketleri ile bize tanıttıkları. Öğretmenimizin koyduğu kurala göre ilk olarak Ege'yi, sonra Cenk'i, son olarak da Ceylan'ı sınıfa çağırdık.

Arkadaşlarımızı sınıfa aşağıdakilerden hangisine uygun bir sırayla çağırdığımız söylenebilir?

A) Adlarının sözlük sırasına göre

B) Kullandıkları kelime sayısına göre

C) Temsil ettikleri sözcüklerin hece sayısına göre

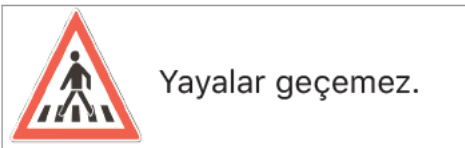
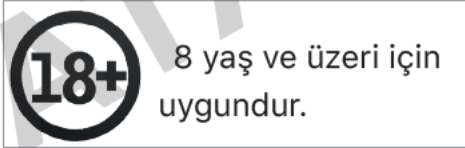
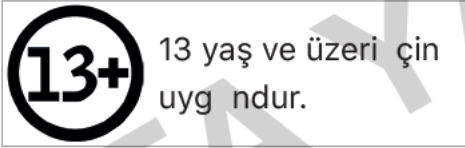
7.






Aşağıdakilerden hangisi görseldeki kutulara atılamaz?

- A) Karton bardak B) Gazete
C) Plastik şişe

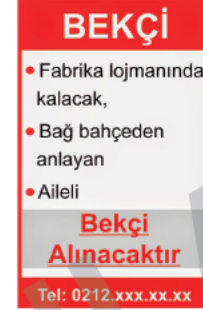
8.



Yukarıdaki görsellerden hangisinin açıklaması yanlış verilmiştir?

- A)  B) 
C) 

9.



Yukarıdaki görsellerde aşağıda verilenlerden hangisinin örneği yoktur?

- A) Geri dönüşüm işareti
B) Türkiye haritası
C) Tanıtım afişi

10.



Görsellerdeki meyve ve sebzelerin hangisinin bilmeceyi aşağıda verilmemiştir?

- A) Allah yapar yapısını,
Bıçak açar kapısını
B) Küçük fıçık
İçi dolu turşucuk
C) Çarşıdan aldım bir tane,
Eve geldim bin tane

1.



Seninle konuşmak istemiyorum

Özer'in cümlesinin sonuna hangi noktalama işareti konulmalıdır?

- A) Nokta
- B) Ünlem işareti
- C) Soru İşareti

2.




Bariş **ve** Kaan ve Ebru havuza atladılar.

Bu cümlede renkli yazılan "ve" söz cüğü yerine hangi noktalama işareti kullanılmalıdır?

- A) virgül (,)
- B) nokta (.)
- C) soru işareti (?)

3. Tavşan, özel adlara getirilen ekleri ayırmada kullanılan noktalama işaretinin yazılı olduğu havucu yiyecektir.

Buna göre tavşan hangi havucu yemelidir?

- A)  Kesme işareti
- B)  Virgül
- C)  Ünlem işareti

4. Off () Ben çayı sıcak içemiyorum ()
Biraz bekletebilir miyiz ()

Bu metinde ayrıca gösterilen yerlere sırasıyla aşağıdaki noktalama işaretlerinden hangileri getirilmelidir?

- A) (?) (.) (!)
- B) (.) (.) (?)
- C) (!) (.) (?)

5.



Sevinç, korku, coşku gibi duyguları anlatırken cümle sonunda beni kullanırsın.



Tamamlanmış cümlelerin sonunda beni kullanırsın.



Soru sorarsan cümlenin sonuna beni koymalısın.

Yukarıda bazı noktalama işaretleri, görevleri hakkında açıklamalar yapılmıştır.

Buna göre hangi noktalama işareti kendisi hakkında yanlış açıklama yapmıştır?

- A) Soru işareti
- B) Ünlem işareti
- C) Uzun çizgi

6. Aşağıdaki sözcüklerin hangisinin yazımı doğrudur?

- A) tiren
B) sıyor
C) plan

7. Aşağıdakilerin hangisinde büyük harflerin yazımıyla ilgili bir yanlışlık yapılmıştır?

- A) İstanbul, Türkiye Cumhuriyeti'nin en güzel şehridir.
B) Haftaya derya okula başlayacak.
C) Kurban Bayramı'nda tüm işlerini halletmiş.

8.



Özel adlara eklenen unvan, takma ad ve rütbe, mesle adları büyük harfle başlar.

Aşağıdakilerden hangisi Barış'ın çıkmasına göre yanlıştır?

- A) Hasan bey balık tutuyordu.
B) Arda Usta çok yoruldu.
C) Türkan Hanım bize gelecekti.

9. "Astronotlar, bin dokuz yüz altmışdokuz yılında Ay'a ayak bastılar."

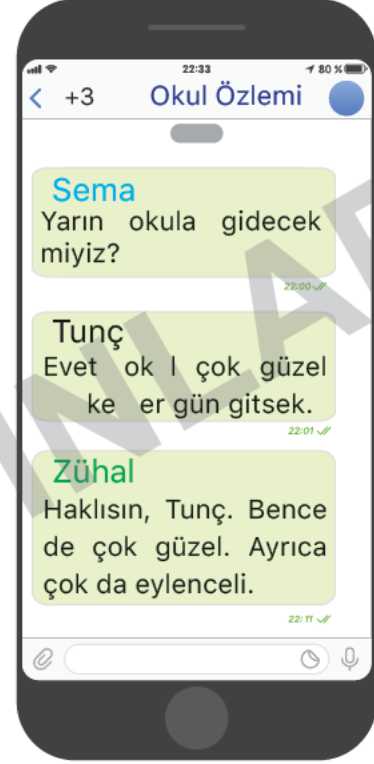
Yukarıda verilen cümlede hangi ifade yazım yanlışlığı yapılmıştır?

- A) Astronotlar
B) Ay'a
C) altmışdokuz

10. Aşağıdakilerin hangisinde yazım yanlışlığı yapılmıştır?

- A) 22 Kasım 2019'da gelecekler.
B) Biz Yaşam bulvarı civarlarındayız.
C) O, Yürüyüş Mahallesi'nde kalıyor.

11.



Yukarıdaki konuşmada yazım hatası yapan kişi kimdir?

- A) Sema
B) Tunç
C) Zühal

12. Kural : Soru eki olan "mi" kendinden önce gelen sözcükten ayrı yazılır.

Aşağıdaki cümlelerin hangisinde bu kurala uyulmamıştır?

- A) sipariş ettiğim elbise geldi mi?
B) Yeni aldığım oyuncakçı gördün mü?
C) sabah kahvaltısı hala hazır değil mi?

2.
SINIF

HAYAT BİLGİSİ

DATA YAYINLARI

KONULAR

○ KENDİMİZİ TANITIYORUZ - HEPİMİZ FARKLIYIZ	167
○ DERS PROGRAMIM - GÖRÜŞLERİM DEĞERLİDİR - OKULUMUZ	168
○ ÖZENLİ KULLANIYORUZ - GRUP ÇALIŞMASINDAYIZ	169
○ KENDİMİ İFADE EDİYORUM - CAN KULAĞI - OYUN OYNUYORUZ - İHTİYAÇLARIMIZ, İSTEKLERİMİZ	170
○ AKRABALARIMIZ -	171
○ BİRBİRİMİZİ SEVİYORUZ - EV ADRESİMİZ	171
○ HERKESİN BİR GÖREVİ VAR - BENİM DE DÜŞÜNCELERİM VAR - GEREKSİZ KULLANMAYALIM	172
○ YARDIMSEVER OLMAK - PLANLIYIM, BAŞARILIYIM - ÖNCELİKLERİMİ BELİRLİYORUM	173
○ SAĞLIMIZ İÇİN - DENGELİ BESLENİYORUM	174
○ YEMEKTEYİZ - TEMİZ ÇEVRE, SAĞLIKLI HAYAT	175
○ SAĞLIĞIMIZ İÇİN ÇALIŞANLAR - MEVSİMİME UYGUN TÜKETİYORUM - MEVSİMİNE UYGUN GİYİNİYORUM	176
○ ULAŞIM ARAÇLARI YOL ÜLKE YAPIYORUZ	177
○ YARDIM EDİYORUZ ACİL BİR DURUM VAR	178
○ DİKKAT KULLANIYORUZ - GÜVENLİ YERLERDE OYNUYORUZ	179
○ ÜLKEMİZİN YERİNİ ÖĞRENİYORUZ - BAYRAĞIMIZ VE İSTİKLÂL MARŞI'MIZ - ATATÜRK'ÜN ÇOCUKLUĞU	180
○ MİLLÎ GÜN VE BAYRAMLARIMIZ - DİNÎ BAYRAMLARIMIZ	181
○ KÜLTÜREL ÖGELERİMİZ- MİSAFİRLERİMİZ	182
○ ÜRETTİKLERİMİZ	183
○ CANLILAR NE İSTER? - BESLEYİP BÜYÜTÜYORUZ	184
○ GEÇMİŞTEN GÜNÜMÜZE EVLER, TEKRAR KULLANIYORUZ - DOĞA OLAYLARINDAN KORUNUYORUZ	185
○ DOĞAL AFETLER - YÖNÜMÜZÜ BULUYORUZ - DÜNYA DÖNÜYOR	186


1. En iyi yapılan işlerin kişiden kişiye farklılık göstermesinin sebebi aşağıdakilerden hangisidir?
 - A) Yetenek ve becerilerin farklı olması
 - B) Herkesin yetenekli olması
 - C) Herkesin aynı işi yapmak istemesi
2. "Farklılıklarımız bizi yapar." cümlesindeki boşluğa hangi seçenek getirilemez?
 - A) özel
 - B) ayrıcalıklı
 - C) eşsiz
3. Aşağıdaki kişilerden hangisi fiziksel özelliğinden bahsetmemiştir?
 - A) Elif: Kısa boylu ve kiloluyum.
 - B) Fatih: Çok güzel resim yaparım.
 - C) Betül: Kıvırcık saçlıyım.
4. Aşağıdakilerden hangisi yanlış bir davranıştır?
 - A) Fiziksel özellikleri bize benzeyen kişilerle arkadaşlık etmeliyiz.
 - B) Fiziksel özellikleri farklı olan arkadaşlarımıza saygı duymalıyız.
 - C) Farklı rahatsızlıkları olan arkadaşlarımıza yardımcı olmalıyız.
5. "Her birey farklıdır." ifadesine aşağıda verilenlerden hangisi örnek gösterilebilir?
 - A) Ben de kardeşim gibi süt içmeyi çok severim.
 - B) Kardeşim ve ben kitap okumayı çok severiz.
 - C) Kardeşim futbol oynamayı sever, ben ise piyano çalmayı severim.

6 ve 7. soruları aşağıdaki parçaya göre cevaplayınız.

Arkadaşım Levent uzun boylu, siyah saçlı, kahverengi gözlüdür. Bizimle aynı mahallede oturan Levent, sevimli, iyi kalpli, yardımsever ve cesur biridir. Yolda gördüğü yardıma muhtaç insanlara ve diğer canlılara yardım etmekten büyük bir zevk duyar. Ayrıca cesur oluşu arkadaşlarına da cesaret verir.

6. Yukarıdaki parçada kaç tane fiziksel özellik sayılmıştır?
 - A) 2
 - B) 3
 - C) 4
7. Yukarıdaki parçada Levent'in hangi özelliği yer almamıştır?
 - A) Saç rengi
 - B) Göz rengi
 - C) Yaşı

8.



Bu görsel bireysel farklılıklarla ilgili hangi kavramı çağırır?

- A) Bencillik
 - B) Empati
 - C) Kıskançlık
9. "Arkadaşım Ömer iyi duyamadığı için işitme cihazı kullanmaktadır." Bu bilgiye göre aşağıdaki yorumlardan hangisi yanlıştır?
 - A) Arkadaşımın cihazına dikkat etmeliyim.
 - B) Arkadaşıma karşı hoşgörülü olmalıyım.
 - C) Cihazı kullanan arkadaşımı yalnız bırakmalıyım.

1. Aşağıdaki faaliyetlerden hangisi sabah okula gitmeden önce yapılır?

- A) Ders dinlemek
- B) Okul çantasını kontrol etmek
- C) Top oynamak

2. Aşağıdakilerden hangisi yanlıştır?

- A) Sınıfla ilgili bütün kararları sınıf başkanımız alır.
- B) Sınıfta bizim de fikrimiz sorulmalıdır.
- C) Her yerde fikrimizi söyleyebiliriz.

3. Aşağıdakilerden hangisi sınıf kuralından biri değildir?

- A) Okula hazırlık yapmak
- B) Ders sırasında başkalarını rahatsız edecek davranışlardan kaçınmak
- C) Konuşmak için parmak kaldırarak söz istemek

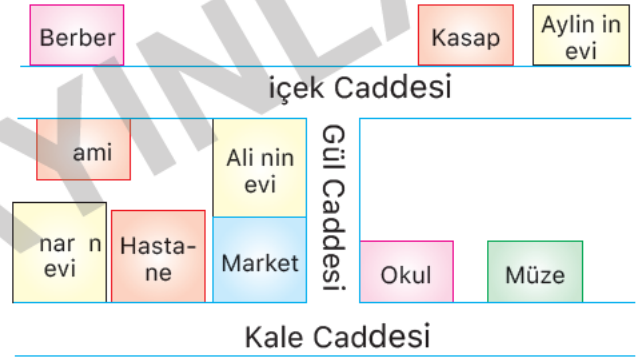
4. Aşağıdaki ifadelerden hangisi yanlıştır?

- A) Okulumuzun etrafında bulunan kurumları bilmeliyiz.
- B) Okulumuzun bulunduğu sokağı bilmemize gerek yoktur.
- C) Okulumuzun yerini bilmemiz, kendimizi güvende hissetmemizi sağlar.

5. Aşağıdaki çocuklardan hangisinin yaptığı davranış yanlıştır?

- A) Ali: Ders araç gereçlerimi akşamdan hazırlarım.
- B) Deniz: Okul eşyalarımı ders programına göre çantama yerleştiririm.
- C) Elif: Kitaplarımın hepsini her zaman çantamda taşıyorum.

6, 7 ve 8. soruları aşağıda krokiye göre cevaplayınız.



6. Okulun yanında ne vardır?

- A) Berber
- B) Hastane
- C) Müze

7. Okula en yakın ev kimindir?

- A) Ali
- B) Pınar
- C) Aylin

8. Aylin okula giderken hangi caddeyi kullanmaz?

- A) Çiçek Caddesi
- B) Gül Caddesi
- C) Kale Caddesi

1. Bisiklete binerken mutlaka takmamız gereken eşya aşağıdakilerden hangisidir?
A) Gözlük B) Kask C) Saat
2. Aşağıdakilerden hangisi oyun oynamak için güvenli ortamlardan biri değildir?
A) Okul bahçesi B) Taşıt yolu
C) Çocuk parkı
3. Ali televizyon izlerken hangi kurala uymalıdır?
A) Televizyonu yakından izlemelidir.
B) Televizyonda büyüklerin izlediği programları izlemelidir.
C) Televizyonda yaşına uygun programları izlemelidir.
4. Aşağıdaki yerlerden hangisi güvenli oyun alanı değildir?
A) Park B) Sokak C) Spor alanları
5. Aşağıdaki ifadelerden hangisi doğru değildir?
A) Bilgisayarda istediğimiz internet sitelerine girebiliriz.
B) Bilgisayara program yüklerken büyüklerimizden izin almalıyız.
C) Bilgisayarda çok vakit geçirirsek gözümüz bozulabilir.
6. Aşağıdaki yerlerden hangisi güvenli bir oyun alanıdır?
A) Okul bahçesi B) Yaya geçidi
C) Yolun ortası

7. Aşağıdakilerden hangisi doğrudur?
A) Bisikletimizi trafiğin yoğun olduğu yerlerde sürmeliyiz.
B) Bisiklet sürerken tehlikeli hareketler yapmalıyız.
C) Bisiklet sürerken kask ve dizlik takmalıyız.

8.



Aşağıdaki öğrencilerden hangisi teknolojik araç ve gereçlerin güvenli kullanılmasına doğru bir örnek vermiştir?

- A)  Oyun aracıyla gereğinden fazla oynamak
- B)  Oyun aracının sesini sonuna kadar açmak
- C)  Cep telefonu şarj olurken telefonla konuşmamak

- Aşağıdakilerden hangisi düğünlerde oynanan oyunlar arasında yer almaz?
A) Çaydaçıra B) Çiftetelli
C) Beyzbol
- Aşağıdakilerden hangisi düğünlerimizde görülmemektedir?
A) Gelin ve damada para takma
B) Misafirlere yemek ikram etme
C) Davetlilerle su oyunu oynama
- Aşağıdakilerden hangisi doğrudur?
A) Ülkeler arasında göç yoktur.
B) Zorunlu göç eden insanlar zor durumlarda kalabilmektedir.
C) Ülkeden ülkeye izin almadan gidilebilir.

- Erzurum'un çağ kebabı meşhurdur.
Kemençe adlı çalgı aleti ile ünlü ilimiz Sivas'tır.
Horon Trabzon ilimizde ünlüdür.

Yukarıda verilen cümlelerden doğru olanlara "D", yanlış olanlara "Y" yazıldığı zaman aşağıdaki seçeneklerden hangisi doğru olur?

- | | | | | | |
|----|---|----|---|----|---|
| A) | D | B) | D | C) | Y |
| | Y | | D | | Y |
| | D | | Y | | D |

- Aşağıdakilerden hangisi yanlıştır?

- Ülkeler içinde çok farklı kültürler olabilmektedir.
- Kültürler şehirler arasında bile değişebilmektedir.
- Farklı kültüre sahip kişilere kaba davranılmalıdır.

6

I



II



III



Geçmiş kuşaklar tarafından oluşturulan ve evrensel değerlere sahip olan eserlere kültürel miras denir.

Yukarıdakilerden hangisi kültürel miras öğelerimizden biri değildir?

- I
- II
- III

1. Aşağıdaki atıklardan hangisi geri dönüşüm kutularına atılmalıdır?

- A) Elma kabuğu B) Cam şişe
C) Zeytin çekirdeği

2. Aşağıdakilerden hangisi insan yaşamını olumsuz etkileyen doğal bir unsurdur?


- A) Yer şekillerinin sade olması
B) Su kaynaklarının fazla olması
C) Toprağın verimsiz olması

3. Aşağıdakilerden hangisi geri dönüşüm kutusuna atılamaz?

- A) Muz kabuğu B) Pe şişe
C) Gazete kâğıtları

4. Aşağıdakilerden hangisi çevreyi kirletmeye canlı sağlığını olumsuz etkileyen bir madde değildir?

- A) Plastik şişe B) Sakız
C) Ağaç yaprağı

5.  Yanda verilen sembol aşağıdakilerden hangisi ile ilgilidir?

- A) Atık madde
B) Geri dönüşüm
C) Sanayi atığı

6. Aşağıdakilerden hangisi doğa olayı değildir?

- A) Sis B) Yağmur C) Trafik kazası


7. Aşağıdaki doğa olaylarından hangisi sürücülerin görüş mesafesini engelleyerek ulaşımı zorlaştırmaktadır?

- A) Sis B) Rüzgâr C) Yağmur

8. Aşağıdaki ifadelerden hangisi yanlıştır?

- A) Doğal unsurların insan hayatına etkisi yoktur.
B) Su hayatın vazgeçilmez bir unsurudur.
C) Toprak üzerinde tarım yapılan, bir doğal unsurdur.

9. Kar topu oynamak isteyen bir çocuk aşağıdaki doğa olaylarından hangisinin oluşmasını istemektedir?





Kitaplarının içeriklerine
ve çözümlerine ulaşmak için
"Editör Data" uygulamasını indirin.



İvedik Organize Sanayi Matbaacılar Sitesi
1518 Sok. Mat-Sit İş Merkezi No.:2/20
Yenimahalle / ANKARA
Telefon: 0 312 384 29 95 - Belgeçeçer: 0312 342 23 58
WhatsApp: 0 505 925 57 81
www.datayayinlari.com | bilgi@datayayinlari.com

ISBN 978-625-7753-94-4

