



Akıllı Kalem

HAF TA HAF TA

8+1. Fasikül

DENEME SINAVLARI (8 ADET)



Karekod
Çözümlü



Akıllı Tahta
Uyumlu

3.
sınıf

Pazartesi
Salı
Çarşamba
Perşembe
Cuma



Türkçe - Matematik - Hayat Bilgisi

Yazarlar

Funda Menekşe
Muharrem Ercan



Giriş
Yayınları



1. Sabahın ilk saatlerinde evden çıktım. Yan komşumuz Seda'yı çağırdım ve birlikte yola koyulduk. Okula doğru gidiyorduk ki yolda yaralı bir köpek gördük. Ayağının üzerine basamıyordu. Onu hemen alıp yolumuzun üzerindeki veterinere götürdük.

Bu metindeki altı çizili sözcük grubu hikâye unsurlarından hangisidir?


A) Yer B) Olay C) Zaman

2. Aşağıdakilerden hangisi kitabın bölümlerinden biri değildir?

A) Kaynakça B) Sözlük C) Özlü sözler

3. "Babam, arife günü keçi aldı." cümlesinde geçen "arife" kelimesinin anlamı aşağıdakilerden hangisidir?

A) Bayram günü
B) Bayramdan bir gün önce bayramı müjdeleyen gün
C) Bayramın son günü

4.  Yandaki görsele göre aşağıdakilerden hangisi söylenemez?

A) Hayvanları korumalıyız.
B) Hayvanlara yiyecek vermemize gerek yoktur.
C) Yardıma ihtiyacı olan hayvanlara yardım etmeliyiz.

5. Aşağıdaki sözcükler alfabetik sıraya göre sıralandığında hangi seçenek doğru olur?

A) demet 4
deniz 3
dağ 1
dağınık 2

B) demet 3
deniz 4
dağ 2
dağınık 1

C) demet 3
deniz 4
dağ 1
dağınık 2

6.

Onlar basamağı: 5
Birler basamağı: 8
Yüzler basamağı: 3

Yukarıda basamakları karışık olarak verilmiş sayı aşağıdakilerden hangisidir?

A) 583 B) 358 C) 385

7.



Yukarıdaki sayıdan başlayarak onar ritmik sayarken aşağıdaki sayılardan hangisini söylemeyiz?

A) 898 B) 907 C) 917



KIZILAY

Kızılay; deprem, yangın, sel, salgın, hastalık gibi durumlarda yardıma koşan güçlü bir kuruluştur. Kızılay; ihtiyaç sahiplerine çadır, battaniye, giyecek, yiyecek yardımlarında bulunur.

Ülkemizde her yıl 29 Ekim - 4 Kasım haftası Kızılay Haftası olarak kutlanır.

Kızılay 11 Haziran 1868'de kurulmuştur.

1, 2 ve 3. soruları metne göre cevaplayalım.

1. Kızılay Haftası ne zamandır?

- A) 4 Kasım - 9 Kasım
B) 29 Ekim - 4 Kasım
C) 29 Ekim - 1 Kasım

2. Hangisi Kızılay'ın yaptığı yardımlardan değildir?

- A) Doğal afetlerde yardım etmek
B) İhtiyaç sahiplerine yiyecek yardımı yapmak.
C) Eğitim kurumlarında öğrenci yetiştirmek.

3. Kıymet - Değer Sesteş - Anlamdaş

Eş Anlam - Eş Sesli

Güç - Zor

Hangi renklerde verilen kelimelerin eş anlamlısı yanlıştır?

- A) B) C)

4.

Şiirin her bir satırına kıta denir.

D

Y

Şiirler en fazla iki kıtadan oluşur.

Şiirin insanda hissettirdiği duyguya ana duygu denir.

D

Y

D

Y

1. çıkış

2. çıkış

3. çıkış

4. çıkış

Yukarıdaki bilgiler doğru - yanlış olarak değerlendirildiğinde hangi çıkışa ulaşılır?

- A) 2. çıkış B) 3. çıkış C) 4. çıkış

5.

Cumhuriyet Caddesi

vatan Sokak

Kahramanlar Apartmanı

Kat: 2 Daire: 5

Yukarıda verilen adreste hangi sözcüğün yazımını yanlıştır?

- A) Daire: 5 B) Sokak C) vatan

6.

$$(17 + 34) + 45$$

Aşağıdaki işlemlerden hangisinin sonucu yukarıda verilen işlem ile aynıdır?

- A) $(45 + 17) + 34$ B) $(17 + 45) + 33$
C) $(7 + 45) + 34$



1. • Her çok azdan olur.
• Damlaya damlaya göl olur.
• Komşu komşunun külüne muhtaçtır.

Yukarıdaki atasözlerinden kaç tanesi tasarruf ile ilgili değildir?

- A) 1 B) 2 C) 2

2. Dünkü dolu, güllerin dallarını kırmıştı.

Yukarıdaki cümlede kaç tane eş sesli kelime vardır?

- A) 2 B) 3 C) 4

3. Toprak altına gömülerek saklanmış para ve değerli eşya anlamına gelen gömü sözcüğüyle aynı anlama gelir.

Yukarıda tanımlanan sözcük hangisidir?

- A) Define B) Kazı C) Antika

4. Harp → Savaş
Ev → ?

Bu eleştirmede “?” olan yere hangisi getirilmelidir?

- A) Konut B) Oda C) Salon

5. Aşağıdakilerden hangisi mektubun özelliklerinden biri değildir?

- A) Saygı, sevgi ve iyi dileklerle bitirilir.
B) Hitap sözünden sonra virgül konur.
C) Sadece gezilen, görülen yerlerin anlatıldığı yazı türüdür.

6. Eyvah (1) sınava geç kaldım (2)

Yukarıdaki cümlede 1 ve 2 rakamlarıyla gösterilen yerlere hangi noktalama işaretleri gelmelidir?

- A) (.) (.) B) (.) (!) C) (!) (!)

7. Aşağıdaki işlemlerin sonucu en yakın yüzlüğe yuvarlanarak tahmin ediliyor. Buna göre hangi işlemin sonucu yanlış tahmin edilmiştir?

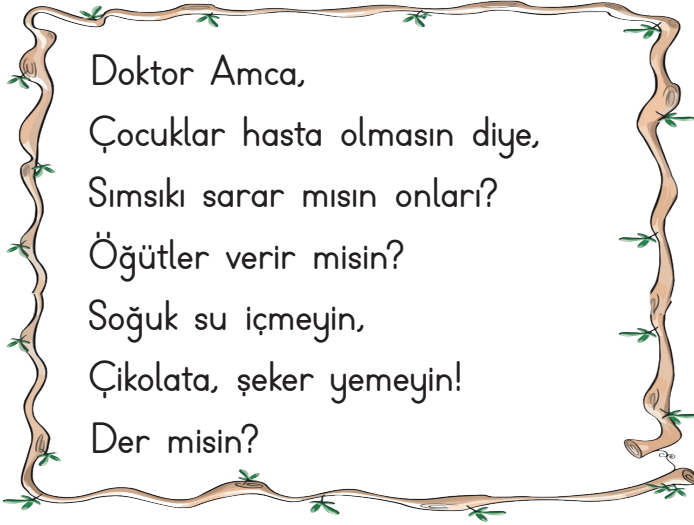
- A) $598 - 217 = 400$ B) $849 - 555 = 300$
C) $708 - 394 = 300$

8.

Bilet Türü	Bilet Sayısı
Öğrenci	III III IIII
Tam	III

Yukarıda bir sinema salonunda sabah seansında satılan bilet türleri ve sayıları verilmiştir. Tam bilet 20 ₺ , öğrenci bileti 10 ₺ olduğuna göre bu seansda toplam kaç ₺ kazanılmıştır?

- A) 140 B) 200 C) 240



1 ve 2. soruları şiire göre cevaplayalım.

1. Şair, kimden çocuklara öğüt vermesini istiyor?

- A) Doktordan
B) Hemşireden
C) Annelerinden

2. Aşağıdakilerden hangisi çocuklara verilen öğütlerden biri değildir?

- A) Soğuk su içmeyin!
B) Yüksek sesle konuşmayın!
C) Çikolata, şeker yemeyin!

3. • Şiirdeki her bir satıra denir.

- Dört dizenin bir araya gelmesiyle oluşur.
- Duygu ve düşünceleri coşkulu bir şekilde anlatmaktır.

Aşağıdaki kavramlar yukarıdaki açıklamalarla eşleştirildiğinde hangisi dışarıda kalır?

- A) Şair
B) Dize
C) Dörtlük

4. Aşağıdaki cümlelerden hangisinin sonuna nokta (.) konulmaz?

- A) Emre askere gitti ()
B) Sevgili Annem ()
C) Evleri iki katlı idi ()

5. Aşağıdaki sözcük çiftlerinin hangisinde farklı bir anlam ilişkisi vardır?

- A) Yıl - Sene
B) Ödül - Ceza
C) Doktor - Hekim

6. "Eyvah, ocağın altını kapatmayı unuttum ()" cümlesinin sonuna aşağıdaki noktalama işaretlerinden hangisi getirilmelidir?

- A) Nokta (.)
B) Soru işareti (?)
C) Ünlem işareti (!)

7.

"Çarpanların yeri değiştiğinde
..... değişmez."

"Sıfırla çarpılan sayıların sonucu her zaman olur."

Tahtada yazılı olan cümlelerde boş bırakılan yerlere uygun kelimeler yazılınca aşağıdakilerden hangisi dışarıda kalır?

- A) toplam
B) sıfır
C) çarpım



ORMAN

Orman yurdun temelidir.

Nesillerin evvelidir.

Her sanatın ilk elidir.

Ormandaki varlığa bak

Orman memleketin süsü.

Hem ufağı hem irisi.

Her dalında bir kuş sesi,

Ormandaki varlığa bak.

Aşık Veysel ŞATIROĞLU

1, 2 ve 3 soruları yukarıdaki metne göre cevaplayalım.

1. Şiirde geçen "evvel" kelimesinin eş anlamlısı aşağıdakilerden hangisidir?

A) sonra B) önce C) yarın

2. Aşağıdakilerden hangisi şiirdeki eş sesli kelimelerden biri değildir?

A) El B) Dal C) Kuş

3. Şiirin bir dizesi olan "Hem ufağı hem irisi" cümlesinde altı çizili olarak verilen kelimelerde hangi anlam ilişkisi vardır?

A) Zıt anlam B) Eş anlam C) Eş sesli

4. 1. Yaşasın, yarın bayram ()

2. Hangi meyveyi çok seversin ()

3. Önümüzde masmavi bir deniz ()


Yukarıdaki cümlelerin sonlarına sırasıyla hangi noktalama işaretleri gelmelidir?

A) (?) (!) (.) B) (.) (.) (!) C) (!) (?) (...)

5. Kelimelerden hangisi ek alarak yeni bir kelime olarak türetilmiştir?

A) koli B) veli C) eşli

6.



Cemal, eş parçalara bölünmüş pizzadan 3 dilim yedi.

Buna göre aşağıdaki kesirlerden hangisi Cemal'in yediği pizzayı ifade eder?

A) $\frac{3}{5}$ B) $\frac{3}{8}$ C) $\frac{3}{10}$

7. Aşağıdaki kesirlerden hangisi payı paydasından küçük kesirdir?

A) $\frac{5}{2}$ B) $\frac{4}{4}$ C) $\frac{1}{6}$



1. Günümüz çocukları tabletle, telefonla dünyaya geliyor sanki. Tabii bunda ailelerin de kabahati var. Yoğun tempolarının içinde çocukları başlarından atmak için kullanıyorlar bu cihazları ama bana göre en büyük suçlu apartmanlar. Eğer her geçen gün daha da çoğalmasalardı oyun oynayabileceğimiz bahçelerimiz olurdu.

Metnin ana fikri aşağıdakilerden hangisidir?

- A) Tablet ve telefonu belirli saatlerde oynamalıyız.
B) Oyun alanı olmadığı için çocuklar evlerde tablet ve telefonlara esir oluyor.
C) Çocuklar bahçedeyken tablet veya telefonla oynayabilirler.

2.

1. Okulun en uslu öğrencisi Cemre'dir.

2. Futbolda 11 oyuncu vardır.

3. Akşam yemeğini kim hazırlasın?

Numaralandırılan cümlelerden hangisi bir karşılaştırma cümlesidir?

- A) 1 B) 2 C) 3

3. Otobüsteki ihtiyar adam, şoför beye soru soruyordu.

Bu cümlede hangi varlığın özelliği belirtilmiştir?

- A) şoför B) adam C) soru

4.



Yukarıdaki üyelik kartını yönergelere uygun dolduran Deniz'in bu karta aşağıdaki bilgilerden hangisini yazması beklenmez?

- A) Atatürk İlkokulu
B) Deniz Karadeniz
C) Gül Mah. No.: 1/15 Beyoğlu

5. Aşağıdaki atasözlerinden hangisi çalışkanlıkla ilgili değildir?

- A) Çalışmak ibadetin yarısıdır.
B) Eğri otur, doğru konuş.
C) Yazın başı pişenin kışı aşı pişer.

6. "Açıklama yapılacak cümlelerden sonra konur."

Yukarıda verilen noktalama işareti aşağıdakilerden hangisidir?

- A) : B) . C) ;



TERMİTLER

Termitler, bitki kökleri ve organik maddelerle beslenen zararlı bir böcek türüdür. Beyaz karınca olarak da bilinirler. İki binden fazla türü vardır. Tüm böcekler içinde en büyük beyne sahip olan bu karıncaların altı ayağı vardır.

1, 2 ve 3 soruları metne göre cevaplayalım.

1. Termitler ne ile beslenmektedir?

- A) Et ve ot ile beslenmektedir.
- B) Bitki kökleri ve organik maddelerle beslenmektedir.
- C) Süt ile beslenmektedir.

2. Metinde aşağıdaki ifadelerden hangisine yer verilmemiştir?

- A) Termitler beyaz karınca olarak da bilinirler.
- B) Ortalama elli yıl yaşarlar.
- C) İki binden fazla türü vardır.

3. Metnin türü aşağıdakilerden hangisidir?

- A) Bilgilendirici metin
- B) Fabl
- C) Öykü

4. Geliri giderini karşılamamak

Yukarıda anlamı verilen deyim hangi cümlede kullanılmıştır?

- A) Bu yıl bütçe açık verdi.
- B) Nalan açık arayan biridir.
- C) Parasını kaybedince içi yandı.

5. Aşağıdaki cümlelerin hangisinde özel adların yazımıyla ilgili yanlışlık yapılmıştır?

- A) Arkadaşımın Artvinli olduğunu yeni öğrendim.
- B) Yarın Ebrarlar bize iftara gelecek
- C) En iyi notu Türkçe'den aldım.

6. Aşağıdakilerden hangisi standart olmayan ölçme birimlerinden biri değildir?

- A) karış
- B) metre
- C) adım

7. 1 m 30 cm uzunluğunda bir kablonun 50 cm'si kullanılırsa geriye kaç cm kablo kalır?

- A) 70
- B) 80
- C) 90



HAFTA HAFTA

NEDEN FASİKÜL?

Değerli Öğretmenlerimiz;

- ✓ Etkinlik kitabımız 8+1 fasikül olup toplamda 692 sayfadır.
- ✓ 1 fasikül deneme sınavlarından oluşmaktadır.
- ✓ Kazanımlar günlük ve yıllık plana göre sıralanmıştır.
- ✓ Kazanımlar haftalık dilimlerle verilerek kolay ve kalıcı öğrenme sağlanmıştır.
- ✓ Öğrencilerimize düzenli, öğretmenlerimize verimli çalışma imkanı sunmaktadır.
- ✓ Kolay taşınabilir, pratik, kullanışlı ve alanında bir ilk!



- 8 Adet Deneme Sınavı
- 20 sayfa



- Türkçe
- Matematik
- Hayat Bilgisi
- 1, 2, 3, 4. Hafta Etkinlikleri
- 80 sayfa



- Türkçe
- Matematik
- Hayat Bilgisi
- 5, 6, 7, 8. Hafta Etkinlikleri
- 80 sayfa



- Türkçe
- Matematik
- Hayat Bilgisi
- 9, 10, 11, 12, 13. Hafta Etkinlikleri
- 96 sayfa



- Türkçe
- Matematik
- Hayat Bilgisi
- 14, 15, 16, 17, 18. Hafta Etkinlikleri
- 96 sayfa



- Türkçe
- Matematik
- Hayat Bilgisi
- 19, 20, 21, 22. Hafta Etkinlikleri
- 80 sayfa



- Türkçe
- Matematik
- Hayat Bilgisi
- 23, 24, 25, 26. Hafta Etkinlikleri
- 80 sayfa



- Türkçe
- Matematik
- Hayat Bilgisi
- 27, 28, 29, 30, 31. Hafta Etkinlikleri
- 96 sayfa



- Türkçe
- Matematik
- Hayat Bilgisi
- 32, 33, 34, 35, 36. Hafta Etkinlikleri
- 64 sayfa



İvedik Organize Sanayi 1518 Sok. Matbaacılar Sitesi
Mat-Sit İş Merkezi No.:2/20 Yenimahalle / ANKARA
Telefon: 0 312 384 20 33 Belgegeçer: 0312 342 23 58
WhatsApp: 0505 099 24 84
www.giris yayinlari.com | girisyayinlari@gmail.com

