

3. Nisan ARA TATILI

Türkçe, Matematik, Fen Bilimleri, Hayat Bilgisi



Karekod
Çözümlü



Giriş
Yayınları

Türkçe

A. Aşağıdaki hikâyeyi okuyalım. Hikâyenin unsurlarını yazalım.

FİL VE FARE

Ormanın en büyük hayvanlarından olan filin büyük bir korkusu vardı. Koskoca fil, fareden korkuyordu. Bunu herkesten saklıyordu. Güneşli bir ilkbahar günü ormanda yürürken karşısına minik fare çıktı. Fil korkuyla bağırmaya başladı. Minik fare, filin bu bağırisına bir anlam veremedi. Fare, fili sakinleştirerek ne olduğunu sordu. Fil herkesten sakladığı korkusunu söyleyiverdi. Fare, filin korkularının üzerine gitmesi gerektiğini ve aslında korkulacak hiçbir şey olmadığını söyledi. Uzun bir sohbetten sonra fil, fareden korkmak bir yana, onu sevmeye başladı. Sonunda fil ve fare iyi birer dost oldular.

Varlık Kadrosu:

.....

Yer:

.....

Hikâyenin Adı:

.....

Olay:

.....

Zaman:

.....

B. Aşağıdaki sözcüklerin sözlük anlamları verilmiştir. Sözcükleri sözlük anlamlarının olduğu yere yazıp örnekteki gibi gösterelim.

- R O L M İ M İ K P A N D O M İ M İ F A D E İ L E T İ Ş İ M
- S E N A R Y O T A K L İ T G R U P J E S T

a	MİMİK	Yüz, el, kol hareketleriyle düşünceyi anlatma sanatı.
b	Tiyatro oyunu, film, dizi vb. eserlerin sahnelerini ve akışını gösteren yazılı metin.
c	Söz söylemeden oynanan oyun.
ç	Görüşleri, çıkarları bir olan kimseler bütünü, ekip.
d	Bir kişiliği canlandıran oyuncunun söylemesi ve yapması gereken hareketler.
e	Herhangi bir şeyi açıklamak için genellikle el, kol ve baş ile yapılan iradeli hareket.
f	Belli bir örneğe benzemeye veya benzetmeye çalışma, öykünme.
g	Bir duyguyu yüz aracılığıyla anlatan belirtilerin, mimiklerin bütünü.
ğ	Duygu, düşünce veya bilgilerin her türlü yolla başkalarına aktarılması, haberleşme.

C. Aşağıda verilen tabloya göre soruları cevaplayalım.

Hafta Boyu Atılan Gol Sayıları						
Gol	Pazartesi	Salı	Çarşamba	Perşembe	Cuma	Toplam
Tekin	2	3	1	2	3	
Çağlar	3	2	2	1	3	
Seçil	2	4	2	3	1	

1. Tekin beş günde kaç gol atmıştır?

.....

2. En çok gol hangi gün atılmıştır?

.....

3. En çok gol atan hangi öğrencidir?

.....

4. 5 günlük gol sayıları aynı olan kimlerdir?

.....



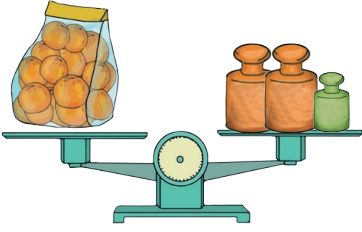
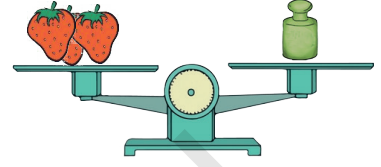
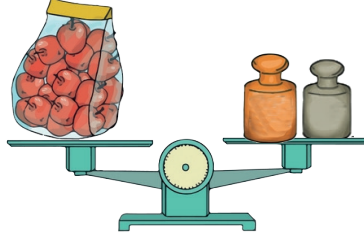

5. En az gol hangi gün atılmıştır?

.....

6. 3 kişinin tüm günler attığı gol sayısı kaçtır?

.....

J. Eşit kollu terazilerde tartılan ürünlerin kütlelerini altlarına yazalım.



K. Varlıkların kütlesi hangisi olabilir kutucukları işaretleyelim.

425 g	4 kg

50 g	50 kg

1 kg 500 g	5 kg

12 kg	120 g

300 g	30 kg

750 g	7 kg

150 g	3 kg

200 g	2 kg

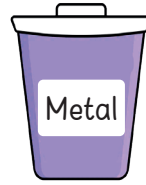
65 kg	700 kg

I. Çevremizde bulunan görseldeki yerlerin hangi ihtiyacımızı karşıladığını altlarına yazalım.



J. Aşağıda verilen atık malzemelerin adını uygun olan geri dönüşüm kutusuna yazalım.

- | | | | |
|-----------------------|----------------------|---------------------|----------------------|
| → Cam parçaları | → Alüminyum içecek | → Market poşeti | → Paslanmış kolye |
| → Karton kutular | → Ampul | → Eski çatal, kaşık | → Ayran kutusu |
| → Cam şampuan şişesi | → Eski gazete | → Yıpranmış kitap | → Çelik süzgeç |
| → Cam su bardağı | → Plastik oyuncaklar | → Plastik tabaklar | → Tencere |
| → Plastik yoğurt kabı | → Dergiler | → Cam kavanoz | → Kullanılmış defter |



K. Verilen görselleri inceleyelim. Doğal çevre olanlara "Doğal", yapay çevre olanlara "Yapay" yazalım.



E. Aşağıdaki görevlerin kimler tarafından yerine getirildiğini işaretleyelim.

Görevler	Muhtar	Vali	Belediye Başkanı	Kaymakam
En küçük yerel yönetim biriminin başındaki kişidir.				
İlçedeki en yetkili kişidir.				
Şehrimizdeki çöplerin toplanmasını sağlar.				
Seçimle göreve gelir.				
Mahallemizde yaşayan insanların sorunları ile ilgilenir.				
Köylülerin ihtiyaçlarını gerekli yerlere bildirir.				
İlde kanunların uygulanmasını sağlar.				
İlçede kanunların uygulanmasını sağlar.				
Sularımız kesildiğinde bilgi ve yardım alırız.				






F. Ülkemizde yer alan tarihi ve doğal güzelliklerin buldukları illeri noktalı alanlara yazalım.

Ankara Trabzon İstanbul Edirne
Antalya Nevşehir Karabük Denizli

Safranbolu Evleri Anıtkabir Selimiye Camii Topkapı Sarayı

Peri Bacaları Pamukkale Travertenleri Sümela Manastırı Aspendos Tiyatrosu

G. Aşağıdaki görsellerde verilen ortak kullanım alanlarının isimlerini altlarına yazınız.

.....

.....

.....

.....

.....

Bandrol Uygulamasına İlişkin Usul ve Esaslar Hakkında Yönetmeliğin 5 inci maddesinin ikinci fıkrası çerçevesinde bandrol taşıması zorunlu değildir.