



Akıllı Kalem

# HAF TA HAF TA

8+1. Fasikül

## DENEME SINAVLARI (8 ADET)



Karekod  
Çözümlü



Akıllı Tahta  
Uyumlu

4.  
sınıf

Pazartesi  
Salı  
Çarşamba  
Perşembe  
Cuma



Türkçe - Matematik - Fen Bilimleri  
- Sosyal Bilgiler

Yazarlar

Funda Menekşe  
Muharrem Ercan



Giriş  
Yayınları



1. ve 2. soruyu şiire göre cevaplayınız.

Oku güzel çocuk, mutluluktur  
Okumak böyle bir öğretmenden;  
Bu yeşil bahar okulunda.  
Bu doğal öğrenim yerinde,  
İşte çimenlerin güzel çocukları;  
Hep yaradılış dersinin okur yaprağını.

(...)

Tevfik FİKRET

1. Şiirin başlığı aşağıdakilerden hangisi olabilir?

- A) Çevremiz B) Sağlık  
C) Oku Güzel Çocuk D) Piknik Alanı

2. Bir kimsede doğuştan bulunan doğal yeteneklerin tümü.

Yukarıda anlamı verilen kelime aşağıdakilerden hangisidir?

- A) Yaradılış B) Kabiliyet  
C) Çimen D) Bahtiyar

3. Aşağıdaki sözcük çiftlerinden hangisi eş anlamlıdır?

- A) yaşlı - genç B) acı - tatlı  
C) uzun - kısa D) nemli - rutubetli

4. Aşağıdaki sözcükler alfabetik sıralandığında hangisi üçüncü sırada olur?

- A) Kale B) Kalem  
C) Kaleci D) Kadim

5. Aşağıdaki ifadelerden hangisi gerçek bir durumu anlatır?

- A) Çok konuştuğu için yorgundu.  
B) Güneş, gökyüzünde gülümsüyordu.  
C) Ormandaki hayvanların hepsi ona selam verdi.  
D) Elinde tuttuğu lamba dile geldi.

6. Bir yığın gereksiz, yersiz söz.

Yukarıda anlamı verilen deyim aşağıdaki cümlelerin hangisinde kullanılmıştır?

- A) Onu can evinden vurdu.  
B) Ayten'in dili açılmış.  
C) Mahmut, bize bir araba laf söyledi.  
D) Yıldızın jetonu geç düşer.

7. Öğretmeni, faydalı bilgiler verdi.

Altı çizili sözcüğün zıt anlamlısı aşağıdakilerden hangisidir?

- A) yararlı B) zararlı C) ünlü D) güçlü

8. Aşağıdaki kelimelerden hangisi eş sesli değildir?

- A) saz B) kız C) kağıt D) in

9. Aşağıda verilenlerden hangisinin yazılışı doğrudur?

- A) 08:45 B) 19.Mart.2021  
C) 21.01.2022 D) 29:02:2024



### ATATÜRK'ÜN KİŞİLİĞİ

Atatürk saygın bir kişiliğe sahipti. Bir halk önderinde bulunması gereken tüm nitelikler onda vardı. İdealistlik, disiplin, kararlılık ve mücadeleci, açık sözlülük, birleştiricilik ve bütünlük bu niteliklerin başlıcalarıydı.

Atatürk, her şeyden önce idealist bir devlet adamıydı. İlk ve en önemli ideali, Türk ulusunun özgürlük ve bağımsızlığıydı.

Atatürk, sabırlı ve disiplinliydi. Başarıya ulaşmak ve ideallerini gerçekleştirmek için böyle olunması gerektiğinin bilincindeydi. Onun, Samsun'a çıkışıyla başlayan ulusal Kurtuluş Savaşı işte bu anlayış sayesinde başarıyla sonuçlanmıştı.

Metin GÜL

1 ve 2. soruları metne göre cevaplayınız.

1. Aşağıdakilerden hangisi Atatürk'ün kişisel özelliklerinden biri değildir?

- A) İdealist B) Mücadeleci  
C) Kararlı D) Disiplinsiz

2. Atatürk ile ilgili aşağıdakilerden hangisi söylenemez?

- A) İdeallerini gerçekleştirmek için sabır ve disipline ihtiyacı olduğunu bilirdi.  
B) Bir halk önderinde olması gereken özellikler onda vardı.  
C) Sadece kendi ulusunun iyi olmasını isterdi.  
D) Türk ulusunun özgürlük ve bağımsızlığı onun idealiydi.

3. I. Gece gündüz demeden çalıştı.

II. Bu hata ilk ve son olsun.

III. Arka kapı açık kalmış.

IV. Yaşlı genç demeden herkes oraya koşmuştu.

Yukarıdaki cümlelerin hangisinde zıt anlamlı kelimeler bir arada kullanılmamıştır?

- A) I B) II C) III D) IV

4. Aşağıdaki atasözlerinin hangisinde zıt anlamlı kelimeler bir arada kullanılmıştır?

- A) Az veren candan çok veren maldan.  
B) Güneş balçıkla sıvanmaz.  
C) Altın yere düşmekle pul olmaz.  
D) Gülme komşuna gelir başına.

5.

Ey yükselen yeni nesil! İstikbal sizindir.

Mustafa Kemal Atatürk'ün özdeyişinde verilen altı çizili kelimenin anlamı aşağıdakilerden hangisidir?

- A) Geçmiş B) Bugün  
C) Gelecek D) Dün

6. Aşağıdaki kelime gruplarından hangisi eş anlamlı değildir?

- A) Harp - Savaş B) Birey - Fert  
C) İtina - Özen D) Gül - Ağla

7. Rakamları farklı dört basamaklı en büyük çift sayı "3579" sayısından kaç fazladır?

- A) 6297 B) 6296 C) 62950 D) 5297



1. Dersine çok çalıştı bunun sonucunda birinci oldu.

Aşağıdaki cümlelerden hangisi yukarıdaki cümle ile aynı çıkarımda değildir?

- A) Beni aramadı dolayısıyla ona kırıldım.  
B) Hava almak için balkona çıktı.  
C) Okula gidemediğinden o konuyu öğrenemedi.  
D) Yarışı kaybettiği için üzüldü.

2. Aşağıdaki cümlelerin hangisinde karşılaştırma yapılmıştır?

- A) En çok pizzayı severim.  
B) Bahar gelmiş, hoş gelmiş.  
C) Ben on yaşındayım.  
D) Sana bunu kırk kere söyledim.

3. "Melda, prenses gibi güzel olmuştu."

Yukarıdaki cümlede Melda neye benzetilmiştir?

- A) Peri B) Cadı C) Pamuk D) Prenses

4. Aşağıdaki cümlelerin hangisinde mecaz anlamlı bir kelime kullanılmamıştır?

- A) Eline diken battığı için ağlıyordu.  
B) Beni çok sıcak karşıladı.  
C) O tatlı gülüşü yok mu?  
D) Yüzünde acı bir tebessüm vardı.

5. Aşağıdaki sözcüklerden hangisi türemiş yapıdır?

- A) Balık B) Telefon  
C) Yağmur D) Kalem

6. Bir gün Hoca'nın yanına komşularından biri soluk soluğa gelmiş:

- Aman Hocam ( ) Sizin ev yanıyor ( )  
Kapıyı çaldım ( ) içeriden ses gelmedi ( )  
Koşun, yetişin ( )

Yukarıdaki parçada yay ayracı ile belirtilen yerlere hangi noktalama işaretleri gelmelidir?

- A) (!) (.) (.) (.) (!) B) (!) (.) (.) (!) (.)  
C) (.) (!) (.) (.) (!) D) (.) (!) (.) (.) (!)

7. "Tabaktaki ıspanak yemeğini görünce burun kıvrıldı."

Bu cümledeki altı çizili deyim anlamı aşağıdakilerden hangisidir?

- A) Sinirlenmek B) Beğenmemek  
C) Hoşlanmak D) Şaşırmak

8. Aşağıda verilen atasözlerinden hangisi farklı bir konu ile ilgilidir?

- A) Sakla samanı gelir zamanı.  
B) Ak akçe kara gün içindir.  
C) Üzüm üzüme baka baka kararır.  
D) Damlaya damlaya göl olur.

9. "Demek sen de ( ) Peki ( ) öyle olsun ( )" ifadesinde parantezle gösterilen yerlere hangi noktalama işaretleri getirilmelidir?

- A) (...) (.) (!) B) (!) (.) (...)  
C) (...) (!) (!) D) (:) (...) (.)



## ÖMER HAYYAM

18 Mayıs 1048'de İran'ın Nişabur kentinde doğmuştur. Yaşadığı dönemde İbn-i Sina'dan sonra Doğu'nun yetiştirdiği en büyük bilgin olarak kabul edilir. Tıp, fizik, astronomi, cebir, geometri ve yüksek matematik alanlarında çalışmalar yaptı. Binom açılımını bulan ilk kişi olduğu düşünülmektedir.

1, 2 ve 3. soruları metne göre cevaplayınız.

1. Ömer Hayyam kaç yılında ve nerede doğmuştur?

- A) 18 Mayıs 1048 - Irak  
B) 18 Eylül 1048 - İran  
C) 18 Mayıs 1048 - İran  
D) 18 Mart 1048 - Irak

2. Aşağıdakilerden hangisi Ömer Hayyam'ın çalışma yaptığı alanlardan biri değildir?

- A) Tıp B) Felsefe C) Geometri D) Fizik

3. Ömer Hayyam aşağıdakilerden hangisini bulan ilk kişi diye düşünülmüştür?

- A) Binom Açılımı B) Ampul  
C) Suyun Kaldırma Kuvveti D) Yer Çekimi

4. "Hikâyede ortaya konulan olayın açıldığı bölümdür."

Yukarıda verilen bölüm aşağıdakilerden hangisidir?

- A) Sonuç B) Serim C) Düğüm D) Çözüm

5. Hangi seçenekteki kelimeler anlam ilişkisi bakımından farklıdır?

- A) İlk - Son B) Gel - Git  
C) Hatıra - Anı D) Dost - Hasım

6. Aşağıdaki kelimelerden hangisi terim anlamı değildir?

- A) Kesir B) Kalem  
C) Harita D) Dekor

7. "Çok çalıştığı için bilim insanı oldu." cümlesi aşağıdakilerden hangisine örnektir?

- A) Neden - Sonuç B) Koşul - Sonuç  
C) Örneklendirme D) Benzetme

8. Aşağıdaki cümlelerin hangisinde yazım yanlışı yoktur?

- A) Sende bizimle gel.  
B) Evde ki misafirlere ayıp oldu.  
C) Banada sorki sana yardımcı olayım.  
D) Çantadaki su her yere dökülmüş.

9.

$$269 \times 30$$

Yukarıdaki işlemin sonucu en yakın onluğa yuvarlanarak tahmin ediliyor.

Buna göre tahmini sonuç kaçtır?

- A) 8000 B) 8100 C) 8200 D) 8300

10.

$$8274 \div 6 = \dots\dots\dots$$

Yukarıdaki işlemin sonucu kaç basamaklıdır?

- A) 4 B) 3 C) 2 D) 1



1. Bugün okulumuza sağlık görevlileri geldi. Diş florürü yaptılar. İlk seferinde sınıfı görmemiz lazımdı. Tükürenler, midesi bulanlar... Şimdi durum daha iyi sayılır. Sorun yaşayan bir iki kişi oldu. Ama onlar da çabuk atlattı. Annem florür yaptırmamı istiyor. Faydalıymış. Ah bir de bu kötü tadı olmasa...
- Yukarıdaki metnin başlığı aşağıdakilerden hangisi olamaz?
- A) Diş Florürü  
B) Sağlıklı Dişlerim  
C) Diş Hekimini Ziyaret  
D) Sınıfta Florür Uygulaması
2. Fırat ( )  
( ) Bugün hava yağmurlu, dedi ( )
- Yukarıdaki metinde boş bırakılan yerlere aşağıdakilerden hangisi getirilemez?
- A) Uzun çizgi  
B) İki nokta  
C) Nokta  
D) Ünlem İşareti
3. Aşağıdaki cümlelerin hangisinde pekiştirmeli sözcük kullanılmıştır?
- A) Onun yeri bambaşka.  
B) Kaça kadar çalışacaksın?  
C) Spor salonuna gidiyor musun?  
D) Çocuk kaç yaşındaymış?
4. "Onlar doğum gününe gelecek." cümlesinde altı çizili sözcüğün türü aşağıdakilerden hangisidir?
- A) Adil  
B) Ön ad  
C) İsim  
D) Eylem
5. "Konuşma çizgisinin diğer adı .....dir." cümlesinde boş bırakılan yere aşağıdakilerden hangisi yazılmalıdır?
- A) Kısa çizgi  
B) Uzun çizgi  
C) Tırnak işareti  
D) Ünlem işareti
6. Aşağıdaki cümlelerin hangisinde yazım yanlışı vardır?
- A) Pırl, on altı yaşındadır.  
B) I. Dünya Savaşı 1914 yılında başlamıştır.  
C) Kurabiyeleri 3'er 3'er paylaştık.  
D) Onunla 11.00'de görüşeceğiz.
7. Aşağıdaki cümlelerden hangisi abartılı bir ifade içermektedir?
- A) Bugün canım çok sıkılıyor.  
B) Dedem geleceği için heyecanlıyım.  
C) Ondan binlerce kez özür diledi.  
D) Beni kırdığı için üzgündü.
- 8.
- |  |  |  |  |  |  |
|--|--|--|--|--|--|
|  |  |  |  |  |  |
|  |  |  |  |  |  |
- Yukarıdaki şeklin ifade ettiği kesir aşağıdakilerden hangisidir?
- A)  $\frac{5}{12}$   
B)  $\frac{6}{12}$   
C)  $\frac{7}{12}$   
D)  $\frac{8}{12}$
9. Aşağıdaki kesirlerden hangisi bileşik kesirdir?
- A)  $\frac{8}{11}$   
B)  $\frac{10}{14}$   
C)  $\frac{5}{9}$   
D)  $\frac{7}{7}$



1. I. Gönül almak

II. Gönül kapısı

III. Gönül yarası

IV. Gönül kırmak

Yukarıdaki deyimlerden hangi ikisi karşıt (zıt) anlamlıdır?

A) I ve II B) II ve III C) I ve IV D) II ve IV

2. "En sevdiğim film ne zaman gösterime girer, bilmiyorum ( )" cümlede boş bırakılan yere aşağıdakilerden hangisi getirilmelidir?

A) ? B) . C) ! D) ...

3. Sen hala "Küçük Prenses"i okumadın mı?

Cümle için aşağıdakilerden hangisi söylenemez?

A) Cümlede geçen eser adları tırnak işareti ile gösterilir.

B) Ünlem cümlesidir.

C) Tırnak içine alınan sözlerden sonra gelen ekleri ayırmak için kesme işareti kullanılmaz.

D) Noktalama işaretleri doğru kullanılmıştır.

4. Aşağıdaki cümlelerin hangisinden virgül çıkarılırsa cümlelerin anlamı değişir?

A) Çocuk, ayakkabılarını aldı.

B) Hasan, çok üzgündü.

C) O, beni aramadı.

D) Nuray, ders çalışıyor.

5.

Bugünün işini yarına bırakma.

Yukarıdaki atasözünü aşağıdakilerden hangisi ile ilgilidir?

A) Tutumluluk

B) Planlı olmak

C) Ders çalışma

D) Cesaret

6. Aşağıdaki cümlelerden hangisi bir metnin sonuç cümlesi olabilir?

A) Yemeği görünce burun kıvrıldı.

B) Çok çalışıyor, gözü ailesini bile görmüyordu.

C) Nihayet istediği oyuncuğa kavuşmuştu.

D) Bu olaya farklı bir bakış açısı kazandırdı.

7. Aşağıdaki kelimelerden hangisinin Türkçe karşılığı yanlış verilmiştir?

A) Online → Çevrim içi

B) Objektif → Tarafsız

C) Bariyer → Engel

D) Ambulans → Yardımcı

8. 18.23'te ders çalışmaya başlayan Derya, 72 dakika ders çalışmıştır.

Buna göre Derya ders çalışmayı bıraktığında saat kaç olur?

A) 19.25

B) 19.30

C) 19.35

D) 19.40



1. "Dördüncü sınıfa giden Sevgi on yaşındaydı. Akıllı ve derslerinde başarılı bir çocuktur. Birinci sınıfa giden Hale ise ona hiç benzemiyordu. Durmadan konuşur, aklına geleni söylerdi. Bu yüzden iki kardeş pek anlaşamazlardı."

Yukarıdaki paragrafa göre aşağıdakilerden hangisi söylenemez?

- A) Sevgi, Hale'den yaşça büyüktür.
- B) Sevgi, Hale'den daha gevezedir.
- C) Hale, birinci sınıfa gitmektedir.
- D) Sevgi ile Hale'nin anlaşamamalarının nedeni farklı olmalarıdır.

2. "Karnesi yine zayıflarla dolu."

Bu cümleden aşağıdaki çıkarımlardan hangisini kesinlikle yapabiliriz?

- A) Her karnesi harikaymış.
- B) İlk defa düşük not almış.
- C) Karnesi daha önce de kötüymüş.
- D) Sadece bir önceki karnesi zayıfmış.

3. "Bütün anneler fedakârdır."

cümlesinde altı çizili kelime yerine aşağıdaki kelimelerden hangisi getirilebilir?

- A) Harika B) Melek C) Güzel D) Özverili

4. "Her işin yapılması için mutlaka uygun bir zaman vardır." anlamındaki atasözü aşağıdakilerden hangisidir?

- A) Dikensiz gül olmaz.
- B) Demir tavında dövülür.
- C) Davulun sesi uzaktan hoş gelir.
- D) Vakit nakittir.

5. Aşağıdaki cümlelerden hangisi sebep - sonuç cümlesidir?

- A) Yumurta almak için markete gitti.
- B) Sakinleşmek için dışarı çıktı.
- C) Çok çalıştığı için birinci oldu.
- D) Okumak için yurt dışına gitti.

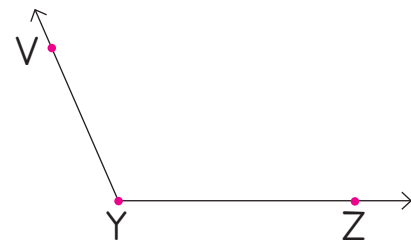
6. Aşağıdaki cümlelerin hangisinde yazım yanlışı vardır?

- A) THY'den emekli oldu.
- B) En büyük hayali TRT'de çalışmaktır.
- C) TBMM'de toplantı var.
- D) 1000 TL'dan başka parası yoktu.

7. Aşağıdakilerden hangisi düzlem modelidir?

- A)  B)  C)  D) 

8.



Yukarıda verilen açının gösterimi aşağıdakilerden hangisi olamaz?

- A)  $\widehat{VYZ}$  B)  $\widehat{ZVY}$  C)  $\widehat{Y}$  D)  $\widehat{ZYV}$

9. Aşağıdakilerden hangisinde açı modeli yoktur?

- A)  B)  C)  D) 





1. Bir varmış, bir yokmuş. Evvel zaman içinde, kalbur saman içinde uzak ülkelerin birinde güzel bir prenses yaşarmış. Bu prensesin iyi kalpli bir babası varmış. (...)

Yukarıdaki metnin türü hangisidir?

- A) Fabl B) Şiir C) Masal D) Hikâye

2. On sekiz temmuz bin dokuz yüz seksen üç

Yukarıda verilen tarihin sayılarla doğru yazılışı hangi seçenekteki gibi olmalıdır?

- A) 18. Temmuz. 1983  
B) 18. 07. 1983  
C) 18 temmuz 1983  
D) 18 / Temmuz, 1983

3. Karadeniz'in Doğusun'da kar yağışı etkili olacak mı.

Yukarıdaki cümlede kaç tane yazım ve noktalama yanlışı vardır?

- A) 1 B) 2 C) 3 D) 4

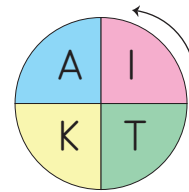
4. "Evren" kelimesinin eş anlamlısı aşağıdakilerden hangisidir?

- A) Doğa B) Tabiat C) Dünya D) Kainat

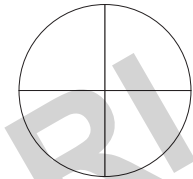
5. Aşağıdaki cümlelerin hangisinde altı çizili sözcük gerçek anlamda kullanılmamıştır?

- A) Bugün hava çok soğuk.  
B) Öyle yorgundu ki çok derin uyuyordu.  
C) Yazı yazmayı pek sevmiyordu.  
D) Yaz tatilinde düğünü varmış.

6.



Şekil I



Şekil II

Yukarıdaki şekil saat yönünün tersinde üç çeyrek dönüş yapınca şekil II'deki görünümü nasıl olur?

- A)
- B)
- C)
- D)

7. Bir kenar uzunluğu 8 cm olan karenin çevresi kaç cm'dir?

- A) 16 B) 30 C) 32 D) 64

8. Aşağıdakilerden hangisinde ağırlık ölçüsü birimleri küçükten büyüğe doğru sıralanmıştır?

- A) mg < kg < g < t B) g < mg < kg < t  
C) mg < t < kg < g D) mg < g < kg < t



Akıllı Kalem

# HAFTA HAFTA

## NEDEN FASİKÜL?

Değerli Öğretmenlerimiz;

- ✓ Etkinlik kitabımız 8+1 fasikül olup toplamda 692 sayfadır.
- ✓ 1 fasikül deneme sınavlarından oluşmaktadır.
- ✓ Kazanımlar günlük ve yıllık plana göre sıralanmıştır.
- ✓ Kazanımlar haftalık dilimlerle verilerek kolay ve kalıcı öğrenme sağlanmıştır.
- ✓ Öğrencilerimize düzenli, öğretmenlerimize verimli çalışma imkanı sunmaktadır.
- ✓ Kolay taşınabilir, pratik, kullanışlı ve alanında bir ilk!



- 8 Adet Deneme Sınavı
- 20 sayfa



- Türkçe
- Matematik
- Fen Bilimleri
- Sosyal Bilgiler
- 1, 2, 3, 4. Hafta Etkinlikleri
- 80 sayfa



- Türkçe
- Matematik
- Fen Bilimleri
- Sosyal Bilgiler
- 5, 6, 7, 8. Hafta Etkinlikleri
- 80 sayfa



- Türkçe
- Matematik
- Fen Bilimleri
- Sosyal Bilgiler
- 9, 10, 11, 12, 13. Hafta Etkinlikleri
- 96 sayfa



- Türkçe
- Matematik
- Fen Bilimleri
- Sosyal Bilgiler
- 14, 15, 16, 17, 18. Hafta Etkinlikleri
- 96 sayfa



- Türkçe
- Matematik
- Fen Bilimleri
- Sosyal Bilgiler
- 19, 20, 21, 22. Hafta Etkinlikleri
- 80 sayfa



- Türkçe
- Matematik
- Fen Bilimleri
- Sosyal Bilgiler
- 23, 24, 25, 26. Hafta Etkinlikleri
- 80 sayfa



- Türkçe
- Matematik
- Fen Bilimleri
- Sosyal Bilgiler
- 27, 28, 29, 30, 31. Hafta Etkinlikleri
- 96 sayfa



- Türkçe
- Matematik
- Fen Bilimleri
- Sosyal Bilgiler
- 32, 33, 34, 35, 36. Hafta Etkinlikleri
- 64 sayfa



Giriş  
Yayınları

İvedik Organize Sanayi 1518 Sok. Matbaacılar Sitesi  
Mat-Sit İş Merkezi No.:2/20 Yenimahalle / ANKARA  
Telefon: 0 312 384 20 33 Belgegeçer: 0312 342 23 58  
WhatsApp: 0505 099 24 84  
www.girisyayinlari.com | girisyayinlari@gmail.com

