

**5.
SINIF**

TÜM DERSLER

Türkçe – Matematik – Fen Bilimleri
Sosyal Bilgiler – Din Kültürü ve Ahlak Bilgisi – İngilizce

Beceri Temelli

TESTLER

Yeni
Nesil

çek koparlı



5. SINIF
TÜM DERSLER
BE CERİ TEMELLİ TESTLER

©

EDİTÖR

Turgut MEŞE

YAZAR

Komisyon

Bütün hakları Editör Yayınevi'ne aittir.
Yayınevinin izni olmaksızın, kitabın tümünün veya
bir kısmının basımı, çoğaltılması ve dağıtımı yapılamaz.
Editör Yayınevi bir Data Yayınları markasıdır.

ISBN/TARİH

978-605-280-226-7 / 14.05.20

SERTİFİKA NO

16199

KAPAK TASARIMI

Editör Yayınevi Dizgi Ekibi

SAYFA TASARIMI

Editör Yayınevi Tasarım Ekibi

BASKI VE CİLT

Melih Ambalaj

ANKARA



İLETİŞİM

İvedik Organize Sanayi Matbaacılar Sitesi

1518 Sok. Mat-Sit İş Merkezi No:2/20

Yenimahalle / ANKARA

Tel: 0 312 384 20 33 - 0 505 925 57 81

Fax: 0312 342 23 58

www.editoryayinevi.com

İÇİNDEKİLER

TÜRKÇE	3
MATEMATİK	69
FEN BİLİMLERİ	147
SOSYAL BİLGİLER	199
DİN KÜLTÜRÜ VE AHLAK BİLGİSİ	241
İNGİLİZCE	253
CEVAP ANAHTARI	275

Kitap hakkında görüş ve önerileriniz için

WhatsApp hattımız: 05422620337

TÜRKÇE

EDİTÖR YAYINEVİ

İÇİNDEKİLER

✦ SÖZCÜKTE ANLAM	5	✦ METİN TÜRLERİ	51
✦ KÖKLER VE EKLER	15	✦ METİNLERİN KARŞILAŞTIRILMASI	53
✦ SÖZ GRUPLARINDA ANLAM	19	✦ ŞİİR	55
✦ SES OLAYLARI	21	✦ SÖZ SANATLARI	57
✦ CÜMLEDE ANLAM	25	✦ HİKÂYE UNSURLARI	59
✦ YAZIM KURALLARI	33	✦ 5N 1K	61
✦ PARÇADA ANLAM	37	✦ SÖZLÜ İLETİŞİM	63
✦ NOKTALAMA İŞARETLERİ	43	✦ MEDYA METİNLERİ VE BİLGİ KAYNAKLARININ GÜVENİLİRLİĞİ . . .	65
✦ GÖRSEL OKUMA	47	✦ SÖZEL MANTIK VE MUHAKEME	67
✦ TABLO VE GRAFİK YORUMLAMA	49		

1. "Ağır" sözcüğü aşağıdaki cümlelerin hangisinde farklı bir anlamda kullanılmıştır?

- A) Bu ağır kasayı da götürün.
B) Ağır yük taşımaktan bıktım.
C) Demir ağır bir madendir.
D) İşlerini ağırdan alıyordu.

2. I. Öfkeli ailenin ateşi dinmedi.
II. Adam bardak kırar gibi kalp kırıyordu.
III. Üzerinde yırtık pırtık bir elbise vardı.
IV. Sınavdan sonra akli başına geldi.

Yukarıda numaralanmış cümlelerin hangisinde mecaz anlam yoktur?

- A) I B) II C) III D) IV

3. Aşağıdaki cümlelerin hangisinde özelden genele doğru bir sıralama vardır?

- A) Diktiğimiz küçük ağaçlardan dev bir orman oluşmuş.
B) Kırmızı kalemimi okulda unutmuşum.
C) Haftaya cuma günü sinemaya gideceğiz.
D) Arkadaşımın çok güzel bir sesi var.

4. "İyi - kötü" kelimeleri arasındaki anlam ilişkisi aşağıdakilerden hangisinde yoktur?

- A) gece - gündüz B) kısa - uzun
C) yalan - yanlış D) siyah - beyaz

5. Aşağıdaki cümlelerin hangisinde altı çizili sözcük gerçek anlamda kullanılmıştır?

- A) Arkadaşım öfkesinden neredeyse patlayacaktı.
B) Onu aklımdan bir türlü silemiyorum.
C) Kapının anahtarını yeni yaptırдық.
D) Durduk yere yine kalbimi kırdı.

6. Son yıllarda toplumumuzun görsel sanatlar sevgisinde bir kıvılcıktan görülmüyor. Her sanat dalı yaşama açılan pencerelerden biridir. Pencereleri hepten kapanmış binada ömür geçirmeye tahammül edenler, ruh çölünde yaşıyor demektir. Çölden dışarı adım atanlar, yaşadıkları yerlerin duvarlarına resim asmaya, heykelle ilgilenmeye, fotoğraf çekmeye başladılar. Bu, övgüye değer!

Bu metinde geçen "Pencereleri hepten kapanmış binada ömür geçirmek" sözüyle anlatılmak istenen aşağıdakilerden hangisidir?

- A) Çevresindekilerle iletişime kapalı olmak
B) Sanattan yoksun bir hayat sürdürmek
C) Hayata farklı açılardan bakamamak
D) Tek bir sanat dalına yoğunlaşmak

7. Aşağıdaki cümlelerin hangisinde terim anlamı bir sözcük kullanılmamıştır?

- A) Müzik dersinde notaları öğrendik.
B) Defterime çok güzel kafiyeli şiirler yazdım.
C) Tuncay hızlı adımlarla okula gidiyordu.
D) Tiyatro üç perdeden oluşuyor.

8.



Ömer, parkta gördüğü baloncudan bir balon almıştır. Ömer'in aldığı balonun üzerinde zıt anlamlı sözcükler yer almaktadır.

Buna göre Ömer kaç numaralı balonu seçmiştir?

- A) I B) II C) III D) IV

9.



Vagondaki hangi sözcüğün sesteki vardır?

- A) Gece B) Üzüm
C) Yağ D) Kuş

10, 11 ve 12. soruları aşağıdaki metne göre cevaplayınız.

Etkili iletişim kurmanın özellikle gençlerin sosyalleşmesi açısından önemi büyüktür. Gencin aile, okul ve akranları ile iyi iletişimde olması hem başarısı hem de sosyalleşmesi yönünden önemlidir.

Aile bireylerinin aralarında kuracakları iletişim paylaşma ve bütünleşmeyi hedeflemelidir. Sağlıklı iletişim kurabilmek için gençlere olumlu duygu ve düşüncelerle yaklaşılmalıdır. Duygu ve düşüncelerin ifadesinde pozitiflerin fazla olması gençlerin iyi davranışlar kazanmasını ve etkili bir iletişim kurmasını sağlar. Eğer aile içinde olumsuz tutum ve davranışlar ön plandaysa gençlerde savunmacı bir iletişim ortaya çıkmaktadır. Bununla birlikte okulda yönetici ve öğretmenlerin olumlu yaklaşımı, gencin akranları ile iyi iletişimde olması, etkili iletişim kurulmasına olanak sağlar. Etkili ve iyi bir iletişim gencin huzurlu, başarılı, sabırlı, kaygısız, güvenli, sorumluluğunu bilen, duygu ve düşüncelerini açıklayabilen, eleştirilere açık, sorunlara çözüm getirebilen bireyler olarak yetişmesini sağlar.

10. Metindeki altı çizili kelimelerin eş anlamlıları hangi seçenekte sırasıyla doğru verilmiştir?

- A) yaşlı - ehemmiyet - fikir - şart - insan
- B) ehemmiyet - yaşıt - fikir - imkân - fert
- C) imkân - fikir - fert - yaşıt - ehemmiyet
- D) yaşıt - ehemmiyet - akıl - imkân - aile

11. Metinden alınan aşağıdaki cümlelerin hangisinde eş anlamlı (anlamdaş) kelimeler bir arada kullanılmıştır?

- A) Gencin aile, okul ve akranları ile iyi iletişimde olması hem başarısı hem de sosyalleşmesi yönünden önemlidir.
- B) Duygu ve düşüncelerin ifadesinde pozitiflerin fazla olması gençlerin iyi davranışlar kazanmasını ve etkili bir iletişim kurmasını sağlar.
- C) Bununla birlikte okulda yönetici ve öğretmenlerin olumlu yaklaşımı, gencin akranları ile iyi iletişimde olması, etkili iletişim kurulmasına olanak sağlar.
- D) Eğer aile içinde olumsuz tutum ve davranışlar ön plandaysa gençlerde savunmacı bir iletişim ortaya çıkmaktadır.

12. Metinde geçen;

- iletişim
- duygu
- eleştiri
- sorumluluk

kelimeleri,

- Duyuları algılama, his.
- Kişinin kendi davranışlarını veya kendi yetki alanına giren herhangi bir olayın sonuçlarını üstlenmesi.
- Duygu, düşünce veya bilgilerin akla gelebilecek yanlarını bulup göstermek amacıyla inceleme işi, tenkit.

anlamlarıyla eşleştirildiğinde hangi kelime açıkta kalır?

- A) iletişim
- B) eleştiri
- C) duygu
- D) sorumluluk

1. Aşağıdaki altı çizili sözcüklerden hangisi somut anlamlı iken soyut anlam kazanmıştır?

- A) İnsan bu kadar taş kalpli olur mu?
 B) Çok zeki bir çocuktuk.
 C) Bahçede çeşit çeşit gül vardı.
 D) Benim de hayallerim vardı.

2. Aşağıdaki cümlelerin hangisinde altı çizili sözcük soyutken somut anlam kazanmıştır?

- A) Toplantıda çok heyecanlanmıştı.
 B) Valizine birkaç parça da mutluluk koydu.
 C) Keskin fikirlerinin olduğunu bilmiyordum.
 D) Büyüklere karşı çok saygılıydı.

3. Aşağıdaki altı çizili sözcüklerden hangisi gerçek anlamıyla kullanılmamıştır?

- A) Babası çok iyi bir insandı.
 B) Ali gözlerinden ameliyat olmuş.
 C) İki çocuğu da sınavı kazanmış.
 D) Evin bütün yükü onun omuzlarındaydı.

4. Aşağıdakilerden hangisinde "bakmak" sözcüğü "beslemek, geçindirmek" anlamında kullanılmıştır?

- A) Evin bütün işleri bana bakıyor.
 B) Yemeğin tadına bakabilir misiniz?
 C) Zaman çok değerli, onu boş geçirmemeye bak.
 D) Üç çocuklu bir aileye bakıyordu.

5. Kirazları yeni almasına rağmen hepsi geçmişti. Yukarıdaki cümlede geçen "geçmek" fiili hangi anlamda kullanılmıştır?

- A) Aşmak, geride bırakmak
 B) Tükenmek, bitmek
 C) Herhangi bir durum, soya çekim yoluyla birinde görünmek
 D) Çok bekletilmekten çürümeye yüz tutmak

6. Aşağıdaki cümlelerin hangisinde "aşağı" sözcüğünün zıt anlamlısı kullanılmıştır?

- A) Fiyatlar günden güne artıyor.
 B) Dışarıda soğuk bir hava var.
 C) Her yer karla kaplanmış durumda.
 D) Yukarı çıkıp biraz ısınayım.

7. "Sözcük-kelime" arasındaki anlam ilişkisi aşağıdakilerden hangisinde yoktur?

- A) öykü - hikâye
 B) söylemek - susmak
 C) fayda - yarar
 D) güçlü - kuvvetli

8. Aşağıdaki altı çizili sözcüklerden hangisi terim anlamda kullanılmamıştır?

- A) Dört kök dışına iki olarak çıkar.
 B) Geometri dersinde defterimize doğru çizdik.
 C) Yazar son romanında özgünlüğü yakalamıştı.
 D) Uyandıığım gibi perdeyi açıp dışarıyı seyrettim.

9.



Sevgili Öğrenciler,
 "Durulmak" sözcüğünü
 "temiz hâle gelmek"
 anlamında kullanmanızı
 istiyorum.

Aşağıdaki öğrencilerden hangisi Zehra öğretmeninin isteğine uygun cevap vermiştir?

- A) Aslı: Fırtına durulsun da öyle yola çıkalım.
 B) Ayşe: Dereden akan bulanık su duruldu.
 C) Mert: Yağmur durulunca yola devam ederiz.
 D) Hasan: Yaşanan karışıklık bir süre sonra duruldu.

10.

■	yokuş	iniş
●	soru	cevap
▲	gelir	gelmez
♥	yanlış	doğru

Yukarıda sembollerle gösterilen sözcüklerden hangisinin zıt anlamı yanlış verilmiştir?

- A) ■ B) ● C) ▲ D) ♥

11, 12 ve 13. soruları aşağıdaki metne göre cevaplayınız.

Şu hikâyeyi nerede dinledim bilmiyorum ama adaletimizin vicdanı üstüne tam bir fikir veriyor. Bir köylü kadın, hakseverliğiyle ünlü bir generale bir askerini şikayet etmiş; bu askerın ufacak çocukların elinden birkaç lokmalık lapayı aldığı; çocuklarına yedirecek başka hiçbir şeyi kalmadığını çünkü ordunun çevredeki bütün köyleri talan ettiğini söylemiş. Ama hiç kanıt yokmuş ortada. General kadına "İyi bak ve düşün, haksız yere suç yüklüyorsan ceza görürsün." demiş. Kadın diretince, işin doğrusunu anlamak için askerın karnını yardım vermiş. Ve kadın haklı çıkmış.

11. Parçada geçen altı çizili "talan etmek" birleşik fiilinin cümleye kattığı anlam aşağıdakilerden hangisinde vardır?

- A) Bugün yaşadığım korku beni tepe taklak etti.
- B) Çiftçiler tarlayı bu yıl erken hasat etti.
- C) ABD savaş sırasında Irak'ın bütün sokaklarını yağmaladı.
- D) Devlet büyükleri köy halkına yardım etti.

12. Parçada geçen olayı anlatan en uygun söz aşağıdakilerden hangisidir?

- A) Asil ve haysiyetli insan, hak ve adaleti her şeyin üstünde tutar.
- B) Başarı en güzel intikamdır.
- C) Adalet topaldır, ağır yürür fakat gideceği yere er geç varır.
- D) Kendine yapabileceğin en büyük fenalık, kendine olan güvenini kaybetmektir.

13. Parçada geçen "İyi bak ve düşün, haksız yere suç yüklüyorsan ceza görürsün." cümlesinde altı çizili ifade ile anlatılmak istenen aşağıdakilerden hangisinde vardır?

- A) Kendi keyfi için hakkımı yedi.
- B) Yapılanları hiç hak etmediği halde, yaşamak zorunda kaldı.
- C) "Elbet hakkım çıkar." dedi.
- D) Hakkını savunmak için dava açtı.

14.



Her şeyin ilacı sevgidir.



Matematik dersinde üçgenler konusunu işledik.



Kitaplarını dolaba yerleştirdi.



Resim çizmeye hiç zamanım yok.

Yukarıdaki cümlelerde altı çizili sözcüklerin anlamı sırasıyla aşağıdakilerden hangisinde doğru olarak verilmiştir?

- A) Terim - Somut - Gerçek - Soyut
- B) Soyut - Terim - Somut - Gerçek
- C) Somut - Gerçek - Soyut - Terim
- D) Soyut - Terim - Gerçek - Somut

1. Bilgi: Yapım eki almış sözcüklere türemiş sözcükler denir.

Örnek:

Buna göre aşağıdaki seçeneklerden hangisi bu duruma örnek olarak verilebilir?

- A) gelinlik, kalemlik, koşucu, dalgıç
- B) geldi, gitti, koştu, uyudu
- C) sev, bak, iç, ye
- D) sıra, masa, kalem, ağaç

2. Aşağıdakilerden hangisinde türemiş bir sözcük kullanılmamıştır?

- A) Araba buzlu yollardan gitti.
- B) Kitabı, kitaplıktaki yerine koy.
- C) Öğrenciler dışarıda top oynuyorlar.
- D) Babamı çok ama çok seviyorum.

3. Aşağıdaki cümlelerin hangisinde birleşik sözcük vardır?

- A) Boğulmak üzere olan çocuğa cankurtaran yetişti.
- B) Saçıdaki toka çok güzeldi.
- C) Kızlar genellikle pembe rengi sever.
- D) Yıllardır Ankara'da tek başına kalıyor.

4. Aşağıdaki seçeneklerin hangisinde yer alan sözcüklerin tamamı türemiştir?

- A) et - sucuk - yumurta - tava
- B) kapıcı - gelinlik - durak - vatandaş
- C) mutluluk - sevgi - güz - gül
- D) kalemlik - silgi - sıra - masa

5. Aşağıdaki altı çizili sözcüklerden hangisi birden fazla yapım eki almıştır?

- A) Kitaplıktaki tüm kitapları okumuş.
- B) Arkadaşının hediye ettiği kalemligi çok beğendi.
- C) Birdenbire neden durgunlaştın?
- D) Yazarın yeni yapıtı çok tutuldu.

6. Aşağıdaki altı çizili sözcüklerden hangisi yapı bakımından diğerlerinden farklıdır?

- A) İmzalanan ateşkesle barış sağlandı.
- B) Çocuğu okuldan bugün de sen aliver.
- C) Biraz uzakta market var.
- D) Adım adım sona doğru yaklaşıyordu.

7. Aşağıdaki cümlelerden hangisinin yüklemi birleşik bir sözcüktür?

- A) Arda, gelen büyük teklifi reddetmiş.
- B) Karşıdan karşıya geçerken çok korktum.
- C) Dedesi Kurtuluş Savaşı'na katılmış.
- D) Son olaylardan sonra çok üzüldüm.

8. Aşağıdaki cümlelerden hangisinin yüklemi basit bir sözcüktür?

- A) Kardeşi sinava hazırlanıyormuş.
- B) Hastanın durumu her geçen gün ağırlaşıyordu.
- C) Kaybettiği mutluluğu saatlerce aradı.
- D) Parkta ailemle biraz gezindik.

9. Gülşah Öğretmen:

- Babamın çalışma masası çok düzenlidir.

Okan:

- "Çalışma" sözcüğü türemiş bir sözcüktür.

Buse:

- "Masası" sözcüğü basit bir sözcüktür.

Hüseyin:

- "Düzenli" sözcüğü basit yapı bir sözcüktür.

Selin:

- "Babamın" sözcüğü basit yapıdır.

Gülşah Öğretmen öğrencilerinden kurduğu cümledeki sözcüklerin yapılarına göre nasıl sözcükler olduğunu söylemelerini ister.

Buna göre hangi öğrenci yanlış cevap vermiştir?

- A) Selin
- B) Okan
- C) Buse
- D) Hüseyin

9 - 11. soruları aşağıdaki metne göre cevaplayınız.

Türk ve İslam devletlerinin, uygarlığın beşiği olan Suriye, Mısır, Mezopotamya gibi ülkeleri ele geçirmesiyle bilim mirası Türk ve Müslümanlara geçmiştir. Türk-İslam bilimi, kendinden önce gelen Yunan ve Hint bilim geleneklerini devralarak özümsemiş, yeni sentezlerle bilimin gelişmesine hizmet etmiştir. İlk olarak Farsça, Yunanca ve Süryanice eserler Arapçaya tercüme edilmiştir. İlk Çağ'ın bilimsel gelişmelerinden yararlanılarak trigonometri, cebir, astronomi, kimya ve tıp alanında önemli gelişmeler sağlanmıştır. Bu gelişmelerle bilim mirası önemli ölçüde zenginleşmiştir. İslam dünyasında Biruni, Harezmi, Cabir, İbn-i Sina, Farabi gibi pek çok bilim adamı önemli eserler bırakmışlardır.

Avrupalılar XII. yüzyıldan itibaren özellikle İspanya ve Sicilya'daki İslam uygarlığından etkilenmişlerdir. Müslümanların medreselerini örnek olarak üniversiteler kurmuşlardır. Türk ve Müslüman bilim adamlarının eserleri Latince ve İbraniceye çevrilmiş, üniversitelerde okutulmuştur. Avrupalılar Müslümanlardan öğrendikleri birçok buluş ve teknik bilgiyi Haçlı Seferleri sırasında ülkelere taşımışlardır.

9. Metinde altı çizili olarak verilen sözcükler aşağıdaki ses olaylarından hangisine örnek oluşturur?

- A) Ünlü Düşmesi B) Ünsüz Türemesi
C) Ünlü Daralması D) Ünsüz Yumuşaması

10. Türkçe kelimeler genellikle büyük ünlü uyumuna uyar.

Bu bilgi doğrultusunda metinden alınan aşağıdaki sözcüklerden hangisinin Türkçe olmadığı söylenebilir?

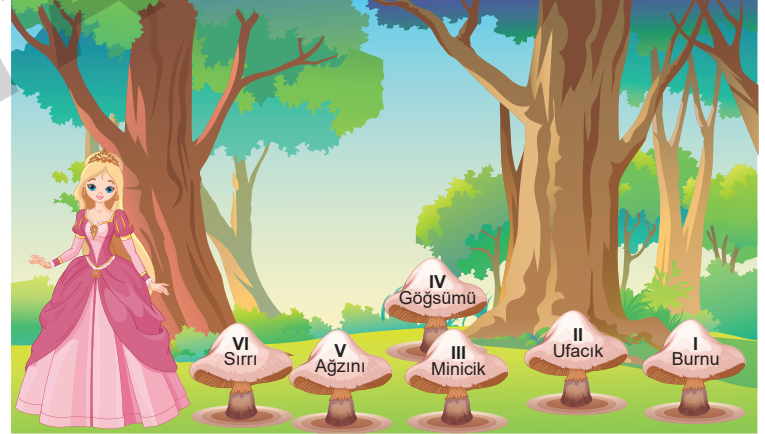
- A) gelenekleri B) trigonometri
C) ülkeleri D) uygarlığından

11. "Türk-İslam bilimi kendinden önce gelen Yunan ve Hint bilim geleneklerini devralarak özümsemiş, yeni sentezlerle bilimin gelişmesine hizmet etmiştir."

Metinden alınan bu cümledeki altı çizili sözcükte bulunan ses olayı aşağıdaki cümlelerin hangisinde vardır?

- A) Yabancı romanlar büyük bir özenle Türkçeye çevrildi.
B) Gösterdiği ilgi karşısında kayıtsız kalamamıştı.
C) Onu ne kadar sevdiğimi her hareketimle hissettiriyorum.
D) Beni neden hiçbiriniz anlamıyorsunuz?

12.



Pamuk Prenses, ormanda akşam yemeği için üzerinde ünlü düşmesi olan sözcüklerin yer aldığı mantarları toplayacaktır.

Buna göre Pamuk Prenses hangi mantarları toplamamıştır?

- A) I, II ve IV B) II, III ve VI C) IV, V ve VI D) I, IV ve V

1. "Günlerim çok güzel geçiyordu ama"

Yukarıdaki cümle aşağıdakilerden hangisiyle tamamlanabilir?

- A) bugün çok mutluyum
- B) bugün başıma kötü bir olay geldi
- C) bugün bana güzel bir hediye verdiler
- D) bugün her zamankinden neşeliyim

2. "Annesi, Serkan'ın doğum gününde pasta yapacaktı ancak"

Yukarıdaki cümle aşağıdakilerden hangisiyle tamamlanamaz?

- A) hastalandı
- B) işi çıktı
- C) güzel bir pasta yaptı
- D) unuttu

3. Aşağıdaki cümlelerin hangisinde karşılaştırma söz konusudur?

- A) Başarılı olmak için başarıya koşullanmak gerekir.
- B) Romanlarının yanı sıra birçok şiir de yazmıştır.
- C) Eser, dört bölüm hâlinde sinemaya uyarlanmış.
- D) İyi bir romancı, şiir yazamaz ama iyi bir şair, roman yazabilir.

4. Aşağıdaki cümlelerin hangisinde benzetme yapılmıştır?

- A) Okulun servisi kaza yapmış.
- B) Adam tilki gibi kurnazdı.
- C) Arabalar çok hızlı gidiyordu.
- D) Arda, güzel bir gol attı.

5. Aşağıdaki cümlelerin hangisinde öznel bir ifade vardır?

- A) Müzik dinlemek insanı çok rahatlatıyor.
- B) Sanatçının son albümü çıkmış.
- C) Albümde toplam sekiz şarkı yer alıyor.
- D) Albümün kapağına kendi resmini koymuş.

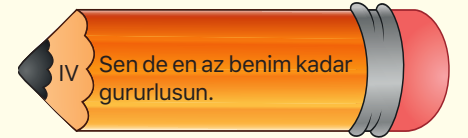
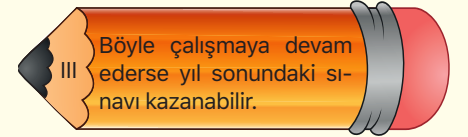
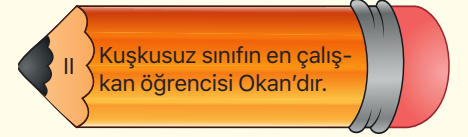
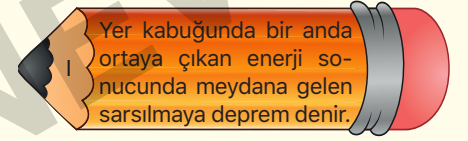
6. Aşağıdaki cümlelerin hangisinde "değil" sözcüğü cümleyi olumlu yapmıştır?

- A) Henüz hazırlanmış değilim.
- B) Daha iyileşmiş değilim.
- C) Onu sevmiyor değilim.
- D) O kalem benim değil.

7. Aşağıdaki cümlelerden hangisinde "ama" bağlacı cümleye koşul anlamı katmamıştır?

- A) Dışarı çıkabilirsin ama eve erken döneceksin.
- B) Bu kitabı sana alacağım ama okuyacaksın.
- C) Seninle tiyatroya gelirim ama işim olmazsa.
- D) Çok üzüldü ama bu işe sevinmeliydi.

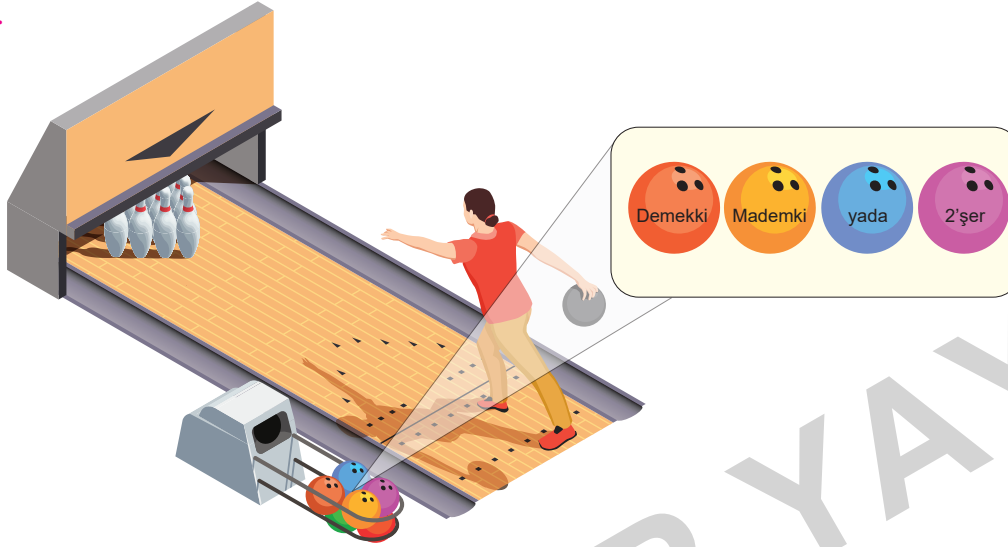
8. Karşılaştırma: Birden fazla varlık, kavram ya da durumun kıyaslanmasıdır. Karşılaştırma cümlelerinde, benzerlik, farklılık, üstünlük gibi değişik durumlar ifade edilir.



Açıklamaya göre yukarıdaki görsellerde numaralandırılmış cümlelerin hangisi karşılaştırma cümlesidir?

- A) I
- B) II
- C) III
- D) IV

10.



Yukarıdaki görselde Ayten, üzerinde yazımı doğru verilen bowling topunu kullanacaktır.

Buna göre hangi bowling topunun üzerindeki sözcüğün yazımı doğrudur?

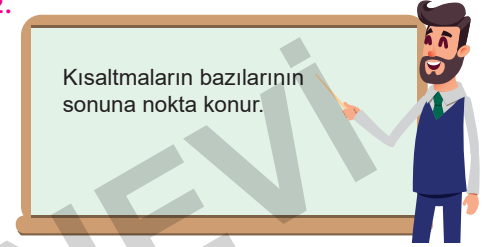
- A) Turuncu B) Sarı C) Mavi D) Pembe

11. "Etmek, eylemek, almak" vb. yardımcı eylemlerle kurulan birleşik fiillerde herhangi bir ses düşmesi veya ses türemesi bulunursa bu fiiller birleşik yazılır.

Aşağıdakilerin hangisinde kurala uyulmaktan kaynaklanan bir yazım yanlışı yapılmıştır?

- A) Ne olursa olsun affetmelisin.
B) Kalpten his etmedikçe hiçbir şeyi başaramazsın.
C) Olgunlaşmanın en güzel göstergesi, sabretmektir.
D) Bu son olay, onu kahretmişti.

12.



Öğretmenin tahtaya yazmış olduğu kural aşağıdaki cümlelerin hangisinde yanlış örneklendirilmiştir?

- A) Prof. Dr. Esmâ Şimşek hocamın konferansa katıldım.
B) İsviçre'de T.C. uyruklu bir kişi kazada yaralanmış.
C) Turgut Özal Mah. No:5'te oturuyorlar.
D) T.B.M.M bugünden itibaren 3 aylık tatil almış bulunuyor.

13. "-ki" bağlacının yazımı ile ilgili aşağıdaki sözcüklerin hangisinde yanlışlık yapılmıştır?

- A) Sanki
B) Oysaki
C) Mademki
D) Eğer ki

1.

1. Metin

Teşekkür etmek için mutlaka çok önemli bir iyiliğin, yardımın yapılmasını beklemeye gerek yoktur. Burada bilinmesi gereken husus, teşekkür etmenin medenî insanlara yakışan davranış olduğudur. Yapılan iyilikler veya yardımlar elbette teşekkür beklentisiyle yapılmıyor. Çok önemsiz gibi görünen davranışlardan (veya yardımlardan) sonra teşekkür etmek nezaketin gereğidir. Basitçe örneklemek gerekirse otobüste, hasta veya yaşlı birine yer veren delikanlı "Şuna bir yer vereyim de bana teşekkür etsin." anlayışıyla yer veriyordur. Kendisine yer verilen kişi de karşı tarafın böyle bir mecburiyeti olmadığını bilerek teşekkür etmeyi ihmal etmemelidir.

2. Metin

Bir adres veya yer sorulduğunda sorulan yer kesin olarak bilinmiyorsa, soruyu yanıltmamak ve zaman kaybını önlemek için adresin tam olarak bilinmediği açıkça söylenmelidir. Birtakım tahminlerde bulunarak yanlış yönlendirmeden sakınmak gerekir. Adres tarif edilirken mümkün olduğu kadar sade bir tarif yapılmalı, dolambaçlı yollar tercih edilmemelidir. Sorulan yerin yakınlarında hemen herkesçe bilinen (anıt, istasyon, park, stadyum gibi) bir yapı, bir mekân varsa kişiye önce burayı bilip bilmediği sorulmalı; biliniyorsa tarif buradan itibaren yapılmalıdır. Mesafe için isabetli tahmin yapılamıyorsa ölçü vermekten sakınmalıdır.

Yukarıdaki metinlerden aşağıdakilerden hangisi çıkarılabilir?

- A) Günlük, samimi bir dil kullanılmıştır.
- B) Birinci metinde hazırlıklı bir konuşma sırasında yapılması gerekenler anlatılmıştır.
- C) Her iki metin de bilimsel bir metinden alınmıştır.
- D) İkinci metinde kurgusal özellikler bulunmaktadır.

2.

1. Metin

Bu akşam sonbahar ne kadar serin
Geceyi hasretle bekliyor zaman
Üstünde hasretle leylekler uçan
Beyaz perdeleri indiriverin.

2. Metin

"Bir sonbahar akşamı evimin sokağa bakan odasında oturmuş, sokaktaki lambanın altında öylece duran küçük çocuğu izliyorum. Hava ne kadar da serin. Kim bilir bu çocuk için zaman geceyi özlemle bekliyordur..."

Yukarıdaki metinlerin ortak yönleri arasında aşağıdakilerden hangisi yoktur?

- A) Her iki metinde de öznel düşünceler vardır.
- B) Zaman kavramı kişileştirilerek anlatılmıştır.
- C) Sonbahar, özlem, gece, zaman gibi kavramlar dile getirilmiştir.
- D) Her iki metnin de dili son derece ağırdır.

3.

1. Metin

Adam saatlerdir yürüyordu.
Yürüdüğü yolda izler gittikçe karışıyordu. Hava kararmak üzereydi. Gözlerini kaldırdı, ileriye baktı. Yılan gibi kıvrılan yolun kenarındaki küçük tepenin önüne gelmişti.

2. Metin

Dışarıda bulutlu bir hava vardı. Gökyüzünde kargalar kederli bir insan gibi çığlık çığlıyordu. Mor dağlar gittikçe koyulaşıyordu. Adam olup bitene aldırmadan yoluna devam etti.

Aşağıdakilerden hangisi bu metinlerin ortak yönlerinden değildir?

- A) Üçüncü kişi ağzından anlatılmaları
- B) Benzetmelerden yararlanılması
- C) Bilgi vermek için yazılmaları
- D) Öyküleme tekniğinin kullanılması

7.



Yukarıdaki görsele en uygun dörtlük aşağıdakilerden hangisidir?

- A) Kazanmak istersen sen de zaferi
Gürleyen sesinle doldur gökleri
Zafer dedikleri kahraman peri
Susandan kaçır da çoşana gider.
- B) Şehit kanlarıyla, vermişim rengini,
Gökten Ay'la-Yıldızı koparmışım;
Yüreğimi koymuşum sana, yüreğimi;
Birde vatan sevgimi....
- C) Dur yolcu! Bilmeden gelip bastığın,
Bu toprak, bir devrin battığı yerdir.
Eğil de kulak ver, bu sessiz yığın,
Bir vatan kalbinin attığı yerdir.
- D) Gün geçmiş, yıl geçmiş ne yazar.
Her karış toprağında, bin şehit bir mezar.
Yeryüzünde yaşadıkça, tek dişi canavar.
Türk milleti, aynı destanı yine yazar.

8.

- Ağaçlar dökmüştü yapraklarını
Çimenler sararmıştı
Rengi solmuştu tüm çiçeklerin
Gökyüzünü kara bulutlar sarmıştı
Katar katar gidiyordu kuşlar uzaklara
Deli deli esiyordu rüzgar
Dağılmıştı yazdan kalan ne varsa
Yaşanmamış bir mevsim gibiydi bahar

Yukarıdaki şiirde sözü edilen mevsime ait görsel aşağıdakilerden hangisidir?

A)



B)



C)



D)



1. Konuşma kuralları ile ilgili aşağıda verilenlerden hangisi yanlıştır?

- A) Karşımızdaki kişi ya da grupla göz teması kurmalıyız.
- B) Konuşurken jest ve mimiklerimizi kullanırsak konuşmamız daha etkili olur.
- C) Konuşurken ses ve kelimelerin telaffuzuna dikkat etmeliyiz.
- D) Çok hızlı konuşmak konuşmamızı etkili kılar.

2. Aşağıdakilerden hangisi sözlü iletişimde yer alan "tanımlama" özelliklerinden biri değildir?

- A) Duygu ve düşüncelerin uyum içinde olmasına yardım eder.
- B) Dile anlam inceliği kazandırır.
- C) Konuşmanın daha net olmasını engeller.
- D) Konuşmadaki tek düzeliği önler.

3. Aşağıdakilerden hangisi "sunum" esnasında dikkat edilmesi gereken özelliklerden biri değildir?

- A) Sade ve anlaşılır bir dil kullanmaktan uzak durulmalıdır.
- B) Dinleyicilerin konuya yoğunlaşması sağlanmalıdır.
- C) Sunum esnasında ciddi ve ağırbaşlı olunmalıdır.
- D) Konuşma, jest ve mimiklerle desteklenmelidir.

4. Aşağıdakilerden hangisi sözlü iletişim sırasında yer almaz?

- A) Yüz yüze görüşme
- B) Halka hitap
- C) Fotoğraf ve sergi
- D) Telefon görüşmeleri

5. Aşağıdakilerden hangisi iyi bir dinleyicinin özelliklerindedir?

- A) Konuşmayı yapan kişinin sözünü kesmelidir.
- B) Tüm dikkatini konuyu anlatan kişiye odaklamalıdır.
- C) Dinlerken konuyu bölüp görüşünü eklemelidir.
- D) En son konuşan kişi olma çabasına girmelidir.

6. Aşağıdakilerden hangisi konuşmaya hazırlık yaparken dikkat edilmesi gereken kurallardan biri değildir?

- A) Prova yapıp konuşma süresine uygun bir metin hazırlanmalıdır.
- B) Konuşmanın yöntemi belirlenmelidir.
- C) Konuşma sırasında konu dışına çıkılmamalıdır.
- D) Konuşulacak konuyla ilgili plân yapılmalı, bilgi toplanmalıdır.

7.



Bu karikatür ile ilgili aşağıdakilerden hangisi söylenemez?

- A) Günlük kullandığımız ifadeler vardır.
- B) Karşılıklı konuşma örneğidir.
- C) İfade olarak birbirine yakın sözcük, yanlış anlaşılabilir.
- D) Hazırlıklı konuşmaya örnek gösterilebilir.

10.



Arda'nın bir televizyon programı başlarken gördüğü işaretin anlamı aşağıdakilerden hangisidir?

- A) Şiddet ve korku içerir.
- B) Genel izleyici kitlesi
- C) Yedi yaş ve üzeri için uygundur.
- D) Olumsuz örnek oluşturabilecek davranışlar içerir.

11. "7 yaş ve üzeri için uygundur." ibaresinin görseli aşağıdakilerden hangisidir?

- A)
- B)
- C)
- D)

12.

	Medya Ürünü	İşlevi
I	Yarışma Programları	Eğlendirmek
II	Haber	Bilgilendirmek
III	Belgesel	Sosyal iletişimi sağlamak
IV	Reklam	Satmak

Yukarıdaki tabloda kaç numaralı satırda yanlışlık yapılmıştır?

- A) I
- B) II
- C) III
- D) IV

13.

Medya araçları sadece haber vermez. Duygu düşünceleri paylaşır. Eğitime katkıları vardır; bilgiye ulaşım için köprüdür, eğlendirir.

Yukarıdaki açıklama aşağıdaki sorulardan hangisinin cevabı olabilir?

- A) Medya araçları nelerdir?
- B) Medyanın önemi nedir?
- C) Medya araçlarının olumsuz yönleri nelerdir?
- D) Medya araçlarının işlevi nelerdir?

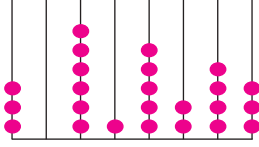
MATEMATİK

EDITÖR KAYINEVİ

İÇİNDEKİLER

✦ MİLYONLAR	71	✦ DOĞRU, DOĞRU PARÇASI VE İŞİN	111
✦ ÖRÜNTÜLER	73	✦ İKİ NOKTANIN BİRBİRİNE GÖRE KONUMU	113
✦ DOĞAL SAYILARDA TOPLAMA VE ÇIKARMA İŞLEMİ	75	✦ EŞİT UZUNLUKTAKİ DOĞRU PARÇALARI	115
✦ ZİHİNDEN TOPLAMA VE ÇIKARMA İŞLEMLERİ	77	✦ AÇILAR	117
✦ DOĞAL SAYILARLA ÇARPMA İŞLEMİ	79	✦ DOĞRUYA DİK ÇİZME	119
✦ DOĞAL SAYILARLA BÖLME İŞLEMİ	81	✦ ÇOKGENLER	121
✦ BİR SAYININ KARESİ VE KÜPÜ	83	✦ ÜÇGEN ÇEŞİTLERİ VE DÖRTGENLER	123
✦ PARANTEZLİ İŞLEMLER	85	✦ ÜÇGENLERİN VE DÖRTGENLERİN İÇ AÇILARININ ÖLÇÜLERİ TOPLAMI	125
✦ BİRİM KESİRLER	87	✦ ARAŞTIRMA SORUSU	127
✦ BİLEŞİK VE TAM SAYILI KESİRLER	89	✦ SIKLIK TABLOSU VE SÜTUN GRAFİĞİ	129
✦ DENK KESİRLER VE SIRALAMA	91	✦ UZUNLUK ÖLÇME	131
✦ KESİRLERLE HESAPLAMALAR	93	✦ ÇEVRE	133
✦ KESİRLERLE TOPLAMA VE ÇIKARMA İŞLEMLERİ	95	✦ ZAMAN ÖLÇME	135
✦ ONDALIK GÖSTERİMLER	97	✦ DİKDÖRTGENİN ALANI	137
✦ ONDALIK GÖSTERİMLERİN BASAMAK DEĞERLERİ	99	✦ ALANI TAHMİN ETME	139
✦ ONDALIK GÖSTERİMLERİ VERİLEN SAYILARI KARŞILAŞTIRMA	101	✦ AYNI ALANA SAHİP FARKLI DİKDÖRTGENLER OLUŞTURMA	141
✦ ONDALIK GÖSTERİMLERLE TOPLAMA VE ÇIKARMA İŞLEMLERİ	103	✦ DİKDÖRTGENLER PRİZMASI	143
✦ YÜZDELER	105	✦ DİKDÖRTGENLER PRİZMASININ AÇINIMI VE YÜZEY ALANI	145
✦ KESİR, ONDALIK GÖSTERİM VE YÜZDE İFADELERİNİ KARŞILAŞTIRMA	107		
✦ BİR ÇOKLUĞUN YÜZDESİNİ BULMA	109		

1.



Yukarıdaki abaküste verilen sayının rakamları toplamı kaçtır?

- A) 21 B) 22 C) 23 D) 24

2. İki yüz milyon üç bin iki şeklinde okunuşu verilen sayı aşağıdakilerden hangisidir?

- A) 203 303 002
B) 230 030 002
C) 203 003 002
D) 200 003 002

3. 412 341 897 sayısının 4 rakamlarının basamak değerleri toplamı kaçtır?

- A) 4004
B) 400 400 4
C) 400 040 000
D) 444 004 000

4. "Otuz altı milyon" kaç bölüklü bir sayıdır?

- A) 2 B) 3 C) 4 D) 5

5. 4218 sayısının rakamlarının basamak değerleri toplamı hangisinde doğru verilmiştir?

- A) 15 B) 17 C) 4218 D) 218

6. ABCD dört basamaklı sayısında B 2 azaltılıp, D 4 artırılırsa sayının değeri nasıl değişir?

- A) 196 artar. B) 120 azalır.
C) 132 artar. D) 196 azalır.

7. 542918349

Bir basamak ayırıştırma makinesinde, yukarıdaki sayı için 1 rakamının basamak değeri aşağıdakilerden hangisidir?

- A) 10 000 B) 1000
C) 100 D) 10

8. I. 200 000 sayısı 5 basamaklıdır.

II. 425 809 sayısındaki 4'ün basamak değeri 400 000'dir.

III. 111 111 111 sayısı 9 basamaklı en küçük doğal sayıdır.

Yukarıdaki ifadelerden hangisi ya da hangileri yanlıştır?

- A) Yalnız I B) II ve III
C) I ve III D) I, II ve III

9.



Öğretmen tahtaya bir sayı yazmış ve bazı öğrencilere aşağıdaki görevleri vermiştir.

Ali, rakamlar toplamını hesapla

Ahmet, çift rakamları topla

Sami, tek rakamları topla

İrem, bölük sayısının karesini bul

Hangi ikisinin bulunduğu sayılar arasındaki fark 2'dir?

- A) Ali ile Ahmet B) İrem ile Sami
C) Ahmet ile Sami D) Ali ile İrem

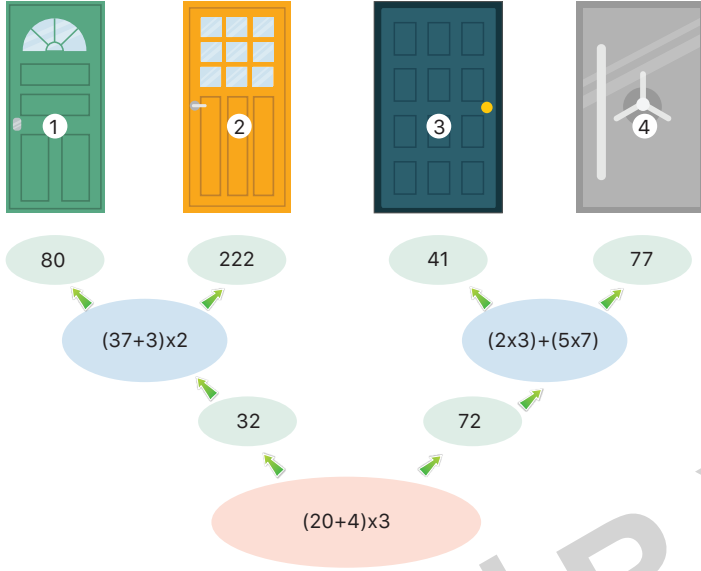
10. Türkiye'de bilgisayar kullanıcılarının sayısı 19 614 587'dir.

Yukarıdaki notu yazan Arif, iki basamağın yerini karıştırmıştır.

Sonuç asıl olması gerekenden 27000 fazla olduğuna göre hangi rakamların yeri değişmiştir?

- A) 5 ile 1 B) 9 ile 6
C) 1 ile 4 D) 7 ile 4

10.



Görseldeki dört kapıdan sadece biri kilitli değildir. Kilitli olmayan kapıya sırasıyla soruların doğru yanıtını takip eden oklarla ulaşılabilir.

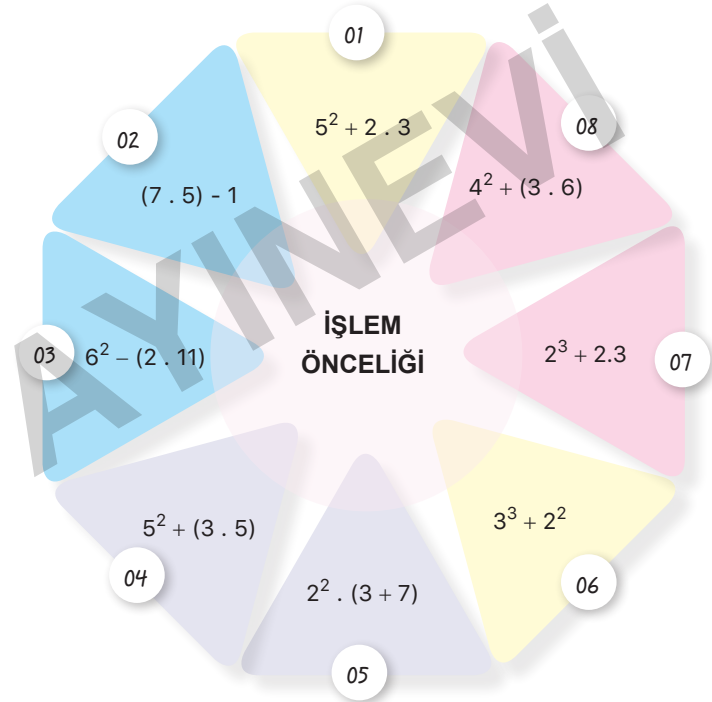
Soruları doğru yanıtlayarak kilitsiz kapıya ulaşan Yusuf, kaç numaralı kapıya çıkar?

- A) 1 B) 2 C) 3 D) 4

11. $3 \cdot 5 + 4 \div (21-19) + 3$ işleminin sonucu kaçtır?

- A) 17 B) 20 C) 21 D) 25

12. Parantezli işlemlerde öncelikle parantez içindeki işlemler yapılır.



Yukarıda verilen tabloda renkleri aynı olan bölümlerdeki işlemlerin sonuçları aynı olmalıdır.

Buna göre, verilen tabloda hangi iki bölümün renkleri değiştirilirse istenilen şart sağlanmış olur?

- A) 01 - 05 B) 06 - 07 C) 03 - 08 D) 04 - 02

FEN BİLİMLERİ

EDITÖR KAYINEVİ

İÇİNDEKİLER

✦ GÜNEŞ'İN YAPISI VE ÖZELLİKLERİ	149	✦ ISI VE SICAKLIK	177
✦ AY'IN YAPISI VE ÖZELLİKLERİ	151	✦ ISI, MADDELERİ ETKİLER	179
✦ AY'IN HAREKETLERİ VE EVRELERİ	153	✦ IŞIĞIN YAYILMASI	181
✦ GÜNEŞ, DÜNYA VE AY	155	✦ IŞIĞIN YANSIMASI	183
✦ MİKROSKOBİK CANLILAR	157	✦ IŞIĞIN MADDEYLE KARŞILAŞMASI	185
✦ MANTARLAR	159	✦ TAM GÖLGE	187
✦ BİTKİLER	161	✦ BİYOÇEŞİTLİLİK	189
✦ HAYVANLAR	163	✦ İNSAN VE ÇEVRE	191
✦ KUVVETİN ÖLÇÜLMESİ	165	✦ YIKICI DOĞA OLAYLARI	193
✦ SÜRTÜNME KUVVETİ	169	✦ DEVRE ELEMANLARININ SEMBOLLERLE GÖSTERİMİ VE DEVRE ŞEMALARI	195
✦ MADDENİN HÂL DEĞİŞİMİ	173	✦ BASİT BİR ELEKTRİK DEVRESİNDE LAMBA PARLAKLIĞINI ETKİLEYEN DEĞİŞKENLER	197
✦ MADDENİN AYIRT EDİCİ ÖZELLİKLERİ	175		

1. Güneş ile ilgili,

- I. Teleskopla Güneş'e bakıldığında yüzeyinde bulunan koyu renkli bölgeler daha soğuktur.
- II. Katmanlardan oluşur.
- III. Toz ve gaz bulutundan oluşmuştur.

İfadelerinden hangileri doğrudur?

- A) Yalnız I B) I ve II
C) II ve III D) I, II ve III

2. Güneş ile ilgili,

- I. Güneş'in kendi eksenini etrafındaki dönüşü batıdan doğuya doğrudur.
- II. Güneş'in Dünya'ya olan uzaklığı yaklaşık 150 milyon km'dir.
- III. Dev bir gaz ve toz bulutundan meydana gelmiştir.

İfadelerinden hangileri doğrudur?

- A) Yalnız I B) I ve II
C) II ve III D) I, II ve III

3. Güneş ile ilgili,

- I. Güneş kendi eksenini etrafında dönme hareketi yapar.
- II. Güneş, Dünya'ya en yakın yıldızdır.
- III. Güneş'in yapısındaki ısı ve ışık enerjisi hidrojenin helyuma dönüşmesi sonucu ortaya çıkar.

İfadelerinden hangileri doğrudur?

- A) Yalnız I B) I ve II
C) II ve III D) I, II ve III

4. I. Güneş, ısı ve ışık kaynağıdır.
- II. Çekirdek, katmanları arasında en yoğun ve sıcak olan katmandır.
- III. Gözle görülebilen katmanı yoktur.

Güneş ile ilgili verilenlerden hangisi doğrudur?

- A) I ve II B) II ve III
C) I ve III D) I, II ve III

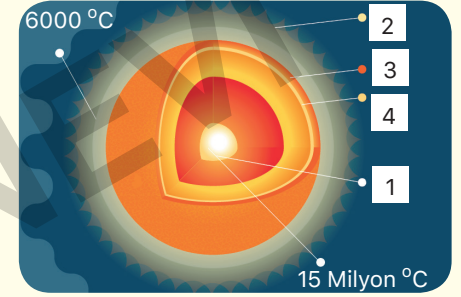
5.

- Belirli bir yörüngede hareket ederler.
- Katmanları arasında sıcaklık farkı vardır.
- Yapısında sadece hidrojen ve helyum gazı bulunur.
- Kendi etrafında dönme hareketi yapar.

Yukarıda verilen bilgilerden kaç tanesi Güneş'e ait bir özellik değildir?

- A) 1 B) 2 C) 3 D) 4

6. Aşağıda Güneş ile ilgili yapılar numaralandırılarak gösterilmiştir. Her numaranın temsil ettiği yapı aşağıda verilmiştir.



1. Çekirdek 2. Taç Küre
3. Renk Küre 4. Işık Küre

Güneş ile ilgili verilen görselde aşağıdakilerden hangisi söylenemez?

- A) Güneş katmanlardan oluşur.
B) Güneş'in gözümüzle gördüğümüz katmanı ışık küredir.
C) En sıcak katmanı çekirdektir.
D) Saat yönünün tersi yönde döner.

7.

	Sürtünme Kuvvetini	
	Azaltmak	Artırmak
Bisiklet zincirinin yağlanması	<input type="checkbox"/>	<input type="checkbox"/>
Kışın geniş tabanlı ayakkabı giyilmesi	<input type="checkbox"/>	<input type="checkbox"/>
Gemilerin ucunun "V" şeklinde tasarlanması	<input type="checkbox"/>	<input type="checkbox"/>
Halterlerin müsabakaya başlamadan önce ellerine toz sürmesi	<input type="checkbox"/>	<input type="checkbox"/>

Burak sürtünme kuvvetiyle ilgili yukarıdaki tabloyu doldurduğunda toplamda 100 puan olan tablodan 75 puan almıştır.

Buna göre Burak tabloyu aşağıdaki seçeneklerden hangisi gibi doldürmüş olabilir?

- A)

<input type="checkbox"/>	<input checked="" type="checkbox"/>
<input checked="" type="checkbox"/>	<input type="checkbox"/>
<input type="checkbox"/>	<input checked="" type="checkbox"/>
<input type="checkbox"/>	<input checked="" type="checkbox"/>

 B)

<input checked="" type="checkbox"/>	<input type="checkbox"/>
<input checked="" type="checkbox"/>	<input type="checkbox"/>
<input type="checkbox"/>	<input checked="" type="checkbox"/>
<input type="checkbox"/>	<input checked="" type="checkbox"/>

 C)

<input checked="" type="checkbox"/>	<input type="checkbox"/>
<input type="checkbox"/>	<input checked="" type="checkbox"/>
<input checked="" type="checkbox"/>	<input type="checkbox"/>
<input type="checkbox"/>	<input checked="" type="checkbox"/>

 D)

<input checked="" type="checkbox"/>	<input type="checkbox"/>
<input type="checkbox"/>	<input checked="" type="checkbox"/>
<input checked="" type="checkbox"/>	<input type="checkbox"/>
<input type="checkbox"/>	<input checked="" type="checkbox"/>

8.

- Otomobil ve (I) hava direncinden en az etkilenecek şekilde yapılırlar.
- Kışın araba lastiklerine zincir takılması sürtünmeyi (II) bir önlemdir.
- Sürtünme temas (III) bir kuvvettir.
- Sürtünme kuvveti yüzeyin (IV) bağlıdır.

Yukarıdaki ifadelerde I, II, III ve IV nolu boşluklara aşağıdakilerden hangisi gelmelidir?

	I	II	III	IV
A)	paraşüt	azaltıcı	gerektiren	durumuna
B)	paraşüt	artırcı	gerektirmeyen	ağırlığına
C)	uçak	artırcı	gerektiren	cinsine
D)	uçak	azaltıcı	gerektirmeyen	ağırlığına

9.

Yağmur yağdıktan sonra etrafta daha çok görülen salyangozlar bedenlerini hareket ettiren bir taraftan da sıvı bırakırlar. Bu sıvı hem kendisinin hem de arkasından gelen salyangozların hareketini kolaylaştırır.



Yukarıdaki görselde salyangozların salgıladığı sıvı ile sürtünme kuvveti arasındaki ilişki açıklanmıştır.

Buna göre, aşağıda verilen olaylardan hangisi anlatılan durumla benzerlik taşımaz?

- A) Eklem sıvısının kemiklerin aşınmasını önlemesi
 B) Kapı gıcirtısının yok olması için menteşelerin yağlanması
 C) Kaza yapmamak için tekerleklerle zincir takılması
 D) Parmağa sıkışan yüzüğün sabun sürülerek çıkarılması

SOSYAL BİLGİLER

EDITÖR YAYINEVİ

İÇİNDEKİLER

✦ SOSYAL BİLGİLER DERSİNDEN ÖĞRENDİKLERİMİZ -YENİ OKULUM.	201	✦ EKONOMİK FAALİYETLER MESLEKLERİ ETKİLER - EKONOMİ VE SOSYAL HAYAT	225
✦ HAK VE SORUMLULUKLARIMIZ	203	✦ ÜRETİM, DAĞITIM VE TÜKETİM AĞI - YENİ FİKİRLER GELİŞTİRELİM . . .	227
✦ ÇOCUK HAKLARI	205	✦ BİLİNÇLİ TÜKETİCİ	229
✦ UYGARLIKLARI ÖĞRENİYORUM	207	✦ HALKA HİZMET VEREN KURUMLAR	231
✦ ÇEVREMİZDEKİ GÜZELLİKLER - KÜLTÜREL ZENGİNLİĞİMİZ.	209	✦ YAŞADIĞIM YERİN YÖNETİMİ	233
✦ YERYÜZÜ ŞEKİLLERİ	211	✦ TEMEL HAKLARIMIZI ÖĞRENELİM - BAYRAĞIMIZ VE İSTİKLÂL MARŞI. .235	
✦ İKLİMİN İNSAN FAALİYETLERİNE ETKİSİ - NÜFUS VE YERLEŞME.	213	✦ YAŞADIĞIM YERİN ÜLKE EKONOMİSİNE KATKISI - EKONOMİK İLİŞKİLERDE TEKNOLOJİ	237
✦ AFETLER VE ÇEVRE SORUNLARI - DOĞAL AFETLERİN YAŞAMIMIZA ETKİSİ . . .	215	✦ TURİZM VE ULUSLARARASI İLİŞKİLER -ORTAK MİRASIMIZ.	239
✦ TEKNOLOJİ VE TOPLUM.	217		
✦ DOĞRU VE GÜVENİLİR BİLGİ - SANAL ORTAMDA GÜVENLİK.	219		
✦ BİLİM İNSANLARININ ORTAK ÖZELLİKLERİ - BİLİMSEL ETİK.	221		
✦ ÇEVREMİZDEKİ EKONOMİK FAALİYETLER.	223		

1. Etkin vatandaş yetiştirmede önemli olan derslerden biri de sosyal bilgiler dersidir.

Aşağıdakilerden hangisi sosyal bilgiler dersini iyi öğrenmiş bir bireyin davranışlarından biri değildir?

- A) Vergisini düzenli öder.
B) Diğer bireylere karşı saygılıdır.
C) Bütün insanların eşit haklara sahip olduklarını bilir.
D) Ülke sınırlarını genişletmek için çalışır.

2. Bazı olaylar sadece ortaya çıktıkları yeri değil daha geniş alanları etkileyebilir. Örneğin, Suriye'de yaşanan savaş.

Aşağıdaki seçeneklerden hangisi verilen bu duruma örnektir?

- A) Suriye halkının büyük bir çoğunluğunun farklı ülkelere göç etmiş olması
B) Birçok insanın hayatını kaybetmiş olması
C) Suriye'de öğrencilerin okula gidememesi
D) Ülkede açlık sorununun yaşanması

3. Her bir binanın önünde, küçük bir tepeyi andıran çöp birikintileri çevreye oldukça ciddi bir rahatsızlık veriyordu. Burunları sızlatan, dayanılması her geçen gün biraz daha zorlaşan çöp kokusu gittikçe şiddetini artırıyordu. Öyle ki hemen hemen her evden belediyeye şikâyet telefonları yağmış, ancak bir türlü istenilen cevap alınamamıştı. 5.sınıf öğrencisi İlayda; "Belediyeye dilekçe yazmamız lazım. Sosyal bilgiler dersinde öğrenmiştik. Bir sorun yaşadığımızda hakkımızı dilekçe ile aramalıyız. Özellikle resmi kurumlara tüm dilek ve şikâyetler dilekçe aracılığıyla iletilir. Sözlü başvurular bir anlam ifade etmez. Derdimizi yazıyla anlatmalıyız." dedi. Bunun üzerine herkes dilekçelerini belediyeye ulaştırdı. Bir süre sonra belediyenin gönderdiği çöp arabaları etrafı temizleyerek eski haline getirdi.

Yukarıdaki paragraf dikkate alındığında aşağıdakilerden hangisinin doğru olduğu söylenemez?

- A) Okulda öğrenilen bilgilerinin gerçek hayata uygulanabildiği
B) Kişilerin haklarını ararken resmi kurumlara isteklerini yazılı olarak bildirmelerinin doğru bir davranış olduğu
C) Sosyal bilgiler dersinin gereksiz bir ders olmadığı
D) Okulda öğrenilen bilgilerin yetersiz olduğu

- 4.

Birlikte yaşama ve yardımlaşmanın önemini anlamamızı sağlar.

Ülkemize karşı görev ve sorumluluklarımızın neler olduğunu öğrenmemizi sağlar.

?

Millî kültürümüzü oluşturan temel öğeleri kavramamıza, millet olma bilincimizin gelişmesine katkı sağlar.

Yukarıdaki görselde sosyal bilgiler dersinin kişisel gelişimimize olan katkıları verilmiştir.

Görselde boş bırakılan yere aşağıdakilerden hangisi yazılamaz?

- A) Birbirimize karşı olan sorumluluklarımızı kavramamızı sağlar.
B) Yalnızca kendi ülkemizde yaşamış olan önemli insanların yaptıklarından haberdar olmamızı sağlar.
C) İlgî, istek ve yeteneklerimizin farkına varmamızı sağlar.
D) Bilim ve teknolojinin insan hayatı üzerindeki olumlu ve olumsuz etkilerini öğrenmemizi sağlar.

6. Ülkemizin kırsal kesimlerinde konut yapımında farklı yapı malzemelerinin kullanılmasında bölgelerimizin iklim özellikleri de etkili olmaktadır.

Ev yapımında kullanılan malzemelerin bölgelerle eşleştirilmesi hangi seçenekte doğru verilmiştir?

	Kerpiç ev	Ahşap ev	Taş ev
A)	İç Anadolu	Karadeniz	Akdeniz
B)	Ege	Güneydoğu	Marmara
C)	Akdeniz	Karadeniz	İç Anadolu
D)	Doğu Anadolu	Ege	Karadeniz

7. • Bitki örtüsü makidir.
• Ülkemizde Akdeniz, Ege ve Marmara kıyılarında görülür.
• Yazları sıcak ve kurak, kışları ılık ve yağışlıdır.

Yukarıda özellikleri verilen iklim türü aşağıdakilerden hangisidir?

- A) Karadeniz iklimi
B) Tropikal iklim
C) Karasal iklim
D) Akdeniz iklimi

8. (.....) iklim, insanların yaşam biçimini etkilemektedir.

(.....) iklim beslenme, barınma ve giyinme ihtiyaçlarını belirlemektedir.

(.....) iklim, yer altı kaynaklarının oluşumunu etkilemektedir.

(.....) iklim insan faaliyetleri üzerinde etkili değildir.

Yukarıdaki etkinliği yaparken doğru olanların başına "D", yanlış olanların başına "Y" yazıldığında doğru seçenek aşağıdakilerden hangisi olur?


- A) Y, D, Y, D
B) D, D, Y, Y
C) Y, Y, D, D
D) D, Y, D, D

9. Bu bölgede yer şekillerinin engebeli ve iklimin sert olmasından dolayı nüfus azdır. İnsanlar genellikle verimli topraklarla kaplı ve iklimin daha elverişli olduğu ovalarda yaşar. Ulaşımın zor olması, sanayi ve ticaretin gelişmesini engellemiştir. Van, bu bölgede bulunan yoğun nüfuslu illerden biridir. Bu ilde hayvancılık, sanayi ve ticaret gelişmiştir.

Yukarıda hakkında bilgi verilen bölge aşağıdakilerden hangisidir?

- A) Güneydoğu Anadolu Bölgesi
B) Ege Bölgesi
C) Karadeniz Bölgesi
D) Doğu Anadolu Bölgesi

10.



I



II



III



IV

Yukarıdakilerden hangileri insanların doğal ortamı değiştirerek ondan yararlanma yolları arasında gösterilebilir?

- A) I ve II
B) II ve III
C) I, II ve III
D) I, II, III ve IV

11. **Karasal iklim ile ilgili olarak aşağıda verilen bilgilerden hangisi yanlıştır?**

- A) Karasal iklimin hakim olduğu yerlerde kışın yoğun kar yağışı görülür.
B) Çay ve fındık karasal iklim bölgelerinde yoğun bir şekilde yetiştirilir.
C) Karasal iklimin görüldüğü yerlerde yağışın az olmasından dolayı toprak ve kerpiç evler yaygındır.
D) Nem az olduğundan dolayı karasal iklim bölgelerinde günlük ve yıllık sıcaklık farkları fazladır.

DİN KÜLTÜRÜ VE AHLAK BİLGİSİ

İÇİNDEKİLER

✦ ALLAH İNANCI	243
✦ RAMAZAN VE ORUÇ	245
✦ ADAP VE NEZAKET	247
✦ HZ. MUHAMMED (SAV.) VE AİLE HAYATI	249
✦ ÇEVREMİZDE DİNİN İZLERİ	251

EDITÖR YAYINEVİ

1. Aşağıda bazı kavramlar ve açıklamaları verilmiştir.

- I. Tevekkül: Allah'a güvenmek demektir.
- II. İhlas: Samimiyet ve içtenlik demektir.
- III. Tevhid: Allah'ın bir olması demektir.

Yukarıda verilen kavramlardan hangilerinin açıklamaları doğrudur?

- A) I ve II B) II ve III
C) I ve III D) I, II ve III

2. "Kul huvallahu ehad, Allahussamed lem yelid velem yuled velem yekun"

İhlas suresinde boş bırakılan yere aşağıdaki-lerden hangisi gelmelidir?

- A) Lehu kufuven ehad
B) Kufuven Ehad
C) Velem yelid
D) Velem yuled

3. Aşağıda Hz. İbrahim (a.s.) ile ilgili verilen bilgilerden hangisi yanlıştır?

- A) Hz. Muhammed'in (sav.) soyu Hz. İbrahim'e (a.s.) dayanmaktadır.
B) Yahudiler tarafından sevilen ve sadece Tevrat'ta kendisinden sıkça bahsedilen bir peygamberdir.
C) Hz. İbrahim (a.s) peygamberlerin atası olarak nitelendirilir.
D) Hz. İbrahim'in kıssası Kur'an'ın çeşitli surelerinde bölüm bölüm anlatılmaktadır.

4. "Siz Allah'ı bir yana bırakarak size bir yarar ve bir zarar veremeyen şeylere mi tapıyorsunuz? Yuh olsun size ve Allah'ın dışında taptıklarınıza! Siz hiç aklınızı kullanmaz mısınız? Kendi ellerinizle yonttuğunuz şeylere mi kulluk ediyorsunuz? Sizi de onları da yaratan Allah'tır."

(Enbiya suresi, 66-67. ayetler)

Kur'an-ı Kerim'de belirtilen Hz. İbrahim'in (a.s.) bu sözlerinden hareketle aşağıdaki-lerden hangisine ulaşılamaz?

- A) Her şeyi yaratan Allah'tır.
B) Kendisine bile faydası olmayan şeylere tapmak akılsızlıktır.
C) Hz. İbrahim'in (a.s.) bu sözlerinden sonra herkes Allah'a iman etmiştir.
D) İnsan aklını kullanarak Allah'ın varlığına inanabilir.

5. "Rabbimize, yalvara yakara ve gizlice dua edin... İslah edilmesinden sonra yeryüzünde bozgunculuk çıkarmayın. Allah'tan korkarak ve rahmeti umarak dua edin. Muhakkak ki iyilik edenlere Allah'ın rahmeti çok yakındır."

(Araf suresi, 55-56. ayetler)

Ayetteki altı çizili ifadeye göre;

- I. Allah'ın insanlara çok yakın olduğuna
- II. Samimi ve alçak bir sesle dua edilmesi gerektiğine
- III. Allah'ın sonsuz güç ve kudret sahibi olduğuna

yukarıda verilen ifadelerden hangilerine ulaşılabilir?

- A) Yalnız I B) Yalnız II C) I ve II D) II ve III

6 ve 7. soruları aşağıdaki ayetlere göre cevaplayınız.

- I. "... Kararını verdiğin zaman artık Allah'a dayanıp güven. Çünkü Allah, kendisine dayanıp güvenenleri sever..." (Âl-i İmrân suresi, 159. ayet)
- II. "Eğer yerde ve gökte Allah'tan başka ilahlar (tanrılar) olsaydı kesinlikle ikisinin de düzeni bozulurdu..." (Enbiya suresi 22. ayet)
- III. "Allah, karada ve denizde ne varsa bilir... O, yerin karanlıkları içindeki tek bir taneyi dahi bilir." (En'am suresi, 59. ayet)
- IV. "O, yedi göğü tabaka tabaka yaratan-dır. Rahman'ın yaratmasında hiçbir uyumsuzluk göremezsin..." (Mülk suresi, 3. ayet)
- V. "De ki: O Allah birdir." (İhlas suresi, 1. ayet)
- VI. "Sizin ilahınız bir tek ilahdır. O'ndan başka ilah yoktur..." (Bakara suresi, 163. ayet)

6. Bu ayetlerden hangileri evrendeki düzenle ilgilidir?

- A) II ve III B) II ve IV
C) II ve VI D) I ve V

7. Bu ayetlerden hangileri sadece tevhid konusuyla ilgilidir?

- A) I ve III B) IV ve V
C) II ve VI D) V ve VI

8. " (I) After school, Carol has a rest and does her homework. (II) She plays with her friends outside and rides her bicycle. (III) She gets up early and goes to school. (IV) She reads books in the evening and goes to bed at nine o'clock."

Which of the sentence is not appropriate the meaning flow?

- A) I B) II C) III D) IV

Answer the questions (9-10) according to the chart o'clocks.

9.



It's

- A) four o'clocks B) half past four
C) quarter past four D) quarter to four

10.



It's

- A) quarter to two B) two o'clock
C) half past two D) quarter past two

Answer the questions (11-12) according to the chart below.

-
.....
.....
.....
- Have breakfast with granddad at half past ten on Saturday morning
 - Tennis course at 2 p.m
 - Meet Melinda at a quarter to five at the shopping mall on Saturday afternoon
 - Do maths homework on Sunday evening





11. What can be the best title for the chart?

- A) School activities B) My daily routine
C) Weekend activities D) Sports activities

12. Which question does not have an answer in the chart?


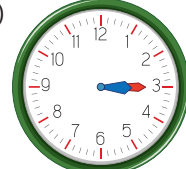


- A) What do you do at the weekend ?
B) Where do you go on Saturday afternoon?
C) What time is it?
D) When do you have tennis course?

13. Which matching is false?

- A) She combs her hair before school. → 
- B) She brushes her teeth in the mornings. → 
- C) She gets off the bus. → 
- D) She has breakfast every morning. → 

14. Tina gets up at 7.00 every morning. I have breakfast my family. After breakfast. I go to school. I leave school at 3.15.

What time does Tina leave school?

- A)  B) 
- C)  D) 

Answer the questions (1-3) according to the text below.

Hello, I'm Selin. Now, I'm at the zoo with my family. There are a lot of animals here. I'm looking at the elephants now. They are really big. There is a baby elephant. It is playing with a ball now. My little sister Sude is looking at the monkeys. There are four monkeys in the cage and the zookeeper is feeding them. They are eating bananas. My brother Ahmet loves seals. He is looking at them in the aquarium. My father is buying ice-cream for us. I love ice-cream.


1. The baby elephant isnow.

- A) sleeping
- B) eating bananas
- C) playing with a ball
- D) looking at the monkeys

2. Which one is false?

- A) Ahmet is looking at the sea.
- B) Zookeeper is feeding the monkeys
- C) Selin's sister is looking the monkeys.
- D) Selin's father is buying ice - cream

3. What is Selin's father doing now?



4. Girl: I love it so much.

Mother: Of course, we can. That's a good idea.


- A) Can we adopt this dog?
- B) What can you do?
- C) Is the dog drinking water?
- D) How many dogs are there?



5. Hans: Can I feed the lions?

Mather: It is dangerous for you.

- A) Yes, there is a baby elephant.
- B) That's not a good idea.
- C) The monkeys are in the cage.
- D) OK. Let's do it.



6.

I'm at the zoo today. Zoo is a home for many animals.(I)A dog is barking and a parrot is flying. (II) My little sister is afraid of lions.(III) A monkey is jumping to a tree. (IV) A hippo is swimming in the lake.

Which sentence does not conform with the meaning of the text?

- A) I
- B) II
- C) III
- D) IV

7.



The children are the fish.

- A) watching
- B) playing
- C) feeding
- D) giving



ÜCRETSİZ
İÇERİK İÇİN



İvedik Organize Sanayi Matbaacılar Sitesi
1518 Sok. Mat-Sit İş Merkezi No:2/20,
Yenimahalle / ANKARA
Tel: 0 312 384 20 33- 0 505 925 57 81
Faks: 0312 342 23 58
www.editoryayinevi.com | bilgi@editoryayinevi.com

ISBN 978-605-280-226-7

