



Sosyal Bilgiler

BECERİ TEMELLİ

SORU BANKASI



Karekod
Çözümlü



Akıllı Tahta
Uygulamalı



Giriş
Yayınları

Yazarlar
Remzi BAYRAKCI
Neriman BAL
Yusuf ÖZDEMİR

6. SINIF SOSYAL BİLGİLER

EDİTÖR

Turgut MEŞE

YAZAR

Komisyon

Bütün hakları Giriş Yayınlarına aittir.

Yayıncının izni olmaksızın kitabın tümünün veya bir kısmının elektronik, mekanik yollarla ya da fotokopi yoluyla basımı, çoğaltılması ve dağıtımı yapılamaz.

1. Baskı: Markaj Yayınları

2. Baskı: Giriş Yayınları

SERTİFİKA NO.

40447

KAPAK TASARIMI

Giriş Yayınları Tasarım Ekibi

SAYFA TASARIMI

Giriş Yayınları Dizgi Ekibi

BASKI VE CİLT

Data Dijital

ANKARA



İvedik Organize Sanayi Matbaacılar Sitesi

1518 Sok. Mat-Sit İş Merkezi No:2/20

Yenimahalle / ANKARA

Tel: 0 312 384 20 33

WhatsApp: 0505 099 24 84

www.girisyayinlari.com

girisyayinlari@gmail.com

İÇİNDEKİLER

1. ÜNİTE: BİZ VE DEĞERLERİMİZ

- SOSYAL ROLLERİN DEĞİŞİMİ-
KÜLTÜR VE TOPLUMSAL BİRLİKTELİK 5
- FARKLILIKLARA SAYGI DUYUYORUM-
YARDIMLAŞMA VE DAYANIŞMA..... 6
- SORUNLARA ÇÖZÜM BULUYORUM 8

2. ÜNİTE: TARİHE YOLCULUK

- ORTA ASYA'DA KURULAN İLK TÜRK DEVLETLERİ . . 10
- İSLAMİYET'İN YAYILIŞI 14
- TÜRKLERİN İSLAMİYET'İ KABULÜ 17
- YENİ YURT ANADOLU 20
- İPEK VE BAHARAT YOLU 22

3. ÜNİTE: YERYÜZÜNDE YAŞAM

- COĞRAFİ KONUMU ÖĞRENİYORUM 24
- TÜRKİYE'NİN FİZİKİ COĞRAFYA ÖZELLİKLERİ . . . 26
- TÜRKİYE'NİN BEŞERİ COĞRAFYA ÖZELLİKLERİ . . 29
- DÜNYA'DA İKLİM VE YAŞAM..... 31

4. ÜNİTE: BİLİM VE TEKNOLOJİ HAYATIMIZDA

- SOSYAL BİLİMLERİN TOPLUM HAYATINA ETKİSİ-
GELECEKTEKİ YAŞAM 33
- BİLİMSEL ARAŞTIRMA BASAMAKLARI-
TELİF VE PATENT HAKKI 36

5. ÜNİTE: ÜRETİYORUM, TÜKETİYORUM, BİLİNÇLİYİM

- KAYNAKLARIN ÜLKE EKONOMİSİNDEKİ YERİ 38
- KAYNAKLARIN BİLİNÇSİZ KULLANIMI 41
- YATIRIM VE PAZARLAMA-
VERGİMİ ÖDÜYORUM..... 43
- NİTELİKLİ İNSAN GÜCÜ-
MESLEĞİMİ SEÇİYORUM 45

6. ÜNİTE: YÖNETİME KATILIYORUM

- YÖNETİM BİÇİMLERİNİ ÖĞRENİYORUM 47
- YASAMA, YÜRÜTME VE YARGI 49
- YÖNETİMİN KARAR ALMA SÜRECİNE KATILIYORUM -
TOPLUMSAL HAYATIMIZDA
DEMOKRASİNİN ÖNEMİ 51
- ANAYASAL GÜVENCE ALTINDAYIZ..... 53
- TOPLUMSAL HAYATTA KADININ YERİ 55

7. ÜNİTE: ULUSLARARASI İLİŞKİLERİMİZ

- TÜRK CUMHURİYETLERİ VE
KOMŞU ÜLKELERLE İLİŞKİLER..... 58
- ÜLKEMİZİN EKONOMİK İLİŞKİLERİ..... 60
- ÜLKEMİZİN ÜSTLENDİĞİ ULUSLARARASI ROLLER-
POPÜLER KÜLTÜR..... 62

- CEVAP ANAHTARI 64



GİRİŞ YAYINLARI



1 Gruplarda herkesin görevleri olur. Bunların yerine getirilmesi önemlidir. İçinde bulunduğumuz gruplarda her grup üyesinin görevleri farklılık gösterir. Bu görevleri bizim grup içinde üstlendiğimiz roller olarak ifade edebiliriz. Bulduğumuz her grupta farklı rollerimizden söz edebiliriz. Örneğin; ailemizde çocuk, okulumuzda öğrenci, basketbol takımında oyuncu olabiliriz.

Yukarıdaki açıklamada vurgulanan temel düşünce aşağıdakilerden hangisidir?

- A) Kişilerin toplumda sahip oldukları rolleri bir anda edindiği
- B) Herkesin içinde bulunduğu gruba göre bir rol sahibi olduğu
- C) Gruplar arası çatışmanın yararlı olduğu
- D) Grup içerisinde rol sahibi olmanın gerekli olmadığı

2 Ölüm gibi üzücü bir olayın ardından söylenen türkülerle ağıt denir. Ağıt eski çağlardan beri bütün topluluklarda görülen duygulu bir ezgi türüdür. Türklerde ağıt geleneği çok eski dönemlere dayanır. Orhun Kitabeleri'nde yağ adı verilen cenaze törenlerinde ağıt yakıldığı bilgisine ulaşılmıştır. Ağıtlar, yaşanan acının diğer insanlar tarafından paylaşılmasını ve yaşanan acı olayların nesilden nesile aktarılmasını sağlar.

Buna göre;

- I. Bazı değerler insanlığın ortak duygularıdır.
- II. İnsanlar kimi zaman üzüntülerini ezgilerle dile getirmişlerdir.
- III. Günümüzde acıların paylaşılması geçmişin bir ürünüdür.

yargılarından hangileri söylenebilir?

- A) Yalnız I
- B) I ve II
- C) Yalnız III
- D) I, II ve III

3 **Fatih:** Meslek hayatım başladı. Annem bana "Oğlum hangi işi yaparsan yap, işin hakkını vererek yap." derdi. Mesleğim öğretmenlik olduğu için bu söz benim için daha da bir anlam kazanmıştı. Çünkü insan yetiştirmenin sorumluluğunu üzerimde hissediyordum. Ben de iyi bir öğretmen olmak için çaba gösterdim.

Fatih Bey'in konuşmasından hareketle;

- I. Rolünün gerektirdiği sorumluluğu yerine getirmeye çalışmaktadır.
- II. Birden fazla role sahiptir.
- III. Öğretmenlik rolünü diğer rollerden üstün tutmaktadır.

yorumlarından hangileri yapılamaz?

- A) Yalnız I
- B) I ve II
- C) Yalnız III
- D) I, II ve III

4 Dünürlük, kız evine gidilerek "Allah'ın emri peygamberin kavliyle kızın babasından istenmesi"ne denir. Söz kesme, kızın istenmesinden sonra gençlerin ve ailelerinin anlaşmasıyla evlilik kararının alınmasıdır. Nişan, kız ve erkek tarafı hazırlıklarını tamamladıktan sonra, kızın evinde daha çok kadınların katılımıyla yapılan törene denir. Bayrak asılması töreni, düğün başlamadan önce sadece erkek evinin çatısına veya uygun bir yerine bayrak asılmasıdır. Kına gecesi, genellikle düğünden bir gün öncesinin akşamında kız evinde ve oğlan evinde yapılan, kına yakma işleminin gerçekleştirildiği törene denir. Gelin alma, kına gecesinin ertesi günü oğlan tarafından konuklar toplanarak kız evine gelin almaya gelirler. Gelin ailesiyle vedalaştıktan sonra hayır dualarıyla, bazen ilahilerle bazen de davul-zurna eşliğinde eğlencelerle evden çıkarılır. Düğüne katılanlar yeni evlenen çiftte yardımcı olmak için takı, para ve eşya gibi hediyeler getirirler. Düğüne davet edilen kişilerin düğüne gelmesi beklenir.

Parçadan hareketle düğünler ile ilgili;

- I. dini inanışlara yer verildiği,
- II. birlik ve beraberlik duygusunu yaşattığı,
- III. kalıp yargıya neden olduğu

yargılarından hangilerine ulaşılabilir?

- A) I ve II
- B) Yalnız II
- C) II ve III
- D) Yalnız III



1 Çin imparatoru, Asya Hun Devleti'nin hükümdarı olan Mete Han'a gönderdiği mektupta, ondan en iyi atını ve kılıcını kendisine göndermesini istemiştir. Mete Han bunun üzerine Kurultay'ı toplayarak ne yapması gerektiğini danışmıştır. Kurultay'a katılan vezir ve boy beyleri at ve kılıcın Türk töresinde kutsal kabul edildiğini bu sebeple göndermemesini önermişlerdir. Mete Han Kurultay'da alınan karara uymamış ve Çin imparatoruna atını ve kılıcını göndermiştir. Asıl amacı savaş çıkarmak olan imparator bu duruma pek sevinmemiş ama Türklere siyasi üstünlük kurduğunu düşünerek teselli olmuştur. Bu olaydan birkaç ay sonra Çin imparatoru, Mete Han'dan sınırlarına yakın küçük bir toprak parçasını ülkesine bağışlamasını istemiştir. Mete Han tekrar Kurultay'ı toplamış ve danışmıştır. Vezir ve boy beyleri bu sefer küçük bir toprak parçası için savaş çıkmasını diye toprağın verilmesini önermiştir. Mete Han bu duruma çok kızmış "Asıl kutsal olan vatan toprağıdır. Kılıç ve at benim malımdır ancak toprak milletimindir ve bana emanettir. Bana düşen emanete en iyi şekilde sahip çıkmaktır." diyerek Kurultay'ın aldığı karara uymamıştır. Gönderdiği mektupla Çin İmparatorluğu'na savaş ilan etmiştir.

Buna göre Mete Han ile ilgili aşağıdakilerden hangisi söylenebilir?

- A) Vatan toprağını bağımsızlıkla eş tutmuştur.
- B) Kurultay üzerindeki herhangi bir gücü kalmamıştır.
- C) Çin'e karşı her zaman savaş politikası yürütülmüştür.
- D) Türk töresine karşı gelmiştir.

2 Bizanslı elçi Zemarkhas ziyaret ettiği Kök Türk kağanı için şunları söylemiştir: "Türk beyi beni önce ipeklerle süslenmiş bir çadırda karşılamıştı. Çadırın içinde çeşitli madenlerden yapılmış heykelcikler, altın sürahi ve köşeleri altınlarla çevrili bir döşek vardı. Beyin başka bir çadırında da direkleri altın kaplama ve kuş figürleriyle süslü ortada ayakları altından olan bir taht bulunuyordu. Yine bir merasimde atlar tarafından çekilen altın bir taht üzerine oturmuştu."

Buna göre Kök Türkler hakkında aşağıda verilen bilgilerden hangisi doğru değildir?

- A) Göçebe bir hayat yaşadıkları
- B) Heykel sanatının geliştigi
- C) Ekonomik açıdan güçlü olmadıkları
- D) Bizans ile siyasi ilişki kurdukları

3 Ben Bilge Kağan. Bu sözümü iyice işitin. Doğuda gün doğusuna, güneyde gün ortasına, batıda gün batısına, kuzeyde gece ortasına kadar onun içindeki millet hep bana bağlıdır. Bunca milleti hep düzene soktum. Doğuda Şantung Ovası'na kadar ordu sevk ettim. Denize ulaşmama az kaldı. Çin milleti ile anlaştım. Altını, gümüşü, ipeği bize veriyorlar. Çin milletinin sözü tatlı, ipek kumaşı yumuşak. Tatlı sözle, yumuşak ipek kumaşla uzak milletleri aldatıp kendine yaklaştırır sonra da kötü şeyler düşürmüştü. Beyleri, milleti ahenksiz olduğu için, Çin milleti hilekâr ve sahtekâr olduğu için, aldatıcı olduğu için, küçük kardeş ve büyük kardeşi birbirine düşürdüğü için, bey ve milleti karşılıklı çekiştiği için Türk milleti il yaptığı ilini elden çıkarmış. Türk beyleri Türk adını bırakmış.

Bilge Kağan'ın yukarıdaki açıklamalarından aşağıdaki çıkarımlardan hangisine ulaşılamaz?

- A) Devletin geniş sınırlara ulaştığı
- B) Çin'in vergiye bağlandığı
- C) Türklerin her zaman Çinlilere üstünlük kurduğu
- D) Türk beylerinin birbirleriyle mücadelesinin devlet olma özelliğini kaybetmeye neden olduğu

4 Kök Türk Devleti ile ilgili bilgilere Çin kaynaklarında da rastlanmaktadır. Çin kaynaklarında Kök Türklerle ilgili yer alan bazı bilgiler şunlardır:

- ◆ "627 yılında Kök Türk ülkesinde çok kar yağmıştır. Bu yüzden koyunların ve atların büyük bir kısmı telef olmuştur."
- ◆ "685 yılında Oğuzların ülkesinde büyük bir kuraklık meydana gelmiştir. Bu yüzden atların ve sığırların onda yedisi veya sekizi ölmüştür. Oğuzlar, ot kökü yemek zorunda kalmıştır."

Bu bilgilerden hareketle Kök Türkler ile ilgili;

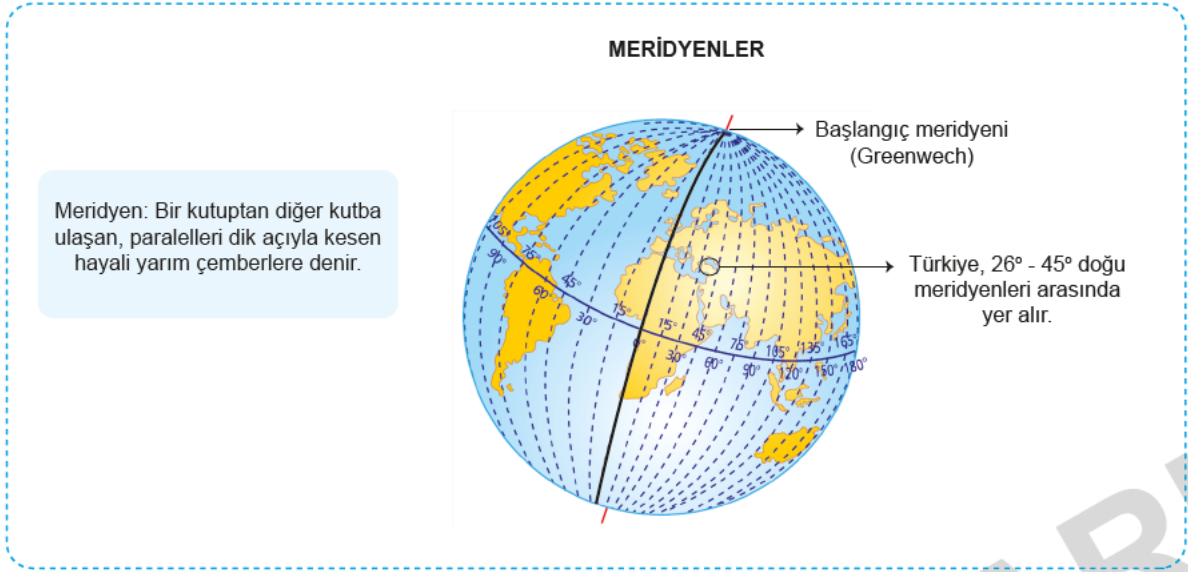
- I. temel geçim kaynaklarının hayvancılık olduğu,
- II. iklim koşullarının hayat şartları üzerinde etkili olduğu,
- III. tek geçim kaynaklarının tarım olduğu

yargılarından hangilerine ulaşılabilir?

- A) I ve II
- B) Yalnız III
- C) Yalnız I
- D) I, II ve III



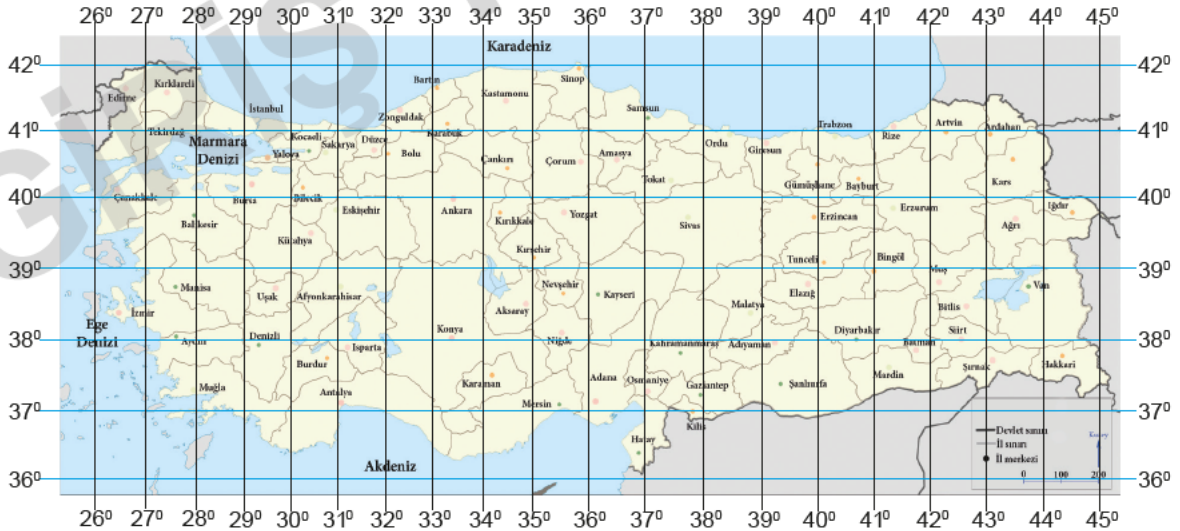
1



Yukarıda verilen bilgilere bakılarak aşağıdaki yorumlardan hangisi yapılamaz?

- A) Meridyenler kutup noktalarında birleşirler.
- B) Ülkemizin doğusu ile batısı arasında 19 meridyen vardır.
- C) Meridyenlerin boyları Ekvator'dan kutuplara doğru kısalır.
- D) Türkiye'nin doğusundan batısına doğru gidildikçe meridyen dereceleri küçülür.

2



Yukarıdaki haritada Türkiye'nin bulunduğu matematik (mutlak) konum verilmiştir.

Türkiye'nin matematik konumu ile ilgili aşağıdaki yorumlardan hangisi yapılamaz?

- A) Üç tarafı denizlerle çevrilidir.
- B) Kuzey Yarım Küre'de yer almaktadır.
- C) 36° - 42° kuzey paralelleri ile 26° - 45° doğu meridyenleri arasında yer almaktadır.
- D) Akdeniz kıyıları Karadeniz kıyılarından daha sıcaktır.



1

ELMA SİKKELERİ

MÖ V. yüzyılda Perslerin Yunanistan'ı istila etmesinden sonra Atina Şehir Devleti'nin önderliğinde Akdeniz çevresindeki şehirlerden oluşan bir birlik kurulmuştu. Birliğin bir merkezi ve bütçesi vardı. Her ülke kendi bastığı gümüş sikkeden kendi gücü oranında birliğe katkıda bulunurdu. 1984 yılında Antalya'nın Elmalı ilçesinde kazılar sonucu bulunan elma sikkeleri (Yüzyılın Definesi), o bölgede bulunan şehir devletlerinin paralarını içeriyordu. Yaklaşık 1900 adet sikkenin binden fazlası Likya bölgesindeki şehir devletlerinin parasıydı ve içlerinde şimdiye kadar bilinmeyen hanedanların sikkeleri de vardı. Yunanlılar Persleri yendikleri için bir anı parası çıkarmışlardı. Normal olarak o zaman para birimi bir drahmi, en fazla 4 drahmi iken anma nedeniyle 10 drahmilik para çıkarılmıştı (10 drahmilik para=Dekadrahmi). Bu sikkeler çok az sayıda basılmıştı ve 1984 yılına kadar dünyada sadece 13 tanesinin varlığı bilinmekte idi. İşte bu yüzden Elmalı sikkelerine "Yüzyılın Definesi" denmiştir.



Verilen görsel incelendiğinde arkeoloji biliminin tarihi olayların değerlendirilmesine hangi açıdan katkıda bulunduğu söylenemez?

- A) Elde edilen paralardan bölgede hangi siyasi yapıların yaşadığının öğrenilmesine
- B) Eski toplumların yaşam biçimlerinin öğrenilmesine
- C) Bölgedeki ekonomik durumun öğrenilmesine
- D) Yapılan savaşların nedenlerinin bilinmesine

2

- ◆ Malatya'nın Battalgazi ilçesine bağlı Yarımcahan Köyü'nde geliştirilen sistem için köy ile 7 kilometre mesafedeki Karakaya Barajı arasına boru döşendi. Baraj gölü sahasındaki pompanın panosuna yerleştirilen cep telefonuna çağrı bırakıldığında sistem çalışıyor ve borularla köye su ulaşıyor. Sistemin devreden çıkarılması yine bir telefon çağrısı ile yapılıyor.
- ◆ Robot teknolojisinde hayal gücünün sınırlarını zorlayan Japonlar şimdi de alışveriş robotu geliştirdi. Bu robot, alışverişe çıkmayı sevenlerin en büyük yardımcısı olacak. Müşteriyi kapıda karşılayan ve kasaya gidene kadar eşlik eden robot, alışveriş sepetini de taşıyor. Daha önce hafızasına kaydedilmesi şartıyla eğer alışveriş listesinde almayı unuttuğunuz bir şey varsa da hatırlatıyor.
- ◆ İngiltere'de yol bulma derdini tamamen sona erdirecek bir ayakkabı üretildi. GPS teknolojisine sahip ayakkabının burnunda bulunan ekranda ışıklı yön okları var. Ayakkabının dilinin arkasındaki ekrana gitmek istediğiniz yerin koordinatlarını giriyorsunuz, oklar ışık ve seslerle sizi o noktaya yönlendiriyor.

Yukarıda verilen örneklerde teknolojik gelişmelerin daha çok hangi yönüne vurgu yapılmıştır?

- A) Gündelik yaşamı kolaylaştırdığına
- B) Yoğun çalışmalar sonucu ortaya çıktığına
- C) Doğal çevreye zarar verdiğine
- D) Genellikle yurt dışında gerçekleştiğine



1



Yukarıdaki harita incelendiğinde aşağıdakilerden hangisine ulaşamaz?

- A) Ekonomik faaliyetler çeşitlilik göstermektedir.
- B) Karadeniz Bölgesi'nde farklı ekonomik faaliyetler yapılmaktadır.
- C) Büyükbaş hayvancılık Doğu Anadolu Bölgesi'nde yapılmaktadır.
- D) En yaygın yapılan ekonomik faaliyet balıkçılıktır.

2

Ülkemiz, yer altı kaynakları bakımından oldukça zengindir. Bu nedenle madencilik ülkemizde yapılan önemli bir ekonomik faaliyettir. İnsanların bir kısmı maden ocaklarında çalışarak geçimlerini sağlamaktadır. Demir, bakır, bor, krom ve boksit ülkemizde çıkarılan madenlere örnektir. Ülkemiz dünya bor rezervinin önemli bir kısmına sahiptir. Bor madeni günlük hayatta kullandığımız birçok alet, eşya ve makinenin ham maddesi olarak kullanılmaktadır. Örneğin; jet ve roket yakıtlarında, bilgisayar ve cep telefonu yapımında, cam sanayisinde, temizlik ürünlerinde bor madeninden yararlanılmaktadır. Bilimin ilerlemesiyle bor madeninin kullanım alanının genişlemesini sağlamıştır.

Buna göre bor madeni ile ilgili;

- I. Günlük hayatta kullandığımız bazı ürünlerin ham maddesini oluşturmaktadır.
- II. Bor yataklarına en çok ülkemizde rastlanılmaktadır.
- III. Teknolojik gelişmeler kullanım alanının genişlemesini sağlamıştır.

yukarıdakilerden hangileri söylenebilir?

- A) I ve II
- B) II ve III
- C) I ve III
- D) I, II ve III



1 "Bir rüyam var. Gün gelecek, eski kölelerin evlâtlarıyla eski köle sahiplerinin evlâtları, Georgia'nın kızıl tepelerinde kardeşlik sofrasına birlikte oturacaklar.

Bir rüyam var. Gün gelecek, bu ulus ayağa kalkıp kendi inancını gerçek anlamıyla yaşayacak...

Bir rüyam var. Gün gelecek, Alabama eyaleti, küçük siyah oğlanlarla küçük siyah kızların, küçük beyaz oğlanlar ile küçük beyaz kızların el ele tutuşup kardeşçe birlikte yürüdüğü bir yere dönüşecek."

Martin Luther King

Martin Luther King yukarıdaki konuşmasıyla demokrasinin dayandığı temel ilkelerden hangisini vurgulamaktadır?

- A) Katılımcılık
- B) Hukukun üstünlüğü
- C) Eşitlik
- D) Çoğulculuk


2



Yukarıdaki karikatürde verilen yönetim şekli ile ilgili olarak aşağıdakilerden hangisi söylenemez?

- A) Bu yönetim biçimiyle idare edilen ülkelerde yönetme yetkisi halkta değil tek kişinin elindedir.
- B) Yönetici ömür boyu ülkeyi idare eder.
- C) Demokrasi ile ilişkilendirilebilecek bir yönetim biçimidir.
- D) Siyasi otorite miras yoluyla bir kişinin elinde toplanmıştır.

3



Yukarıda görseli verilen yönetim şekli ile ilgili aşağıdakilerden hangisi söylenemez?

- A) Halkın ülke yönetiminde söz sahibi olduğu yönetim biçimidir.
- B) Devlet başkanı ve milletvekilleri kanunla belirlenen, belli aralıklarla yapılan seçimle ve belli bir süreliğine iş başına gelir.
- C) Bir kişi ya da grubun değil, tüm halkın çıkarları önemlidir.
- D) Devlet yönetiminde görev alanlar yaptıkları tüm işleri tanrı adına yaparlar.

4

Monarşi denilen yönetim şekline göre egemenlik tek bir kişinin elindedir. Ülkeyi yönetme yetkisine sahip olan kişiye devletlerde; kral, kağan, han, imparator ve padişah gibi farklı unvanlar verilirdi. Yönetici yasama, yürütme ve yargı yetkilerini tek başına kullanırdı. Yöneticinin verdiği kararlara herkes uymak zorundaydı. Yönetici, verdiği kararlar sebebiyle suçlanıp yargılanamazdı. Ülkeyi yöneten kişi öldükten sonra yerine genellikle aile üyelerinden biri geçirdi. Halk yönetimde söz sahibi değildi.

Buna göre monarşi ile yönetilen bir ülkede aşağıdakilerden hangisi görülmez?

- A) Demokratik uygulamalar yoktur.
- B) Kralın belirlenmesinde halkın ileri gelenleri etkili olmaktadır.
- C) Hükümdarın mutlak hâkimiyeti söz konusudur.
- D) Ülke sadece hükümdar ve ailesi tarafından yönetilmektedir.



1

Hoca Ahmed Yesevi Türkistan Şehri

Türkiye ile Kazakistan arasında çeşitli madenler, hayvansal ürünler ve tarım ürünleri başta olmak üzere önemli ticari faaliyetler söz konusudur. Ayrıca iki ülke arasında bankacılık alanında iş birliği yapılmaktadır. Türk dünyasının ortak üniversitesi olarak kabul edilen Ahmet Yesevi Üniversitesi bu ülkede bulunmaktadır. Üniversitenin öğretim dilinin Türkiye Türkçesi ve Kazak Türkçesi olması kültürel birlikteliğimizin bir göstergesidir. Bu üniversiteye yaklaşık 8.000 Türk vatandaşı gitmektedir. Bununla birlikte TİKA, Türk-İslam bilginlerinden biri olan Ahmed Yesevi'nin türbesinde kapsamlı bir restorasyon çalışması yapmıştır.



Buna göre Türkiye ile Kazakistan arasında;

I. ekonomi

II. eğitim

III. askeri

alanlarının hangilerinde gelişme yaşandığı söylenebilir?

A) Yalnız I

B) I ve II

C) II ve III

D) Yalnız III

2

Tika'dan Azerbaycan'da Genç Sporculara Destek

Türk İş Birliği ve Koordinasyon Ajansı Başkanlığı (TİKA) Azerbaycanlı gençlerin zararlı alışkanlıklardan korunmasına, Azerbaycan'ın geleceğinin sağlam temeller üzerinde inşa edilmesine katkı sağlayacak eğitim, spor ve kültür faaliyetleri çerçevesinde üniversite öğrencileri ve gençlerin kullanımı için halı saha kurdu. Açılış töreninde konuşan T.C. Bakü Büyükelçisi, "Türkiye ile Azerbaycan iki devlet, bir millettir. Türkiye'nin gücü Azerbaycan'ın, Azerbaycan'ın gücü ise Türkiye'nin gücüdür. Birlikte her zaman daha güçlü ve daha ileride olacağız." dedi. Büyükelçi, Azerbaycanlı gençlerin desteklenmesi adına Azerbaycan'da yapılan çalışmalardan dolayı TİKA'ya teşekkürlerini dile getirdi.



Buna göre Türkiye ile ilgili aşağıdaki yargılardan hangisi söylenebilir?

A) Ortak değerlere sahip olduğu ülkelerle iş birliği yapmıştır.

B) Uluslararası alanda kültürel faaliyetlere ev sahipliği yapmaktadır.

C) Ekonomik alanda Azerbaycan'a destek vermektedir.

D) Azerbaycan'la iş birliğini daha çok eğitim alanında yapmıştır.



Bandrol Uygulamasına İlişkin Usul ve Esaslar Hakkında Yönetmeliğin 5'inci maddesinin ikinci fıkrası çerçevesinde bandrol taşıması zorunlu değildir.



İvedik Organize Sanayi 1518 Sok. Matbaacılar Sitesi
Mat-Sit İş Merkezi No.:2/20 Yenimahalle / ANKARA
Telefon: 0 312 384 20 33 Belgegeçer: 0312 342 23 58
WhatsApp: 0505 099 24 84
www.giris yayinlari.com | giris yayinlari@gmail.com

