

Pratik, Özgün, Anlaşılır, Öğretici

VIP



Sosyal Bilgiler

Kazanım Sorularından Yeni Nesil Sorulara Geçiş

SORU
BANKASI



EDITÖR YAYINEVİ

7. SINIF SOSYAL BİLGİLER

EDİTÖR

Turgut MEŞE

YAZAR

Komisyon

Bütün hakları Editör Yayınevine aittir.

Yayıncının izni olmaksızın kitabın tümünün veya bir kısmının elektronik, mekânîk yollarla ya da fotokopi yoluyla basımı, çoğaltılması ve dağıtımı yapılamaz.

ISBN

978-605-280-320-2

SERTİFİKA NO

40613

KAPAK TASARIMI

Editör Yayınevi Dizgi Ekibi

SAYFA TASARIMI

Editör Yayınevi Tasarım Ekibi

BASKI VE CİLT



ANKARA



İLETİŞİM

İvedik Organize Sanayi Matbacılar Sitesi

1518 Sok. Mat-Sit İş Merkezi No:2/20

Yenimahalle / ANKARA

Tel: 0 312 384 20 33 - 0 505 925 57 81

Fax: 0312 342 23 58

www.editoryayinevi.com

Kitap hakkında görüş ve önerileriniz için

WhatsApp hattımız: 0 542 262 03 37

İÇİNDEKİLER

1. ÜNİTE: İLETİŞİM VE İNSAN İLİŞKİLERİ

İLETİŞİM KURARAK ANLAŞIRIZ - OLUMLU İLETİŞİM, MUTLU BİREY VE TOPLUM.....	5
MEDYANIN HAYATIMIZDAKİ YERİ.....	9
ÖZGÜRÜM, SORUMLULUKLARIMIN OLDUĞU YERE KADAR.....	13
ÜNİTE DEĞERLENDİRME TESTİ - I.....	17
ÜNİTE DEĞERLENDİRME TESTİ - II.....	21

2. ÜNİTE: TÜRK TARİHİNDE YOLCULUK

OSMANLI DEVLETİ'NİN KURULUŞU.....	25
OSMANLI DEVLETİ'NİN FETİH SİYASETİ.....	30
AVRUPA'DAKİ GELİŞMELER VE OSMANLI DEVLETİNE ETKİLERİ.....	34
OSMANLI DEVLETİ'NDE ISLAHAT HAREKETLERİ.....	39
SEYYAHLARIN GÖZÜYLE OSMANLI.....	41
ÜNİTE DEĞERLENDİRME TESTİ - I.....	43
ÜNİTE DEĞERLENDİRME TESTİ - II.....	47

3. ÜNİTE: ÜLKEMİZDE NÜFUS

YERYÜZÜNDE YAŞAM - NÜFUSUMUZ.....	51
NEDENLERİYLE VE SONUÇLARIYLA GÖÇ.....	61
YERLEŞME VE SEYAHAT ÖZGÜRLÜĞÜ.....	66
ÜNİTE DEĞERLENDİRME TESTİ - I.....	69
ÜNİTE DEĞERLENDİRME TESTİ - II.....	73

4. ÜNİTE: ZAMAN İÇİNDE BİLİM

GEÇMİŞTEN GÜNÜMÜZE BİLGİNİN SERÜVENİ.....	77
TÜRK-İSLAM MEDENİYETİNDE BİLGİNLER.....	83
AVRUPA'DAKİ BİLİMSEL GELİŞMELER- ÖZGÜR DÜŞÜNCENİN BİLİMSEL GELİŞMELERE KATKISI.....	89
ÜNİTE DEĞERLENDİRME TESTİ - I.....	93
ÜNİTE DEĞERLENDİRME TESTİ - II.....	97

5. ÜNİTE: EKONOMİ VE SOSYAL HAYAT

TOPRAK ANA	101
GEÇMİŞTEN GÜNÜMÜZE ÜRETİM ARAÇLARI	110
SOSYAL HAYATTA VAKIFLARIN YERİ.....	112
MESLEK EDİNDİREN KURUMLAR	116
YENİ MESLEKLER - DİJİTAL DÜNYA.....	119
ÜNİTE DEĞERLENDİRME TESTİ - I	122
ÜNİTE DEĞERLENDİRME TESTİ - II	126

7. ÜNİTE: ÜLKELER ARASI KÖPRÜLER

YURTTA BARIŞ, DÜNYADA BARIŞ	151
BİZ DE VARIZ	155
BİZ KONUKSEVER BİR MİLLETİZ - DÜNYAYI BİZ KURTARACAĞIZ	157
ÜNİTE DEĞERLENDİRME TESTİ - I	161
ÜNİTE DEĞERLENDİRME TESTİ - II	165
CEVAP ANAHTARI	169

6. ÜNİTE: YAŞAYAN DEMOKRASİ

DEMOKRASİNİN SERÜVENİ.....	130
ATATÜRK VE DEMOKRASİ.....	134
ANAYASA'DAN GELEN GÜÇ	138
DAHA FAZLA DEMOKRASİ	141
ÜNİTE DEĞERLENDİRME TESTİ - I	143
ÜNİTE DEĞERLENDİRME TESTİ - II	147

TEST 1

İLETİŞİM KURARAK ANLAŞIRIZ - OLUMLU İLETİŞİM, MUTLU BİREY VE TOPLUM

1

SEN DİLİ - BEN DİLİ

Ben dili karşımızdaki kişiyi suçlamaz oysa sen dili suçlayıcı ve yargılayıcıdır. Ben dili duygu ve düşüncelerimizi açıklamak, anlaşmazlıkları çözmek için en etkili yöntemdir.



Sen Dili Mesajları

Kes şunu baş belası!

Çok kabasın her zaman sözümü kesiyorsun.

Niçin kapıyı hep açık bırakıyorsun?

Ben Dili Mesajları

Kolumun çekiştirilmesinden hoşlanmıyorum.

Konuşmaya başlayıp sonunu getiremeyince sinirleniyorum.

Kapının açık kalması beni rahatsız ediyor.



Kendi özelliklerimizi ve bunlardan kaynaklanan fikirlerimizi üstünlük olarak karşımızdaki-
ne kabul ettirmeye çalışmak çatışma doğurur.



Verilen görselden hareketle;

- I. ben dilinin kişinin kendisini açık bir şekilde ifade etmesini sağladığı,
- II. kendi fikirlerini başkasına zorla kabul ettirmeye çalışan birinin güçlü olduğu,
- III. ben dilinin iletişimi olumlu etkileyen bir unsur olduğu

yorumlarından hangileri yapılamaz?

- A) I ve II B) Yalnız II C) II ve III D) I, II ve III

2 Düşündüklerinin hepsini söylemezler, fakat söylediklerini düşünüp de söylerler. (Aristo)

Aristo bu sözülle aşağıdakilerden hangisine vurgu yapmıştır?

- A) Susmayı B) Düşünmeyi
C) Düşünerek konuşmayı D) Her aklına geleni söylemeyi

- 11 Kitle iletişim araçları insanlar arasındaki etkileşimi artırır. İnsanları bilgilendirir ve paylaşımları kolaylaştırır. İyi amaçla kullanıldığında çok yararlı olan iletişim araçları, kötü amaçla kullanıldığında kişilere zarar verebilir.

Kitle iletişim araçlarının birey ve topluma olumsuz etkileri arasında aşağıdakilerden hangisi yoktur?

- A) Bireyler arasında doğrudan iletişimi kurmayı azaltması
 B) Çatışmaya ve kültürel yozlaşmaya neden olması
 C) Toplumda uyumlu bireylerin ortaya çıkmasını sağlaması
 D) Başkalarının özel hayatına müdahale edilmesine yol açması

- 12 İletişimde bazı teknikler kullanılarak iletişimin çok sayıda kişiyi etkileyecek biçime getirilmesine kitle iletişimi, bunun için kullanılan araçlara ise kitle iletişim araçları denir.

Ülkemizdeki en etkili kitle iletişim aracı aşağıdakilerden hangisidir?

- A) Radyo
 B) Televizyon
 C) Gazete
 D) Dergi

- 13 Aşağıdakilerin hangisinde kitle iletişim araçlarının farklı bir yönünden bahsedilmektedir?

- A) İletişim ve haberleşme ağına ulaşmak kolaylaşmıştır.
 B) Her konuda istenilen bilgiye kolayca ulaşılmasını sağlamaktadır.
 C) İletişimin kolaylaşmasını sağlamıştır.
 D) İnsanların teknolojiye olan bağımlılığını arttırmıştır.

- 14 Teknoloji sayesinde iletişim araçlarının çeşitliliği de artmıştır. Günümüzde görsel, işitsel, hem görsel hem de işitsel birçok iletişim aracı kullanılmaktadır.

Hem görsel hem de işitsel olan iletişim aracına aşağıdakilerden hangisi örnek olarak verilebilir?

- A)  B) 
 C)  D) 

- 15 Medyanın kitle iletişiminde önemli görevleri ve sorumlulukları vardır. Doğru haber yapma ve yayma bunların başında gelir. Tarafsız olmak ve özel hayata saygılı olmak medya ve basın-yayın kuruluşlarının uyması gereken ilkelerdendir. Medya yayınları çocukların yaşına uygun dil, müzik, mizah, karakterler ve öyküler kullanılmalıdır. Ayrıca çocukların gelişimine ve aile yaşamına zarar verecek olursa medya yayınına sansür (yayın yasağı) getirilebilir.

Buna göre medya ile ilgili;

- I. sınırsız haklara sahip olmadığı,
 II. uyması gereken kuralların olduğu,
 III. çocuklar üzerinde etkisinin olduğu

yargılarından hangileri söylenebilir?

- A) I ve II
 B) II ve III
 C) Yalnız II
 D) I, II ve III

6



Balkanlar'daki Fetihler

Harita incelendiğinde Kuruluş Dönemi'nde Balkanlar'da gerçekleştirilen fetih hareketleri ile ilgili yapılabilecek doğru yorum aşağıdakilerden hangisi olabilir?

- A) İlk fetih hareketlerine İstanbul'un kuşatılmasıyla başlamıştır.
- B) İlk Osmanlı-Haçlı Savaşı Sırsındığı Savaşı'dır.
- C) Fetih hareketleri batıya doğru genişlemiştir.
- D) II. Kosova Savaşı ile batıdaki fetih hareketleri sona ermiştir.

7 Osmanlı Devleti'nin kurulduğu sıralarda Balkanlar'da şu durumlar yaşıyordu:

- Güçlü bir merkezi otorite yoktu.
- Balkan milletleri birbirleriyle üstünlük mücadelesine girişmişti.
- Katolikler ve Ortodokslar arasında mezhep çatışmaları yaşıyordu.

Verilen gelişmeler Osmanlı Devleti açısından öncelikle aşağıdakilerden hangisini kolaylaştırmıştır?

- A) Türk siyasi birliğinin sağlanmasını
- B) Balkanlar'daki fetihleri
- C) Merkezi otoritenin güçlenmesini
- D) İstanbul'un ele geçirilmesini

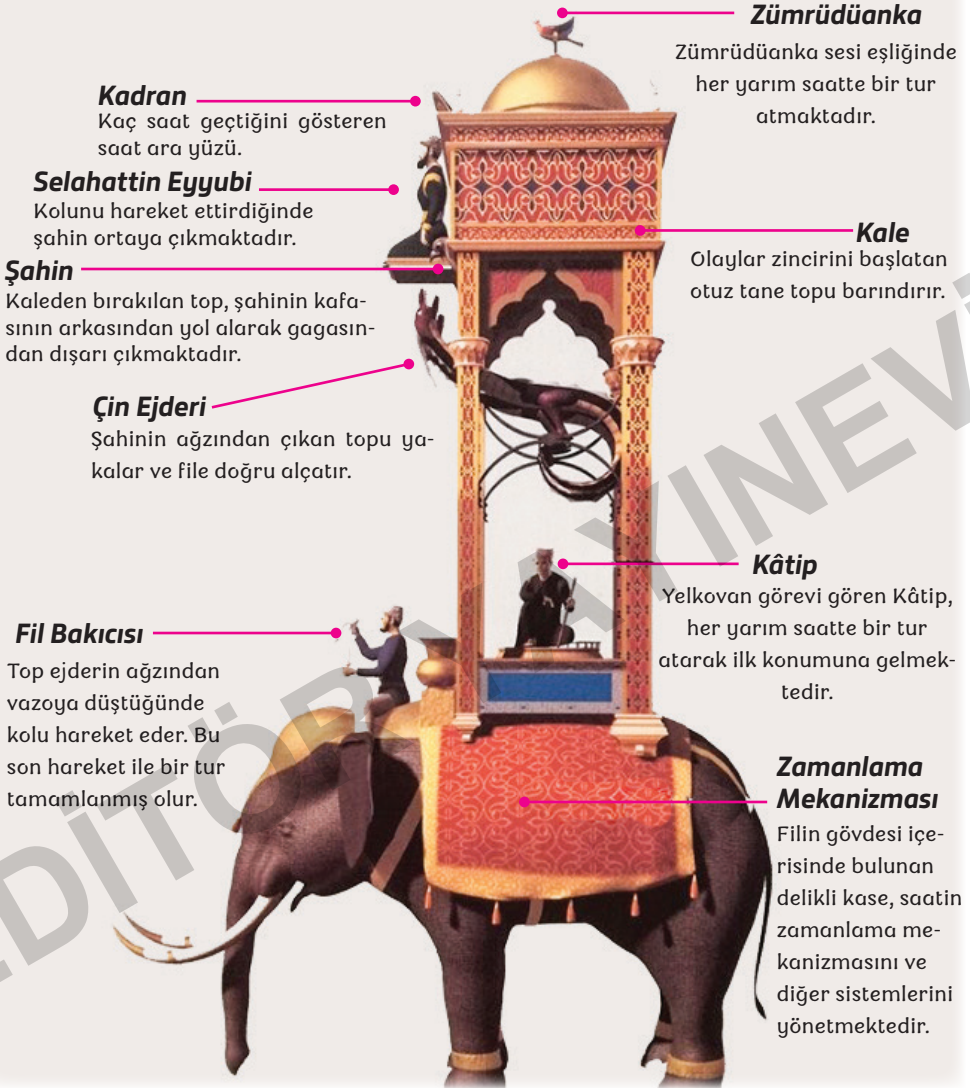
8 "Duyduk duymadık demeyin!!! Osman Bey'in emridir! Müslüman ya da Hristiyan hiç kimse kimseye zulmetmeyecektir. Her kim ki haksızlığa uğrarsa Osman Bey'e şikâyetini bildirecektir!!!"

Yukarıda Osman Bey Dönemi'nde yapılan bir duyuru verilmiştir.

Bu duyurudan yola çıkarak aşağıdakilerden hangisi söylenebilir?

- A) Müslüman ve Hristiyan halk arasında siyasi çekişme yaşanmaktadır.
- B) Adaletli bir yönetim anlayışı vardır.
- C) Müslüman nüfusu daha fazladır.
- D) Hristiyan halk Osman Bey'in etkisiyle İslamiyet'i kabul etmiştir.

ÇAĞINI AŞAN MAKİNELER: FİLLİ SU SAATİ



El-Cezeri: 1136-1206 yılları arasında yaşamıştır. Bilgisayarın temellerini atan alim fen ve teknik adamı; robot saatler, su makineleri, şifreli kilitler... gibi yaklaşık 60 makinanın mucididir.

Görselden hareketle;

- I. El Cezeri'nin birçok alanda çalışmalar yapan bir bilgin olduğu,
- II. zamanın ölçümü konusunda yaşadığı döneme göre çağlar aşan bir mucit olduğu,
- III. filli su saatindeki her mekanizmanın ayrı bir görevi olduğu

yargılarından hangileri söylenebilir?

A) Yalnız I

B) I ve II

C) II ve III

D) I, II ve III

11

İBN-İ SİNA (980 - 1037)

- Ünlü tıp bilimcisi ve filozoftur.
- Küçük yaşlardan itibaren tıp ve eczacılık konusunda iyi bir eğitim almıştır.
- 18 yaşındayken Samani hükümdarının hastalığını tedavi etmiştir.
- "Tıbbın Kanunu" isimli kitabı 500 yıl boyunca Avrupa'da tıp alanında başvuru kitabı olarak kullanılmıştır.
- Mikroskop keşfedilmeden önce canlı mikroplardan bahsetmiştir.
- Tıp alanında yaptığı çalışmalarla ünlenmiş felsefe, astronomi, matematik, fizik ve kimya gibi alanlarda çalışmalar yapmıştır.



İbn-i Sina ile ilgili verilen bilgilerden hareketle aşağıdakilerden hangisi söylenemez?

- A) Farklı alanlarda çalışmalar yaptığı
- B) Tıp alanında ön plana çıktığı
- C) Uzun süre önemini koruyan eserler bıraktığı
- D) Eserlerinin yalnızca belli bir bölgede okunduğu

12 Matbaanın icat edilmesiyle çok sayıda kitabın basılması aşağıdakilerden hangisini sağlamıştır?

- A) Sömürgeciliğin yayılmasını
- B) Bilgi ve düşünce alışverişinin hızlanmasını
- C) Ticaretin gelişmesini
- D) Coğrafi keşiflerin gelişmesini

13

- Bilgilerin başka nesillere aktarılması
- İlk Çağ'ın başlaması
- Bilgilerin depolanması

Verilen olaylar aşağıdakilerden hangisinin bulunması ile gerçekleşmiştir?

- A) Matbaanın icadı
- B) Kâğıdın icadı
- C) Yazının icadı
- D) Ateşin icadı

TIMAR ARAZİ

Has


Devlet topraklarında senelik geliri 100 bin akçeyi geçen tımarlardır. Padişah ve hanedana mensup kişilere verilen topraklardır.

Zeamet

Devlet topraklarında senelik geliri 20 bin akçeden 100 bin akçeye kadar olan dirliklere denir. Subaşı gibi memurlara, eyalet merkezlerindeki defterdarlara ve sancaklarda alay beylerine verilir.

Timar

Devlet topraklarında senelik geliri 20 bin akçeye kadar olan dirliklere denir. Tımarlar hizmet karşılığı sipahi askerlere verilir. Tımar sahipleri senelik gelirlerinden kılıç adı verilen belirli bir kısmın ayrılmasından sonra geriye kalan gelirin her üç bin akçesi için bir asker beslemek mecburiyetindedir.



Yukarıdaki görselde Osmanlı Devleti'nde tımar sistemi ile ilgili verilen bilgilerden hareketle aşağıdakilerden hangisine ulaşamaz?

- A) Devlete ait topraklar hizmet karşılığında devlet görevlilerine toprak gelirleri olarak dağıtılmıştır.
- B) En değerli topraklar has topraklardır.
- C) Tımar toprakları aynı zamanda asker ihtiyacına kaynak sağlamıştır.
- D) En geniş topraklar zeamet topraklardır.

5



Eski Türk devletlerinde adalet bir devlet töresiydi. Hakan bile kanuna aykırı davranırsa cezalandırılırdı. Türk kültüründe “meşveret” kavramı vardır. Meşveret akıl toplamak demektir. Yani en doğruyu bulmak için birbirlerine danışılmasıdır. Bu işlem Kurultay’da yapılırdı. Kurultay’da devletin siyasi, askerî ve ekonomik konuları ile ilgili görüşmeler yapılırdı, kararlar alınılırdı. Kurultay’a hakanın eşi de katılırdı. Yabancı elçileri de karşılardı.

Yukarıdaki görsele ve paragrafa bakarak eski Türk devletleri ile ilgili;

- I. Türklerde demokratik uygulamaların görüldüğüne,
- II. Kadının yönetimde söz sahibi olduğuna,
- III. Kurultay’da ülkenin çeşitli sorunlarıyla ilgili kararların alındığına

yargılarından hangilerine ulaşılabilir?

- A) I, II ve III B) II ve III C) Yalnız I D) Yalnız III

6

Asya Türk devletleri, Türk boylarının birleşmesi ile oluşmuştur. Boy beyleri, halk tarafından adaletli, yetenekli, güçlü ve bilgili kişiler arasından seçilirdi. Devletle ilgili kararların alındığı kurultaylara boy beyleri de katılırdı.

Bu bilgilere dayanarak Orta Asya Türk devletleri ile ilgili aşağıdakilerden hangisi söylenemez?

- A) Boy beyleri demokratik yöntemlerle seçilmiştir.
- B) Hükümdarlığın kaynağının ilahi olduğu inancı vardır.
- C) Halk devlet yönetiminde güvenilir kişilerin olmasına önem vermiştir.
- D) Boy beyleri yönetimde söz sahibidir.

- 4 Atatürk, 23 Nisan 1920'de TBMM'yi açarak modern Türkiye'nin temellerini atmış, millî egemenlik ilkesini devletin temel öğelerinden biri hâline getirmiştir. Türkiye Cumhuriyeti'nin ilk anayasası olan Teşkilat-ı Esasiye Kanunu'nun birinci maddesinde "Egemenlik kayıtsız şartsız milletindir." denilerek egemenlik halka verilmiştir. Meclisin kendi dışında hiçbir güç ve idare tanımadığı bildirilmiştir. Böylece tek kişinin hâkimiyeti ve saltanat sistemi de son bulmuştur.

Verilen bilgilere göre aşağıdakilerden hangisine ulaşılabilir?

- A) Millî irade devletin temel ilkesi olmuştur.
B) Çok partili hayata geçilmiştir.
C) Kanun-i Esasi adında ilk anayasa çıkarılmıştır.
D) Yasama organı millete verilmiştir.

- 5 Bir ülkede dini hoşgörünün yaygın olması aşağıdaki anlayışlardan hangisinin geliştiğinin göstergesidir?

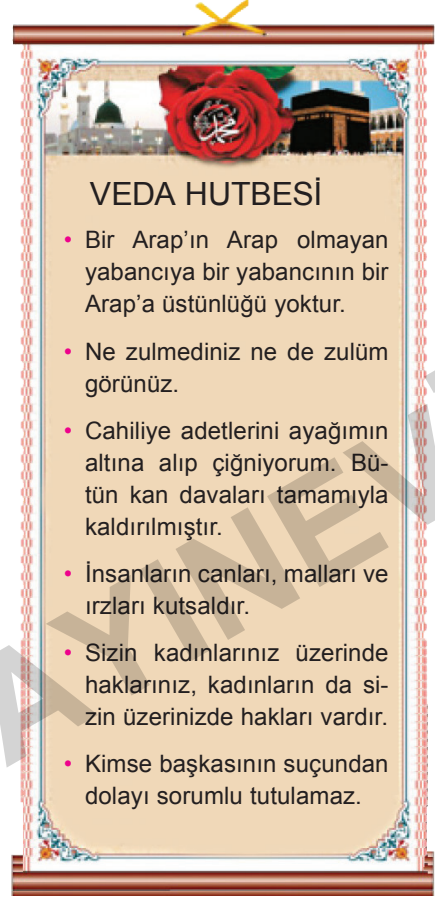
- A) Sosyal devlet
B) Demokratik devlet
C) Hukuk devleti
D) Laik devlet

- 6 1929'da başlayan dünyadaki ekonomik bunalım Türkiye'yi de olumsuz etkilemiştir. Bu durum üzerine Atatürk farklı bir ekonomik görüşü savunan bir parti kurulmasını istemiştir.

Kurulan parti aşağıdakilerden hangisidir?

- A) Terakkiperver Cumhuriyet Fırkası
B) Demokratik Parti
C) Serbest Cumhuriyet Fırkası
D) Millî Kalkınma Partisi

7



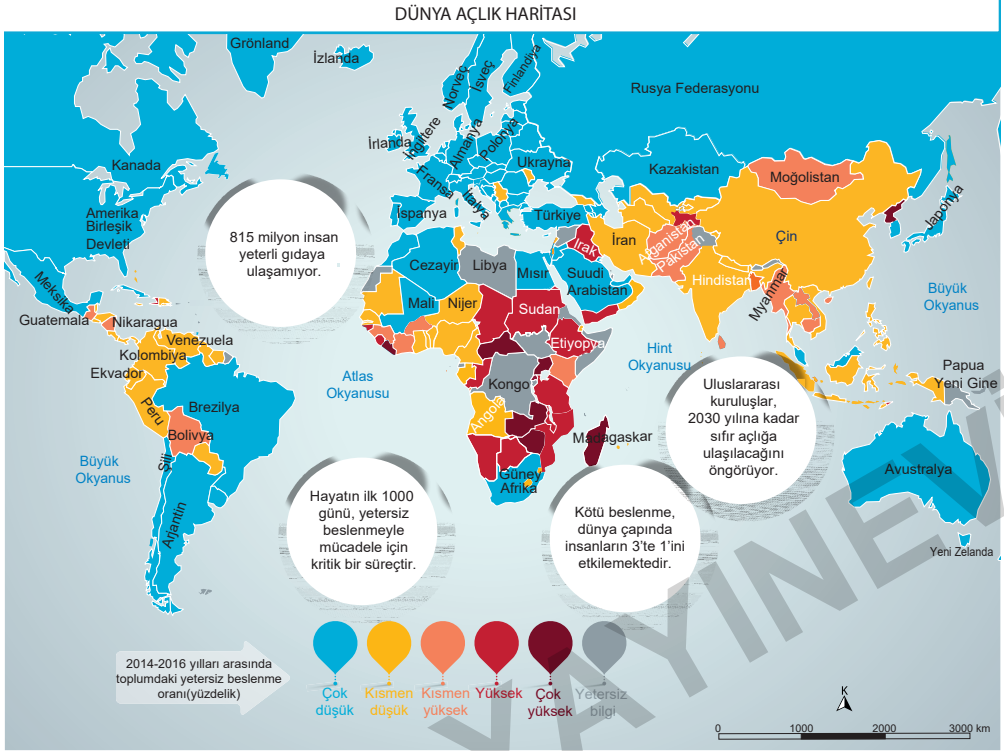
Veda Hutbesi'nde insanlara verdiği öğütlere bakılarak Hz. Muhammed (sav.) ile ilgili;

- I. İnsan haklarına önem vermiştir.
II. Evrensel ilkeler ortaya koymuştur.
III. İnsanlara seçme ve seçilme hakkı tanımıştır.

yargılarından hangileri söylenebilir?

- A) I ve II
B) II ve III
C) I ve III
D) I, II ve III

7



Verilen haritadan hareketle;

- I. Dünya'nın bir kısmında açlık yaşanmaktadır.
- II. Yeterli gıdaya ulaşamayan birçok insan vardır.
- III. En çok yardım Avrupa ülkelerinden yapılmaktadır.

yargılarından hangilerine ulaşılabilir?

- A) I ve II B) II ve III C) I ve III D) I, II ve III

8 Amacı, Türk dünyasının tarihî ve kültürel birikimlerinden en geniş şekilde yararlanmak suretiyle Türk dili konuşan ülkeler arasındaki çok taraflı iş birliğinin geliştirilmesi olan kuruluş aşağıdakilerden hangisidir?

- A) Avrupa Konseyi
B) Türk Konseyi
C) Birleşmiş Milletler Eğitim, Bilim ve Kültür Örgütü
D) Ekonomik Kalkınma ve İş Birliği Örgütü

9 Çevre sorunlarını azaltmak için neler yapılmalıdır?

Verilen soruya cevap olarak aşağıdakilerden hangisi verilemez?

- A) Çevremizdeki su kaynaklarının kirletilmemesine özen gösterilmelidir.
B) Fabrika bacalarına filtre takılmalıdır.
C) Geri dönüştürülebilir ürünlerin kullanımı yaygınlaştırılmalıdır.
D) Toplu taşıma araçları yerine özel araçların kullanımı yaygınlaştırılmalıdır.


10

#123456789

GAZETE HABERİ *Türk Destanı "Dede Korkut" UNESCO Dünya Somut Olmayan Kültür Mirası Temsili Listesi'ne oy birliğiyle kabul edildi.*

Türk Dünyası'nın yüzlerce yıllık kültürel kimliğinin taşıyıcısı ve ortak mirası olan Dede Korkut etrafında şekillenen destan, masal ve müzik geleneği ile Türkiye'nin başta kuzeydoğusu olmak üzere ülke genelinde yaşatılıyor.

Dede Korkut kültürünü oluşturan destan, masal ve müzik içindeki dilden dile, kuşaktan kuşağa aktarılan değerler, Türkiye'nin kültürel belleğinde canlılığını koruyor. Geçmişle bugün arasındaki kültürel bağın güçlenmesine, kültürel devamlılığın, aidiyet ve kimlik anlayışının geleceğe taşınmasına katkıda bulunuyor.



Verilen gazete haberine göre Dede Korkut Destanı'nın Somut Olmayan Kültür Mirası Listesi'ne alınması Türk kültürünün aşağıda verilen alanlardan hangisinin korunmasına yönelik olduğu söylenebilir?

- A) Eğitim B) İletişim C) Sanat D) Coğrafya

11 Çevre sorunlarında uluslararası toplumun dikkatinin çekilmesini amaçlayan uluslararası kuruluş aşağıdakilerden hangisidir?

- A) WHO B) WTO
C) UNEP D) WB

12

- I. Sosyal ayrımcılık
II. Aile ve sosyal bağların zayıflaması
III. Eğitim yetersizliği

Yukarıdakilerden hangileri terörizmin nedenleri arasında yer alır?

- A) I ve II B) II ve III
C) I ve III D) I, II ve III

13 Ben Ahmed, Hollanda'da yaşıyorum. Burada doğdum. Ailem Müslüman bir ülke olan Afganistan'dan göç etmiş. Müslüman olduğum için sınıf arkadaşlarım benimle konuşmuyor. Çünkü İslam dini ile ilgili olumsuz ön yargıya sahipler.

Verilen parçaya göre aşağıdakilerden hangisine ulaşamaz?

- A) Sınıf arkadaşları ayrımcılık yapmaktadır.
B) Yaşadığı toplumdaki farklı bir dini inancı sahiptir.
C) Uğradığı ayrımcılığın nedeni ön yargıdır.
D) Hollanda'nın kültürüne göre yaşamaktadır.

TÜM KİTAP İÇERİKLERİ BURADA!

Tüm dijital kitap içeriklerine ulaşmak için
“Editör Data” uygulamasını indirin.
(Telefonunuzun kamerasını açıp karekodu okutunuz)



İvedik Organize Sanayi 1518 Sok. Matbaacılar Sitesi
Mat-Sit İş Merkezi No.:2/20 Yenimahalle / ANKARA
Telefon: 0 312 384 20 33 Belgegeçer: 0312 342 23 58
WhatsApp: 0 505 925 57 81
www.editoryayinevi.com | bilgi@editoryayinevi.com

ISBN 978-605-280-320-2

